

DOĞAL SAYILAR

Deste


Ad Soyad:

Sınıf: 2/...

No: ...

ETKİNLİK-1

Altındaki ifadeleri görsellere göre tamamlayınız.




Çaydanlıklar desteden tane fazladır.




Gaz lambalarının 2 deste olması için tane daha gerekir.



2 tane daha yaprak olsaydı hepsi 1 olacaktı.



Yerküre modelleri desteden tane fazladır.



.... tane daha olsaydı elmalar 1 deste olacaktı.



Çantalar destedir.

ETKİNLİK-2

Aşağıdaki ifadelerin başında yer alan gülen yüzleri, ifade doğru ise yeşile yanlış ise kırmızıya boyayınız.



Bir deste 12 tanedir.



6 elmayı 1 desteye tamamlamak için 4 elma daha gerekir.



$2+2+2+2+2 = 1$ destedir.



1 deste fındığın yarısı 6 fındıktır.



12 tane olan boya kalemlerimin 2 tanesini kardeşime verirsem bende 1 deste kalır.



Aynı türden 10 tane varlık 1 destedir.



8 kalem + 2 silgi, 1 deste oluşturur.



3 deste kalem 30 tanedir.



Alfabemizdeki ünlü harflerin sayısı 1 desteden 2 eksiktir.



Sedat ağaçtan 14 erik topladı Sedat'ın topladığı erikler 1 desteden 4 eksiktir.

ETKİNLİK-3

Aşağıdaki ifadelerde boşlukları doldurunuz.

1 deste tanedir.	40 tane destedir.
60 tane destedir.	9 deste tanedir.
2 deste tanedir.	30 tane destedir.
80 tane destedir.	6 deste tanedir.
3 deste tanedir.	20 tane destedir.
90 tane destedir.	8 deste tanedir.
4 deste tanedir.	50 tane destedir.
70 tane destedir.	7 deste tanedir.
5 deste tanedir.	10 tane destedir.
100 tane destedir.	10 deste tanedir.

1 deste + 1 deste tanedir.

2 deste + 1 deste tanedir.

3 deste + 2 deste tanedir.

4 deste + 3 deste tanedir.

5 deste + 4 deste tanedir.

50 tane + 40 tane destedir.

40 tane + 30 tane destedir.

30 tane + 20 tane destedir.