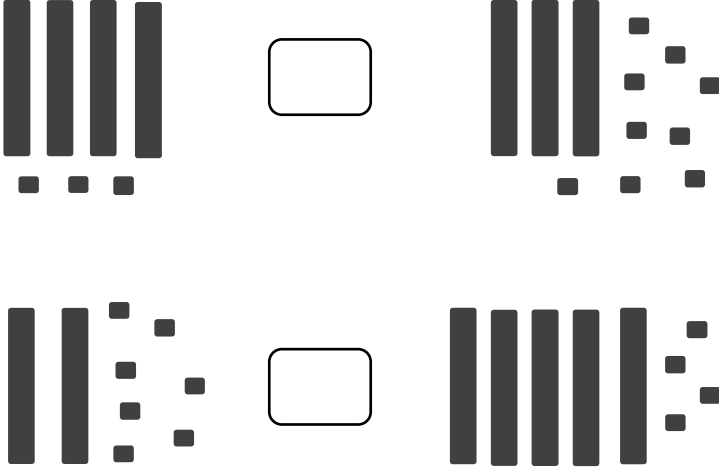


DOĞAL SAYILARDA KARŞILAŞTIRMA ( >, <, = )

Taban blokları ile verilen sayıları sembol kullanarak ( <, >, = ) karşılaştıralım.



Aşağıda verilen sayılardan en büyük olanı boyayalım.

45	80	29	66	74
----	----	----	----	----

91	18	73	57	33
----	----	----	----	----

25	72	69	11	54
----	----	----	----	----

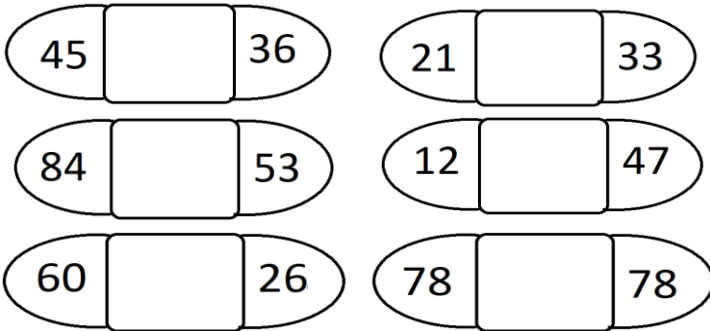
Aşağıda verilen sayılardan en küçük olanı boyayalım.

27	55	93	12	49
----	----	----	----	----

31	82	65	29	74
----	----	----	----	----

14	57	88	9	68
----	----	----	---	----

Verilen sayıları sembol kullanarak karşılaştıralım.(<,>,=)



Noktalı olan yere uygun sayıları yazalım.

23 > ..... 81 > .....

68 < ..... 47 > .....

54 < ..... 12 < .....

Kutu içine yazılı olan sayıdan küçük olanları boy.

25	-->	54	12	27	8	90	41
----	-----	----	----	----	---	----	----

65	-->	93	70	46	58	87	14
----	-----	----	----	----	----	----	----

38	-->	26	10	79	91	53	40
----	-----	----	----	----	----	----	----

Kutu içine yazılı olan sayıdan büyük olanları boy.

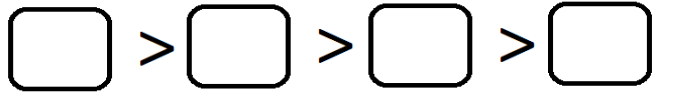
32	-->	15	80	52	27	30	92
----	-----	----	----	----	----	----	----

74	-->	52	68	91	36	44	98
----	-----	----	----	----	----	----	----

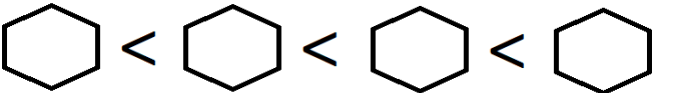
55	-->	56	42	61	47	8	70
----	-----	----	----	----	----	---	----

Kutu içinde verilen sayıları, verilen işarete göre yeniden sıralayalım.

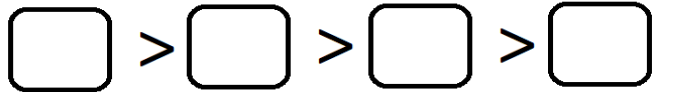
56	-	29	-	69	-	18
----	---	----	---	----	---	----



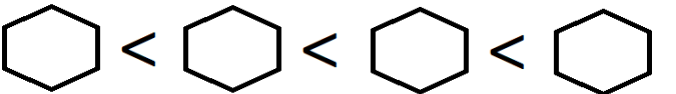
44	-	90	-	21	-	75
----	---	----	---	----	---	----



15	-	82	-	38	-	7
----	---	----	---	----	---	---



20	-	14	-	31	-	11
----	---	----	---	----	---	----



Verilen sayı ikililerinden büyük olanı boyayalım.

43	68	53	82
----	----	----	----

92	79	27	19
----	----	----	----

12	36	66	81
----	----	----	----

Verilen sayı ikililerinden küçük olanı boyayalım.

57	25	39	18
----	----	----	----

19	44	86	94
----	----	----	----

21	7	53	61
----	---	----	----