

İLKOKUL 3.SINIF

HAFTALIK EV ÖDEVİ
27 Nisan- 01 Mayıs



SIİRT İL MİLLÎ EĞİTİM MÜDÜRLÜĞÜ
2020

1. Aşağıdaki deyimlerden hangisinde,
“bıkmak, usanmak” anlamı vardır?

- A) Canının derdine düşmek
- B) Canından bezmek
- C) Canı sıkılmak

2. Aşağıdaki atasözlerinden hangileri
aynı anlama gelmektedir?

- I. Üzüm üzüme baka baka kararır.
- II. Yalnız taş duvar olmaz.
- III. Körle yatan şaşı kalkar.

- A) I – II
- B) I – III
- C) I – II – III

3. Aşağıdaki cümlelerin hangisinde eş
sesli bir sözcük vardır?

- A) Yağmurda gezmeyi sever.
- B) Yerdeki kalemi masanın üstüne koy.
- C) Beraber balık tutmaya gidelim mi?

4.

- I. Selim dün okula gelmemiş.
- II. Selim, Bilge ile birlikte kitap okuyor.
- III. Bilge, Selim’den daha çok kitap okuyor.

Yukarıda kaç numaralı cümlede
karşılaştırma yapılmıştır?

- A) I
- B) II
- C) III


5. Aşağıdaki tümcelerin hangisinde “
yol “ sözcüğü diğerlerinden farklı
anlamda kullanılmıştır?

- A) Bu yol Ankara’ya gider.
- B) Tavuğun tüyleri yolundu.
- C) Arkadaşımın evine arka yoldan gidilir.

6. Aşağıdaki cümlelerin hangisinde
çoğul isim kullanılmıştır?

- A) Sabah kahvaltısında süt, peynir, tereyağı ve zeytin yedim.
- B) Okula gitmeden önce çantamı hazırlarım.
- C) Çantamda kitaplarım, defterlerim ve araç gereçlerim tam mı diye kontrol ederim.

7.



Çocukların ellerinde tuttıkları kelimelerden hangisi sözlükte en sonda yer alır?

A)



B)



C)



8.



Yukarıdaki kelimelerle anlamlı ve kurallı bir cümle oluşturmak için sıralama nasıl olmalıdır?

A) 2 – 4 – 6 – 5 – 1 – 3

B) 2 – 6 – 1 – 5 – 4 – 3

C) 2 – 1 – 6 – 5 – 4 – 3

9. Aşağıdaki cümlelerde altı çizili sözcüklerden hangisinin eş anlamı yoktur?

A) Akşam yemeğini birlikte yedik.

B) Kırmızı elbisesini giymişti.

C) Yüzünde gülücükler hep vardı.

10. Aşağıdaki sözcüklerden hangisi satır sonuna sığmazsa kısa çizgi ile ayrılıp alt satıra yazılabilir?

A) fark

B) tren

C) ayna

11. Aşağıdaki cümlelerin hangisinde kesme işareti (') yanlış kullanılmıştır?

A) Beyza'lar da bize gelecekler.

B) İrem'in kardeşi ağlıyordu.

C) Esmâ'nın yeşil gözleri çok güzel.

12. Aşağıdaki cümlelerin hangisinde altı çizili sözcüğün yazımı doğrudur?

A) Çok deyerli anılarım var.

B) Sizin ev burası deyil mi?

C) Bu portakal soyuldu mu?

13. ‘ Levent top oynamayı seviyor.’

Cümlesinde boş bırakılan yere aşağıdakilerden hangisini yazarsak ‘Ne zaman?’ sorusunun cevabını alırız?

- A) Sokakta
- B) Pazar günleri
- C) Emre ile

14. Aşağıdaki cümlelerin hangisinde abartılı bir anlatım söz konusudur?

- A) Akşama kadar çalıştım.
- B) Öğretmen dağ gibi ödev vermiş.
- C) Öğretmenim bizi çok sever.

15. Aşağıdaki cümlelerin hangisinde ‘şaşma, beğenme’ ifadesi vardır?

- A) Ne dedim ki bu kadar kızdınız?
- B) Nasıl bu kadar rahatsın, aklım almıyor.
- C) Ne güzel sesi varmış meğer, duymalıydın!

16. Aşağıdaki sözcüklerden hangisi çoğul ek almadığı halde birden çok varlığı belirtir?

- A) Sürü
- B) Kuş
- C) yaprak

17. Annem mutfaktan ()

() Çamaşırları makineden çıkarıp asar mısınız () () diye seslendi ()

Yukarıdaki anlatımda ayraçların içine hangi noktalama işaretleri konulmalıdır?

- A) (:) (“) (.) (“) (,)
- B) (“) (:) (?) (“) (.)
- C) (:) (“) (?) (“) (.)

18. Aşağıdaki cümlelerin hangisinde hayal ürünü bir ifade yer almamaktadır?

- A) Pencereme konan kuşla çok güzel sohbet ettim.
- B) Kitap okumayı çok severim.
- C) Okuluma uçan halı ile gittim.

19. I. Çantasından telefonunu çıkarıp eline aldı.

II. Önce ne yapacağını düşündü.

III. Arkadaşını aradı ve sohbet etti.

IV. Arkadaşını araması gerekiyordu.

Numaralanmış cümleleri olayın oluş sırasına göre sıraladığımızda doğru sıralama nasıl olur?

- A) I – II – III – IV
- B) II – IV – I – III
- C) III – I – II – IV

20. Kurtuluş Savaşı'nda
Bize önderlik yaptı.
Askeriyle yan yana
Düşmana karşı çıktı.

Yukarıdaki şiirin ana duygusu nedir?

- A) Memleket sevgisi
B) Kitap sevgisi
C) Atatürk sevgisi

3. SINIF MATEMATİK TESTİ

Adı-Soyadı:..... Sınıf:..... Numarası:.....

MATEMATİK

1. “973” sayısında, onlar ve yüzler basamağındaki rakamlar yer değiştirdiğinde, sayıda nasıl bir değişiklik olur?

- A) 178 artar.
- B) 180 artar.
- C) 180 azalır.

2. “64n” sayısı 3 basamaklı tek sayıdır. “ n” yerine aşağıdakilerden hangisi gelemez?

- A) 5
- B) 1
- C) 2

3. $\square < 535 - 169$ ifadesinin doğru olabilmesi için \square yerine yazılabilecek en büyük sayı kaçtır?

- A) 367
- B) 366
- C) 365

4. Kalanlı bir bölme işleminde bölen 7, Bölüm 79 ise bölünen sayı en fazla kaç olabilir?

- A) 553
- B) 559
- C) 560

5. Bir baba cebindeki 103 lirasının 20 lirasını harcıyor. Geri kalan parasını 4 çocuğuna eşit olarak paylaştırsa kaç lira parası artar?

- A) 3
- B) 2
- C) 1


6. 81 öğrenciden 35’ i müzik kursuna, geri kalanları da bilgisayar kursuna katılıyor. Bilgisayar kursuna katılanların 19’ u erkek ise kaç tanesi kızdır?

- A) 46
- B) 19
- C) 27

7. Bir salondaki 91 kişinin $\frac{5}{7}$ 'si erkek, geri kalanlar ise bayandır. Buna göre salonda kaç bayan vardır?

- A) 65 B) 26 C) 38

8.



Yukarıdaki saat modelindeki saatten 1 saat 30 dakika sonra babam eve gelecek. Babam eve geldiğinde saat kaç olur?

- A) 3.50
B) 4.50
C) 4.35

9. Tanesi 15 kr'den 3 tane silgi, tanesi 5 kr'den 4 tane kalemıraş aldım. Satıcıya 1 TL verdim.

Geriye kaç kr almam gerekiyor?

- A) 35 kr
B) 65 kr
C) 45 kr

10. **86 + 97** Sayılarının toplamı ile ilgili aşığıdaki ifadelerden hangisi yanlıştır?

- A) Sonuç üç basamaklı bir sayıdır.
B) Sonuç çift sayıdır.
C) Sonuç tek sayıdır.

11. Saat 12.00'da başlayan bir film, saat 14.25'te bittiğine göre, film kaç dakika sürmüştür?

- A) 160
B) 150
C) 145

12. Otobüsteki yolcuların 4 katının 9 fazlası 129' dur. Otobüste kaç yolcu vardır?

- A) 20 B) 30 C) 40

13.

3	5
17	
9	

8	12
33	
13	

9	8
?	
7	

Yukarıdaki örüntüde sayılar belli bir kurala göre dizilmiştir. Bu kurala göre ? yerine hangi sayı gelmelidir?

- A) 35 B) 34 C) 24



Betül Ceren'in kumbarasından 3 tane 1 TL, 5 tane 50 kr, 5 tane de 10 kr çıktı. Betül Ceren'in kumbarasından çıkan paranın toplamı kaç TL 'dir?

- A) 4 B) 5 C) 6

15. “ $91 - 27 = 64$ ”

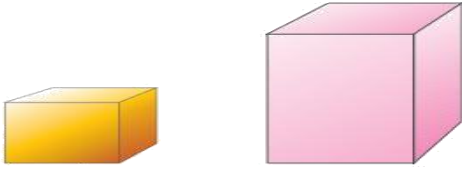
Yukarıdaki çıkarma işleminin doğruluğunu kontrol etmek istiyoruz. Aşağıdaki seçeneklerde verilen işlemlerden hangisi bu işlemin kontrolü için yapılamaz?

- A) $64 + 27 = 91$
 B) $91 - 64 = 27$
 C) $64 - 27 = 37$

16. “ 785 ” doğal sayısındaki rakamların sayı değerleri toplamı ile basamak değerleri toplamı farkı kaçtır?

- A) 760
 B) 765
 C) 770

17.




Küp ve kare prizmanın yüzleri ile ilgili ifadelerden hangisi doğrudur?

- A) Küpün dikdörtgen yüzeyi yoktur, kare prizmanın dikdörtgen yüzü vardır.
- B) Küpün yüz sayısı kare prizmadan fazladır.
- C) Kare prizmanın yüz sayısı küpten fazladır.

18.

- Alt ve yan yüz olmak üzere iki yüzü vardır.
- Ayrıt ve köşesi yoktur.
- Şekline dondurma külahı, yılbaşı şapkası vb. örnek verilebilir.

Yukarıda bahsedilen geometrik şekil hangisidir?



19.

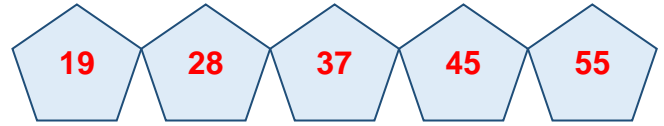


Eksilen ve çıkan sayıyı en yakın onluğa yuvarladım. Farkı 50 olarak tahmin ediyorum.

Selman'ın yaptığı işlem aşağıdakilerden hangisi olabilir?

A) 292	B) 384	C) 475
263	337	428
—	—	—

20.



Yukarıdaki ritmi saymada hangi sayı kuralı bozmaktadır?

- A) 28 B) 37 C) 45

1. Aşağıdakilerden hangisi Dünya'nın küreye benzediğini kanıtlamaz?

- A) Sürekli aynı yönde giden uçağın başladığı yere geri dönmesi.
- B) Uzaydan çekilen fotoğraflar.
- C) Dünya'dan bakan birinin Güneş'i yuvarlak görmesi.

2. Siirt'ten başlayan bir uçak sürekli kuzeye gittiğinde bir süre sonra Siirt'te geri gelir. Bu durum aşağıdakilerden hangisinin kanıtıdır?

- A) Dünya'nın düz olduğunun.
- B) Dünya'nın yuvarlak olduğunun.
- C) Dünya'nın kuzeyde olduğunun.

3. Ateş küre, yer kabuğu, çekirdek Dünya'mızın katmanlarıdır. Bu katmanların en içten dışa doğru sıralaması hangi şıkta doğru verilmiştir?

- A) Çekirdek-Ateş küre-Yer kabuğu
- B) Çekirdek-Yer kabuğu-Ateş küre
- C) Yer kabuğu-Çekirdek-Ateş küre

4. Deri ile ilgili aşağıda verilen bilgilerden hangisi yanlıştır?

- A) Vücudumuzu sarar ve iç organlarımızı dış etkilere korur.
- B) Dokunma duyu organımızdır.
- C) Cisimlerin tadını derimizle anlarız.

5. Aşağıdakilerden hangisi yanlıştır?

- A) Çorba içtiğimizde çorbanın tuzsuz olduğunu midemiz sayesinde anlarız.
- B) Çevremizdeki çiçeklerin renklerini gözlerimizle ayırt ederiz.
- C) Derste öğretmenimizin anlattıklarını kulaklarımız sayesinde duyarız.

6. Süngere dokunduğumuzda onun yumuşak olduğunu hangi duyu organımızla anlarız?

- A) Dil
- B) Deri
- C) Göz

7. Duyu organı ve görev eşleştirmelerinden hangisi yanlıştır?

- A) Dokunma- Deri
- B) Tatma- Dil
- C) Koklama- Kulak

8.

- I. Topaç
- II. Salıncak
- III. Saatin akrep ve yelkovanı

Yukarıdaki varlıklardan hangileri aynı tür hareket yapmaktadır?

- A) I ve II
- B) I ve III
- C) II ve III

9. Tehlikeli bir virajdan geçen arabanın hareketi için hangisi söylenir?

- A) Hızlanır
- B) Yön değiştirir
- C) Sallanma hareketi yapar

10. Aşağıdakilerden hangisini yapmak için daha büyük bir kuvvet gerekir?

- A) Tahtaya çivi çakmak
- B) Buzdolabını itmek
- C) Bisiklet sürmek

11. Yelkenlinin hareket etmesi için rüzgarın uyguladığı kuvvet aşağıdakilerden hangisidir?

- A) Çekme
- B) Durdurma
- C) İtme

12. Aşağıdaki maddelerden hangisi kırılmalıdır?

- A) A) Pamuk
- B) Plastik top
- C) Yumurta

13. Şekilde gördüğünüz sünger aşağıdaki özelliklerden hangisi niteler?



- A) Esnek
- B) Sert
- C) Kırılkan

14. Aşağıdakilerden hangisini yaparak vücudumuza zarar vermeyiz?

- A) Doktor tavsiyesi olmadan ilaç içersek.
- B) Kesici aletlerle oynarsak.
- C) Elimizi sabunla yıkarsak.

15. Aşağıdaki maddelerden hangisi “gaz” halindedir?

- A) Buz
- B) Su buharı
- C) Zeytin yağı

16. Hangi seçenekte verilen ışık kaynağı ile ilgili bilgi yanlıştır?

- A) Ay, doğal ışık kaynağıdır.
- B) El feneri yapay ışık kaynağıdır.
- C) Güneş, doğal ışık kaynağıdır.

17. Işık yayarak çevresini aydınlatan her cisim ışık kaynağıdır.

Aşağıdakilerden hangisi ışık kaynağı değildir?

- A) Güneş
- B) Ampul
- C) Ayna

Doğal ışık kaynakları

- 1. Deniz feneri
- 2. Güneş
- 3. Ateş böceği

Yapay ışık kaynakları

- 4. Gaz lambası
- 5. Mum
- 6. Şimşek

18. Yukarıdaki tablonun doğru olabilmesi için kaç numaralı ışık kaynaklarının yerleri değişmelidir?

- A) 1 ve 6
- B) 2 ve 4
- C) 3 ve 5

19. İnsanlar tarafından üretilen ışık kaynaklarına yapay ışık kaynakları denir.

Aşağıdakilerden hangisi yapay ışık kaynağıdır?

- A) Güneş
- B) Yıldızlar
- C) Meşale

20. Çevremizde gördüğümüz her nesneye.....deriz. Boş bırakılan yere ne gelmelidir?

- A) Canlı
- B) Varlık
- C) Doğa

1. Aşağıdakilerden hangisi okulda yapılacak bir yardımlaşma ve dayanışma faaliyeti değildir?

- A) İhtiyacı olan öğrencilere yardım etmek
- B) Afrika'daki depremzedelere çadır kurmak
- C) Sel felaketinden etkilenenler için para toplamak

2. Aşağıdakilerden hangisi okuldaki demokratik bir uygulamadır?

- A) İsteyen öğrencinin sınıf başkanlığına aday olması
- B) Öğretmenin istediği öğrenciyi başkan yapması
- C) Her gün aynı öğrencinin nöbetçi olması

3. Aşağıdaki ifadelerden hangisinde bireysel farklılıklardan söz edilmektedir?

- A) Elif ile birlikte çok güzel resim yaptık.
- B) Ben kırmızı kazağı beğendim, Eda maviyi beğendi.
- C) Evden farklı saatlerde çıkmışız.

4. Aşağıdakilerden hangisi arkadaşlarımızla iletişim kurarken kullanabileceğimiz ifadedir?

- A) Ödevimde bana yardım eder misin?
- B) Ödevim için bana yardım et.
- C) Ödevimi yapmam için bana yardım edeceksin.

5. İnsanların.....dostluk ilişkilerini olumsuz yönde etkiler.

Bu cümlede boş bırakılan yere aşağıdakilerden hangisi getirilmelidir?

- A) yanlış davranışları
- B) adaletli davranışları
- C) güzel davranışları

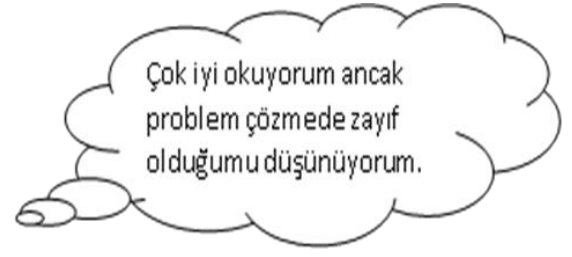
6. Aşağıdakilerden hangisi olumlu davranışlardan değildir?

- A) Nazik olmak.
- B) Bencilik yapmak.
- C) Saygılı olmak.

7. Krokiyle ilgili aşağıda verilen bilgilerden hangisi doğrudur?

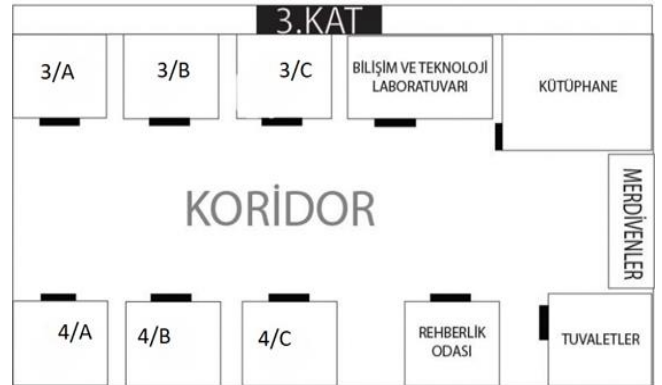
- A) Bir yerin kuş bakışı görünüşü kağıt üzerine çizilir.
- B) Kroki çizerken ölçü kullanılmalıdır.
- C) Kroki üzerinde yönleri belirtmeye gerek yoktur.

8.



Yukarıdaki öğrenci için hangisi söylenebilir?

- A) Fen Bilimlerinden yüksek puan almıştır.
- B) Çok iyi koşucudur.
- C) Güçlü ve zayıf yönlerinin farkındadır.



9. Yukardaki kroki nereye ait olabilir?

- A) Bir hastanenin zemin katına.
- B) Bir okulun 3. katına
- C) Bir okulun giriş katına.

10. Aşağıdakileri ifadelerden hangisi yanlıştır?

- A) Okul sadece öğrencilerin ders aldığı yerdir.
- B) Okulda derslerin dışında başka etkinlikler de yapılabilir.
- C) Okulların topluma birçok faydası vardır.

11. Kan bağışı yapmak istiyorsak hangi kuruma başvurmalıyız?

- A) Yeşilay
- B) Kızılay
- C) Tema

POLİS ÖĞRETMEN JANDARMA
AVUKAT DOKTOR ASKER

12. Yukarıdaki mesleklerden hangileri güvenliğimiz için görev yapmaktadır?

- A) Polis-Öğretmen-Jandarma
- B) Avukat-Doktor-Asker
- C) Polis-Jandarma-Asker

13. Kış aylarında sınıfımızı gereğinden fazla havalandırmak hangi kaynağımızı boşa harcamamıza yol açar?

- A) Yakıt
- B) Elektrik
- C) Su

14. Aşağıdakilerden hangisi olumlu bir davranış değildir?

- A) Merdivenlerden koşarak inmek.
- B) Koridorlarda sessiz olmak.
- C) Kantinde sıraya girip alışveriş yapmak.

15. Aşağıdakilerden hangisi bakanlar kurulunun ataması ile göreve gelir?

- A) Muhtar
- B) Belediye başkanı
- C) Vali

16. Aşağıdakilerden hangisi valinin görevlerinden değildir?

- A) Eğitim
- B) Güvenlik
- C) Su

17. Mahalle ve köyün sorunlarını gidermek için seçimle iş başına gelmiş kişi kimdir?

- A) Kaymakam
- B) Muhtar
- C) Vali

18. Aşağıdakilerden hangisi cumhuriyetin kurulması ile gelen yeniliklerden biri sayılmaz?

- A) Ölçü, saat ve takvimin değişmesi.
- B) Latin alfabesinin getirilmesi.
- C) Barınma hakkının getirilmesi.

19. Aşağıdakilerden hangisi milli bayram değildir?

- A) Ramazan Bayramı
- B) Ulusal Egemenlik ve Çocuk Bayramı
- C) Cumhuriyet Bayramı

20. Kurtuluş Savaşı için söylenen ifadelerden hangisi doğrudur?

- A) Toplumsal yardımlaşmaya örnektir.
- B) Toplumsal dayanışmaya örnektir.
- C) Hepsi

FEELINGS

A. Match the words with the pictures. (Resimlerle kelimeleri eşleştirelim.)

Hungry good energetic thirsty bored sad tired



.....



.....



.....



.....



.....



.....



.....

B. Write sentences using Let's.
(Let's kullanarak cümleler yazalım.)

1- A: I feel energetic.

B:

2- A: I 'm thirsty.

B:

3- A: I feel tired.

B:

4- A: I'm hungry.

B:

5- A: I feel happy.

B:

6- A: I feel sleepy.

B:

7- A: I feel unhappy.

B:

8- A: I feel good.

B:

C. Put the words into the correct order.
(Kelimeleri doğru sıraya koyalım.)

1. Let's / cartoons / watch

.....

2. horse / let's / ride

.....

3. Let's / football / play

.....

4. a book / Let's / read

.....

5. eat / a sandwich / Let's

.....

6. music / Let's / listen to

.....

7. Let's / English / study

.....

8. water / Let's / drink

.....

TEST TIME

1. “How do you feel?” sorusuna hangi cevabı veremeyiz?

- A. I feel energetic
- B. I’m happy
- C. Let’s read

2. Boş bırakılan yere ne getirilmelidir?

“Let’s”

- A. drink
- B. drinking
- C. to drink

3. Aşağıdaki ifadeler gruplanırsa hangisi dışarda kalır?

- A. good
- B. angry
- C. okay

CEVAP ANAHTARI

TÜRKÇE TESTİ

1	2	3	4	5	6	7	8	9	10	11	12	13	14	15	16	17	18	19	20
B	B	B	C	B	C	B	C	A	C	A	C	B	B	C	A	C	B	B	C

MATEMATİK TESTİ

1	2	3	4	5	6	7	8	9	10	11	12	13	14	15	16	17	18	19	20
C	C	C	B	A	C	B	B	A	B	C	B	C	C	C	B	A	B	C	C

FEN BİLİMLERİ TESTİ

1	2	3	4	5	6	7	8	9	10	11	12	13	14	15	16	17	18	19	20
C	B	A	C	A	B	C	B	B	B	C	C	A	C	B	A	C	A	C	B

HAYAT BİLGİSİ TESTİ

1	2	3	4	5	6	7	8	9	10	11	12	13	14	15	16	17	18	19	20
B	A	B	A	A	B	A	C	B	A	B	C	A	A	C	C	B	C	A	C

İNGİLİZCE TESTİ

Answer Key (Cevap Anahtarı)

A. Match the words with the pictures. (Resimlerle kelimeleri eşleştirelim.)

sad tired hungry good thirsty energetic bored

B. Write sentences using Let's. (Let's kullanarak cümleler yazalım.)

1- A: I feel energetic.

B: Let's play football

2- A: I 'm thirsty.

B: Let's drink water.

3- A: I feel tired.

B: Let's sit down.

4- A: I'm hungry.

B: Let's eat a hamburger.

5- A: I feel happy.

B: Let's go to park.

6- A: I feel sleepy.

B: Let's sleep

7- A: I feel unhappy.

B: Let's watch cartoon.

8- A: I feel good.

B: Let's play chess

C. Put the words into the correct order. (Kelimeleri doğru sıraya koyalım.)

- Let's / cartoons / watch Let's watch cartoons.
- horse / let's / ride Let's ride a horse.
- Let's / football / play Let's play football.
- a book / Let's / read Let's read a book.
- eat / a sandwich / Let's Let's eat a sandwich.
- music / Let's / listen to Let's listen to music.
- Let's / English / study Let's study English.
- water / Let's / drink Let's drink water.

TEST TIME

1	2	3
C	A	B

Çalışmada Emeği Geçen Öğretmenlerimiz

Bilge YILMAZ

Özgür ÖNER

Seda AYDINLI

Nevzat YILMAZ

Lokman İLİK

Bu çalışma Sürt İl Millî Eğitim Müdürlüğü
Ölçme Değerlendirme Merkezi tarafından hazırlanmıştır.