



**BURSA İL MİLLÎ EĞİTİM
MÜDÜRLÜĞÜ**



EVİM İLKOKULUM

HAFTALIK FASİKÜL IV

**1.
sınıf**





BURSA İL MİLLÎ EĞİTİM MÜDÜRLÜĞÜ

Sabahattin DÜLGER
İl Milli Eğitim Müdürü

Ekrem KOZ
İl Milli Eğitim Müdür Yardımcısı

Koordinatör
Gürhan DİKMEN

Hazırlayanlar
Aylin GÖKÇEK
Emel ÇETİN DİLEK
İbrahim Halil DEMİR
Nazife DİKMEN
Yasemin ESER

Grafik Tasarım
Fatih DEVECİOĞLU
Nuray ŞENTÜRK



2020/BURSA



Hocahasan Mah.
İlkbahar Cad. No38 Yeni
Hükümet Konağı A Blok
16050 Osmangazi/BURSA



0(224) 445 16 00



0(224) 445 18 10



<https://bursa.meb.gov.tr>





1. SINIF ETKİNLİKLERİ

HAYAT BİLGİSİ



TARİHÎ, DOĞAL VE TURİSTİK YERLER

1. Aşağıdaki kelimeleri cümlelerdeki uygun boşluklara yazalım.

Hacivat - müze - Uludağ'a - başkentlik - türbeleri - tarihî

Bursa'nın cami ve ünlüdür.

Karagöz ve Bursa'nın en önemli simgelerindendir.

Bursa Osmanlı Devleti'ne yapmıştır.

Bursa'da çok sayıda bulunur.

Bursa'nın kayak merkezi teleferikle çıkılır.



2. Aşağıdaki cümlelerden doğru olanların yanına "D", yanlış olanların yanına "Y" yazalım.

Bursa'da ipek böceği yetiştiriciliği yapılır. ☐

Lunaparklar ve alışveriş merkezleri Bursa'daki tarihî yerlerden bazılarıdır. ☐

Turistler tarihî ve doğal güzellikleri görmek için seyahat ederler. ☐

Ülkemizde çok az tarihî ve turistik yer bulunur. ☐

Uludağ, Gölyazı ve Cumalıkızık Bursa'nın turistik yerlerindendir. ☐





1. SINIF ETKİNLİKLERİ

HAYAT BİLGİSİ



3. Bursa'nın tanıtımını yapan bir reklam filmi çeksen hangi fotoğrafları kullanırsın? İşaretler misin? Reklam filminde Bursa'nın en çok hangi özelliklerinden bahsedersin? Düşün bakalım.

.....

.....

Karacabey Longozu

☐

Saitabat Şelalesi

☐

Orhan Gazi Türbesi

☐

Saat Kulesi

☐



1. SINIF ETKİNLİKLERİ

HAYAT BİLGİSİ



Gölyazı



Ulu Cami



Tirilye



Uludağ



4. Aşağıdakilerden hangisi Bursa'daki tarihî, turistik yerlerden biri değildir?



Saat Kulesi



Fabrika



Yeşil Türbe





1. SINIF ETKİNLİKLERİ

HAYAT BİLGİSİ



5. İzmir'deki kuzenim Ege, yaz tatilinde bize gelecek. Ona Bursa'nın önemli yerlerini gezdireceğim. Ege'yi hangisine götürmeme **gerek yok**?

☐ Tarihî yerler ☐ Pazar yerleri ☐ Turistik yerler

6. "Şelaleler, dağlar, göller, denizler ve turistik yerlerdir."

Yukarıdaki cümlede boş bırakılan yere hangisi **gelmelidir**?

☐ doğal ☐ tarihî ☐ tatil

7. "Camiler, saraylar, köprüler ve turistik yerlerdir."

Yukarıdaki cümlede boş bırakılan yere hangisi **gelmelidir**?

☐ inşaat ☐ doğal ☐ tarihî

8. Bursa'nın ünlü yemeklerinden, meyvelerinden, tatlılarından en çok sevdiklerini işaretler misin?

Şeftali ☐



İnegöl Köfte ☐



Kestane ☐





1. SINIF ETKİNLİKLERİ

HAYAT BİLGİSİ



Pideli Köfte

☐

İskender Kebab

☐

Cantık

☐

Kemalpaşa Tatlısı

☐

Cevizli Lokum

☐

Hurma Tatlısı

☐

9. Bursa'da yaşamak sana neler hissettiriyor? Başka bir şehirde yaşamak ister miydin?

.....

.....

.....

.....

10. Bursa'nın henüz görmediğin ama görmeyi çok istediğin yerleri nereler? Bir liste yapmaya ne dersin?

-
-
-





1. SINIF ETKİNLİKLERİ

HAYAT BİLGİSİ



-
-
-



11. Başka bir şehirde gördüğün ama keşke Bursa'da olsaydı dediğin doğal, tarihî ve turistik bir yer var mı?

.....

.....

.....

.....





1. SINIF ETKİNLİKLERİ

TÜRKÇE



MADALYA



Öğretmenim "millî mücadele" ile ilgili araştırma yapmamızı istedi. Önümüzdeki hafta pazartesi günü de okulumuzda "Millî Mücadele Hatıraları" ile ilgili sergi açacağımızı söyledi. Bu sergide evlerimizde bulunan millî mücadele yıllarından kalmış tarihî eşyaların, kıyafetlerin, fotoğrafların yer alacağını belirtti. Sergi açacağımızı duyar duymaz aklıma hemen dedem geldi. Çünkü dedemin evinin duvarında asılı olan bir tablo var bu tabloda da bir madalya var. Dedeme her gittiğimde beni yanına oturtur ve bu madalyanın hikâyesini anlatır. Bu madalyayı dedeme babası vermiş. "Oğlum bunu sakla." diye tembihlemiş. Dedemin babası o yıllarda askermiş. Hatta Kurtuluş Savaşı'nda omzundan yaralanmış ve gazi olmuş. O yüzden bize "Gazi" soyadı verilmiş.

Bu hafta sonu dedemlere gideceğiz. Hem millî mücadele ile ilgili sorularımı soracağım hem de tabloyu sergiye götürmek için izin isteyeceğim.

Nazife DİKMEN





1. SINIF ETKİNLİKLERİ

TÜRKÇE



☐ **Metin ile ilgili soruları cevaplayınız.**

1. Okulda ne ile ilgili bir sergi açılacak?

.....

2. Duvarda asılı olan tabloda ne var?

.....

3. Neden soy isimleri "Gazi" olmuş?

.....

4. Senin soyadın nedir?

.....

5. Bu soyadı size neden verilmiş?

.....

☐ **Dedeme millî mücadele ile ilgili 3 soru soracağım. Sence dedeme hangi soruları sormalıyım?**

1.

2.

3.





1. SINIF ETKİNLİKLERİ

TÜRKÇE



Gazi Mustafa Kemal önderliğinde 23 Nisan 1920'de Büyük Millet Meclisi açıldı. Bugünü 23 Nisan Ulusal Egemenlik ve Çocuk Bayramı olarak kutluyoruz. Atatürk, bu bayramı çok sevdiği çocuklara hediye etti. Bayramınız kutlu olsun çocuklar.

- ❑ 23 Nisan Ulusal Egemenlik ve Çocuk Bayramı ile ilgili aklınıza gelenleri boşluklara yazınız.

.....

.....

.....

23 Nisan Ulusal
Egemenlik ve
Çocuk Bayramı

.....

.....

.....






1. SINIF ETKİNLİKLERİ

TÜRKÇE



- ☐ 23 Nisan Ulusal Egemenlik ve Çocuk Bayramı'nı anlatan bir resim çiziniz.





1. SINIF ETKİNLİKLERİ

MATEMATİK



❑ Aşağıdaki örüntülerde boş yere gelmesi gereken şekli çiziniz.





1. SINIF ETKİNLİKLERİ

MATEMATİK



GEOMETRİK ÖRÜNTÜLER


- ☐ İki renk kullanarak boncukları belli bir kurala göre boyayalım.



- ☐ Üç renk kullanarak boncukları belli bir kurala göre boyayalım.



- ☐ Dört renk kullanarak boncukları belli bir kurala göre boyayalım.





1. SINIF ETKİNLİKLERİ



MATEMATİK



GEOMETRİK ŞEKİLLER

□ Aşağıdaki şekillerin kenar ve köşelerini sayınız. Şekilleri kenar ve köşe sayılarına göre verilen renklere boyayınız.

- 3 köşesi, 3 kenarı olanları mor renge boyayınız.
- 4 köşesi, 4 eşit uzunlukta kenarı olanları sarı renge boyayınız.
- 4 köşesi, 2 uzun ve 2 kısa kenarı olanları mavi renge boyayınız.
- Hiç köşesi olmayan şekli pembe renge boyayınız.





1. SINIF ETKİNLİKLERİ

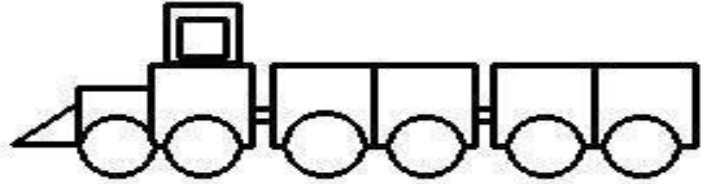
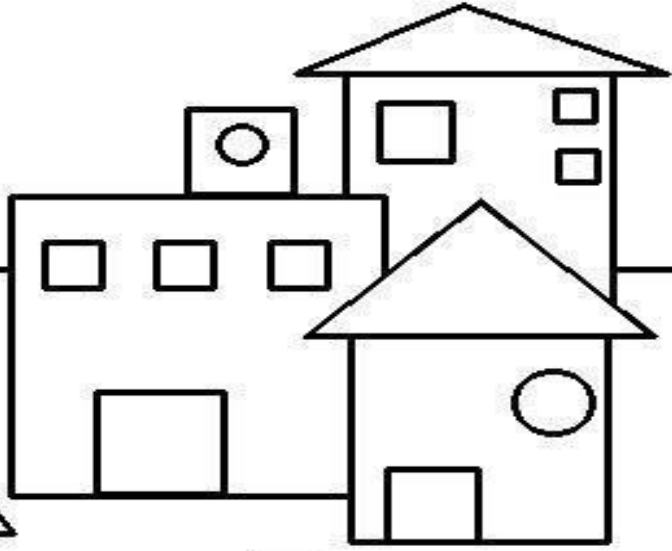
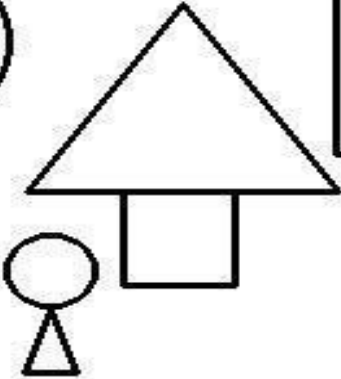
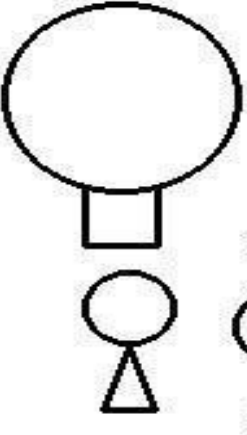

MATEMATİK




GEOMETRİK ŞEKİLLER

Aşağıdaki resmi inceleyiniz.

İlgili geometrik şekillerden kaç tane olduğunu uygun yere yazınız. Sonra da resmi sevdiğiniz renklerde boyayabilirsiniz.



Şekil	Üçgen	Kare	Dikdörtgen	Daire
Sayısı				







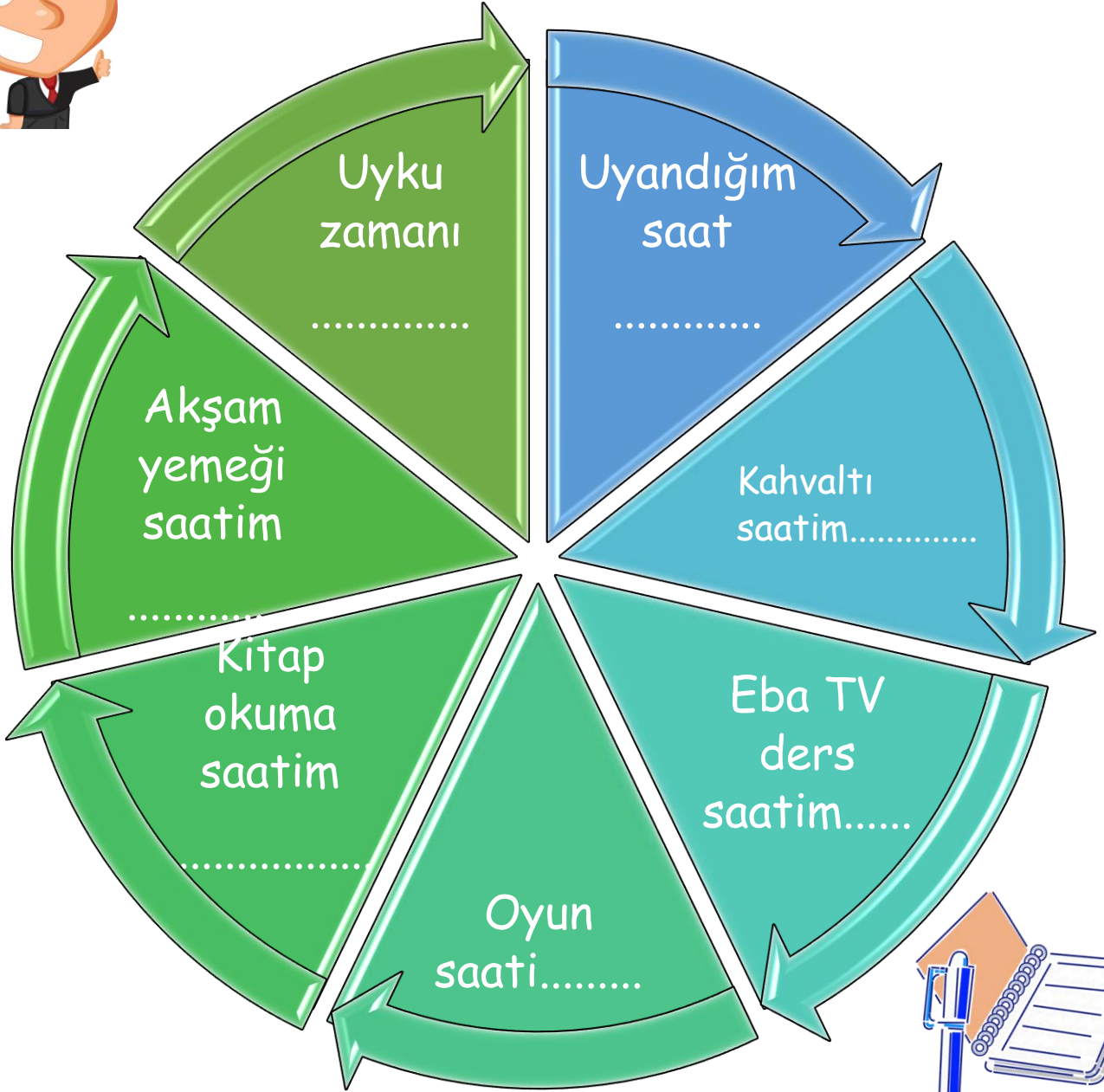
1. SINIF ETKİNLİKLERİ

MATEMATİK



GÜNÜ PLANLAMA

Aşağıdaki tabloya göre bir gününüzü planlayınız.





1. SINIF ETKİNLİKLERİ

SERBEST ETKİNLİKLER





23 NİSAN

Biz dünyaya gelmeden,
Her yeri düşman almış.
Atatürk, düşmanları,
Yurdumuzdan çıkarmış.

23 Nisan günü,
Meclis kuruldu diye,
Büyük bayram verilmiş.
Çocuklara hediye.

Gülelim eğlenelim,
Kutlayalım bayramı.
Verelim hep el ele.
Yükseltelim vatani.

MELAHAT UĞURKAN





1. SINIF ETKİNLİKLERİ

SERBEST ETKİNLİKLER



Atölye

TOHUM TOPU

Malzeme Listesi

Geri dönüşüm için biriktirdiğin atık kâğıtlar
Birkaç tane çiçek tohumu
Mutfak robotu
1 su bardağı su




Dikkat !

Mutlaka büyüklerinden yardım alman gerekiyor.
Çiçek tohumunu aileden birisi senin için marketten alabilir.

Yapılışı

Öncelikle çiçek tohumlarını bir tepsiye koyuyoruz.
Ardından kâğıtları elimizle kopararak minik parçalar haline getiriyoruz.
Minik kâğıtları mutfak robotuna dolduruyoruz.
Büyüklerimizin yardımıyla kâğıtların yoğunluğuna göre üzerine su ekliyoruz.
Ardından mutfak robotunu çalıştırıp bir kâğıt hamuru elde ediyoruz.
Hamur haline gelen kâğıtların fazla suyunu sıkıp tohum serptiğimiz tepsiye alıyoruz.
Kâğıt hamurundan ceviz büyüklüğünde parçalar alıp biraz çiçek tohumu ile karıştırıp minik toplar haline getiriyoruz.
Hazır hale gelen tohum toplarımızı kurumaya bırakıyoruz. Kuruyan topları isterseniz sulu boya ile renklendirebilirsiniz.
Hazırladığımız tohum toplarını sevdiklerinize hediye de edebilirsiniz.





1. SINIF ETKİNLİKLERİ

SERBEST ETKİNLİKLER



BİL BAKALIM



- Amerika Birleşik Devletleri'nin Ohio şehrinde bin sekiz yüz kırk yedi yılında doğdu.
- Çok meraklı bir çocuktur. Gördüğü her şey ile ilgili sürekli soru sorardı.
- Küçükken geçirdiği bir rahatsızlık yüzünden kulakları çok iyi duymuyordu.
- Annesi ile birlikte evde çok enteresan deneyler tasarlıyordu.
- Mors alfabesini öğrenip telgraf operatörü olmuştu.
- Kazandığı para ile kendisine büyük deneyler yapabileceği bir deney laboratuvarı kurdu.
- Yaptığı deneyler sonunda; otomatik oy sayma makinası, resimleri oynatan bir makine ve fonograf (ses kayıt cihazı) üretti.
- Bütün bu özelliklerinin yanı sıra dünyadaki tüm insanlar onu ampulün mucidi olarak tanıdılar.

Yukarıda özellikleri anlatılan dünyaca ünlü mucit kimdir acaba?





1. SINIF ETKİNLİKLERİ

SERBEST ETKİNLİKLER



İLGİNÇ HAYVANLAR

BİL BAKALIM BEN HANGİ HAYVANIM?



Araştırıp
bulmaya
ne dersin?



- Asya ve Afrika'da bulunan memeli bir hayvanım.
- Ağaç ya da kaya kovuklarında yaşarım.
- Neredeyse bütün vücudumu kaplayan, birbirinin üzerine binen kahverengi, sert pullarım vardır.
- Dişlerim yoktur.
- Yapışkan dilim yaklaşık 30 cm uzunluğundadır ve onun sayesinde karınca gibi böcekleri kolayca yiyebilirim.
- Tehlike anında yuvarlanarak top gibi olurum.
- Bil bakalım ben hangi hayvanım?

CEVAP:





1. SINIF ETKİNLİKLERİ

SERBEST ETKİNLİKLER



KATI MI? SIVI MI?



Malzemeler

- 2 bardak nişasta
- 1 bardak ılık su



Yapılışı

Geniş bir kabın içerisine 2 bardak nişastayı koyuyoruz. Suyumuzu azar azar ekleyerek elimizle iyice karıştırıyoruz. Yapılışı işte bu kadar basit. Hamurumuzla istediğimiz gibi oynayabiliriz.



Neler Gözlemledik?

Hazır olan hamurumuzu elimize alıp sıkıldığımızda katı bir madde gibi sert olduğunu, elimizi serbest bıraktığımızda ise sıvı gibi aktığını görüyoruz. Çok ilginç değil mi çocuklar?






1. SINIF ETKİNLİKLERİ

AKIL VE ZEKA OYUNLARI



AKIL OYUNLARI

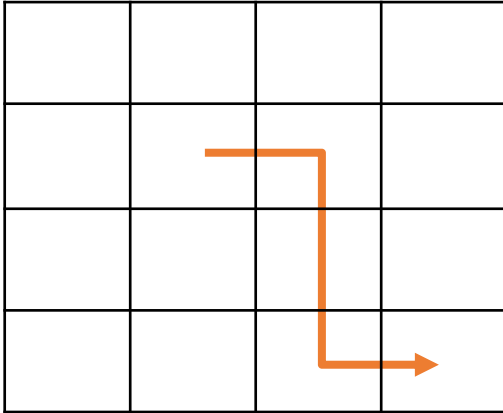
1. Aşağıdaki şekilde kaç üçgen vardır?




2. Aşağıdaki harflerden **işe yaramayanları** çıkarınca anlamlı iki cümle ortaya çıkacak.

evişedeyakalrakimatapyanolakurı

3. Soldaki tabloda bulunan okun yönergesine doğru (geçtiği yolları) sağ tablodaki harfleri sırayla takip ederek gizli kelimeyi bulalım.



L	S	E	C
İ	B	A	B
T	Ü	H	İ
N	P	Ç	E





1. SINIF ETKİNLİKLERİ

AKIL VE ZEKA OYUNLARI



TACTIX OYUNU

TACTIX oyunu çeşitli şekillerde oynanabilen, daha doğrusu oyun çeşitliliği oyuncuların isteğine bağlı olan bir zekâ oyunudur.

Malzeme: Kâğıt, kalem, taş (düğme, kapak veya benzeri evde bulunan cisimler).

Taş sayısı: 16 (Aynı renklerde olmalıdır.)

Oyuncu Sayısı: 2

- Oyuna kimin başlayacağı kura ile belirlenir.
- TACTIX oyununun 4X4 dizilimiyle başlar. (Şekil 1)
- Sırası gelen her oyuncu satır ya da sütun boyunca birbiri ile bağlantılı pullardan istediği kadarını alabilir.
- Aynı anda farklı satır ve sütunlardan taş alınamaz.
- Çapraz şekilde taş alınamaz.
- Aynı satır ve sütunda yer alan taşlar arasında boşluk varsa taşlar aynı anda alınamaz. (Alınacak taşlar yan yana olmak zorundadır.)
- Sırası gelen oyuncu mutlaka taş almalıdır. Yani pas geçemez.
- Her oyuncu bir hamle yapar ve sıra rakibine geçer.






1. SINIF ETKİNLİKLERİ

AKIL VE ZEKA OYUNLARI



Son taş kimde kalırsa o, oyunu kaybeder. Oyunda amaç son taşı rakibin almasını sağlamaktır.


Not: Oyun, "Son taşı alan oyuncu kaybeder." kuralı ile oynanacağı gibi, "Son taşı alan oyuncu kazanır." kuralı ile de oynanabilir. Ancak oyuna başlamadan önce bu kural açık bir şekilde belirlenmelidir.



Şekil 1

Satır

Sütun





1. SINIF ETKİNLİKLERİ

AKIL VE ZEKA OYUNLARI



TARİHİ TAŞ OYUNLARI

YOLCULUK STRATEJİ OYUNU



OYNAMA ŞEKLİ

Malzeme: Kâğıt, kalem, taş (düğme, kapak veya benzeri evde bulunan cisimler.)

Taş sayısı: 6+6+6+6 (Farklı renklerde olmalıdır.)

Oyuncu Sayısı: 2-4

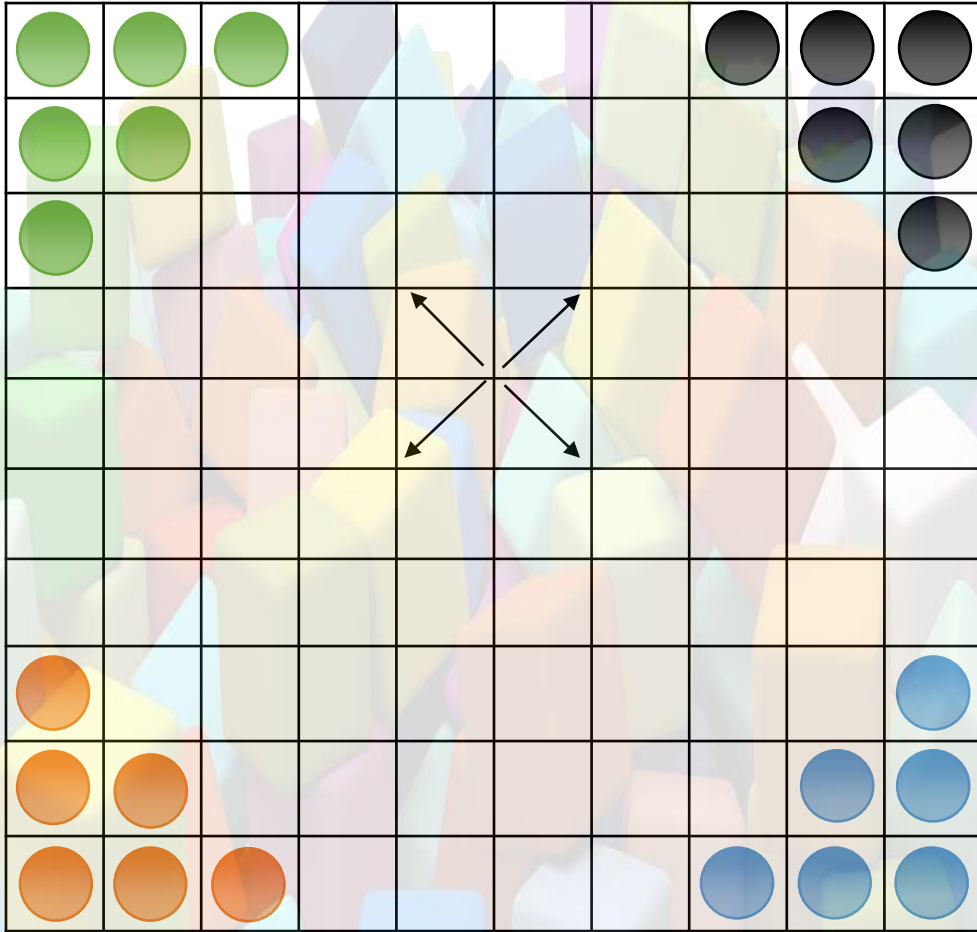
- Oyuna kura ile başlanır ardından oyuncular kendi taşlarını seçer.
- Taşlar oyun tahtasına **şekil 1**'de (Kâğıda çizerek de oynayabilirsiniz.) gösterildiği gibi yerleştirilir.
- Oyuncu, sırayla bir taşı boş bir kareye götürür. (Bu komşu bir kare olmak zorundadır ancak diğer oyuncuların taşları üzerinden atlayamaz.) Taşlar yatay, dikey ve çapraz hareket eder.
- Oyuncuların oynama sırası saat yönüne göre. Örnek: Oyuna ilk başlayan oyuncu turuncu ise 2. oyuncu yeşil, 3. oyuncu siyah ve 4. oyuncu mavi olacak şekilde oynanır.
- Taşların tamamını herhangi bir köşeye başlangıçtaki gibi dizen oyuncu oyunu kazanır.






1. SINIF ETKİNLİKLERİ

AKIL VE ZEKA OYUNLARI



Şekil 1





1. SINIF ETKİNLİKLERİ

AKIL VE ZEKA OYUNLARI



- 1'den 4'e kadar olan sayıları her satır ve sütunda bir kez kullanmak şartıyla yerleştiriniz.

SUDOKU

1			
2			
			3
			1



	3		1
4		3	

