

# ORTAOKUL 6.SINIF

**HAFTALIK EV ÖDEVİ**  
**04-08 Mayıs**



SIİRT İL MİLLÎ EĞİTİM MÜDÜRLÜĞÜ  
2020

1) “Gittiği yere uğursuzluk götürür, gittiği yerin bereketini kurutur.” anlamında kullanılan deyim aşağıdakilerden hangisidir?

- A) Bel bağlamak
- B) Bir baltaya sap olmak
- C) Bastığı yerde ot bitmez
- D) Eli ekmek tutmak

2) “Eski Siirt evleri...” diye başlayan bu söz aşağıdakilerden hangisiyle tamamlanırsa cümle nesnel bir yargı taşır?

- A) muhteşemdir
- B) castır (kireç taşı)
- C) harikadır
- D) eşsizdir

3) Bir isim birden çok sıfat ile nitelendirilebileceği gibi, bir sıfat birden çok ismi de niteleyebilir. Buna göre aşağıdaki cümlelerden hangisi bu açıklamaya örnek değildir?

- A) Sinirli ve kavgacı insanlara yaklaşıyorum.
- B) Serin ve nemli havalarda dışarı çıkmayı severim.
- C) Uzun bir aradan sonra arkadaşlarla buluştuk.
- D) Çürük portakalları, domatesleri ayıralım.

4) Aşağıdaki cümlelerin hangisinde altı çizili sözcük nicel anlamı değildir?

- A) Bize ilginç masallar anlatırdı.
- B) Ağacın uzun dallarını kestim.
- C) Merkeze yakın bir semtti.
- D) Evimiz yüksek binaların arasında kalmış.

5) Uzun bir yolculuktan sonra üç dilin konuşulduğu şirin mi şirin olan tarihi kente giriş yapıyoruz. İlk olarak gözüme ilişen şey; kentin geniş bir meydanında yer alan tarihi Saat Kulesi ve şehrin ekonomisinde önemli bir yere sahip olan Siirt fıstığını temsilen yapılan sanatsal yapıydı. Şehrin üst yamacında kurulu olan eski Siirt olarak da adlandırılan mahallelerindeki “Cas” (kireç taşı) evleri gördükçe

kendimi açık hava müzesinde hissediyordum. Anlatamadan geçemeyeceğim bir diğer unsur, bu şehre yolunuz düşerse muhakkak zengin mutfağındaki tatları tatmadan dönmeyin! Ve son olarak tüm ihtişamıyla insanı cezbeden ve Yunanlı tarihçi Ksenophon’un “Onbinlerin Dönüşü” adlı kitabında bahsettiği Botan Vadisi’nin o büyüleyici güzelliğini gördükten sonra, “Bu şehre mutlaka yeniden gelmeliyim.” diyordum içimden.

Yukarıda verilen metnin türü aşağıdakilerden hangisidir?

- A) Anı
- B) Hikâye
- C) Mektup
- D) Gezi Yazısı



6) I. Çok yeme çatlayacaksın.

II. Teyzem doğduğunda annem otuz yaşındaydı.

III. Masanın ayağını kim kırdı?

IV. Seninle konuşulmaz, hemen parlıyorsun.

**Numaralandırılmış cümlelerdeki altı çizili kelimelerin anlam özellikleri hangi şıkta doğru sıralanmıştır?**

A) Yan-gerçek-mecaz-mecaz

B) Gerçek-yan-mecaz-mecaz

C) Mecaz-gerçek-yan-mecaz

D) Mecaz-yan gerçek-mecaz

7) Aşağıdaki cümlelerde geçen altı çizili kelimelerden hangisinin türü sıfat değildir?

A) Şu ağaçlar Akdeniz ikliminde yaşamaz.

B) Herkes ikişer simit yedi.

C) Sen hangi takımı tutuyorsun?

D) Birkaç serçecik penceremin önünde duruyordu.

8) Pazarda meyvelerden çilek ( ) muz ( ) kiraz ( ) sebzelerden ise biber ( ) pırasa ( ) patlıcan vardı.

**Bu cümlede yay ayraçlarla ( ) belirtilen yerlere sırasıyla aşağıdaki noktalama işaretlerinden hangileri getirilmelidir?**

A) (;) (,) (,) (;) (,)

B) (,) (,) (,) (;) (,)

C) (,) (,) (,) (,) (,)

D) (,) (,) (;) (,) (,)

9) Aşağıdaki cümlelerin hangisinde yazım yanlışı yoktur?

A) İtiraf etmeliyimki bu sözleri yalnız dudaklarım söylüyordu.

B) Bende bugün senle geleceğim.

C) Akşam size gelelimmi?

D) Seni bugün kayanın yanında bekleyeceğim.

10) Kış ortasında olduğumuzu unutturacak kadar güzel ve sakın bir akşamdı. Etrafımızdaki kuru dağ tepeleri bir mercan kızılılığı içinde yanıyordu. Feride'ye karşı suçlarımı kabul etmemde bu güzel akşamın da etkisi var mı bilmiyorum!

**Yukarıdaki parçada aşağıdaki sözcük türlerinden hangisi kullanılmamıştır?**

A) Zamir

C) İsim

B) Bağlaç

D) Sıfat

11) (I) Yataktan çok yorgun, bitkin kalktı. (II) Bütün yorgunluğuna, içindeki bütün karanlığa karşın, yüreğine bir yerlerden ışık, bir aydınlık sızıyordu. (III) Bugün hava iyice aydınlanmış, güneş açmıştı. (IV) Yüreğindeki kasveti dağıtan şeyin kendi de farkında değildi.

**Yukarıdaki numaralandırılmış cümlelerden hangisi düşüncenin akışını bozmaktadır?**

A) I

B) II

C) III

D) IV

**12)** Ağlayan bir kişi gördüğünüzde ona samimi birkaç söz, birkaç dokunuş ya da uzatılan bir mendil ona yapılacak en büyük destektir. Bunlar bin türlü sözcük, davranıştan belki de daha önemli, daha kıymetlidir. Bence, ağlamak insanın insan olmasını gerektirdiklerinden biridir. Ve ağlamakla gülmek olmazsa olmaz bir ikilidir. Tıpkı evrende bulunan diğer zıtlıklar gibi...

**Yukarıdaki parçada aşağıda verilen cümlelerden hangisine ulaşamaz?**

- A) Ağlamak, insanı insan yapan eylemlerden biridir.  
B) Ağlayan kişiye yapılacak en büyük destek ona samimi sözler söylemektir.  
C) Ağlamakla gülmek ayrı düşünülemez.  
D) Ağlamakla gülmek birbiri ile ilişki olmayan iki eylemdir.

**13)** Devesiyle birlikte çölde yürümekte olan bir bilge, güçlükle yürüyen, susuzluktan dudakları kurumuş bir adama rastlamış. Adam, bilgeyi görünce su istemiş. Devesinden inmiş, ona su vermiş. Suyu içen adam birden bilgeyi iterek deveyi aldığı gibi kaçmaya başlamış. Bunu gören bilge, hırsızın arkasından bağırır:

- Tamam deveyi al git ama bir ricam var, sakın bu olayı kimselere anlatma.

Bu isteği tuhaf bulan hırsız biraz duraksayıp nedenini sormuş. Bilge de şu cevabı vermiş:

- Eğer anlatırsan bu her yere yayılır ve insanlar bir daha çölde muhtaç birini gördüklerinde yardım etmezler.

**Bu parçada geçen hikâye unsurları aşağıdaki tabloda hangi şıkta doğru işaretlenmiştir?**

|    | ŞAHIS<br>KADROSU | OLAY | MEKAN | ZAMAN |
|----|------------------|------|-------|-------|
| A) | ✓                | ✓    |       | ✓     |
| B) | ✓                | ✓    | ✓     |       |
| C) |                  | ✓    |       | ✓     |
| D) | ✓                | ✓    | ✓     | ✓     |

**14)** I. Meyveleri yıkadıktan sonra yemeliyiz.

II. Hafta sonu benimle sinemaya gelir misin?

III. Etleri poşetle buzluğa koydum.

IV. Yağmur yağmazsa dışarı çıkabiliriz.

**Yukarıda numaralandırılmış cümlelerin hangisinde hem yapım hem de çekim eki almış bir sözcük vardır?**

- A) I      B) II      C) III      D) IV

**15)** “Akıllı, sevgi, halıyı, evde” sözcüklerinden yapım eki alanlar “Y”, çekim eki alanlar “Ç” ile gösterilecektir.

**Buna göre aşağıdaki şıklardan hangisi doğrudur?**

|    | Akıllı | Sevgi | Halıyı | Evde |
|----|--------|-------|--------|------|
| A) | Y      | Y     | Ç      | Ç    |
| B) | Ç      | Y     | Ç      | Y    |
| C) | Ç      | Ç     | Y      | Y    |
| D) | Y      | Ç     | Y      | Ç    |

**16)** Aşağıdaki cümlelerin hangisinde altı çizili isim tamlaması diğerlerinden farklıdır?

- A) Duydum ki unutmuşsun gözlerimin rengini.  
B) Saatlerdir gömleğimin düğmesini arıyorum.  
C) Tencerenin kapağını hangi dolaba koydun?  
D) Kahvaltıda portakal suyu içmeliymişim.

17) Spor kişinin hem ruh hem de beden yapısını, sağlığını dinlendirip güçlendirerek dengeli bir kişiliğe sahip olmasını sağlar. Bunu bilimsel gerçekler ortaya koymuş durumdadır. Alışkanlık haline getirmek biraz zordur ancak alışınca hayatımızın bir parçası haline gelir. Spor dallarının hemen her birini deneyimledikten sonra size kattıklarına inanamayacak, sporsuz bir hayat düşünemeyeceksiniz.

**Bu paragrafa göre aşağıdakilerden hangisi çıkarılamaz?**

- A) Sporun insana birçok faydası vardır.
- B) Spora alışınca vazgeçmesi zor olabilir.
- C) Herkes spor yapmak zorundadır.
- D) Birden çok spor çeşidi vardır.

18)



ALİ

Diyelim ki uçağa yetişemedin.

Hakem son maçı iyi yönetti.



ELİF



AYŞE

Sağlıklı olmak için yürüyüş yapmalıyız.

Gittiğinden beri beni hiç aramadı.



ECE



CAN

Yağmur yağdığından camlar kirlendi.

**Yukarıdaki cümlelere göre sırasıyla amaç-sonuç, varsayım, sebep-sonuç cümleleri kuran çocuklar hangi şıkta doğru verilmiştir?**

- A) Ali – Elif - Ece
- B) Ayşe – Ali – Can
- C) Ayşe – Can - Ali
- D) Can – Ece - Elif

**19) Aşağıdaki cümlelerden hangisi anlam özelliğine göre nesnel bir cümledir?**

- A) Yağmurlu havaları hiç sevmem.
- B) İlkbahar en güzel mevsimdir.
- C) Bir hafta yedi gündür.
- D) İstanbul, çok temiz bir şehirdir.

20) Bahçeye uzun boylu, zayıf, siyah saçlı bir adam girdi. Üzerinde eski bir takım elbise; ayaklarında günlerce yürümekten yıpranmış, çamur içerisinde, eski bir ayakkabı vardı. Kurumuş dudakları, soluk yüzü ve yorgun gözlerinden aç ve susuz olduğu anlaşılıyordu. Doğrusu bu adamın kim olduğunu merak ediyorum.

**Yukarıdaki paragrafta hangi anlatım biçimi ağır basmaktadır?**

- A) Açıklama
- B) Tartışma
- C) Öyküleme
- D) Betimleme



1) Öğretmenleri 6/A sınıfındaki öğrencileri boy sırasına göre önde kısalar olacak şekilde kısıdan uzuna sıralıyor. Bu sırada Ahmet önden 7.Sıradadır.

**Ahmet'in arkasındakilerin sayısı öndekilerin sayısının üç katı olduğuna göre bu sırada kaç öğrenci bulunmaktadır?**

- A)24      B)25      C)26      D)28

2)



Her birinde 7 tavuk bulunan 7 farklı kümeste her tavuğun 7 yumurtası vardır.

**Buna göre toplam yumurta sayısı kaçtır?**

- A)  $7^7$       B)  $7^5$       C)  $7^3$       D)  $7^2+7^3$

3) Bir sayının çarpanlarının küçükten büyüğe doğru sıralanışı aşağıda verilmiştir.

1,2,a,4,6,9,b,18,27,36,54,c

Buna göre ,aşağıda verilenlerden hangisi yanlıştır?

- A)Çarpanları verilen sayı 108'tür.  
B)a 'sayısı 3'tür.  
C)c-a.b=0  
D)a+b=15

4) 2a63b rakaları birbirinden farklı beş basamaklı sayı 3ve 5 ile tam bölünebilen tek bir sayıdır.

**Buna göre a ve b yerine gelecek rakamların çarpımı kaçtır?**

- A) 0      B) 10      C) 25      D) 40

$$5) 39 \cdot (\blacksquare - 12) = 39 \cdot 29 - 39 \cdot 12$$

Yukarıda verilen işlemde, çarpma işleminin dağılma özelliğini düşündüğümüzde **■ yerine gelmesi gereken sayı kaçtır?**

- A) 47      B) 39      C) 29      D) 12



6) Bir babanın yaşı iki çocuğunun şimdiki yaşlarının toplamının 4 katının 4 fazlasına eşittir.

İki yıl sonra baba ve çocukların yaşları toplamı 86 olduğuna göre çocuklarının şimdiki yaşları toplamı kaçtır?

- A)8 B)9 C)10 D)11

7) (...) Bir doğal sayının çarpanları da bölenleri de aynı sayılardır.

(...)Bütün sayıların sıfırcı kuvveti 1'e eşittir.

(...) En küçük iki basamaklı negatif tam sayı -10

(...) 2,3,5 ve 7 sayıları asal rakamlardır.

(...) Bütün tamsayıların mutlak değeri pozitifdir

**Yukarıda verilen ifadelerden kaç tanesi doğrudur?**

- A) 2 B) 3 C) 4 D) 5

8) Aşağıdaki ifadelerden hangisi küme belirtir?

- A) Sınıfımızda ki uzun boylu öğrenciler  
B) Türkiye'deki bazı göller  
C) Sevilen akrabalar  
D) Su altında nefes alan insanlar

9)  $(95-5^2+8:4):4$  işleminin sonucu kaçtır?

- A)18 B)20 C)24 D)25

10)



Yukarıda verilen dört kardeşin yaşları ve ceviz sayısı verilmiştir.

| İSİMLERİ | YAŞLARI | CEVİZ SAYISI |
|----------|---------|--------------|
| Eymen    | 3       | 9            |
| Furkan   | 7       | 21           |
| Taha     | 10      | 25           |
| Yasin    | 13      | 39           |

**Buna göre,yaşların ceviz sayısına oranı hangisi farklıdır?**

- A)Yasin B)Taha C)Furkan D)Eymen

11)

|   |                 |                |
|---|-----------------|----------------|
|   | $1\frac{1}{10}$ |                |
| 1 |                 | $2\frac{3}{5}$ |
|   | ★               |                |

Yukarıdaki şekilde her satır ve her sütundaki sayıların toplamı 5 olacak şekilde sayılar yerleştiriliyor.

Buna göre ★ yerine aşağıdakilerden hangisi yazılmalıdır?

- A)  $2\frac{1}{2}$     B)  $3\frac{1}{2}$     C)  $2\frac{2}{5}$     D)  $3\frac{2}{5}$

12) “ a sayısının 2 fazlasının 3 katının yarısı”  
Verilen ifadenin cebirsel olarak yazılışı  
aşağıdakilerden hangisidir?

- A)  $\frac{a+2.3}{2}$     B)  $\frac{3.(a+2)}{2}$   
C)  $\frac{2.(a+3)}{2}$     D)  $\frac{2.(a+2)}{3}$

13) 207,403 ondalık kesrinin çözümünüş biçimi aşağıdakilerden hangisi doğru verilmiştir?

- A)  $2.10^2 + 7.10^1 + 4.\frac{1}{10} + 3.\frac{1}{100}$   
B)  $7.10^0 + 2.10^1 + 4.\frac{1}{10} + 3.\frac{1}{100}$   
C)  $7.10^1 + 7.10^0 + 4.\frac{1}{10} + 3.\frac{1}{1000}$   
D)  $2.10^2 + 7.10^0 + 4.\frac{1}{10} + 3.\frac{1}{1000}$

14)



10 TL si olan Yasin marketten 0,75 TL olan meyve sularından 3 tane , 1,25 TL olan keklerden 2 tane alıyor.

Buna göre kasiyer ,Yasine kaç lira para üstü vermelidir?

- A) 4,75    B) 5    C) 5,25    D) 5,75

15)

|                                 |     |
|---------------------------------|-----|
| Sıfırın altında 7 derece.       | -7  |
| 80 m havada uçan kuş            | +80 |
| 12 adım ileride                 | -12 |
| Bir balığın 4 m derinde yüzmesi | +4  |
| 30 TL zarar edilmesi            | -30 |
| 25TL kar edilmesi               | +25 |

Yukarıda verilen ifadelerden kac tanesi yanlıştır.

- A) 2    B) 3    C) 4    D) 5



16)



$A = \{\text{"biz bize " harfleri}\}$

$B = \{\text{"yeteriz " harfleri}\}$  Kümeleri veriliyor.

Buna göre,  $s(A) + s(B) + s(A \cup B)$  kaçtır?

A)16      B)17      C)18      D)20

17) İki basamaklı en büyük doğal sayı ile en büyük negatif tam sayının toplamı ile ilgili aşağıdakilerden hangisi söylenemez ?

- A) 11'in katıdır.
- B) Çift sayıdır.
- C) 99'dan küçüktür.
- D) Pozitif tam sayıdır.

18) İki ayrı firmanın otobüs seferleri biri 35 dakikada bir , diğeri 45 dakikada bir sefer yapmaktadır.

İlk seferleri 7.00 da başlayan bu firmaların tekrar beraber saat kaçta sefere çıkarlar?

- A) 11.15      B)11.43
- B) C)12.00      D)12.15

19) Medine, cuma günü **25** tane matematik, **10** tane Türkçe, **30** tane sosyal bilgiler, **35** tane fen ve teknoloji sorusu çözmüştür.

Buna göre Medine'nin cuma günü çözdüğü matematik soru sayısının tüm soru sayısına oranı kaçtır ?

- A)  $\frac{1}{3}$       B)  $\frac{1}{4}$       C)  $\frac{3}{4}$       D)  $\frac{1}{5}$

20) İbrahim matematik dersinin ilk üç sınavından **80, 90 ve 91** almıştır. Karne notu hesaplanırken bu üç sınav ile bir sözlü notunun ortalamasına göre hesaplanır.

İbrahim'in yazılılarının ortalaması değişmediğine göre , **sözlü notundan kaç almıştır?**

- A)80      B)85      C)87      D)90

1) "Bir milletin dünyayı ve hayatı kendisine göre adlandırması, seslendirmesi, onu kendince yorumlamasıdır."

**Yukarıdaki metinde kültürel öğelerden hangisinin önemine vurgu yapılmıştır?**

- A) Dil B) Din C) Tarih D) Gelenek

2) Bazı sosyal roller bireyin aldığı eğitim, yaptığı çalışmalar ve elde ettiği başarılar sonucunda gerçekleşir.

**Buna göre aşağıdakilerden hangisi parçada anlatılan rollerden biri olamaz?**

- A) Mühendis olmak  
B) Sınıf başkanı olmak  
C) Okul temsilcisi olmak  
D) Yeni doğan kardeşe abla olmak

3) Aşağıdakilerden hangisi toplum içinde yardımlaşma ve dayanışmayı güçlendiren unsurlardan değildir?

- A) Empati B) Ön yargı  
C) Hoşgörü D) Farklılıklara saygı

4) Arkadaşlarımız bizden farklı düşündüğünde onlara kızmak yerine onların düşüncelerine saygı göstermek iletişimimizi olumlu yönde etkiler. Kendimizi arkadaşlarımızın yerine koyarak olaylara onların gözüyle bakabilirsek iletişimi kolaylaştırmış oluruz.

**Yukarıdaki açıklamada aşağıdaki kavramlardan hangisinin önemine değinilmiştir?**

- A) Grup B) Rol C) Hak D) Empati

5) İlk Türk Devletlerinin sanat eserlerini taşınabilir malzemelerden yapmalarının nedeni aşağıdakilerden hangisidir?

- A) Dinî inançlarının etkisi  
B) Hayvancılıkla uğraşmaları  
C) Göçebe yaşam sürmeleri  
D) Taşımacılıkta attan faydalanmaları

6) Hz. Osman Dönemi'nde;

- I. Kıbrıs'ın fethedilmesi,  
II. Kur'an-ı Kerim'in çoğaltılması,  
III. Hz. Osman'ın öldürülmesi

**Gelişmelerinden hangileri İslam Devleti'nin denizcilik faaliyetleri ile ilgilendiğini kanıtlar?**

- A) Yalnız I B) Yalnız II  
C) Yalnız III D) I ve III

7) Vatandaş ile polis arasındaki irtibatı sağlayan ve mağduriyetlerin giderilmesi için kullanılan hat hangisidir?

- A) ALO 155 B) ALO 184  
C) ALO 175 D) ALO 156

8) Aşağıdakilerden hangisi Sosyal yardımlaşma ve dayanışmanın katkılarında biri sayılmaz?

- A) İnsanlarla iletişimimizi artırır  
B) Toplumsal huzur ve birlikteliği sağlar  
C) Toplumsal çatışmalara sebep olur  
D) Toplumsal bağlarımızı güçlendirir.

9) Aşağıdaki yerlerden hangisi Türklerin tarih sahnesine çıktıkları anayurtlarıdır?

- A) Güney Asya                      B) Orta Asya  
C) Mezopotamya                D) Anadolu

10) Orta Asya da kurulan ilk Türk devleti aşağıdakilerden hangisidir?

- A) Uygurlar                      B) Karahanlılar  
C) Kök Türkler                D) Asya Hunları

11) Aşağıda verilen Destan-Devlet eşleştirmesinden hangisi yanlıştır?

- A) Asya Hun Devleti-Bozkurt Destanı  
B) Kök Türkler-Ergenekon Destanı  
C) Uygurlar-Göç Destanı  
D) Asya Hun Devleti -Oğuz Kağan Destanı

12) M.Ö.209 da tahta çıkışı Türk Silahlı Kuvvetleri'nin kuruluş yılı olarak kabul edilen ve Türk tarihinde Onluk Sisteme dayalı ilk düzenli orduyu kuran hükümdar kimdir?

- A) Teoman                      B) Bumin Kağan  
C) Mete Han                    D) Atilla

13) 2.Kök Türk devleti döneminde Bumin Kağan,Kültigin ve Vezir Tonyukuk adına dikilen Türk tarihinin ilk yazılı ve ilk edebiyat eserleri olan Türklerin tarihi,kültürü ve savaşları hakkında bilgi veren eserler aşağıdakilerden hangisidir?

- A) Sine-Uşi Yazıtları                      B) Manas Destanı  
C) Dede Korkut Hikayeleri                D) Orhun Yazıtları

14) Çin'in dini olan Maniehizm dinini kabul edip yerleşik hayata geçen ilk Türk devleti aşağıdakilerden hangisidir?

- A) Kök Türkler                      B) Asya Hunları  
C) Uygurlar                      D) Avrupa Hun Devleti

15) Adevleti yönetme yetkisinin Tanrı tarafından verildiğine inanıldığı anlayışa ne ad verilirdi?

- A) Töre                      B) Kurultay                      C) Balbal                      D) Kut

16) Aşağıdakilerden hangisi Cahiliye Dönemi özelliklerinden biri değildir?

- A) Kadınlara değer verilirdi  
B) Kan davaları yaygındı  
C) Putperestlik dini mevcuttu  
D) Siyasi birlik yoktu

**17) Mekkeli müşriklerin baskısından kurtulmak ve İslamiyet'in yayılmasını kolaylaştırmak amacıyla Medine'ye yapılan göçe ne ad verilir?**

- A) Kavimler Göçü**      **B) Hicret**  
**C) Akabe Biati**      **D) Taif Seferi**

**20) Abbasiler ile ilgili verilen bilgilerden hangisi yanlıştır?**

**A)** Türkler için SAMERRA ve AVASIM şehirleri oluşturmuşlar.

**B)** Bilime önem verip BEYT-ÜL HİKME adıyla kütüphane kurmuşlardır.

**C)** Hoşgörü politikası uygulayıp İslamiyet'in Türkler arasında yayılmasını sağlamışlardır.

**D)** Halifeliği Saltanata dönüştürmüşlerdir.

**18)Aşağıda verilen bilgilerden hangisi yanlıştır?**

**A)** İslam dünyasında Dört Halife seçimle göreve geldiği için bu döneme Cumhuriyet Dönemi denir.

**B)** Hz. Ebubekir döneminde Kuran-ı Kerim kitap haline getirildi ve Hz.Osman döneminde is çoğaltılıp farklı eyaletlere dağıtıldı.

**C)** Divan teşkilatı,Hicri takvim ve Kadılık teşkilatı Hz.Ali döneminde oluşturuldu.

**D)** İlk Donanma Hz.Osman döneminde oluşturuldu.

**19) Emeviler döneminde İslamiyetin yayılmasını engelleyen ve Arapları diğer milletlere göre üstün tutan ırkçı politika aşağıdakilerden hangisidir?**

- A) Mevali Politikası**      **B) Hoşgörü Politikası**  
**C)İkili Teşkilat**      **D) Askeri Politika**

1)

- 1.Ağız.
- 2.yutak.
- 3.yemek borusu
- 4.Mide
- 5.İnce bağırsak
- 6.Kalın bağırsak

**Yukarıda verilmiş olan sindirim organlarından hangilerinde hem fiziksel hem kimyasal sindirim bir arada gerçekleşir?**

- A) 1.3.5.      B) 1.4.5.  
C) 4.5.6.      D) 2.3.5

**2) Kaslarla ilgili aşağıda verilen ifadelerden hangisi yanlıştır?**

- A) Kalp kası isteğimiz dışında çalışır.  
B) Göz bebeği ve damar kasları düz kaslara örnektir.  
C) Dudak kasları ve yüz kasları deriyi hareket ettiren kaslara örnektir.  
D) Kol, bacak ve parmağımızda bulunan kaslar aynı yönde çalışır.

**3) Mehmet hastalandığı için doktor kan tahlili yapıyor ve kandaki bazı hücrelerin sayısı çok arttığı için mikrop kapıldığı sonucunu çıkarıyor. Mehmet: Evet doktor bey alyuvarların sayısı artmış, çünkü alyuvar kandaki mikroplarla savaşır diyor. Doktor gülümseyerek :Mehmet, kanda mikroplarla savaşan hücremiz alyuvar değil,.....diyor.**

**Yukarıdaki metinde boşluğa hangi kelime gelmelidir?**

- A) Kan pulcukları  
B) Akyuvar  
C) Nöron  
D) Nefron

4)

- 1.Hava
- 2.Su
- 3.Işık

**Yukarıdakilerden hangileri maddedir?**

- A) 1 ve 2  
B) 2 ve 3  
C) 2 ve 3  
D) 1, 2 ve 3

5)

- Vücudun dik durmasını sağlar.
- Organları korur ve desteklik sağlar.
- Kan hücrelerinin üretimini sağlar.
- Vücudun ihtiyacı olan mineralleri depolar.

**Yukarıda verilen bilgilerden kaç tanesi destek ve hareket sisteminin görevlerindendir?**

- A) 4  
B) 3  
C) 2  
D) 1

6)

- Güneş sisteminin ikinci büyük gezegenidir.  
Kızıl gezegen olarak bilinir.  
Çoban yıldızı olarak bilinir.

**Yukarıda bazı gezegenlerin özellikleri verilmiştir. Buna göre aşağıda verilen hangi gezegen bunların dışında kalır?**

- A) Satürn  
B) Venüs  
C) Uranüs  
D) Mars



7)

- 1.Akciğerler
- 2.Tükürük bezi
- 3.Pankreas

Yukarıdaki organlardan hangisi sindirimde yardımcı organ olarak görev alır?

- A) 1 ve 2  
B) 2 ve 3  
C) 1 ve 3  
D) 1,2 ve 3

8)

- 1.Kuvvetin, cisimler üzerinde döndürme etkisi vardır.
- 2.Kuvvetin hareket durumlarını değiştirme etkisi vardır.
- 3.Hareket eden cisme dengelenmiş kuvvet etki ederse net kuvvet sıfır olur.

Yukarıda kuvvet ile ilgili verilen ifadelerden hangisi ya da hangileri doğrudur?

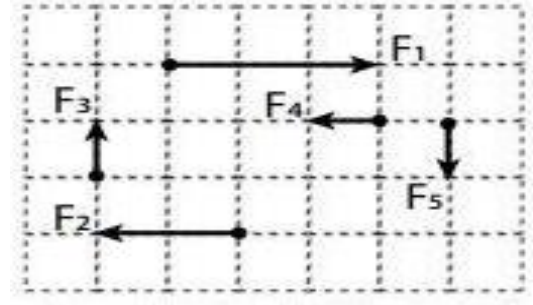
- A) Yalnız 1  
B) 1 ve 2  
C) 2 ve 3  
D) 1,2 ve 3

9)

- Terleme ile vücuttaki fazla suyun atılması.
- Yiyeceklerin posasının bir miktar su ile atılması.
- Karbondiyoksit ve su buharının atılması.

Aşağıdaki organlardan hangisinin görevi yukarıda verilmemiştir?

- A) Akciğer  
B) Deri  
C) Böbrek  
D) Kalın bağırsak



10) Verilen kuvvetlerle ilgili hangi ifade yanlıştır? (Bölmeler arası mesafe eşittir.)

- A)  $F_3$  ve  $F_5$  eşit büyüklüktedir.  
B)  $F_1$  ve  $F_2$  farklı doğrultulardadır.  
C)  $F_1$  ve  $F_4$  ters yöndedir.  
D)  $F_2$ ,  $F_4$ 'ün iki katı büyüklüktedir.

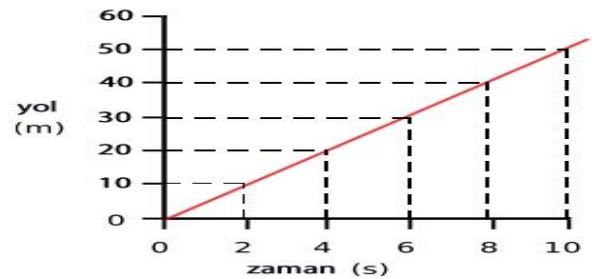
11)

- I. Kızıl gezegen olarak bilinir.
- II. Güneş'e yakınlıkta 4.sıradadır.
- III. İç gezegendir.

Yukarıda ki verilen bilgiler hangi gezegenimizi tarif etmektedir?

- A) Merkür  
B) Jüpiter  
C) Mars  
D) Satürn

12)



Yol zaman grafiği verilen araç sabit süratle gitmektedir. Bu aracın 8 saniyede aldığı yol kaç m dir?

- A) 5  
B) 30  
C) 40  
D) 50

13) Küçük kan dolaşımının izlediği yol aşağıdakilerden hangisinde doğru verilmiştir?

- A) Sol üst odacık-akciğer toplardamarı-akciğer-akciğer atardamarı-sağ alt odacık
- B) Sağ alt odacık-akciğer atardamarı-akciğer-akciğer toplardamarı-sağ üst odacık
- C) Sağ alt odacık-akciğer atardamarı-akciğer-akciğer toplardamarı-sol üst odacık
- D) Sol alt odacık-aort atardamarı-vücut-üst ana toplardamar-sağ üst odacık


14)



Yukarıdaki şekilde bir cisme uygulanan kuvvetler gösterilmiştir. Buna göre aşağıdaki ifadelerden hangisi yanlıştır?

- A) Bileşke kuvvet 3 N dur.
- B) Dengeleyici kuvvet bileşke kuvvete zıt yöndedir.
- C) Bileşke kuvvet 5 N dur.
- D) Bileşke kuvvet batı yöndedir.

15)



Ay tutulmasını modellemek isteyen bir öğrenci, bu gök cisimlerini hangi sıraya göre aynı doğrultuda dizmeli?

- A) I-III-II
- B) II-III-I
- C) II-I-III
- D) III-II-I

16)

- 1. Alyuvarlar kırmızı kan hücreleridir.
- 2. Kanda en az sayıda bulunan kan hücreleri ak yuvarlardır.
- 3. Alyuvarlar çekirdeksiz, ak yuvarlar çekirdekli kan hücreleridir.


Kan hücreleri ile ilgili yukarıda verilen ifadeler den hangileri doğrudur?

- A) 1 ve 2
- B) 2 ve 3
- C) 1 ve 3
- D) 1,2 ve 3

17) Aşağıdaki seçeneklerin hangisinde K cismi dengelenmiş kuvvetlerin etkisindedir? (Sürtünmeler önemsizdir.)

- A) 5 N K 10 N
- B) 20 N K 10 N
- C) 4 N K 2 N
- D) 10 N K 5 N

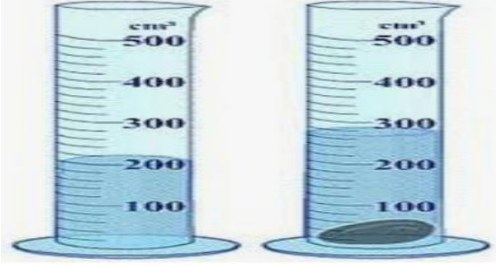
18)



Şekilde halat çekme yarışı yapan Ayhan ve Fevzi'nin dengede kalabilmesi için hangisinin çekme yönüne kaç N'luk kuvvet eklenmelidir?

- A) Ayhan'a, 30
- B) Fevzi'ye, 30
- C) Ayhan'a, 60
- D) Fevzi'ye, 60

19)



Şekildeki dereceli kaptaki 200 cm<sup>3</sup> seviyesinde sıvı bulunmaktadır. Kütlesi 300 g olan cisim kabın içine atıldığında kaptaki sıvı seviyesi 300 cm<sup>3</sup> olmaktadır. Buna göre cismin yoğunluğu kaç g/cm<sup>3</sup> tür?

- A) 1
- B) 2
- C) 3
- D) 4

20)

- a) Pankreas öz suyu ince bağırsağa dökülür.
- b) Safra salgısı karaciğer tarafından üretilir.
- c) Safra salgısı yağların kimyasal sindirimini sağlar.
- d) Pankreas öz suyu karbonhidrat protein ve yağların fiziksel sindirimini sağlar.

Yukarıda sindirime yardımcı organlar hakkında bilgi verilmiştir. Bu bilgilerden hangileri doğrudur?

- A) a ve b
- B) b c ve d
- C) Yalnız a
- D) b ve c

1)

Fatih: Did you see our new PE teacher?

Seyma: No, I didn't. What does she look like?

Fatih: She has long wavy brown hair and blue eyes.

**Which option is correct according to information above?**

A)



B)



C)



D)



2) Ali is shorter than Ahmet. Ahmet is shorter than Mustafa. Mustafa is shorter than Melek.

**Who is the tallest one?**

A) Ali

B) Mustafa

C) Ahmet

D) Melek

3) Hividar: When were you born?

Haydar: .....

A) Muş

B) I was born in 2008.

C) I am 12 years old.

D) I was a musician.

Hi there! My name is Yunus Emre. I am a student. I love my school. I wake up at 7 o'clock everyday. I have breakfast at half past seven. Then I go to school at 8 a.m. I like Science. I am good at English as well. I have lunch around 12:30. After school i do my homeworks and read a book for 40 minutes. I have dinner at 7 p.m. I like playing hide and seek with my friends after dinner. I usually sleep around eleven o'clock.

**Answer the questions 4, 5 and 6 according to text above.**

4) When does Yunus Emre have breakfast?

A) At 8:30

B) At 10 p.m.

C) At 7:30 a.m.

D) At 7 o'clock

5) Which lessons are enjoyable for him?

A) Physical Education

B) Science and English

C) Mathematics

D) Literature

6) What is his favorite game?

- A) Football
- B) Basketball
- C) Hide and Seek
- D) Tennis



7) What time is it?

- A) It is ten past ten.
- B) I was born in Bingöl.
- C) It is ten to ten.
- D) It is 5 o'clock.

8) Hazal: Do you want some cereal?

Hatice: ..... I love cereal.

- A) No, thanks.
- B) I don't like it.
- C) My favorite is milk.
- D) Yes, please.

9) Sami: What do you like for breakfast?

Yusuf: I like .....

Sami: Why?

Yusuf: Because they are healthy.

- A) Sausages
- B) Chocolate and ice cream
- C) Olives
- D) Hamburger

10-) Big cities are more ..... than small cities.

- A) crowded
- B) cheap
- C) green
- D) quiet

11)



Doğan: What are you doing now?

Şahin: .....

- A) I do my homework.
- B) I am playing football.
- C) I am a funny boy.
- D) I am playing basketball.

12) Halil: I want some cookies. How can I get some cookies?

Cihan: You should go to a .....

- A) Pharmacy
- B) Greengrocer's
- C) Bakery
- D) Bookshop



13) Sude: I serve food in a restaurant. I can carry a lot of plates and glasses.

Can: Are you a ..... ?

Sude: Yes, I am.

- A) Doctor
- B) Dentist
- C) Hairdresser
- D) Waitress



16) What is she doing?

- A) She is riding a bike.
- B) She has green eyes.
- C) She is reading a book.
- D) She is feeding her dog.



14) The kitten is ..... the puppies.

- A) Next to
- B) Between
- C) In
- D) In front of



15) The cat is ..... the box.

- A) In
- B) Under
- C) Next to
- D) Between



17) What is the weather like today?

- A) It is sunny.
- B) It is foggy.
- C) It is windy.
- D) It is rainy.

**18) What can we do to protect the environment?**

- A) We can plant trees.
- B) We can cut down the trees.
- C) We can throw garbage on the streets.
- D) We can waste water.

**19) Cross the odd one out.**

- A) You should save energy.
- B) You should keep the environment clean.
- C) You should unplug electrical devices at night.
- D) You should pollute the seas.

**20- Answer this question according to Picture below.**



**Where were you at weekend?**

- A) I was at home.
- B) I was at the cinema.
- C) I visited my grandparents.
- D) I was at school.

Din ve inanç, tarihin her döneminde insanlar için en önemli değer olmuştur. Buna bağlı olarak din ve inanç; toplumun giyim kuşamına, yeme içme alışkanlıklarına, kültürüne, ahlak anlayışına, örf ve âdetlerine, sanatına, edebiyatına, kısacası hayatın her alanına yön vermiştir. İnsanlar, kendileri için son derece önemli olan hayatın her alanını kuşatan dinlerine ve inançlarına her zaman çok önem vermişlerdir.

Bu sebeple de kişileri yıllardır benimsedikleri inançlardan vazgeçirmek, onlara gittikleri yolun yanlış olduğunu söylemek ve bunu kabul ettirmek kolay bir iş değildir.

İşte peygamberler, böylesine zor bir görevi başarmak için Allah (c.c.) tarafından seçilmiş elçilerdir.

Bu kadar önemli ve zor bir görevi başarmak üzere yola çıkan peygamberlerin, görevlerinin gereği olarak bazı özelliklere sahip olması gerekir. İşte bu özelliklere peygamberlerin sıfatları denilmektedir.

**1) Yukarıdaki paragrafa göre aşağıdakilerden hangisi Peygamberlerin sıfatlarından değildir?**

- A) Sıdk B) Fetanet C) Tebliğ D) Şirk

“De ki: Eğer yeryüzünde, (insanlar yerine), gezip dolaşan melekler olsaydı elbette onlara gökten bir melek peygamber gönderirdik.”

**2- Yukarıdaki ayette vurgulanmak istenen ana mesaj nedir?**

- A) Peygamberler insanlar arasından seçilmiştir. Çünkü vahyin muhatabı insandır.  
B) Meleklerde peygamber olarak gönderilebilir.  
C) İnsanlar dışındaki varlıklarda peygamber olarak seçilebilir.  
D) İnsanlar daha üstün varlıklara daha çok inanır.

Biz, içinde doğruya rehberlik ve nur olduğu hâlde .....indirdik. Kendilerini (Allah'a) vermiş peygamberler onunla Yahudilere hükmederlerdi...” Hz. Musa'ya gönderilen kutsal kitaptır.

**3) Verilen ayette bahsi geçen kutsal kitap aşağıdakilerden hangisidir ?**

- A) Kur'an-ı Kerim  
B) Tevrat  
C) İncil  
D) Zebur

Bütün varlıkların ve evrenin yaratıcısı olan  
Yüce Allah (c.c.),  
zamanın bir aşamasında Hz. ....yaratmak  
istediğinde meleklerle yönelerek  
meleklerle yönelerek "... 'Ben yeryüzünde bir  
halife yaratacağım.'...demişti.  
Bunun üzerine melekler, '...Orada bozgunculuk  
yapacak, kan dökecek birini mi yaratacaksın?  
Oysa biz sana hamd ederek daima seni tesbih ve  
takdis ediyoruz.'..." diyerek görüşlerini dile  
getirdiler.  
Fakat Yüce Allah (c.c.), "... 'Ben sizin bilmediğinizi  
bilirim.'..." buyurdu. Böylece ilk insan ve ilk  
peygamber olan Hz. .... yaratılış süreci  
başlamış oldu.

**4) Yukarıda bahsi geçen peygamber  
aşağıdakilerden hangisidir.?**

- A) Hz. Adem
- B) Hz. Nuh
- C) Hz. İsmail
- D) Hz. Yusuf

Dinî sorumlulukları nitelendirmek için kullanılan  
bazı kavramlar vardır.

.....: İslam dininde, sorumluluk çağına gelmiş  
Müslümanlardan yapılması kesin olarak  
istenilen, terk edilmesi günah olan ibadetlere, iş ve  
davranışlara denir.

.....; İslam dininde yapılması  
farz kadar kesin olmayan fakat sünnetten daha  
kuvvetli olan dinî emirlerdir. Örneğin bayram ve  
vitr namazı kılmak, kurban kesmek, fıtır sadakası  
vermek vb

.....Farz ve vacip dışında sevap kazanmak  
amacıyla fazladan yapılan,  
Hz.Peygamber'in (s.a.v.) de yapmış olduğu ibadet  
ve davranışlara nafil denir.

**5-Yukarıda boş bırakılan yerlere aşağıdaki  
hangi kavramlar sırasıyla gelmelidir.?**

- A) Sünnet-vitr-farz
- B) Farz-sünnet-vacip
- C) Farz-vacip-nafil
- D) Nafil-farz-vacip

Her ibadette olduğu gibi namaz ibadetini yerine  
getirirken de uyulması zorunlu olan bazı kurallar  
vardır.

Namazın sahih yani geçerli olması için bu  
kuralların

yerine getirilmesi şarttır. Namaz esnasında yerine  
getirilmesi zorunlu olan bu kurallara namazın  
içindeki farzlar (şartlar) denir

**6) yukarıdaki açıklamaya göre aşağıdakilerden  
hangisi namazın içindeki şartlardan biri  
değildir.?**

- A) İftitah Tekbiri
- B) Kıyam
- C) Kıraat
- D) Niyet

"Ey iman edenler! Namaz kılmaya kalktığınız  
zaman yüzlerinizi, dirseklerinize kadar ellerinizi  
yıkayın;  
başlarınızı mesh edip topuklara kadar ayaklarınızı  
da (yıkayın)..."

**7) Yukarıdaki ayette bizlerden istenilen  
davranış aşağıdakilerden hangisidir.?**

- A) Namazı zamanında kılmak
- B) Namazdan önce dirseklerimizi yıkamak
- C) Namazdan önce abdest almak
- D) Namazdan önce uyumak

“... Namaz müminler üzerine vakitleri belli bir farzdır.”

**8) Yukarıdaki ayette verilen ana mesaj aşağıdakilerden hangisidir.?**

- A) Namazın belli vakitlerde kılınması gerektiği.
- B) Namazın belli vakitlerde kılınması gerekmediği.
- C) İstenilen zamanda vakit namazlarının kılınabildiği.
- D) Namazın belli bir vaktinin olmadığı.

**9) Teravih namazıyla ilgili verilen bilgilerden hangisi yanlıştır.?**

- A) Teravih namazı hem erkekler hem de kadınlar için kılınması sünnet olan bir namazdır.
- B) Peygamber Efendimiz (s.a.v.) bu namazı kılmaya önem vermiştir.
- C) Teravih namazını kılmak için oruç tutmak şart değildir.
- D) Teravih namazını kadınlar kılamaz.

Namaz, kendisine özgü bazı kuralları olan bir ibadettir. Bu ibadetin nasıl yapılacağını Peygamberimiz (s.a.v.) hem sözlü olarak açıklamış hem de uygulamalı olarak göstermiştir. Bir hadisinde de “

Ben namazı nasıl kılıyorsam siz de öyle kılın.”(1) buyurmuştur. Namaz, kurallarına uygun kılınmazsa bozulur ve sahih yani geçerli olmaz. Bu sebeple namazın hangi hâllerde bozulacağını her Müslüman'ın bilmesi gerekmektedir.

**10- Yapılan açıklamaya göre aşağıdakilerden hangisi namazı bozan durumlardan biri değildir?**

- A) Namazda iken konuşmak
- B) Namazın farzlarından birini terk etmek
- C) Namazda selam vermek veya verilen selamı almak
- D) Namazda kur'an-dan bir bölüm okumak

Kur'an-ı Kerim'de adı geçen, İsrailoğullarına gönderilmiş peygamberlerden biridir. Onun soyu, Hz. İbrahim'e (a.s.) dayanmaktadır. O, Hz. Süleyman (a.s.) zamanında yapılan, kutsal bir mabet olan Beytü'l-Makdis'e uzun yıllar hizmet etmiş ve burada insanlara nasihatlerde bulunmuştur. Allah (c.c.) tarafından peygamberlikle görevlendirilince de Kudüs ve çevresindeki insanları Allah'ın (c.c.) emirlerine uymaya davet etmiştir. Her peygamber gibi o da insanları, Allah'ın (c.c.) emirlerine samimiyet-le bağlı kalmaya, kötülüklerden, her türlü haksızlık ve adaletsizlikten uzak durmaya çağırmıştır.

**11) Yukarıda bahsi geçen peygamber aşağıdakilerden hangisidir.?**

- A) Hz. Adem
- B) Hz. Süleyman
- C) Hz. Zekeriya
- D) Hz. Nuh

“Sarhoşluk veren her şey haramdır. Çoğu sarhoşluk veren şeyin, azı da haramdır.”

**12) Yukarıda verilen ayete göre aşağıdaki yargılardan hangisi yanlıştır?**

- A) Alkollü içkilerin veya uyuşturucu maddelerin azı çoğu olmaz.
- B) Sağlık açısından alkol ve uyuşturucunun azı da çoğu da zararlıdır.
- C) Az ya da çok bütün zararlı maddeler haramdır.
- D) Azından zarar gelmez diyerek kullanmak



Kötü alışkanlıklar genellikle bağımlılık yapan alışkanlıklardır. İçki, uyuşturucu maddeler ve sigara bunun açık bir örneğidir. Şayet insan bu alışkanlıkların nasıl başladığını bilirse bunlardan kaçınma konusunda da duyarlı olur.

**13) yapılan açıklamaya göre aşağıdakilerden hangisi kötü alışkanlıklara başlama sebeplerinden değildir?**

- A) Merak
- B) Arkadaş çevresi
- C) Özenti
- D) Bilgiye ilgi

610 yılının Ramazan ayıydı ve Hz. Muhammed (s.a.v.) bu sıralar 40 yaşındaydı. Sıklıkla yaptığı gibi yanına yiyecek ve içecek alıp Hira Mağarası'na gitmişti. Burada yalnız başına tefekkür ediyordu. Birden melek Cebrail (a.s.) ona göründü. Hz. Muhammed (s.a.v.) şaşkın ve heyecanlıydı. Cebrail (a.s.) ona..... dedi.

**14) Yukarıda boş bırakılan yere aşağıdaki ifadelerden hangisi getirilmelidir?**

- A) Ben okuma bilmem.
- B) Söylediklerimi tekrar et.
- C) Oku
- D) Beni dinle

**15) Fil suresiyle ilgili aşağıdaki ifadelerden hangisi yanlıştır?**

- A) Kur'an-ı Kerim'in 105. suresidir.
- B) Beş ayettir
- C) Peygamber Efendimiz'in (s.a.v.) Mekke'de yaşadığı dönemde indirilmiştir.
- D) Adını, ilk ayette geçen "ebabil" kelimesinden almıştır.

"Ey bürünüp sarınan (Resulüm)! Kalk ve uyar. Rabb'ini yücelt. Elbiseni tertemiz tut ve kötü şeyleri terk(e devam) et.  
(Müddessir suresi, 1-5. ayetler.)

**16) Yukarıda verilen surenin Peygamber Efendimiz'e (s.a.v) indirilmesiyle Peygamber Efendimiz'e hangi sorumluluklar verildiği söylenemez?**

- A) Hz. Muhammed'e (s.a.v.) İslam'ı tebliğ etme görevini yüklüyordu.
- B) Hz. Muhammed'in (s.a.v.) İslam'a davet vazifesi başlıyordu.
- C) Yakınında olan ve çok güvendiği kişilerden başlayarak İslam'ı tebliğ etme.
- D) İslam'ı tebliğ etmeme görevini yüklüyordu.

620 yılında Hz. Hatice (r.a.) ve Ebu Talip kısa zaman aralıklarıyla vefat etti. Onların ölümü, Hz. Peygamber'i (s.a.v.) çok üzdü. Çünkü hem eşi Hz. Hatice (r.a.) hem de amcası Ebu Talip maddi ve manevi olarak Peygamber Efendimiz'in (s.a.v.) her zaman en büyük destekçisi oldu. Bundan dolayı Hz. Hatice (r.a.) ile Ebu Talip'in vefat ettiği yıla .....denildi.

**17) Yukarıda verilen metinde boş bırakılan yere aşağıdaki ifadelerden hangisi getirilmelidir?**

- A) Hüzün yılı
- B) Üzüme yılı
- C) Ağlama yılı
- D) Üzüntülü yıl

**18)** Müddessir suresinin ilk ayetleri, Hz. Muhammed'e (s.a.v.) İslam'ı tebliğ etme görevini yüklüyordu. Bu ayetlerin nazil olmasıyla birlikte Hz. Muhammed'in (s.a.v.) İslam'a davet vazifesi başlıyordu. Allah Resulü (s.a.v.), en yakınında olan ve çok güvendiği kişilerden başlayarak İslam'ı tebliğ etti.

**Parçadan yola çıkarak aşağıdakilerden hangisi islami ilk kabul edenler arasında yer almaz?**

- A) Hz. Hatice
- B) Hz. Ali
- C) Hz. Ebu Bekir
- D) Hz. Ömer

**19-) I. İlk insandır.**

II. Şeytan onun önünde saygıyla eğilmiştir.

III. Bir süre cennette yaşamıştır.

IV. İlk peygamberdir.

**Hz. Âdem'le (a.s.) ilgili yukarıda verilen bilgilerden hangileri doğrudur?**

- A) Yalnız I
- B) I ve II
- C) I, III ve IV
- D) II, III ve IV

**20)** Müşriklerin baskıları dayanılmaz hâle gelince Müslümanlar Resulullah'a (s.a.v.) geldiler. Sevgili Peygamberimiz (s.a.v.), onlara ..... gitmelerini tavsiye etti. Orada hiç kimseye haksızlık etmeyen bir hükümdar olduğunu, orada rahat edeceklerini söyledi. Bunun üzerine 615 ve 616 yılında iki grup Müslüman ..... hicret etti. İslam'da ilk hicret budur.

**Yukarıda verilen metinde Müslümanların ilk hicret ettikleri yer boş bırakılmıştır. Müslümanlar ilk hicreti nereye yapmışlardır?**

- A) Mekke
- B) Medine
- C) Cezayir
- D) Habeşistan

| <u>TÜRKÇE</u> | <u>MATEMATİK</u> | <u>SOSYAL BİLGİLER</u> | <u>FEN BİLGİSİ</u> | <u>İNGİLİZCE</u> | <u>DİN KÜLTÜRÜ</u> |
|---------------|------------------|------------------------|--------------------|------------------|--------------------|
| <u>1-C</u>    | <u>1-B</u>       | <u>1-D</u>             | <u>1-B</u>         | <u>1-A</u>       | <u>1-D</u>         |
| <u>2-B</u>    | <u>2-C</u>       | <u>2-D</u>             | <u>2-D</u>         | <u>2-D</u>       | <u>2-A</u>         |
| <u>3-C</u>    | <u>3-C</u>       | <u>3-B</u>             | <u>3-B</u>         | <u>3-B</u>       | <u>3-B</u>         |
| <u>4-A</u>    | <u>4-D</u>       | <u>4-D</u>             | <u>4-A</u>         | <u>4-C</u>       | <u>4-A</u>         |
| <u>5-D</u>    | <u>5-C</u>       | <u>5-C</u>             | <u>5-A</u>         | <u>5-B</u>       | <u>5-C</u>         |
| <u>6-C</u>    | <u>6-B</u>       | <u>6-A</u>             | <u>6-C</u>         | <u>6-C</u>       | <u>6-D</u>         |
| <u>7-B</u>    | <u>7-C</u>       | <u>7-A</u>             | <u>7-B</u>         | <u>7-A</u>       | <u>7-A</u>         |
| <u>8-D</u>    | <u>8-D</u>       | <u>8-C</u>             | <u>8-D</u>         | <u>8-D</u>       | <u>8-A</u>         |
| <u>9-D</u>    | <u>9-A</u>       | <u>9-B</u>             | <u>9-C</u>         | <u>9-C</u>       | <u>9-D</u>         |
| <u>10-A</u>   | <u>10-B</u>      | <u>10-D</u>            | <u>10-B</u>        | <u>10-A</u>      | <u>10-D</u>        |
| <u>11-C</u>   | <u>11-A</u>      | <u>11-A</u>            | <u>11-C</u>        | <u>11-B</u>      | <u>11-C</u>        |
| <u>12-D</u>   | <u>12-B</u>      | <u>12-C</u>            | <u>12-C</u>        | <u>12-C</u>      | <u>12-D</u>        |
| <u>13-B</u>   | <u>13-D</u>      | <u>13-D</u>            | <u>13-C</u>        | <u>13-D</u>      | <u>13-D</u>        |
| <u>14-C</u>   | <u>14-C</u>      | <u>14-C</u>            | <u>14-A</u>        | <u>14-B</u>      | <u>14-C</u>        |
| <u>15-A</u>   | <u>15-A</u>      | <u>15-D</u>            | <u>15-D</u>        | <u>15-A</u>      | <u>15-D</u>        |
| <u>16-D</u>   | <u>16-B</u>      | <u>16-A</u>            | <u>16-D</u>        | <u>16-D</u>      | <u>16-D</u>        |
| <u>17-C</u>   | <u>17-A</u>      | <u>17-B</u>            | <u>17-D</u>        | <u>17-C</u>      | <u>17-A</u>        |
| <u>18-B</u>   | <u>18-D</u>      | <u>18-C</u>            | <u>18-B</u>        | <u>18-A</u>      | <u>18-D</u>        |
| <u>19-C</u>   | <u>19-B</u>      | <u>19-A</u>            | <u>19-C</u>        | <u>19-D</u>      | <u>19-C</u>        |
| <u>20-D</u>   | <u>20-C</u>      | <u>20-D</u>            | <u>20-A</u>        | <u>20-B</u>      | <u>20-D</u>        |

### Çalışmada Emegi Geçen Öğretmenlerimiz

Ortaokul Koordinatörü Sancaklar Ortaokulu Müdürü  
**Bekir YEŞİL**

Fatih Projesi İl Koordinatörü  
**Tarık IŞIKTAŞ**

Bilişim Öğretmeni  
**Ruşen BAŞARI**

Türkçe Öğretmeni  
**Vedat TATLI**  
**Ayşegül SIRMA**  
**Mustafa ÇIK**  
**AYDAN KÂHYALAR**  
**Kübra ÇELİK**

Matematik Öğretmeni  
**Mehmet EKİNCİ**

Sosyal Bilgiler Öğretmeni  
**Mehmet ÇABUK**

Fen Bilgisi Öğretmeni  
**Sibel DEMİR**  
**Süeda ULUDAĞ**  
**İlyas ÖZOĞLU**

İngilizce Öğretmeni  
**Soner GÜMÜŞ**

Din Kültürü Öğretmeni  
**Ferhat ÇİMENDAĞ**

Bu çalışma Siirt İl Milli Eğitim Müdürlüğü  
Öğretmenleri tarafından hazırlanmıştır. Emeklerinden dolayı teşekkür ederiz...