




HAYAT BİLGİSİ

1 - " Ülkemiz , toplumun ihtiyaçlarını karşılamak , devlet hizmetlerini hızlı bir şekilde götürebilmek amacıyla yerleşim birimlerine ayrılmıştır. Yurdumuzda " □ " tane il vardır. "

Yukarıdaki paragrafta " □ " yerine kaç yazılmalıdır ?

- A)  80
- B)  81
- C)  82

2 - " Öğretmenimiz Konya 'nın otuz bir tane ilçesinden bir olan Altınekin 'de dünyaya gelmiş. "



Konya ilinde kaç tane vali ve kaymakam görev yapmaktadır ?

- A) 1 vali 31 kaymakam
- B) 2 vali 32 kaymakam
- C) 31 vali 1 kaymakam

3 - Muhtar tarafından yönetilen yerleşim birimleri hangi seçenekte verilmiştir ?

- A) Mahalle ~ Köy
- B) Köy ~ Kasaba
- C) Kasaba ~ İlçe

- 4 - a - İncir
b - Kayısı
c - Şeftali
- 1 - Malatya
2 - Bursa
3 - Aydın

Yukarıda verilen iller ile o ilde yetişen meyvelerin eşleştirildiğinde hangisi doğru olur ?

- | A) | B) | C) |
|-------|-------|-------|
| 1 - a | 1 - b | 1 - b |
| 2 - b | 2 - c | 2 - a |
| 3 - c | 3 - a | 3 - c |

5 - Aşağıda bayrağımızla ilgili verilen bilgilerden hangisi yanlıştır ?

- A) Bayrağımızın üzerinde ay ve yıldız şekilleri vardır .
- B) Bayrağımız al rengini şehitlerimizin kanından almıştır.
- C) Bayrağımız kare şeklindedir.

6 - Köy ile ilgili verilen bilgilerden hangisi doğru değildir ?

- A) Köyde halkın geçim kaynağı tarım ve hayvancılıktır.
- B) Köyü yöneten muhtar , köyde yaşayan insanlar tarafından seçilir.
- C) Köyde yaşayan insan sayısı kasabada yaşayanlardan fazladır .

7 -



Yukarıdaki görselde , tarihi ve kültürel varlıklarımız arasında yer alan geleneksel Türk evlerinin günümüze kadar ayakta kalmış , Safranbolu Evleri görülmektedir. “

Safranbolu Evleri hangi ilimizdedir ?

- A) Ankara
- B) Karabük
- C) Samsun

8 -



Ülkemizde görülmesi gereken tarihi ve turistik yerlerin en önemlilerinden biri de “ Mevlana Müzesi ‘dir.”

Mevlana Müzesi hangi şehrimizde bulunmaktadır ?

- A) Konya
- B) Ankara
- C) İstanbul

9 - Aşağıdaki ifadelerden hangisi yanlıştır ?

- A) Ülkemize eğitim , çalışma ve savaş gibi nedenlerle çeşitli ülkelere göç etmiş insanlar vardır .
- B) Ülkemize göç eden insanlar bizim kültürel zenginliğimize bir katkıda bulunmazlar .
- C) Farklı kültürdeki insanlara karşı hoşgörülü olmalıyız .

HAYAT BİLGİSİ

- 10 - 1. Büyüklerin elleri öpülür.
2. Eş , dost ve akrabalar ziyaret edilir.
3. Cadde ve sokaklar bayraklarla süslenir .

Yukarıdakilerden hangisi ya da hangileri dini bayram kutlamalarıyla ilgilidir ?

- A) 1 - 2 B) 1 - 3
C) 1 - 2 - 3

11 - M. Kemal Atatürk 'ün doğum yeri ve ölüm yeri hangi seçenekte doğru verilmiştir ?

- A) Selanik ~ İstanbul
B) İstanbul ~ Samsun
B) Selanik ~ Ankara

12 - Aşağıdakilerden hangisi dini günlerimizden biridir ?

- A) 
B) 
C) 

13 - " Demokrasi ve Millî Birlik Günü " yılın hangi günü kutlanır ?

- A) B) C)



14 - " Mustafa Kemal , 19 Mayıs bin dokuz yüz on dokuzda , Bandırma Vapuru ile İstanbul 'dan Samsun 'a gitti . "

Atatürk 'ün Samsun 'a çıkmasıyla hangi savaş başlamıştır ?

- A) Çanakkale Savaşı
B) Birinci Dünya Savaşı
C) Kurtuluş Savaşı

15 - 23 Nisan bin dokuz yüz yirmide hangi tarihi olay gerçekleşmiştir ?

- A) Cumhuriyet ilan edilmiş .
B) Türkiye Büyük Millet Meclisi açılmış
C) Kurtuluş Savaşı kazanılmış.