


TEST - 1

1 -



Yukarıda verilen kurabiyelerin sayısının onluk ve birlik şeklinde gösterimi hangi seçenekte doğru verilmiştir ?

- A)

Onluk	Birlik
1	8

 B)


Onluk	Birlik
10	8
- C)

Onluk	Birlik
8	1




2 - 12 'den başlayarak ileriye doğru ikişer ritmik saydığımızda söyleyeceğimiz 8. sayı hangisi olur ?

- A) 16 B) 26 C) 28

3 -



Yukarıdaki yapboz parçasının eşi aşağıdakilerden hangisidir ?

- A)  B)  C) 

4 - 65 'ten başlayarak geriye doğru beşer ritmik saydığımızda söyleyeceğimiz 6. sayı hangisi olur ?

- A) 45 B) 40 C) 35

5 - Kalem kutumda toplam 20 tane kalemim var. Kalemlerimden 5 tanesi siyah , 3 tanesi kırmızı diğerleri boya kalemidir. Kalemliğimde kaç tane boya kalemi vardır ?

- A)

15

 B)

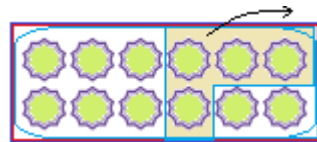
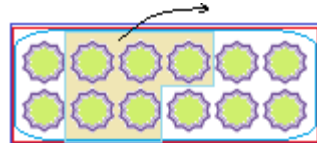
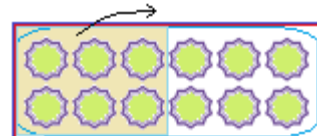
12

 C)

8

- A) B) C)

6 - Aşağıda modellenen çıkarma işlemlerinden hangisinin sonucu büyüktür ?

- A) 
- B) 
- C) 

TEST - 1

7 - Efe \rightarrow 3 ile 9 arasındaki en büyük rakamı seçiyor.

Mustafa \rightarrow 2 ile 8 arasındaki en küçük rakamı seçiyor.

Efe ile Mustafa seçtikleri rakamları kullanarak hangi sayıları yazabilirler ?

- A) 47 ~ 74 B) 78 ~ 87
A) 38 ~ 83

8 -



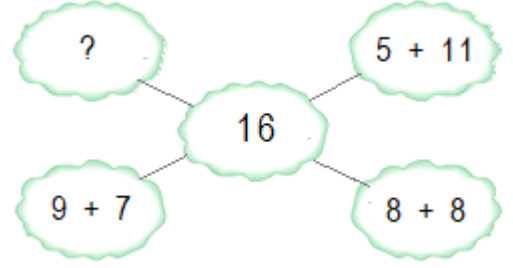
Kırtasiyeciyeye elindeki paraları veren Eslem, tanesi 1 TL olan balonlardan kaç tane

- A) B) C)

9 - Arda 13, İhsan 7 yaşındadır. Arda, İhsan'dan kaç yaş büyüktür ?

- A) B) C)

10 -



Yukarıdaki şemada toplamaları aynı sayılar verilmiştir. (?) yerine aşağıdakilerden hangisi yazılamaz ?

- A) 6 + 10 B) 12 + 4
C) 1 + 16

11 -

$$\begin{array}{r} 5 \\ + 3 \\ \hline \star \end{array} \quad \begin{array}{r} \star \\ + 4 \\ \hline \square \end{array}$$

Yukarıdaki ikili işlemlere göre,

$$\star + \square = ?$$

- A) B) C)

7 -

$$\boxed{?} + \begin{array}{|c|} \hline \text{5 green circles} \\ \hline \end{array} = \begin{array}{|c|} \hline \text{8 green circles} \\ \hline \end{array}$$

Yukarıdaki şemada verilmeyen toplanan kaçtır ?

- A) 20 B) 10 C) 6