

3. SINIF - EVDE EĞİTİM - MATEMATİK

- Doğal Sayıları Okuyalım Ve Yazalım -

Aşağıda tablo içinde verilen sayıların yanlarına okunuşlarını yazınız.

519	
268	
407	
980	
600	
333	
202	
757	
123	
987	
909	

Aşağıda tablo içinde okunuşları verilen doğal sayıları yanlarına yazınız.

Yüz seksen beş	
Sekiz yüz doksan yedi	
Beş yüz	
Üç yüz yetmiş dokuz	
Dört yüz kırk dört	
İki yüz doksan iki	
Yedi yüz	
Altı yüz altmış altı	
Yedi yüz doksan bir	
Beş yüz otuz	
Sekiz yüz elli	

Aşağıdaki her tablonun üzerinde verilen 3 rakamla oluşturulabilecek 3 basamaklı, rakamları farklı tüm sayıları ve okunuşlarını yazınız.

8 - 6 - 3	


9 - 5 - 4	

İstediğiniz 3 rakamı yazınız-....-....	


3. SINIF - EVDE EĞİTİM - MATEMATİK

- Ritmik Sayalım 1 -


Aşağıdaki elmaların içinde ileri doğru **altışar** ritmik sayalım.



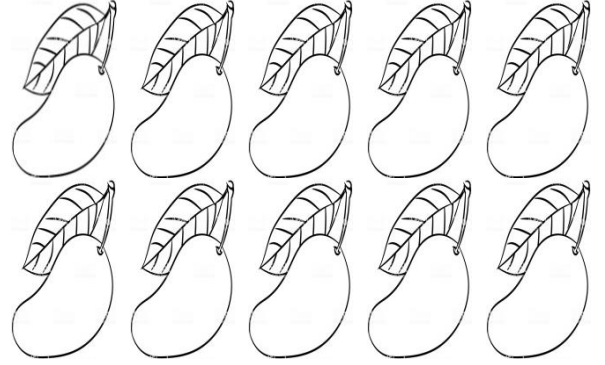
Aşağıdaki armutların içinde ileri doğru **yedişer** ritmik sayalım.



Aşağıdaki çileklerin içinde ileri doğru **sekizer** ritmik sayalım.



Aşağıdaki mangoların içinde ileri doğru **dokuzar** ritmik sayalım.



1.) İleri doğru yedişer ritmik saydığımızda 49'dan sonra hangi sayıyı söyleriz?

2.) İleri doğru sekizer ritmik saydığımızda 56'dan önce hangi sayıyı söyleriz?

3.) İleri doğru altışar ritmik saydığımızda 36'dan sonra hangi sayıyı söyleriz?

4.) İleri doğru dokuzar ritmik saydığımızda 72'den önce hangi sayıyı söyleriz?

5.) İleri doğru 563'ten başlayarak onar ritmik saymayı 4 adım ilerletiniz.

563

3. SINIF - EVDE EĞİTİM - MATEMATİK

- Ritmik Sayalım 2 -

Aşağıdaki ritmik saymayı ileriye doğru yüzer sayarak tamamlayınız.

452					
-----	--	--	--	--	--

Aşağıdaki ritmik saymayı ileriye doğru onar sayarak tamamlayınız.

836					
-----	--	--	--	--	--

1.) Aşağıda dokuzar ritmik saymalar verilmiştir. Yanlış yazılan sayının kutucuğunu boyayınız.

27	36	45	54	64	72
----	----	----	----	----	----

2.) Aşağıda altışar ritmik saymalar verilmiştir. Yanlış yazılan sayının kutucuğunu boyayınız.

12	18	24	30	36	41
----	----	----	----	----	----

3.) Aşağıda sekizer ritmik saymalar verilmiştir. Yanlış yazılan sayının kutucuğunu boyayınız.

24	32	42	48	56	64
----	----	----	----	----	----

4.) Aşağıda yedişer ritmik saymalar verilmiştir. Yanlış yazılan sayının kutucuğunu boyayınız.

35	42	47	56	62	70
----	----	----	----	----	----

5.) Aşağıda onar ritmik saymalar verilmiştir. Yanlış yazılan sayıyı yuvarlak içine alınız.

278 - 288 - 298 - 408 - 318 - 328

6.) Aşağıda yüzer ritmik saymalar verilmiştir. Yanlış yazılan sayıyı yuvarlak içine alınız.

345 - 445 - 545 - 645 - 745 - 945

7.) Ali aşağıdaki tabloya göre ilk adımda 8'in katı, ikinci adımda 6'nın katı, üçüncü adımda 9'un katı, dördüncü adımda 7'nin katı olan kutucuğu boyayacaktır.

1. adım	42	81	56
2. adım	35	48	32
3. adım	30	24	27
4. adım	49	48	18

Yukarıdaki bilgilere göre boyalı alanlar aşağıdakilerden hangisi olur?

