

Aşağıdaki doğru parçalarından hangisi verilen yol üzerinde yoktur?

- A. [NR] B. [LN]
C. [UZ]

1. doğru parçası a. 
2. ışın e. 
3. doğru d. 

Verilen geometrik kavramlar ile gösterimleri için aşağıdaki eşleştirmelerden hangisi doğrudur?

- A. 1-a, 2-d, 3-e
B. 1-e, 2-d, 3-a
C. 1-a, 2-e, 3-d

1. Bir noktadan geçen birçok doğru vardır.
2. Noktalar küçük harflerle gösterilir.
3. Farklı iki noktadan, yalnız bir doğru geçer.

Yukarıda verilen ifadelerden hangileri doğrudur?

- A. yalnız 3
B. 1 ve 2
C. 1 ve 3




4.



Verilen resim aşağıdaki kavramlardan hangisine modeldir?

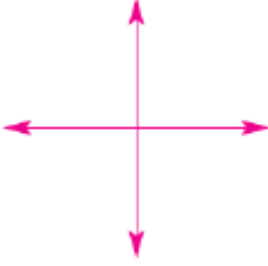
- A. doğru parçasına
B. doğruya
C. ışına

5. Aşağıdakilerden hangisi ışının çizgi modelidir?

- A. 
B. 
C. 

6. Aşağıdakilerden hangisinde eğik doğrular vardır?

A.



B.



C.



7. "Dik doğrular aynı zamanda doğrulardır." cümlesinde boş bırakılan yere hangi sözcük getirilebilir?

- A. kesişen
- B. yatay
- C. paralel

8. Aşağıdaki harflerden hangisinde yatay doğru modeli vardır?

- A. Ş
- B. R
- C. T



(Yukarıdaki harflere göre 9 ve 10. soruları yanıtlayın.)

9. Harflerden kaçında eğik doğru modeli kullanılmamıştır?

- A. 2
- B. 3
- C. 4

10. Aşağıdakilerden hangisi doğrudur?

- A. Harflerden ikisinde yatay doğru modeli vardır.
- B. Sesli harflerin tümünde eğik doğru modeli vardır.
- C. Harflerden sadece birinde doğru modeli bulunmaz.

11.



Aşağıdakilerden hangisinde verilen harfteki doğru modellerinin tümü vardır?

- A. dikey, yatay
- B. eğik, dikey
- C. yatay, eğik