

Beyaz Baston

Çok eski zamanlardan bu yana insanlar baston kullanmaktadır. Bastonların bir çok çeşidi vardır. Kullanım amaçları ise birbirinden farklıdır.

Bastonlardan en anlamlısı ise beyaz bastondur. Çünkü **beyaz baston** görme engelli arkadaşlarımız tarafından kullanılmaktadır.

Eğer bir kişi beyaz baston kullanıyorsa, o kişinin görme engelli olduğu anlamına gelir.

Beyaz bastonlar, görme engellilerin güvenliği için gündüz beyaz görünür, ancak fosforlu olduğu için gece de rahatlıkla fark edilir.

Ömer Uslu



➡ Yukarıdaki metinde adı geçen kelimeleri bulmacamızdan bulalım, yazalım.

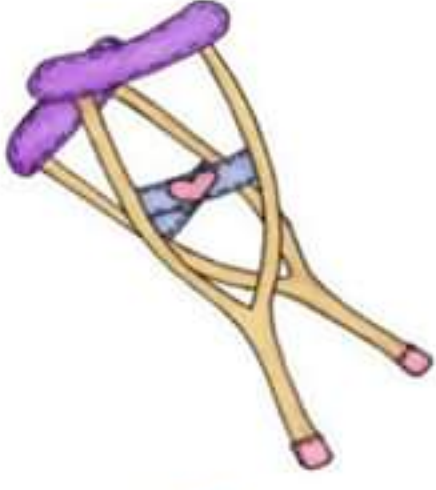
1. 2.
3. 4.
5. 6.
7. 8.
9. 10.

B	E	Y	A	Z	F	K	G
A	E	S	K	i	O	G	Ü
S	i	Ç	i	N	S	Ö	N
T	L	B	G	Z	F	R	D
O	A	i	E	Y	O	M	Ü
N	i	R	C	P	R	E	Z
E	N	G	E	L	L	i	Ç

Görselleri yorumlayalım.



Aşağıdaki görselleri dikkatle inceleyelim , cümle kuralım.



.....



.....



.....



.....



.....



.....



.....



TRAFİK KURALLARI

Yolumuzda yürürken,
Biraz dikkat edelim.
Ortaı bırakarak,
Kaldırımından gidelim.



Bütün arkadaşlarım,
Sizleredir sözümüz.

Arabalar gelirken,
Dört açılın gözünüz.



Kaldırımından geçerken,
Bir yandan öbür yana.
Dikkat edelim yolun,
Sağına ve soluna.



Hep dikkate bağlıdır,
Trafik kuralları.

Bizler için yapılmış,
Yaya kaldırımları.

Ali Sincer



1. Nereden gitmeliymişiz?

2. Sözü kimlereymiş?

3. Yolun neresine dikkat edelim?

4. Trafik kuralları neye bağlıymiş?

Şiirde geçen kelimeleri cümle içinde kullanalım.



H. Latif SARIYÜCE

Aşağıdaki verilen kelimelerin bize yaptığı çağrışımları yazalım.

anne	hediye	kucak	güzel	aile
1	1	1	1	1
2	2	2	2	2



VİRGÜL



Birbiri ardına sıralanan, eş görevli kelimeleri birbirinden **ayırmak** için kullanılır.

Örnek: Kırtasiyeden kalem, silgi, defter aldım.

Köye dayımlar, teyzemler, halamlar da gelmişti.



Aşağıdaki verilen cümlelere dikkat edelim okuyalım. Unutulan virgülleri kullanarak yeniden yazalım.



Dedem köyden yumurta peynir un getirdi.



Kahvaltıda süt bal zeytin ve tost vardı.



Ahmet Hasan Ayşe ve Cem parka gittiler.



Ece terbiyeli akıllı çalışkan bir öğrencidir.




Zeynep kalemini silgisini defterini almayı unutmuş.



Çiftlikte tavuk ördek inek ve koyun vardı.



Yazın Samsun'a Ankara'ya Bolu'ya gideceğiz.



Bir , iki, üç, dört ve beş evet biz tam beş kişilik çekirdek bir aileyiz. Benim adım Ahmet, balonu tutan benim. Bu hafta anneler günü. Hiç unutmam. Mayıs ayının ikinci Pazar günü anneler günüdür. Bu balonu anneme aldım. Annem çok mutlu oldu.

Benim tişörtümü maviye boya olur mu? Ablamın adı Tülin, onun saçlarını sarıya elbisesini pembeye boya. Babamın yanında olan abim Deniz'dir. Abimin saçlarını turuncuya, tişörtünü yeşile boya.

Annemin ve babamın adını sen tahmin et ve yaz. İstedğin gibi boya. Kalpleri kırmızıya , güneşi sarıya boya. Boyadıysan tamamdır. Şimdi kontrol et. (Ömer USLU)

Zıt Anlamalı Kelimeler

Aşağıdaki verilen kelimelerden zıt anlamalı olanları aynı renge boyayalım.

acı	tatlı	doğru	var	boş	yarım
ekşi	sıcak	eksik	yanlış	dolu	orta
iyi	tok	yaz	kış	ilk	yaş
aç	boş	sıcak	bahar	orta	son
ağır	zor	dolu	alçak	iyi	acı
hafif	tatlı	çukur	yüksek	kötü	hafif
zayıf	yakın	ince	uzun	dar	geniş
ağır	şişman	doğru	kalin	kalin	boş
yaş	kuru	bayat	kuru	ön	orta
sıcak	ılık	taze	sert	dar	arka
çirkin	kolay	hızlı	ön	açık	kapalı
güzel	erkek	yan	yavaş	kilitli	kırık
kalem	ağaç	gece	sabah	ileri	hızlı
yukarı	aşağı	öğlen	gündüz	geri	arka

Hayvanlar ve Yavruları

Hayvanların pek çoğu, insanlar gibi yavrularına bakar, onları besler, temizler ve tehlikelerden korur.

Tabi bazende onları taşımaları da gerekir. Şimdi bu hayvanlardan birkaçının yavrularını nasıl taşıdığına öğrenelim.



Penguenler yavrularını ayaklarının üzerinde taşır. Yavrularının düşmemesi için çok yavaş adımlar atarak ilerlerler. Yavru penguenler ayakları soğuk zemine değmediği için üşümezler.



Kanguruların karnında kesesi olur. Yavru kanguru doğar doğmaz bu kesenin içine girer. Anne kanguru yeterince büyüyene kadar yavrusunu bu kesenin içinde taşır ve sütüyle besler.



Anne aslanlar yavrularını bir yerden başka bir yere götürmek istediklerinde onları ağızlarıyla enselerinden tutup taşır. Ama merak etmeyin, annesi onu taşırken yavrusunun canını hiç yakmaz.



Koalalar yavrularını doğduktan sonra keselerine alırlar. Yavruların kolları yeterince güçlendiğinde keseden dışarı çıkar. Annelerinin sırtına çıkıp tüyelerine sıkıca tutunurlar.



Timsahlar, kumları açarak yumurtalardan yavruların çıkmasına yardım eder. Yumurtadan çıkan ince derili yavrular, büyük bir titizlikle tek tek annelerinin ağzında su kıyısına taşınır.

1. Hangi hayvan yavrusunu kesesinde saklamaz?

C) Panda

C) ayaklarıyla

C) ağızlarının
içinde

C) ayaklarından

C) yılan

C) 10


C) 5

C) 9

C) kertenkele

Kesme İşareti

9 Özel isimlerden sonra gelen ekler kesme(9) işareti ile ayrılarak yazılır. Doğru ayrılan özel isimleri sarıya boyayalım.



Aşağıdaki cümlelerin bazılarında yazım ve noktalama yanlışları yapılmış. Bu cümleleri düzelterek tekrar yazar mısın?



bugün halamlar bize gelecek ?



Her gün Kitap okuyoruz.



buğlem kahvaltını ne zaman yaptın ?



Annem Marketten peynir aldı.



yazları ailece Köye gidiyoruz ?



ahmetin kalemleri kayboldu ?



ankaranın başkentimiz olduğunu biliyorum.

BİLGİ KUŞU

Okula başlayınca,
Göklere erdi başım.
Bundan sonra kitaplar,
En güzel arkadaşım.

Hepsinin de bir başka,
Güzeldi isimleri.
Bana göz kırpiyordu,
Rengarenk resimleri.

Bütün seslerden yana,
Gelip oldu kelime.
Uçarak sayfalardan,
Bir kuş kondu dilime.

Önce şiir okudu.
Masal anlatı sonra.
Her satıra dizildi.
Bilgiler sıra sıra

El ele tutuşunca,
Mutluluk oldu tamam.
Sevgili kitaplarım,
Ben sizden ayrılamam.

Aşağıdaki boşlukları şiire göre verilen kelimelerle dolduralım.

kitaplar

rengarenk

şiir

masal

mutluluk


kelime

1. Bundan sonra en güzel arkadaşım dır.
2. Kitaplarda resimler vardır.
3. Sesler yan yana gelince olur.
4. Önce okudu, sonra anlattı.
5. El ele tutuşunca oldu.
6. Şiirin konusu nedir?
.....
7. Şiiri sen yazsaydın başlığı ne olurdu?
.....

Hece çalışması

Aşağıdaki kelimeleri hecelerine ayıralım. Kaç heceden oluştuklarını yazalım.

hediye	↔ ↔	he - di - ye	↔ ↔	3
yolculuk	↔ ↔	↔ ↔	
kürek	↔ ↔	↔ ↔	
kelimeler	↔ ↔	↔ ↔	
arasında	↔ ↔	↔ ↔	
uzaklarda	↔ ↔	↔ ↔	
kalemlik	↔ ↔	↔ ↔	
tuzluk	↔ ↔	↔ ↔	
spor	↔ ↔	↔ ↔	
misafirler	↔ ↔	↔ ↔	
makarna	↔ ↔	↔ ↔	
lokanta	↔ ↔	↔ ↔	
arkadaşım	↔ ↔	↔ ↔	





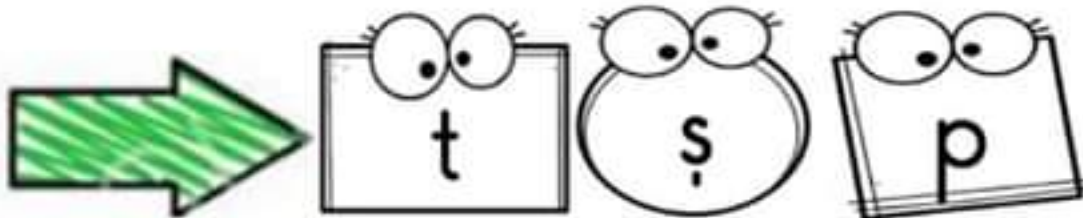


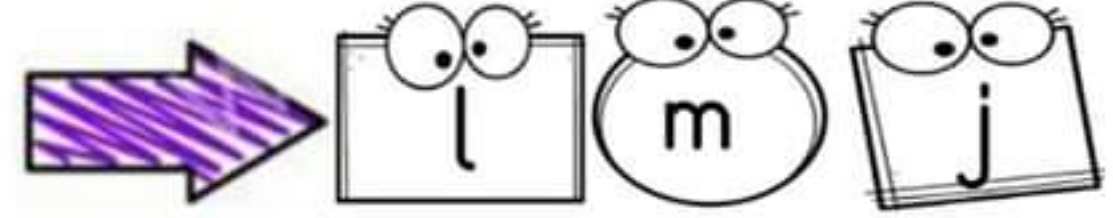





Harfleri Siralama


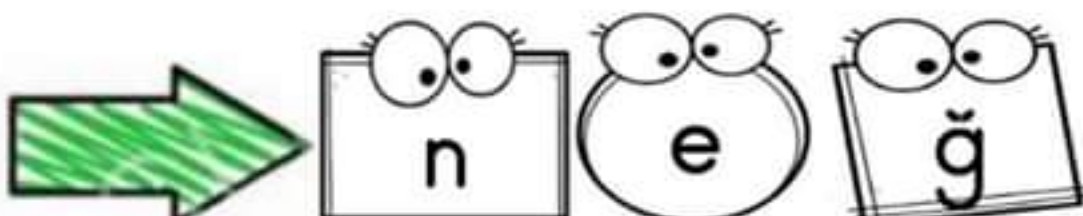
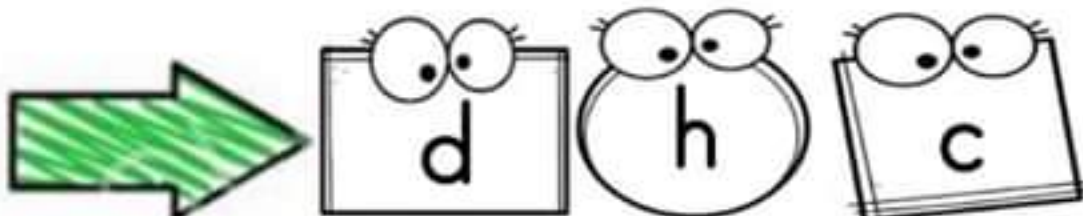

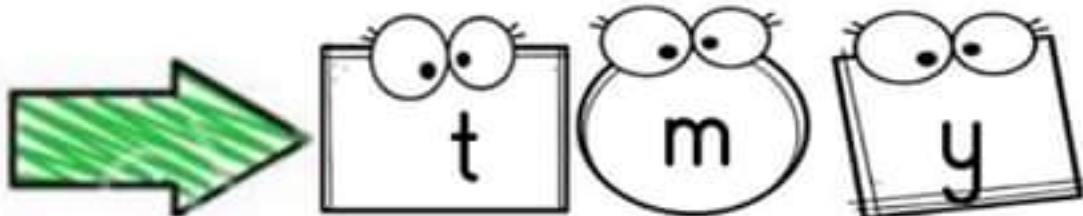
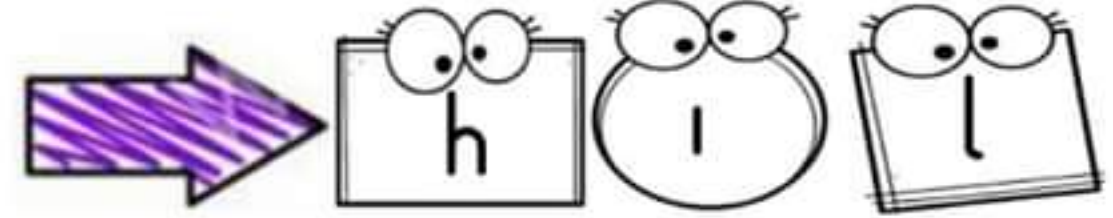

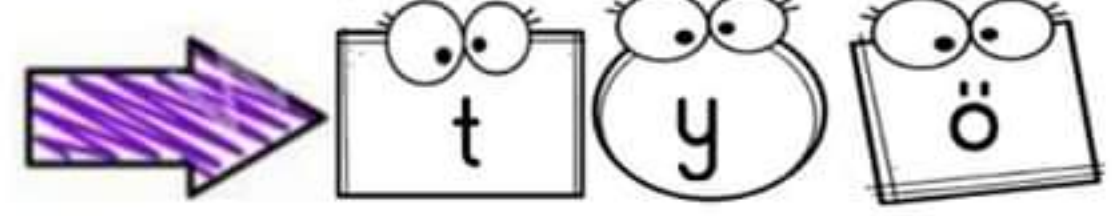

A B C Ç D E F G Ğ H I J K L M N O Ö P R S Ş T U Ü V Y Z



Sözlük sırasında önce gelen harfi boyayalım.



Sözlük sırasında sonda gelen harfi boyayalım.



Küçük kurbağa gölde yüzüyordu.

Küçük

1

kurbağa

2

gölde

3

yüzüyordu

4

→ Verilen cümlelerin kaç kelimeden oluştuğunu sayalım, yazalım.

→ Domates aslında bir meyvedir. ○

→ Bir narın içinde altı yüzden fazla tane bulunur. ○

→ Muz aslında bir meyve değil bir bitkidir. ○

→ Portakal ,cildin yaşlanmasını geciktirir. ○

→ Patlıcan, zeytin, bezelye, salatalık ve kabak meyvedir. ○

→ Lahana ve havuç neredeyse karpuz kadar su içerir. ○

→ Avokadonun yağ oranı diğer meyvelerden fazladır. ○

→ Yaban mersini gözlerimize iyi gelmektedir. ○

→ Mandalina kışın en popüler meyvesidir. ○

→ Çilek çekirdekleri dışarıda bulunan tek meyvedir. ○

→ Kırmızı renkli meyveler kalp sağlığına iyi gelmektedir. ○

→ Portakal göz sağlığınıza iyi gelmektedir. ○

→ Yeşil renkli meyveler kemik ve diş sağlığınıza korur. ○

→ Sebzelerin pişme suyu çorbalara, yemeklere eklenebilir. ○

→ Sebzeler ve meyveleri iyi yıkamalıyız. ○

Kurallı Cümle

Karışık yazılan kelimelerle kurallı cümle oluşturalım. Noktalama işaretlerini unutmayalım.

erkenden

dün

kalktım

sabah

a.

okuldan

servisi

çıkışta

kaçırdım

b.

kardeşimle

okuruz

kitap

düzenli

c.

gelmesiyle

baharın

ısındı

havalalar

ç.

gelmedi

arkadaşım

parka

bugün

d.

Ankara'ya

annem

yarın

gidecek

e.

dün

Ece

gördün mü

Ayşe'yi

f.

Veri Toplama - Tablo



Tabloları inceleyelim. Soruları cevaplayalım.

Tablo: Hayvanlar

Hayvanlar	Sayısı
	7
	3
	5
	4

1. Sayısı en az olan hayvan hangisidir?

2. Sayısı en fazla olan hayvan hangisidir?

3. Ördeklerle, ineklerin toplamı kaçtır?

4. Tavuklarla ve tavşanların toplamı kaçtır?

1. Araba ve uçakların toplamı kaçtır?

2. Oyuncak ayı ve bebeklerin toplamı kaçtır?

3. Uçak ve bebeklerin toplamı kaçtır?

4. Araba ve oyuncak ayının toplamı kaçtır?

Tablo: Hayvanlar

Oyuncaklar	Sayısı
	9
	4
	8
	7

Veri Toplama - Tablo

 Aşağıda verilen bilgiler doğrultusunda tabloyu dolduralım.

ALİ EYMEN'İN KİTAPLARI

Ali Eymen, 1. Sınıfa gidiyor. Ali Eymen'in evindeki kitaplığında 8 tane masal kitabı, 9 tane şiir kitabı, 5 tane tekerleme kitabı, 6 tane bilmece kitabı vardır.

Tablo: Kitap Türleri

Kitaplar	Sayısı
Masal	
Şiir	
Tekerleme	
Bilmece	

MEYVE ÇEŞİTLERİ

Annemin misafirlere hazırladığı meyve tabağında 14 tane portakal, 13 tane muz, 7 tane elma ve 6 tane mandalina var.

Tablo: Meyve Çeşitleri

Meyveler	Sayısı
portakal	
muz	
elma	
mandalina	

SEVİLEN RENKLER

1 C sınıfındaki öğrencilerden 5 tanesi sarı rengi, 10 tanesi pembe rengi, 12 tanesi kırmızı rengi, 15 tanesi de yeşil rengini sevmektedir.

Tablo: Sevilen Renkler

Renkler	Sayısı
sarı	
pembe	
kırmızı	
yeşil	

Veri Toplama - Tablo



Haftalık ders programını inceleyelim. Soruları cevaplayalım.

Haftalık Ders Programım

Pazartesi	Salı	Çarşamba	Perşembe	Cuma
Hayat Bilgisi	Hayat Bilgisi	Hayat Bilgisi	Hayat Bilgisi	Serbest Etkinlikler
Türkçe	Türkçe	Türkçe	Türkçe	Türkçe
Türkçe	Türkçe	Türkçe	Türkçe	Türkçe
Serbest Etkinlikler	Müzik	Serbest Etkinlikler	Serbest Etkinlikler	Görsel Sanatlar
Matematik	Matematik	Matematik	Matematik	Matematik
Beden Eğitimi ve Oyun	Beden Eğitimi ve Oyun	Beden Eğitimi ve Oyun	Beden Eğitimi ve Oyun	Beden Eğitimi ve Oyun



Haftanın ilk günü hangi dersler var? Yazalım.



Bir haftada kaç gün okula gideriz? Yazalım.



Serbest etkinlikler dersi hangi günler var? Yazalım.



Haftanın son günü hangi dersler var? Yazalım.

Veri Toplama - Tablo



Elif'in beslenme tablosunu inceleyelim. cevaplayalım



Elif'in Sınıf Beslenme Tablosu

Pazartesi	peynirli tost - zeytin - meyve suyu
Salı	domates - peynir - zeytin - süt
Çarşamba	poğaç - elma - ayran
Perşembe	yumurtalı sandviç - salatalık - süt
Cuma	patatesli börek - ceviz - ayran



Salı günü, Elif'in beslenme çantasında neler vardır?



Haftanın son günü, Elif'in beslenme çantasında neler vardır?



Hangi günler beslenmesinde süt yoktur?


































Hangi günler zeytin tüketmektedir?



Veri Toplama - Table

Mart Ayı Hava Durumu

Pazartesi	Salı	Çarşamba	Perşembe	Cuma	Cumartesi	Pazar
1 	2 	3 	4 	5 	6 	7 
8 	9 	10 	11 	12 	13 	14 
15 	16 	17 	18 	19 	20 	21 
22 	23 	24 	25 	26 	27 	28 
29 	30 	31 				

- ➡ Mart ayında salı günleri kaç gün kar yağışlıdır? Boyayalım.
- ➡ Mart ayında cuma günleri kaç gün bulutludur? Boyayalım.
- ➡ Mart ayında pazar günleri kaç gün yağmurludur? Boyayalım.
- ➡ Mart ayında pazartesi günleri kaç gün güneşlidir? Boyayalım.
- ➡ Mart ayında toplam kaç gün bulutludur? Boyayalım.
- ➡ Mart ayında toplam kaç gün kar yağışlıdır? Boyayalım.

Veri Toplama - Tablo

Tabloyu inceleyelim, soruları cevaplayalım.

Tablo: Sevilen Oyunlar

Oyunlar	Sayısı
Körebe	9
Saklambaç	6
Seksek	8
Yerden yüksek	7

En çok sevilen oyun hangisidir?

Körebe ve saklambaç sevenlerin toplamı kaç kişidir?

Seksek ve yerden yüksek sevenlerin toplamı kaç kişidir?

Körebe ve seksek sevenlerin toplamı kaç kişidir?

En az sevilen oyun hangisidir?

Tablo: Yaş Tablosu

Çocuklar	Yaşarı
Zeynep	7
Göktürk	10
Hakan	8
Gökçe	4

Yaşı en küçük olan çocuk kimdir?

Erkeklerin yaşları toplamı kaçtır?

Kızların yaşları toplamı kaçtır?

Göktürk, Zeynep'ten kaç yaş büyüktür?

Zeynep, Gökçe'den kaç yaş büyüktür?

Veri Toplama - Tablo

Tabloyu inceleyelim, soruları yanıtlayarak dolduralım.

Tablo: Bahçedeki Ağaçlar

Ağaçlar	Sayısı
Elma	6
Kayısı
Armut
Kiraz

Tablo: Sevilen Sporlar

Sporlar	Sayıları
Futbol
Basketbol	8
Yüzme
Koşu

Kayısı ağaçları, elma ağaçlarından 5 fazladır.

Futbolu sevenler, basketbolu sevenlerden 3 kişi fazladır?

Armut ağaçları, kayısı ağaçlarından 2 tane daha azdır.

Yüzmeyi sevenler , futbolu sevenlerden 5 kişi azdır.

Kiraz ağaçları, armut ağaçlarından 5 fazladır.

Koşuyu sevenler, yüzmeyi sevenlerden 6 kişi fazladır.

Elma ağaçları ile armut ağaçlarının toplamı kaçtır?





En çok sevilen spor hangisidir?

Bahçedeki en fazla ağaç hangisidir?

En çok ve en az sevilen sporların farkı kaçtır?



Tablo:

MEYVELER	SAYILARI
Elma	
Armut	
Muz	
Karpuz	

1. Armut ve muzların toplamı kaçtır?

[illegible]

2. Muz ve karpuzların toplamı kaçtır?

[illegible]

3. Elmalar , muzlardan kaç tane kaç fazladır?

[illegible]

4. Armut ve karpuzların toplamı kaçtır?

[illegible]

➔ Problemleri çözelim. Doğru yanıtı ait yuvarlağı boyayalım.

1. Ela'nın 7 tokası vardır. Annesi 5, ablası 4 toka verirse Ela'nın toplam kaç tokası olur?

Çözüm:



2. Bir pazarcının 17 kavunu vardı. Sabah 7 tanesini, akşam 6 tanesini sattı. Pazarcının kaç kavunu kaldı?

Çözüm:



3. 8 yumurtamız vardı. 4 yumurta ablam, 6 yumurtada ablam alırsa, toplam kaç yumurtamız olur?

Çözüm:



4. Aybüké'nin 18 sayfalık kitabı vardı. Sabah 9 sayfasını, akşam 4 sayfasını okudu. Okumadığı kaç sayfası kaldı?

Çözüm:



5. Rüya'nın 19 cevizi vardı. Cevizlerinin 7 tanesini yedi. 3 tanesini kardeşine verdi. Rüya'nın kaç cevizi kaldı?

Çözüm:



Problem mi var?

6. Ayşe 11 yaşındadır. Kardeşi, Ayşe'den 4 yaş küçüktür. İkisinin yaşları toplamı kaçtır ?

Çözüm:



7. Dolabımızda 7 elma, elma sayılarından 3 fazla da erik vardır. Dolabımızda toplam kaç meyve vardır?

Çözüm:



8. Ali'nin 8 lirası var. Ablasının parası, Ali'nin parasından 2 lira azdır. İkisinin toplam kaç lirası var?

Çözüm:



9. 13 sayısının 6 fazlasının 9 eksiği kaç yapar?

Çözüm:



10. Kümeste 6 tavuğumuz var. Ördeklerimiz tavuklardan 4 fazladır. Kümeste toplam kaç hayvanımız var?

Çözüm:



ÇEVREMİZDEKİ CANLILAR

Aşağıdaki hayvanların isimlerini yazalım.



.....



.....



.....



.....




.....



.....



.....



.....



.....



.....



.....



.....



.....



.....



.....



.....



.....



.....



.....




.....

Çevremizdeki Hayvanlar



Çevremizde birçok hayvan vardır. Hayvanlar da bizim gibi doğanın parçasıdır. Bunun için hayvanlara ve yaşam alanlarına gereken özeni göstermemizi gerekir.



Balıklar: Deniz, göl ve akarsularda yüzerek yaşarlar. Balık çiftliklerindedeyetıştırıcılıkleri yapılmaktadır. Sazan, yayın, alabalık, hamsi, istavrit aklımıza gelen türleridir.



Kuşlar: Ülkemiz kuş çeşidi olarak çok zengin bir ülkedir. Kuşlar kanatları sayesinde uçarak yaşarlar. Kuşlar yuvalarını çatılara, ağaçlara yaparlar. Çevremizde görebileceğimiz kuşlardan bazıları martı, güvercin, serçe, leylek, karga, kırlangıç olarak sayabilir. Tavuk, deve kuşu ve penguende bir kuştur ama uçamazlar.



Sürüngenler: Solucan, kertenkele, kaplumbağa, timsah ve yılan gibi hayvanlara sürüngen hayvanlar denir. Bunların çoğu yerin altında yaşar.



Böcekler: Karınca, örümcek, çekirge, arı, uğur böceği, kelebek, ateş böceği gibi birçok böcek türü yaşadığımız çevremizde bulunmaktadır.

Çevremizdeki Hayvanlar



Evcil Hayvanlar: Etinden sütünden, yumurtasından, yününden gücünden yararlanmak amacıyla yetiştirdiğimiz hayvanlardır.

İnek, koyun, keçi, at, eşek, tavuk, horoz, hindi, at, tavşan, kedi, köpek ve bal arısı bildiğimiz evcil hayvanlardır. Evcil hayvanların beslenme ve barınmaları insanlar tarafından sağlanır.

Evcil Hayvanlar ne yer, nerede yaşar?

➡ İnek, koyun, keçi, at ve eşek; ot, saman ve yem ile beslenir.

➡ Kedi ve köpeklere evde pişen yemeklerden, süt ve mama gibi besinleri veririz.

➡ Tavuk, horoz, hindi gibi kümes hayvanları arpa, buğday, mısır ile yemlenir.

➡ Tavşanlar ot ile arılar ise çiçeklerle beslenir.



İnek, at ve eşek ahırda yaşar.



Tavuk, horoz, hindi ve tavşanların yaşadığı yer kümedir.



Köpeklerin barındığı yere kulübe denir.










Arıların yaşadığı yere kovan denir.



Koyun ve keçi ağılda yaşar.

NE YEMELİYİM?



Doğru mu?


Görselleri verilen hayvanlarla ilgili doğru bilgileri işaretleyelim.



<input type="checkbox"/>	Yuvada barınır.
<input type="checkbox"/>	Yem, sebze yer
<input type="checkbox"/>	Kanatları sayesinde uçar.
<input type="checkbox"/>	Karga, serçe, güvercin kuş türüdür.



<input type="checkbox"/>	Böcek türüdür.
<input type="checkbox"/>	Bir sürüngen türüdür.
<input type="checkbox"/>	Kulübede barınır.
<input type="checkbox"/>	Kaplumbağa, kertenkele bir sürüngen türüdür.



<input type="checkbox"/>	Evcil bir hayvandır.
<input type="checkbox"/>	Kümede barınır.
<input type="checkbox"/>	Horoz, tavşan, ördek, hindi kümes hayvanıdır.
<input type="checkbox"/>	Kelebek, karınca, çekirge bir böcek türüdür.




<input type="checkbox"/>	Böcek türüdür.
<input type="checkbox"/>	Kovanda barınır.
<input type="checkbox"/>	Çiçeklerle beslenir.
<input type="checkbox"/>	Kelebek, karınca, çekirge bir böcek türüdür.



<input type="checkbox"/>	Sütünden, etinden, derisinden faydalanırız.
<input type="checkbox"/>	Saman, yem ve ot yer.
<input type="checkbox"/>	Evcil bir hayvandır.
<input type="checkbox"/>	Ahırda barınır.

Hayvanların Barınakları

Hayvan dostlarımızı yuvaları ile eşleştirelim



Yandaki görsele göre cevaplayalım.

1 . Kümeste yaşayan hayvanları yazalım.

2 . Ahırda yaşayan hayvanları yazalım.

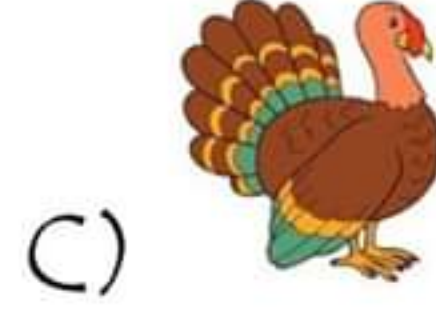
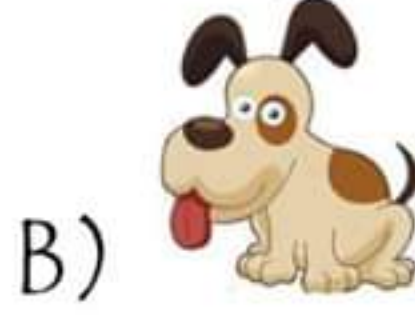

3 . Ağilda yaşayan hayvanları yazalım.

4 . Yuvada yaşayan hayvanları yazalım.

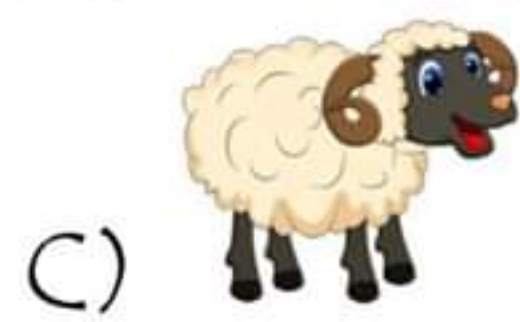
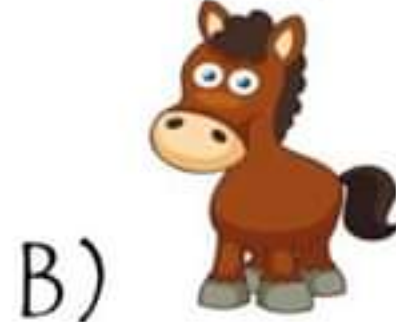

5 . Kulübede yaşayan hayvanları yazalım.



1. Aşağıdaki hayvanlardan hangisi kümeste yaşamaz?



2. Aşağıdaki hayvanlardan hangisinin barındığı yer ahır değildir?



3. Karınca ,örümcek, çekirge, kelebek, uğur böceği gibi hayvanlar hangi hayvan türü arasındadır?

A) sürüngenler

B) balıklar

C) kuşlar

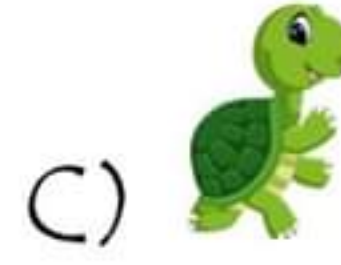
4. Tavuk, hindi gibi kümes hayvanları ne ile beslenir?

A) arpa-buğday-mısır

B) et

C) süt ve mama

5. Hangi hayvan sürüngen değildir?



6. Aşağıdaki hayvanlardan hangisini evimizde beslersek tehlikeli olur?

A) köpek

B) tavşan

C) yılan

7. "İnsanlar tarafından etinden, sütünden, gücünden faydalanmak için beslenen hayvanlara ne ad verilir?

A) evcil hayvanlar

B) yabani hayvanlar

C) Bitkiler

8. Arıların yaşadığı yere ne ad veriyoruz?

A) kulübe

B) yuva

C) kovan

Benim Renklerim




Benim Renklerim



Benim Renklerim



Sayalım, Boyayalım



Sayalım, Boyayalım

