

## ZEYNEP

Zeynep kitap okumayı çok seviyordu. Evdeki tüm kitapları okumuştur. Eline yeni bir kitap geçince heyecanlanıyordu. Kitap okumak, kelime haznesini geliştiriyordu. Yeni bilgiler öğrenmek, Zeynep'i çok mutlu ediyordu. Çevresindeki tüm insanlara kitap okumaları gerektiğini anlatıyordu.



1. ve 2. soruları metne göre cevaplayalım.

1. Zeynep ne yapmayı çok seviyordu?

- A. Kitap okumayı
- B. Dans etmeyi
- C. Ders çalışmayı

2. Kitap okumak neyi geliştiriyordu?

- A. Dilini
- B. Kelime haznesini
- C. Zihnini

3. Aşağıdaki kelimelerden hangisi tek hecelidir?

- A. ayı
- B. kel
- C. asi

4.



Yukarıdaki hecelerle hangi sözcük yazılamaz?

- A. saat
- B. atkı
- C. yıka


5. Özge öğretmen, öğrencilerinden bir etkinlik hazırlamalarını istedi. Etkinliğin konusu uçan hayvanlardı.

Öğrenciler aşağıdaki etkinliklerden hangisini yapmış olamaz?



Soruya Gel!

6.



Görselde “?” yerine aşağıdaki-  
lerden hangisi gelmelidir?



7. “Kitap” sözcüğünün bütün  
harflerini birer kez kullanarak  
hangi sözcük oluşturulabilir?

A. pak

B. takip

C. paket

8. Bahçeye indik

Ahmet ile

Evin yanındaki

Yukarıdakilerden hangisi cüm-  
ledir?

A.

B.

C.

9. Satır sonuna sığmayan kelime-  
lerden hangisinde yanlışlık yapılmıştır?

A. 

ke-
lime


B. 

küt-
üphane

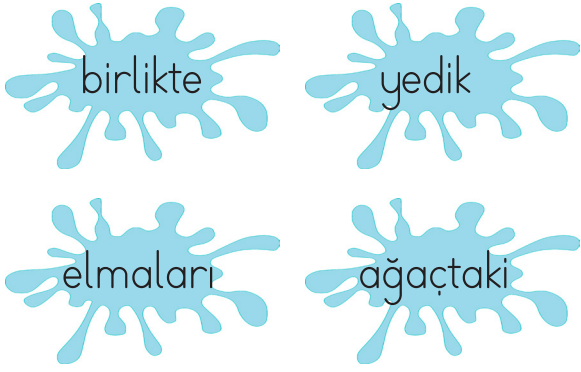
C. 

de-
ğirmen

10. Yaz mevsimini çok seviyorum.  
Aşağıdaki resimlerden hangi-  
sinin zıt anlamlısı yukarıdaki  
cümlede verilmiştir?



11.



Yukarıdaki sözcüklerle kurulan anlamlı ve kurallı cümle hangisidir?

- A. Ağaçtaki elmaları birlikte yedik.
- B. Ağaçtaki elmaları yedik birlikte
- C. Yedik ağaçtaki elmaları birlikte

12. Akşam babamla sinemaya gideceğiz.

Yukarıdaki cümlede hangi sorunun cevabı yoktur?


- A. Nereye?
- B. Ne zaman?
- C. Kim?

13. Kirpiti nasıl yakmamız gerektiği konusunda pılan yaptık.

Altı çizili sözcüklerin doğru yazılışı hangi seçenekte doğru verilmiştir?

- A. Kibrit – plan
- B. Kirbit – pılan
- C. Kirbit – plan

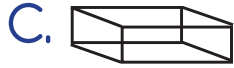
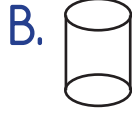
14. Aşağıdaki görselleri alfabetik sıraya göre sıralarsak en baştaki görsel hangisi olur?



15. Aşağıdaki cümlelerden hangisinde virgül yanlış kullanılmıştır?

- A. Annem, ve babam uyuyor.
- B. Pazardan erik, elma aldım.
- C. Ali, Sinan ve Işıl bize geldi.

1. Yan taraftaki nesne aşağıdaki geometrik cisimlerden hangisine benzemektedir?




2. Aşağıdaki nesnelerden hangisinin köşesi yoktur?



3. Hangi şeklin tüm kenar uzunlukları eşittir?

- A. Çember  
B. Kare  
C. Üçgen

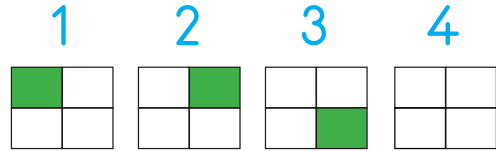
4.



Yukarıdaki nesne için hangisi yanlıştır?

- A. Köşeleri vardır.  
B. Şekli kullanarak kare çizilebilir.  
C. Şekli kullanarak yuvarlak çizilebilir.

5.






Yukarıdaki şekiller belli bir sıraya göre dizilmiştir. 4. şeklin boyalı hali hangisidir?







Yukarıdaki örüntüyü devam ettirirsek noktalı yere sırasıyla hangi şekiller gelir?




- A.  B.   
C. 

Soruya Gel!



Öğretmeni, Hakan'dan "1 mor çiçek, 1 sarı çiçek, 1 kırmızı çiçek" örüntüsünü oluşturmalarını istiyor. Hakan örüntüde iki çiçeğin yerini karıştırıyor.

Hakan hangi çiçeklerin yerlerini değiştirirse hatayı düzeltmiş olur?

- A.   
B.   
C. 

13. İpek, ablasıyla kıyafet almak için mağazaya gitti. Görevli, istediği kıyafetin 4 gün sonra geleceğini söyledi.

İpek mağazaya salı günü gittiğine göre kıyafet mağazaya ne zaman gelecektir?

- A. Cuma  
B. Cumartesi  
C. Pazar

14. Aşağıdakilerden hangisinde kış mevsimi ayları verilmiştir?

- A. Aralık - Ocak - Şubat  
B. Nisan - Mayıs - Haziran  
C. Şubat - Mart - Nisan



Ali yukarıdaki bilyeleri, toplamaları 10 olacak şekilde ikili eşleştiriyor.

Bu işlem sonucunda kaç bilyeyi eşleştirmemiştir?

- A. 2 B. 4 C. 6

1. Bayramlarda en çok yaşanan duygu aşağıdakilerden hangisidir?

- A. Öfke
- B. Kıskançlık
- C. Mutluluk

2. Aşağıdakilerden hangisi insanların başka ülkelere göç etmesinin nedenlerinden biri değildir?

- A. Eğitim
- B. Daha iyi koşullarda yaşamama isteği
- C. Boş zamanlarını değerlendirmek

3. ...., Türkiye Cumhuriyeti'nin kurucusudur.

Yukarıda boş bırakılan yere hangisi gelmelidir?

- A. Mehmet Akif Ersoy
- B. Mustafa Kemal Atatürk
- C. Kanuni Sultan Süleyman

4. Korkma, sönmez bu şafaklarda yüzen al sancak;  
Sönmeden yurdumun üstünde tüten en son ocak.  
○ benim milletimin yıldızıdır, parlayacak;  
○ benimdir, o benim milletimindir ancak.

Yukarıdaki dördlük hangi şairimiz tarafından yazılmıştır?

- A. İsmet İnönü
- B. Mustafa Kemal Atatürk
- C. Mehmet Akif Ersoy

5.



Yukarıdaki görselde Sinem'in masasında bulunan ne modelidir?

- A. Ülke modeli
- B. Dünya modeli
- C. Kıta modeli



6. Furkan hafta sonu ailesiyle tertemiz bir derenin , yemyeşil ağaçların ve eski evlerin bulunduğu bir alana gidiyor. Gittiği yerde, oranın yöneticisi olan kişiyle karşılaşıyor. Karşılaştığı kişinin muhtar olduğunu sonradan anlıyor.  
Furkan'ın gittiği yer hangisidir?

A. İl B. İlçe C. Köy

7. Ülkemize göç etmiş insanlara nasıl davranmalıyız?

A. Hoşgörülü  
B. Agresif  
C. Kıskanç

8. Aşağıdaki şehirlerden hangisi mantısı ile ünlüdür?

A. Adana  
B. Kayseri  
C. İstanbul

9.



Öğretmeni, Sibel'e yukarıdaki görselden bir yer gösteriyor. Gösterdiği yerin hangi ülke olduğunu soruyor.

Sibel aşağıdaki cevaplardan hangisini verirse doğru cevap vermiş olur?

A. İstanbul  
B. Almanya  
C. Türkiye

10. Aşağıdakilerden hangisi ülkemizde yaşayan farklı kültürdeki insanlar arasındaki benzer yönlerdendir?

A. Geleneksel kıyafetler  
B. Konuşulan dil  
C. Temel ihtiyaçlar



## TÜRKÇE

- |       |       |
|-------|-------|
| 1) A  | 11) A |
| 2) B  | 12) C |
| 3) B  | 13) A |
| 4) C  | 14) C |
| 5) A  | 15) A |
| 6) C  |       |
| 7) B  |       |
| 8) A  |       |
| 9) B  |       |
| 10) A |       |

## MATEMATİK

- |       |       |
|-------|-------|
| 1) B  | 11) C |
| 2) C  | 12) C |
| 3) B  | 13) B |
| 4) C  | 14) A |
| 5) B  | 15) A |
| 6) C  |       |
| 7) B  |       |
| 8) C  |       |
| 9) B  |       |
| 10) A |       |

## HAYAT BİLGİSİ

- 1) C
- 2) C
- 3) B
- 4) C
- 5) B
- 6) C
- 7) A
- 8) B
- 9) C
- 10) C