

# İLKOKUL 4.SINIF

**HAFTALIK EV ÖDEVİ**  
**11-15 Mayıs**



SIİRT İL MİLLÎ EĞİTİM MÜDÜRLÜĞÜ  
2020

1. Aşağıdaki sözcüklerden hangisi çokluk eki "-lar" almamıştır?

- A) çiçekler B) pastalar  
C) eller D) dolar

### ATATÜRK'Ü SEVMEK

Çağdaşlığı istiyorsan,  
İnsanları seviyorsan,  
Bitsin cehalet diyorsan,  
Atatürk'ü seviyorsun.

2 ve 3 soruları şiire göre cevaplayınız?

2. Yukarıdaki şiirin konusu nedir?

- A) Çağdaşlığı yok etme  
B) Cehaletle savaşma  
C) Atatürk'ü sevmenin amacı  
D) İnsanları sevmek

3. Şiirde geçen türemiş sözcük hangisidir?

- A) çağdaşlığı B) insanları  
C) cehalet D) Atatürk

4) "**perde – kostüm – makyaj**" bu terimler aşağıdaki hangi meslek veya alanlarla ilgilidir?

- A) Kuaför B) Tiyatro  
C) Konfeksiyon D) Spor

5) "**Kaya**" sözcüğü aşağıdaki cümlelerden hangisinde özel isim olarak kullanılmıştır?

- A) Kaya tuzu çok faydalıdır.  
B) Kaya, okuma yarışmasında birinci oldu.  
C) Kayalardan gelen su buz gibiydi.  
D) Yola büyük kaya parçaları düşmüş.

6. Aşağıdaki sözcük çiftlerinden hangisinin eş anlamlısı yanlış verilmiştir.

- A) evren - kainat B) çaba-gayret  
C) cömert-cimri D) güç-kuvvet

7) "**siyah-dolu-çirkin-beyaz-güzel-dar-boş**"

Yukarıdaki karışık olarak verilen sözcüklerden hangisinin zıt anlamlısı verilmemiştir?

- A) beyaz B) güzel  
C) boş D) dar

8. Aşağıdaki cümlelerden hangisi nesnel (kişiye göre değişmeyen) bir cümledir?

- A) En güzel sanat dalı tiyatrodur.  
B) İlkbahar en sevilen mevsimdir.  
C) Onlar benden çok sana inanırlar.  
D) Atatürk 1881' de doğdu.

9. Aşağıdaki cümlelerden hangisi öznel bir cümledir?

- A) Ankara 1923'ten beri Türkiye'nin başkentidir.  
B) Ocak ayı kış mevsiminin bir ayıdır.  
C) Havanın sıcaklığı beni bunaltıyor.  
D) Rize, Karadeniz Bölgesi'nin en yağışlı ilidir.

**10. Aşağıdaki cümlelerin hangisinde neden- sonuç ilişkisi yoktur?**

- A) Annem gelirse yemek yiyeceğiz.
- B) Ateş yakamadıkları için üşümüşler.
- C) Kaza olduğu için yol kapalıydı.
- D) Geç kalktığı için işe gidemedi.

11. 1.olabilirsiniz  
2.bakan  
3.fakat sanatçı  
4.hatta cumhurbaşkanı  
5.olamazsınız  
6.hepiniz milletvekili

**Yukarıdaki sözcük ve söz gruplarından anlamlı ve kurallı bir cümle oluşturulduğunda sıralama nasıl olur?**

- A) 4-6-2-3-1-5
- B) 2-3-1-5-6-4
- C) 6-2-4-1-3-5
- D) 5-3-6-1-2-4

**12. "Öğrenci kimlik kartımı bugün..... yarın verecekler." Tümcesinde boşluğa aşağıdakilerden hangisini yazılması uygun olur?**

- A) ama
- B) fakat
- C) veya
- D) ancak

**13. "Bir gece İstanbulda Atatürk'ün şehir tiyatrosuna geleceği, Dolmabahçe'den haber verildi." Tümcesinde hangi sözcüğün yazımı yanlıştır?**

- A) tiyatrosunda
- B) İstanbulda
- C) Dolmabahçe'den
- D) Atatürk'ün

**14. "Buz" sözcüğü, hangi cümlede farklı bir anlamda kullanılmıştır?**

- A) Dolapta hiç buz kalmamış.
- B) Çatıdan sarkan buzlara dikkat edin.
- C) Aralarındaki buzlar erimiş ki, birlikte yürüyorlar.
- D) Yollar buz tutunca kazalar artıyor.

**15. Aşağıdakilerin hangisinde sözcükler arasındaki anlam ilişkisi diğerlerinden farklıdır?**

- A) yukarı-aşağı
- B) hasret-özlem
- C) açık-kapalı
- D) تنها-kalabalık

"Köyün sokakları bomboştu. Üstelik köyde elektrik olmadığından, her yer kapkaranlıktı. Göz gözü görmüyordu. Lambamızın ışığı ile aydınlanarak köyü geçtik. Şimdi dağın yanından geçen dar patikaya çıkmıştık. Kar, alabildiğine yağıyordu. Ben, Ümit'in elini tutmuştum. Diğer elimle babamın paltosuna tutunarak yürümeye çalışıyordum. Çevremizde, rüzgârın uğultusundan başka bir ses duyulmuyordu. Bir süre sessizce yürüdük."

**(16, 17, 18, 19 ve 20. soruları bu parçaya göre cevaplandırınız.)**

**16. Parçada anlatılan yürüyüş hangi mevsimde ve ne zaman yapılmış?**

- A) Kış mevsiminde, sabahın ilk ışıklarında
- B) Sonbahar mevsiminde, gecenin bir vaktinde
- C) Kış mevsiminde, gecenin bir vaktinde
- D) Sonbahar mevsiminde, öğleye doğru

**17. Yürüyenler kaç kişiymiş, bunlar kimlermiş?**

- A) İki kişilermiş, ben ve Ümit
- B) Dört kişilermiş, ben, Ümit, babam ve köy muhtarı
- C) Üç kişilermiş, ben, Ümit ve babam
- D) İki kişilermiş, yazar ve babası

**18. Köyde her yer niçin karanlıkmiş?**

- A) Köyde elektrik olmadığından
- B) Köy sakinleri elektrik istemediğinden
- C) Geceleyin gökyüzünde ay olmadığından
- D) Kış olduğu için her yer karanlıkmiş

**19. Yürüyenler, yollarını ne ile aydınlatıyormuş?**

- A) Cep telefonun ışığı ile
- B) Baba ikide bir çakmak yakarak
- C) Ellerinde bulunan el feneri ile
- D) Lambanın ışığı ile

**20. Yürürken duydukları ses neymiş?**

- A) Uğultu sesleri
- B) Köpek sesleri
- C) Kurt sesleri
- D) Düşman sesleri

1. “700000 + 2000 + 90” şeklinde çözümlenmiş doğal sayı hangisidir?

- A) 729 B) 70 290  
C) 72 090 D) 702 090

2. 0, 3, 4, 7

Yukarıdaki rakamlar birer kez kullanılarak oluşan en küçük dört basamaklı sayı kaçtır?

- A) 3047 B) 3470  
C) 3407 D) 3074

3. Aşağıdaki işlemde  $\blacklozenge + \bullet + \blacktriangle$  kaçtır?

	5	0	$\blacklozenge$	7
+	3	9	8	$\bullet$
	$\blacktriangle$	0	7	0

- A) 18 B) 19  
C) 20 D) 21

FİYAT LİSTESİ	
Cinsi	Fiyatı
Defter	4 TL
Kalem	2 TL
Silgi	100 Kr

4 ve 5. Soruları yandaki tabloya göre cevaplayınız.

4. Kadir 'in 78 TL'si vardı. 4 defter, 2 silgi ve defterlerin sayısının 3 katı kadar kalem aldı. Kadir 3 TL ile beslenme yaptığına göre kaç TL'si kalmıştır?

- A) 45 B) 42  
C) 33 D) 30

5. 9 deftere verilen para ile kaç tane kalem alınabilir?

- A) 14 B) 16  
C) 17 D) 18

6. Aşağıdaki işlemde eksilen ve çıkanı en yakın yüzlüğe yuvarladığınızda tahmini ve gerçek sonuçlar arasındaki fark kaçtır?

	7	0	2	7
-	3	8	7	4

- A) 48 B) 50  
C) 53 D) 55

7.

Son Kampanya ... !!!  
350 TL Peşin, 5 ay 125 TL Taksit

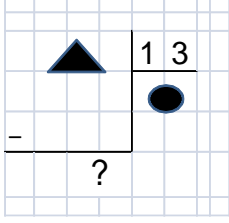


Yandaki koltuğun toplam fiyatı kaç TL'dir?

- A) 975 B) 950  
C) 925 D) 900



8.



Yandaki işlemde kalan en fazla olur?

- A) 14 B) 13  
C) 12 D) 0

9. 56 sayısının 8 katının 22 eksiği kaçtır?

- A) 426 B) 450  
C) 470 D) 475

10. Saatte 85 km giden bir taşıtın 7 saatte alacağı yol, saatte 110 km yol alan taşıtın 3 saatte alacağı yoldan kaç km fazladır?

- A) 595 B) 330  
C) 295 D) 265

11. Aşağıdaki bölme işlemlerinden hangisinde bölüm üç basamaklıdır?

- A)  $265 \div 5$  B)  $320 \div 4$   
C)  $612 \div 4$  D)  $300 \div 8$

12)  $ABAB \div AB$

işleminin sonucu kaçtır?

- A) 111 B) 101  
C) 100 D) 11

13. Üç kazağa 126 TL ödeyen bir müşteri 5 kazak satın alırsa kaç TL öder?

- A) 42 B) 200  
C) 210 D) 205

14.  $\frac{5}{9}, \frac{3}{9}, \frac{7}{9}, \frac{1}{9}$  kesirlerini büyükten

küçüğe sıraladığımızda baştan ikinci kesir hangisi olur?

- A)  $\frac{5}{9}$  B)  $\frac{3}{9}$  C)  $\frac{7}{9}$  D)  $\frac{1}{9}$

15. Dört basamaklı en küçük sayının

$\frac{2}{25}$ 'si kaçtır?

- A) 40 B) 80 C) 100 D) 60

16. 5 saatin  $\frac{3}{4}$ 'ü kaç dakikadır?

- A) 300 B) 75 C) 225 D) 250

17. Yaşı 3 onluk 6 birlik olan Zekihan'ın yaşının  $\frac{5}{6}$ 'i kaçtır?

- A) 15 B) 20 C) 25 D) 30

18. 7 saat 19 dakika kaç dakika eder?

- A) 389 dk B) 409 dk  
C) 420 dk D) 439 dk

19. Aşağıdaki eşleştirmelerden hangisi yanlıştır? ( bir ay=30 gün)

- A) 6 ay 17gün = 197 gün  
B) 8 ay 20 gün = 260 gün  
C) 1 ay 2 hafta = 40 gün  
D) 12 gün 5 saat = 293 sa

20. 38 dakika çalışan Zeynep, kaç dakika daha çalışsaydı 1 buçuk saat çalışmış olurdu?

- A) 90 dk B) 67 dk  
C) 58 dk D) 52 dk

**1. Fosiller aşağıdakilerin hangisinin içinde oluşmaz?**

- A) Kayaçlar B) Buzullar  
C) Ağaç reçineleri D) Sular

**2. Aşağıdaki maddelerden hangisine uygulanan kuvvet kalıcı şekil değişikliğine sebep olur?**

- A) Lastik B) Bakır tel  
C) Balon D) Sünger

**3. Aşağıdaki olaylardan hangisinde madde ısı vermiştir?**

- A) İpe asılan çamaşırın kuruması  
B) Dondurmanın erimesi  
C) Kaynayan suyun buharlaşması  
D) Isıtılan çikolatanın erimesi

**4. Aşağıdakilerden kaç tanesi karışımdır?**

- I- Limonata II- Altın  
III- Reçel IV- Ayran

- A) 1 B) 2 C) 3 D) 4

**S5) Pirinç, un ve şeker gibi katılar ısıtıldıklarında hangi olay gerçekleşir?**

- A) Erime B) Donma  
C) Buharlaşma D) Bozunma

**6. Maddenin ölçülebilir özellikleri hangi seçenekte doğru verilmiştir?**

- A) Tat – Renk B) Kütle – Berklik  
C) Hacim – Kütle D) Hacim – Koku

**7. Mıknatıs aşağıdaki hangi maddeyi çeker?**

- A) Gümüş yüzük B)Altın bilezik  
C) Ağaç kaşık D) Nikel çubuk

**8. Boş bir kabın ağırlığı 175 gr'dır. Bu kabın içine bir miktar toz şeker konulduğunda brüt kütle 511 gr gelmektedir. Buna göre şekerin net kütlesi kaç gr'dır?**

- A) 336 B) 693 C)443 D) 683

**9. I. Ampul II. Ateş Böceği III. Halojen lamba**

**Yukarıda verilen varlıklar için aşağıdakilerden hangisi söylenebilir?**

- A) Işık kaynaklarıdır.  
B) Canlı ışık kaynakları  
C) Doğal ışık kaynaklarıdır.  
D)Yapay ışık kaynaklarıdır.

**10. Cam şişe - Kâğıt - Yemek artıkları - Plastik şişe**  
**Yukarıda verilen maddelerden kaç tanesinin geri dönüşümü ile tekrar kullanımı sağlanabilir?**

- A)1 B)2 C)3 D)4

**11. Yanlış yerde, yanlış zamanda, yanlış yönde ve çok miktarda yapılan ışıklandırma neye sebep olur?**

- A) Işık kirliliği
- B) Aydınlatma
- C) Güzel görüntü
- D) Az ışıklandırma

**12. “Sünger, pamuk, peçete, kumaş” gibi maddelerin ortak özelliği hangisidir?**

- A) Suda yüzme
- B) Suyu emme
- C) Suyu emmeme
- D) Mıknatısla çekilme

**13. Bir mum yakıp, üzerini karton kutuyla örtelim. Bu karton kutunun her neresinden delersek delelim ışığın dışarı çıktığını görürüz. Bu durum için aşağıdakilerden hangisi söylenebilir?**

- A) Mum doğal bir ışık kaynağıdır.
- B) Işığın yayılması için havaya ihtiyaç vardır.
- C) Işık her yönde yayılır.
- D) Karton saydam bir maddedir

**14. Aşağıdakilerden hangisi sigaranın zararlarından değildir?**

- A) Akciğer kanserine neden olur
- B) Ağız kokusu yapar
- C) İştahı artırır
- D) Diş ve diş eti hastalıklarına neden olur

**15. Ali top oynarken düşüp kolunu kırmıştır. Ali' nin kolunun iyileşmesi için aşağıdaki besin grubundan hangisini daha fazla yemelidir?**

- A) Mineraller ve vitamin
- B) Yağ
- C) Karbonhidrat
- D) Protein

**16. Aşağıda verilen besinlerden hangisinde mineral ve su bulunur?**

- A) Nohut
- B) Prinç
- C) Buğday
- D) Meyve

**17. Aşağıdakilerden hangisi eski zamanlarda kullanılan bir ışık kaynağı değildir?**

- A) Meşale
- B) Halojen
- C) Gaz lambası
- D) Kandil

**18. Soba üzerinde ısınan suyun bir süre sonra azaldığı görülmüştür. Bunun sebebi nedir?**

- A) Yoğunlaşma
- B) Erime
- C) Buharlaşma
- D) Donma



**19. Maddenin bulunduđu halden diđer hale geęmesine hâl deęiřimi denir. Ařađıdaki olaylardan hangisinde hâl deęiřimi olmamıřtır?**

- A) Mumun erimesi
- B) amařırların kuruması
- C) Dökülen kolonyanın uęması
- D) Camın kırılması

**20. Fosillerle ilgili,**

**I. Bazı canlı fosilleri, yalnızca canlının bıraktıđı izlerden oluşur.**

**II. Hayvan diřleri, kabukları ve kemikleri fosil olabilir.**

**III. Bitkilerin fosilleri oluşmaz.**

**ifadelerinden hangileri dođrudur?**

- A) I ve III
- B) I ve II
- C) II ve III
- D) I, II ve III

1. Dünya üzerindeki büyük kara parçalarına kıta denir. Dünya üzerinde 7 kıta vardır.

**Aşağıdakilerden hangisi bir kıta değildir?**

- A)Avustralya B)Afrika  
C)Almanya D)Asya

2. Aşağıdakilerden hangisi ülkemizin kara sınırı olan komşusu değildir?

- A) Türkmenistan B) Suriye  
C)Irak D)Yunanistan

3. Her ülkenin bir yönetim merkezi vardır. Bu yönetim merkezlerine başkent denir.

	Ülke	Başkent
I	Bulgaristan	Sofya
II	Irak	Bağdat
III	Gürcistan	Tiflis
IV	Almanya	Hamburg

**Yukarıdaki tabloda ülkeler ve başkentleri verilmiştir. Hangi satırda yanlış bilgi verilmiştir?**

- A)I B)II C)III D)IV

4.Çeşitli yöntemlerle yön bulmamız mümkün. Aşağıdaki yön bulma yöntemlerinden hangisi yanlış ifade edilmiştir ?

- A)Kutup Yıldızı her zaman kuzeyi gösterir  
B)Minarelerde şerefeye açılan kapı güneye bakar.  
C)Karinca yuvalarının ağzı doğuya bakar.  
D)Taşların ve ağaçların yosunlu tarafı kuzeyi gösterir.

5. Öğretmenimizin sorduğu soruya

Aysel "Birçok bilgisayar sisteminin birbirine bağlı olduğu, dünya genelindeki iletişim ağına verilen addır." diye doğru cevap verdi.

**Buna göre öğretmenimiz ne sormuş olabilir?**

- A)İcat nedir? B)Mucit nedir?  
C)Bilgisayar nedir? D)İnternet nedir?

6. Hava olayları ve insanların bazı hataları doğal afetlerin oluşumuna katkı sağlamaktadır.

**Aşağıdaki afetlerin hangisinin oluşumunda bu etkilerden söz edilemez?**

- A)Deprem B)Sel  
C)Çığ D)Heyelan

7. Hak ve sorumluluklarımızla ilgili aşağıdaki öğrencilerden hangisinin ifadesi yanlıştır?

- A) Eyüp: Haklarımızı kullanırken diğer insanların haklarına da saygı duymalı  
B)Ömer: İnsanların birbirine karşı hiçbir sorumluluğu bulunmaz.  
C)Lorin: Bir konuda hak sahibi olmak o konuda bazı sorumluluklar da getirir.  
D)Nazlı: Sorumsuz davranan insanların bazı hakları kısıtlanabilir.

**8. Milletçe türlü fedakarlıklarla, tam bağımsız olmak için yaptığımız savaş hangisidir?**

- A)Balkan Savaşı
- B)Trablusgarp Savaşı
- C)Kurtuluş Savaşı
- D) I.Dünya savaşı

**9. Yaptığı faaliyetlerin amacı zararlı alışkanlıkların etkilerini anlatarak insanları bilinçlendirme yoluyla bu alışkanlıklardan korumak olan kulüp aşağıdakilerden hangisidir?**

- A)Kızılay Kulübü
- B)Spor Kulübü
- C)Yeşilay Kulübü
- D)İlk Yardım Kulübü

**10.**

	Olay		Tarih
1	Kurtuluş savaşının başlaması	a	23 Nisan 1920
2	TBMM'nin açılması	b	29Ekim 1923
3	Cumhuriyetin ilanı	c	13 Ekim 1923
4	Ankara'nın başkent olması	d	19 Mayıs 1919

**Yukarıdaki tabloda verilen olaylar ve oluş zamanları eşleştirilirse doğru eşleştirme nasıl olur?**

- A)1b,2a,3d,4c
- B)1d,2a,3b,4c
- C)1d,2a,3c,4b
- D)1a,2b,3d,4c

**11. Fevzi Çakmak İlkokulu 4/C sınıfı öğrencileri okudukları kitaplar ve okuldaki diğer sınıflara duyuru yaparak topladıkları kitapları köy okullarına gönderdiler.**

**4/C sınıfı için ne söylenemez?**

- A)Sorumluluk sahibidirler.
- B)Duyarlıdırlar.
- C)Paylaşımçıdırlar
- D)Vurdumduymazdırlar.

**12. Annem alışverişe çıkmadan önce mutlaka alışveriş listesi hazırlar. Neden diye sordum. Hangisi annemin verdiği cevap olamaz?**

- A) Gereksiz şeyler almamı sağlıyor.
- B) Alacaklarımı unutmam.
- C)Hangi ürüne ne kadar ihtiyacım olduğunu bilirim
- D)Düzenli ve bütçemize uygun alışveriş yapmış oluyorum.

**13.Körebe, saklambaç, bezirganbaşı, çelik çomak gibi oyunlar geleneksel oyunlarımızdır. Aşağıdakilerden hangisi geleneksel oyunlarımızın özelliği değildir?**

- A)Genelde açık havada oynanır.
- B)Grup halinde oynamak esastır.
- C)Fiziksel gelişimimizi olumlu etkiler
- D)Oturarak masa başında oynanır.

14.

abaküs

telefon

internet

telgraf

**Yukarıdaki sözcükler aşağıdaki cümlelerde yer alan boşluklara yerleştirildiğinde hangi kelime dışarda kalır?**

\_\_Samuel Morse'nin icat ettiği iletişim aracının adı ..... tır.

\_\_Alexander Graham Bell iletişim araçlarından ..... icat etti.

\_\_Bilgisayar icat edilmeden önce onun yerine kullanılan araçlardan biri de ..... tür.

- A)Abaküs B)internet  
C)telgraf D)telefon

**15. Aşağıdakilerden hangisi teknolojik ürünlerin ruh sağlığını olumsuz etkileri arasında sayılamaz?**

- A)Şiddete yöneltme  
B)Bağımlılık yaratma  
C)Aile bağlarını güçlendirme  
D)Sosyalleşmeyi engelleme

**16. Bilinçli bir tüketici olan Tuana peynir ve tavuk alırken öncelikle hangisine bakmalıdır?**





- A)Son kullanma tarihine  
B)Garanti belgesine  
C)Tanınmış bir marka olmasına  
D)Ambalajının renklerine

17. \_\_Ürünün maddi değerini gösteren bölüm

\_\_Ürünün devlet denetiminde üretildiğini gösteren sembol

\_\_Ürünün Avrupa Birliği tarafından belirlenen kurallara uygun üretildiğini gösteren sembol

Aşağıdaki sembollerden hangisi yukarıda ifade edilen bilgilere ait değildir?

- A)  B)   
C)  D) 

**18. Ülkemizi tanıtan çocuklardan hangisinin ifadesi yanlıştır?**

- A)Mehmet: Türkiye 5 coğrafi bölgeye ayrılır.  
B) Beyza: Türkiye hem Asya hem Avrupa kıtasında toprağı olan bir ülkedir  
C)Yağız: Türkiye'nin kuzeyindeki deniz Karadeniz'dir.  
D)İlkim: Türkiye'nin en kalabalık şehri İstanbul, yüz ölçümü en büyük şehri Konya'dır.

**19. Aşağıdakilerden hangisi Çocuk Hakları Sözleşmesinde yer almaz?**

- A)Her birey 18 yaşına kadar çocuk sayılır.
- B)Her çocuğun okula gitme ve eğitim görme hakkı vardır.
- C)Çocuğu ailesinden kimse koparıp alamaz.
- D)Çocuklar ailelerine katkıda bulunmak için bir işte çalışmalı

**20. 11Ekim 1922'de İngilizlerle imzalanan ve İstanbul, Boğazlar ve Doğu Trakya'nın savaş yapılmadan geri alınmasını sağlayan antlaşma hangisidir?**

- A)Mondros Ateşkes Antlaşması
- B)Mudanya Ateşkes Antlaşması
- C)Gümrü Antlaşması
- D)Lozan Barış Antlaşması



1. Read the text and answer the questions according to the text. (Metni okuyalım ve soruları metne göre cevaplayalım.)

I'm Funda. I'm ten years old. I'm a student. I'm from Turkey. I'm Turkish and I live in Mersin with my family. Mersin is in the south of Turkey. It is hot and sunny. I have a brother. His name is Fatih. He is eight years old. He is a student, too. I like playing volleyball, reading books and swimming. My brother likes watching cartoon, listening to music and flying kites. My favourite activity is swimming but my brother's favourite activity is watching cartoon. I can swim very well but he can't swim.

1. Where is Funda from?  
.....
2. What nationality is she?  
.....
3. Where does she live?  
.....
4. Where is Mersin?  
.....
5. What is her favourite activity?  
.....
6. Can his brother swim?  
.....

7. What does her brother like?

.....

### 1- Test Time

1. Görseli destekleyen ifade hangisidir?



- A. Reading books
- B. Diving
- C. Planting tree
- D. Watching cartoons

2. Boş bırakılan yere aşağıdakilerden hangisi getirilemez.

*"I brush my teeth in the....."*

- A. morning
- B. afternoon
- C. evening
- D. night

3. I ..... playing tennis but my brother..... playing tennis.

- A. like/ likes
- B. dislike / like
- C. like / dislikes
- D. like / like

**4. Boş bırakılan yere hangisi getirilemez?**

*A: Give me the eraser, please.*

*B: .....*

*A: The eraser, please.*

*B: Here you are.*

- A. Pardon me
- B. Say that again
- C. Excuse me
- D. Yes, it is

**5. Aşağıdakilerden hangisi ülke ismi değildir?**

**Japanese / Spain / Italy / China**

- A. Japanese
- B. Spain
- C. Italy
- D. China

**6. Boş bırakılan yere hangisi getirilmelidir?**

***"I like .....comics."***

- A. playing
- B. reading
- C. flying
- D. singing

# CEVAP ANAHTARI

## Türkçe

1	2	3	4	5	6	7	8	9	10	11	12	13	14	15	16	17	18	19	20
D	C	A	B	B	C	D	D	C	A	C	C	B	C	B	C	C	A	D	A

## Matematik

1	2	3	4	5	6	7	8	9	10	11	12	13	14	15	16	17	18	19	20
D	A	C	C	D	C	A	C	A	D	C	B	C	A	B	C	D	D	C	D

## Fen Bilimleri

1	2	3	4	5	6	7	8	9	10	11	12	13	14	15	16	17	18	19	20
D	B	A	C	D	C	D	A	A	C	A	B	B	C	D	D	B	C	D	B

## Sosyal Bilimler

1	2	3	4	5	6	7	8	9	10	11	12	13	14	15	16	17	18	19	20
C	A	D	C	D	A	B	C	C	B	D	A	D	B	C	A	B	A	D	B

## İngilizce

### Answer Key (Cevap Anahtarı)

1- Read the text and answer the questions according to the text. (Metni okuyalım ve soruları metne göre cevaplayalım.)

1. She is from Turkey.
2. She is Turkish.
3. She lives in Mersin.
4. Her favourite activity is swimming.
5. Yes, he can.
6. He likes watching cartoon, listening to music and flying kites.

### Test Time

1	2	3	4	5	6
C	D	C	D	A	B

## Çalışmada Emeği Geçen Öğretmenlerimiz:

**Nevzat YILMAZ**

(SINIF ÖĞRETMENİ-FEVZİ ÇAKMAK İLKOKULU)

**Mukaddes KAYA**

(SINIF ÖĞRETMENİ- FEVZİ ÇAKMAK İLKOKULU)

**Onur ÇELEPÇIKAY**

(SINIF ÖĞRETMENİ -GAZİ İLKOKULU)

**Seda AYDINLI**

(İNGİLİZCE ÖĞRETMENİ-80. YIL İLKOKULU)

**Mesut ERDOĞAN**

(BİLİŞİM TEKNOLOJİLERİ ÖĞRETMENİ-SİİRT TÜRK TELEKOM ÖZEL EĞİTİM ORTAOKULU)

Bu çalışma Siirt İl Milli Eğitim Müdürlüğü öğretmenleri tarafından hazırlanmıştır. Emeklerinden dolayı teşekkür ederiz.