

# ORTAOKUL 6.SINIF

**HAFTALIK EV ÖDEVİ**  
**11-15 Mayıs**



SIİRT İL MİLLÎ EĞİTİM MÜDÜRLÜĞÜ  
2020

1) Aşağıdaki cümlelerde altı çizili söz grupları ile söz gruplarının cümlelere kattığı anlamlar eşleştirilmiştir. Hangi söz grubunun anlamı yanlış eşleştirilmiştir?

Cümleler	Cümleye Kattığı Anlamlar
A) Derslerine <u>canla başla</u> sarılırsan mutlaka başarılı olursun.	Her türlü yorgunluğu göze alarak, var gücüyle
B) Sınıflarına kitaplık oluşturma konusunda tüm öğrenciler <u>hemfikir</u> gibiydi.	Aynı görüşü paylaşmama, aynı fikri benimsememe
C) Hayatını <u>yazboz tahtası</u> olanların başarılı olması çok zor.	Bir konuda birbirine uymayan kararlar almak, sık sık fikir değiştirmek
D) Bu tiyatro biletini arkadaşısı <u>vasıtasıyla</u> almıştı.	Aracılığıyla

2) Aşağıdaki cümlelerin hangisinde deyim ile açıklaması birlikte kullanılmamıştır?

- A) Bu olay yabana atılacak, önemsenmeyecek bir durum değildi.
- B) Onun bu konuşmaları kabak tadı verdi; herkes bıktı, usandı gerçekten.
- C) Kardeşi doğunca pabucunun dama atıldığını, eski değerinin kalmadığını düşündü.
- D) Adamcağızı o halde görünce eli ayağı dolaştı, dili tutuldu.

	A	B	C	D	Aşağıdaki cümlelerde geçen altı çizili sözcüklerin yay ayraç içinde istenen anlamları bulmacaya yerleştirilecektir
1					
2					
3					
4					

### Soldan Sağa

- ⊗ O, nasihatlerimi her zaman dinlerdi. (Eş Anlamlısı)
- ⊗ Dereceye giren öğrencilere ödülleri verildi. (Zıt Anlamlısı)
- ⊗ Kısa öğrenciler önde oturuyordu. (Zıt Anlamlısı)
- ⊗ Buralarda evvelden kimseler yoktu. (Eş Anlamlısı)

3) Buna göre “D” sütununda yer alan harfler aşağıdakilerden hangisidir?

A)	S	B)	T	C)	T	D)	T
	E		A		A		E
	N		Z		N		P
	E		E		E		E

4) Kelebek; pulkanatlılardan, gövdesi ve kanatları ince pullarla, türlü renklerle örtülü, dört kanatlı böceğe denir. Dünya üzerinde yaşayan yaklaşık yüz yetmiş bin türü bulunmaktadır. Aşağıdaki metinde bazı kelebek çeşitleri hakkında bilgi verilmektedir.

**Kuyruklu Kelebek:** Kuyruklu kelebek ilkbahar aylarının başlarında uçmaya başlamaktadır. Boylarının uzunluğu 4-5 cm civarındadır. Gösterişli sarı kanatlarının üstünde siyah ve sarı lekeler bulunur. Aşağı tarafta kalan kanatlarının kenar kısımları mavidir. Ayrıca arka kanatlarında gövdesine yakın olan bölümde iki tane kırmızı benekli vardır. Arka kanatların uç kısımları kuyruk tarzında uzundur.

**Apollo Kelebeği:** Apollo keleklerinin arka kısmındaki kanatlarının üstünde gözü anımsatan siyah çerçeve ve iki adet kırmızı benekleri bulunur. Kanatlarının üst tarafında siyah benekleri vardır. Yaşam alanları yüksek dağlardır. Genellikle çiçekli, az ağaçlı ve taşlık yerde gezerler. Apollo kelebeği tırtıl iken doruğun bitkisi ile beslenmektedir.

**Büyük Tavus Kelebeği:** Yaşam alanları genellikle sıcak olan ülkelerdir. Vücut yapıları kalın bacaklı, iri yapılı gövdeleri ve oldukça tüylüdür. Kelebek çeşitlerinin içerisinde gece uçanlar grubundandır. Adından da anlaşılacağı gibi kanatlarında gözü andıran mor tonlu iki adet benek bulunur. Bu morluklar tavus kuşunun kuyruğunda bulunan mor beneklere benzemesinden kaynaklı olarak o adı almıştır. Uzunlukları 15 cm civarındadır.

**Benekli Bakır Kelebeği:** Türkiye'de oldukça yaygın bulunan bir kelebek türüdür. Kanatlarında siyah, turuncu ve sarı renkler vardır. Yaşadığı alan kısıtlı değildir her yerde rahatlıkla görülür. Genellikle güney bölgesinde kasım ve şubat aylarında, diğer kesimlerde ise yaz aylarında sıklıkla görülür. Benekli bakır kelebeği tırtıl iken kara buğday ile beslenir.

1



2



3



4



Yukarıda bilgileri verilen kelebek türleriyle numaralandırılmış görsellerdeki kelekleri eşleştiriniz?

	1	2	3	4
A)	Kuyruklu Kelebek	Büyük Tavus Kelebeği	Benekli Bakır Kelebeği	Kuyruklu Kelebek
B)	Benekli Bakır Kelebeği	Kuyruklu Kelebek	Büyük Tavus Kelebeği	Apollo Kelebeği
C)	Büyük Tavus Kelebeği	Apollo Kelebeği	Kuyruklu Kelebek	Benekli Bakır Kelebeği
D)	Büyük Tavus Kelebeği	Kuyruklu Kelebek	Apollo Kelebeği	Benekli Bakır Kelebeği

5) Aşağıdaki tabloda isimlerin özellikleri verilmiştir. Hangi şıktaki ismin özelliklerinde yanlışlık yapılmıştır ?

İSİMLER	Varlıkların Verilişlerine Göre		Varlıkların Oluşlarına Göre		Varlıkların Sayılarına Göre		
	Özel	Cins	Somut	Soyut	Tekil	Çoğul	Topluluk
A) Anadolu	Özel		Somut		Tekil		
B) Rüya		Cins		Soyut		Çoğul	
C) Mutluluk		Cins	Somut			Çoğul	
D) Grup		Cins	Somut				Topluluk

- I) Yol kenarına sıra sıra ağaçlar diktiler.  
 II) Evin yolunu arkadaşlarına tarif etti.  
 III) İri, yeşil gözleriyle herkesin ilgisini çekmişti.  
 IV) Bütün cadde Türk bayraklarıyla donatılmıştı.  
 V) Birkaç kişi iş için gelmişti.

I. Cümlede: İkileme sıfat görevinde kullanılmıştır.













II. Cümlede: “evin yolu” tamlaması; belirtisiz isim tamlamasıdır.


III. Cümlede: Bir isim birden fazla sıfatla nitelendirilmiştir.

IV. Cümlede: Hem isim tamlaması hem de sıfat tamlaması vardır.


V. Cümlede: “birkaç” sözcüğü zamir görevinde kullanılmıştır.

6) Metindeki numaralandırılmış cümlelerle ilgili değerlendirilmeler sembollerle gösterilmiştir. Buna göre hangi sembollerle gösterilen değerlendirmeler doğrudur?


- A)  ,  ,   
 B)  ,  ,   
 C)  ,  ,   
 D)  ,  , 


 Gül ile Sevgi çok iyi sırdaştı.

 Beni ne aradı ne sordu.

 Çay veya kahve yapabilirsin.

 Sınıfı geçmek için çok çalıştı.

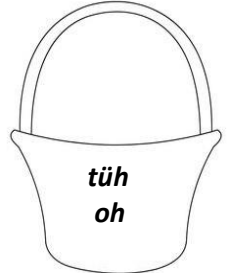
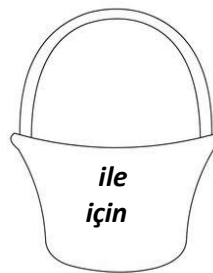
 Tüh, tiyatronun biletini unutmuşum!

 Oh, ne güzel bir deniz!

Edat Sepeti

Bağlaç sepeti

Ünlem sepeti



7) Yukarıda içinde edat, bağlaç ve ünlem bulunan cümleler verilmiştir ve bu kelime türlerinden edat sepeti, bağlaç sepeti ve ünlem sepeti oluşturulmuştur. Hangi kelime türüne uygun olmayan sepettedir?

- A) ile  
 B) veya  
 C) için  
 D) tüh



**Yapım eki:** İsim veya fiil kök ve gövdelerine gelerek, onlardan anlamları farklı yeni kelimeler oluşturan eklerdir.

**Çekim eki:** Eklendiği kelimenin cümle içerisinde farklı görevlerde kullanılmasını sağlayan yeni kelime türetme amacı olmayan eklerdir.

Öğretmen



Gözlükçü

Meslektaş



Mert



Işıl

Oyuncular

Bilgili



Ayşe



Ali

**8) Hangi öğrenci, öğretmenin sorusuna doğru cevap vermiştir?**

- A) Ali  
C) Işıl

- B) Ayşe  
D) Mert

**9) Aşağıdaki cümlelerin anlam özellikleri parantez içinde belirtilmiştir. Hangi cümlenin anlam özelliği yanlış verilmiştir?**

- A) Geçmiş günlerini hatırladığından dolayı gözlerinin içi güldü. **(Sebep- Sonuç)**  
B) Engelli koşu parkurunu en hızlı tamamlayan isim Can oldu. **(Karşılaştırma)**  
C) Doğum gününü kutlamaya gelemediğim için çok üzüldüm. **(Amaç- Sonuç)**  
D) Ay sonunda geri getirmek üzere sana kitabımı verebilirim. **(Koşul- Sonuç)**

**10) Aşağıdaki cümlelerden hangisi kanıtlanabilirlik açısından diğerlerinden farklıdır?**

- A) İstiklal Marşı'nın bestecisi Osman Zeki Üngör' dür.  
B) Okuduğum kitap, savaş yıllarında yaşanan olayları anlatıyor.  
C) Şiirin insanı etkileyen coşkulu bir dili olmalıdır.  
D) Antalya KöprülÜ Kanyonu'nda rafting sporu yapılmaktadır.

1. parçalamaktan
2. zordur
3. atom
4. daha
5. kırmak
6. çekirdeğini
7. önyargıları

**11) Numaralanmış sözcüklerle anlamlı ve kurallı bir cümle oluşturulduğunda sıralama nasıl olur?**

- A) 3, 6, 5, 4, 2, 7, 1      B) 3, 6, 5, 2, 4, 7, 1  
C) 7, 5, 3, 6, 1, 2, 4      D) 7, 5, 3, 6, 1, 4, 2

- |                    |   |
|--------------------|---|
| ➤ Abartma Anlamı   | • Birazdan Aliler bize gelir                                  |
| ➤ Yaklaşık Anlamı  |   |
| ➤ Küçümseme (Alay) | • Kitaplığımız ufkumuzu açacak dünyalar kadar kitapla dolu.   |
| ➤ Aile Anlamı      |   |
| ➤ Benzerleri       | • Bu topraklarda Yunuslar, Karacaoğlanlar bitmez.             |
|                    | • Beş yaşlarında bir erkek çocuğu gülerken bize yaklaşıyordu. |

**12) Yukarıdaki cümlelerde bulunan “-lar,-ler” ekinin cümleye kattığı anlamlarla cümleler eşleştirildiğinde hangi anlam dışarıda kalır?**

- A) Abartma Anlamı  
B) Küçümseme (Alay)  
C) Aile Anlamı  
D) Benzerleri

### Sazıma

Ben gidersem sazım sen kal dünyada,  
Gizli sırlarımı aşık etme.  
Konuşmaz olsun dillerin söyleme ele,  
Garip bülbül gibi üzülme.

Sen petek misali, Veysel de arı,  
Söyleşir, beraber yapardık balı.  
Ben bir insanoğlu, sen bir dut dalı.  
Ben babamı, sen ustanı unutma!

**Âşık Veysel**

### Dinle Sana Bir Nasihat Edeyim

Dinle sana bir nasihat edeyim:  
Hatırdan gönülden geçici olma.  
Yiğidin başına bir iş gelince,  
Onu yabancı illere açıcı olma.

Karac’oğlan söyler sözün başarır,  
Aşkın deryasını boydan aşırır.  
Seni bir mecliste küçük düşürür,  
Kötülerle konup göçücü olma.

**Karacaoğlan**

- I. Dörtlükler şeklinde yazılmıştır.  
II. İnsanlara nasihat verme amacı vardır.  
III. Benzetme sanatı kullanılmıştır.  
IV. Dize sonunda ses benzerlikleri vardır.

**13) Yukarıdaki yargılardan hangileri her iki şiir içinde ortaktır?**

- A) I-II      B) II-III      C) I-IV      D) III-IV

Öykünmek, eserlerimi ortaya koyarken en korktuğum şey olmuştur. Bazen roman yazarım bazen şiir. Ama eserlerimi oluştururken özgün olmaya gayret ettim hep. Başka şair ve yazarlar beni etkileyememeli diye düşünmüşümdür. Sözcüklerim düşünsel dünyanın ürünleri olmalı. Aksi taktirde başarılı olacağıma inanmıyorum. Ürettiğim eser biricik olmalı.

Okuyucu benim eserlerimin tadını alabilmeli. Gerek üslubumla gerek düşüncelerimle kimseye benzememeliyim ki ancak o zaman edebiyat dünyasında önemli bir mertebeye ulaşabileyim.

**14) Bu metine göre yazarın asıl anlatılmak istediği şey nedir?**

- A)** Eser oluştururken kendine özgü bir üslup ve düşünce yapısına sahip olunmalıdır.
- B)** Eser oluştururken toplumun ilgi duyduğu konular seçilmelidir.
- C)** Eser oluştururken tanınmış yazarlar örnek alınmalıdır.
- D)** Eser oluştururken sanat ön planda tutulmalıdır.

(I) Viyana'nın en bilinen sembollerinden St. Stephan Katedrali' nin kubbesinde Türk varlığını hatırlatan izler bulmak mümkündür. (II) 17. yüzyılın sonlarına kadar katedralin sivri kulesinin ucunda, oraya 1529 yılında konan ay-yıldız figürü duruyordu. (III) Bu sebeple insanlar -sadece Avustralyalılar değil aynı zamanda Türkler de- bu duruma bir açıklama getirmeye çalıştılar. (IV) Şehri aldığı anda, kolayca minareye dönüştürebileceği için İslami geleneklere uygun olarak bu kuleyi bombalamamaya karar verir. (V) Evliya Çelebi' ye bakılırsa Sultan Süleyman şehri kuşatma altına almak için 1529 yılında buraya geldiğinde surların ardından azametle yükselen St. Stephan' ın 137 metrelik güzel kulesini görür.

**15) Numaralanmış cümlelerle anlamlı bir bütün oluşturabilmek için cümlelerden hangileri yer değiştirmelidir?**

- A)** I-III      **B)** II-III      **C)** III-IV      **D)** IV-V

Normal şartlarda gözümüz dakikada on beş kere göz kırparak kornea yüzeyini nemlendirir, kayganlığını artırır ve gözün kendi asit karakterli antiseptik sıvısı ile yıkanmasını sağlar. Monitör ve benzeri ekranlara bakarken göz kırpma sayısı üçte bire kadar azalır. Göz kapakları sanki uzağa bakar gibi tam olarak açılmıştır. Bu haldeyken kırpma sayısı üçte iki azalan gözün yüzeyindeki nem kolayca buharlaşır. Göz kırpma sayısı ekran karşısında üçte iki azalarak yaklaşık beş kereye kadar düşer. Kornea yüzeyi kurur ve kapaklarının sürtünmesinden dolayı iritasyon ve erozyon başlar ve mikroplara direnci yayırlar.

**16) Bu parçadan aşağıdaki yargılardan hangisi çıkarılamaz?**

- A)** Gözümüzü kırparak kornea yüzeyinin nemli kalmasını sağlarız.
- B)** Monitor ve benzeri ekranlara bakarken göz kırpma sayısı azaldığı için göz kuruluğu yaşanır.
- C)** Monitör ve benzeri ekranlara bakmak gözümüzün göz kırpma sayısını artırır.
- D)** Monitor ve benzeri ekranlara bakarken göz kapakları tam olarak açılır ve kırpma sayısı üçte iki azalır.

### Aşağıda bazı edebi türlerin tanımları verilmiştir.

**Anı:** Bir kişinin kendi yaşadıklarını ya da tanık olduğu olayları üzerinden uzun yıllar geçtikten sonra anlattığı yazı türüdür.

**Gezi Yazısı:** Gezilip görülen yerlerin doğal güzelliklerini, tarihi özelliklerini, gelenek ve göreneklerini anlatan yazı türüdür.

**Hikaye:** Gerçek ya da gerçeğe uygun olayları yer, zaman ve kişiye bağlı olarak ayrıntıya girmeden anlatan kısa yazı türüdür.

**Günlük:** Yazarın yaşadıklarını ya da tanık olduğu olayları günü gününe, tarih belirterek anlattığı yazı türüdür.

### Bu bilgilere göre;

Bir çiftçi ve oğlu sıcak bir yaz günü buğday tarlasına gitmişler. Çocuk, babasına demiş ki: “Babacığım, buğdaylardan bazılarının başı eğik, bazılarının ise başı dik. Bana öyle geliyor ki başı dik olan buğdaylar asil insanlar gibidir.” Babası tebessüm etmiş ve bir tane başı dik, bir tane de başı eğik buğday kopararak: “Bak oğlum! Başı dik olan başağın gördüğün gibi içi boş. Bunlar kafaları boş olduğu halde halkın içinde büyüklenerek gezen insanları temsil eder. Başı eğik olan başak ise gördüğün gibi içi dolu ve iri taneleri var. Bunlar ise akıl ve kalpleri dolu ancak alçakgönüllü insanları temsil eder.” dedi.

### 17) Yukarıda verilen metnin türü nedir?

- |           |                |
|-----------|----------------|
| A) Hikaye | B) Gezi Yazısı |
| C) Anı    | D) Günlük      |

### Büyük Harflerin Kullanıldığı Bazı Yerler:

- Kişi adlarından önce ve sonra gelen unvanlar, saygı sözleri, rütbe adları ve lakaplar büyük harfle başlar.
- Gezegen ve yıldız adları büyük harfle başlar.
- Yer adlarında ilk isimden sonra gelen ve deniz, nehir, göl, dağ, boğaz vb. tür bildiren ikinci isimler büyük harfle başlar.
- Ulusal, resmî ve dinî bayramlarla anma ve kutlama günlerinin adları büyük harfle başlar.

### 18) Bu bilgilendirme metnine göre aşağıdaki cümlelerin hangisinde büyük harflerin kullanımıyla ilgili bir yanlışlık yapılmıştır?

- A) Ay, Dünyanın uydusudur.
- B) Van gölünün manzarası görülmeye değer.
- C) Anneler Günü'nde annesine şiir yazmış.
- D) Öğretmenimiz Ayşe Hanım da okul gezisine katılacak.




Atatürk'ün çocuklara seslendiği çok güzel bir söz var ( ) ( ) Küçük hanımlar ( ) küçük beyler ( ) Sizler hepiniz geleceğin bir gülü ( ) yıldızı ve ikbal ışığısınız ( ) Memleketi asıl ışığa boğacak olan sizsiniz ( ) ( )

**19) Yukarıdaki cümlede boş bırakılan yay ayraçlara sırasıyla hangi noktalama işaretleri getirilmelidir?**

- A) (:) (") (,) (!) (,) (.) (.) (")  
B) (:) (") (,) (.) (,) (.) (,) (")  
C) (;) (.) (,) (!) (,) (.) (!) (")  
D) (;) (") (,) (.) (,) (;) (!) (.)



Günde 1 saatten az TV seyreden  
5-6 yaş çocuklarının resimleri



Günde 3 saatten fazla TV seyreden  
5-6 yaş çocuklarının resimleri

**20) Bu görselin vermek istediği mesajdan hareketle aşağıdakilerden hangisine ulaşılabilir?**

- A) Uzun süre televizyon izleme alışkanlığı ;çocukların düşünme, yorum yapma ve hayal etme yeteneklerini azaltır.  
B) Çocuklar, uzun süre televizyon izlemekten olumsuz etkilenmezler.  
C) Uzun süre televizyon izlemek çocuğun zihinsel ve duygusal gelişimini olumlu etkiler.  
D) Çocuklar, gün içinde istedikleri süre kadar televizyon izlemelidirler.

1) Aşağıdaki üslü işlemlerinden hangisi veya hangileri doğru hesaplanmıştır?

- I.  $3^3 = 3 \times 3 \times 3 = 27$   
II.  $4^2 = 4 \times 2 = 8$   
III.  $4^3 = 4 \times 4 \times 4 = 32$   
IV.  $10^4 = 10 \times 10 \times 10 \times 10 = 10000$

- A) Yalnız I  
B) I ve II  
C) I, III ve IV  
D) I ve IV

4) Bir sınıftaki öğrencilerin tümü 50 kişidir. Öğrenciler, 4 sırada ikiyeşerli otururken diğer sıralarda üçerli oturmaktadır. Sınıfta kaç tane sıra vardır?

- A) 21  
B) 18  
C) 15  
D) 14

2)

Aşağıdaki işlemlerden hangisinin sonucu yanlıştır?

- A)  $27-9:3=24$   
B)  $54:6.3=27$   
C)  $40+10:5=42$   
D)  $28:2.7=2$

5)  $2^3.3.5$  şeklinde asal çarpanlarına ayrılmış sayı aşağıdakilerden hangisidir?

- A) 60  
B) 90  
C) 120  
D) 180

3)  $a \times (12 + b) = (3 \times 12) + (3 \times 4)$  ifadesindeki a ve b harflerinin çarpımları  $(a \times b)$  kaçtır ?

- A) 36  
B) 24  
C) 12  
D) 7

6) Rakamları farklı üç basamaklı 24m doğal sayısı 2 ye bölünebilmektedir. Buna göre m yerine yazılabilecek değerler toplamı kaçtır ?

- A) 20  
B) 18  
C) 16  
D) 14

7) a ve b asal sayılardır.

$$a.b=14$$

olduğuna göre  $a+b$  kaçtır?

- A) 9      B) 8      C) 7      D) 6

8) 28 sayısının asal çarpanlarına ayrılmış biçimi aşağıdakilerden hangisidir ?

- A)  $2.7^2$       B)  $2^2.7$       C)  $2.3^7$       D)  $5.7$

9) İki farklı trafik lambasının birinde 40 saniyede bir, diğerinde 60 saniyede bir kırmızı ışık yanmaktadır. Bu iki trafik lambasında saat 10.58'de aynı anda kırmızı ışık yandıktan sonra ilk olarak saat kaçta yine aynı anda kırmızı ışık yanar?

- A) 10.59      B) 11.00  
C) 12.58      D) 13.00

10) 'KARŞIYAKA' sözcüğündeki harflerin oluşturduğu küme kaç elemanlıdır ?

- A) 6      B) 7      C) 8      D) 9

11) Aşağıdakilerden hangisi “- 30” ile ifade edilemez?

- A) Suyun 30 metre altı  
B) Hava sıcaklığının 0'ın altında 30°C olması  
C) Şengül'ün 30 TL borcunun olması  
D) Sayı doğrusunda 0 noktasından 30 metre ileriye gitmek

12) Mutlak değeri 5 ten küçük olan kaç tane tam sayı vardır?

- A) 4      B) 5      C) 9      D) 11

13)

Aşağıdaki sıralamalardan hangisi doğrudur?

- A)  $\frac{7}{4} < \frac{7}{5} < \frac{7}{9}$       B)  $\frac{1}{10} < \frac{1}{9} < \frac{1}{8}$   
C)  $\frac{7}{5} < \frac{4}{5} < \frac{6}{5}$       D)  $3\frac{1}{7} < 2\frac{2}{7} < 1\frac{3}{7}$

14) Bir lokantada müşteriler için hazırlanan 120 tane masanın  $\frac{3}{4}$  ü 5 kişilik, diğerleri ise 6 kişiliktir. Buna göre, bu lokantadaki masaların tamamı dolduğuna göre, kaç müşteri gelmiştir ?

- A) 630      B) 650      C) 700      D) 750

15) Okulumuzda yapılan 100 metre koşu yarışmasında, yarışı bitirme süreleri olarak şu sonuçlar alınmıştır.

Ömer; 15,02sn    Nuray; 15,54sn    Sevgi; 15,46sn

Mustafa; 14.54 sn    Ayşenur; 14,59 sn

**Bu sonuçlara göre birinci ve sonuncu hangi seçenekte verilmiştir?**

<u>Birinci</u>	<u>Sonuncu</u>
A) Nuray	Ömer
B) Mustafa	Nuray
C) Ayşenur	Nuray
D) Sevgi	Mustafa

16)

$$m = 2,37$$

$$n = 2,3\overline{7}$$

$$k = 2,\overline{37}$$

**Yukarıda verilen m, n ve k sayılarının küçükten büyüğe doğru sıralanışı aşağıdakilerden hangisidir?**

- A)  $k < n < m$                       B)  $m < k < n$   
C)  $n < k < m$                       D)  $m < n < k$

17) “ $(3.100) + (5.1) + (7.\frac{1}{1000})$ ” biçiminde çözümlenmiş olarak verilen ondalık kesir aşağıdakilerden hangisidir?

- A) 35,7                                      B) 35,07  
C) 305,007                                D) 305,07

18) Bir çuvalda 80,4 kg leblebi olan çuvalın tamamı 0,4 kg’lık küçük paketlere doldurulup paketlerin tanesi 3,5 TL’ye satılacaktır.

**Buna göre, toplam gelir kaç TL olur?**

- A) 703    B) 717,5    C) 730,5    D) 750

19)

	6/A	6/B	6/C	6/D
Mevcut	45	40	30	32
Başarılı öğrenci sayısı	25	16	20	16

Yukarıdaki tabloda 6. sınıfta yapılan bir sınavda sınıf mevcutları ve başarılı öğrenci sayıları verilmiştir.

**Buna göre, hangi sınıfta başarı oranı yüksektir?**

- A) 6/A    B) 6/B    C) 6/C    D) 6/D

20)  $5a - 5b - 7$  cebirsel ifadesi için aşağıdakilerden hangisi yanlıştır?

- A) 3 terimden oluşur.  
B) b’li terimin katsayısı –5 tir.  
C) Benzer terimler yoktur.  
D) Sabit terimi 7 dir.

1) Aşağıdakilerden hangisi nitelikli insanın özelliklerinden değildir?

- A) İşini en iyi şekilde yapar.
- B) Sorumluluk duygusuyla hareket eder.
- C) Ön yargı sahibidir.
- D) Zamanı iyi kullanmasını bilir.

AYŞE: Benim annem polis

HATİCE: Benim annem doktor

AYLİN: Annem ve babam öğretmen

2) Yalnızca verilen konuşmalara göre, bu çocukların ailelerinin vermeleri gereken vergi türü aşağıdakilerden hangisi olabilir?

- A) Özel iletişim vergisi
- B) Gelir vergisi
- C) Çevre ve temizlik vergisi
- D) Emlak vergisi

AYŞE:

Alışveriş yaparken mutlaka fiş veya fatura almalıyız. Unutmayın aldığımız fişler sayesinde devletin kasasına para girer ve bu şekilde bazı ihtiyaçlarımız karşılanır

3) Ayşe' in verdiği bilgiye göre, alışveriş yaparken fiş veya fatura alındığında devlete aşağıda vergi türlerinden hangisi verilmiş olur?

- A) Motorlu taşıtlar vergisi
- B) Emlak vergisi
- C) Katma değer vergisi
- D) Gelir vergisi

4) Nitelikli insan;

- I. Yenilikleri takip eder.
- II. Üretime katkı sağlar.
- III. Kendisini geliştirir.

Nitelikli insan ile ilgili verilen bilgilerden hangisi yada hangileri doğrudur?

- A) Yalnız I
- B) I ve II
- C) II ve III
- D) I, II ve III

5) Ülkemizde devlete verilen vergilerle;

- I. Sağlık
- II. Eğitim
- III. Güvenlik

İhtiyaçlarımızdan hangisi ya da hangilerinin karşılandığı söylenebilir?

- A) Yalnız I
- B) I ve II
- C) II ve III
- D) I, II ve III



6) Nitelikli insan ülke kaynaklarını daha verimli kullanır, kullanılmayan kaynakların boşa harcanmaması için yeni fikir ve projeler üretir. Bu şekilde daha az kullanılan kaynakları ekonomiye kazandırarak üretimde artış yaşanmasını sağlar.

**Verilen bilgide nitelikli insanın aşağıdaki özelliklerinden hangisine değinilmemiştir?**

- A) Malzemeden ve enerjiden tasarruf sağlar
- B) İletişim yeteneği güçlüdür.
- C) Ülke için yaralı işler yapar.
- D) Yenilikçi ve araştırmacıdır.

I.Tarım

II.Turizm

III.Madencilik

IV.Hayvancılık

7) Ülkemizde görülen yukarıdaki ekonomik faaliyetlerden hangisi iklim şartlarına bağlı olarak değişkenlik göstermez?

- A) I
- B) II
- C) III
- D) IV

8) Aşağıda verilen cümleler arasında D "Doğru", Y "Yanlış" anlamındadır.

Bir Ülkede kendini geliştirmiş,işini doğru yapan nitelikli insan ne kadar çoksa o ülkenin gelişmesi de o kadar hızlı olur.

D

Y

Nitelikli insanlar işlerinde başarılı olur

D

Y

Nitelikli insanlar,bilgi ve becerilerini başkalarıyla paylaşmazlar

D

Y

**Konu hakkında yeterli bilgiye sahip olan bir öğrenci kaçınıcı çıkışa ulaşır?**

- A) 1
- B) 2
- C) 3
- D) 4

9) Aşağıda verilen cümleler arasında D "Doğru", Y "Yanlış" anlamındadır.

Ülkemizin yer altı ve yer üstü kaynakları bakımından zengin olması farklı ekonomik faaliyetlerin görülmesine neden olmuştur.

D

Y

Ekonomik faaliyetlerimiz sadece doğal kaynaklara bağlı gelişmiştir.

Bu faaliyetler ülke ekonomisinin zenginleşmesine katkıda bulunmaktadır.

D

Y

D

Y

1.ÇIKIŞ 2.ÇIKIŞ 3.ÇIKIŞ 4.ÇIKIŞ

Konu hakkında yeterli bilgiye sahip olan bir öğrenci kaçınıcı çıkışa ulaşır?

A) 1 B) 2 C) 3 D) 4



10) Kavram haritasında soru işareti ile gösterilen yere, aşağıdakilerden hangisinin yazılması gerekir?

- A) Ülkemizin Doğal Kaynakları
- B) Ülkemizdeki Ekonomik Faaliyetler
- C) Yenilebilir Enerji Kaynakları
- D) Toprağa Bağlı Ekonomik Faaliyetler

11) Bazı tarım ürünleri iklim şartlarından dolayı sadece belirli bölgelerde yetiştirilebilmektedir.

Buna göre ülkemizde yetiştirilen;

I.Şeker pancarı

II.Çay

III.Muz

gibi ürünlerden hangisi yada hangileri üretim alanı yaygın olan ürünler arasında yer alır?

- A) Yalnız I
- B) I ve II
- C) II ve III
- D) I, II, III

1	→	SULAMA
2	→	NADASA BIRAKMA
3	→	GÜBRELEME
4	→	TOHUM ISLAH ÇALIŞMALARI

12) Yukarıda numaralandırılmış çalışmalardan hangisinin tarımsal verimi artırdığı söylenemez ?

- A) I
- B) II
- C) III
- D) IV

13) Temel geçim kaynağı hayvancılık olan bir yerde;

I. Et ve süt ürünleri

II. Dericilik

III. Çimento

gibi sanayi dallarından hangisi ya da hangilerinin gelişmesi beklenir?

- A) Yalnız I                      B) I ve II  
C) I ve III                      D) I, II, ve III

14) Verilen bölgeler ve bu bölgelerde en çok yapılan hayvancılık faaliyeti eşleştirmelerden hangisi yanlıştır?

BÖLGE :                      HAYVANCILIK FAALİYETLERİ :

- A) Marmara                      Kümes hayvancılığı  
B) İç Anadolu                      İpek böcekçiliği  
C) Karadeniz                      Balıkçılık  
D) Doğu Anadolu                      Büyükbaş hayvancılık

15) Ülkemizin elverişli topraklara, verimli ovalara ve olumlu iklim şartlarına sahip olması öncelikle hangi ekonomik faaliyetin gelişmesini sağlamıştır?

- A) Tarım                      B) Turizm  
C) Sanayi                      D) Ticaret



16) Kavram haritasındaki bilgilerden doğru olanları "D" yanlış olanları "Y" harfi ile değerlendirirsek hangi çıkışa ulaşırız?

- A) I                      B) II                      C) III                      D) IV

17) Demokrasinin temel özelliklerinden biri de seçme ve seçilme hakkıdır.

Buna göre;

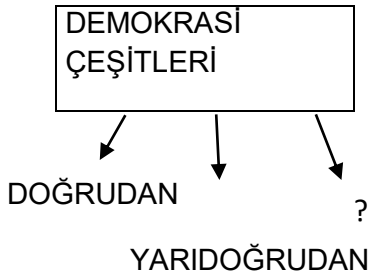
I. eşit oy

II. gizli oy

III. kapalı sayım

uygulamalarından hangileri yanlıştır?

- A) Yalnız I                      B) Yalnız II  
C) Yalnız III                      D) I ve III



18) Yukarıdaki kavram haritasından “?” konulan yere hangisi getirilmelidir?

- A) Temsili demokrasi
- B) Teokratik demokrasi
- C) Mutlak demokrasi
- D) Oligarşik demokrasi

19. Aşağıdakilerden hangisi bir ülkenin demokrasi ile yönetildiğinin kanıtı değildir?

- A) Halkın yönetime katılabilmesi
- B) Herkesin aynı düşünceyi benimsemek zorunda olması
- C) Siyasi partilerin olması
- D) Herkesin yasalar önünde eşit olması

Ülkemizde hayvancılık önemli bir ekonomik faaliyettir. Hayvancılık faaliyetleri ile tarımsal faaliyetler beraber yürütülebilir.

20) Öğretmenin konuşmasına bakarak, hangi hayvancılık faaliyetinin tarıma bağlı gelişme göstermesi beklenemez?

- A) Balıkçılık
- B) Küçükbaş hayvancılık
- C) Arıcılık
- D) Büyükbaş hayvancılık

1) Fen bilimleri dersinde hazırlanan bir etkinlikte, ön tarafına gezegenlerin özelliklerinin yazılı olduğu kartların arkasına gezegenlerin isimlerinin yazılması isteniyor.

1. KART

2. KART

3. KART

İç gezegendir.  
Güneşe  
yakınlık  
bakımından 4.  
gezegendir.

Dış gezegendir.  
Güneşe en uzak  
gezegendir.

Büyüklik  
bakımından  
1. Sıradadır.  
Dış  
gezegendir.

Etkinliği doğru tamamlamak isteyen Çınar kartların arkasına hangi gezegenleri yazmalıdır?

1. Kart

2. Kart

3. Kart

- A) Dünya Neptün Satürn  
B) Mars Uranüs Satürn  
C) Mars Neptün Jüpiter  
D) Merkür Neptün Jüpiter

2) Sindirim sistemi organlarının doğru sıralamasında A,B,C ile gösterilen yerlere hangi organlar yazılmalıdır?

AĞIZ → A → YEMEK BORUSU → B  
↓  
C ← İNCE BAĞIRSAK

- A) YUTAK MİDE KARACİĞER  
B) YUTAK MİDE KALIN BAĞIRSAK  
C) MİDE PANKREAS KALIN BAĞIRSAK  
D) MİDE PANKREAS KARACİĞER

3) OLAY

SONUÇ

Mina düştü ve yaralandı.

Yaralanan  
kısımında X sayısı  
arttı.

Mustafa grip oldu.

Kanındaki Y sayısı  
arttı.

Buna göre X ve Y hücreleri hangi seçenekte doğru verilmiştir?

X

Y

A) Alyuvar

Akyuvar

B) Kan pulcukları

Alyuvar

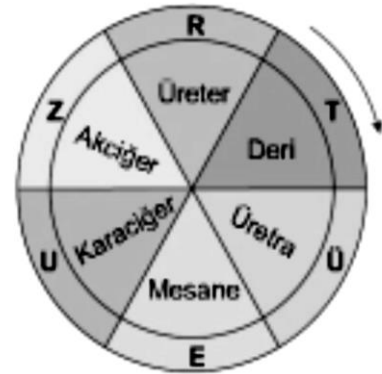
C) Akyuvar

Kan pulcukları

D) Kan pulcukları

Akyuvar

4)

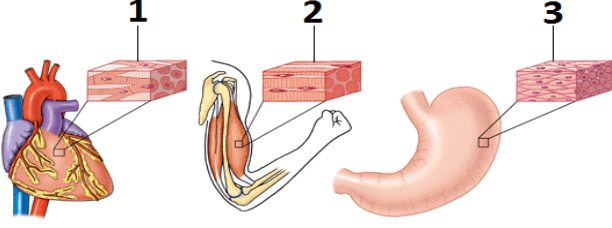


Bulmacada boşaltım sistemine yardımcı organlar ok yönünde takip edildiğinde hangii seçenekteki sözcük oluşur?

- A) ÜRE B) TER C) TUZ D) TÜR




5) Aşağıdaki şekilde numaralandırılmış kas çeşitleri hangi şıkta doğru bir şekilde verilmiştir?



1	2	3
A)Düz Kas	Çizgili Kas	Kalp Kası
B)Kalp Kası	Düz Kas	Çizgili Kas
C)Çizgili Kas	Düz Kas	Kalp Kası
D)Kalp Kası	Çizgili Kas	Düz Kas

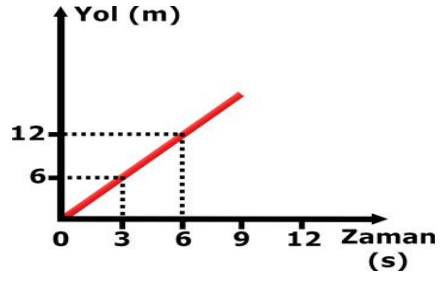
6) Güneş,Dünya ve Ay'ın büyüklüklerinin ve şekillerinin karşılaştırılması konusunda, Fen Bilimleri öğretmeni aşağıdaki topları sınıfa getirmiştir.



Buna göre Güneş tutulmasını modellemek isteyen öğrenci hangi seçenekte doğru sıralamayı yapmıştır ?

- A) III-II-I                      B) II-I-III  
C) II-III-I                      D) I-III-II

7)



Şekilde bir araca ait yol zaman grafiği verilmiştir.

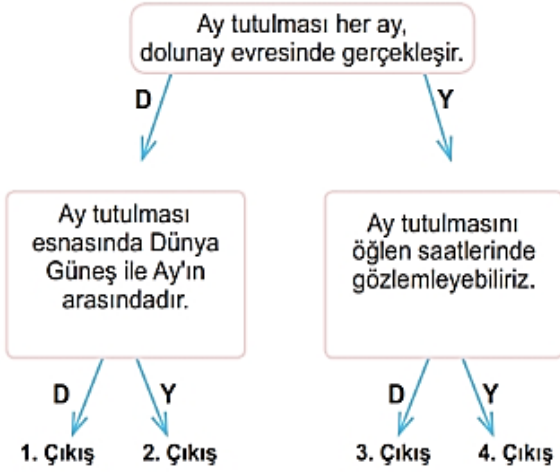
Bu araç ile ilgili aşağıda verilen bilgilerden hangisi yanlıştır?

- A) Aracın sürati 2 m/s'dir.  
B) Araç 3. saniye ile 6. saniye arasında 6 metre yol gitmiştir.  
C) Aracın 9. saniyede aldığı yol 24 metredir.  
D) Araç sabit sürat ile hareket etmektedir.

8) Nefes aldığımızda havanın vücudumuzda izlediği yol aşağıdakilerin hangisi gibidir?

- A) Burun-gırtlak - yutak - soluk borusu - bronş-bronşçuk - alveol  
B) Burun - yutak - gırtlak - soluk borusu - bronş - bronşçuk - alveol  
C) Burun - gırtlak - soluk borusu - bronş - bronşçuk - yutak - alveol  
D) Burun - yutak - bronş - soluk borusu - bronşçuk - alveol - gırtlak

9)



Verilen etkinlikten uygun şekilde ilerlenerek cevap anahtarına ulaşmak isteniyor. Adnan 1., Osman 3., İsmet ise 4. çıkışa ulaşıyor.

Buna göre;

- I. Adnan, doğru çıkışa ulaşmıştır.
- II. Bütün öğrenciler en az bir önermede uygun yolu izlemiştir.
- III. Osman, Ay tutulmasının gün içinde ne zaman olacağını bilmemektedir.

İfadelerden hangileri doğrudur?

- A) Yalnız III    B) I ve III    C) II ve III    D) I, II ve III

Kapalı kapta bulunan bir maddeye ait özellikler verilmiştir.

- ✓ Belirli bir şekli ve hacmi yoktur.
- ✓ Konulduğu kabı doldurur.
- ✓ Sıkıştırılabilir.
- ✓ Tanecikleri titreşim, dönme ve öteleme hareketleri yapar.

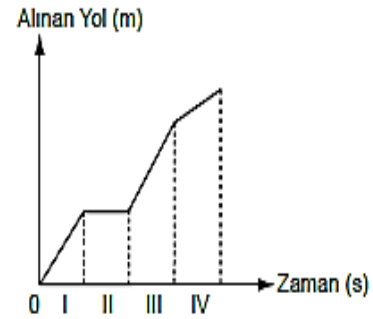
10) Buna göre bu madde aşağıda kilerden hangisi olabilir?

- A) Tahta    B) Hava    C) Su    D) Buz

11) Bir miktar buz suyun içine atıldığında buzun suyun yüzeyinde yüzdüğü görülmüştür. Buna göre buz ve su ile verilen bilgilerden hangisi yanlıştır?

- A) Su buza dönüşürken kimliği değişmez.  
 B) Buz suyun katı halidir.  
 C) Eşit kütledeki buz ve sudan buzun hacmi daha fazladır.  
 D) Suyun yoğunluğu buzun yoğunluğundan küçüktür.

12)



Yukarıda alınan yol – zaman grafiği verilen araç hangi zaman aralığında yol almamıştır?

- A) I.    B) II.    C) III.    D) IV.

?

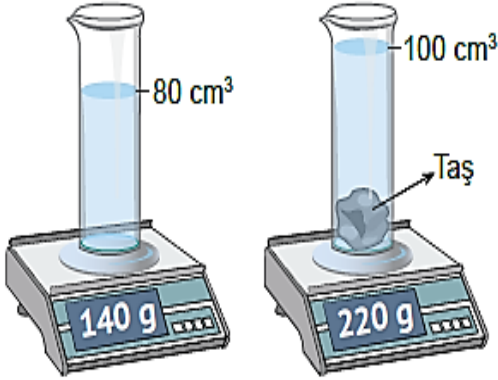
- ✓ Kimyasal sindirimde görev alır.
- ✓ Tükürük, mide ve pankreas öz suyunda bulunur.

13) Verilen bilgi kartında ? yazılan yere ne gelmelidir?

- A) Safra                      B) Enzim  
C) Villus                     D) Yutak

14)

İçerisinde  $80 \text{ cm}^3$  su bulunan cam tüpün kütlesi  $140 \text{ g}$  olarak ölçülmüştür. Cam tüpün içine taş parçası atıldıktan sonra kütle  $220 \text{ g}$ , su seviyesi ise  $100 \text{ cm}^3$  ölçülmüştür.



Buna göre cam tüp içine atılan taşın yoğunluğu kaç  $\text{g/cm}^3$ 'tür?

- A) 2,00      B) 3,00      C) 4,00      D) 5,00

15)

K: Kol ve bacaklarda bulunur ve hareketi sağlar.

L: Omurlar arasında bulunur ve hareket yeteneği kısıtlıdır.

M: Kafatasında bulunur ve hareket yeteneği yok denecek kadar azdır.

K, L ve M yapıları ile eklem türleri arasında doğru eşleştirme aşağıdakilerden hangisidir?

	<u>K</u>	<u>L</u>	<u>M</u>
A)	Oynar	Yarı Oynar	Oynamaz
B)	Oynamaz	Oynar	Yarı Oynar
C)	Yarı Oynar	Oynar	Oynamaz
D)	Oynar	Oynamaz	Yarı Oynar

Burcu, Yeter ve Büşra şeklindeki konumlarda yarışa başlayıp sabit süratle koşarak varış noktasına **aynı** anda varıyorlar.



16) Burcu, Yeter ve Büşra'nın süratleri arasındaki ilişki aşağıdakilerden hangisinde doğru olarak verilmiştir?

- A) Burcu > Yeter > Büşra  
B) Burcu = Yeter = Büşra  
C) Büşra > Yeter > Burcu  
D) Büşra = Yeter > Burcu



GÜNEŞ

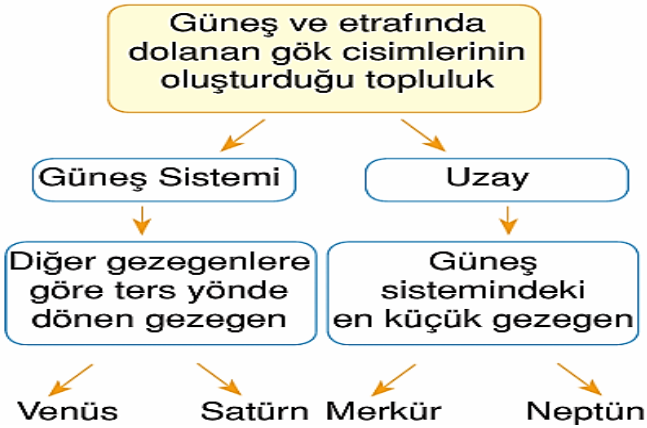
1 2 3 4 5 6 7 8  
(Güneş'e yakınlık bakımından gezegenler)

**17) Güneş sistemi modeli ile ilgili aşağıdakilerden hangisi yanlıştır ?**

- A) En küçük gezegen 1'dir ve halkası yoktur.
- B) Kızıl gezegen 4 numaralı gezegendir ve iç gezegendir.
- C) 6 numara halkalarıyla ünlüdür ve iç gezegendir.
- D) En küçük gazsal gezegen 8'dir ve 7'nin ikizidir.

**19) İskelet sisteminin görevleri ile ilgili aşağıdakilerden hangisi yanlıştır?**

- A) Vücudun dik durmasını sağlamak
- B) Vücuda genel şeklini vermek
- C) Vücut ısını korumak
- D) Bazı iç organları korumak



**18) Açıklamalar takip edildiğinde hangi çıkışa ulaşılır?**

- A) Venüs
- B) Satürn
- C) Merkür
- D) Neptün

- ✓ Vücuttaki fazla su ve tuzun terleme yardımıyla dışarı atılmasını sağlar.
- ✓ Vücutta solunum sonucu oluşan karbondioksit ve su buharının dışarı atılmasını sağlar.
- ✓ Vücutta besin atıkları, bir miktar su ve safranin atılmasını sağlar.

**20) Boşaltım sistemine yardımcı organlar ile verilen görevler eşleştirildiğinde hangi organ dışarıda kalır?**

- A) Karaciğer
- B) Akciğer
- C) Kalın bağırsak
- D) Deri



1) My father .....when he comes home.

- A) wakes up                      B) takes a nap  
C) watches TV                 D) runs errands



3) Jason:What time does Eva come back home?

Tina:She comes back home at.....

- A) five past six  
B) half past six  
C) a quarter past six  
D) a quarter to six



2) George:.....?

Kate:It is on the eleventh of May.

- A) What day is it today  
B) What time do you go to school  
C) When is your birthday  
D) When do you attend the chess club

4) Gloria:Can I have a glass of lemonade for breakfast,please?

Waiter: Sorry,sir .....Would you like some orange juice?

Gloria: No, thanks.


- A) It is very nutritious.  
B)It sounds yummy.  
C) It's all gone.  
D) Of course.





5) I have.....and.....for breakfast.

- A) milk/croissants                      B) coffee/bagels  
C) orange juice/muffins                D) tea/cereal



Cities are.....and.....than villages.

- A) quieter/cheaper  
B) noisier/more crowded  
C) bigger/easier  
D) more expensive/quieter



6) **Fiona:** Don't eat chips. They are not.....

**George:** Oh, OK.

- A) nutritious                                B) junk food  
C) traditional food                        D) unhealthy

7) **Daisy:** Do you like city life or country life?

**Carl:** I like country life because it is .....than city life.

- A) more peaceful                          B) more crowded  
C) busier                                      D) higher

9) There are a lot of cars in the street and they can't move at all because there is a .....

- A) traffic jam                                B) downtown  
C) skyscraper                                D) neighbourhood



10) **Peter:**....., grandmother?

**Grandmother:** I am knitting a sweater for you.

- A) Do you like resting at home  
B) What are you listening to  
C) What are you doing  
D) Are you buying new clothes

11. **Emma:**How do you feel on rainy days?

**Isabella:**I feel .....I don't like it when it is rainy.

- A) energetic                      B) happy  
C)moody                          D) fabulous



14) **Andy** loves winter sports,and her favourite one is skiing.Which city on the map should she go to?

- A) Bursa    B) Antalya    C) Sinop    D) İzmir



12) **Jacob:**What's the weather like today?

**Olivia:**It is .....

- A) sunny                          B) stormy  
C) freezing                      D) rainy



15) **Shelia** likes getting on the .....at the fair.

- A) bumper cars                      B) ghost train  
C) roller coaster                      D) train ride

Chicago	Tokyo	Paris
-10 °C	+5 °C	25 °C

13) Which of the following is true according to the table above?

- A) Chicago is hotter than Tokyo.  
B) Paris is hot and rainy.  
C) It is minus five degrees Celcius in Tokyo.  
D) Tokyo is windy, and Chicago is snowy.



16) I .....the carrousel,but I .....the ghost train.

- A) don't like/hate  
B) like/don't like  
C) don'tlike /like  
D) enjoy/like

**17) Mark:** Can I get on the ghost train,Mom?

**Mom:**Sorry,honey!It can be.....for a boy at your age.

- A)** exciting      **B)** terrifying      **C)** fun      **D)** old

**18) Danny:** What's your job?

**Richard:**I'm a .....

**Danny:**What can you do?

**Richard:**I can defend people in court.

- A)** manager                      **B)** salesman  
**C)** driver                        **D)** lawyer

**19) Sam:**What does your mother do?

**Mike:**She is a waitress.

**Sam:**.....?

**Mike:**At a cafe.

- A)** What is the date today  
**B)** What is she doing  
**C)** What can she do  
**D)** Where does she work



**20) A cook .....**

- A)** takes orders and serves food  
**B)** grows vegetables  
**C)** prepares delicious meals  
**D)** builds roads

1)Aşağıdakilerden hangisi peygamberlerin sıfatlarından biri değildir?

- A) İsmet
- B) Fetânet
- C) Tebyin
- D) Sıdk

2) Peygamberler hakkında verilen bilgilerden hangisi yanlıştır ?

- A)Peygamberleri insanlardan ayıran en önemli özellik vahiy almalarıdır
- B)Peygamberler kendilerine iletilen vahyi uygular ve insanlara örnek olurlar.
- C)Peygamberlerin yeme içme özellikleri vardır.
- D)İnsanlar kendi aralarından bir peygamber seçerler.

Peygamberlerin akıllı ve zeki olma sıfatına....denir.

Peygamberlerin gûnahtan uzak olma sıfatına ....denir.

3)Yukarıdaki boşluğa aşağıdakilerden hangileri gelmelidir?

- A) Fetânet-İsmet
- B) Sıdk-Fetânet
- C) Tebliğ-İsmet
- D) Fetânet-Emanet

“Onlar sana indirilene de senden önce indirilenlere de iman ederler. Ahirete de kesin olarak inanırlar.”

4) Yukarıdaki ayetten hareketle aşağıdakilerden hangisine ulaşılabilir?

A)Dini kurallar insanların yalnızca ahiret hayatını düzenler.

B)İbadetler Allah’a has kılınmalıdır

C)Sadece Hz. Muhammed’e (sav) değil ondan önce gelen bütün peygamberlere de inanmalıyız.

D)İnsanlar öldükten sonra tekrardan diriltilmezler.

1. Tevrat: Hz. Davut (a.s)

2. Zebur: Hz. Musa (a.s)

3. İncil: Hz. İsa (a.s)

4. Kur’ân-ı Kerim: Hz. Muhammed (s.a.v)

5) Yukarıda verilen eşleştirmelerde hata yapılmıştır. Buna göre eşleştirmelerden hangileri yer değiştirirse hata düzeltilmiş olur?

A) 2 ve 3

B) 1 ve 2

C) 2 ve 4

D) 1 ve 4

**6) Allah tarafından vahiy gönderilen ilk ve son peygamber aşağıdaki seçeneklerden hangisinde doğru olarak verilmiştir?**

- A) Hz. Âdem (a.s) – Hz. Muhammed (s.a.v)
- B) Hz. Nuh (a.s) – Hz. Muhammed (s.a.v)
- C) Hz. Âdem (a.s) – Hz. İsa (a.s)
- D) Hz. İbrahim (a.s) – Hz. Musa (a.s)

“Allah’ım! Senden yardım isteriz, günahlarımızı bağışlamamı isteriz, razı olduğun şeylere hidayet etmeni isteriz. Sana inanırız. Sana tövbe ederiz. Sana güveniriz. Bize verdiğin bütün nimetleri bilerek seni hayır ile överiz. Sana şükrederiz. Hiçbir nimetini inkâr etmez ve onları başkasından bilmeyiz. Nimetlerini inkâr eden ve sana karşı çıkanları bırakırız.”

**7)Kunut duasında altı çizili sözle anlatılmak istenen kavram aşağıdakilerden hangisidir?**

- A) Tevhid
- B) Tesbih
- C) Tekbir
- D) Tevekkül

**8) Peygamberlerle ilgili aşağıdakilerden hangisi yanlıştır?**

- A) Güzel ahlaklıdırlar
- B) İbadete düşkünlüdürler
- C) Zorluk karşısında yılmazlar
- D) Çalışmaz, yardımlarla geçinirler

**9) Aşağıdakilerden hangisi vahyin gönderiliş amaçlarından biri değildir?**

- A) Edebi bir kitabın özelliklerini açıklamak
- B) İnsanları hak din olan İslâm’a davet etmek
- C) İyiye, güzele, doğruya yönlendirmek
- D) Geçmiş peygamberler ile ilgili bilgi vermek

**10)Aşağıdakilerin hangisi peygamberlerin gönderiliş amaçları arasında gösterilmez?**

- A) Güzel ahlak konusunda örnek olmak
- B) İbadetlerin nasıl yapılacağını öğretmek
- C) İman esaslarının neler olduğunu bildirmek
- D) Yaşadıkları bölgenin dilini geliştirmek

**11) Aşağıdakilerden hangisi farz olan namazlara örnek olarak verilemez?**

- A) Cuma namazı
- B) Cenaze namazı
- C) Bayram namazı
- D) İkinci namazı



**12) Aşağıdakilerden hangisi nafile namazlardan değildir?**

- A) Teravih namazı      B) Cenaze namazı  
C) Tesbih namazı      D) Şükür namazı

I. kişinin duruma göre abdest alması, gusletmesi ya da teyemmüm almasıdır.

II. Namazda, vücudun başkalarına gösterilmesi yasak olan yerlerinin örtülmesi demektir.

III. beden, elbisenin ve namaz kılınacak yerin temiz olması demektir.

IV. Hangi namazın kılınacağını bilmek ve namaz ibadetini Allah (c.c.) için yapmayı kalben dilemektir.

**13) Yukarıdaki tanımların doğru sıralaması aşağıdakilerden hangisidir?**

- A) Hadesten taharet – Setr-i avret – Necasetten taharet – Niyet  
B) Necasetten taharet – Vakit – Setr-i Avret – Niyet  
C) İstikbal-i kıble – Necasetten taharet – Niyet – Setri avret  
D) Hadesten taharet – istikbal-i kıble – Niyet – Necasetten taharet

Namaz esnasında yerine getirilmesi zorunlu olan bu kurallara namazın içindeki farzlar (şartlar) denir.

**14) Buna göre aşağıdakilerden hangisi namazın içindeki farzlardan değildir?**

- A) Kıyam      B) Kıraat  
C) Ruku      D) Niyet

I. Ağız ve burnu yıkamak.

II. Baş mesh etmek.

III. Kulakları mesh etmek.

IV. Ayakları topuklarla beraber yıkamak.

**15) Yukarıdakilerden hangileri abdestin farzlarındandır?**

- A) I ve II      B) III ve IV  
C) II ve IV      D) I – II ve IV

**16) Aşağıdakilerden hangisi abdesti bozan bir durum değildir?**

- A) Ağlamak      B) Bayılmak  
C) Uyumak      D) Tuvalete gitmek

**17)** Suyun bulunmadığı veya bulunsa bile kullanılması mümkün olmadığı durumlarda, kişinin niyet ederek aldığı bir abdest çeşididir.

**Yukarıda tanımı verilen abdest çeşidi hangisidir?**

- A) Gusül abdesti
- B) Teyemmüm abdesti
- C) Namaz abdesti
- D) Boy abdesti

**18)** Sabah namazı ..... sünnet, .....farz olmak üzere ..... rekâttır.

**Yukarıdaki boşluklara sırasıyla hangi sayılar gelirse doğru olur?**

- A) 4 – 2 – 6
- B) 4 – 4 – 8
- C) 2 – 2 – 4
- D) 2 – 4 – 6

**19)** Aşağıdaki namazlardan hangilerinin cemaatle kılınması zorunludur?

- A) Teravih namazı
- B) Akşam namazı
- C) Öğle namazı
- D) Cuma namazı

- I. Gülmek
- II. Bir şey yemek
- III. Esnemek
- IV. Konuşmak
- V. Selam almak

**20)** Yukarıdakilerden hangileri namazı bozan durumlardan değildir?

- A) Yalnız I.
- B) Yalnız III.
- C) II. ve IV
- D) IV. ve V

<u>TÜRKÇE</u>	<u>MATEMATİK</u>	<u>SOSYAL BİLGİLER</u>	<u>FEN BİLGİSİ</u>	<u>İNGİLİZCE</u>	<u>DİN KÜLTÜRÜ</u>
<u>1-B</u>	<u>1-D</u>	<u>1-C</u>	<u>1-C</u>	<u>1-B</u>	<u>1-C</u>
<u>2-D</u>	<u>2-D</u>	<u>2-B</u>	<u>2-B</u>	<u>2-C</u>	<u>2-D</u>
<u>3-C</u>	<u>3-C</u>	<u>3-C</u>	<u>3-D</u>	<u>3-B</u>	<u>3-A</u>
<u>4-D</u>	<u>4-B</u>	<u>4-D</u>	<u>4-C</u>	<u>4-C</u>	<u>4-C</u>
<u>5-C</u>	<u>5-C</u>	<u>5-D</u>	<u>5-D</u>	<u>5-B</u>	<u>5-B</u>
<u>6-A</u>	<u>6-D</u>	<u>6-B</u>	<u>6-A</u>	<u>6-A</u>	<u>6-A</u>
<u>7-A</u>	<u>7-A</u>	<u>7-C</u>	<u>7-C</u>	<u>7-A</u>	<u>7-D</u>
<u>8-B</u>	<u>8-B</u>	<u>8-A</u>	<u>8-B</u>	<u>8-B</u>	<u>8-D</u>
<u>9-C</u>	<u>9-B</u>	<u>9-B</u>	<u>9-B</u>	<u>9-A</u>	<u>9-A</u>
<u>10-C</u>	<u>10-A</u>	<u>10-B</u>	<u>10-B</u>	<u>10-C</u>	<u>10-D</u>
<u>11-D</u>	<u>11-D</u>	<u>11-A</u>	<u>11-D</u>	<u>11-C</u>	<u>11-D</u>
<u>12-B</u>	<u>12-C</u>	<u>12-B</u>	<u>12-B</u>	<u>12-D</u>	<u>12-B</u>
<u>13-C</u>	<u>13-B</u>	<u>13-B</u>	<u>13-B</u>	<u>13-D</u>	<u>13-A</u>
<u>14-A</u>	<u>14-A</u>	<u>14-B</u>	<u>14-C</u>	<u>14-A</u>	<u>14-D</u>
<u>15-D</u>	<u>15-B</u>	<u>15-A</u>	<u>15-A</u>	<u>15-C</u>	<u>15-C</u>
<u>16-C</u>	<u>16-B</u>	<u>16-A</u>	<u>16-C</u>	<u>16-B</u>	<u>16-A</u>
<u>17-A</u>	<u>17-C</u>	<u>17-C</u>	<u>17-C</u>	<u>17-B</u>	<u>17-B</u>
<u>18-B</u>	<u>18-A</u>	<u>18-A</u>	<u>18-A</u>	<u>18-D</u>	<u>18-C</u>
<u>19-A</u>	<u>19-C</u>	<u>19-B</u>	<u>19-C</u>	<u>19-D</u>	<u>19-D</u>
<u>20-A</u>	<u>20-D</u>	<u>20-A</u>	<u>20-A</u>	<u>20-C</u>	<u>20-B</u>

### Çalışmada Emeği Geçen Öğretmenlerimiz

Ortaokul Koordinatörü Sancaklar Ortaokulu Müdürü  
**Bekir YEŞİL**

Fatih Projesi İl Koordinatörü  
**Tarık IŞIKTAŞ**

Bilişim Öğretmeni  
**Ruşen BAŞARI**

Türkçe Öğretmeni  
**Asiye BORAN**

Sosyal Bilgiler Öğretmeni  
**Vedat GÜNEŞ**

Fen Bilgisi Öğretmeni  
**Meryem DEMİRCİ**

İngilizce Öğretmeni  
**Büşra AKKUZU**

Din Kültürü Öğretmeni  
**Nurullah UĞUR**  
**İsmail MUŞTA**

Bu çalışma Siirt İl Milli Eğitim Müdürlüğü  
Öğretmenleri tarafından hazırlanmıştır. Emeklerinden dolayı teşekkür ederiz...