

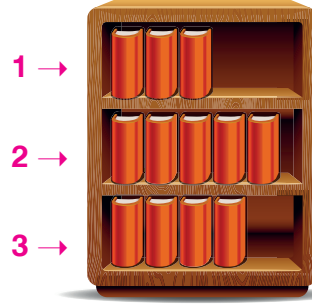


TÜRKÇE TESTİ

Bu testte 15 soru vardır.

Cevaplarınızı cevap kâğıdının TÜRKÇE TESTİ için ayrılan kısmına işaretleyiniz.

1.



Bir kitaplıkta 2 şiir, 3 öykü, 4 roman ve 3 tane de masal kitabı vardır. 1. rafta 3 adet kitap, 2. rafta 5 adet kitap, 3. rafta da 4 adet kitap vardır. Raflardaki kitaplar ve kitaplıkta bulundukları yerlerle ilgili bilinenler şunlardır:

- ✱ Roman, her rafta bir tane, 2. rafta 2 tane bulunmaktadır.
- ✱ Şiir, 1. ve 2. raftadır.
- ✱ Öykü kitaplarından biri, 1. raftadır.
- ✱ 2. rafta 2 adet masal kitabı vardır.

Verilen bilgilere göre kitaplığın 3. rafında hangi kitaptan kaç tane vardır?

- A) Bir öykü, bir roman, iki masal
B) İki öykü, bir roman, bir masal
C) İki roman, iki öykü
D) İki öykü, iki masal

2. Bir dala konmuştu karga cenapları

Ağzında bir parça peynir vardı

Sayın tilki kokuyu almış olmalı

Ona nağme yapmaya başladı

- Ooo! Karga cenapları, merhaba

Ne kadar güzelsiniz, ne kadar şirinsiniz

Gözüm kör olsun yalanım varsa

Kadife tüyleriniz gibiye sesiniz

Sultanı sayılırsınız bütün bu ormanın

Keyfinden akli başından gitti bay karganın

Göstermek için güzel sesini

Açınca ağzını, düşürdü nevaiesini

Bu fablla ilgili aşağıdakilerden hangisi söylenemez?

- A) İnsana ait özellikler insan dışındaki varlıklara aktarılmıştır.
B) Karganın tüyleri kadifeye benzetilmiştir.
C) Orman anlatılırken abartmaya yer verilmiştir.
D) Konuşurma sanatından yararlanılmıştır.

3.



(1) Osmanlı Dönemi'nde oyuncakçılığın merkezi İstanbul'un Eyüp semtiydi. (2) Burada üretilen oyuncaklara "Eyüp oyuncakları" denirdi ve bunlar, başka kentlere de gönderilirdi. (3) İçine su doldurup üflediğinizde öten düdüklü testi, yuvarlak çınçın, topaç Eyüp oyuncaklarından yalnızca birkaç tanesidir. (4) Zaman içinde teknolojinin hızla ilerleyip bu tip oyuncaklara ilginin azalmasıyla Eyüp oyuncakları ortadan kalktı.

Bu metinde numaralanmış cümlelerin hangisinde "neden-sonuç" ilişkisi vardır?

- A) 1
B) 2
C) 3
D) 4

4.

	CÜMLELER	ANLAMLAR
1.	Büyük bir heyecan içinde anne babama bu satırları yazıyorum.	Söz ve düşünceyi harflerle anlatmak
2.	Gazetede hafta sonları köşe yazıları yazıyorum.	Bir görev almak
3.	Çocuğu bu sene yatılı bir okula yazdılar.	Kaydetmek
4.	Bu yenilgi Almanyayı karıştırmış, gazeteler öyle yazıyor.	Haber vermek

Yukarıdaki cümlelerin hangisinde "yazmak" sözcüğü, karşısında verilen anlama uygun kullanılmamıştır?

- A) 1. B) 2. C) 3. D) 4.

5. Aşağıda "mı, mi" ekinin kullanımıyla ilgili bazı bilgiler verilmiştir:

- Kendinden önceki kelimeden ayrı yazılır ve bu kelimenin son ünlüsüne göre ünlü uyumuna uyar.
- Kendinden sonra gelen ekler, bu eke bitişik olarak yazılır.
- Soru anlamından başka görevlerde kullanıldığında da ayrı yazılır.

Buna göre aşağıdaki cümlelerin hangisinde "mı, mi" ekinin yazımı ile ilgili bir yanlış vardır?

- A) Satranç oynamayı sen de bil miyormusun?
B) Okuldan sonra gelecek misiniz maç izlemeye?
C) Buraya güzel mi güzel bir yazlık ev yaptırmışlar.
D) Ali Bey'e misafirlerinin geldiğini haber verdiniz mi?

6. Başkaları yaptıklarını görüp "Neden bu resmi yaptın?" diye sorarken ben ise "Neden böyle bir resim yapılmışın?" diye düşünürüm. (Pablo Picasso)

Bu cümlede Picasso aşağıdakilerden hangisini anlatmak istemiştir?

- A) Ressamlar, diğer insanlardan üstün özelliklere sahip kişilerdir.
B) Resim, insanları diğer sanat dallarından daha çok etkiler.
C) Sanatçılar, başkalarından farklı düşünüp yenilik yapmaya çalışan kişilerdir.
D) Bazı sanat eserleri kolay anlaşılır özellikte değildir.

7. Kısa çizginin (-) görevlerinden bazıları şunlardır:

- Satıra sığmayan kelimeler bölünürken satır sonuna konur.
- Arasında, ve, ile, ila, ...-den ...-e anlamlarını vermek için kelimeler veya sayılar arasında kullanılır.
- Heceleri göstermek için kullanılır.

Buna göre aşağıdaki cümlelerin hangisinde kısa çizgi (-) bu görevlerinden biriyle kullanılmamıştır?

- A) Hava sıcaklıklarının -2 °C'ye düşmesi bekleniyor.
B) Gazetenin kültür sayfasında sanatçılarla kısa söyleşiler yayımlanıyor.
C) Hanımeli sözcüğü "ha-nı-me-li" şeklinde hecelerine ayrılır.
D) Beşiktaş-Fenerbahçe karşılaşması, iki hafta sonra oynanacak.

8. Birçok kişi, trenle yolculuk etmeyi çok seviyor.

Bu cümlede altı çizili sözcüklerin yapısı aşağıdakilerin hangisinde sırasıyla doğru olarak verilmiştir?

- A) Birleşik - türemiş - basit
B) Türemiş - basit - birleşik
C) Basit - türemiş - birleşik
D) Birleşik - basit - türemiş

9. Kitabına uydurmak

- El üstünde tutmak
- Ağzını açmamak
- Lafa dalmak

Aşağıdakilerden hangisi bu deyimlerden herhangi birinin anlamı değildir?

- A) Konuşmamak
B) Söylemek isteğini söyleyememek
C) Yasal olmayan bir işi hile ile kanuna uygun gibi göstermek
D) Bir kimseye çok saygı ve sevgi göstermek

10.

**ULUSLARARASI
İŞİTME ENGELLİLER
HAFTASI**



EĞER ÇOCUĞUNUZ

- Yüksek seslere tepki vermiyorsa
- Seslendiğinizde size bakmıyorsa
- Sürekli ağlayarak kendini ifade ediyorsa
- Denge problemi yaşıyorsa
- Çocuğunuzun çevresine ilgisi azsa veya hiç yoksa

MUTLAKA HEKİME BAŞVURUN


saglik.gov.tr




[/SaglikBakanligi](#)

Bu görsel dikkate alındığında aşağıdaki çocukların hangisinde bir işitme rahatsızlığı olabileceği söylenemez?

- A) İsmi söylendiğinde buna bir tepki vermeyen Ahmet
- B) Gök gürültüsü ve uçak geçişi sırasında irkilmeyen Saadet
- C) Yürürken veya koşarken sağa sola yalpalayan Melih
- D) Sanatsal faaliyetlere katılmayı sevmeyen Murat

11. Geçtiğimiz hafta cumartesi günü öğle saatlerinde alışverişten dönüyordum ki uzun zamandır görmediğim bir komşumla karşılaştım. Yanında 14 yaşında kızı Filiz ve bir de küçük kızı İrem... Bir taraftan ne kadar kapanmışım eve ve ne kadar vefasız bir komşuyummuşum diye hayıflanırken diğer yandan da İrem bebeğin, saçlarını ve yanaklarını seviyorum. Allah'tan komşum beni biliyor. Tüm gayretiyle beni teselli etmeye çalışıyor. "Rahatsızlığın nasıl gidiyor? İnşallah daha iyisindir görüşmeyeli..." gibi sözlerle. Lafı daha fazla uzatmak istemedim. İlaç saatim de gecikiyor. "Sizi gördüğüme sevindim, arayacağım." diyerek ayrıldık birbirimizden. Canım komşum benim sen ne iyisin!

Bu parça aşağıdaki metin türlerinin hangisinden alınmıştır?

- A) Biyografi
- B) Anı
- C) Günlük
- D) Deneme

12.



Bu görseli en doğru anlatan metin, aşağıdakilerden hangisidir?

- A) Benim adım Emre. Kız kardeşim Aysun'la birlikte geniş bahçeli bir evde oturuyoruz. Arada sırada bahçeye çıkıyoruz. Bahçede kazlarımız ve tavuklarımız var. Ben tavukları ve civcivleri çok severim. Kardeşimse kazlara bayılır. Onlara yiyecek vermek için bazen birbirimizle yarış yapıyoruz. Genellikle ilk önce ben tavuklara yemleri veririm. Sonra artan yemleri kardeşim alır ve kazların önüne serper.
- B) Dünyaya civciv olarak gelmek ne kadar güzel! Kardeşlerimle bir iki hafta önce yumurtadan çıktık. Onları çok seviyorum. Annemiz bizi bahçeye gezmeye çıkarıyor. Orada gezerken bazen toprakta yem de buluyoruz. Annem önce bizi yanına çağırıyor. Bulduğumuz yemlerin ne olduğunu, bizi nasıl besleyeceğini tek tek anlatıyor.
- C) Doğanın içinde ağaçlarla, hayvanlarla, otlarla, böceklerle vakit geçirmeye bayılıyorum. Okuldan çıktıktan sonra, yaşadığımız evin yakınlarında oturan arkadaşım Metinlere gidiyorum ara sıra. Metinlerin bahçesinde besledikleri tavuklara yem veriyoruz birlikte. Anne tavukla birlikte altı tane küçücük civciv var. Ne kadar da sevimliler!
- D) Ben bir anaç tavuğum. Her sene yumurtalarımın çıkan civcivler yetiştiriyorum. Bu sene dört tane civcivim oldu. Onları bahçelerde gezdiriyorum. Bazen çocuklar bana ve civcivlerime yem veriyor. Yavrularımı beslerken bana yardımcı oldukları için onlara teşekkür ediyorum. Bugünlerde gündüzleri hava sıcaklıkları iyi giderken geceleri çok soğuk oluyor. Yavrularımı kümeste kanatlarımın altına alıp geceleri soğuktan koruyorum.

13. Bedenimizin sıcaklığı beynimiz tarafından kontrol edilir. Sağlıklı olduğumuz sürece ateşimiz yaklaşık 37°C'dir. Hastalık yapan bakteri ve virüsler bedenimize girdiğinde ateşimiz yükselir. Bunun nedenini şöyle açıklayabiliriz: Hastalık yapan bakteriler ve virüsler bazı maddeler üretir. Bu maddeler de bedenimizde "pirojen" denilen özel maddeler üretilmesine neden olur. Pirojenler, beynimizde sıcaklığı kontrol eden bölümü etkileyerek ateşimizin yükselmesine sebep olur.

Bu metinde, aşağıdakilerden hangisine değinilmemiştir?

- A) Vücudun normal beden sıcaklığına
- B) Vücutta neden ateşlenme meydana geldiğine
- C) Vücudun yüksek ateşle nasıl mücadele ettiğine
- D) Vücut sıcaklığının beyin tarafından ayarlandığına



14. I. Elbette bu oyuncaklarda hareketi gerçekleştiren elektrik motorlarını beslemek için enerji sağlayan piller de bulunur.
 II. İster bir otomobil ister bir gemi isterse bir uçak şeklinde olsun radyo kontrollü oyuncaklar aslında oyuncak şeklinde makinelerdir.
 III. Bu nedenle hepsinin belirli frekanslarda radyo dalgaları yayınlatabilen vericisi, bunları yakalayabilen alıcısı, dalgaları komut sinyallerine dönüştüren elektronik devreleri vardır.
 IV. Adından da anlaşıldığı gibi bu makineler, radyo dalgalarıyla kumanda edilir.

Numaralanmış parçalar nasıl sıralanırsa anlamlı bir metin oluşur?

- A) II - IV - III - I
- B) II - III - IV - I
- C) III - II - IV - I
- D) I - IV - III - II

15. Kitaplarımı yazarken üzerinde epey bir düşünürüm, yazmaya başlamadan önce karakterler, plan ve konu hakkında notlar alırım. Kafa yorarken ve daha sonraki yazma aşamasında bunlara yeni ayrıntılar da eklenir. Böylesinin daha gerçekçi olduğunu düşünüyorum, ne de olsa yaşamın kendisi de tek bir konudan ibaret değil. En önemlisi de çelişkiler... Bizi biz yapan şeydir çelişki ve zıtlıklar. Bu yüzden de ana karakterlerimi her zaman çelişkilerin içine bırakırım, böylece tek yönlü ve durağan olmalarını engelleyebilirim.

Bu parçanın bütününde yazar, aşağıdakilerin hangisinden söz etmektedir?

- A) Eserlerini kolay ve pratik bir şekilde yazamadığından
- B) Eserlerini yazarken nasıl bir yol takip ettiğinden
- C) Karakterlerini oluştururken çevresindeki kişilerden esinlendiğinden
- D) Toplumu yansıtan gerçekçi eserler yazmaya çalıştığından

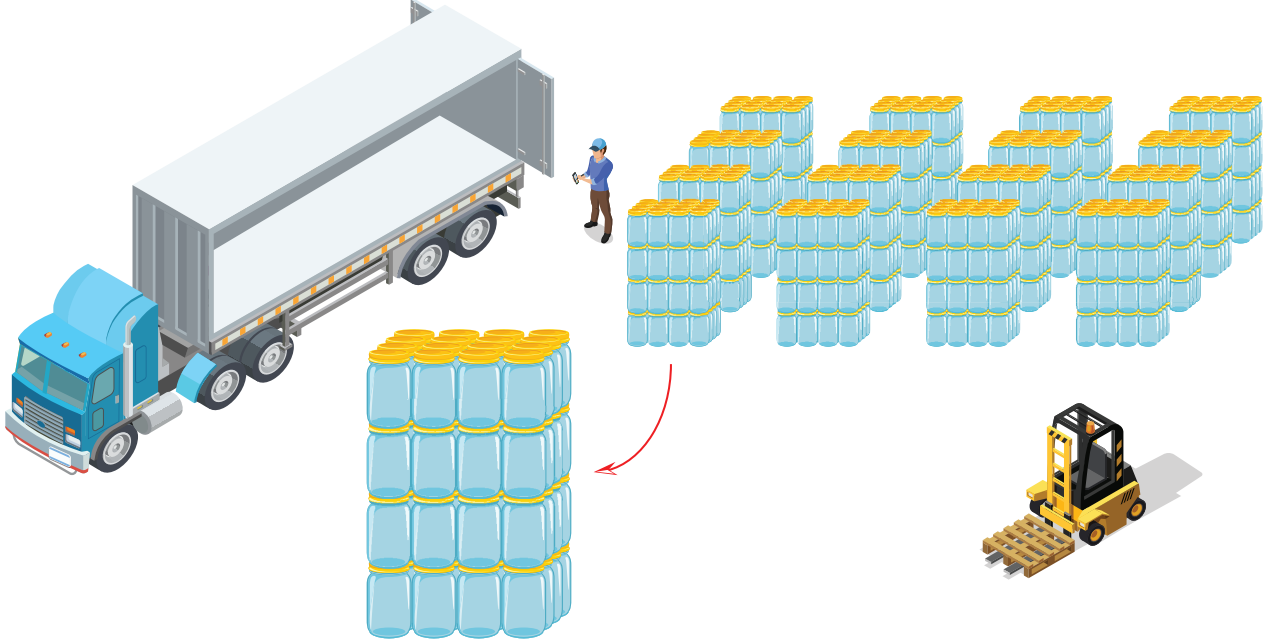


MATEMATİK TESTİ

Bu testte 15 soru vardır.

Cevaplarınızı cevap kâğıdının MATEMATİK TESTİ için ayrılan kısmına işaretleyiniz.

1.



Yukarıda okla gösterilen kavanoz paketlerinden 16'sı şekildeki tıra yüklenerek bir market zincirinde satışa sunulmak üzere taşınacaktır.

Buna göre, tıra yüklenecek olan kavanozların sayısı aşağıdakilerden hangisine eşittir?

A) 4^4

B) 2^9

C) 4^5

D) 2^{12}

2. Üslü biçimde verilen

$$3^5$$

sayısının çarpım şeklinde yazılışı aşağıdakilerden hangisi olabilir?

A) 3×5

B) $3 + 3 + 3 + 3 + 3$

C) $5 \times 5 \times 5$

D) $3 \times 3 \times 3 \times 3 \times 3$

3. Serkan, bilgisayarının açılışına dört basamaklı bir şifre koymuştur. Şifre 3 ve 5 ile tam bölünebilen bir sayıdır.



Serkan şifrede 4 ve 7'nin yerini doğru hatırladığına göre, diğer iki sayı aşağıdakilerden hangisi olabilir?

A) 2 ve 0

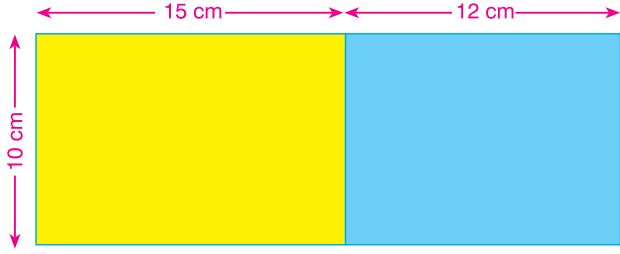
B) 3 ve 5

C) 4 ve 0


D) 4 ve 6

Yanıt Yayınları

4. Aşağıdaki Şekil - 1'de ön yüzleri sarı ve mavi, arka yüzleri beyaz renkli olan dikdörtgen şeklinde iki karton verilmiştir. Sarı renkli kartonun kenar uzunlukları 10 cm ve 15 cm, mavi renkli kartonun kenar uzunlukları 10 cm ve 12 cm'dir.



Şekil - 1



Şekil - 2

Bu kartonların birer kenarları yukarıdaki gibi katlanarak Şekil - 2 elde edilmiştir.

Buna göre Şekil - 2'de; sarı renkli dikdörtgenin alanının, mavi renkli dikdörtgenin alanından kaç cm^2 fazla olduğunu veren işlem aşağıdakilerden hangisidir?

- A) $10 \cdot (14 + 10)$ B) $10 \cdot (14 - 10)$ C) $10 \cdot 13 - 12 \cdot 8$ D) $10 \cdot (13 - 8)$

5. Bir manavda satılan kiraz, muz ve üzümün kilogram fiyatları aşağıda verilmiştir.



Kiraz
1 kg : 9 TL



Muz
1 kg : 8 TL



Üzüm
1 kg : 6 TL

Metin Bey, bu manavdan 2 kilogram kiraz, 3 kilogram muz ve bir miktar üzüm almıştır.

Aldığı meyveler için manava 100 TL veren Metin Bey, para üstü olarak 40 TL aldığına göre, kaç kilogram üzüm almıştır?

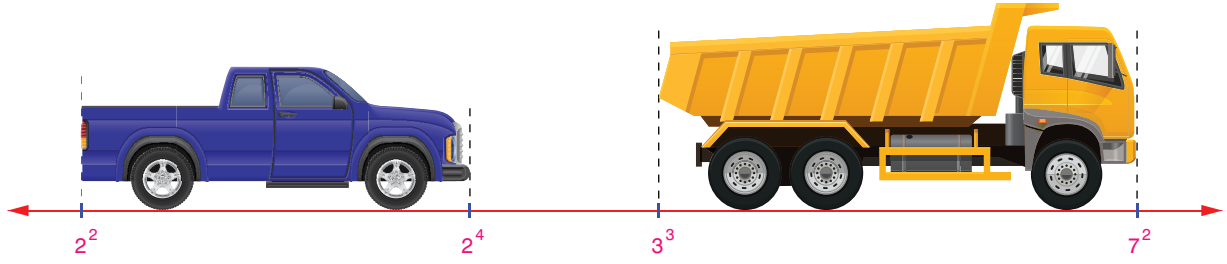
- A) 2 B) 3 C) 4 D) 5

6. $37 - 12 \div 2 - (6^2 \div 9)$

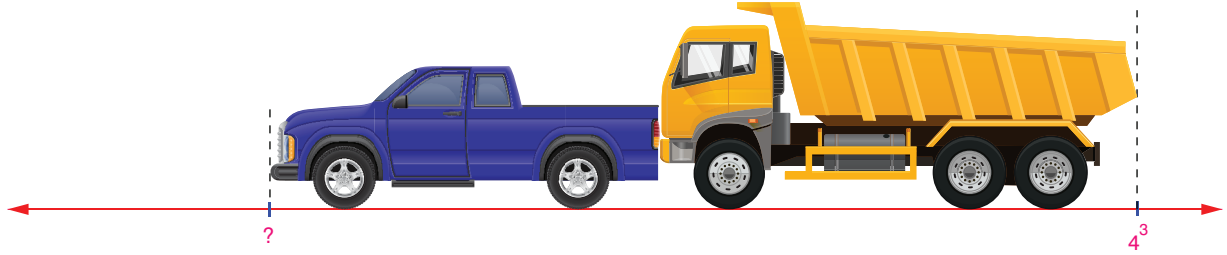
işleminin sonucu aşağıdakilerden hangisine eşittir?

- A) 4^2 B) 3^3 C) 6^2 D) 2^5

7.



Yusuf, mavi renkli kamyonetini ve sarı renkli kamyonunu sayı doğrusu üzerine yerleştirdiğinde yukarıdaki görüntüyü elde etmiştir.



Yukarıda ise iki araç sayı doğrusu üzerine aralarında boşluk kalmayacak şekilde yerleştiriliyor.

Kamyonun arka ucu 4^3 noktasına denk geldiğine göre, "?" yerine gelmesi gereken sayı kaç olur?

A) 30

B) 28

C) 26

D) 24

8. Aşağıdaki kartların üzerinde yazan sayılardan, 6 ile tam bölünenler 1. kutuya, 9 ile tam bölünenler 2. kutuya, 5 ile tam bölünenler 3. kutuya, diğer sayılar da 4. kutuya atılacaktır.

93	42	204	345	265	995
153	333	363	156	1002	6867



1. Kutu



2. Kutu



3. Kutu



4. Kutu

Kartlar doğru bir şekilde kutulara atıldığına göre, aşağıdakilerden hangisi doğrudur?


A) 3. kutudaki kart sayısı 4'tür.

B) 2. kutudaki kart sayısı, 4. kutudaki kart sayısına eşittir.

C) 6867 sayısının yazılı olduğu kart, 4. kutudadır.

D) 1. kutudaki kart sayısı, 4. kutudaki kart sayısının 2 katına eşittir.

9. Mustafa Bey, aşağıda peşinat ve taksit tutarları verilen tablet, bilgisayar ve televizyon için belirtilen peşinatları ödeyerek bu ürünlerden birer tane almıştır. Üç ürünün de taksit sayısı eşittir.



Tablet
Peşinat: 250 TL
Taksit: 150 TL



Bilgisayar
Peşinat: 500 TL
Taksit: 200 TL



Televizyon
Peşinat: 800 TL
Taksit: 450 TL

Bilgisayarın fiyatı, televizyonun fiyatından 2300 TL daha az olduğuna göre, tabletin fiyatı kaç TL'dir?

- A) 1050 B) 1200 C) 1450 D) 1600

10. 1A ve A7 iki basamaklı asal sayılar olduğuna göre, A yerine kaç farklı rakam yazılabilir?

- A) 2 B) 3 C) 4 D) 5

12. Yeşilkent Sitesi'nde tamamında oturlan 600 daire vardır. Bu dairelerin yarısı 3 + 1 tipi daire, üçte biri 2 + 1 tipi daire, diğerleri 1 + 1 tipi dairedir.



Aşağıdaki tabloda bu sitede daire tipine göre aylık ödenecek aidat miktarları verilmiştir.

Daire Tipi	Aidat (TL)
1 + 1	120
2 + 1	150
3 + 1	180

Buna göre, sitede 1 ayda toplanacak aidat miktarı kaç TL'dir?

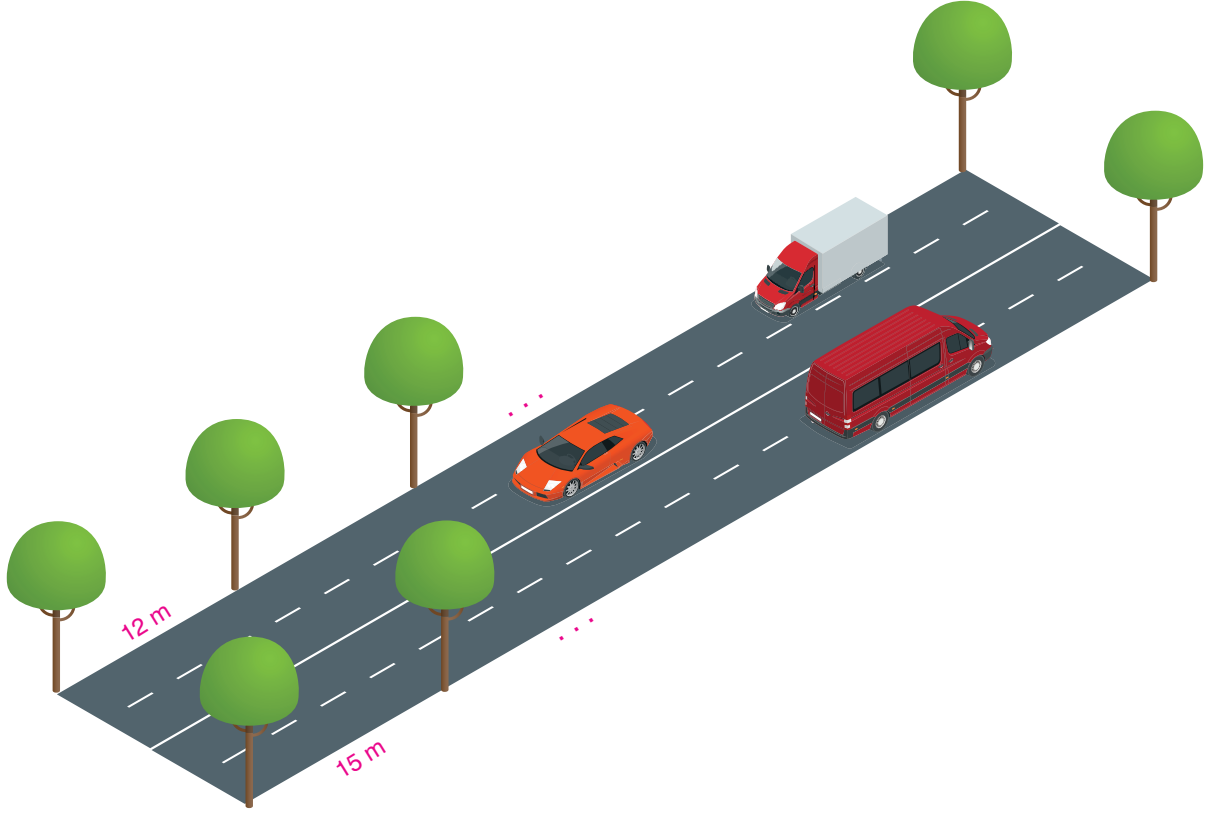
- A) 96 000 B) 100 000
C) 104 000 D) 106 000

11. Bir çiftçi ürettiği 6000 kg soğanın tamamını beşer kilogramlık filelere dolduruyor.

1 file soğanı 16 TL'den satan çiftçinin eline tüm soğanların satışından en fazla kaç TL geçer?

- A) 19 000 B) 19 200
C) 19 400 D) 19 600

13. Bir yolun iki tarafına, başta ve sonda da olacak şekilde eşit aralıklarla ağaç dikiliyor. Yolun sağ tarafındaki ağaçlar arasındaki mesafe 15 metre ve sol tarafındaki ağaçlar arasındaki mesafe 12 metredir.



Buna göre, bu yolun uzunluğu aşağıdakilerden hangisi olabilir?

- A) 330 m B) 400 m C) 720 m D) 800 m

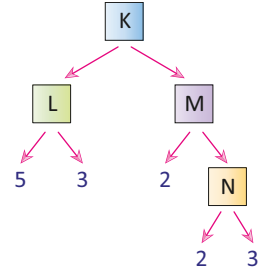
14. Aşağıda verilen dikdörtgen şeklindeki tabelanın kenar uzunlukları santimetre türünden birer doğal sayıdır. Bu tabelanın bir yüzünün alanı 200 santimetrekaredir.



Buna göre, bu tabelanın çevre uzunluğu aşağıdakilerden hangisi olamaz?

- A) 60 B) 66 C) 90 D) 106

15. Aşağıdaki şekilde K sayısının çarpan ağacı verilmiştir.



Buna göre aşağıdakilerden hangisi yanlıştır?

- A) $N = 6$ 'dır.
 B) M'nin 2 tane asal çarpanı vardır.
 C) $K = 180$ 'dir.
 D) K'nin asal çarpanları toplamı 15'tir.




FEN BİLİMLERİ TESTİ

Bu testte 15 soru vardır.

Cevaplarınızı cevap kâğıdının FEN BİLİMLERİ TESTİ için ayrılan kısmına işaretleyiniz.

1.



Yüzeyi kırmızı renkteki toz ve kayalarla kaplı olduğundan “Kızıl Gezegen” olarak da bilinir.

Bu gezegen ile ilgili,

- I. İki uydusu vardır.
- II. Güneş sisteminin en küçük gezegenidir.
- III. Dünya’dan teleskopla bakıldığında yüzey şekilleri gözlenemez.

İfadelerinden hangileri yanlıştır?

- A) Yalnız II B) Yalnız III C) II ve III D) I, II ve III

Deneme sınavında yer alan yukarıdaki soruya, 6-B sınıfı öğrencilerinden 5 kişi A şıkkı, 7 kişi B şıkkı, 8 kişi C şıkkı, 4 kişi de D şıkkı cevabını vermiştir.

Buna göre soruya doğru ve yanlış cevap veren öğrenci sayısı sırasıyla aşağıdakilerden hangisinde doğru verilmiştir?

- A) 4 – 20 B) 5 – 19 C) 7 – 14 D) 8 – 16

2.

	Dünya	Merkür	Uranüs
Diğerlerinden büyüktür.			✓
Uydusu vardır.	✓		✓
Karasal gezegendir.	✓	✓	✓
Güneş’e diğerlerinden yakındır.		✓	

Mehmet, fen bilimleri kitabında yer alan gezegenler ve özellikleri ile ilgili etkinliği yukarıdaki gibi doldurmuştur.

Buna göre,

- I. Dünya ile ilgili yaptığı işaretlemelerin tamamı doğrudur.
- II. Merkür ile ilgili yaptığı işaretlemelerin tamamı doğrudur.
- III. Uranüs ile ilgili yaptığı işaretlemelerin tamamı yanlıştır.

Verilenlerden hangileri doğrudur?

- A) Yalnız I B) Yalnız II
C) I ve II D) I, II ve III

3.

Uydusu bulunmayan gezegenler

Merkür
Venüs
Uranüs


Uydusu bulunan gezegenler

Dünya
Mars
Jüpiter
Satürn
Neptün








Fen bilimleri yazısına çalışan Mehmet, gezegenler ile ilgili yukarıdaki tabloyu oluşturuyor. Ertesi gün hazırladığı tabloyu öğretmenine gösteriyor.

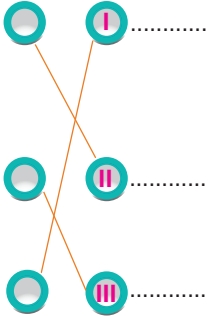
Buna göre öğretmenin tablo ile ilgili Mehmet’e verdiği cevap aşağıdakilerden hangisidir?

- A) Uranüs’ün yerini değiştirirsen hazırladığın tablo hatasız olur.
B) Tabloda Jüpiter’in yerini değiştirmelisin.
C) Neptün ve Uranüs gezegenlerinin yerlerini değiştirirsen, hazırladığın tablo doğru olur.
D) Aferin Mehmet, tabloyu doğru hazırlamışsın.

4.  X gezegeni
- Güneş'e yakınlık bakımından ikinci sırada yer alır.
 - Güneş sisteminin altıncı büyük gezegenidir. Dünya ile hemen hemen aynı büyüklüğe sahiptir.
 - Yüzey sıcaklığı yaklaşık olarak 460 °C'tur.
 - Uydusu ve halkası yoktur.
 - Parlak görünümünden dolayı halk arasında "Çoban Yıldızı" olarak bilinir.

Aşağıdakilerden hangisinde X gezegeninden küçük ve büyük gezegenler doğru verilmiştir?

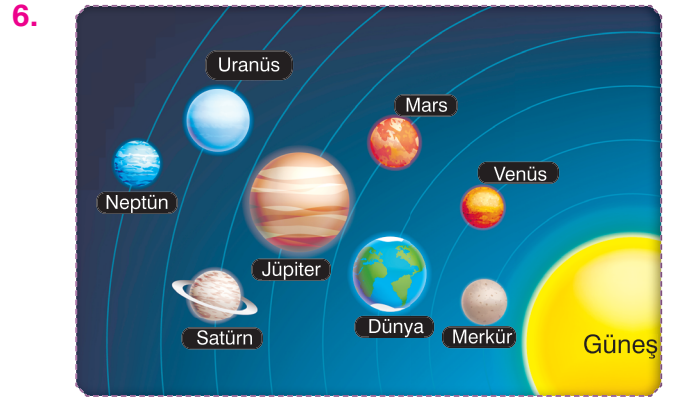
	X gezegeninden küçük	X gezegeninden büyük		X gezegeninden küçük	X gezegeninden büyük
A)			B)		
	Mars	Jüpiter		Satürn	Neptün
C)			D)		
	Merkür	Mars		Uranüs	Merkür

5. Güneş'e yakınlık bakımından dördüncü sırada yer alır, büyük oranda karbondioksit içeren ince bir atmosferi vardır.
- Atmosferdeki yoğun karbondioksitten dolayı sera etkisi yaşanır ve parlak görünümüne sahiptir.
- Sistemin ikinci büyük gezegeni olup, Güneş'e yakınlık bakımından altıncı sıradadır.
- 

Yukarıda gezegenlerin özellikleri ile ilgili hazırlanan bir etkinlikte yapılan eşleştirme gösterilmiştir.

Buna göre I, II ve III numaralı gezegenlerin isimleri aşağıdakilerden hangisinde doğru verilmiştir?

	I	II	III
A)	Satürn	Mars	Venüs
B)	Satürn	Venüs	Mars
C)	Venüs	Mars	Satürn
D)	Mars	Satürn	Venüs

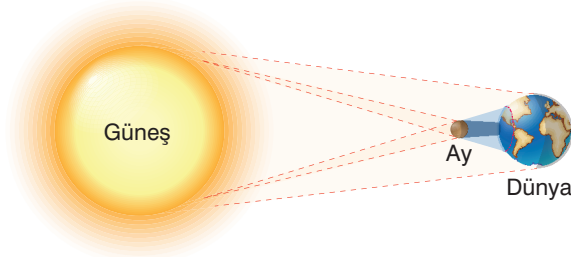


Yukarıdaki görselde Güneş sisteminde yer alan gezegenler verilmiştir.

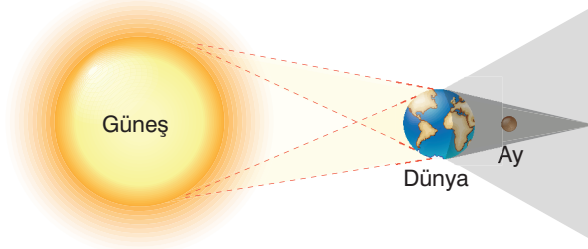
Buna göre aşağıdakilerden hangisi yanlıştır?

- A) Merkür, Venüs, Dünya ve Mars iç gezegenler sınıfında yer alır.
- B) Jüpiter, Satürn, Uranüs ve Neptün dış gezegenler sınıfında yer alır.
- C) Asteroit kuşağı Jüpiter ile Satürn arasında yer alır.
- D) Merkür ve Venüs gezegenlerinin uydusu yokken diğer gezegenlerin uydusu vardır.

7.



Ay'ın yörünge hareketi sırasında Dünya ve Güneş arasına girmesi ve bu sebeple de Ay'ın Güneş'i tamamen ya da kısmen örtmesi sonucunda gözlemlenen olaya **Güneş tutulması** denir.



Ay'ın yörünge hareketi sırasında Dünya'nın, Ay ve Güneş arasına girmesi ve bu sebeple de Dünya'nın gölgesinin Ay'ın üzerine düşmesi sonucunda gözlemlenen olaya **Ay tutulması** denir.

Serap Öğretmen, Güneş ve Ay tutulmaları ile ilgili yukarıdaki bilgileri verdikten sonra sınıfta bulunan öğrencilerinden karpuz, portakal ve kiraz kullanarak Güneş ve Ay tutulmalarını gösteren modeller tasarlamalarını istiyor. Serap Öğretmen öğrenciler modellerini hazırlamaya başlamadan önce "Bu tasarımda meyvelerin büyüklükleri ile gök cisminin büyüklüğü arasında benzerlik kurarak eşleştirme yapmalı ve tutulma sırasında gök cisimlerinin konumlarını doğru sıralamalısınız." uyarısında bulunuyor. Hüseyin ve Menekşe öğretmenlerinin verdiği materyalleri kullanarak aşağıdaki modelleri tasarlıyor.

Hüseyin'in sıralaması:



Menekşe'nin sıralaması:



Serap Öğretmen, öğrencilerden Hüseyin ve Menekşe'nin yaptığı modelleri değerlendirmelerini istiyor.

Buna göre aşağıdaki öğrencilerden hangisinin değerlendirmesi doğrudur?

A)

Arda



Hüseyin Güneş tutulmasını, Menekşe ise Ay tutulmasını şekilde modellemiştir.

B)

Hüseyin Güneş tutulmasını doğru modellemiş, Menekşe ise portakal ve karpuzun yerlerini değiştirirse Ay tutulmasını modellemiş olur.



Müge

C)

Sefa



Hüseyin, kiraz ve portakalın yerlerini değiştirirse Güneş tutulmasını, Menekşe kiraz ve karpuzun yerlerini değiştirirse Ay tutulmasını modellemiş olur.

D)

Hüseyin Ay tutulmasını, Menekşe ise Güneş tutulmasını şekilde modellemiştir.



Lale

8. Aşağıdaki şemada iskeletimizde bulunan kemikler ve kemik bölgelerinden bazıları verilmiştir.



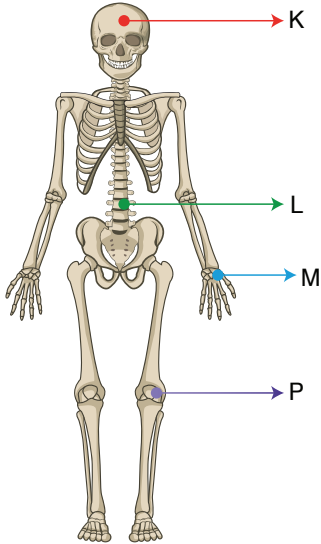
Şemadaki iskelet kısımlarında;

- I. Kısa kemik
- II. Yassı kemik
- III. Uzun kemik

verilenlerden hangileri bulunmaktadır?

- A) Yalnız II
- B) I ve II
- C) I ve III
- D) I, II ve III

9. Aşağıdaki şekilde dört eklem işaretlenmiştir.



“

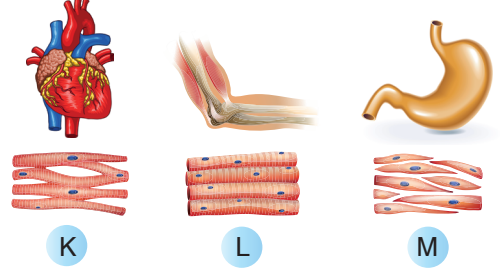
W: Kemikler birbirine sıkı biçimde bağlanmıştır. Kemikler arasında boşluk yoktur ve kemiklerin hareket yeteneği bulunmaz.

”

Şekildeki eklemlerden hangisi "W" özelliğine sahiptir?

- A) M
- B) L
- C) K
- D) P

10. Farklı kas çeşitlerini içeren organlardan üç tanesi aşağıda verilmiştir.

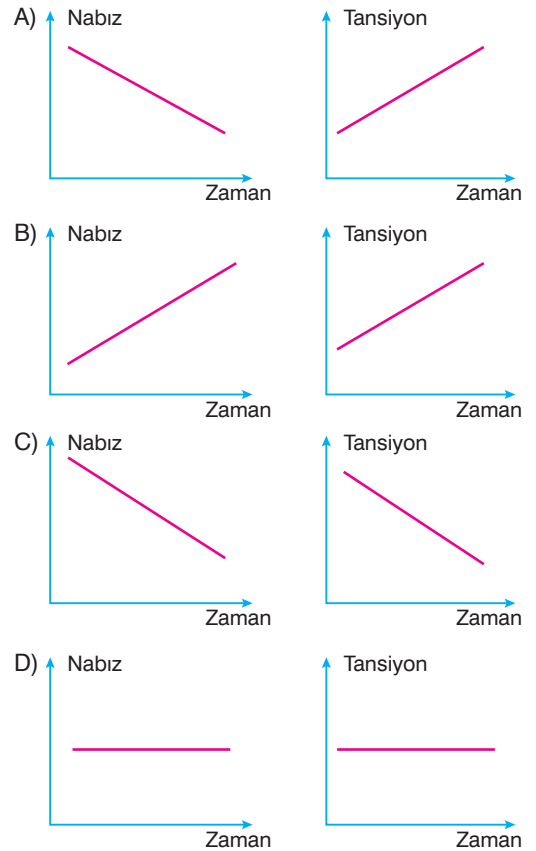


Bu organlardaki kasların çalışma hızıyla ilgili olarak aşağıda verilen eşleştirmelerden hangisi doğrudur?

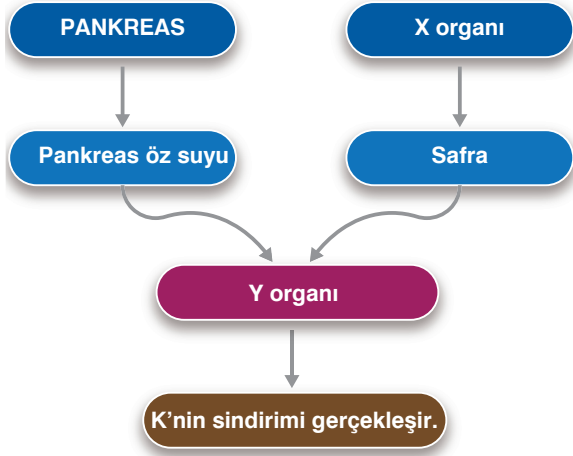
	K	L	M
A)	Hızlı	Yavaş	Yavaş
B)	Hızlı	Hızlı	Yavaş
C)	Yavaş	Hızlı	Yavaş
D)	Yavaş	Hızlı	Hızlı

11. Kalbin her kasılışında atardamarlara yaptığı vuruş etkisine **nabız**, akan kanın damarların iç duvarlarına yaptığı sıvı basıncına da **tansiyon** denir.

Koşup oynamaya başlayan bir çocuktaki nabız ve tansiyon değeri hangisindeki gibi değişir?



12. Besin sindiriminde görevli X organı, Y organı ve sindirilen K besiniyle ilgili olarak aşağıdaki şema hazırlanmıştır.



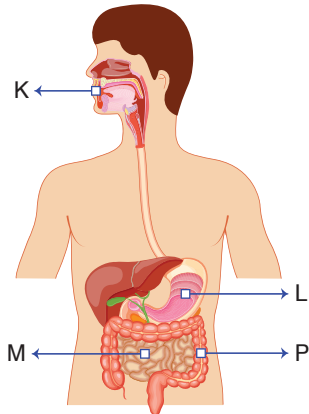
Yukarıda verilen şemayı tamamlamak için;

- I. Y organı yerine ince bağırsak
- II. K besini yerine yağ
- III. X organı yerine akciğer

ifadelerinden hangileri yazılabilir?

- A) Yalnız II
- B) I ve II
- C) I ve III
- D) I, II ve III

13. Sindirim sisteminin bazı organları aşağıdaki şekilde numaralandırılmıştır.



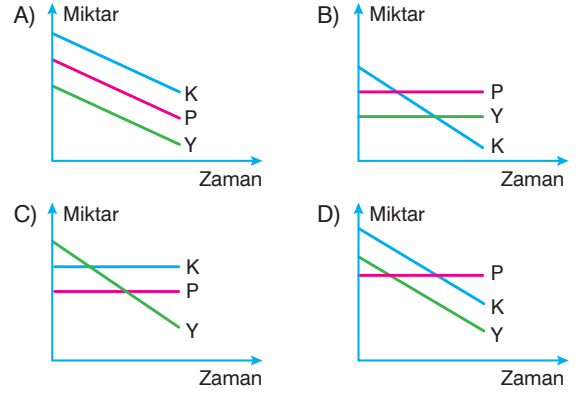
K, L, M ve P organlarıyla ilgili olarak, aşağıdakilerden hangisi yanlıştır?

- A) K'de katı besinler yutulabilecek kadar küçük parçalara ayrılır ve ıslatılır.
- B) L'de katı ve sıvı besinler karıştırılarak bulamaç haline getirilir.
- C) M'de besinlerin sindirimi tamamlanır.
- D) P'de sindirilmiş olan besinler kana emilir.

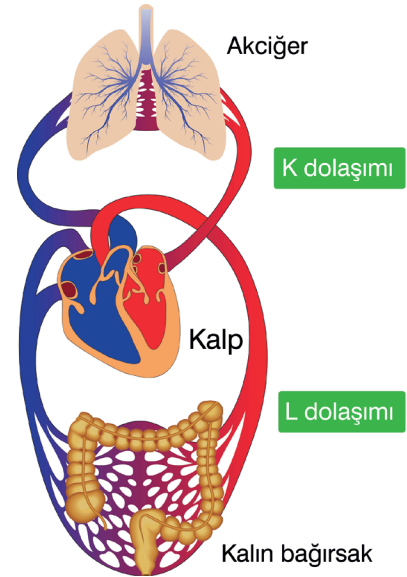
14. Karbonhidrat, yağ ve proteinler fiziksel ve kimyasal sindirime uğrayarak kana emilebilecek kadar küçültülür. Besinlerin sindirilmesinde ağız, mide ve ince bağırsak görev yapar.

Aşağıda verilenlerden hangisinde büyük moleküllü besin miktarının ince bağırsaktaki sindirimi gösterilmiştir?

(K: karbonhidrat, Y: yağ, P: protein)



15. Aşağıda iki vücut organıyla ilgili olan kan dolaşimleri gösterilmiştir.



Şekilde verilen dolaşımlarla ilgili olarak;

- I. K dolaşımında kandaki oksijen miktarı artar.
- II. L dolaşımında organa besin ve oksijen iletilir.
- III. Her iki dolaşımda da kalp, atardamar ve toplardamar ortak olarak görev yapar.

açıklamalarından hangileri doğrudur?

- A) Yalnız II
- B) I ve II
- C) I ve III
- D) I, II ve III



SOSYAL BİLGİLER TESTİ

Bu testte 10 soru vardır.

Cevaplarınızı cevap kâğıdının SOSYAL BİLGİLER TESTİ için ayrılan kısmına işaretleyiniz.

1.



Yağız

Bayram sabahı bayramlıklarımı giyip babamla birlikte bayram namazına gittik. Camiden çıkınca herkes bir sıraya dizildi ve birbirlerimizle bayramlaştık. Bu sırada bazı amcalar bana para ve şeker gibi hediyeler verdi. Eve geldiğimizde annem, babam ve kardeşlerimle bayramlaştım. Annem ve babam da bizlere hediyeler verdi. Hep beraber kahvaltı yaptıktan sonra akrabalarımızı ziyarete gittik.

Yağız'ın anlatımı, kültürümüzü oluşturan değerlerden hangisiyle ilişkilendirilebilir?

A) Tarih

B) Dil

C) Din

D) Mimari

2.



Genellikle cami etrafında bulunan ve üzerinde para koyabilecek bir oyuğu bulunan sadaka taşları, mesaisine akşam karanlığında başlardı. Dar ve çıkmaz sokaklı Osmanlı mahallesine karanlık çöktüğünde canlanırdı sadaka taşları.

Sadaka taşlarına para bırakıldıktan sonra ihtiyacı olan kişi sadaka taşından sadece ihtiyacı kadarını alır ve diğer ihtiyaç sahiplerini de düşünürdü.

Genel Ağ haberi 05/10/2017

Bu Genel Ağ haberi, Osmanlı toplumunda aşağıdakilerden hangisine verilen önemin göstergesi sayılamaz?

A) Toplumsal yardımlaşma ve dayanışmaya

B) Toplumsal huzur ve barışa

C) Muhtaçların ihtiyaçlarının karşılanmasına

D) Çevrenin temiz tutulmasına

3. ✨ Hz. Ömer Dönemi'nde Kudüs, Suriye-Filistin, İran ve Mısır fethedilmiştir.

✨ Hz. Osman Dönemi'nde ilk İslam donanması oluşturulmuş ve Kıbrıs Adası fethedilmiştir.

Bu bilgilere göre, Hz. Ömer ve Osman Dönemlerinde aşağıdakilerden hangisine önem verildiği söylenebilir?

A) Kur'an'ın aslının korunmasına

B) Ülke sınırlarının genişletilmesine

C) Merkezi yönetimin güçlendirilmesine

D) Adaletli bir yönetimin uygulanmasına

4. Milletimiz tarih boyunca kurduğu devletlerin bünyesinde farklı dinleri, mezhepleri ve etnik kökenleri barındırmıştır. Türk devletlerinde farklı milletler bir arada ve barış içinde yaşamışlardır.

Buna göre Türklerle ilgili aşağıdakilerden hangisi söylenemez?

A) Farklılıklara saygı gösterdikleri

B) Farklılıklara karşı ön yargılı davrandıkları

C) Farklı kültür ve kimliklere karşı hoşgörülü oldukları

D) Etnik köken ya da inanca dayalı ayrımcılık yapmadıkları

Yanıt Yayınları

5. Rollerimiz bize bazı haklar ve sorumluluklar yükler. Üstlendiğimiz rolün gereklerine uygun davrandığımızda sorumluluklarımızı da yerine getirmiş oluruz.

Buna göre aşağıdaki kişilerden hangisinin rolünün gereklerine uygun davrandığı söylenemez?

- A) 11 yaşındaki Buse'nin ev işlerinde annesine yardım etmesi
- B) Nihal Hanım'ın okula başlayan kızının beslenmesi için sağlıklı yiyecekler hazırlaması
- C) Sinan'ın, 14.30'da okuldan çıkıp akşam saat 19.00'a kadar parkta oyun oynaması
- D) Sedat Bey'in bir iş yerinde çalışarak kazandığı para ile ailesinin ihtiyaçlarını karşılaması

6. Hz. Muhammed'in Mekke'den Medine'ye hicretinden sonra gerçekleştirdiği ilk faaliyetlerden biri Mescidi Nebvî'nin inşasıdır. Hz. Muhammed'in de yapımında çalıştığı mescit, ensar ve muhacirlerin kaynaşması için iyi bir fırsat oldu. Mescidin yanına öğrencilerin kalması ve eğitim görmeleri için odalar (suffe) yapıldı. Mescidin bazı odaları da yoksul muhacirler için ayrıldı.

Bu bilgilerde Hz. Muhammed'in aşağıdakilerin hangisine verdiği önemden bahsedilmemiştir?

- A) Eğitim ve öğretime
- B) Birlik ve beraberliğe
- C) Yardımlaşma ve dayanışmaya
- D) Farklı fikirlerden yararlanmaya

7. Bu eser;

- ✱ Kaşgarlı Mahmud tarafından yazılarak Abbasi hali-fesine sunulmuştur.
- ✱ Araplara Türk dilini öğretmek amacıyla yazılmıştır.
- ✱ Çeşitli Türk topluluklarının lehçelerinden örnekler içerir.
- ✱ Türklerin yaşadığı coğrafyaya, ekonomisine, sosyal hayatına ve inançlarına ait önemli bilgiler içerir.
- ✱ Türk dünyasını gösteren bir haritaya sahiptir.

Bu bilgilerin ait olduğu eser aşağıdakilerden hangisidir?

- A) Kutadgu Bilig
- B) Divân-ı Hikmet
- C) Atabetü'l Hakâyık
- D) Dîvânü Lugâtî't-Türk

8. Sosyal bir varlık olan insan toplum hâlinde yaşar. İnsanların ortak yaşamlarını düzenleyen birtakım kuralları vardır. Anayasa ve yasalarla düzenlenen yazılı kurallarla birlikte gelenek ve görenekler, görgü kuralları vb. yazısız kuralların oluşturduğu bu kurallara uyulmadığı takdirde toplum yaşamında kargaşa doğar, rahat ve mutlu bir yaşam sürdürülemez. Kişi toplumda kendi hakkını savunabilmeli ve özgürce hareket edebilmelidir. Ancak başkalarının haklarını ve özgürlüğünü dikkate alarak sorumlu davranmalıdır.

Bu bilgilere göre;

- I. İnsanların hak ve sorumlulukları vardır.
- II. Sorumluluklarını yerine getirmeyen bireyler haklarını kullanamazlar.
- III. İnsanlar kendi haklarını kullanmalı ancak başkalarının haklarını da ihlal etmemelidir.

yargılarından hangilerine ulaşılabilir?

- A) Yalnız I
- B) Yalnız III
- C) I ve III
- D) II ve III

9. Aşağıdakilerden hangisi İslamiyet'ten önceki Türk kültürünü yansıtan görsellerden biri değildir?

A)



Cami

B)



Okçuluk

C)



Balbal

D)



Çadır

10.



Efe

“Bumin Kağan tarafından 552 yılında kurulmuştur. Bu devlet, Orta Asya'daki bütün Türk boylarını bir bayrak altında toplamıştır.”

“

Kutluk Kağan tarafından Çin esaretine son verilerek 682 yılında kurulmuştur. Bu devlet, Türklerin ilk yazılı belgeleri olan Orhun Kitabeleri'ni bırakmıştır.”



Asel

Efe ve Asel'in tanıttıkları devletler aşağıdaki seçeneklerin hangisinde doğru verilmiştir?

	Efe	Asel
A)	I. Kök Türk Devleti	II. Kök Türk Devleti
B)	Asya Hun Devleti	II. Kök Türk Devleti
C)	Asya Hun Devleti	Uygur Devleti
D)	I. Kök Türk Devleti	Asya Hun Devleti



DİN KÜLTÜRÜ VE AHLAK BİLGİSİ TESTİ

Bu testte 10 soru vardır.

Cevaplarınızı cevap kâğıdının DİN KÜLTÜRÜ VE AHLAK BİLGİSİ TESTİ için ayrılan kısmına işaretleyiniz.

1. Aşağıdaki etkinlikte pullar üzerine Kur'an-ı Kerim'de adı geçen peygamberlerden bazıları yazılmıştır.



Hz. Salih (a.s.)

Hz. İshak (a.s.)

Hz. (a.s.)

Hz. (a.s.)

Buna göre boş bırakılan yerlere aşağıdakilerden hangisi yazılamaz?

A) Yakup

B) Zekeriya

C) Şit

D) Yahya

2. Allah'ın (c.c.) elçilerinin ilettiği mesajlar O'nun emirleri, yasakları ve öğütlerini içerir. Allah'ın (c.c.) emir, yasak ve öğütlerinden oluşan bu mesajlar, insanların dünyada ve ahirette mutlu olmasını sağlamayı amaçlar. Allah (c.c.), tarih boyunca birçok peygamber göndererek kullarını uyarmış ve onların hayatlarına yön vermiştir. Kur'an-ı Kerim'de "Biz seni müjdeleyici ve uyarıcı olarak hak ile gönderdik. Her ümmet için mutlaka bir uyarıcı bulunmuştur." (Fâtır suresi, 24. ayet) buyrularak insanları doğru yola çağırarak için her millete peygamber gönderildiği bildirilmiştir.

Bu metinde aşağıdakilerden hangisine değinilmemiştir?

- A) Vahiylarin neyi hedeflediğine
B) Allah'ın (c.c.) mesajlarının nelerden oluştuğuna
C) Allah'ın (c.c.) mesajlarının her topluma ulaştığına
D) Gönderilen tüm peygamberlerin Kur'an'da yer aldığına

3. Din Kültürü ve Ahlak Bilgisi öğretmeni derste öğrencilerine aşağıdaki bilgileri yazdırmıştır:

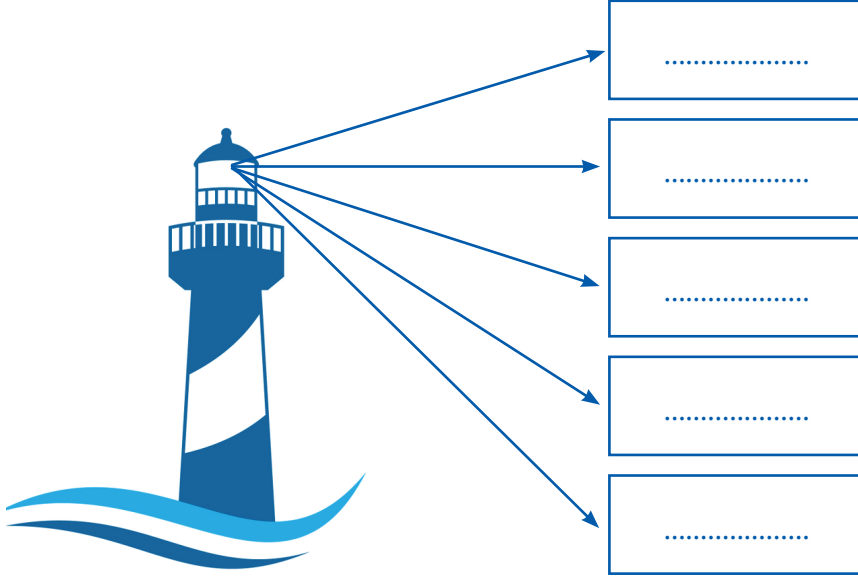
Peygamberler kutsal görevlerini yerine getirirken her konuda güvenilir olmuştur. Allah'ın (c.c.) tüm elçileri son derece dürüst ve seçkin şahsiyetlerdir. Onlar asla herhangi bir ihanette bulunmaz. Çünkü Allah (c.c.), ilahî vahyini, peygamberlik gibi kutsal bir görevi hainlere değil, ancak her bakımdan güvenilir olan dürüst kullarına verir. Elçilerini bu gibi güvenilir ve dürüst kulları arasından seçer. Şüphesiz ki Allah (c.c) peygamberlik görevine kimin daha lâyık olduğunu en iyi bilendir.

Buna göre öğretmenin perygamberlerde bulunan ortak niteliklerden hangisi üzerinde durduğu söylenebilir?

- A) Emanet
B) Tebliğ
C) Fetanet
D) İsmet

Yanıt Yayınları

4. Din Kültürü ve Ahlak Bilgisi öğretmeni sınıf panosuna vahyin insanlar için ne anlam ifade ettiğini göstermek amacıyla aşağıdaki görseli asmıştır. Öğrencilerden boş bırakılan yerlere vahyin insanlar için ne anlam ifade ettiğini yazmalarını istemiştir.



Buna göre panoya aşağıdakilerden hangisi yazılırsa yanlış olur?

- A) Uyarıcıdır. B) Rehberdir. C) Bilimsel kaynaktır. D) İlahî bilgilerdir.

5. Kur'an-ı Kerim'de peygamberlerin hayatlarından kesitler anlatılır. Yüce Allah bunlarla bizlere iyi insan olmamız için yol gösterir. Her peygamber bütün kişiliğiyle özeldir. Bunun yanı sıra Kur'an-ı Kerim'de yaşamına yer verilen elçilerin öne çıkartılan üstün bazı özellikleri anlatılır. Kur'an-ı Kerim'de Hz. Eyüp'ün (a.s.) sabrı ile tanınmış bir peygamber olduğu vurgulanır. Onun hayatını öğrendiğimizde sabırlı olmanın önemini fark ederiz. Hz. İbrahim (a.s.) Allah'a (c.c.) teslimiyeti ve tevhid mücadelesi ile ön plana çıkmıştır. Ayrıca o, çevresindeki mükemmel düzeni inceleyerek Allah'ın (c.c.) varlığına ve birliğine nasıl ulaşacağımız konusunda bizlere rehber olmuştur.

Bu metinde asıl anlatılan aşağıdakilerden hangisidir?

- A) Peygamberler insanlar için en güzel örnektir.
B) İnsanların yaptığı her şey imkân, zaman ve yetenekle sınırlıdır.
C) Allah (c.c.), kendisinden isteyen ve kendisine sığınan kulunu sabırla donatır.
D) Peygamberlerin uyarılarını dikkate almayan toplumlar helak olmuşlardır.

6. Resuller, Allah'ın (c.c.) mesajlarını insanlara ulaştırmak, uygulamak ve izah etmekle görevlidirler. Yüce Allah ilahî mesajları öncelikle peygamberlere iletir. Peygamberler ilahî mesajları eksiksiz bir şekilde insanlara ulaştırır ve bunların uygulanması konusunda model olurlar. Yüce Allah "...İnsanlara kendilerine indirileni açıklamaları için ve düşünüp anlasınlar diye sana bu Kur'an'ı indirdik." (Nahl suresi, 44. ayet) ayeti ile bu görevi vurgular. İnsanları Allah'ın (c.c.) emir, yasak ve öğütlerine uymaya davet eden peygamberler ahlaki yönden de üstün özelliklere sahiptir. Peygamberler görevlerini Yüce Allah'ın emri olduğu için yaparlar. Yaptıkları bu görevin karşılığında insanlardan hiçbir maddi bir beklentiye girmezler. Kur'an-ı Kerim'de bu konu şöyle vurgulanmıştır: "Sizden hiçbir ücret istemeyen kimselere uyun, onlar hidayete erdirilmiş kimselerdir." (Yâsîn suresi, 21. ayet)

Bu parçada peygamberlerde bulunan özelliklerden hangisi açıklanmaktadır?

- A) Sıdk B) Tebliğ
C) İsmet D) Fetanet

7.



Tevrat

Görselde verilen kitapla ilgili aşağıdaki sorulardan hangisine "Evet" şeklinde yanıt verilebilir?

- A) Günümüze aslıyla ulaşmış mıdır?
- B) İlahî kitapların sonuncusu mudur?
- C) Yahudilerin kutsal kitabı mıdır?
- D) Allah'ın (c.c.) Hz. İsa'ya (a.s.) gönderdiği ilahî kitap mıdır?

9. Kur'an-ı Kerim; Yüce Allah'ın gönderdiği ilahî kitaplardan biridir.

Bu ilahî kitapla ilgili;

- I. Okumak ve hayata geçirmek ibadettir.
- II. Son peygamber Hz. Muhammed'e (s.a.v.) Arapça olarak indirilmiştir.
- III. İnanç, ibadet, ahlak ve muamelat (sosyal ilişkiler) konularında bilgiler verilir.
- IV. Vahiy kâtipleri tarafından yazıya geçirilmiş ve saha-benin birçoğu tarafından ezberlenmiştir.

yargılarından hangileri doğrudur?

- A) I ve II.
- B) II ve III.
- C) III ve IV.
- D) I, II, III ve IV.

Yanıt Yayınları

8. Murat, Din Kültürü ve Ahlak Bilgisi öğretmeninin isteği üzerine Kunut dualarını okumuştur.

Buna göre Murat'ın aşağıdakilerden hangisini okuması beklenmez?

- A) Ve lem yekun lehû küfüven ehad.
- B) Allâhümme iyyâke na'büdü ve leke nüsallî ve nes-cüd.
- C) Allâhümme innâ nesteînüke ve nestağfirüke ve nes-tehdîk.
- D) Ve netevekkelü aleyke ve nüsñî aleykel-hayra kül-lehû neşkürüke ve lâ nekfürük ve nahleu ve netrük-kü men yefcürük.

10. Yüce Allah, Hz. Âdem'i (a.s.) cennete yerleştirdikten sonra ona eş yarattı. Eşini ve kendisini şeytana karşı uyardı. Hz. Âdem (a.s.) ile eşini imtihana tabi tuttu ve onlara şöyle dedi: "Dedik ki: Ey Âdem! Sen ve eşin cennete yerleşin. Orada dilediğiniz gibi bol bol yiyin, ama şu ağaca yaklaşmayın, yoksa zalimlerden olursunuz." (Bakara suresi, 35. ayet) Hz. Âdem (a.s.) ve eşi orada kalırken İblis onlara: "...Rabbimiz size bu ağacı ancak, melek olmayasınız, ya da (cennette) ebedî kalacaklardan olmayasınız diye yasakladı. Şüphesiz ben size öğüt verenlerdenim." (A'râf suresi, 20-21. ayetler) diyerek vesvese verdi.

Bu metinden aşağıdakilerden hangisi çıkarılamaz?

- A) İnsanlar çift yaratılmıştır.
- B) İnsanları var eden Yüce Allah'tır.
- C) Cennet insanlara özgü bir mekândır.
- D) Allah (c.c.) emir ve yasaklarıyla insanları yönlendirir.



İNGİLİZCE TESTİ

Bu testte 10 soru vardır.

Cevaplarınızı cevap kâğıdının İNGİLİZCE TESTİ için ayrılan kısmına işaretleyiniz.

1 - 5: FOR THESE QUESTIONS, CHOOSE THE BEST OPTION TO FILL IN THE BLANKS.

1.



- A) bagels B) honey
C) butter D) muffins

2. **Tom:** I always - - - - at 8 p.m. and chat with my classmates.

Alice: That's nice. But be careful! Don't use the Net for a long time.

- A) go online B) do shopping
C) go to school D) go to bed

3. **Lara:** Can I have a croissant?

Jane: Oh, sorry. It's all gone. - - - -

Lara: Yes, please. It's my favourite.

- A) I don't like it.
B) Enjoy your breakfast!
C) What about a bagel?
D) What can I have for breakfast?

4.



Pam: What does Sam do after school?

Alice: He - - - -.

- A) watches TV
B) draws pictures
C) has a rest
D) visits his grandparents

5.



- A) an omelette B) fruit juice
C) a toast D) a sandwich

**ANSWER THE QUESTIONS (6-7)
ACCORDING TO THE TEXT BELOW.**



Kate

I return home and do my homework after school. I am a very hard-working girl. After homework, I usually listen to music and watch TV. At half past seven it is time for dinner. I wash the dishes after dinner. Then, I usually read a book or chat with my parents for a while. Finally, I go to bed at about ten o'clock, but before that I brush my teeth. I am a happy little girl!

6. Which one is FALSE about Kate's after school activities?

- A) Kate reads a book at half past seven.
- B) Kate helps her mother at home.
- C) Kate watches TV before dinner.
- D) Kate brushes her teeth before she sleeps.

7. Kate - - - - after dinner.

- A) does her homework
- B) chats with her parents
- C) listens to music
- D) watches TV

8. Lucy has a big breakfast every morning. She eats jam and cheese. She also likes cereal with milk. She drinks tea.

What does Lucy NOT have for breakfast?

A)




B)



C)



D)



ANSWER THE QUESTIONS (9-10) ACCORDING TO THE PICTURES BELOW.

Jane's Daily Routine



9. Which of the following information is **WRONG**?

- A) Jane goes to bed at nine o'clock.
- B) Jane does a puzzle at nine p.m.
- C) Jane has breakfast at quarter past nine.
- D) Jane does exercises at half past eight.

10. Which daily routine is **NOT** given in the pictures?

- A) Get up
- B) Do exercises
- C) Listen to the teacher
- D) Surf the Net