



# TÜRKÇE TESTİ

Bu testte 15 soru vardır.

Cevaplarınızı cevap kâğıdının TÜRKÇE TESTİ için ayrılan kısmına işaretleyiniz.

1.



Bu görsele göre aşağıdakilerden hangisi Mevlana'nın vermiş olduğu öğütlerden biri değildir?

- A) İnsanlara karşı merhametli olmak
- B) Yardımsever olmak
- C) Hoşgörülü olmak
- D) Cesur olmak

2. Şu ağacın tepesinde  
Var bir sincap  
Ceviz kırar, yemek arar  
Her gün göremem ki  
Saklar onu  
Anne yapraklar

"Kırmak" sözcüğü bu şiirde aşağıdaki anlamlarından hangisiyle kullanılmıştır?

- A) Belirli bir biçimde katlamak
- B) Gücünü, etkisini azaltmak
- C) Sert şeyleri vurarak veya ezerek parçalamak
- D) Bir şeyin fiyatını azaltmak, indirmek

3.



Keloğlan, devlerin sakladığı hazineye ulaşmak için yola çıkmıştır. Bir süre sonra Keloğlan'ın gittiği yol dörede ayrılmıştır. Bu yolların özellikleri şunlardır:

1. **Taşlı Yol:** Bu yola girdiğinde sağ taraftan gidersen sulu yola, sol taraftan gidersen dikenli yola çıkıyorsun.
2. **Orman Yolu:** Bu yola girdiğinde sol taraftan gidersen taşlı yola, sağ taraftan gidersen sulu yola çıkıyorsun.
3. **Sulu Yol:** Bu yoldan gidersen dikenli yola çıkıyorsun.
4. **Dikenli Yol:** Bu yola girdiğinde sağ taraftan gidersen hazineye, sol taraftan gidersen taşlı yola çıkıyorsun.

Keloğlan, orman yoluna girdikten sonra sağa döndüğüne göre sırasıyla hangi yollardan geçerek en kısa zamanda hazineye ulaşır?

- A) Orman yolu - taşlı yol - dikenli yol
- B) Orman yolu - taşlı yol - sulu yol
- C) Orman yolu - sulu yol - taşlı yol
- D) Orman yolu - sulu yol - dikenli yol

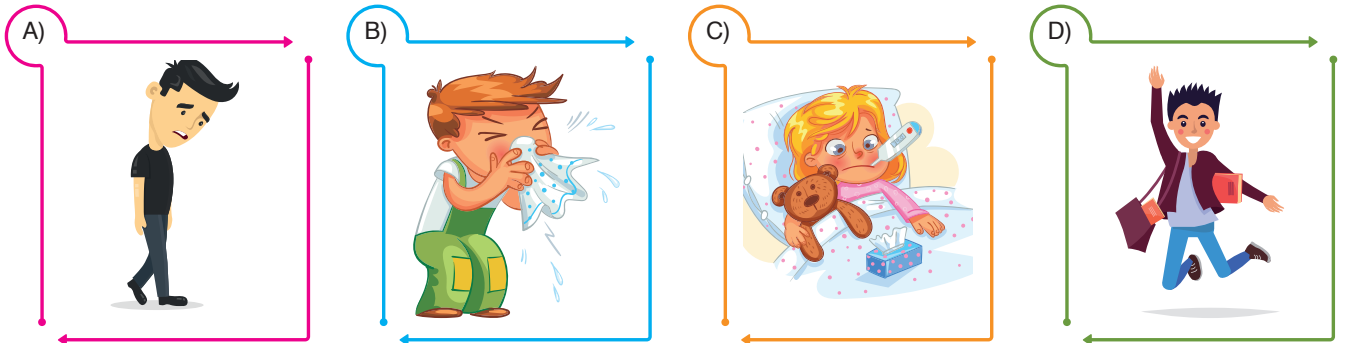
4. **Yatak yorgan yatmak:** Ağır hasta olmak

**Havalara uçmak:** Çok sevinmek

**Karadeniz'de gemilerin mi battı?:** Çok düşünceli ve durgun görünen kimseler için kullanılan bir söz

**Burnunun dikine gitmek:** Öğüt dinlemeyerek kendi bildiği gibi davranmak

Aşağıdaki görsellerden hangisi yukarıdaki deyimlerden herhangi biriyle ilişkilendirilemez?





5.

H	A	T	I	R	A
C	B	E	S	İ	N
E	S	İ	R	Z	T
S	İ	S	İ	M	Ü
U	N	E	H	İ	R
R	D	E	L	İ	L

Yukarıdaki bulmacada aşağıdaki cümlelerde bulunan altı çizili sözcüklerden hangisinin eş anlamlısı yoktur?

- A) Çamurlu ayakkabılarıyla halıya basmamak için büyük özen gösterdi.  
 B) Benim için süt, ekmekten üstün bir gıdadır.  
 C) Dersin sonunda öğretmenimiz bize bir anısını anlattı.  
 D) Yağmurdan sonra taşan ırmak, sel baskınlarına neden oldu.

6. 1. duvar ördükleri  
 2. için  
 3. yerde  
 4. yalnız kalırlar  
 5. köprü kuracakları  
 6. İnsanlar

Yukarıdaki sözlerle anlamlı ve kurallı bir cümle oluşturulduğunda hangisi sondan ikinci kelime olur?

- A) 1. B) 2. C) 3. D) 4.

7.



(1) Kışın ortalıkta neredeyse hiç yiyecek olmadığı için birçok hayvan kış gelmeden havanın daha sıcak olduğu yerlere göç eder. (2) Sincaplar kışın göç etmez. (3) Aç kalmamak için sonbaharda topladıkları yemişleri toprağa gömerler. (4) Kışın üzeri karla kaplı olsa bile gömdükleri yemişi bulurlar ve daha kabuğunu açmadan içindeki yemiş çürümüşse bunu bilirler.

**Numaralanmış cümlelerin hangisinde sebep-sonuç ilişkisi vardır?**

- A) 1. B) 2. C) 3. D) 4.

8. İnsana ait özelliklerin insan dışındaki varlıklara verilmesine kişileştirme denir.

**Buna göre,**

Uyandım kar aydınlığında

O küçük kasaba uykuda

Uykusuz bir sıra kavak

Hem gider hem dinlerim

Düş önüme yol göster derem benim

Kar mihî atımın nallarında

**Şiirindeki altı çizili varlıklardan hangisine insana ait bir özellik verilmemiştir?**

- A) kasaba B) kavak  
 C) dere D) at

9. Kuşkusuz uçan hayvanlar denince akla ilk gelen kuşlar oluyor. Çünkü büyüklükleri nedeniyle çevremizdeki uçan hayvanlar arasında dikkatimizi sürekli onlar çekiyor. Yoksa böceklerin neredeyse tamamının uçuşunu bilmiyor değiliz. Uçma özelliği kuşlara yaşamda büyük bir üstünlük sağlıyor. Zaten bu nedenle yaklaşık 10.000 türle, balıklardan sonra en büyük omurgalı hayvan grubunu oluşturuyorlar. Kuşlar tropikal ormanlardan kutuplara kadar dünyanın her yanında yaşarlar. Ön ayak -ya da kol- yerine uçmalarını sağlayan kanatları vardır. Ayırt edici özelliklerinden biri de gagalarıdır. Ama belki de en önemli özellikleri tüyleridir. Kuşlardan başka hiçbir hayvanın tüyü yoktur. Tüyler kuşların uçuşmasını sağlamanın yanı sıra onları sıcak tutar ve kamufle eder.

**Bu metinden kuşlarla ilgili aşağıdakilerden hangisine ulaşamaz?**

- A) Dünyanın her yerinde yaşadıklarına
- B) Dünya üzerinde türlerinin balıklardan daha az olduğuna
- C) Diğer hayvanlardan ayırt edici özelliklerinin olduğuna
- D) Özellikle böceklerle beslendiklerine



10. Günlerden bir gün, yaşlı bir kadın kasabanın ana caddesinde ağır ağır yürüyordu. Adımlarını çok yavaş atıyor, seke seke yürürken kırık bir sopaya dayanıyordu. Öyle iki büklümdü ki başı neredeyse dizlerine değecekti. Hiçbir şeyden hoşnut olmadığından sürekli homurdanıyordu. "Ne berbat hava. Şu kuşlar da amma bağıyor. Rüzgâr da fazla sert esiyor. Çok araba var. Her yer çok kalabalık. Etraf köpek dolu. Gereğinden fazla çocuk var." Hiçbir şey hoşuna gitmiyordu bu yaşlı kadının. Onu gören kuşlar korkuyla yollarını değiştiriyorlardı. Karşısına çıkan her köpek ya hırlayıp havlıyor ya da kuyruğunu bacakları arasına sıkıştırıp kaçıyordu.

**Bu metinde aşağıdaki sorulardan hangisinin cevabı yoktur?**

- A) Yaşlı kadın nerede yürümektedir?
- B) Yaşlı kadın nereye gitmektedir?
- C) Yaşlı kadın niçin homurdanmaktadır?
- D) Yaşlı kadın nasıl yürümektedir?

#### 11. 1. Şiir:

Çocuklar ilgi ister  
Dosdoğru bilgi ister  
Çocuğu sevgi besler  
Çocuk nazlı bir çiçek

#### 2. Şiir:

Dalın eğri büğrü yaprağın ince  
Rengin iğdeleşir rüzgâr esince  
Yazın şemsiyesin yaşlıya gence  
Güzün derelere verirsın öğüt

**Aşağıdakilerden hangisi bu şiirlerin ortak özelliklerinden biridir?**

- A) Abartmaya yer verilmesi
- B) Kişileştirme yapılması
- C) Benzetmeye yer verilmesi
- D) Varlıkların konuşturulması

12. Atalarımızın uzun gözlem ve tecrübeleri sonunda verdikleri değerlendirmeleri, hikmetli düşünce ve öğütleri örneklemeler yoluyla veren sözlerle atasözü denir. Her atasözü farklı bir konuyu ifade etmek için dile getirilmiştir. Örneğin "Deveyi yardan uçuran bir tutan ottur." atasözünün konusu "açgözlülük"tür.

**Buna göre,**

1. Komşu komşunun külüne muhtaçtır.
2. Üzüm üzüme baka baka kararır.
3. Ateş olmayan yerden duman çıkmaz.
4. Horozu çok olan köyde sabah geç olur.

**atasözlerinden hangisinin konusu "etkilenme"dir?**

- A) 1.                      B) 2.                      C) 3.                      D) 4.

13. Bilim, fen konularıyla siyasal, ekonomik ve toplumsal konuları açıklayıcı veya yorumlayıcı niteliği olan gazete veya dergi yazısına makale denir. Makalede daha çok kanıtlanabilir (nesnel) yargılara yer verilir.

**Aşağıdakilerden hangisi bu açıklamayı örneklendiren bir metindir?**

- A) Mis gibi kokan rengârenk sabunlar yüzyıllardır evlerimize temizlik getiriyor ve daha sağlıklı bir dünyada yaşamamızı sağlıyor.
- B) Berber sandalyesini camın dibine çekmiş, hiç kıpırdamadan öylece oturuyordu. Perdenin arkasındaki çaydanlık kaynamamıştı henüz. O, az sonra başlayacak fokurtuyu duymak için sabırsızlanıyordu. O sırada dükkânın kapısı açıldı.
- C) Zeytinyağı, oda sıcaklığında sıvı hâldedir. Buzdolabına koyulduğunda donar ancak dışarı çıkarılınca hiçbir özelliğini kaybetmeden yeniden sıvılaşır. Rengi sarı ve yeşilin tonlarında değişebilir. Kendine özgü, keskin bir kokusu vardır.
- D) Otobüsten indikten sonra Buzlu Şelale'ye doğru yürümeye başlıyoruz. On dakikalık bir yürüyüşten sonra Buzlu Şelale'ye ulaşıyoruz. Şelale tüm güzelliğiyle bizi kendine hayran bırakıyor.

14. Belirli bir tarih bildiren ay ve gün adları büyük harfle başlar.

**Buna göre,**

1. Kitap fuarı bu yıl Ekim ayında olacakmış.
2. Yarışmaya katılacakların ismi 20 Mart Salı günü açıklanacakmış.
3. Kardeşimle her Perşembe kütüphaneye gidiyoruz.

**cümlelerinin hangilerinde yazım yanlışı vardır?**

- A) Yalnız 1.                      B) 1 ve 2.  
C) 1 ve 3.                      D) 1, 2 ve 3.

15. ★ Sayılardan sonra sıra bildirmek için konur.

★ Tarihlerin yazılışında gün, ay ve yılı gösteren sayıları birbirinden ayırmak için konur.

★ Saat ve dakika gösteren sayıları birbirinden ayırmak için konur.

★ Bazı kısaltmaların sonuna konur.

**Nokta (.) aşağıdaki cümlelerin hangisinde yukarıdaki görevlerinden biriyle kullanılmamıştır?**

- A) 10 Şubat 1985 tarihinde doğan yazarın birbirinden güzel üç tane öykü kitabı var.
- B) Bugün ilçemizde 10.00-11.00 saatleri arasında su kesintiği olacaktır.
- C) Türkçe öğretmenimiz, 15. yüzyılda yaşamış şairler hakkında araştırma yapmamızı istedi.
- D) Dr. Ali Vefa, dedemin ameliyatının çok iyi geçtiğini söyledi.

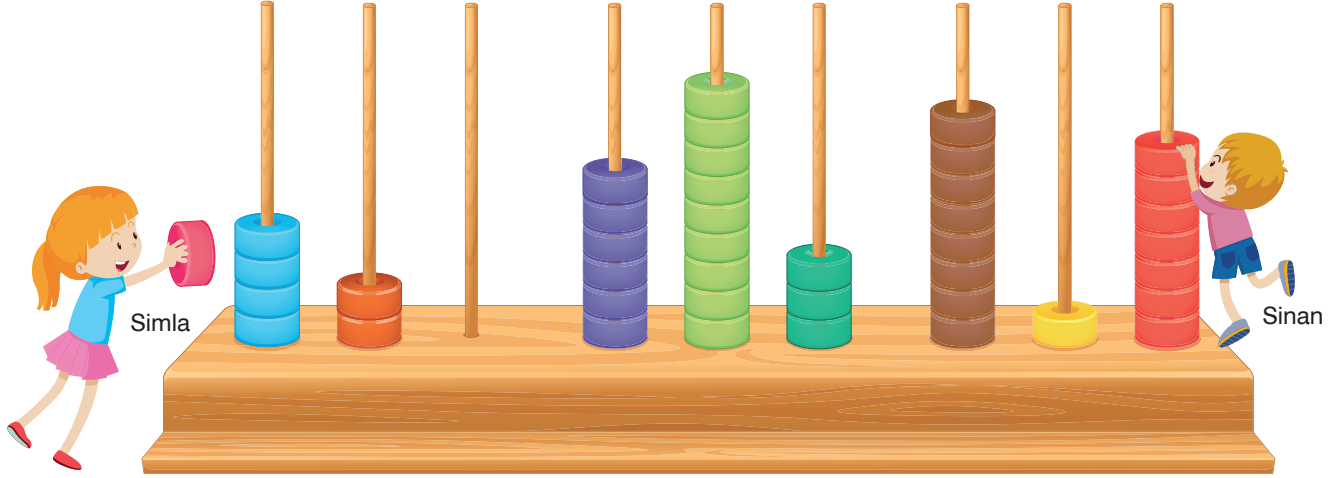


# MATEMATİK TESTİ

Bu testte 15 soru vardır.

Cevaplarınızı cevap kâğıdının MATEMATİK TESTİ için ayrılan kısmına işaretleyiniz.

1. Sinan, dev bir abaküste aşağıda görüldüğü gibi dokuz basamaklı bir doğal sayıyı modellemiştir.



Simla ise elinde kalan tek halkayı da çubuklardan birine takarak bu sayıda küçük bir değişiklik yapmayı planlıyor.

**Simla, halkayı rengine dikkat etmeksizin herhangi bir çubuğa taktığına göre, oluşan yeni sayı aşağıdakilerden hangisi olamaz?**

- A) 421 693 817      B) 420 793 817      C) 420 693 827      D) 420 693 819

2.  $217 + 217 + 217 + \dots + 217$   
32 tane

**işleminin sonucunu bulmak için aşağıdaki işlemlerden hangisini kullanırsınız?**

- A)  $217 \times 217$       B)  $32 \times 32$   
C)  $32 \times 217$       D)  $32 + 217$

3.  $78 \times 121$

**işleminin, sayıların en yakın onluğa yuvarlanma-sıyla elde edilen tahminî sonucu kaçtır?**

- A) 8000      B) 9600  
C) 10400      D) 12000

4.  $1548 \div 43$

**Üstte verilen bölme işleminin sonucu kaçtır?**

- A) 36      B) 41      C) 46      D) 48

5. Boş kütlesi 2873 kilogram olan kamyonete bir tekstil fabrikasında kumaş yüklenmiştir. Yüklenen kumaşın miktarını öğrenmek isteyen satış müdürü Cengiz Bey, kamyoneti kantara çıkarıyor ve toplam kütlesinin 12036 kilogram olduğunu görüyor.

**Kamyonete yüklenen kumaş kaç kilogramdır?**

- A) 9153      B) 9163  
C) 9167      D) 9263



6. Poyraz, defterine bazı doğal sayıları rakamlarla, bazılarını ise yazı ile yazdığında daha az karakter (harf veya rakam) kullandığını görüyor.

Aşağıda defterine aldığı bazı notlar görülmektedir:

1 000 000	bir milyon
7 rakam (karakter)	9 harf (karakter)
100 000	yüz bin
6 rakam (karakter)	6 harf (karakter)
1000	bin
4 rakam (karakter)	3 harf (karakter)

Buna göre Poyraz, seçeneklerdeki doğal sayılardan hangisini rakamlarla yazdığında harflerle yazılışına göre daha az karakter kullanmış olur?

- A) 10                      B) 100  
C) 3 000 000            D) 10 000 000

7.  $70 \times \dots = 2100$

Yukarıdaki çarpma işleminde noktalı yere aşağıdaki sayılardan hangisi yazılabilir?

- A) 75                      B) 60                      C) 45                      D) 30

8.  $2^3 + 5^2$

Yukarıda verilen işlemin sonucu kaçtır?

- A) 16                      B) 25                      C) 33                      D) 41

9. Bir mağazada satılan beyaz eşyaların fiyatları aşağıda verilmiştir.



Bu ürünlerin tümünü alan Nurettin Bey, fiyatları en yakın yüzlüğe yuvarlattığına göre, kaç liralık indirim elde etmiş olur?

- A) 77                      B) 82                      C) 87                      D) 92

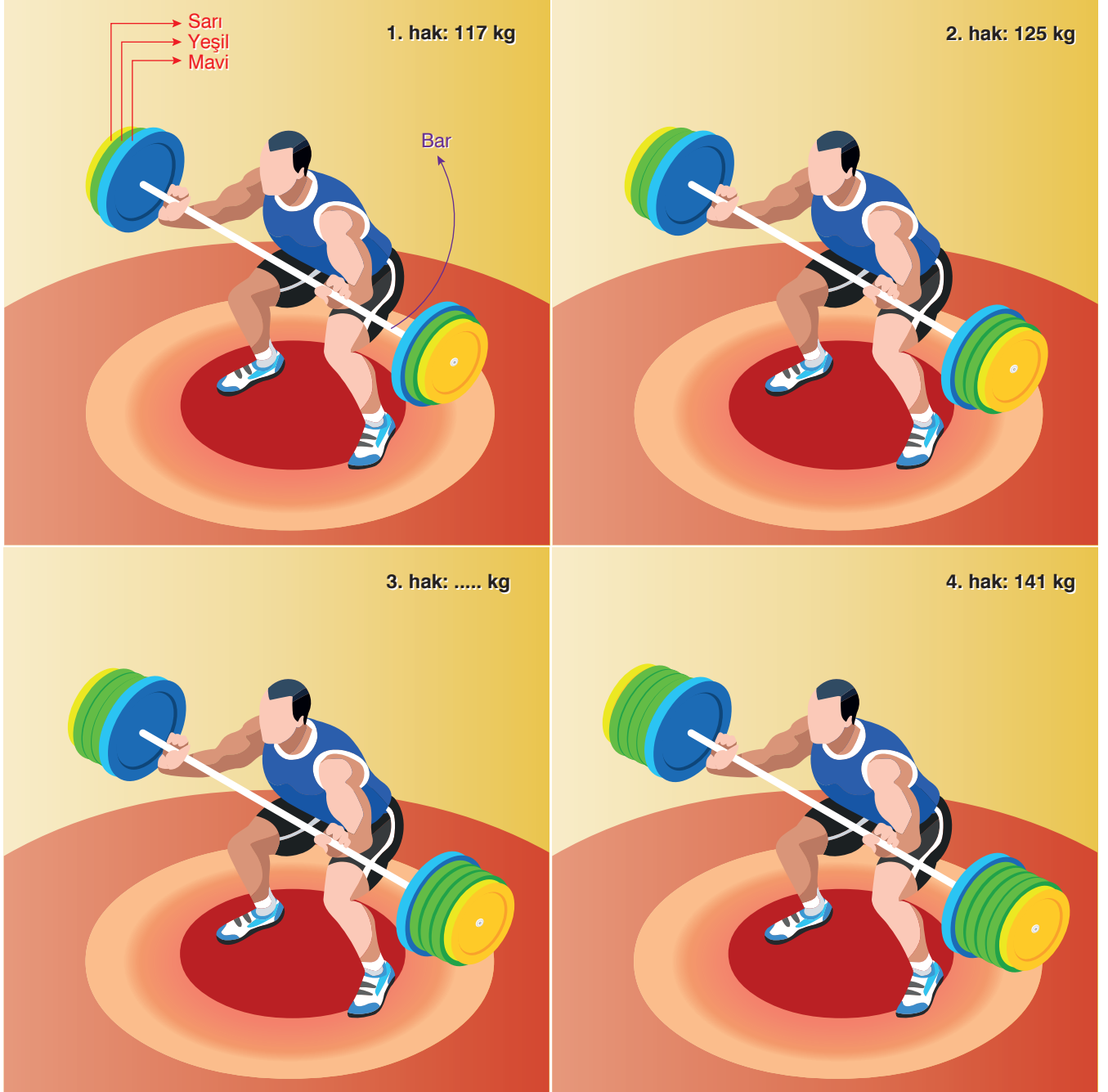
10. Bir okulda yapılacak geziye 142 öğrenci ve 11 öğretmen katılacaktır.



Katılımcılar 22 kişilik servislerle taşınacağına göre, en az kaç servise ihtiyaç vardır?

- A) 4                      B) 5                      C) 6                      D) 7

11. Halterci Saim'in bir turnuvada kaldırdığı ağırlıklar belirli bir örüntü oluşturmuştur.

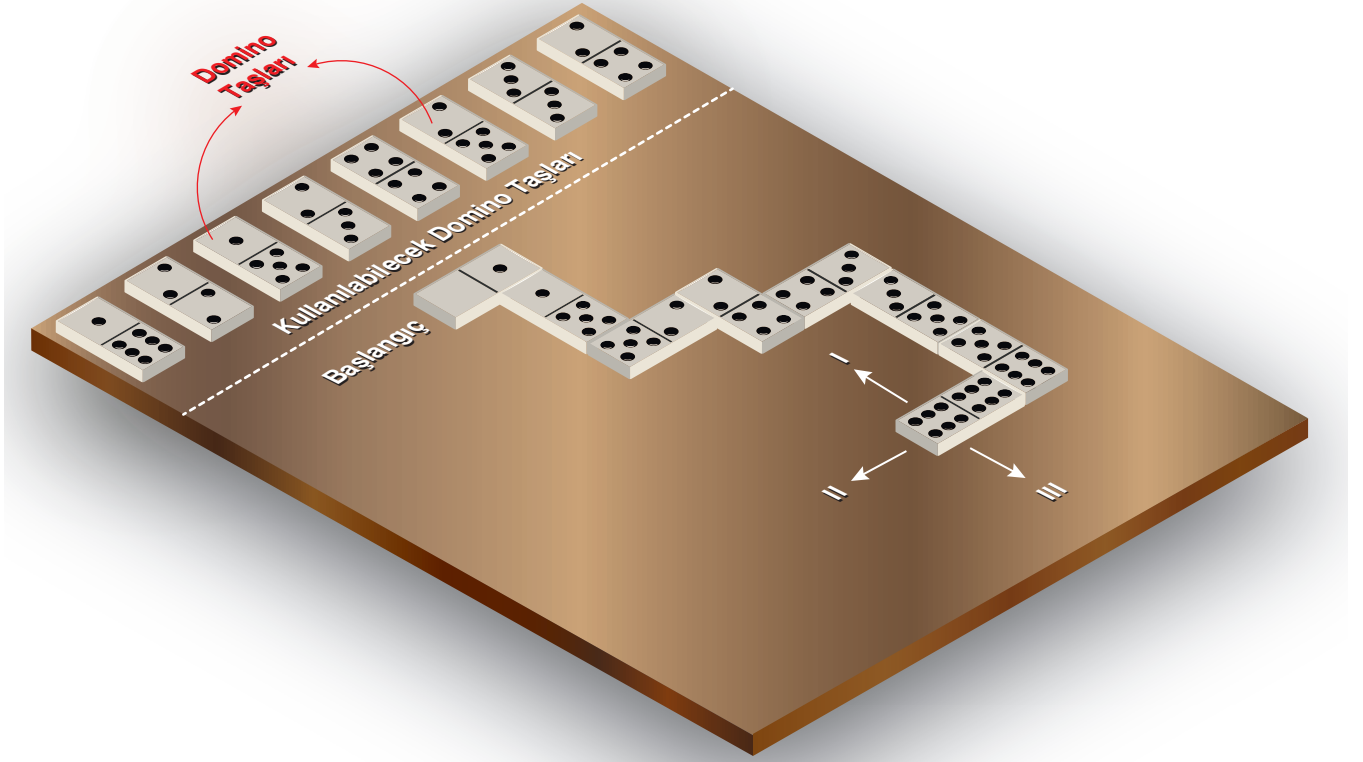


Saim, kaldıracacağı ağırlığı arttıracacağı zaman ağırlık barının iki ucuna da aynı ağırlıklar üstteki resimlerde görüldüğü gibi dengeli olarak eklenmektedir. Aynı renge sahip ağırlıkların kütleleri de eşittir.

**Buna göre, aşağıdaki ifadelerden hangisi yanlıştır?** (Barın ağırlığı önemsizdir.)

- A) Saim 3. hakkında 133 kilogramlık ağırlığı kaldırmıştır.
- B) Saim'in ağırlık barına eklenen yeşil renkli ağırlıkların her birinin kütlesi 8 kilogramdır.
- C) Saim'in ağırlık barındaki mavi ve sarı renkli ağırlıkların toplam kütlesi 109 kilogramdır.
- D) Saim, aynı kurala göre halteri kaldırmaya devam ederse 5. hakkında 149 kilogram kaldırır.


12. Domino, aşağıda görüldüğü gibi domino taşlarının belirli bir kurala göre dizilmesi ile oynanan bir oyundur. Sırası gelen oyuncu kullanılabilecek taşlardan uygun olanını alarak ok ile gösterilen yönlerden birinde masaya yerleştirir.




Oyunda sıra Ercüment'e geldiğinde masada kalan kullanılabilecek taşlar ve oluşan dizilim üstteki gibidir. Ercüment uygun olan bir taşı almış ve II nolu okun gösterdiği istikamette masaya yerleştirmiştir.

Buna göre, Ercüment'ten sonraki oyuncu olan Begüm'ün oyunu kuralına uygun olarak devam ettirmesi için kullanacağı domino taşı aşağıdakilerden hangisidir?


A)




B)



C)



D)



13.  $159 - 7 = 152$   
 $152 - 10 = 142$   
 $142 - 10 = 132$   
 $132 - 10 = 122$

Bir işlemi zihninden dört adımda üstteki gibi yapan Ferda'nın yaptığı işlem aşağıdakilerden hangisidir?

- A)  $159 - 23$       B)  $159 - 37$   
C)  $122 + 37$       D)  $152 - 37$

14. Mustafa aşağıdaki adımları kullanarak kendisine verilen bir işlemi doğru biçimde çözmüştür:

$$\dots \times 2 = \dots$$

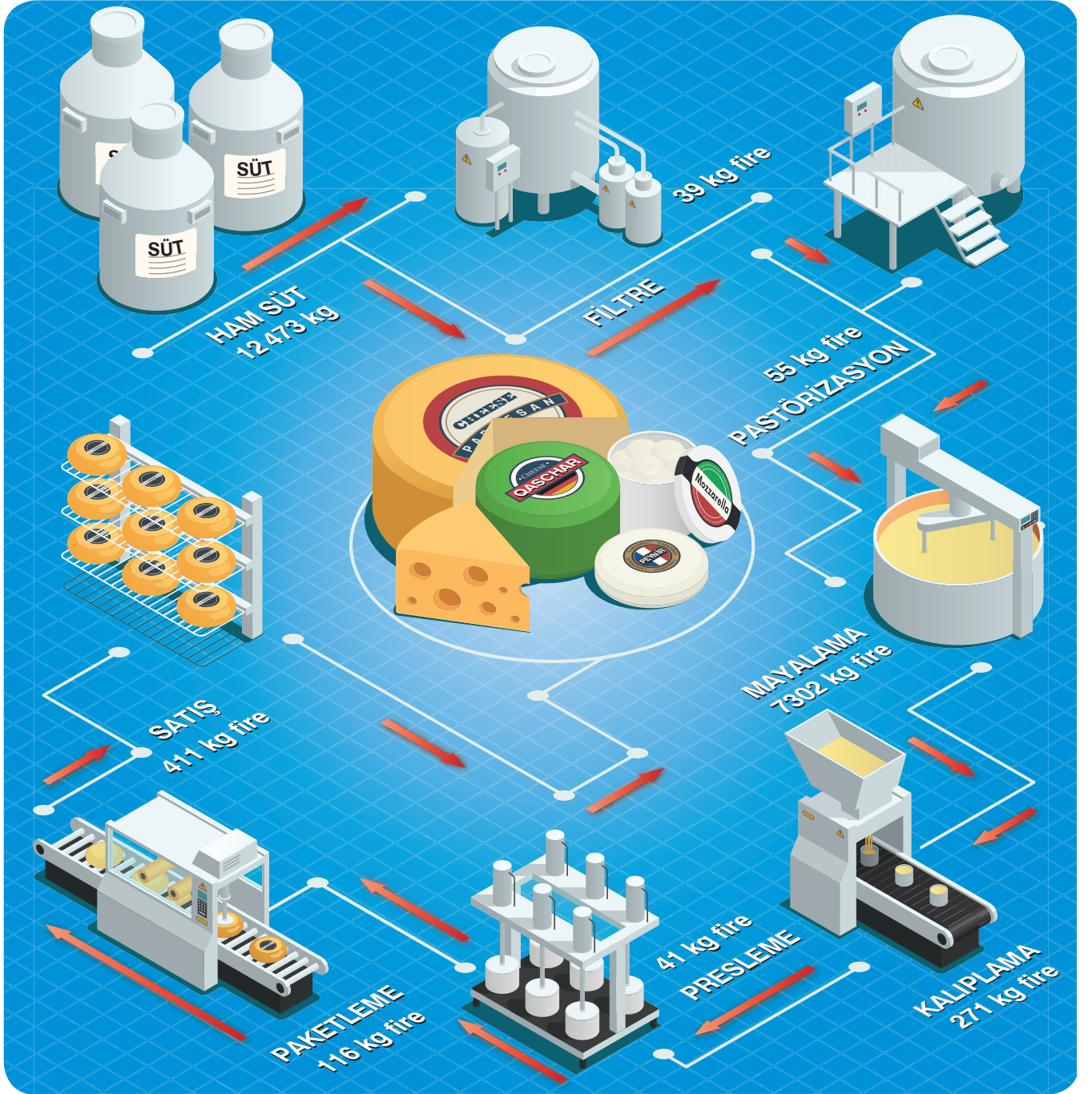
$$\dots \times 2 = \dots$$

$$\dots \div 100 = 34$$

Buna göre, Mustafa'ya sorulan işlem aşağıdakilerden hangisidir?

- A)  $1700 \div 25$       B)  $1700 \div 50$   
C)  $850 \div 25$       D)  $680 \div 25$

15. Bir peynir fabrikasında, köylerden toplanan 12473 kilogram ham sütün işlenme aşamaları ve bu aşamalarda yaşanan fireler (kayıplar) aşağıdaki şemada verilmiştir.



Aşamalar, toplanan ham sütün depolanmasından peynirin satışa sunulmasına kadar sırasıyla ok yönü ile belirtilmiştir.

Buna göre, köylerden toplanan 12473 kilogram sütün kaç kilogramı peynir olarak satışa sunulabilmiştir?

A) 4238

B) 4311

C) 4378

D) 4406





# FEN BİLİMLERİ TESTİ

Bu testte 15 soru vardır.

Cevaplarınızı cevap kâğıdının FEN BİLİMLERİ TESTİ için ayrılan kısmına işaretleyiniz.

1. Ay, Dünya etrafında dolanırken aydınlanan bölümünün Dünya'dan görünüşü farklılık gösterir. Aydınlanan bu kısmın Dünya'dan görünen bölümüne göre Ay'ın evreleri farklı şekilde isimlendirilmiştir.

Aşağıda Ay'ın aydınlanan kısmının Dünya'dan görünen miktarları ile Ay'ın evreleri arasındaki ilişki grafiği gösterilmiştir.



Buna göre, K, L, M ve N ile gösterilen Ay'ın evreleri aşağıdakilerin hangisindeki gibi olabilir?

	K	L	M	N
A)	İlk dördün	Yeni ay	Dolunay	Son dördün
B)	Dolunay	Yeni ay	Son dördün	İlk dördün
C)	Dolunay	Son dördün	İlk dördün	Yeni ay
D)	Son dördün	Yeni ay	İlk dördün	Dolunay

2. Güneş, evrendeki yüz milyarlarca yıldızdan biridir. Gece gördüğümüz yıldızların birçoğu Güneş'ten daha büyük ve daha parlaktır. Bu yıldızlar, Dünya'mıza Güneş'ten daha uzak oldukları için küçük görünür. Bilim insanlarının yaklaşık 5 milyar yıl önce oluştuğunu düşündüğü Güneş, orta büyüklükte bir yıldızdır. Güneş, diğer yıldızlar gibi sıcak gazlardan oluşan, çevresine ısı ve ışık yayan bir yıldızdır. Güneş'ten yayılan ısı ve ışığın çok az bir kısmı yeryüzüne ulaşır. Bu ısı ve ışık yeryüzündeki yaşamın devam etmesi için gereklidir.

**Güneş ile ilgili yukarıda verilen parçaya göre,**

- I. Güneş bilinen en büyük yıldızdır.  
II. Yıldızların Güneş'ten küçük görünmesi daha küçük olduğu anlamına gelmez.  
III. Dünyamıza ışığı gelen tek yıldız Güneş'tir.

**yargılarından hangilerine ulaşılabilir?**

- A) Yalnız I  
B) Yalnız II  
C) I ve II  
D) I ve III

- 3.

## Bilgi

(1) Ay da Dünya gibi küre şeklinde bir gök cisimidir. Ay'ın ekvator çapı 3476 kilometredir. Bu da Dünya'nın çapının yaklaşık dörtte biridir. Ay'ın Dünya'ya uzaklığı, yaklaşık olarak 384.000 kilometredir. Güneş'in Dünya'ya uzaklığı ortalama 149,5 milyon kilometredir. (2) Güneş'in Dünya'ya uzaklığı, Ay'ın Dünya'ya uzaklığının 400 katıdır. (3) Ay, ince bir atmosfere sahiptir. (4) Ay, Güneş gibi bir ışık kaynağı değildir.

**Büyüklikleri birbirinden çok farklı olmasına rağmen Ay ve Güneş'in Dünya'dan yaklaşık aynı büyüklükte görünmesinin nedeni yukarıda verilen numarandırılmış cümlelerin hangisiyle ilişkilidir?**

- A) 1  
B) 2  
C) 3  
D) 4

4. Ayla, sınıf arkadaşlarına Ay'ın yüzeyinin bir bölümüne ait aşağıdaki görseli gösterir.



Görselle ilgili yorum yapan Ayla'nın aşağıdaki arkadaşlarından hangisinin yorumu yanlıştır?

A)



Görülen çukurlar krater olarak adlandırılıyor.

B)

Bu çukurların benzerlerinden Dünya'da da bulunmaktadır.



C)



Bu çukurlara gök yüzeyine hızla düşen meteorların neden olduğu söyleniyor.

D)

Çukurların oluşmasının nedeni Ay'da hayat şartlarının olmamasıdır.



5. Ay'ın farklı şekildeki görünümüne Ay'ın evreleri adı verilir.


Can'ın, Ay'ın evreleri ile ilgili yazdığı aşağıdaki notlarından hangisi yanlıştır?

- A) Aynı evre 1 yıl sonra tekrar gözlenir.  
B) İki ana evre arasında yaklaşık 7 günlük süre vardır.  
C) Her iki ana evre arasında bir ara evre vardır.  
D) Ay'ın yeni ay, ilk dördün, dolunay ve son dördün olmak üzere dört ana evresi vardır.

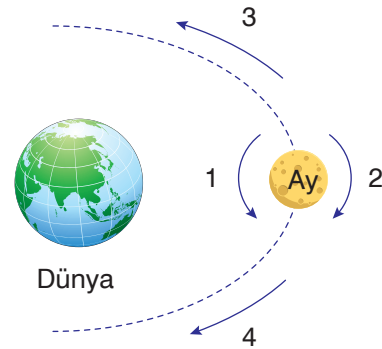
6. Ay'ın bazı evrelerinden aşağıda bahsedilmiştir.

- Yeni ay evresinden bir hafta önce görülen ana evredir.
- Ay'ın en parlak görüldüğü ana evredir.
- İlk dördün ile dolunay arasında görülen ara evredir.

Buna göre, hakkında bilgi verilmeyen evre aşağıdakilerden hangisidir?



7. Aşağıda, Ay'ın Dünya etrafındaki yörüngesi gösterilmiştir.



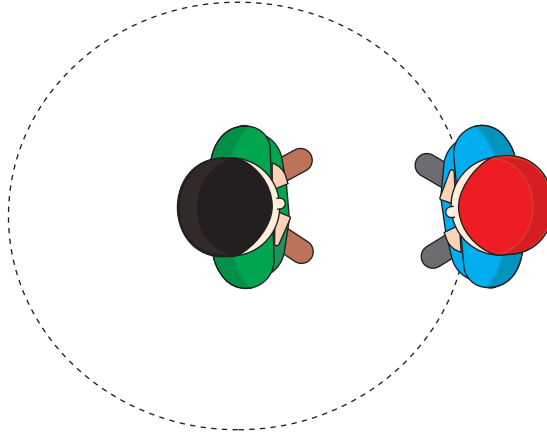
Buna göre poster üzerinde Ay'ın kendi etrafındaki dönüş yönü ve Dünya etrafındaki dolanma yönü aşağıdakilerin hangisinde doğru verilmiştir?

	Dönme yönü	Dolanma yönü
A)	1	3
B)	1	4
C)	2	3
D)	2	4

8. Öğretmen Hande Hanım, öğrencilerinin "Neden Dünya'dan Ay'ın hep aynı yüzü görülür?" sorusuna cevap verebilmek için bir etkinlik tasarlar.

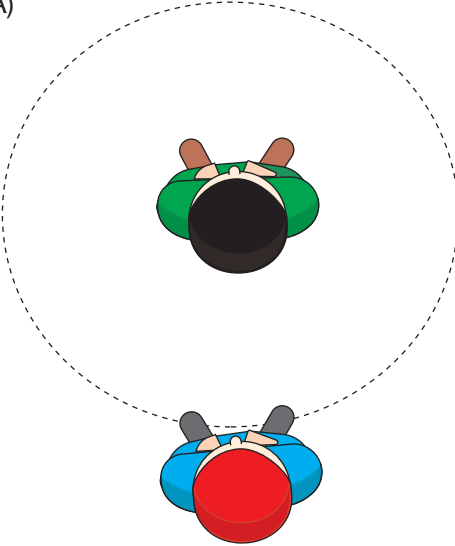
Etkinlikte, Dünya'yı temsil eden öğrenci, sabit bir noktada kendi etrafında dönecek. Ay'ın temsil eden öğrenci ise Dünya'yı temsil eden arkadaşının etrafında dolacaktır.

İki öğrencinin etkinliğe başladıkları andaki görünüşleri şekildeki gibidir.

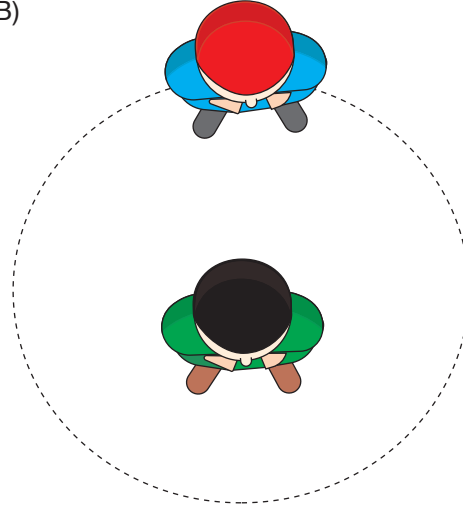


Öğrenciler, etkinliğin amacına uygun şekilde hareket ettiğine göre, aşağıdakilerden hangisi etkinlik boyunca öğrencilerin görünüşlerinden biri olamaz?

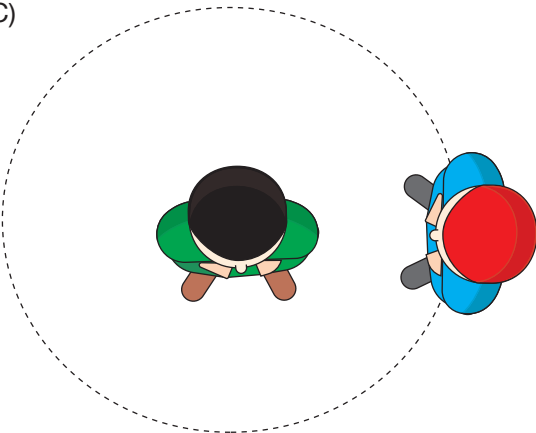
A)



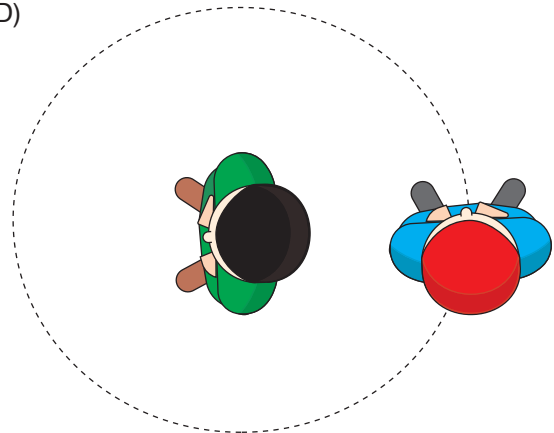
B)



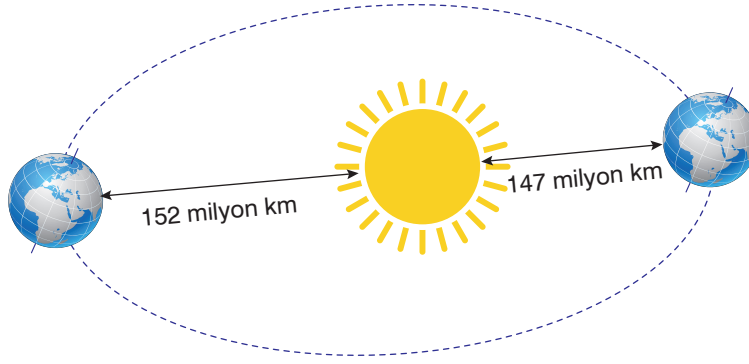
C)



D)



9. Şekilde Dünya'nın yörüngesi, Güneş'e en yakın ve en uzak olduğu noktalar gösterilmiştir.



Güneş'in Dünya'ya uzaklığı, ortalama 149,5 milyon kilometredir. Bu mesafe Dünya, Güneş etrafında dolanırken değişmektedir. Dünya, Güneş'e en yakın konumda olduğunda yaklaşık 147 milyon km, en uzak konumda olduğunda ise yaklaşık 152 milyon km uzaklıktadır.

**Yalnızca bu bilgileri okuyan bir öğrenci, Güneş ile ilgili,**

- I. Çevresinde Dünya dolanır.
- II. Dünya'mıza uzaklığı sabittir.
- III. Kendi etrafında dönme hareketi yapar.

**yargılarından hangilerine ulaşılabilir?**

- A) Yalnız I                      B) Yalnız II                      C) I ve II                      D) I ve III

10. Ay'ın Dünya ve Güneş'e göre bulunduğu konumlarından ikisi şekilde gösterilmiştir.



**Buna göre, aşağıdakilerden hangisi doğrudur?**

- A) Ay, 1 konumunda bulunduğu sırada Dünya'dan son dördün evresinde görülür.
- B) Ay, 2 konumunda bulunduğu sırada Dünya'dan yeni ay evresinde görülür.
- C) Ay, 1 konumundan 2 konumuna 1 haftada ulaşır.
- D) Ay, 1 konumundan 2 konumuna giderken Dünya'dan 2 farklı ara evre görülür.

11. Mutfak masasında bekletilen bir tabak domateste, mantar etkisiyle bir hafta içerisinde aşağıda değişim görülüyor.



**Domateslerin çürümeye karşı daha uzun süre dayanmasını sağlamak için;**

- I. Ağız kapalı poşet içerisinde bekletme
- II. Buzdolabına yerleştirme
- III. Domatesleri ikiye keserek bekletme

**işlemlerinden hangileri yapılabilir?**

- A) Yalnız II                      B) I ve II  
C) I ve III                      D) II ve III



12. Canlıların benzer özelliklerine göre gruplandırılmasına **sınıflandırma** adı verilir.

**Canlıların sınıflandırılmasıyla ilgili olarak;**

- I. Gruplandırma için canlıların yapı, hareket, beslenme ve çoğalma gibi özellikleri dikkate alınır.
- II. Doğadaki canlılar dış görünülerine göre "Bitkiler" ve "Hayvanlar" olarak iki grupta toplanır.
- III. Sınıflandırma, canlıların incelenmesini kolaylaştırır.

**açıklamalarından hangileri doğrudur?**

- A) Yalnız I                      B) I ve II  
C) I ve III                      D) II ve III

13. Ahmet üst solunum yolu enfeksiyonu geçirdiği için sık sık öksürüyor. Annesi Ahmet'e şu açıklamayı yapıyor.

**Anne:** Öksürürken ağzını mendil ile kapatmalısın.

**Ahmet:** Neden?

**Anne:** .....



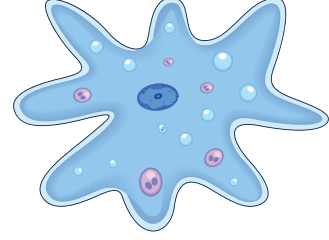
**Annenin yaptığı açıklama içerisinde;**

- I. Hastalanmana zararlı mikroskopik canlılar sebep oldu.
- II. Öksürme sırasında boğazındaki mikroskopik canlılar çevreye yayılır.
- III. Zararlı mikroskopik canlılar hava ile çevrendeki kişilere bulaşabilir.

**ifadelerinden hangileri bulunabilir?**

- A) Yalnız II                      B) I ve II  
C) I ve III                      D) I, II ve III

14. Aşağıda mikroskopik canlılardan birisi olan amip gösterilmiştir.



**Bu canlıyla ilgili olarak;**

- I. Sulu ortamlarda hareket edebilir.
- II. Çıplak gözle görülemez.
- III. Sütten yoğurt elde edilmesinde rol oynar.

**açıklamalarından hangileri doğrudur?**

- A) Yalnız II                      B) I ve II  
C) I ve III                      D) II ve III

- 15.

Açıkta tutulan yiyeceklerin bozulmasına sebep olur.

Ekmek hamurunun kabarmasını sağlar.

Pamukçuk, saçkıran ve ayak mantarına sebep olur.

Kültür mantarı olarak üretilen çeşitleri vardır.

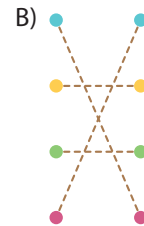
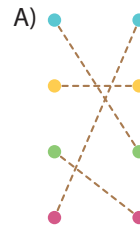
Şapkali mantar

Küf mantarı

Maya mantarı

Parazit mantar

**Mantar çeşitleri ve sahip olduğu özelliklerle ilgili yukarıda verilenlerin doğru eşleştirilmiş hâli aşağıdakilerden hangisinde verilmiştir?**





# SOSYAL BİLGİLER TESTİ

Bu testte 10 soru vardır.

Cevaplarınızı cevap kâğıdının SOSYAL BİLGİLER TESTİ için ayrılan kısmına işaretleyiniz.

1.



A Millî Futbol Takımımız, 2020 Avrupa Şampiyonası (EURO 2020) Elemeleri H Grubu'ndaki üçüncü maçında son Dünya Şampiyonu Fransa'yı 2-0 mağlup etti.

A Millî Futbol Takımının zaferi Türk basınında büyük yankı uyandırdı. Fotomaç, "Son Dünya Şampiyonu Fransa'yı sahadan sildik; futbol dersi verdik; tarihî bir zafere imza attık." Fanatik, "Fransa'ya Dünyayı dar ettik." başlıklarını kullandı.

Türkiye'nin tarihî galibiyeti Fransız basınında da geniş yer buldu. Le Figaro, "Fransızlar, Türk hamamında boğuldu." Fotomercato, "Türkiye'den Fransa'ya tokat" ifadelerini kullandı.

Türkiye'nin tarihî zaferi Avrupa basınında da büyük yankı uyandırdı.

Bu olaya ve basına yansıyan yorumlara göre aşağıdakilerden hangisi söylenebilir?

- A) Olayların çok boyutlu olduğu
- B) Olayların etkilerinin uzun süre devam ettiği
- C) Olayların oluşumunda insanların etkisinin olmadığı
- D) Olayların etkilerinin yaşandığı yerle sınırlı kaldığı

2. Aşağıdakilerden hangisi etkin vatandaşın özelliklerinden biri değildir?

- A) Ülke yönetimine katkı sağlar.
- B) Sorumluluk almaktan kaçınır.
- C) Kanun ve kurallara uygun davranır.
- D) Üretim yaparak ekonomiye katkıda bulunur.

3. **Kazanım:** Sosyal bilgiler dersi, birlikte yaşama ve yardımlaşmanın önemini anlamamızı sağlar.

Aşağıdaki kişilerden hangisinin davranışı sosyal bilgiler dersinin bu kazanımıyla ilgilidir?

- A) Tuğba Hanım'ın seçim zamanında oy vermesi
- B) Satın aldığı telefonu arızalı çıkan Turgut Bey'in alışveriş yaptığı merkeze giderek bu telefonu yenisiyle değiştirmesi
- C) Meryem Hanım'ın fakir bir öğrencinin eğitim masraflarını üstlenmesi
- D) Aykut'un ilgi, istek ve yeteneklerine göre meslek seçimini yapması

Yanıt Yayınları

4.

Aile



Aşağıdakilerden hangisi aile içinde üstlenilebilecek rollerden biri değildir?

- A) Çocuk B) Abla  
C) Baba D) Öğretmen

5.



Bu bilgiye göre aşağıdakilerden hangisi söylenbilir?

- A) Zaman içinde kişinin rolleri değişir.  
B) Kişiler aynı grup içinde farklı roller üstlenebilir.  
C) Aile içindeki tüm kişiler aynı rollere sahiptir.  
D) Kişiler içinde bulunduğu grupta sadece tek rol üstlenebilir.

6.



Bu görsel Çocuk Haklarına Dair Sözleşme'nin maddelerinden hangisiyle daha çok ilgilidir?

- A) Çocuk doğumdan hemen sonra derhal nüfus kütüğüne kaydolmak ve doğumdan itibaren bir isim alarak vatandaşlık kazanma hakkına sahiptir.  
B) Hiçbir çocuğun özel yaşantısına, aile ve konutuna keyfi ya da haksız bir biçimde müdahale yapılamaz.  
C) Zihinsel ya da bedensel özürlü çocukların toplumsal yaşama etkin biçimde katılmaları sağlanmalıdır.  
D) Hiçbir çocuğun onur ve itibarına haksız olarak saldırılamaz.

7.

- ✱ Yusuf başı ağrıdığına annesiyle sağlık ocağına gitmiş ve muayene olmuştur.  
✱ 6 yaşını dolduran Sultan ilkokula kaydolmuş ve 1. sınıfa başlamıştır.  
✱ Yaşar okul çıkışında evlerinin yakınındaki boş alanda arkadaşlarıyla buluşarak maç yapmıştır.

Bu bilgilerde çocukların hangi hakkını kullandığından bahsedilmemiştir?

- A) Eğitim hakkı B) Oyun oynama hakkı  
C) Sağlık hakkı D) Düşünce özgürlüğü

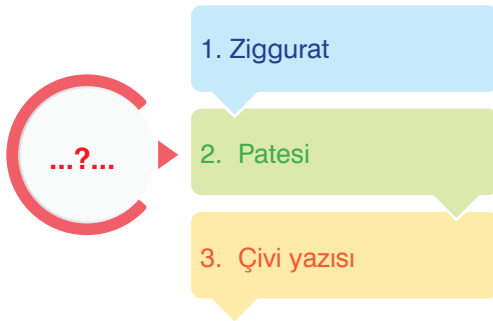
8.

Uygarlıklar	İnsanlık Tarihine Katkıları
.....I.....	Parayı icat ederek ticarete kullanılan takas (değiş-tokuş) usulünü sona erdirmişlerdir. Kral Yolu'nun bir kısmını inşa etmişlerdir.
.....II.....	Tarih yazıcılığının başlangıcı olarak kabul edilen anal adı verilen yıllıklar tutmuşlardır.
.....III.....	Tales (Matematik-astronomi), Hipokrat (tıp), Homeros (edebiyat), Heredot (tarih) ve Diyojen (felsefe) gibi önemli çalışmalar yapan bilim insanlarını yetiştirmişlerdir.

Bu tabloda numaralarla boş bırakılan yerlere getirilmesi gereken uygarlıklar hangi seçenekte doğru verilmiştir?

	I	II	III
A)	Hititler	Lidyalılar	İyonlar
B)	Lidyalılar	Hititler	İyonlar
C)	Lidyalılar	Hititler	Frigler
D)	Hititler	İyonlar	Lidyalılar

9.



Bu diyagramda “?” ile gösterilen yere aşağıdaki uygarlıklardan hangisi yazılmalıdır?

- |             |             |
|-------------|-------------|
| A) Sümerler | B) Asurlar  |
| C) Babiller | D) Hititler |

10. Frigler;

- Tapates adı verilen halı ve kilimleri dokumuşlardır.
- Kaya anıtlar yapmışlardır. Bu kaya anıtları arasında en ünlü olan ve günümüze kadar ulaşan Yazılıkaya'daki (Eskişehir) Midas Anıtı'dır.

Buna göre Friglerin dünya uygarlığına hangi alanda katkı sağladıkları söylenebilir?

- |           |           |
|-----------|-----------|
| A) Hukuk  | B) Sanat  |
| C) Eğitim | D) Sağlık |






# DİN KÜLTÜRÜ VE AHLAK BİLGİSİ TESTİ

Bu testte 10 soru vardır.

Cevaplarınızı cevap kâğıdının DİN KÜLTÜRÜ VE AHLAK BİLGİSİ TESTİ için ayrılan kısmına işaretleyiniz.

1. Aşağıda ünlü Türk ressamlarından Osman Hamdi Bey'in resimlerinden örnekler verilmiştir.



Bu resimlere bakan biri "Bu resimler kendi kendine var olabilir mi?" sorusuna "Elbette hayır." şeklinde yanıt verecektir.

**Bu örnek gibi evrendeki varlıkları ve yasaları inceleyen birinin aşağıdakilerden hangisini söylemesi beklenmez?**

- A) Kâinatta mükemmel bir sistem vardır.
- B) Canlılar uyum içinde yaratılmıştır.
- C) Evrende tesadüfler sonucu oluşan varlıklara rastlanır.
- D) Allah (c.c.) her şeyi bir düzene göre var etmiştir.

2. Yaşadığımız evreni ve bizi en güzel şekilde yaratan, bizim için nimetler var eden Allah (c.c.) bir ve tektir. Evrendeki varlıklar arasında mükemmel bir uyum ve düzen görülür. Evrendeki bu mükemmel düzen ve uyum, yaratanın bir ve tek olması ile gerçekleşir. Her şeyi yaratan ve düzenleyen Allah (c.c.) bir ve tek olmasaydı hem yaşamımızda hem de evrenin işleminde düzensizlikler ortaya çıkardı. Bu konuyla ilgili Kur'an-ı Kerim'de şöyle buyrulmaktadır: "Eğer yerde ve gökte Allah'tan başka ilahlar olsaydı kesinlikle ikisinin de düzeni bozulurdu..." **(Enbiyâ suresi, 22. ayet)**

**Bu metnin konusu aşağıdakilerden hangisidir?**

- A) İhlâs
- B) Tevhid
- C) Esmâ-i Hüsnâ
- D) Hanif

3. "O, gökleri ve yeri örneksiz yaratandır. Bir işe hükmetti mi ona sadece 'ol' der, o da hemen olur." **(Bakara suresi, 117. ayet)**

**Bu ayetten aşağıdakilerden hangisine ulaşılabilir?**

- A) Allah'ın (c.c.) varlığına en büyük delil yer ve göktür.
- B) Bir işin hemen olmasını istemek hataları artırabilir.
- C) Göklerin yaratılması, yerin var edilmesinden daha zordur.
- D) Allah (c.c.) bir şeyin olmasını istediğinde hiçbir zorlukla karşılaşmaz.

Yanıt Yayınları


4. Aşağıda Yüce Allah'ın dünya hayatımızı devam ettirebilmemiz için verdiği çeşitli nimetler ve kolaylıklardan bazıları gösterilmiştir.



Allah (c.c.) bebeklik ve çocukluk dönemimizde iken sevgi ve şefkat gibi çeşitli ihtiyaçlarımızın karşılanması için bizi bir aile içinde var etmiştir.



Allah (c.c.) beslenmemiz için çeşitli bitkileri var etmiştir.



Allah (c.c.) beslenmemiz ve çeşitli işlerde kullanmamız için hayvanları yaratmıştır.

Bu nimetler ve kolaylıklar Yüce Allah'ın güzel isimlerinden hangisiyle doğrudan ilişkilidir?

- A) Rahman B) Semî C) Alîm D) Samed

5. "El açıp yalvarmaya lâyık olan ancak O'dur..."

(Ra'd suresi, 14. ayet)

"Yalnız sana ibadet eder ve yalnız senden yardım dileriz."

(Fâtiha suresi, 5. ayet)

Bu ayetlerden duayla ilgili aşağıdakilerden hangisi çıkarılabilir?

- A) İbadet niyetiyle yapılır.  
B) Duygulu şekilde yapılmalıdır.  
C) Sadece Allah'a (c.c.) yapılır.  
D) Belli yerlerde yapılmalıdır.

6. "...O karada ve denizde ne varsa bilir; O'nun bilgisi dışında bir yaprak bile düşmez..."

(En'âm suresi, 59. ayet)

"...Şüphesiz Allah hakkıyla işitendir, hakkıyla bilendir."

(Enfâl suresi, 75. ayet)

Bu ayetlerde Yüce Allah'ın aşağıdaki hangi iki özelliğiyle ilgili açıklama vardır?

- A) İlim - Basar B) Semî - İlim  
C) Kudret - Semî D) Semî - Basar

7.



Yan tarafta Allah'ın (c.c.) güzel isimlerinden biri gösterilmiştir. Bu isim Allah'ın (c.c.) her şeye gücünün yetmesi anlamına gelir.

**Bu bilgilere göre, verilen şekilde aşağıdakilerden hangisi gösterilmiştir?**

- |          |          |
|----------|----------|
| A) Kâdir | B) Basar |
| C) Semî  | D) İlim  |

8. Hz. İbrahim (a.s.); Irak ve çevresi, Urfa, Harran, Filistin, Ken'an diyarı, Mısır ve Mekke'yi de içine alacak geniş bir alanda yaşamıştır. Bu bölgelerde insanları bir ve tek olan Allah'a (c.c.) inanmaya davet etmiştir. Ancak babası Azer ve yaşadığı toplumdan bazıları Hz. İbrahim'in (a.s.) bu davetine karşı durmuş, Allah'ı (c.c.) inkar etmişlerdir. Hz. İbrahim (a.s.) ile mücadele edip onu engellemeye çalışmışlardır. Bütün bunlara rağmen Hz. İbrahim (a.s.) tevhid mücadelesinden hiçbir zaman vazgeçmemiş yaşadığı her yerde insanları tevhide davet etme çabasını sürdürmüştür.

**Bu metinde Hz. İbrahim'le (a.s.) ilgili aşağıdaki sorulardan hangisine cevap yoktur?**

- A) Cesur ve kararlı bir kişi midir?  
 B) Hangi coğrafyada hayat sürmüştür?  
 C) Kur'an-ı Kerim'de kıssasına yer verilmiş midir?  
 D) İnsanları inanmaya davet ettiği konu hangisidir?

9.

Kur'an-ı Kerim'de dua örneği olan ayetlere yer verilmiştir.

**Bu bilgiye;**

- I. "... Rabbimiz! Bize dünyada da iyilik ver, ahirette de iyilik ver ve bizi ateş azabından koru." (Bakara suresi, 201. ayet)
- II. "Rabbim! Beni namaza devam eden bir kimse eyle. Soyumdan da böyle kimseler yarat. Rabb'imiz! Duamı kabul eyle." (İbrâhîm suresi, 40. ayet)
- III. "...Ey Rabbimiz! Senin rahmetin ve ilmin her şeyi kuşatmıştır. O hâlde tövbe eden ve senin yoluna uyanları bağışla ve onları cehennem azabından koru." (Mü'min suresi, 7. ayet)

**ayetlerinden hangileri örnektir?**

- |               |                  |
|---------------|------------------|
| A) I ve II.   | B) I ve III.     |
| C) II ve III. | D) I, II ve III. |

10.

İhlâs Suresinin Okunuşu

Bismillâhirrahmânirrahîm

1. Kul huvallâhu ehad.
2. Allâhu's Samed.
3. Lem yelid ve lem yûled.
4. Ve lem yekun lehû küfüven ehad.

**Yukarıda altı çizili kavram aşağıdakilerden hangisiyle açıklanabilir?**

- A) Dua içerisinde Allah'ın (c.c.) güzel isimlerini anmak gerekir.  
 B) Her şey Allah'a (c.c.) muhtaçtır; O, hiçbir şeye muhtaç değildir.  
 C) Yüce Allah (c.c.) insanlara faydalanmaları için sayısız nimet vermiştir.  
 D) Allah (c.c.), kendisinden isteyen ve kendisine sığınan kulunun duasına mutlaka karşılık verir.



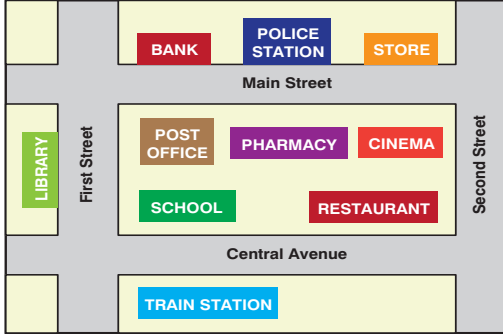
# İNGİLİZCE TESTİ

Bu testte 10 soru vardır.

Cevaplarınızı cevap kâğıdının İNGİLİZCE TESTİ için ayrılan kısmına işaretleyiniz.

1 - 5: FOR THESE QUESTIONS, CHOOSE THE BEST OPTION TO FILL IN THE BLANKS.

1.



The pharmacy is - - - - the cinema and the post office.

- A) next to
- B) between
- C) behind
- D) in front of

2. **David:** Where is Tom?

**Kate:** He is at the - - -. He needs some money.

- A) stationery
- B) bank
- C) hospital
- D) bakery

3. **Peter:** Hello! I am Peter. I am from the U.S.A.

**James:** Hi, Peter. I am James. I am from England.  
- - - -.

- A) Glad to meet you
- B) Where are you from
- C) My pleasure
- D) Me, too

4.



**Jack:** Where is your mum?

**Kate:** She's at the - - -. She wants to buy some bread.

- A) bakery
- B) fire station
- C) greengrocer
- D) pharmacy

5. **Alex:** Do you like Art, Lucy?

**Lucy:** It's my favourite. - - - -.

- A) I dislike doing experiments
- B) I hate learning new languages
- C) I like drawing pictures
- D) I don't enjoy painting

6. **Sam:** Hi, Mike. Where is Edward?

**Mike:** He's at the cinema. He loves watching films.

Where is Edward now?

A)



B)



C)



D)



**ANSWER THE QUESTIONS (7-8)  
ACCORDING TO THE TEXT BELOW.**

I'm Rony. I am from Germany. I am twelve years old. I study at Albert Elementary School. I can speak English and French. I am good at Science and I love doing experiments. I don't enjoy drawing pictures. I am not good at it.



**Rony**

7. Which one is TRUE?

- A) Rony is French.
- B) Rony can speak German.
- C) Rony likes art lesson.
- D) Rony studies at a secondary school.

8. Which subject is Rony NOT interested in?

- A) Art
- B) French
- C) Science
- D) English

ANSWER THE QUESTIONS (9-10) ACCORDING TO THE DIALOGUE BELOW.



Librarian

**Ted:** Hello!

**Librarian:** Hi, ----?

**Ted:** My name is Ted.

**Librarian:** And, What is your surname?

**Ted:** Roys.

**Librarian:** ----?

**Ted:** R-O-Y-S

**Librarian:** ----?

**Ted:** 5e

**Librarian:** ----?

**Ted:** I am eleven.

**Librarian:** Have you got a photograph?

**Ted:** Here you are.

**Librarian:** Thank you, Ted. Here is your library card.

**Ted:** Thank you.



Ted

9. Which question does NOT complete the dialogue?

- A) What is your name  
B) Where are you from  
C) What class are you in  
D) How old are you

10. Where is Ted now?

