

Hacivat: Hoş geldin, Karagözüm!

Karagöz: Hoş bulduk, kel kafalı kara kafalı üzüm!

Hacivat: Nereden gelip nereye gidiyorsun?

Karagöz: Bir yere gittiğim yok da oğlumla kaç saattir okuma - yazma çalıştık. Biraz gezeyim, dedim.

Hacivat: Tabi, iyi yaptın efendim, kafan balon olmuştur.

Karagöz: Kafam balon oldu da uçmasın diye boynuma yapıştırdım.

Hacivat: Hemen yanlış anlama yani uzun zaman ders çalışmaktan kafan şişmiştir.

Karagöz: Kafam pişti de soğutmaya çıktım.

Hacivat: Allah iyiliğini versin! Neyse, çalışmalar iyi gidiyor mu?

Karagöz: Hem de nasıl gidiyor bilemezsin Hacı Cavcav! Sen söyle de bana da diploma versinler.

Hacivat: Efendim, sen hele hepsini iyi öğren de diploma işi kolay.

Karagöz: Şey, okuma - yazma öğrenirsem diploma başka ne işime yarayacak.

Hacivat: Bak mesela mühüre artık gerek kalmayacak.

Karagöz: Yerine kimse bakmayacak mı?

Hacivat: Kimin yerine Karagözüm?

Hacivat: Müdüre gerek kalmayacak, dedin ya!


Karagöz: Efendim, müdür değil, mühür! İmza yerine bastığın damga yok mu?

Karagöz: Öyle söylesene köftehor.





☞ Aşağıdaki bulmacada metinde geçen bazı kelimeler gizlenmiştir. Kelimeleri bulup anlamlarını yazınız.



- 1)
- 2)
- 3)
- 4)
- 5)
- 6)
- 7)
- 8)



👉 Aşağıdaki soruları metne göre cevaplayınız.

● Metinde adı geçen kahramanlar kimlerdir?



● Metinde en çok güldüğünüz, size komik gelen cümle hangisidir?




● Bulmacada bulduğunuz kelimelerden üç tanesini cümlede kullanınız.

1


2

3


● Metnin konusu nedir?




● Metnin ana fikri nedir?




● Metnin başlığını siz yazınız.



● Olayın geçtiği yer ve zaman nedir?



● Metinde geçen olay nedir?





“

4. Sınıf

ÇALIŞMA KAĞITLARI

”



TÜRKÇE

Metni Okuma – Anlama



Aşağıda adları verilen karakterlerin özelliklerini araştırıp yazınız.

HACİVAT



KARAGÖZ



ÇELEBİ

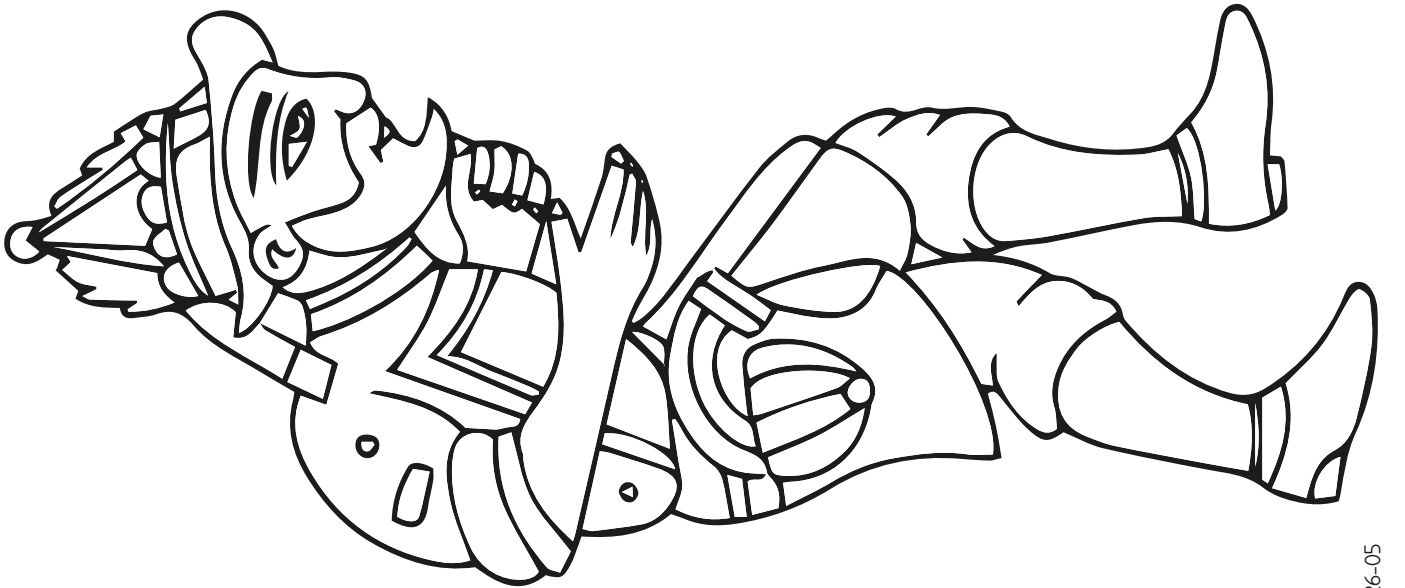



LAZ



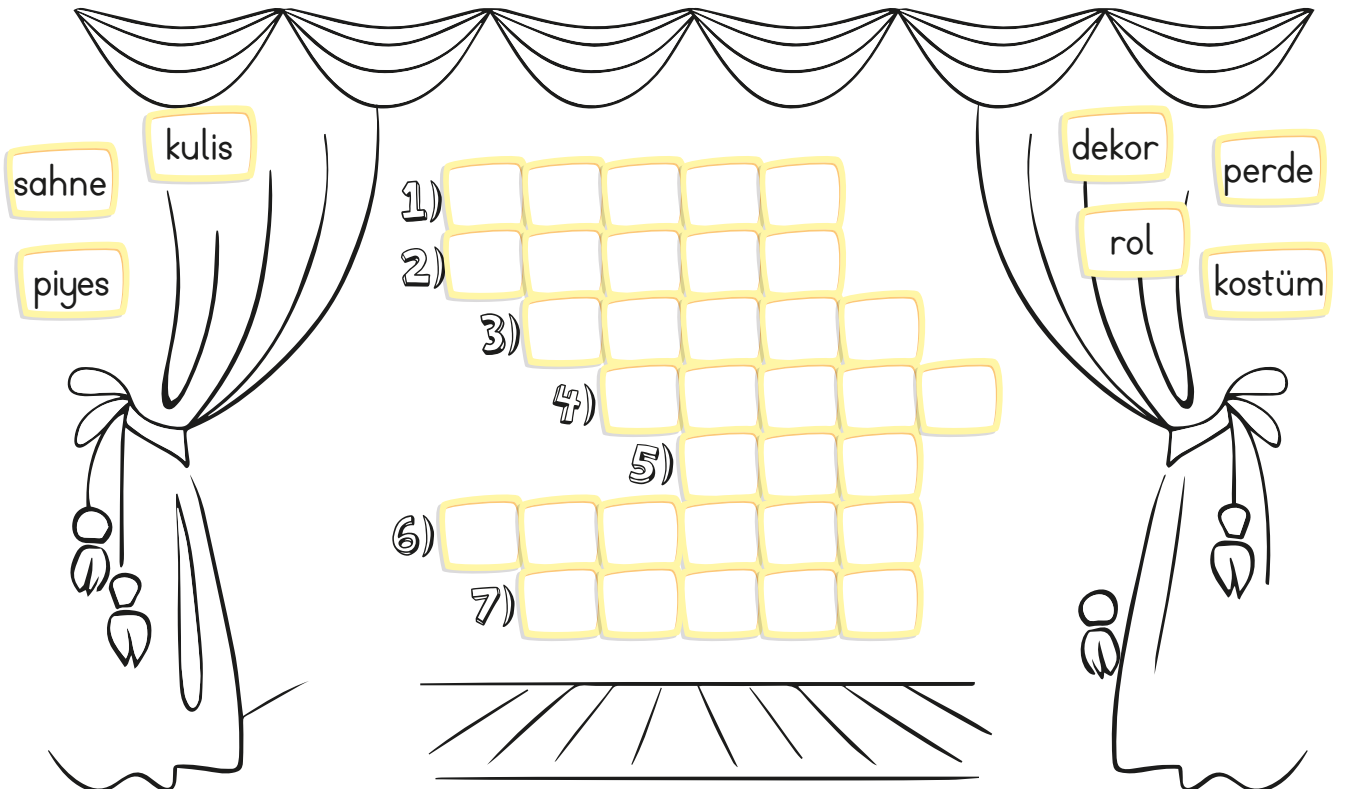


👉 Karagöz ve Hacivat'ı istediğiniz renge boyayınız.






👉 Aşağıdaki boşlukları uygun kelimelerle tamamlayıp bulmacaya yazınız.

- 1) Oyunların oynandığı, olayların geçtiği yere “.....” denir.
- 2) Tiyatro eseri “.....” dir.
- 3) Bir sahne eserinin olayların gelişimine göre ayrıldığı bölümlere “.....” denir.
- 4) Sahnenin oyunun konuya göre hazırlanmasında kullanılan eşyalara “.....” denir.
- 5) Oyuncuların sahnede aldıkları göreve “.....” denir.
- 6) Tiyatro oyuncularının rollerine uygun olarak giymiş olduğu kıyafetlere “.....” denir.
- 7) Oyuncuların hazırlıklarını yaptığı, sahneye çıkmak için beklediği sahne arkasındaki yere “.....” denir.





👉 Aşağıdaki sahneye dekor ve tiyatro oyuncularınızı kesip yapıştırınız. Sonraki sayfaya oyunculara ve dekora uygun tiyatro metni yazınız.





“

4. Sınıf

ÇALIŞMA KAĞITLARI


”



TÜRKÇE

Noktalama İşaretleri

Merhaba arkadaşlar,
ben Akın. Sizlerin isim-
lerini okulda duydum.
Bana kendinizi daha iyi
tanıtır mısınız?



Selam,
Ben
En çok
.....
kullanırım.



Merhaba,
Ben
En çok kullanıldığım
yerler:
.....



Ben
En çok kullanıldığım
yerler:
.....
.....



Ben
sanırım en çok kullanılan
ve en çok yorulan
benim. Kullanıldığım
yerler:
.....



Merhaba, biz hep üçüz
olarak geziyoruz. Adımız
En çok
.....
kullanılırız.



Merhaba ben
En çok
.....
kullanırlar beni.



Eğer Akın arkadaşlarını yeterince tanıdıysa
onların olduğu birer tane cümle kurmasına
yardım eder misiniz?





Öğretmen, o gün tiyatronun ne demek olduğunu açıkladı ve Sevgi ile Özlem'e tiyatro metni yazma ödevi verdi. O tiyatro metnini birlikte yazıp sahneleyeceklerdi.

Sevgi ve Özlem, konusu “kitap okumak” olan bir metin yazmaya karar verdiler. Konuşmalar şu şekilde olacaktı:

Sevgi: “Özlem nasılsın, elindeki poşetler nedir?”

Özlem: “Kitap aldım, kitap okumayı çok seviyorum.”

Sevgi: “Bunlara bir sürü para mı verdin?”

Özlem: “Evet, ne var bunda?”

Sevgi: “Bilmem, bana gereksiz geldi. Ben pek sevmem de...”

Özlem: “Bak, arkadaşım! Kitap okumak, insanın kelime hazinesini geliştirir, ufkunu açar, daha güzel konuşmasını sağlar.”

Sevgi: “Gerçekten mi?”

Özlem: “Sana aldığım kitaplardan birini hediye edeyim, onunla başla okumaya.”

Sevgi: “Çok teşekkür ediyorum, söz veriyorum okuyacağım.”

Metni yazıp, sınıfta sahnelediklerinde herkes çok beğenmişti.



Tiyatro ne demektir?



Hiç tiyatroya gittiniz mi?



Oyunda yer alan Sevgi ve Özlem nasıl kişilik özelliklerine sahiptir?



“

4. Sınıf

ÇALIŞMA KAĞITLARI

”



TÜRKÇE

Tiyatro

👉 Aşağıdaki maskeyi istediğiniz gibi boyayınız.




👉 Yukarıdaki görselden anladığınızı aşağıdaki boşluğa yazınız.





👉 Aşağıdaki görsellerle ilgili cümle kurunuz. Görselleri istediğiniz gibi boyayınız.




.....

.....




.....

.....




.....

.....




.....

.....




.....

.....



.....

.....





Aşağıda cevapları verilen cümlelere uygun sorular yazınız.



.....?

En çok elma ve muz seviyorum.



.....?

Atatürk, 1881 yılında doğdu.



.....?

Çocuklar parkta oyun oynuyorlar.



.....?

Arkadaşıyla sinemaya gitti.



.....?

Ben hayatta en çok ailemi seviyorum.



.....?

İzmir Karşıyaka'da oturuyor.



Aşağıdaki cümlelerin sonuna noktalama işaretlerinden uygun olanlarını yazınız.

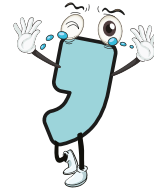


★ Aaaa () merdivenden düştük ()

★ Bunu kim yaptı ()

★ Sen çok başarılı bir çocuksun ()

★ Elma () armut () muz en sevdiğim meyveler ()

★ Ben anlamadım ki ()



Eş anlamlı kelimelere üç tane örnek veriniz.



.....



.....



.....



Aşağıdaki kelimelerin zıt anlamlarını yazınız.

Siyah :

Büyük :

Yaşlı :



“

4. Sınıf

ÇALIŞMA KAĞITLARI



”





MATEMATİK

Düzlem

👉 Aşağıdaki verilen varlıklardan yüzeyi düz olanlara “✓” yüzeyi eğri olanlara “✗” işareti koyunuz.



👉 Aşağıdaki görsellerden hangileri düzlem modelidir? İşaretleyiniz.



☞ Aşağıdaki görseli inceleyiniz. Görseldeki düzlem modellerini altlarına yazınız.



Düzlem Modelleri

.....


.....

.....

.....

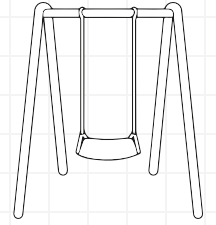
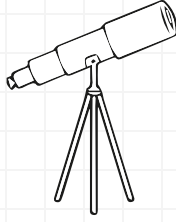
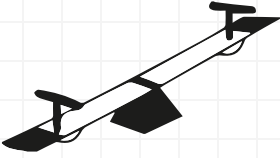


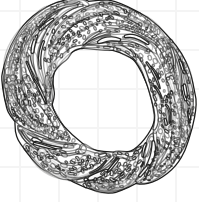

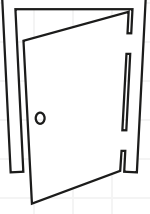
.....

☞ Aşağıya düzlem modeli olan şekiller çiziniz.

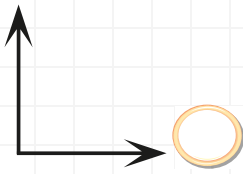
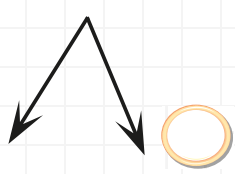
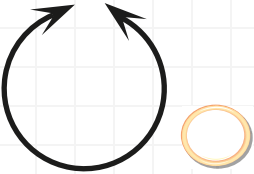
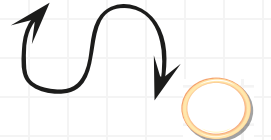
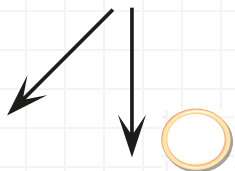




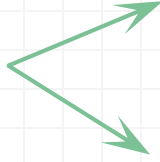

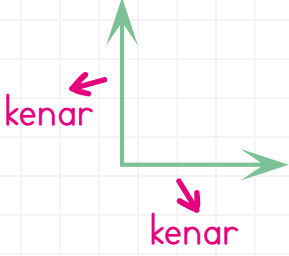
👉 Aşağıdaki varlıklardan açısı olanları işaretleyiniz.



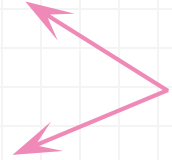
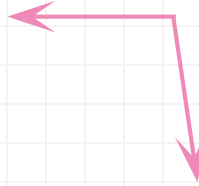

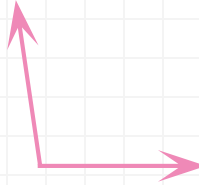
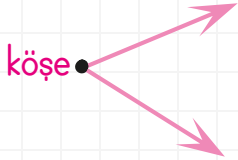
👉 Aşağıdaki şekillerden açı oluşturanları “✓” ile işaretleyiniz.



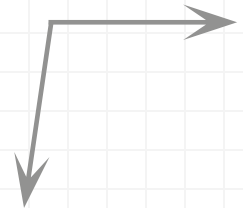

👉 Aşağıdaki açıların kenarlarını örnekteki gibi belirtiniz.



👉 Aşağıdaki açıların köşelerini örnekteki gibi belirtiniz.




👉 Aşağıdaki açıların köşelerini maviye, kenarlarını kırmızıya boyayınız.

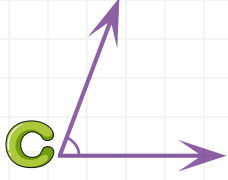




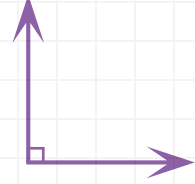
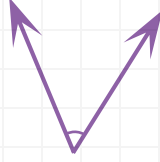
Aşağıdaki açıları
isimlendiriniz.
Sembol kullanarak
örnekteki gibi yazınız.



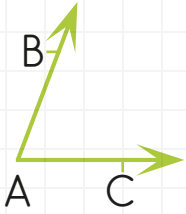
👉 Aşağıdaki açıları isimlendiriniz. Açıyı sembolle gösteriniz.



\hat{C} veya $\angle C$



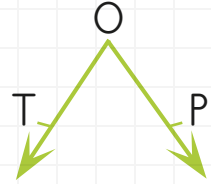
👉 Aşağıdaki açıların köşe ve kenarlarını inceleyiniz. Boşlukları doldurunuz.



\hat{A} oluşturan kenarlar
[BA] ve [AC]

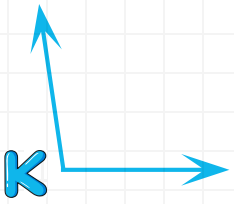


..... oluşturan kenarlar

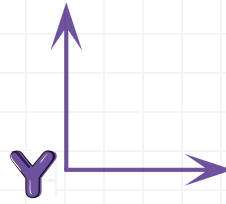


..... oluşturan kenarlar

👉 Aşağıdaki boşlukları örneğe uygun olarak doldurunuz.



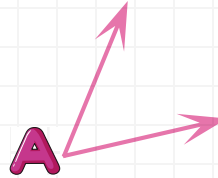
\hat{K} veya $\angle K$ olarak
gösterilir.
 \hat{K} açısı diye okunur.




..... veya olarak
gösterilir.
..... açısı diye okunur.



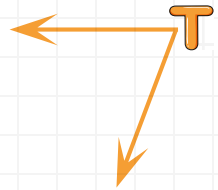
..... veya olarak
gösterilir.
..... açısı diye okunur.



..... veya olarak
gösterilir.
..... açısı diye okunur.











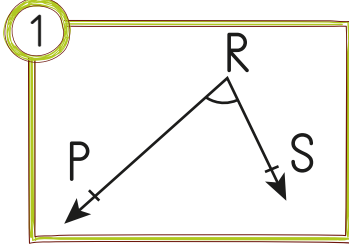
..... veya olarak
gösterilir.
..... açısı diye okunur.



..... veya olarak
gösterilir.
..... açısı diye okunur.

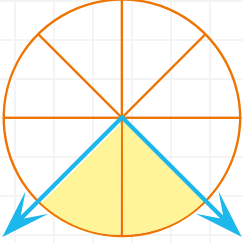


☞ Aşağıdaki boş kutucuklara açı çizin. Çizdiğiniz açıların köşe ve kenarlarını belirleyiniz. Tabloyu Örnekteki gibi doldurunuz.

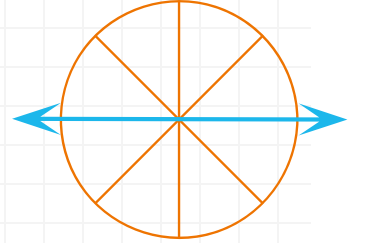
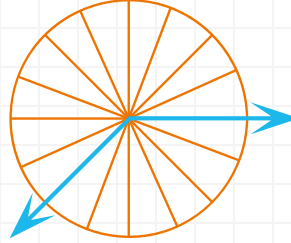
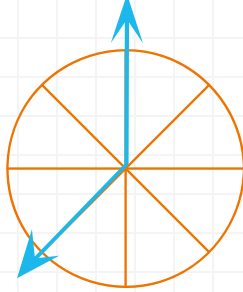
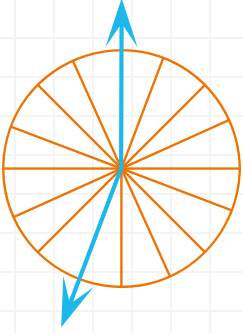
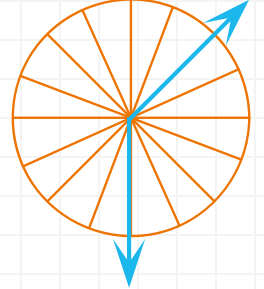
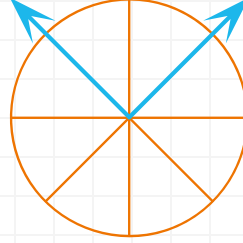
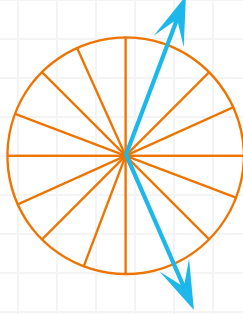


Açılar	Köşe	Kenarlar	Sembolle Gösterimi
1	R köşesi	RP ışını, RS ışını	\widehat{PRS} , \widehat{SRP} , \widehat{R}
2			
3			
4			
5			
6			
7			
8			
9			

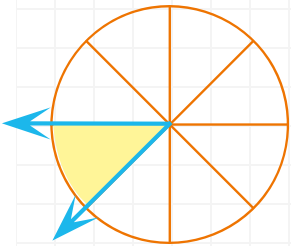
☞ Aşağıdaki açıları 8 dilimli ve 16 dilimli açı ölçer ile ölçünüz.



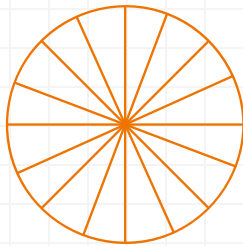
2. dilim



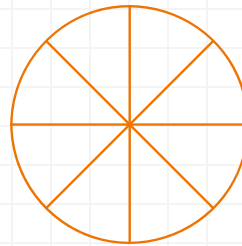
☞ Aşağıya sizden istenilen dilim ölçüsünde örnekteki gibi açılar çiziniz.



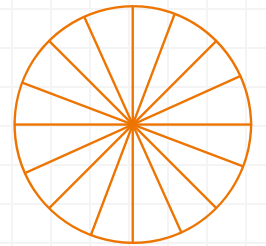
Bir dilim açı



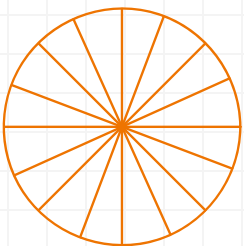
Altı dilim açı



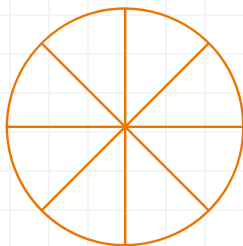
İki dilim açı



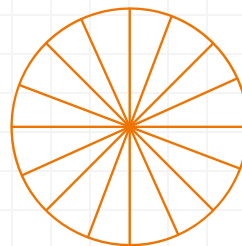
Sekiz dilim açı



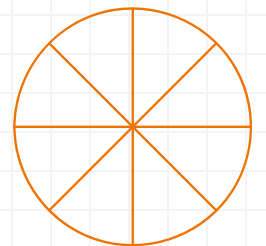
Dört dilim açı



Üç dilim açı



Yedi dilim açı



Beş dilim açı

☞ Aşağıdaki ifadelerde cümlelerin doğru olduğunu düşünüyorsanız “D” harfinin bulunduğu yolu, yanlış olduğunu düşünüyorsanız “Y” harfinin bulunduğu yolu izleyiniz. Kaç numaralı çıkışa ulaştıysanız yuvarlak içine alınız.



☞ Aşağıdaki noktalı yerlere uygun kelimeleri yazınız.

enerji kaynaklarının

görmemizi

doğrudan

gök bilimcilerin

ışığı dağıtmayacak

- Işık kirliliği, gökyüzünün gözlemlenmesini zorlaştırır. Bu da çalışmalarını olumsuz etkiler.
- Işık kirliliği, azalmasına neden olur.
- Işığın az olması da çok olması da olumsuz etkiler.
- Işık gözümüze gelirse göz sağlığımızı bozar.
- Sokak lambaları, şekilde yapılmadı.

☞ Aşağıdaki ifadelerde doğru olanların başına “D”, yanlış olanların başına “Y” yazınız.

- ☐ Işığın parlaklığı gözümüzü yormayacak şekilde olmalıdır.
- ☐ Işığın az olması, görmemizi olumsuz etkiler.
- ☐ Işık kirliliği, gökbilimcilerin çalışmasını olumsuz etkiler.
- ☐ Loş ortamlar, kitap okumak için en uygun ortamdır.
- ☐ Işık kirliliği enerji israfına neden olmaz.
- ☐ Işık kirliliği enerji israfına neden olur.
- ☐ Led ışık kaynakları kullanarak ülke ekonomisine katkıda bulunabiliriz.

☞ Aşağıdaki ışık kirliliğine neden olan durumları önlemeye yönelik çözümlerinizi yazınız.

1. Binaların dışına aşırı derecede ışık sızıyor.

Çözüm :

2. Büyük şehirlerde göçmen kuşların geçişi görülmüyor.

Çözüm :


3. Şehirde yıldızlar görülemiyor.

Çözüm :

4. Caretta caretta yumurtadan çıktıktan sonra denizi bulamıyor.

Çözüm :

1. Aşağıdaki kelimelerden uygun olanları noktalı yerlere yazarak cümleleri tamamlayınız.



- ışık canlılara zarar verir.
- ışığın yanlış ve gereksiz kullanımı neden olur.
- ışık kirliliği yavrularının denize ulaşmalarına engeller.
- Güneş'e çıplak gözle bakmak neden olabilir.
- ışık kirliliği nedeniyle yollarını kaybeder.
- kirliliği göze zarar verir.
- Stadyumlarda ve otomobillerde lambalar kullanılır.

2. Görsellerde yer alan varlıklara ışık kirliliğinin etkilerini yazınız.



.....
.....
.....

3. Aşağıdaki soruları cevaplayınız.

a) Işık kirliliğinin göz sağlığını etkileri nelerdir?

.....

b) Yerleşim yerlerinin aşırı ve yanlış aydınlatılmasının olumsuz etkileri nelerdir?

.....

Aşağıdaki soruları kendinize göre cevaplayınız.

	EVET	HAYIR
Tasarruflarımı birikimlerime eklerim.		
Gelir ve giderlerimi dengede tutarım.		
Harçlığımı ailemle birlikte belirlerim.		
Bütçemi hazırlarken ailemden destek alırım.		
Alışverişe çıkmadan liste yaparım.		



Yandaki tabloyu kendi aylık bütçenize göre doldurunuz. (Ailenizden yardım alınız.)

Aylık geliriniz nedir?

Hangi ihtiyacınız için gelirinizden harcama yapacaksınız?

Tahminen ne kadar harcama yapacaksınız?

İhtiyacınız dışında almak istediğiniz şeyler var mı?

Aşağıdakilerden hangisine aile bütçesi hazırlamak için gerek duyarız? “✓” işareti koyunuz.

☐

Aylık kazancımızın belli olması.

☐

Temel ihtiyaçlarımızın az olması.

☐

Yapılacak harcamaların tahminen belli olması.

☐

Ekstra harcamaların olması.

☐

İhtiyaçlarımızı aşmaya çalışmaması.

👉 Aşağıdaki mikrofonlar size uzatıldı. Verilen sorulara cevap verir misiniz?

Ailenin gelirleri nelerdir?

Ailenin giderleri nelerdir?



“Ayağını yorganına göre uzat” atasözünden ne anlıyorsunuz?

Evinizde alışverişinizi kim yapar?

Ailenizde herkes kendi kazandığını mı harcıyor?

👉 Bilinçli bir tüketicinin alışveriş yaparken dikkat etmesi gereken kuralları aşağıdaki kelimelerle doldurunuz.

- İlk önceliğimiz olmalıdır.
- Parasını harcarken dikkat eder, harcama yapmaz.
- Aldığı gıdaların son kullanma tarihine bakar.
- Ürünleri almadan önce mutlaka yapar.
- Sıkıntılı çıkan ürünleri satıcıya etmeliyiz.



1. Bütçe yaparken neden tasarruf yapmalıyız?



2. Aile bütçesi hazırlarken nelere gerek duyarız?



3. Alışveriş yaparken nelere dikkat etmeliyiz?



4. Eğitim ve sağlık sektöründen iki tane meslek yazınız.



5. Garanti belgesinin olması zorunlu olan ürünlerden üç tane yazınız.



6. Bilinçli bir tüketici, nelere dikkat etmelidir?



AİLE BÜTÇESİ	
GELİR	GİDER
Babanın maaşı :	Elektrik :
.....	Su :
.....	Doğal gaz :
Annenin maaşı :
.....	Giyim :
.....	Market :
Gelir :	Ulaşım :
.....	

7. Yandaki tabloyu ekleme ve çıkarmalar yaparak kendinize göre doldurunuz.



8. Aşağıdaki kelimelerin açıklamasını yazınız.

★ Bütçe :

★ Gelir :

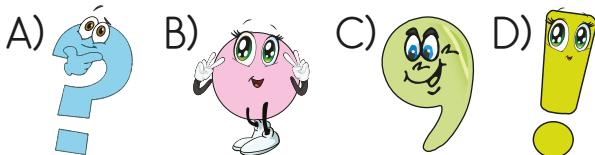
★ Gider :

9. Aile bütçesine ne gibi katkılarınız olabilir?

.....

.....

1. Aşağıdaki kelimelerden hangisi tiyatro terimi değildir?
- A) Sahne B) Dekor
C) Nota D) Kostüm
2. Bir metne bağlı olarak veya doğaçlama olarak sahnede, seyirci önünde oynanan sanata ne denir?
- A) Edebiyat B) Tiyatro
C) Oyun D) Şiir
3. Aşağıdaki kelimelerden hangisinin eş anlamlısı yoktur?
- A) Saat B) Siyah
C) Soru D) Doktor
4. Aşağıdaki noktalama işaretlerinden hangisi cümle sonunda kullanılmaz?



5.

	Düzlem	Düzlemsel Şekil
I.	Harita	Haritadaki şekiller
II.	Sahadaki çizgiler	Oyun sahası
III.	Sınıf panosu	Panodaki resimler

Tabloda düzlem ve düzlemsel şekiller verilmiştir.

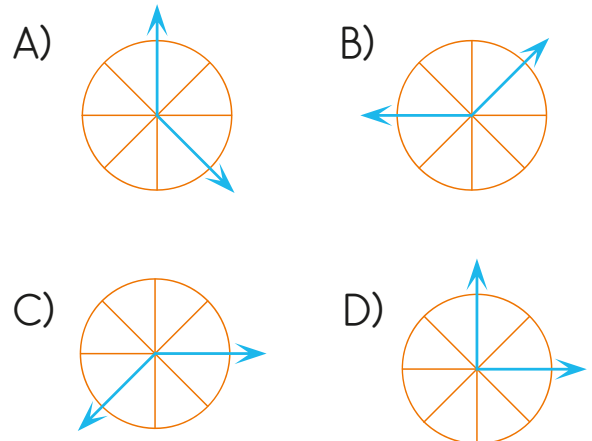
Buna göre hangisi veya hangileri doğrudur?

- A) Yalnız III B) I ve III
C) Yalnız II D) II ve III

6. Aşağıdaki sayıların hangisinde açı vardır?

A) 0 B) 6 C) 8 D) 7

7. Aşağıda dilimli açölçer ile ölçülen açıların hangisinde dilim sayısı farklıdır?





“

4. Sınıf

HAFTANIN TESTİ

”




Tarih:
Adım:
Soyadım:

8. Aşağıdakilerden hangisi düzlem de-
ğildir?



B)



C)



D)



9. Aşağıdakilerden hangisi düzlemsel
şekil modeline örnek verilemez?

- A) Masanın üstündeki şişe
- B) Tangram parçaları
- C) Havlunun üstündeki desenler
- D) Bayrağın üstündeki ay ve yıldız

10.



Aşağıdaki şekilde kaç tane açı
vardır?

- A) 1 B) 2 C) 3 D) 4

11. Aydınlatma araçlarında en çok
dikkat etmemiz gereken seçenek
hangisidir?

- A) Tasarruflu olmalıdır.
- B) Sarı ışıklı olmalıdır.
- C) Işığı loş olmalıdır
- D) Ucuz olmalıdır.

12. Aşağıdakilerden hangisi elektriği
tasarruflu kullanmaya yönelik bir
faaliyet değildir?

- A) Işık kaynaklarını, aydınlatacak
ortama yönlendirmek.
- B) İzlemediğimiz zaman televizyo-
nu kapamak.
- C) Kitap okurken hem odanın
ışığını, hem masa lambasını
açmak.
- D) Enerji tasarruflu ampuller
kullanmak.

13. ★ Carreta yavruları aşırı aydınlatma nedeniyle yönlerini şaşırır.
- ▲ Ortamları mum ışığıyla aydınlatmak tasarruf sağlar.
- Göçmen kuşlar, yüksek binalardaki ışıkları yıldız zannederek binalara çarpar.

Yukarıdaki ifadelerden hangileri ışık kirliliğinin canlılara etkisi ile ilgilidir?

- A) ★ ▲ B) ▲ ●
C) ★ ● D) ★ ▲ ●

14. Aşağıdaki ifadelerden hangisi yanlıştır?
- A) Merdivenlere yaklaşıldığında yanan, uzaklaşıldığında sönen lambalar konulmalıdır.
- B) Cadde ve sokakları aşırı aydınlatma doğru değildir.
- C) Binaların güzel görünmesi için dışarısı aydınlatılmalıdır.
- D) Sokak lambaları yeri aydınlatacak şekilde yapılmalıdır.

15. Işık kirliliği :

- I. Carreta yavrularının yönlerini şaşımalarına neden olur.
- II. Göçmen kuşlarının yollarını bulmasını sağlar.
- III. Gök cisimlerinin incelenmesine zorlaştırır.

Bilgilerinden hangileri doğrudur?

- A) Yalnız II B) II ve III
C) I, II ve III D) I ve III

16. Işığın yanlış yerde, yanlış yanlış yönde ve yanlış kullanılmasıyla ışık oluşur.

Yukarıdaki boşluklara aşağıdakilerden hangisi getirelemez?

- A) tasarrufu B) miktarda
C) zamanda D) kirliliği

17. “İnsanların yaptıkları iş karşılığı her ay düzenli aldıkları paraya” ne denir?

- A) Gelir B) Maaş
C) Bütçe D) Tasarruf