

4. Sınıf #evdekal Seti

• Soru Bankası • Funny English • Nisan Ara Tatil Seti



35
TL

Sosyal Medya
Hesaplarımızı
ziyaret
ettiniz mi?



Destek Hattı

0(543) 724 96 90



SİPARİŞ ve incelemek için
www.ogretmenevdesatis.com

Corona Günleri

Bütün dünyayı etkileyen bir virüs, Corona. Sürekli televizyonda, haberlerde ve her yerde adını duyuyorum. Annem ve babam evde, izin almışlar. Kardeşimle ben de okula gitmiyoruz. Hastalık en çok yaşlılara zarar veriyor diye anneannemi ve dedemi ziyaret edemiyoruz. Kötü bir olay yaşasak da ben olayın iyi tarafını görmeye çalışıyorum. Ailemle evden çıkmadan evde vakit geçirmeyi çok özlemişim.

Kardeşimle oyun oynuyoruz, kitap okuyoruz, ödev yapıyoruz. Anne ve babamla da saklambaç, körebe gibi ailecek oynanacak oyunlar oynuyoruz. Ben en çok isim, hayvan, şehir oynamayı seviyorum. Hepimizin dahil olduğu oyunlar oynamak beni çok mutlu ediyor.

Evet, kötü günler yaşıyoruz belki ama evde ailemizle olmanın tadını çıkarmalı ve kimseye zarar vermemek için evden çıkmamalıyız.



S. SUNGUR





“

4. Sınıf

ÇALIŞMA KAĞITLARI

”



TÜRKÇE

Metni Okuma - Anlama



Aşağıdaki bulmacada gizlenmiş metinde geçen kelimeleri bulunuz. Anlamını araştırınız.

V	A	K	İ	T	T	K
İ	S	L	Y	Y	L	Ö
R	O	A	L	M	R	R
Ü	K	İ	M	S	A	E
S	Y	A	Ş	L	İ	B
T	O	Y	U	N	K	E
O	L	A	Y	L	N	G

1 -

2 -

3 -

4 -

5 -

6 -



“

4. Sınıf

ÇALIŞMA KAĞITLARI

”



TÜRKÇE

Metni Okuma - Anlama

👉 Aşağıdaki soruları metne göre cevaplayınız.

Metnin kahramanlarını yazınız.



.....

.....

.....

Metnin konusunu yazınız.



.....

.....

.....

Metnin adını yazınız.



.....

Metinde geçen olay nedir?



.....

.....

.....

Metnin ana fikrini yazınız.



.....

.....

.....

1 - Metinde olay nerede geçmektedir?

.....

.....

2 - Siz, ailenizle nasıl vakit geçiriyorsunuz?

.....

.....

3 - En sevdiğiniz oyun hangisidir?

.....

.....



“

4. Sınıf

ÇALIŞMA KAĞITLARI

”



TÜRKÇE

Görsel Yorumlama



Aşağıdaki oyunların isimlerini ve kurallarını araştırıp yazınız.



Adı:

Kurallar:

.....

.....

.....

.....

Adı:

Kurallar:

.....

.....

.....

.....



Adı:

Kurallar:

.....

.....

.....

.....



Adı:


Kurallar:

.....

.....

.....

.....



4-T-28-04



“

4. Sınıf

ÇALIŞMA KAĞITLARI

”



TÜRKÇE

Fabl Örnekleri



Aşağıdaki görsellerin hangi fabl olduğunu araştırıp kısaca yazınız.



.....

.....

.....

.....

.....


.....

.....

.....

.....

.....



.....

.....

.....

.....

.....



.....

.....

.....

.....

.....



.....

.....

.....

.....

.....



“

4. Sınıf

ÇALIŞMA KAĞITLARI

”

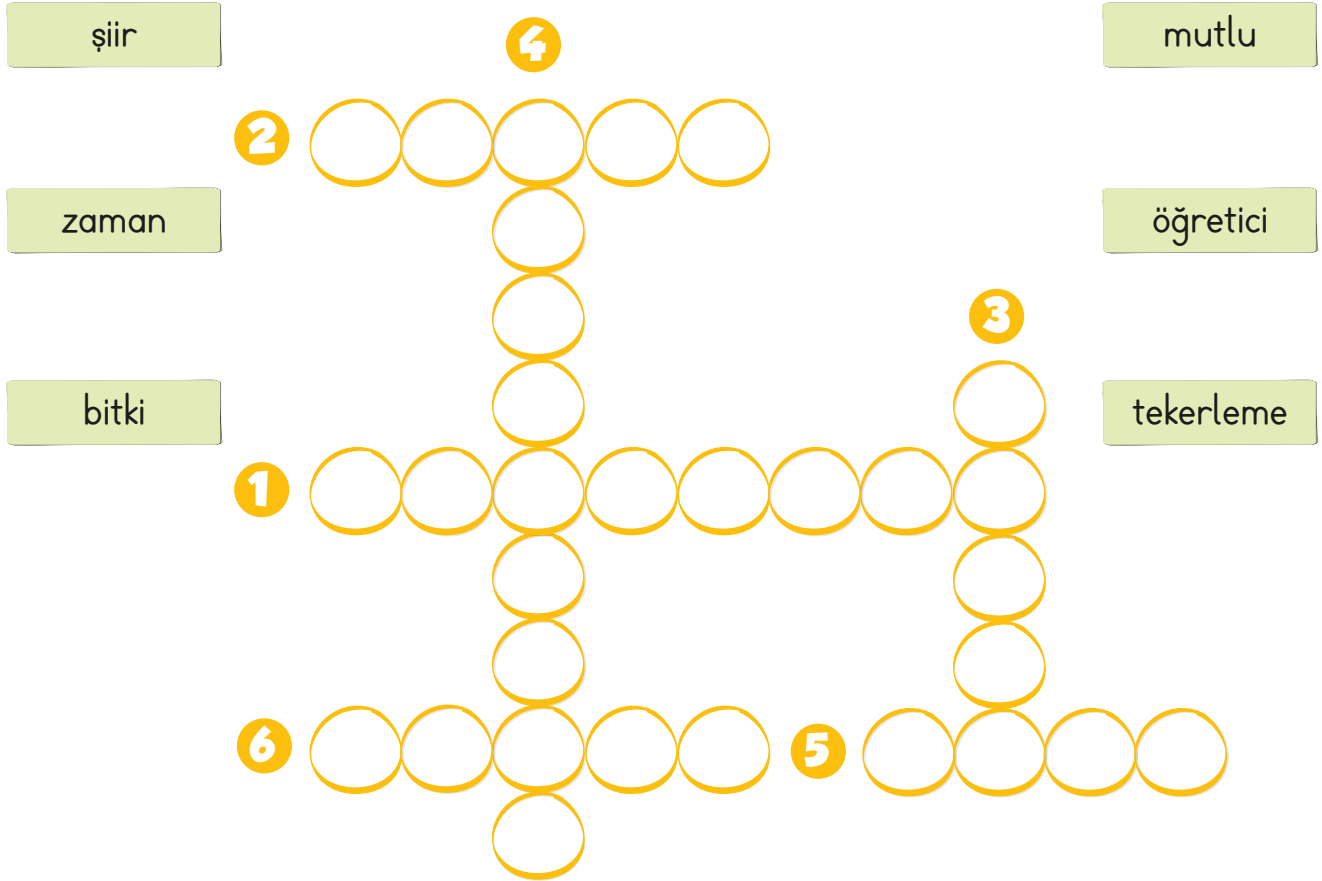


TÜRKÇE

Masal ve Fabl Türü

👉 Aşağıdaki boşlukları uygun kelimelerle tamamlayıp bulmacaya yazınız.

- 1 - Fabllar her zaman ve mesaj vericidir.
- 2 - Masallar her zaman sonla biter.
- 3 - Fablların kahramanları hayvanlar velerdir.
- 4 - Masallar çoğunlukla ile başlar.
- 5 - Fabllar şeklinde de olabilir ama masallar düz yazı biçimindedir.
- 6 - Masalda da fablda da yer ve unsuru belli değildir.





👉 Aşağıdaki bulmacada gizlenmiş noktalama işaretlerini bulup boyayınız.



👉 Yukarıda bulduğunuz noktalama işaretlerinden üç tanesini cümlede kullanınız.

○ 1 -

○ 2 -

○ 3 -



☞ Aşağıdaki metinde eksik kalan noktalama işaretlerini ve yazım hatalarını alttaki boşluğa tekrar yazınız.


Tilki ve Üzümler

tilki çok acıkmış ve bağa girmiş üzümlerin iştah açıcı görüntülerine bakarak karnını doyurmak istemiş ancak bir türlü yetişipde ogüzelim üzümlerden koparıp yiyememiş

sonrada

önemli değil canım nasıl olsa hepsi ekşiydi demiş


elde edemediğimiz bir şeyi kötülemek çok kolaydır



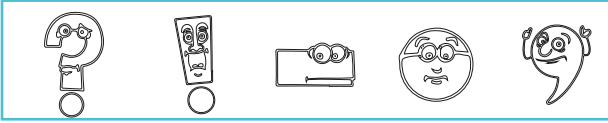
Handwriting practice area with a large blue rectangular box containing horizontal lines for writing. The box is framed by a decorative border of green triangles pointing outwards.



👉 Aşağıdaki cümlelerde boş bırakılan yerlere hangi noktalama işaretleri getirilmelidir? Boyayınız.




Bu kitabı okudun mu ()



Manavdan elma () portakal
aldım ()



Bugün Dr () Mehmet ile
görüştük ()



Atatürk 1881 () de doğmuş-
tur ()



Ödevlerimin hepsini bitirdim ()




Okulumuz 18 () 30 ()
da bitiyor.



Yaşasın () ödevlerimin bitti
()



Ali okula gelmedi mi ()



Hey () baksana ()

☞ Aşağıdaki kitaplarda bulunan görsellere uygun kitap isimlerini bulunuz.
Kitabın konusunu tahmin edip yazarını yazınız.



Toprak
YILMAZ

Kitabın İsmi

Konusu

Yazarı



Rüzgar
YILMAZ

Kitabın İsmi

Konusu

Yazarı




Büşra
ERYAŞAR

Kitabın İsmi

Konusu

Yazarı




Ahmet
VAROL

Kitabın İsmi

Konusu

Yazarı



Sanem
SEVİMLİ

Kitabın İsmi

Konusu

Yazarı



Ela
ÖZTÜRK

Kitabın İsmi

Konusu

Yazarı



“

4. Sınıf

ÇALIŞMA KAĞITLARI



TÜRKÇE

Masallar

Görselleri verilen masalların isimlerini kesip uygun görselin altına yapıştırınız.






















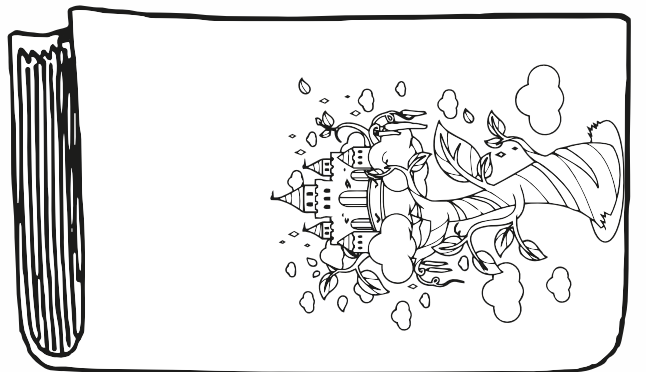
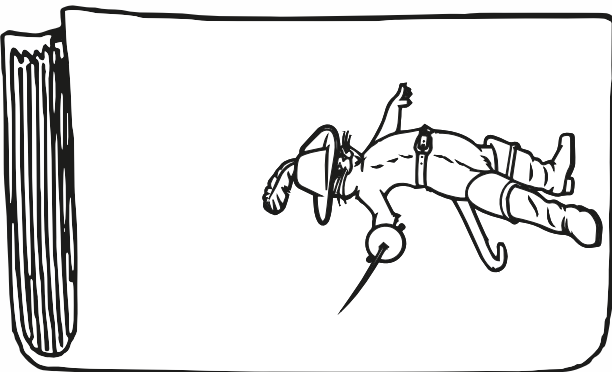










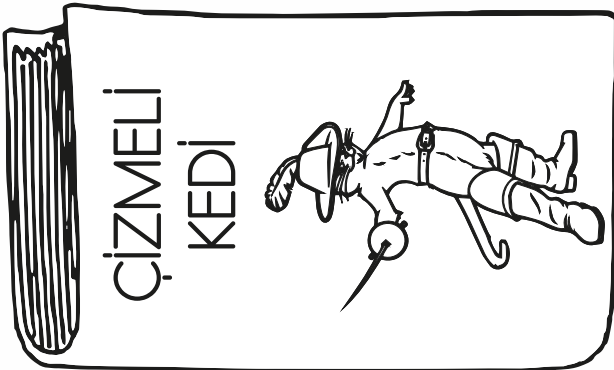



Kibritçi Kız	Kırmızı Başlıklı Kız	Uyuyan Güzel	Kurbağa Prens
Bremen Mızıkacıları	Çizmeli Kedi	Kül Kedisi	Pamuk Prenses
Parmak Çocuk	Sihirli Fasülyeler	Hansel ve Gretel	Rapunzel

👉 Görseli verilen masalların isimlerini araştırıp üstlerine yazınız. Bu masal-
lardan birini okudunuz mu? Görselleri boyayınız.





CEVAP ANAHTARI





☞ Aşağıda büyük harflerin kullanıldığı bazı yerler verilmiştir. Uygun, örnek cümleler yazınız.



Kişi isim ve soy isimleri büyük harfle başlar.

.....



Özel günlerin adları büyük harfle başlar.

.....



Gezegen, yıldız adları büyük harfle başlar.

.....



Tarihi olay, çağ ve dönem adları büyük harfle başlar.

.....



Kale, köşk, han, hamam, anıt gibi yapı adları büyük harfle başlar.

.....



Hayvanlara verilen isimler, büyük harfle başlar.

.....



Kişi isimlerinden önce veya sonra gelen ünvan, lakap, meslek isimleri büyük harfle başlar.

.....

.....



Cümleler büyük harfle başlar.

.....



☞ Aşağıdaki cümlelerde büyük harflerin kullanımıyla ilgili yazım yanlışları yapılmıştır. Bu yanlışları düzelterek tekrar yazınız.

☞ “pinokyo” en sevdiğim masaldır.



☞ Köpeğim boncuk çok yaramazlık yapıyor.



☞ orhanın abisi ankarada çalışıyormuş.



☞ Kardeşim, atatürk ilkokuluna gidiyor.



☞ ay, dünyanın uydusudur.



☞ her akşam yatmadan önce kitap okumalıyız.



☞ ben izmiri çok seviyorum.





“

4. Sınıf

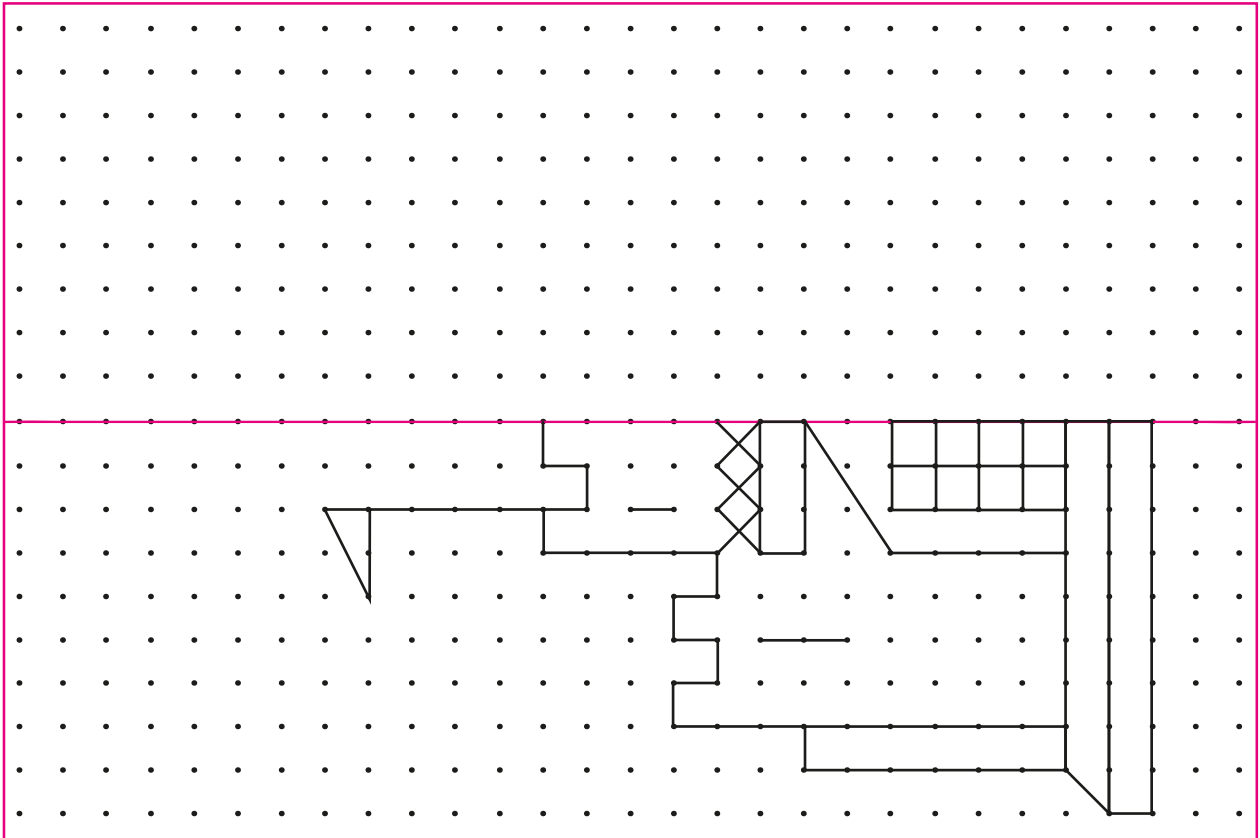
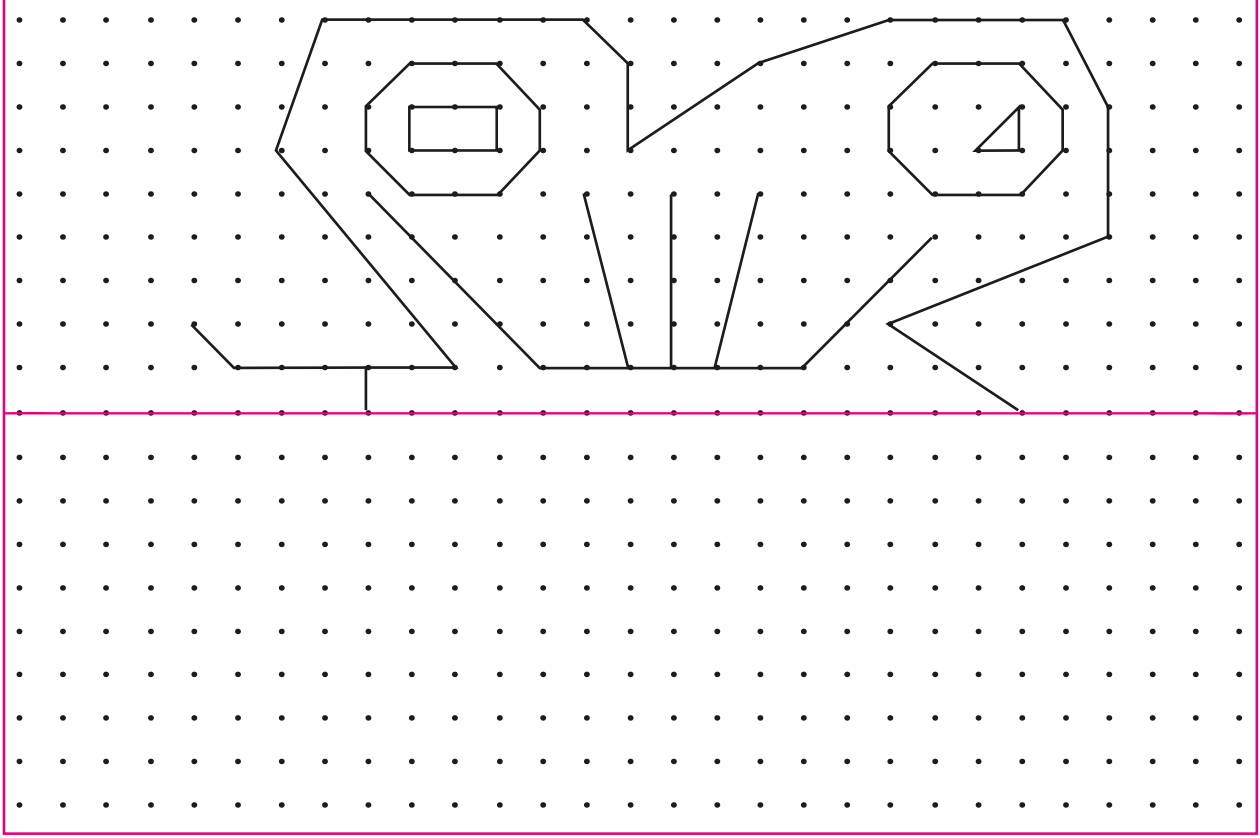
ÇALIŞMA KAĞITLARI”



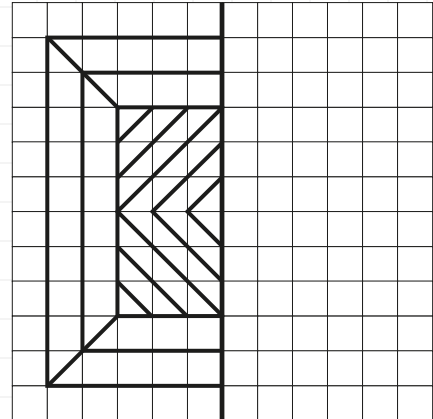
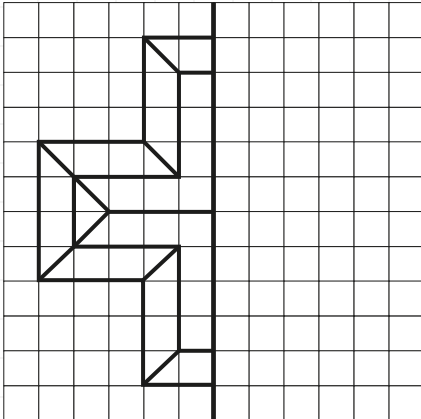
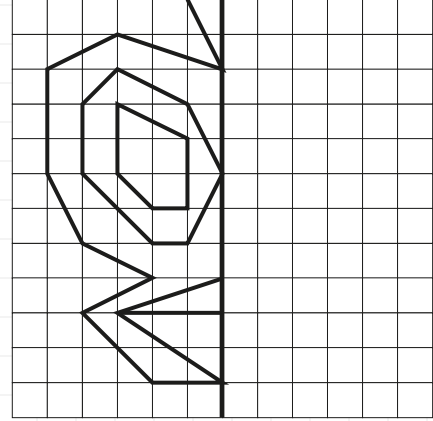
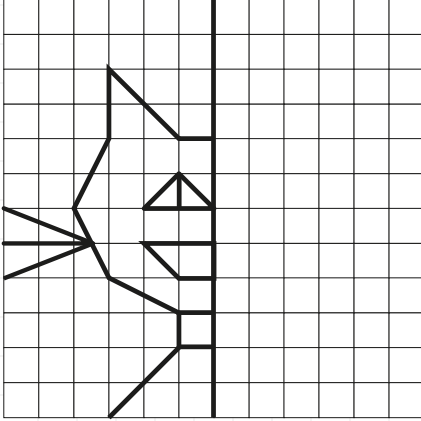
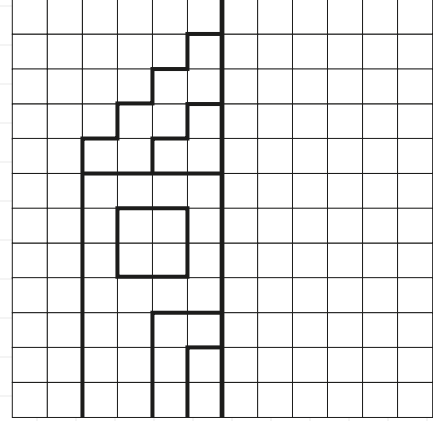
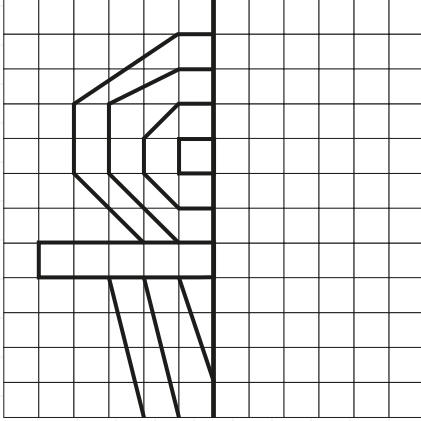

MATEMATİK

Simetri

☞ Aşağıdaki şekilleri simetri doğrularına göre tamamlayınız. Boyayınız.



Aşağıdaki gör-
sellerin simetri doğ-
rusuna göre simetriği-
ni çiziniz.





“

4. Sınıf

ÇALIŞMA KAĞITLARI

”


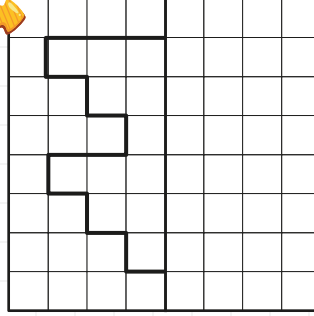

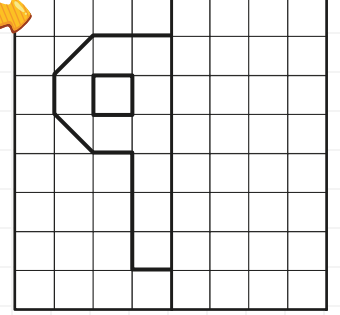
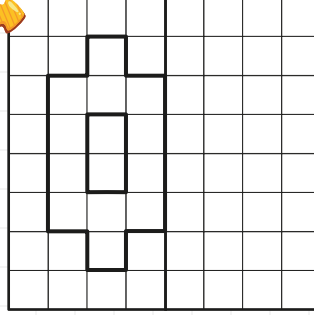
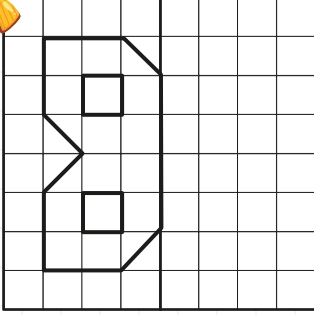
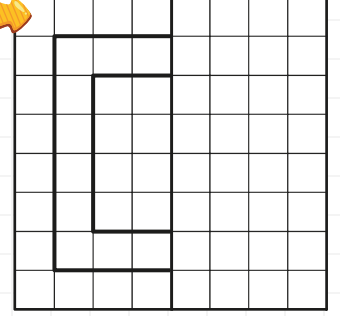
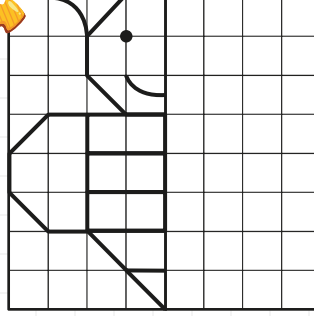
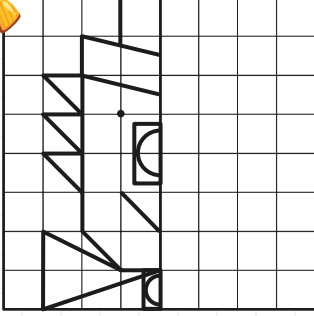
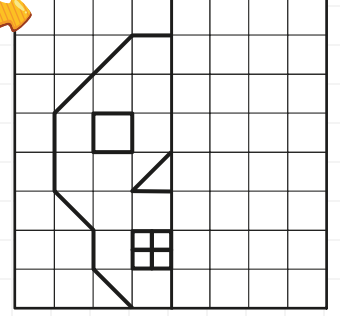
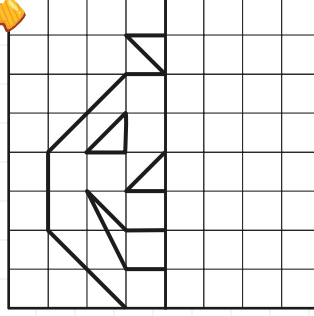
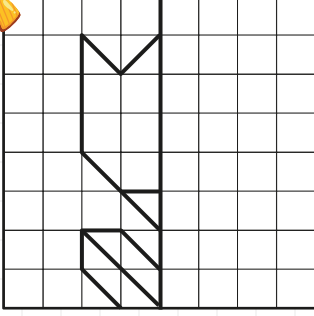


MATEMATİK

Simetri



Aşağıdaki şekillerin simetri doğrusuna göre simetriğini çizin.





“

4. Sınıf

ÇALIŞMA KAĞITLARI

”

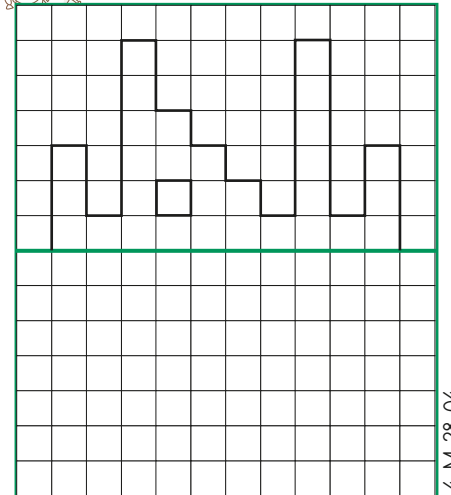
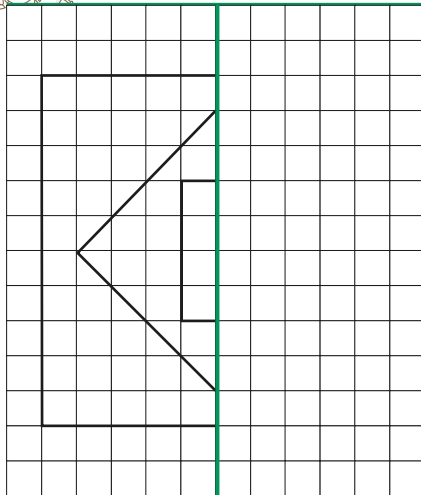
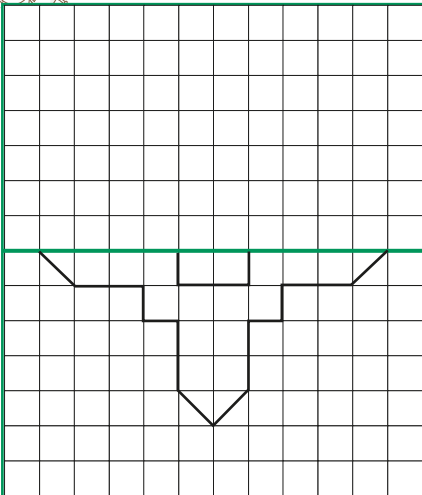
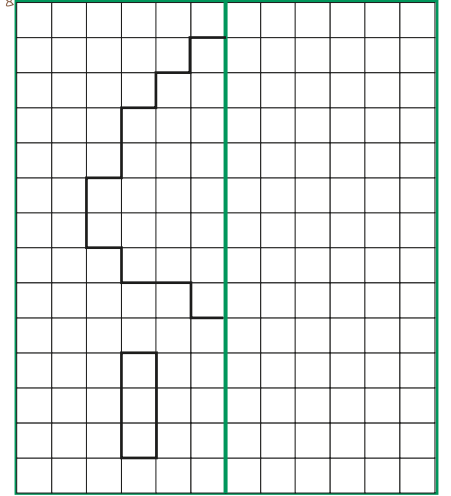
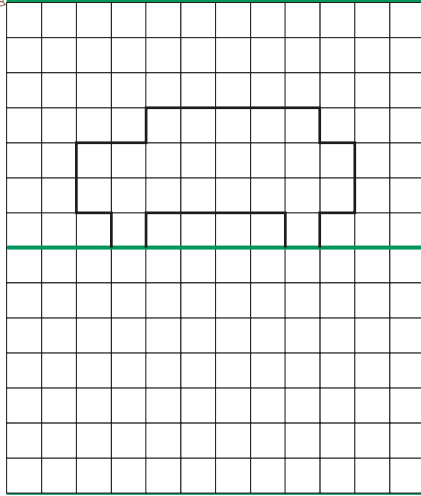
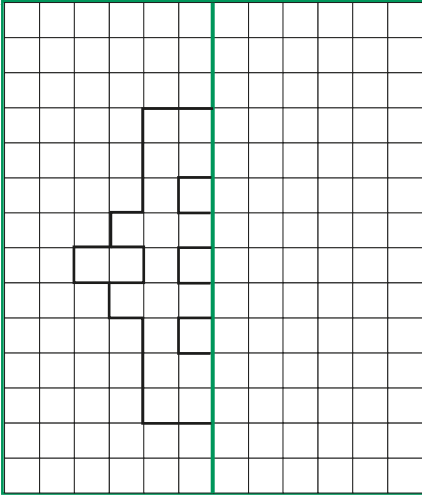
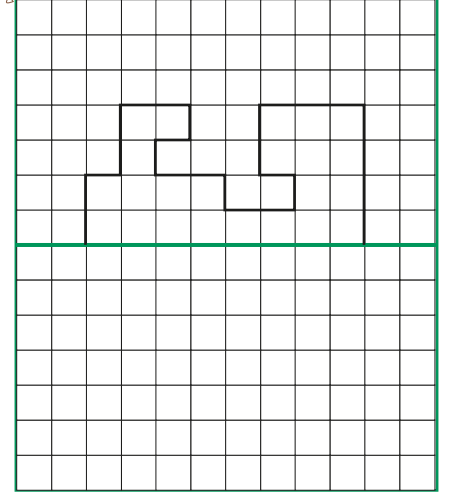
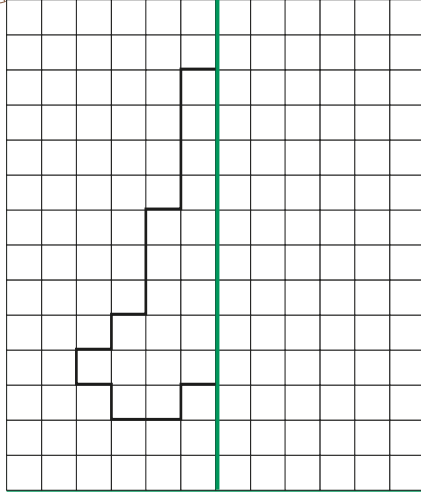
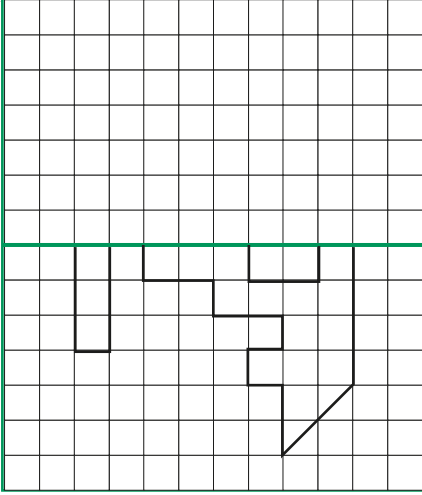


MATEMATİK

Ayna Simetrisi



Aşağıdaki şekillerin simetri doğrusuna göre simetriğini çizin.



4-M-28-04



“

4. Sınıf

ÇALIŞMA KAĞITLARI”

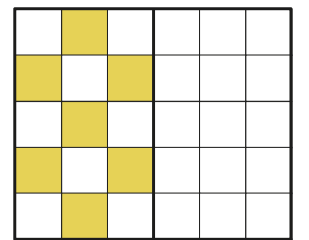
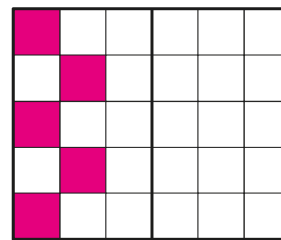
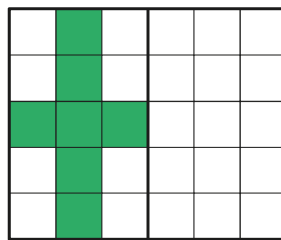
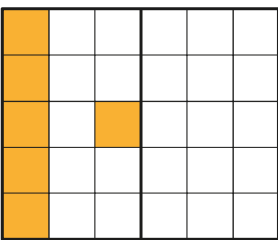
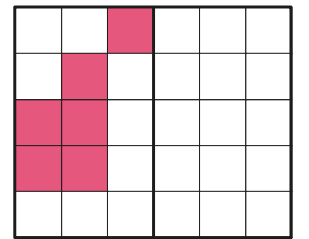
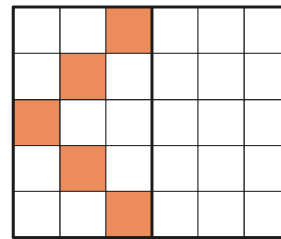
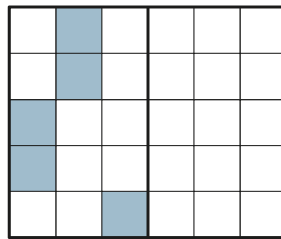
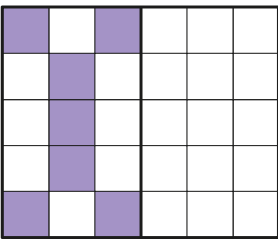
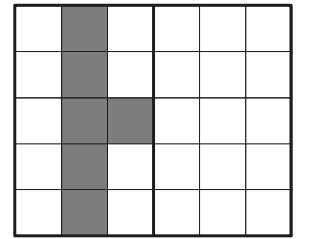
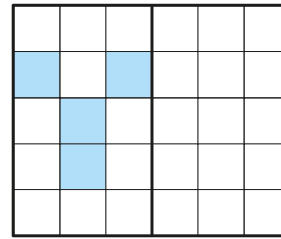
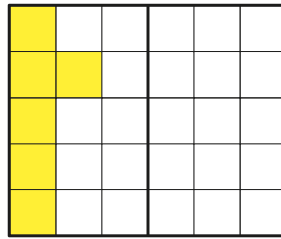
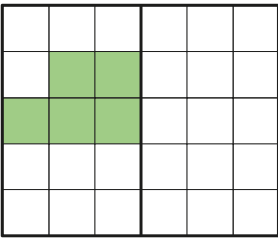
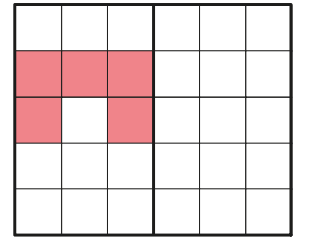
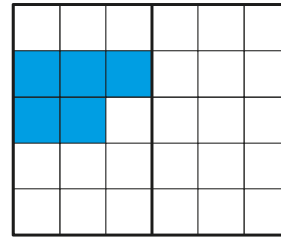
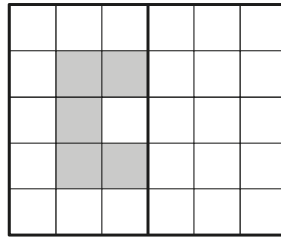
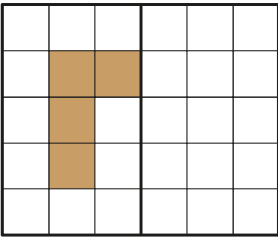
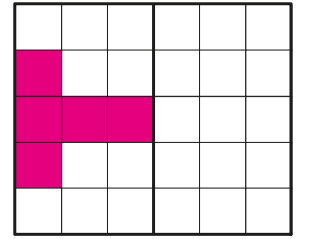
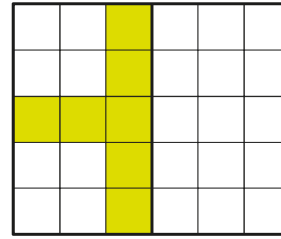
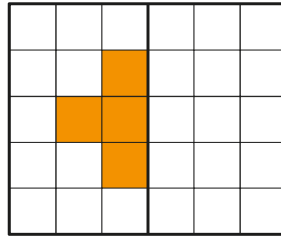
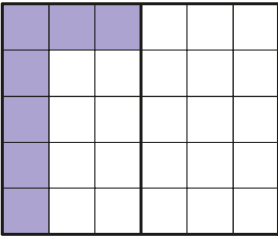
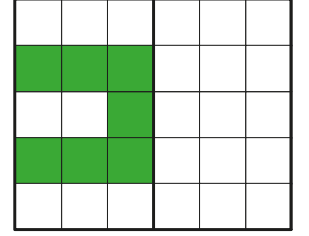
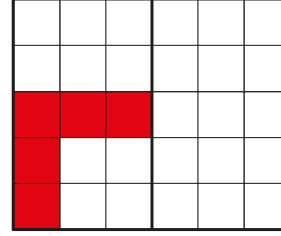
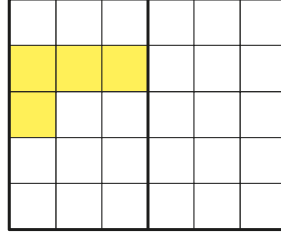
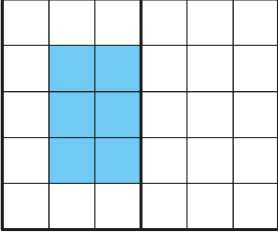


MATEMATİK

Simetri



Aşağıdaki şekillerin simetri doğrusuna göre simetriğini çizin.





“

4. Sınıf

ÇALIŞMA KAĞITLARI

”









MATEMATİK

Simetri



Aşağıdaki şekilleri simetriğine göre tamamlayınız.





“

4. Sınıf

ÇALIŞMA KAĞITLARI

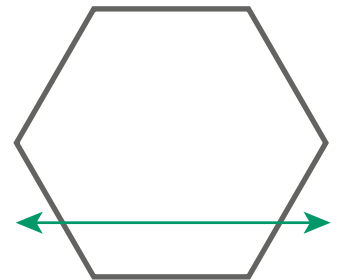
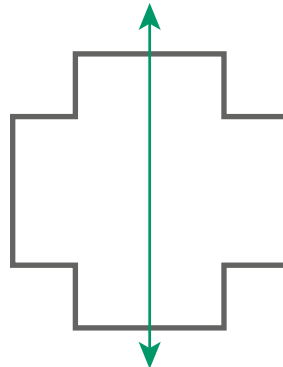
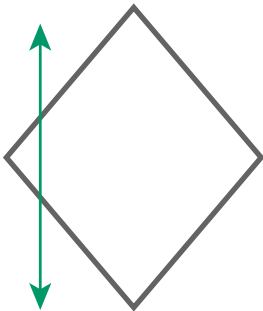
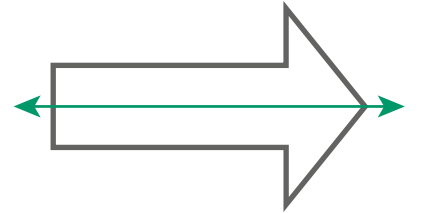
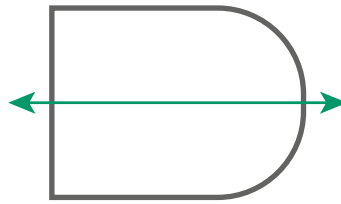
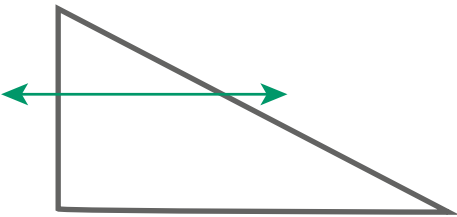
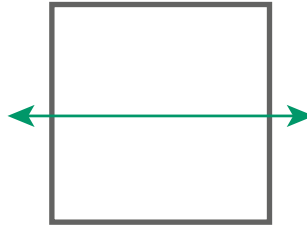
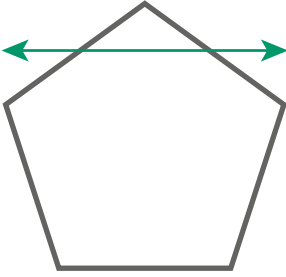
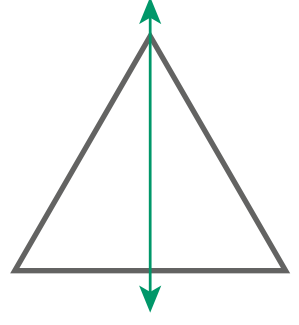
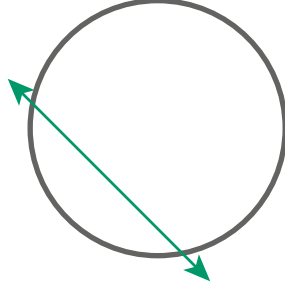
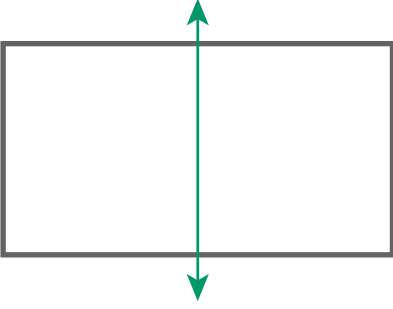

”



MATEMATİK

Simetri

Simetri doğrusunun eşit olarak böl-
düğü şekilleri sarıya, eşit bölmediği
şekilleri kırmızıya boyayınız.





“

4. Sınıf

ÇALIŞMA KAĞITLARI

”


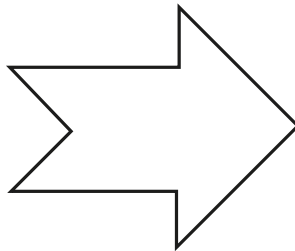
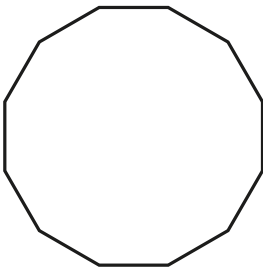
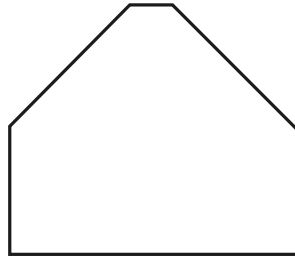
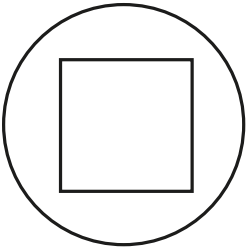



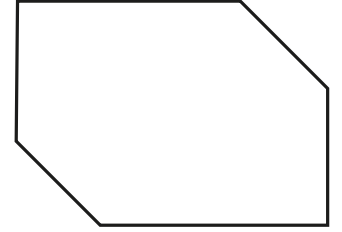


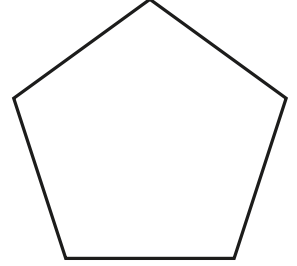
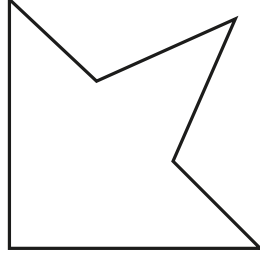


MATEMATİK

Simetri



Aşağıdaki şekillerin simetri doğrularını çizin. (1'den fazla olabilir.)





“

4. Sınıf

ÇALIŞMA KAĞITLARI”


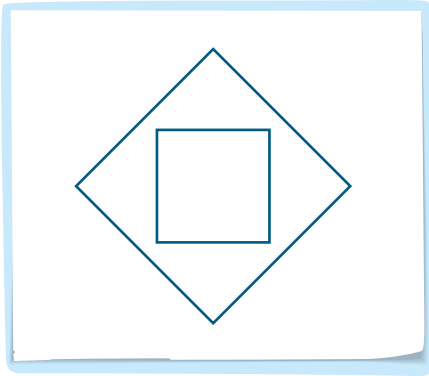


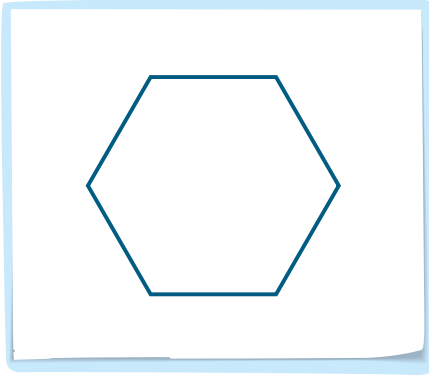
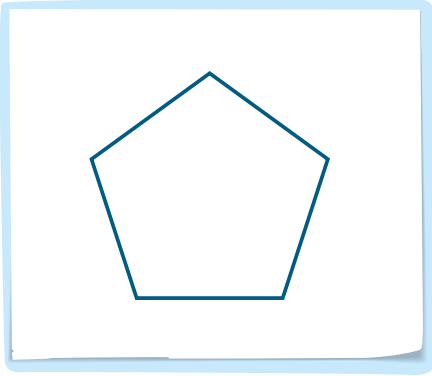

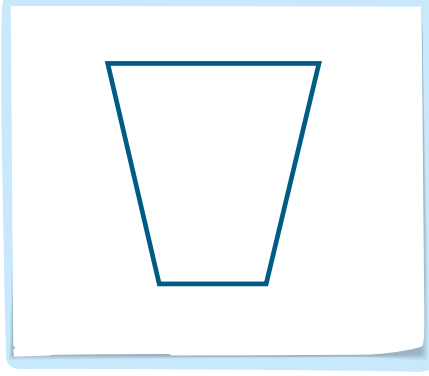



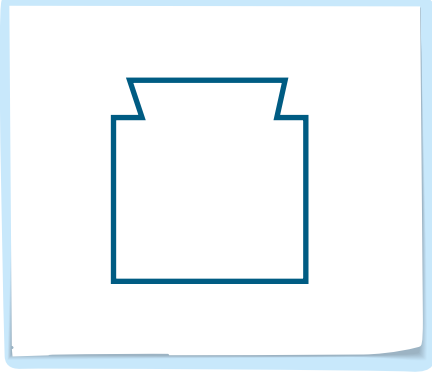


MATEMATİK

Simetri



Aşağıdaki şekillerin simetri doğrularını çizin.





“

4. Sınıf

ÇALIŞMA KAĞITLARI

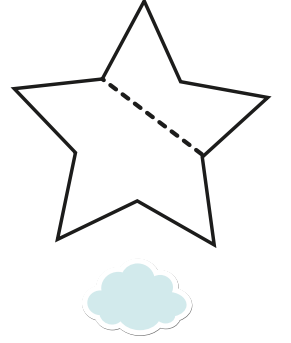
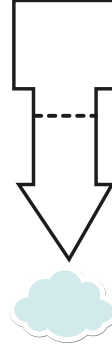
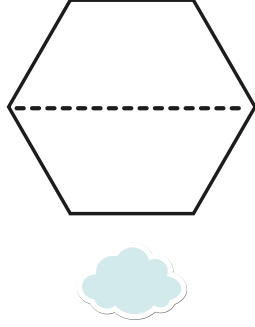

”






MATEMATİK

Simetri


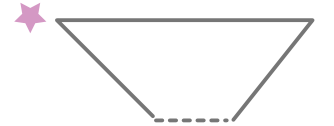
👉 Simetri olan şekilleri işaretleyiniz



👉 Aşağıdaki şekillerin simetri doğrusunu çizin.




👉 Aşağıdaki şekillerin simetri doğrusuna göre simetriğini çizin.



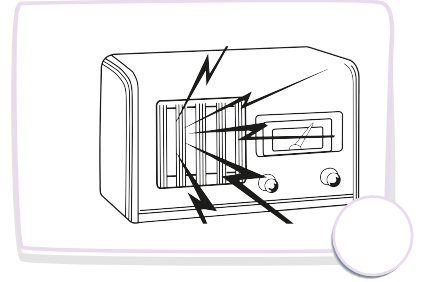

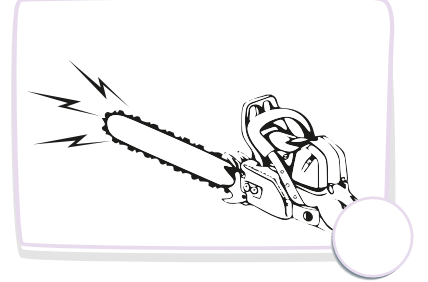


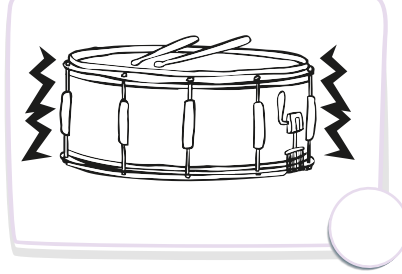
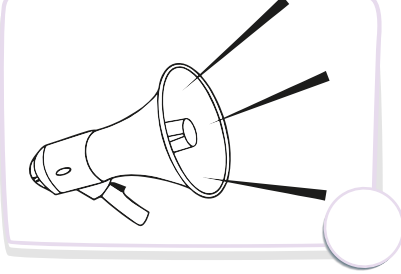
👉 Aşağıdaki boşlukları uygun kelimelerle tamamlayınız. Bulduğunuz kelimeleri, bulmacaya yerleştiriniz.

- 1 Ses çıkaran her madde veya cismeadı verilir.
- 2 Kuş sesleri, deredeki suyun sesi, rüzgarın sesidir.
- 3 Doğal sesleri üreten varlıklaradenir.
- 4 Müzik aletlerinden çıkan sesler, araçların çıkardığı seslerdir.
- 5 Yapay sesleri üreten varlıklaradenir.
- 6 Titreşen bir nesnenin başlattığı titreşimler dizesinedenir.
- 7 Hoşa gitmeyen ve insanlar üzerinde olumsuz etki yapan sesleredenir.
- 8 Sesin şiddetinedenir.


ses	gürültü	ses kaynağı	yapay ses kaynakları
doğal sesler	yapay sesler	gürlük	doğal ses kaynakları



👉 Alı'nın başını ağrıtan sesler sizce hangileridir? İşaretleyiniz. Görselleri boyayınız.



👉 Yandaki görselin ne anlatmak istediğini yanına yazınız.



.....

.....

.....

.....

☞ Aşağıda karışık olarak verilmiş bilgileri kronolojik sıraya göre numaralandırınız.

Fonograf

1877’de T. Edison, sesi fonograf ile kaydetmeye başladı.



Manyetik bant ve kaset

1940’lı yıllarda ses kaydı için manyetik şeritler üzerine kayıt yapan araçlar kullanıldı.



Gramafon

1895 yılında geliştirilen gramafon da kayıt için kullanılıyordu.



Kablolu ses kaydedici

Gramafonlardan sonra kablolar üzerine ses kaydı yapıldı.

MP3’ ler

1990’lı yılların sonlarına doğru bilgisayarlar da kullanılıyordu. Günümüzde ise cepte taşınır oldu.




Kompakt Disk

V. Russel tarafından Keşfedilen CD, 1980’li yıllarında kullanılmaya başlandı.



Video Kamera

Görüntü ve sesi video bantlara kaydeden video keşfedildi.



☞ Aşağıdaki boşlukları doldurunuz.

- İlan yapmak ve açık alanda konuşma yapmak için kullanılır.
- gibi şiddetli ses üreten araçlarımız olmadıkça kullanılmamalıdır.
- şiddetli ses üreten bir araçtır, uyarı amacıyla kullanılır.
- arabada, evde, iş yerinde kullanılan bir önlemidir.
- Okulda teneffüsü sayesinde anlarız.

alarm

hoparlör


güvenlik

megafon

zil

siren

☞ Göl kenarında duran Mert, evine geçebilmek için taşlara atlaması gerekir ama ses teknolojik araçlarının kronolojik sırasını takip etmek zorunda. Ona yardım eder misiniz?



☞ Aşağıda çocuk hakları ile ilgili ifadeleri okuyup doğru olanlara “D”, yanlış olanlara “Y” yazınız.

Çocuğun en temel hakkı yaşama hakkıdır.

Her insan on sekiz yaşına kadar çocuk sayılır.

Çocuklar, büyüklerin her istediğini yapmak zorundadır.



Çocukların sağlıklı gelişebilmesi için tüm kurumların sorumluluğu vardır.

Çocuklar istedikleri ülke vatandaşı olabilirler.


☞ Aşağıdaki görselleri inceleyiniz. Çocukların kullandıkları hakları boşluklara yazınız.



☞ Aşağıdaki boşluklara haklarınızı ve bu hakların size sağladığı faydaları yazınız.



👉 Aşağıdaki cümlelerde yer alan boşlukları uygun kelimelerle tamamlayınız.



18 yaşına kadar her insan sayılır.

Çocuk düşüncesini ifade etme hakkına sahiptir.

Çocukların haklarını hakkı vardır.

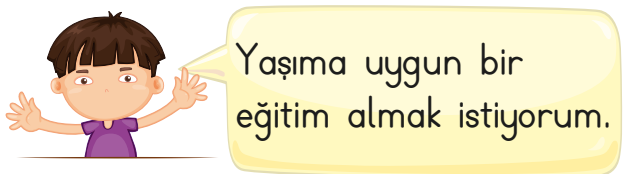
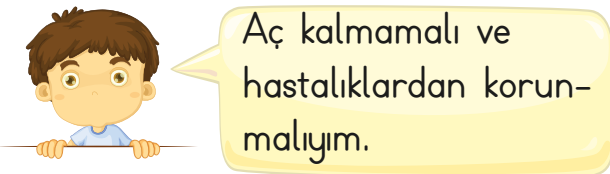
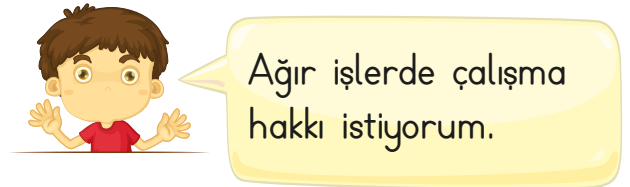
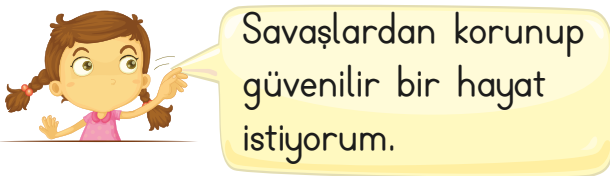
Her çocuk hakkına sahiptir.

Çocuğun her türlü cinsel sömürü ve cinsel suistimale karşı hakkı vardır.




Her çocuk anne - baba-sını bilme ve onlar ta-rafından hakkı vardır.

bakılma çocuk yaşama öğrenme özgürce korunma

👉 Aşağıdaki çocuklardan hangileri çocuk haklarına uygun sözler söylemiştir. Uygun olanlara gülen yüz, olamayana üzgün yüz yapınız.



☞ Aşağıdakilerden hangisi çocukların görev ve sorumluluklarından **değildir**? İşaretleyiniz.



☞ Size verilen hakların dışında başka ne tür haklarınızın olmasını isterdiniz?

1.
2.
3.
4.

☞ Çocuk hakları ile ilgili afiş hazırlayınız.



☞ Aşağıda çocuklara verilen bazı haklar yazılmıştır. Uygun kelimelerle tamamlayarak bulmacaya yazınız.

- 1 Ben bir çocuğum. 18 yaşına gelene kadar bir çocuk olarak haklara sahibim.
- 2 Haklarımın uygulanması için her türlü gösterilir.
- 3 Çocukların yaşamını korumak herkesin ilk görevidir. her çocuğun en temel hakkıdır.
- 4 Konan ismim, kazandığım vatandaşlık hakkım ve aile bağlarım korunur. Bunları için baskı uygulanmaz.
- 5 çocuğu ailesinden koparıp alamaz.
- 6 Aynı ülkelerde yaşayan anne, baba ve çocukların birlikte yaşamaları için her türlü , gösterilir.
- 7 Çocuklar anne ve babalarının birlikte izni ve haberi olmadan başka ülkelere , orada bırakılamazlar.
- 8 Biz çocukların düşüncelerini geliştirmeleri ve istedikleri dini seçmeleri hakkına gösterilir.
- 9 Arkadaşlarımla içinde oynayabilirim.
- 10 Çocuklar onurlu ve insanlardır.

saygı

vazgeçilmez

çaba

saygın

götürülemezler

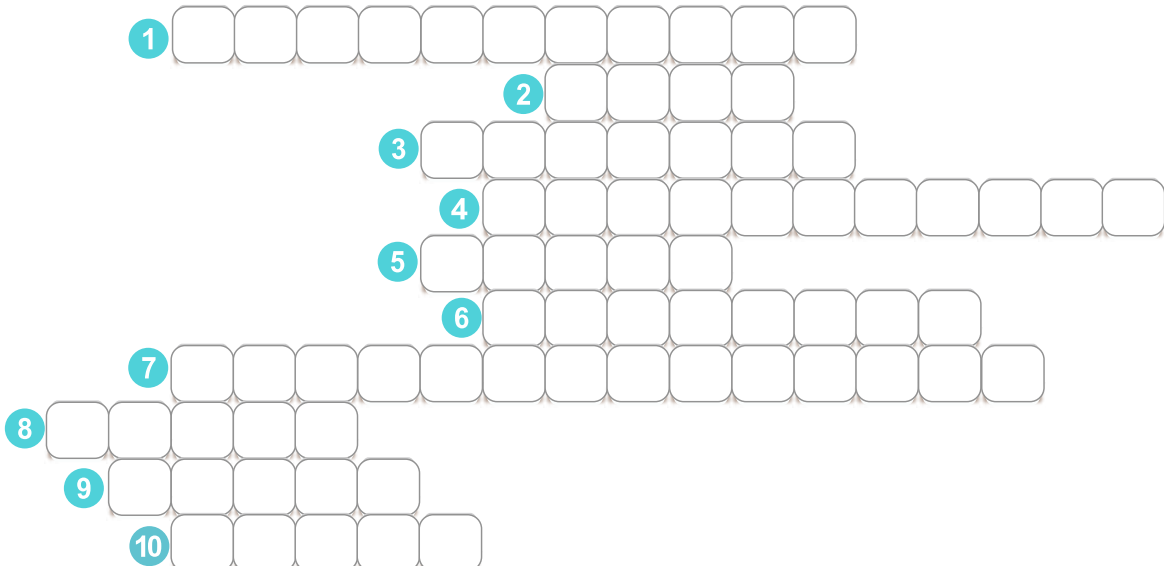
yaşamak

değiştirmek


barış

kimse

kolaylık



☞ Aşağıdaki çocukların yüz ifadelerine bakarak hangi çocuk haklarıyla ilgili bu duyguları hissetmiş olabileceklerini açıklayınız.



.....

.....

.....

.....

.....

.....



.....


.....

.....

.....

.....

.....



.....

.....

.....

.....

.....

.....



.....

.....

.....

.....

.....

.....



.....


.....

.....

.....

.....

.....



.....

.....

.....

.....

.....

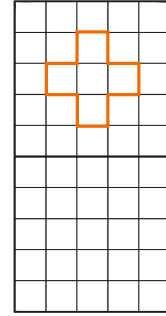
.....

1. Aşağıdakilerden hangisi fabl değildir?
- A) Pinokyo
B) Ağustos Böceği ile Karınca
C) İki İnatçı Keçi
D) Karga ile Tilki
2. Aşağıdakilerden hangisinde büyük harflerin kullanımı ile ilgili yanlış-
lık yapılmıştır?
- A) Ali, bugün okula gelmedi.
B) Ay, dünyanın uydusudur.
C) Meyvesi çok olan ağaca taş
atılır.
D) Dost kara günde belli olur.
3. Aşağıdakilerden hangisi masalla-
rın özelliklerinden değildir?
- A) Mutlu son ile biter.
B) Tekerleme ile başlar.
C) Gerçek olaylar anlatılır.
D) Olağanüstü olaylar vardır.

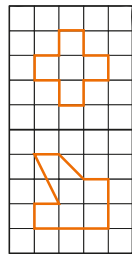
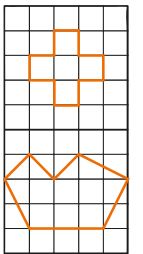
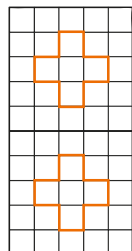
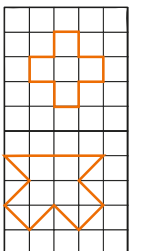
4. Aşağıdaki noktalama işaretlerinden hangisi cümle sonuna gelmez?
- A) ! B) . C) ? D) ,

5. Aşağıdakilerden hangisi bir masal kahramanıdır?
- A) Tilki B) Kedi
C) Pinokyo D) Köpek

6.



Yukarıdaki şeklin simetri doğrusuna göre simetrisi hangisidir?

- A) 
- B) 
- C) 
- D) 



“

4. Sınıf

HAFTANIN TESTİ




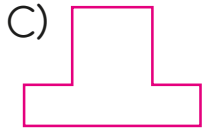

”

Tarih:

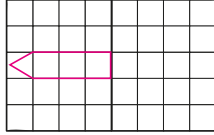
Adım:

Soyadım:

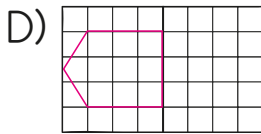
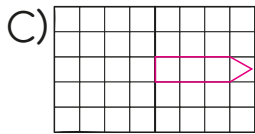
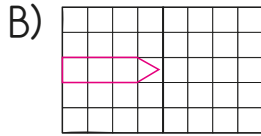
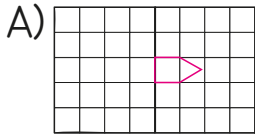
7. Aşağıdakilerden hangisine simetri doğrusu çizilemez?



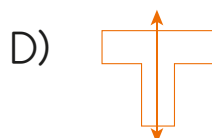
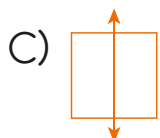
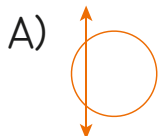
8.



Yukarıdaki şeklin simetri doğrusuna göre simetriği hangisidir?



9. Aşağıdaki şekillerden hangisinde simetri doğrusu yanlış çizilmiştir?



10. Aşağıdaki rakamlardan hangisinin simetri doğrusu vardır?

A) 7 B) 0 C) 9 D) 1

11. Aşağıdaki harflerden hangisine birden fazla simetri doğrusu çizilebilir?

A) K B) C C) D D) H

12. İnsanları rahatsız eden şiddetli seslere ne denir?

A) Fırtına B) Gürültü
C) Müzik D) Gök gürültüsü

13. Yüksek ses olarak açıklanan gürültü sonucu hangisi oluşur?

A) Su kirliliği
B) Ses kirliliği
C) Çevre kirliliği
D) Hava kirliliği

14. Aşağıdakilerden hangisi ses kirliliğinin asıl sebebidir?

A) Müzik B) Hayvan sesleri
C) Doğal sesler D) Teknoloji

15. Aşağıdakilerden hangisi doğal ses kaynağıdır?
- A) Radyo B) Rüzgar
C) Televizyon D) Gitar
16. Uzun süre gürültüye maruz kalan bir insanda hangisi görülür?
- A) İşitme kaybı
B) Görme kaybı
C) Bilinç kaybı
D) Dokunma kaybı
17. Aşağıdakilerden hangisi ses kirliliğine sebep olmaz?
- A) Araba sesi B) Kuş sesi
C) İş makinesi D) Müzik sesi
18. Ses için hangisi söylenemez?
- A) Her sesin bir kaynağı vardır.
B) Her yöne yayılır.
C) Titreşimle oluşur.
D) Kaynaktan uzaklaştıkça şiddet artar.

19. Hangisi ses yalıtımında kullanılmaz?
- A) Demir B) Bakır
C) Yün D) Strafor
20. On sekiz yaşından küçük olan kişiler ne olarak adlandırılır?
- A) Bebek B) Çocuk
C) Ergen D) Genç
21. Aşağıdakilerden hangisi insanın duygusal yönünü belirtir?
- A) Gülmesi B) Konuşması
C) Spor yapması D) Beslenmesi
22. Aşağıdaki ifadelerin hangisi doğrudur?
- A) Kişi her istediğini yapabilir.
B) Çocuklar da asker olabilir.
C) Temel haklarımız anayasa tarafından güvence altına alınmıştır.
D) Temel haklar başkasına devredilebilir.

23. İnsanların sahip olduğu tüm haklarını kullanmasını sağlayan en temel hakkı aşağıdakilerden hangisidir?

- A) Eğitim hakkı
- B) Dilekçe hakkı
- C) Yaşama hakkı.
- D) Seyahat hakkı.

24. Aşağıdakilerden hangisi çocuk haklarından birisi değildir?

- A) Sağlık hizmetlerinden faydalanma hakkı.
- B) Eğitim hakkı.
- C) Yaşama hakkı.
- D) Seçme ve seçilme hakkı.

25. Aşağıdakilerden hangisi çocuk haklarından değildir?

- A) Eğitim görmek.
- B) Askerlik yapmak.
- C) Sağlık hakkı.
- D) Barınma hakkı.

26. Aşağıdakilerden hangisi çocuk hakları sözleşmesine yön veren temel değerlerden değildir?

- A) Çocukları büyüklerden uzaklaştırmak.
- B) Çocuğun yararını gözetmek.
- C) Çocuklar arasında ayırım gözetmemek.
- D) Çocuğu yaşama, gelişme ile katılımını sağlama.

CEVAP ANAHTARI

1 - A	10 - B	19 - A
2 - B	11 - D	20 - B
3 - C	12 - B	21 - A
4 - D	13 - B	22 - C
5 - C	14 - D	23 - C
6 - C	15 - B	24 - D
7 - D	16 - A	25 - B
8 - C	17 - B	26 - A
9 - A	18 - D	