


# 3. SINIFLAR

## 1. SEVİYE BELİRLEME SINAVI

Kitapçık Türü:



Adı Soyadı : .....  
Numarası : .....  
Sınıfı / Şubesi : .....  
Okulu : .....  
İl / İlçe : .....

**Bu bölümde Türkçe dersinden 15 soru sorulmuştur. Bu soruları formda Türkçe bölümüne işaretlemelisin.**



### SOKAKTA

Ahmet, Mert ve Emre okuldan evlerine döndüler. Ahmetlerin evinde buluştular. Önce

o gün gördükleri dersleri tekrar ettiler. Daha sonra da ödevlerini yaptılar. Mert ve Emre çantalarını evlerine bırakıp sokağa çıktılar. Ahmet de onlara katıldı. Artık oyun zamanıydı. Mert evden topunu da getirmişti. Onlar oyuna başlamışken Emre'nin annesi seslendi:

-Çocuklar, sokakta top oynamayın. Arada sırada da olsa buradan araçlar geçiyor. Biraz yürüseniz hemen ilerideki parka varırsınız. Bizim de aklımız sizde kalmaz.

Emre annesine seslendi:

-Tamam anne, gidiyoruz. Saat kaçta eve dönelim?

-Saat beşte evde ol çocuğum. Bizi meraklandırma.

**(İlk 3 soruyu metne göre cevaplayınız.)**

**1) Çocuklar buluştuktan sonra ilk olarak ne yapmışlar?**

- A) Top oynamışlar.
- B) Ödevlerini yapmışlar.
- C) Derslerini tekrar etmişler.

**2) Evden topunu getiren kimdir?**

- A) Ahmet B) Mert C) Emre

**3) Emre'nin annesi "Aklımız sizde kalmaz." diyerek ne demek istemiştir?**

- A) Sizin için seviniriz.
- B) Sizin için endişelenmeyiz.
- C) Aklımızı size veririz.

4)



"Yeşim, dersini yapmadığı için çok üzgündü."

Tümcesinde aşağıdaki soruların hangisinin **cevabı yoktur?**

- A) Kim? B) Niçin? C) Nerede?

**5) "Ömer, en az Can ..... akıllıdır." cümlesinde boş kalan yere hangisi yazılmalıdır?**

- A) kadar
- B) çok
- C) fazla

6)



"Ayşe dersleri dikkatle dinler. Bu nedenle....." cümlesi aşağıdaki ifadelerden hangisi ile **tamamlanabilir?**

- A) notları hep düşüktür.
- B) başarılı bir öğrencidir.
- C) her zaman arkadaşlarını rahatsız eder.

7)



Aşağıdaki cümlelerin hangisinde **neden-sonuç** anlamı vardır?

- A) Sınıfımızı temiz tutmalıyız.  
 B) Dengeli ve düzenli beslenmeliyiz.  
 C) Çok kitap okuduğu için her konuda bilgisi var.

8) Başarılı bir **öğrenci** olan Saliha, büyüyünce **doktor** olmak istiyor."

Yukarıdaki cümlede altı çizili sözcüklerin yerine aşağıdakilerden hangisini getirirsek **cümlenin anlamı değişmez?**

- A) talebe – hekim  
 B) öğretmen – hemşire  
 C) mektep – mimar



9)

Tekil sözcüklerin numaraları hangi seçenekte verilmiştir?



elmalar	silgi	kalemler	çanta	muzlar
1	2	3	4	5

- A) 1-5                      B) 2-4                      C) 2-3

10) Aşağıdaki çocuklardan hangisi "**dar**" sözcüğünün **zıt anlamlısını** kullanmıştır?

A)



Ali ile geniş bir sokakta yürüdük.

B)



Doğada yürüyüş yaptık.

C)



Ormanda piknik yaptık.

11)

Aşağıdaki cümlelerin hangisinde **yazım yanlış** yapılmıştır ?



- A) Yarın köye gideceğiz.  
 B) Arda'nın kalemi kayboldu.  
 C) Dün murat bana kızdı.

12)

"**masa, odun, bez, sıra, defter**" sözcüklerini **sözlük sırasına göre** sıraladığımızda baştan **üçüncü** sözcük hangisi olur?



- A) masa                      B) odun                      C) defter

Ne aradı  
ne sordu ?

Oh, çok  
ferahladım !

Dersini  
çalıştın mı .



Güncesu

Batuhan

Mert

13) Yukarıdaki öğrencilerden hangisi  
tümcesinin sonuna doğru noktalama  
işaretini koymuştur?

A) Güncesu B) Batuhan C) Mert

14)



Hangisi  
türemiş  
sözcüktür ?



Halı

A)



Kitap

B)



Sözlük

C)

A

A

A

3

15) Dedem atlarına yem verdi.

Yukarıdaki cümlede altı çizili kelime  
için hangisini söyleyemeyiz ?



Özel isimdir.

A)



Çoğul addır.

B)



Eş sesli (sesteş) kelimedir.

C)

Türkçe bölümünü bitirdin.  
Cevaplarını forma doğru kodlayıp  
kodlamadığını kontrol et.  
Matematik bölümüne geç.


A

A

A

Bu bölümde Matematik dersinden 15 soru sorulmuştur. Bu soruları formda Matematik bölümüne işaretlemelisin.

1)



Miki Fare yukarıdaki sayıyı en yakın onluğa yuvarladı. Miki Fare'nin yazdığı sayıdaki "□" yerine aşağıdaki hangi rakam yazılamaz?

- A) 2      B) 4      C) 7


2)



Gizemin aklından geçen rakamların kaç tanesi tek, kaç tanesi çift doğal sayıdır?

- A) 2 tek, 3 çift doğal sayı  
B) 4 çift, 1 tek doğal sayı  
C) 2 çift, 3 tek doğal sayı

3)



Değeri 19 olan Romen rakamı aşağıdakilerden hangisidir?

- A) IV      B) XIX      C) XII

4)




8'den başlayarak sekizer ileriye doğru 96'ya kadar ritmik saydım.

Cem aşağıdaki sayıların hangisini söylememiştir?

- A) 56      B) 16      C) 63

5)

583 doğal sayısındaki 8 rakamının basamak değeri kaçtır?



- A) 800      B) 80      C) 8




Kenar sayısı birer artarak devam eden çokgenlerin bulunduğu örüntü aşağıdakilerden hangisidir?

6)



( 4 onluk + 3 birlik+ 8yüzlük)



7)

Pepe'nin düşündüğü sayı hakkında aşağıdaki ifadelerden hangisi doğrudur?

- A) Bu sayı çift sayıdır.
- B) Bu sayı 436 sayısından büyüktür.
- C) Bu sayının onlar basamağındaki rakamın basamak değeri 80'dir.

A

A

A

5

342 < 442 < 505 < ..... < 666



8 ) Tweety yukarıdaki işlemde boşluğa hangi sayıyı yazabilir?

- A) 500      B) 677      C) 553

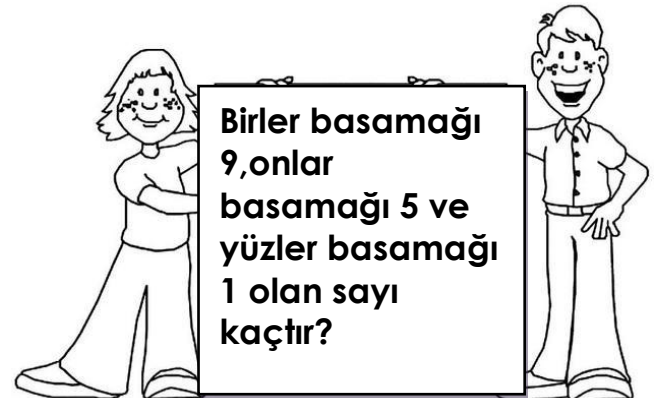
9)

925,516,804,312,105

Yukarıdaki sayılar hangi seçenekte küçükten büyüğe doğru olarak dizilmiştir?

- A) 925>516>804>312>105
- B) 105<312<516<804<925
- C) 105<516<804<312<925

10)



- A) 951      B) 519      C) 159

A


A

A



11) Nasrettin Hoca'nın söylediği sayılarla ilgili olarak aşağıdaki ifadelerden hangisi yanlıştır?

- A) 316 sayısı 603'ten küçüktür.  
 B) 505 sayısı 316'dan küçüktür.  
 C) 316 sayısı diğer sayıların ikisinden de küçüktür.



12) Avni'nin okumaya çalıştığı sayı hangisidir?

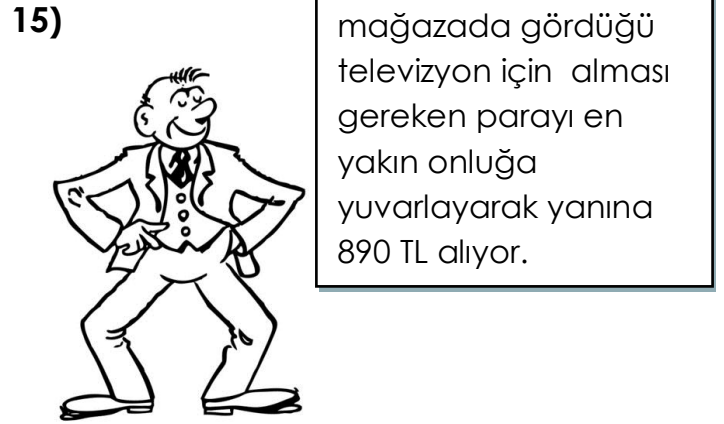
- A) Sekiz yüz dokuz  
 B) Dokuz yüz sekiz  
 C) Sekiz yüz doksan



- A) 41      B) 50      C) 59



- A) 458      B) 584      C) 845



Yukardaki ifadeye göre Ahmet Beyin alacağı televizyon kaç TL olabilir?

- A) 894      B) 883      C) 899

Matematik bölümünü bitirdin.  
 Cevaplarını forma doğru kodlayıp  
 kodlamadığını kontrol ettikten  
 sonra Hayat Bilgisi bölümüne  
 geçebilirsin.

**Bu bölümde Hayat Bilgisi dersinden 15 soru sorulmuştur. Bu soruları formda Hayat Bilgisi bölümüne işaretlemelisin.**

1) Gamze arkadaşlarıyla oyun oynarken en yakın arkadaşının hile yaptığını gördü. Bunu ondan başka kimse görmedi. Bu durumdan rahatsız oldu ama arkadaşıyla da aralarının bozulmasını istemiyordu.

**Gamze'nin bu durumda yapacağı en uygun davranış hangi öğrencinin söylediği cümledir?**



Olanları görmezlikten gelir.



Arkadaşına sessizce

'Yaptığın doğru bir davranış değil, hepimize haksızlık yapmış oldun, bu şekilde davranırsan artık seninle kimse oyun oynamaz' diyerek uyarır.



Arkadaşına çok kızar, gördükleri hakkında onunla konuşmaz ve bir daha onunla oyun oynamaz.



A)



B)



C)

2) Büşra babasının işinden dolayı yeni bir okula gitmek zorunda kalmıştır.

**Büşra aşağıdakilerden hangisine dikkat ederse doğru bir arkadaş seçimi yapmış olur?**

A) Zengin olmasına

B) Dürüst olmasına

C) Güçlü olmasına



3) İrem örümceklerden çok korkmaktadır. Sıra arkadaşı Melih o gün sınıfa örümcekli silgisini getirmiştir. İrem'in örümcek korkusunu bilmeden silgisini ona göstermiştir. İrem'in korkup ağladığını görünce, Melih çok şaşırmıştır.

**Bu durumda Melih arkadaşına nasıl davranmalıdır?**

A) Oyuncak bir örümcekle İrem'i korkutmaya devam eder.

B) Onun korkusuyla dalga geçer.

C) Arkadaşından özür dileyerek elindeki silgi olduğunu ve bir daha arkadaşlarını korkutmayacağını söylemelidir.

4) Sorunları çözmek için ilk önce hangi çizgi film kahramanımızın çözüm yolunu seçmeliyiz?



Sorunu çözmek için kimlerden yardım alacağımızı belirlemeliyiz.




Önce sorunu fark ederek tanımlamalıyız.



Farklı çözüm yolları ve her çözüm yolunun sonuçlarını belirlemeliyiz.



A)



B)



C)

5) Yağmur'un sınıfında başkan seçimi yapılacaktır. İki kişi aday oldu.

Adaylardan birisi Yağmur'un sıra arkadaşıdır. Diğer aday öğretmenlerinin anlattığı gibi sorumluluk sahibi, adaletli davranan bir arkadaşdır.

**Bu durum da Yağmur kime oy verirse daha adil davranmış olur?**

A) Sıra Arkadaşına

B) Diğer arkadaşına

C) İkisine de oy vermemelidir.



6) Kaya, okul yaşantısında demokratik davranışları öğrenmek istiyor.

**Aşağıdaki arkadaşlarından hangisinin söylediği davranış uygun bir davranış değildir?**



Arkadaşlar arasındaki sorunların konuşarak çözülmesine yardımcı olurum.



Arkadaşlarım ve öğretmenim konuşurken onların sözünü kesmem.



Sınıf başkanı seçimlerinde en yakın arkadaşıma oy veririm.



A)



B)



C)



7) Ahmet arkadaşı Melike ile sürekli alay etmekte ve ona lakap takmaktadır. Melike ise bu durumdan hiç hoşlanmamaktadır.

**Melike'nin bu durumda ilk yapması gereken hangisidir?**

A) Melike bu durumu annesine söylemelidir.

B) Melike Ahmet'i öğretmenine şikayet etmelidir.

C) Melike Ahmet'i uyarmalı, yaptığıının yanlış olduğunu söylemelidir.

8)

**Aşağıdakilerden hangisini yaparsak karşıımızdaki kişiyle etkili bir iletişim kurmuş oluruz?**



A) Konuşan kişiye bakmamalıyız.

B) Yüksek sesle konuşmalıyız.

C) Nezaket kurallarına uymalıyız.



9)

Beden Eğitimi dersinde Sporcu Şirin ve arkadaşları yakar top oynadılar. Sporcu Şirin oyunu kaybedince ağlamaya başladı.

**Arkadaşları Sporcu Şirin'e nasıl bir tavsiyede bulunmuş olabilir?**

A) Bir daha yakar top oynamasan iyi olur.

B) Senin 5 canın olsun. Hep oyunda kal.

C) Oyunda kazanmak da, kaybetmek de doğaldır. Buna üzülmemelisin.

10)



"Sude o gün çok üzgündü. Tüm arkadaşları keyifle boyama yaparken o sırasında öylece oturuyordu. Boyalarını evde unuttuğu için kendine çok kızıyordu."

**Sude bu durumu bir daha yaşamamak için aşağıdakilerden hangisini yapmalıdır?**

A) Çantasını akşamdan hazırlayıp, sabah kontrol etmeli.

B) Vaktinde uyumalı.

C) Kişisel temizliğine önem vermeli.

11) Kübra → Sınıfta ve koridorda yürürken ayağıma çöpler takılıyor.

Salih → Sınıftaki sestən dolayı öğretmenimi dinleyemiyorum.

Metin → Kitaplıktan aldığım kitaplar hep yırtık.

Tuğçe " Ders sırasında arkadaşlarımızla konuşmayalım. Parmak kaldırarak söz isteyelim."

Tuğçe hangi arkadaşının sorununa çözüm üretmiştir?

- A) Kübra
- B) Salih
- C) Metin

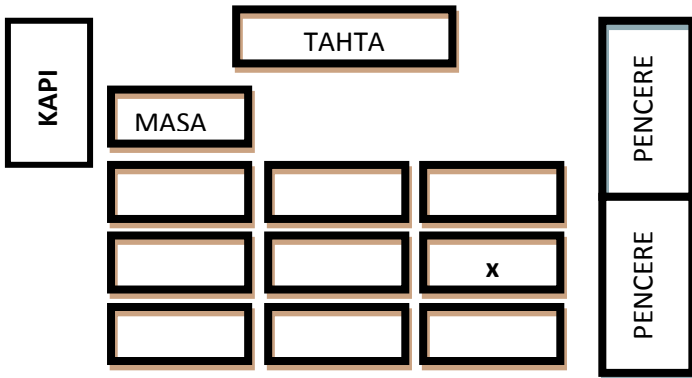
12)



Ben Ela. Okulumun geçmişini çok merak ediyorum. Okulumun tarihçesini araştırıp öğrenmek istiyorum.


Buna göre Ela, okulunun tarihçesini öğrenmek için aşağıdaki kişilerden hangisiyle görüşmelidir?

- A) Dede ve ninesiyle
- B) Mahalle muhtarıyla
- C) Okul müdürüyle



13) Krokide Ayşe'nin oturduğu yer "x" işareti ile belirtilmiştir. Ayşe'nin oturduğu yeri nasıl tarif edebiliriz?

- A) Kapı tarafında baştan 2. sırada oturuyor.
- B) Pencere tarafında ilk sırada oturuyor.
- C) Pencere tarafında baştan 2. sırada oturuyor.



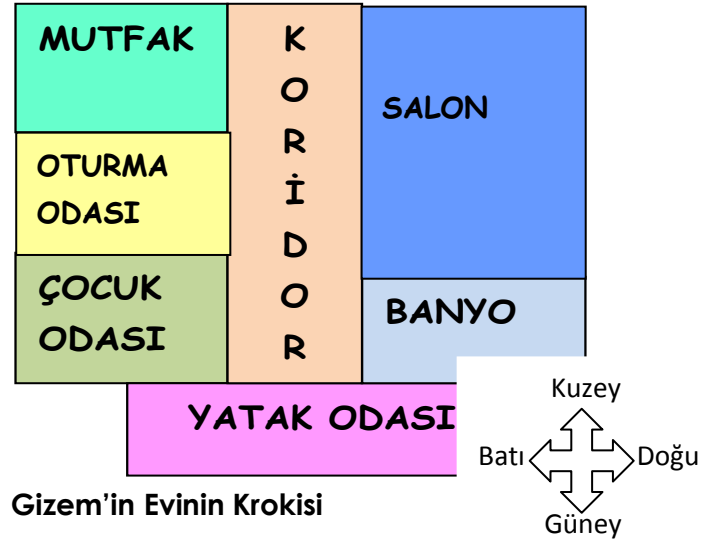
14)

Hakan basketbol oynamayı çok sevmektedir. İrem ise resim yapmaktan hoşlanmaktadır. Buna rağmen ikisi de çok yakın arkadaşdır.

Hakan ve İrem'in ilgileri farklı olmasına rağmen yakın arkadaş olabilmelerinin sırrı aşağıdakilerden hangisidir?

- A) Hakan'ın basketbol oynamaktan vazgeçip resim yapmaya başlaması.
- B) İrem ve Hakan'ın sadece keman çalması.
- C) İkisnin de birbirlerinin ilgilerine saygı duyması.

15)



Gizem'in Evinin Krokisi

Yukarıdaki krokiye göre aşağıdaki bilgilerden hangisi yanlış olur?

- A) Mutfak, oturma odasının güneyindedir.
- B) Salon, banyonun kuzeyindedir.
- C) Banyo, oturma odasının doğusundadır.

Deneme sınavını bitirdin. Şimdi yapamadığın sorulara geri dön yapmaya çalış ve cevaplarını forma doğru kodlayıp kodlamadığını kontrol et.