

# 3. SINIFLAR

## 2. SEVİYE BELİRLEME SINAVI

Kitapçık Türü: **A**

Adı Soyadı : .....  
Numarası : .....  
Sınıfı / Şubesi : .....  
Okulu : .....  
İl / İlçe : .....

Bu bölümde Türkçe dersinden 15 soru sorulmuştur. Bu soruları formda Türkçe bölümüne işaretlemelisin.

Bizim apartmana taşınmanıza çok sevindim.

Dünya kadar kıyafetin var, hala kıyafet almak istiyorsun.

Bugün müzik dersinde Öğretmen Marşı'nı öğrendik.



Rabia

Mustafa

Özgür

1) Yukarıdaki öğrencilerden hangisi abartılı bir cümle kurmuştur?

- A) Mustafa B) Özgür C) Rabia



Beyza aşağıdaki cümleyi nasıl devam ettirirse cümleyi anlamlı tamamlamış olur?

2)

Teyzemlerle birlikte .....



parka yalnız gittim.

A)



tiyatroya gidecektik.

B)



tek başıma yemek yiyorum.

C)

A

A

A

1

### ÇİÇEK DALINDA GÜZEL

24 Kasım Öğretmenler Günü yaklaştıkça öğrencilerde de tatlı bir heyecan başlamıştı. Öğretmenlerinin ellerini öpecek ve günlerini kutlayacaklardı.

Bekir, sokağa çıktığında Ferda ile karşılaştı.

-Merhaba yoksa sen de mi benim düşündüğümü düşünüyorsun?

-Evet, sizin bahçedeki güllerden en güzellerini alalım ve öğretmenimize götürelim.

Öyle de yaptılar. Ders zili çalınca koşarak öğretmenlerinin yanına vardılar ve getirdikleri gülleri öğretmenlerine uzattılar. Öğretmenleri gülümsedi ve onlara "Çocuklar, teşekkür ederim, çok nazicsiniz ancak çiçekler dalında güzeldir." dedi.

(3.,4. ve 5. soruları parçaya göre cevaplandırınız.)

3) Öğrenciler niçin heyecanlanmışlar?

- A) 29 Ekim yaklaştığı için.  
B) Öğretmenler Günü yaklaştığı için.  
C) 23 Nisan yaklaştığı için

4) "Bekir sokağa çıktığında Ferda ile karşılaştı." cümlesinde aşağıdakilerden hangisinin cevabı yoktur?

- A) Kim? B) Ne zaman?  
C) Ne için?

5) Bekir ve Ferda gülleri verince öğretmenleri ne yapmış?

- A) Onlara gülümseyip teşekkür etmiş ve çiçeklerin dalında güzel olduğunu söylemiş.  
B) Onlara çok kızmış.  
C) Çok şaşırmış.

A

A

A

**GÜZEL EVİM**

Evim benim cennetim,  
Annem, babam, kardeşim,  
Neşe doludur içi,  
Çok severim evimi.

**(6.,7. ve 8. soruyu şiire göre cevaplayınız.)**

**6) Şiirde geçen eş sesli(sesteş)kelimeler hangileridir ?**

- A) dolu- cennet-neşe
- B) ben-çok-iç
- C) ben -dolu-iç

**7) Yukarıdaki şiirin konusu aşağıdakilerden hangisidir?**

- A) ev
- B) cennet
- C) aile

**8) Şiire hakim olan duygu nedir ?**

- A) hüzn
- B) özlem
- C) sevgi

- 1- yılmadan
- 2- O
- 3- mücadele
- 4- zorluklara
- 5 -karşı
- 6- etti




**9) Yukarıdaki sözcüklerden anlamlı ve kurallı bir cümle oluşturursak sıralama aşağıdakilerden hangisi olur?**

- A) 2 - 4 - 5 - 1 - 3 - 6
- B) 2 - 3 - 1 - 4 - 5 - 6
- C) 6 - 5 - 4 - 3 - 1 - 2

**10 ) "Yaşar Enes başarılı bir öğrencidir fakat....."**

**Yukarıdaki cümle aşağıdakilerden hangisi ile tamamlanabilir?**

- A) çok kitap okur.
- B) her zaman planlı çalışır.
- C) resim yapma yeteneği iyi değildir.




**11)**

Arda, havaların soğuk olduğunu umursamadan ince kıyafetlerle okula gidiyordu. Hiç bedenini önemsemiyordu. Çok geçmeden grip oldu. Bir hafta boyunca okula gidememişti. Özellikle o çok sevdiği halk oyunları kursuna gidemediği için çok üzölmüştü. Yaptığı hatayı anlayan Arda, doktorun verdiği ilaçları içti. Annesinin ona vücut direncini artırması için verdiği portakal ve mandalinaları düzenli olarak tüketti. Bir hafta sonra sağlıklı olarak okuluna geri dönmenin mutluluğunu yaşıyordu.

**Yukarıdaki parçaya göre aşağıdakilerden hangisi Arda 'nın özelliklerinden biri değildir?**

- A) Umursamaz
- B) Hatasını kabul etmeyen
- C) Duyarsız

12)




Karşıt anlamlı olmayan sözcükler  
hangi görseldedir?

- A) kuzu B) balık C) kedi

Ders çalışın ..... odayı dağıtmayın.

13) Yukarıdaki cümle aşağıdaki  
sözcüklerin hangisiyle  
tamamlanamaz?



14)



Aşağıdaki  
cümlelerin  
hangisinde yazım  
yanlışı yapılmıştır?

- A) Gizem İstanbula gitti.  
B) Çiftçiler ürünlerini topluyor.  
C) Eğer soğuk olursa montumu  
giyerim.

15)

Kitaplarını ( ) defterlerini ( )  
kalemmini ve silgini çantana  
yerleştirdin mi ( )



Tümcesinde boş bırakılan yerlere  
sırasıyla hangi noktalama işaretleri  
gelmelidir?

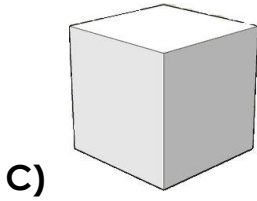
- A) ( , ) ( ? ) ( . )  
B) ( , ) ( ? ) ( . )  
C) ( , ) ( , ) ( ? )

Türkçe bölümünü bitirdin.  
Cevaplarını forma doğru kodlayıp  
kodlamadığını kontrol et.  
Matematik bölümüne geç.

Bu bölümde Matematik dersinden 15 soru sorulmuştur. Bu soruları formda Matematik bölümüne işaretlemelisin.



Arkadaşlar, aşağıdakilerden hangisini düzlemde açamayız?



Evde 1 saat 45 dakika ders çalıştım. Toplam ..... dakika ders çalışmış oldum.



2) Tolgahan'ın cümlesinde boşluk bırakılan yere hangi sayı gelmelidir?

- A) 95      B) 105      C) 145

3) Çınar hergün 19:15 ile 20:10 arasında ders çalışmaktadır. Çınar bir haftada kaç dakika ders çalışır?

- A) 400      B) 390      C) 385



1



2




3



4

4) Yukarıdaki geometrik cisimlerden hangilerinin bütün yüzeyleri düzlemsel şekildir?

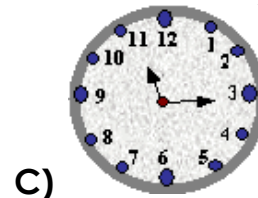
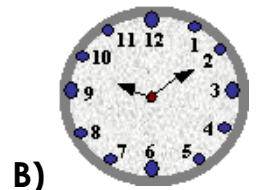
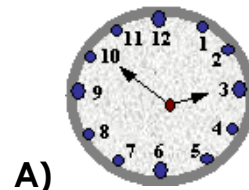
- A) 1 ve 2      B) 2 ve 3      C) 3 ve 4




5) Selim, toplama ve çıkarma işlemlerinin sonuçlarını Romen rakamlarıyla yazmıştır. Selim kaç tane yanlış sonuç bulmuştur?

- A) 5      B) 7      C) 4

6) Aşağıdaki saatlerden hangisi "üçe on var" şeklinde okunur?



7) Okulumuzun bahçesinde 243 adet çam, 455 adet çınar ağacı vardır. Bahçemizde toplam kaç ağaç vardır?



- A) 672      B) 798      C) 698

5 Yüzlük, 4 onluk , 2 birlik

8 Yüzlük, 7 onluk , 0 birlik

6 Yüzlük, 3 onluk , 3 birlik

2 Yüzlük, 0 onluk , 4 birlik

9 Yüzlük, 0 onluk , 9 birlik

8) Yukarıdaki sayıları küçükten büyüğe doğru sıraladığımızda doğru sıralama aşağıdakilerden hangisidir?

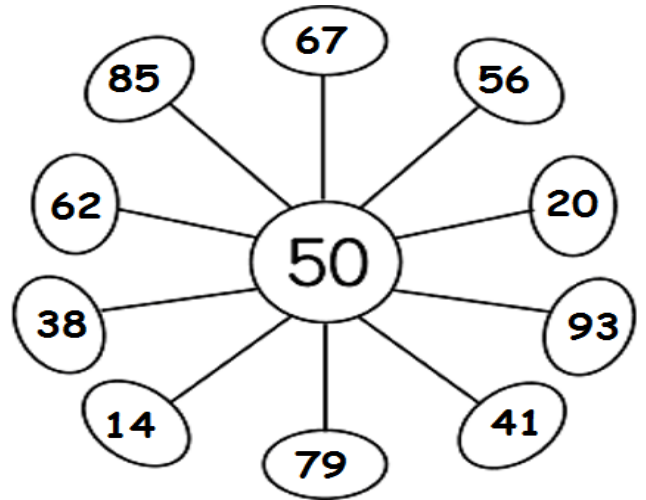
- A)  $909 > 870 > 633 > 542 > 204$   
 B)  $204 < 542 < 633 < 870 < 909$   
 C)  $204 < 633 < 542 < 909 < 870$

9) Aşağıdaki sayıların hangisinde onluğa yuvarlama yapılırken yanlışlık yapılmıştır?

- A)  $415 \rightarrow 410$       B)  $491 \rightarrow 490$   
 C)  $347 \rightarrow 350$

10) Ç : Çift sayıları; T : Tek sayıları gösterdiğine göre aşağıdakilerden hangisi yanlıştır?

- A)  $\text{Ç} + \text{Ç} = \text{Ç}$   
 B)  $\text{T} + \text{Ç} = \text{T}$   
 C)  $\text{T} + \text{T} = \text{T}$



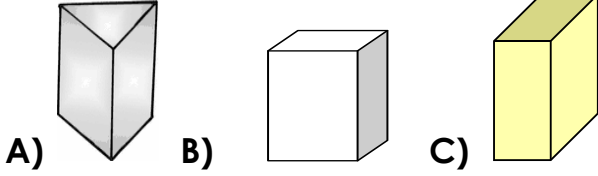
11) Yukarıdaki sayı çarkında tek ve çift sayıların kaçar tane olduğu hangi seçenekte doğru olarak verilmiştir?

- A) 6 TEK - 5 ÇİFT  
 B) 6 ÇİFT - 5 TEK  
 C) 4 TEK - 7 ÇİFT

12)

5 tane yüzeyim var. Ama hiç biri karesel bölge değil.

Kendini bize tanıtan geometrik cisim aşağıdakilerden hangisidir?



A)

B)

C)

13)



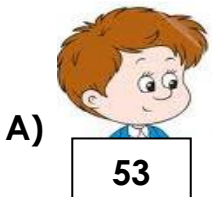
Sevgili arkadaşlar, hangisi düzlem modelidir?

- A) Portakalın yüzeyi  
B) Sehpanın yüzeyi  
C) Çorba kâsesi

14)

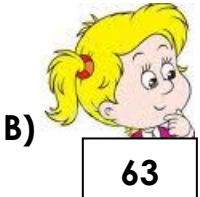


635 sayısının onlar ve birler basamağındaki rakamların basamak ve sayı değerleri toplamı kaçtır?




A)

53



B)

63



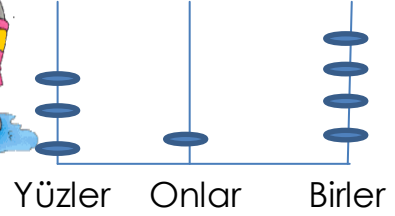
C)

43

15)



Abaküste gösterilen sayı kaçtır?



Yüzler

Onlar

Birler

A) 134

B) 314

C) 413

Matematik bölümünü bitirdin. Cevaplarını forma doğru kodlayıp kodlamadığını kontrol ettikten sonra Hayat Bilgisi bölümüne geçebilirsin.



**Bu bölümde Hayat Bilgisi dersinden 15 soru sorulmuştur. Bu soruları formda Hayat Bilgisi bölümüne işaretlemelisin.**

1) İzzet, milli bayramlarımızı niçin kutladığımızı merak ediyor ve öğrenmek istiyor. **Aşağıdaki arkadaşlarından hangisinin söylediği bilgi doğru değildir?**


29 Ekim 1923 yılında Cumhuriyet ilan edilmiştir. Her yıl 29 Ekim günü, Cumhuriyet Bayramı'nı kutlarız.



19 Mayıs 1919 günü, T.B.M.M açılmış ve bu günü Atatürk, çocuklara armağan etmiştir. Bu nedenle her yıl 19 Mayıs günü, Ulusal Egemenlik ve Çocuk Bayramını kutlarız.




30 Ağustos 1922 yılında Kurtuluş Savaşı zaferle sonuçlanmıştır. Bu nedenle her yıl 30 Ağustos günü, 30 Ağustos Zafer Bayramı'nı kutlarız.



A)



B)



C)

A

A

A

7

2) "Çocukluğundan beri askerliğe büyük bir ilgi duyan Mustafa Kemal, askeri okula gitmesini istemeyen annesinden gizli sınavlara hazırlanıyor, bir yandan da sınavı kazanırsa annesini üzmeden bunu ona nasıl söyleyeceğini düşünüyordu."

**Yukarıdaki metinde Atatürk hangi okulu kazanmak için sınava hazırlanmaktadır?**

A) Şemsi Efendi Okulu

B) Selanik Askeri Rüştiyesi

C) Mahalle Mektebi

3) Ali, Emir ve Serhan kendi aralarında yemekte ne yiyeceklerine karar vermeye çalışıyorlar. **Sağlıklı beslenmeye en uygun fikri hangisi ortaya koymuştur?**

A) Serhan: Sebze yemeği ve ayran

B) Emir: Hamburger ve kola

C) Ali: Sucuklu tost ve gazoz

4) Merve, sınıf başkanı olan arkadaşı Filiz'in bazı yakın arkadaşlarına ayrıcalıklı davranmasından rahatsız olmaktadır. **Merve'nin, bu durumda yapacağı en uygun davranış aşağıdakilerden hangisidir?**



Filiz'i hemen öğretmenine şikayet etmelidir.



Filiz ve ayrıcalıklı davrandığı arkadaşlarıyla bir daha konuşmamalıdır.



Filiz'i önce uyarmalı, yaptığıının yanlış olduğunu ve haksızlık yaptığını söylemelidir.



A)



B)



C)

A

A

A



5) Aşağıdakilerden hangisi yakınlarımızın özel günlerini kutlama nedenimiz olamaz?

- A) Mutluluklarını paylaşmak
- B) Bol bol yemek yemek
- C) Sevgi ve saygımızı göstermek

6) Aşağıdakilerden hangisi, okul sayesinde kazandığımız iyimser bir bakış açısını yansıtır?

- A) Okula zamanında gelmeyenleri uyarmalıyız.
- B) Bazı öğrenciler okul kurallarına uymuyor.
- C) Okul bizim ikinci yuvamızdır.

7) Bulutların üzerinde yazılı olan bilgilerden hangisi yanlıştır?

- A) Her okulun bahçesinde büyük bir eczane bulunur.
- B) Kaza anında yapılan ilk müdahaleye, ilk yardım denir.
- C) Zamanında yapılan ilk yardım hayat kurtarır.



Alışverişte her zaman ihtiyacımız olan ürünleri almalıyız.




Alışverişlerimizde her zaman çok ucuz olan ürünleri tercih etmeliyiz.




Yiyecek ve içecek alırken son kullanma tarihlerine dikkat etmeliyiz


8) Yukarıdaki öğrenciler, bilinçli tüketicilik konusu ile ilgili bizlere bilgi vermiştir. **Buna göre hangi öğrencilerin konuyla ilgili kurmuş oldukları cümleler doğrudur?**



A)



B)



C)




Benim adım Ezgi. Arkadaşlarımla birlikte ders çalışmayı seviyorum. Ders çalışırken müzik dinlemekten hoşlanmıyorum.



Benim adım Fatih. Yalnız başıma ders çalışmayı seviyorum. Müzik dinleyerek ve ritim tutarak ders çalışabiliyorum.

9) Ezgi ve Fatih'in yukarıdaki konuşmalarına göre aşağıdakilerden hangisini söyleyebiliriz?

- A) Yetenekleri aynıdır.
- B) Çok iyi arkadaşlardır.
- C) Her insanın öğrenme tekniği farklılık gösterebilir.



10) Grip, suçiçeği, kabakulak vb. bulaşıcı hastalıklardan birine yakalanan bir çocuk aşağıdakilerden hangisine dikkat etmelidir?

- A) Sokakta arkadaşları ile oynamaya
- B) Sıkıldığı için TV izlemeye
- C) Hastalık geçinceye kadar okula gitmemeye

11) " Elif akşam yemeğinden sonra elini ve ağızını yıkadı. Dişlerini fırçaladı. İş bittiğinde lambaları açık bıraktı." **Metne göre Elif, kişisel bakımını yaparken neye dikkat etmemiştir?**

- A) Dişlerini fırçalamayı unutmuştur.
- B) İş bittiğinde lambayı açık unutmuştur.
- C) Suyu gereğinden fazla kullanmıştır.

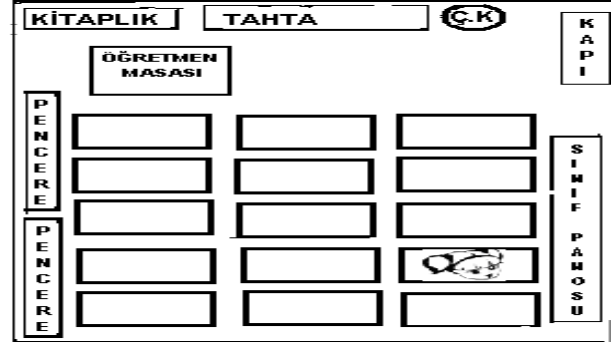


12) "3.Sınıflar arasında düzenlenen bilgi yarışmasında 3/ F sınıfı öğrencileri birinci oldu." **Buna göre 3/F Sınıfı öğrencilerinin aşağıdaki davranışlarından hangisi yanlıştır?**

- A) Kaybeden arkadaşlarıyla dalga geçerek onlara gülerler.
- B) Bilgi yarışmasının hem eğitici hem de eğlendirici olduğunu arkadaşlarına hatırlatırlar.
- C) Kaybeden arkadaşlarına bunun bir yarışma olduğunu, kazanmak kadar kaybetmenin de doğal olduğunu, üzülmemeleri gerektiğini söyleyerek arkadaşlarını teselli ederler.

13) Aşağıdaki davranışlardan hangisini yaptığımızda okul ve devlet bütçesi zarar görür?

- A) Çantamızı ders programına göre hazırlamak.
- B) Okula zamanında gitmek.
- C) Okul ve sınıf eşyalarını özenli kullanmamak.



14) Yukarıdaki krokiye göre Sinem'in oturduğu sırayı hangi çizgi film kahramanı doğru tarif etmiştir?



Sinem pencere kenarında baştan üçüncü sırada oturuyor.



Sinem, kapı tarafında baştan dördüncü sırada oturuyor.



Sinem, orta sırada baştan birinci sırada oturuyor.



A)



B)



C)

15) Ayberk okul yaşantısındaki demokratik uygulamalara örnekler bulmak istiyor. **Buna göre hangi seçenekte verilen örnek uygun olabilir?**

- A) Sınıf başkanını seçerken her birey istediğine oy verebilir.
- B) Sınıfımızdaki lideri öğretmen seçer.
- C) Teneffüste oynayacağımız oyunları Fatma belirler.

**Deneme sınavını bitirdin. Şimdi yapamadığın sorulara geri dön yapmaya çalış ve cevaplarını forma doğru kodlayıp kodlamadığını kontrol et.**