

1/A SINIFI ZORUNLU TATİL ÇALIŞMALARI SINAVIM-2

Adım- Soyadım:

Puanım:



1) Üç elim ve 2 parmağında toplam kaç parmak vardır?

a) 18 b) 17 c) 12

A blank grid for drawing a picture, consisting of 20 columns and 5 rows of squares.

6) Medivenin basamaklarını üçer üçer atlayarak 4 atlayışta çıktım. Merdiven kaç basamaklıdır?

a) 10 b) 12 c) 11

2) Düden önceki gün salı ise yarından sonraki gün hangisi olur?

a) cuma b) perşembe c)cumartesi

7) 27 yolcusu olan minibüsten 1. durakta 6 yolcu indi 4 yolcu bindi minibüste kaç yolcu vardır?

a) 23 b) 28 c) 25

3) Ali üçten başlayarak ileriye doğru ikişerli ritmik sayma yaparken 6. saymada hangi sayıyı söyler?

a) 11 b) 13 c) 15

8) 3' ten ileriye doğru 2'şer ritmik sayma yaparken 6. saymada hangi sayıyı söyleriz?

a) 13 b) 15 c) 17









4) 11'den küçük en büyük sayının yarısının 3 fazlası kaçtır?

a) 8 b) 9 c) 10

9) 11-13-15-A-19-B şeklindeki ritmik saymada A+B kaçtır?

a) 48 b) 43 c) 44



5)  +  = 10 ve  +  = 13
veriliyor.  = 5 ise  kaçtır?

a) 3 b) 2 c) 4



10) 20'den önceki en büyük sayı on beşten sonraki en küçük sayıdan kaç fazladır?

a) 5 b) 3 c) 4



Orhan ÇABUK