

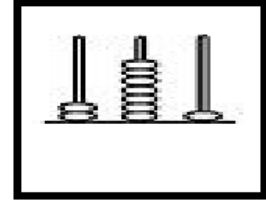
ADI SOYADI:

Şekillerle kesirleri eşleştirelim.

	$\frac{4}{7}$
	$\frac{3}{8}$
	$\frac{2}{8}$
	$\frac{4}{9}$
	$\frac{3}{9}$
	$\frac{2}{6}$

Şekillerde gösterilen kesirleri yazalım.

MINİ TEST



Gösterilen sayı hangisidir?

- A) 271 B) 281 C) 291

Hangi sayının okunuşu yanlış verilmiştir?

- A) Dokuz yüz doksan →999
B) Yüz on yedi →117
C) İki yüz elli iki →252

24	32	✿	48			☆			♡
----	----	---	----	--	--	---	--	--	---

Yukarıdaki ritmik sayma ileriye sayıldığında

✿ + ☆ + ♡ çarpımı kaç olur?

- A) 238 B) 208 C) 198






Yukarıdaki saat öğleden sonra kaç göstermektedir?

- A) 18.30 B) 17.30 C) 5.30

3. SINIF MATEMATİK TEKRAR 3

Verilen zamanın 2 saat 5 dakika sonrasını yazalım.

123	805	874	213	916	907	604
279	422	456	563	900	380	672
578	518	120	224	431	333	744
657	256	999	557	101	100	123
111	230	757	890	222	429	223

A blank 10x5 grid for drawing.[illegible]