

TÜRKÇE

: Ders Kitabından 264 ve 265'i **okuyalım** ve deftere **yazalım**. 266 ve 267'yi kitaba yapalım.

MATEMATİK

: Aşağıda verilen problemlerin **cevaplarını defterimize çözelim**. Soruları yazmanıza, şekilleri çizmenize, defterinizi kare kare yapmanıza gerek yok.(Defteriniz zaten kareli) Problemleri en az iki kez anlayarak okuyun. Ardından bir başlık atarak soruların çözümlerini ve sonucun cinsini yazmayı unutmayın.

ÇALIŞALIM

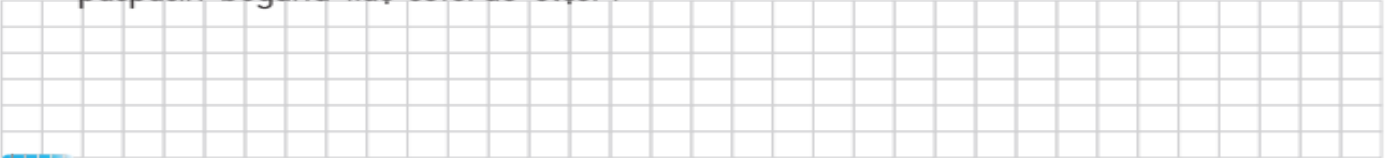
- 1** 3 m ve 200 cm uzunluğundaki iki kurdeleyi uç uca eklersek kurdelenin toplam uzunluğu kaç santimetre olur?




- 2** Her zıplayışta 3 m ilerleyen bir kanguru, 4 zıplayışta kaç metre ilerlemiş olur?



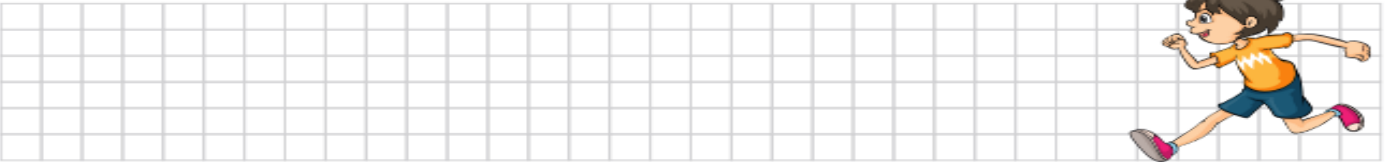
- 3** Gökçe'nin bir karışı 10 cm'dir. Odasındaki paspasın boyu 90 cm olduğuna göre Gökçe paspasın boyunu kaç seferde ölçer?



- 4** Ayla'nın boyu 135 cm'dir. Kerem'in boyu Ayla'dan 12 cm daha uzundur. İkisinin boylarının toplamı kaç santimetredir?



- 5** Samet'in bir adımı 44 cm'dir. Samet, 20 adım koştuğunda kaç metre kaç santimetre koşmuş olur?



- 6** Sevcan ile Vildan, ellerindeki iplerle salıncak kurmak istiyorlar. Bunun için 5 m ip gerektiğine göre kaç santimetre ipe ihtiyaçları vardır?

