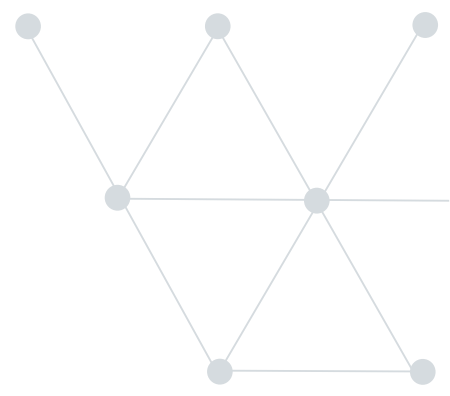




T.C.
TEKİRDAĞ VALİLİĞİ
İL MİLLÎ EĞİTİM MÜDÜRLÜĞÜ
ÖLÇME DEĞERLENDİRME MERKEZİ



5. Sınıf

Sosyal Bilgiler



1. Aşağıdaki ifadelerden doğru olanların başına “D” ; yanlış olanların başına “Y” yazalım.

- () Ekonomik faaliyetler bir yerde nüfusun dağılışını etkiler.
- () İnsanların sahip olduğu en temel hak seçme seçilme hakkıdır.
- () Sivil toplum kuruluşları toplumsal ihtiyaçların karşılanmasına yardımcı olur.
- () Vali ilçede devleti temsil eden en yetkili kişidir.
- () Belediye başkanı merkezi yönetimde yer alır.

2. ÜRETİM – TÜKETİM – VALİ – KAYMAKAM – RESMİ – SİVİL

Verilen kelimeleri uygun olan boşluklara yerleştirelim.

- A) İlçeler tarafından yönetilir.
- B) Ekonomik faaliyetler sonucu yeni bir mal elde edilmesine denir.
- C) Halkın ihtiyaçlarını karşılamak amacıyla devlet tarafından oluşturulmuş kurumlara kurum denir.
- D) Üretilen malların insanlar tarafından satın alınmasına ve kullanılıp harcanmasına denir.

3. Aşağıda verilen temel ihtiyaçlarımızın başında yer alan sayıları, temel ihtiyaçlarımızı karşılayan kurumların başında yer alan boşluklara yazarak eşleştirelim.

1	• Eğitim
2	• Sağlık
3	• Adalet
4	• Haberleşme
5	• Barınma

()	• Mahkemeler
()	• TRT
()	• Okullar
()	• TOKİ
()	• Jandarma
()	• Hastaneler

4. Aşağıdaki görselleri uygun olan kelimeler ile eşleştirelim.



TURİZM



MAL



TÜKETİM




DAĞITIM



HAM MADDE

5. Merkezi yönetimde yer alan birimlerle ilgili açıklamaları okuyalım. Açıklamalara uygun olan kelimeleri çiçeğin üzerinde bulunan rakamlarla ok işaretiyle eşleştirelim.

- a - CUMHURBAŞKANI
- b - BAKANLAR KURULU
- c - VALİ
- d - KAYMAKAM
- e - BELEDİYE BAŞKANI
- f - DANIŞTAY
- g - CUMHURBAŞKANI YARDIMCILARI



- | | | |
|---|---|---|
| 1. Merkezi yönetimin başında bulunur. | (|) |
| 2. Merkezi yönetimde cumhurbaşkanına yardımcıdır. | (|) |
| 3. Merkezi yönetimde bakanlardan oluşur. | (|) |
| 4. İldeki en yetkili yöneticidir. | (|) |
| 5. İlçede en yetkili yöneticidir. | (|) |
| 6. İdari mahkemelerce verilen karar ve hükümlerin son inceleme kuruludur. | (|) |

6. Akdeniz ve Ege kıyılarında bulunan yerleşim yerleri yaz turizmi sayesinde çok gelişmiştir. Antalya'da bulunan Alanya, Manavgat ve Kemer dünya çapında ün yapmış turistik merkezlerdir. Turizm sayesinde bu yerler iç kesimlerdeki yerlere göre daha fazla gelişmiştir. İnsanların turistlerle konuşabilmesi, onların kültürlerini öğrenmesi veya kültürümüzü onlara tanıtmaları dünya görüşlerini geliştirmiştir.

Yukarıdaki metinden çıkarılabilecek en kapsamlı yargı hangisidir?

- A) Deniz kıyısında bulunan her yerde turizm gelişmiştir.
- B) Ekonomik faaliyetler kültür üzerinde etkilidir.
- C) Ülkemizin kıyı kesimleri iç kesimlere göre az nüfusludur.
- D) Yerli ve yabancı turistler her yıl ülkemizi ziyaret etmektedir.

7.



Verilen görseller aşağıdaki kavramlarla eşleştirildiğinde hangisi dışarıda kalır?

- A) Tüketim B) Üretim C) Dağıtım D) Mal

8. Melek'in annesi Pervin Hanım, Melek için pembe bir bisiklet almıştı. Eve geldiğinde bisikletin arka tekerleğinin delik olduğunu fark etti. Faturası ile birlikte bisikleti de alarak mağazaya gitti. Mağaza sahibine durumu anlattı.

Buna göre mağaza sahibi hangisini yaparsa tüketici haklarına uygun davranmış olur?

- A) Bisikleti alır ve bir daha geri vermezse
B) Pervin Hanıma mağazadan çıkmasını söylerse
C) Bisikletin tekerleğini değiştirirse
D) Mağazada ürünlerde iade olmadığını söylerse

9. Sosyal Bilgiler öğretmeni öğrencilerine memleketlerinde en çok gelişen ekonomik faaliyetlerle ilgili sınıf arkadaşlarına sunum yapmalarını ister.

Ali :



Ayşe :




Ömer :






Ali, Ayşe ve Ömer resimlerle bölgelerindeki ekonomik faaliyetlerle ilgili bilgi verir.

Buna göre Ali aşağıdaki görsellerin hangisiyle ilgili bir girişimde bulunursa bölge ekonomisine katkı sağlamış olur?



10. 5. Sınıf öğrencisi Senem, İzmir'in Çeşme ilçesinde yaşamaktadır. Bu yıl okullarında yapılan 23 Nisan Ulusal Egemenlik ve Çocuk Bayramı kutlamaları ilçe genelinde yapıldığı için, ilçedeki en yetkili yönetici de kutlamalara katılmıştır. Öğretmeni, Senem'den okulu temsilen yaptırılan çiçeği ilçelerinin yöneticisine vermesini istenmiştir.

Buna göre Senem çiçeği kime vermelidir?



11. Aşağıdakilerden hangisi resmi kurumlara örnek olarak gösterilemez?



12. I. Salgın hastalıklarla mücadele etmek
II. İç güvenliği sağlamak
III. Turizmi geliştirici çalışmalar yapmak

Temel ihtiyaçlarımızı karşılayan kurumlardan hangisi ile ilgili bir açıklama verilmemiştir?

- A) Milli Eğitim Bakanlığı
B) İç işleri Bakanlığı
C) Sağlık Bakanlığı
D) Kültür ve Turizm Bakanlığı

13. Yaz tatilini geçirmek için ailesi ile birlikte İtalya'ya giden Mehmet hangi hakkını kullanmıştır?

- A) Eğitim – öğretim hakkı
B) Kişi dokunulmazlığı hakkı
C) Yerleşme ve seyahat hakkı
D) Konut dokunulmazlığı hakkı

14. Aşağıdakilerden hangisi sivil toplum kuruluşlarının özelliklerinden birisi değildir?

- A) Amaçları topluma hizmet etmektir.
- B) Çalışmaları karşılığında ücret alırlar.
- C) Çalışmalarını kanunlar çerçevesinde yaparlar.
- D) Devletin yükünü azaltmaya çalışırlar.

15. Yeni iş alanları oluşturarak veya mevcut işleri daha kazançlı duruma getirerek mal veya hizmet üretmeye *girişimcilik* denir.

Buna göre verilenlerden hangisi girişimcilerin özellikleri arasında gösterilemez?

- A) Özgüven sahibi olmaları
- B) Yeniliklere açık olmaları
- C) Planlı hareket etmeleri
- D) Sabit fikirli olmaları

1. Aşağıdaki ifadelerden doğru olanların başına “D” ; yanlış olanların başına “Y” yazalım.

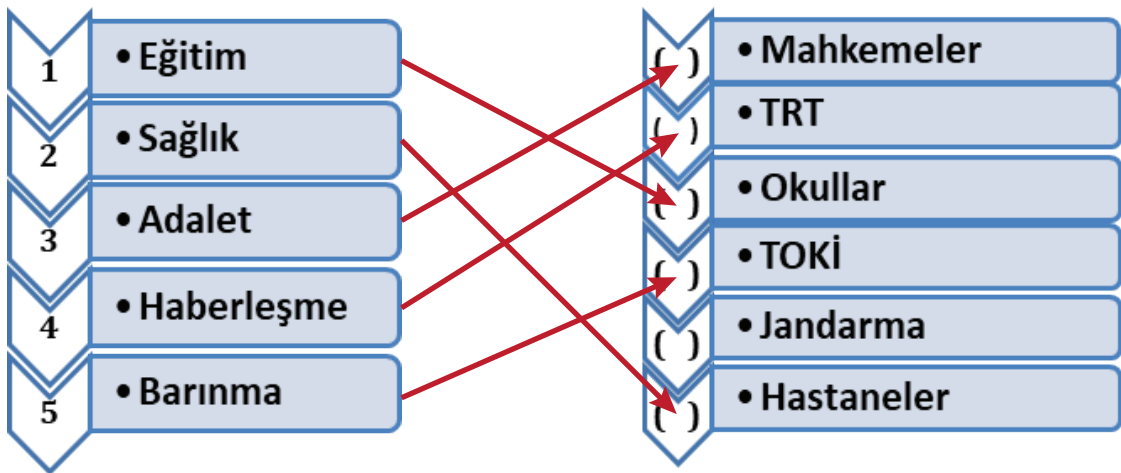
- (D) Ekonomik faaliyetler bir yerde nüfusun dağılışını etkiler.
- (Y) İnsanların sahip olduğu en temel hak seçme seçilme hakkıdır.
- (D) Sivil toplum kuruluşları toplumsal ihtiyaçların karşılanmasına yardımcı olur.
- (Y) Vali ilçede devleti temsil eden en yetkili kişidir.
- (Y) Belediye başkanı merkezi yönetimde yer alır.

2. ÜRETİM – TÜKETİM – VALİ – KAYMAKAM – RESMİ – SİVİL

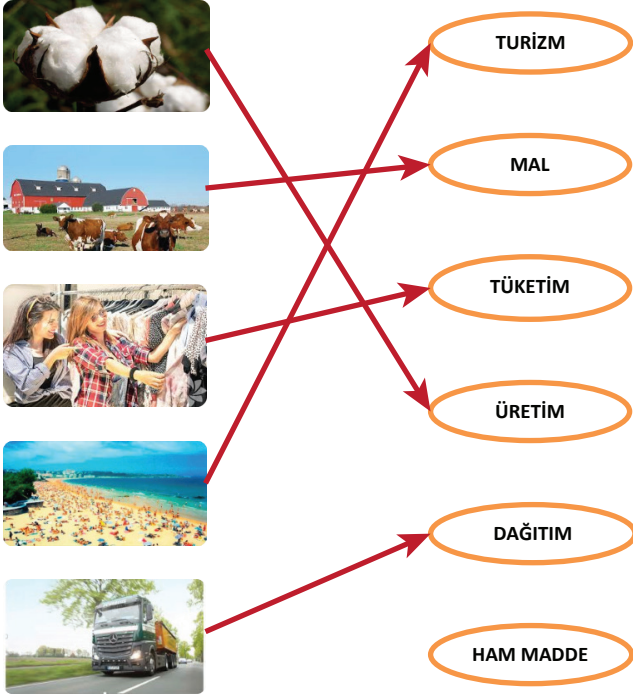
Verilen kelimeleri uygun olan boşluklara yerleştirelim.

- A) İlçeler **KAYMAKAM** tarafından yönetilir.
- B) Ekonomik faaliyetler sonucu yeni bir mal elde edilmesine **ÜRETİM** denir.
- C) Halkın ihtiyaçlarını karşılamak amacıyla devlet tarafından oluşturulmuş kurumlara **RESMİ** kurum denir.
- D) Üretilen malların insanlar tarafından satın alınmasına ve kullanılıp harcanmasına **TÜKETİM**denir.

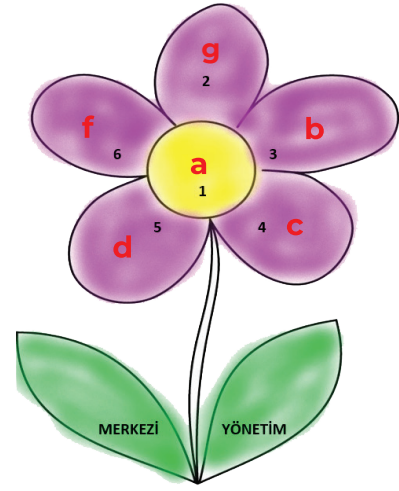
3. Aşağıda verilen temel ihtiyaçlarımızın başında yer alan sayıları, temel ihtiyaçlarımızı karşılayan kurumların başında yer alan boşluklara yazarak eşleştirelim.



4.



5.



1. (CUMHURBAŞKANI)
2. (CUMHURBAŞKANI YARDIMCILARI)
3. (BAKANLAR KURULU)
4. (VALİ)
5. (KAYMAKAM)
6. (DANIŞTAY)

6	7	8	9	10	11	12	13	14	15
B	D	C	B	A	C	A	C	B	D