



**İLKOKULLARDA  
UZAKTAN EĞİTİM  
SÜRECİNDE  
KAZANIM  
KAVRAMA  
ÇALIŞMASI  
3.HAFTA  
TESTLERİ**



#sakaryacevrimici

#hayatevesiğar

**BU KİTAPÇIKTA,  
TÜRKÇE 10 SORU  
MATEMATİK 10 SORU  
HAYAT BİLGİSİ 10 SORU  
YER ALMAKTADIR.**

Bu çalışmada yer alan Toki İlkokulu, Atatürk İlkokulu, Selçukbey İlkokulu, Mehmet Zorlu İlkokulu idareci ve öğretmenlerine teşekkürler...

**SAKARYA MİLLİ EĞİTİM MÜDÜRLÜĞÜ**

**2020**

**1.SINIF KONU KAZANIM KAVRAMA TESTİ**  
**TÜRKÇE**



**YAZ MEVSİMİ**

**Yaz mevsimi çok sıcaktır. İlbahardan sonra yaz mevsimi başlar. Haziran, temmuz ve ağustos yaz mevsiminin aylarıdır. Yaz mevsiminde ağaçlar meyve verir. Okullar tatil olur. İnsanlar bu mevsimde tatil yapmaya giderler. Bu yüzden herkes yaz mevsimini çok sever.**

(İlk 4 soruyu metne göre cevaplayınız.)

**1.Yaz mevsimi nasıldır?**

A-Soğuk

B-Serin

C-Sıcak

**2.Yaz mevsiminin ayları hangileridir?**

A-Aralık, Ocak, Şubat

B-Mart, Nisan, Mayıs

C-Haziran, Temmuz, Ağustos

**3. Yaz mevsimi hangi mevsimden sonra gelir?**

A-Kış

B- İlkbahar

C- Sonbahar

4. Yaz mevsiminde hangisi olmaz?

A-Kar yağar.

B-Meyveler olur.

C- Okullar kapanır.

5. 1.okumak 2.geliştirir 3.bizi 4.kitap

Anlamalı ve kurallı cümle oluşturursak sıralama nasıl olur?

A-4-1-3-2

B-2-3-4-1

C-4-2-3-1

6.“ Kitabımı sen mi aldın( )” Cümlesinin sonuna hangi noktalama işareti konmalıdır?

A-Nokta ( . )

B-Soru İşareti ( ? )

C-Ünlem İşareti ( ! )

7.



Hangi kelimenin baş harfi her zaman büyük yazılır?

A- Nurbanu

B- Koltuk

C- Bahçe

8.

	Sıcak-Soğuk		Akşam-Gece		Uzun-Kısa
---	-------------	---	------------	---	-----------

Yukarıda işaretli kelimelerden hangileri zıt anlamlı değildir?

A- 

B- 

C- 

9.Aşağıdaki görsellerden hangisinin harf sayısı diğerlerinden daha fazladır?

A-



B-



C-



10.



Hangi kelime yanlış yazılmıştır?

A- Ahmet'in

B- Zeynep'e

C- okul'a

**1.SINIF KONU KAZANIM KAVRAMA TESTİ**  
**MATEMATİK**

1. Aşağıdaki şekilde kaç tane üçgen kullanılmıştır?




A- 1

B- 3

C- 5

2.



Yukarıdaki 10 yarım elmadan kaç tane bütün elma olur?

A-5

B-10

C-20

3. Köşesi ve kenarı olmayan varlık hangisidir?

A- Kitap

B- Buzdolabı

C- Top

4. “ 1 gün ..... saattir.” Cümlesinde boş bırakılan yere hangisi gelmelidir?

A-24

B- 20

C-12



5.Aşağıdakilerin hangisi yukarıdaki örüntüyle aynı kurala sahiptir?

- A- AABBBCCAABBCC
- B- AABBBCCAABCCAA
- C- ABCABCABCABC

Elif'in kalemleri

Kalem	Sayısı
Kurşun Kalem	8
Boya Kalemi	5
Kırmızı Kalem	4

6.Yukarıdaki tabloda Elif'in kalemleri gösterilmiştir. Elif'in boya kalemleri kaç tanedir?

A- 5

B- 4

C- 8

7. Koray, saat 10.30'da evden çıkıyor ve oyun parkında arkadaşlarıyla 2 saat geçiriyor. Eve geldiğinde saat kaç gösterir?




Mart						
Pt	Sa	Ça	Pe	Cu	Ct	Pz
			1	2	3	4
5	6	7	8	9	10	11
12	13	14	15	16	17	18
19	20	21	22	23	24	25
26	27	28	29	30	31	

8. Yandaki takvime göre 21 Mart tarihi hangi gündür?

A-Pazartesi

B-Cuma

C-Çarşamba



Yukarıdaki örüntünün kuralı nedir?

A-Bir armut bir elma

B-İki armut iki elma

C-İki armut bir elma

10. 2 liraya silgi , 5 liraya kalem , 10 liraya boya fırçası aldım. Satıcıya kaç lira öderim?

A- 7 TL

B- 15 TL

C- 17 TL



## 1.SINIF KONU KAZANIM KAVRAMA TESTİ

### HAYAT BİLGİSİ



1. Atatürk 1881 yılında .....’te dünyaya gelmiştir.

Yukarıdaki cümlede ..... olan yere aşağıdakilerden hangisi gelmelidir?

A-Ankara

B- İstanbul

C- Selanik

2. Trafik işaretlerinden hangisi okul geçidi anlamına geliyor?



3. Aşağıdaki yiyeceklerden hangisi sağlığımız için zararlıdır?

A- Açıkta satılan yiyecekler

B- Evde hazırlanan yiyecekler

C- Taze yiyecekler

4.Aşağıdaki yerleşim yerleri ile yöneticileri eşleştirilmiştir. Hangi eşleştirme doğrudur?

A- İl – kaymakam

B- İlçe – vali

C- Köy - muhtar

5. Sınıfları süsleriz,gösteriler yaparız.

Yukarıdaki etkinlikleri hangi bayramda yaparız?

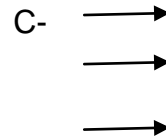
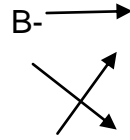
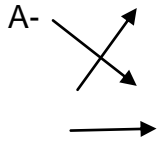
A- Ramazan Bayramı

B- 23 Nisan Ulusal Egemenlik ve Çocuk Bayramı

C- Kurban Bayramı

6.Aşağıdaki tabloda hayvanlarla yaşadıkları yerler eşleştirildiğinde ortaya çıkan şekil hangisidir?

Arı	Kulübe
Köpek	Kovan
Tavuk	Kümes



7. ☆ Çocuk parkı      ☆ Su kanalı      ☆ Evimizin bahçesi

☆ Okul bahçesi      ☆ İnşaat alanı

Yukarıdaki yerlerden kaç tanesi güvenli oyun alanlarındandır?


A- 5


B- 4


C- 3

8.  Cips  Süt  Kola

Yukarıdaki yiyeceklerden hangisi sağlığımız için yararlıdır?

A- 

B- 

C- 

9. Aşağıdaki ifadelerden doğru olanlara (D) yanlış olanlara (Y) yazarsak eşleştirme nasıl olur?

Ülkemizin başkenti İstanbul'dur.
Atatürk'ün annesi Zübeyde Hanım'dır.
Anıtkabir Ankara'dadır.

A-(D)

B- (Y)

C-(D)

(D)

(D)

(Y)

(D)

(D)

(D)

10. Aşağıdakilerden hangisi yanlıştır?

A-Yemeğimizi oturarak yemeliyiz.

B-Yemek yerken konuşabiliriz.

C-Yemeğe başlamadan önce ellerimizi yıkamalıyız.