



**İLKOKULLARDA
UZAKTAN EĞİTİM
SÜRECİNDE
KAZANIM
KAVRAMA
ÇALIŞMASI
3.HAFTA
TESTLERİ**



#sakaryacevrimici
#hayatevesiğar

BU KİTAPÇIKTA

TÜRKÇE 15 SORU

MATEMATİK 15 SORU

HAYAT BİLGİSİ 15 SORU

FEN BİLİMLERİ 15 SORU

İNGİLİZCE 10 SORU

YER ALMAKTADIR

Bu çalışmada yer alan Toki İlkokulu, Atatürk İlkokulu, Selçukbey İlkokulu,
Mehmet Zorlu İlkokulu idareci ve öğretmenlerine teşekkürler...

SAKARYA MEM

2020

3. SINIF KONU KAZANIM KAVRAMA TESTİ

TÜRKÇE

.....

Atatürk, bir askeri tatbikat sırasında yakındaki bir köy okuluna uğradı. Atatürk'ün kapıdan girdiğini gören öğretmen ayağa kalktı, yerini vermek istedi. Atatürk:

- Hayır, dedi. Yerinize oturunuz ve dersinizi veriniz. Eğer izin verirsiniz biz de sizden yararlanalım. Unutmayınız ki cumhurbaşkanı bile sınıfta öğretmenden sonra gelir.

Hacı ANGI
(Çocuk Gözüyle Atatürk)

Aşağıdaki ilk üç soruyu metne göre cevaplayınız.

1. Atatürk ne zaman bir okula uğruyor?

- A) Bir gezi sırasında
- B) Bir teftiş sırasında
- C) Bir askeri tatbikat sırasında

2. Atatürk, sınıftaki öğretmeni herkesten üstün tuttuğunu hangi sözüyle dile getiriyor?

- A) Öğretmenlik çok önemli bir meslektir.
- B) Cumhurbaşkanı bile sınıfta öğretmenden sonra gelir.
- C) Yerinize oturunuz ve dersinizi veriniz.

3. Bu metnin başlığı aşağıdakilerden hangisi olabilir?

- A) Öğretmen
- B) Eğitim
- C) Okul

4. Aşağıdaki cümlelerden hangisinin sonuna soru işareti konulmalıdır?

- A) Yarın da mı yağmur yağacakmış
- B) Of, yine yağmur başladı
- C) Yağmur yağar mı bilmiyorum



5. Aşağıdaki cümlelerin hangisinde zıt anlamlı sözcükler bir arada kullanılmıştır?

- A) Kendine koyu renkli, kalın bir hırka aldı.
- B) İki gündür zor ve sıkıcı bir işle uğraşıyorum.
- C) Kazanmak için çıktığımız bu maçı da kaybettik.

‘ Babamın görevi nedeniyle çok yer gezdik. ’

6. Yukarıdaki cümleden “ görev” sözcüğünün yerine hangisi getirilirse cümlelerin anlamı bozulmaz?

- A) vazife
- B) sorumluluk
- C) çağrı



7. Yukarıdaki resimlerin anlattığı sözcüklerden kaç tanesi eş seslidir?

- A) İki
- B) Üç
- C) Dört

Kırk masa



Yeşil ördek



Kirli gömlek



8. Yukarıdaki söz dizilerinden hangileri, varlığın durumunu bildirmektedir.

- A) ★ ●
- B) ■ ★
- C) ■ ●

“ Herkez Tırabzon’a gitti. Ben yalnız kaldım.”
1 2 3

9. Yukarıda verilen cümlede, kaç numaralı sözcüklerin yazımında yanlışlık yapılmıştır?

- A) Yalnız 1
- B) 1 ve 2
- C) 1,2 ve 3

“ Hacivat ()

() Hoş geldin Karagöz()üm.

Sefalar getirdin ()

() Hoş bulduk Hacivat. ”

10. Yukarıdaki diyalogda boş bırakılan yerlere sırasıyla hangi noktalama işaretleri gelmelidir?

A) (;) (.) (') (?) (—)

B) (:) (—) (') (.) (—)

C) (.) (.) (') (,) (!)

11. “göz” kelimesi aşağıdakilerden hangisinde deyim içerisinde kullanılmamıştır?

A) Babaannem,kontrol için göz doktoruna gitti.

B) Gece ses duyup kalkınca, hırsızla göz göze gelmiş

C) Annem, göz kulak olmam için kardeşimi bana bıraktı.

“1. sesi - 2. gelir - 3. davulun - 4. hoş - 5. uzaktan”

12. Yukarıdaki kelimelerle kurallı bir cümle oluşturulursa, sıralama nasıl olur?

A) 3-1-5-4-2

B) 3-2-5-4-1

C) 3-1-4-2-5

Güzel yuvam, şen yuvam;
Sende hayat, neşe var.
Sende mutlu yaşarlar,
Kardeşim, annem, babam.

İ.Hakkı TALAS

13. Yukarıdaki şiirin ana duygusu aşağıdakilerden hangisidir?

- A) Aile özlemi
- B) Aile sevgisi
- C) Kardeş sevgisi

14. ‘ için ’ kelimesi, aşağıdaki cümlelerin hangisinde sebep-sonuç ilişkisi kurmuştur?

- A) Bu elbiseyi sizin için aldım.
- B) Hasta olduğum için doktora gittim
- C) Parayı kardeşin için bıraktım.

Selin: Çok üzüldük gelemeyeceğini söyleyince.

Bilal : Her yerde aradım kaybettiğim kitabımı.

Yiğit : Geç gelenler için de sofra hazırlamışlar.


15. Yukarıdaki öğrencilerden hangisi ya da hangileri kurallı cümle kurmuştur?

- A) Yalnız Yiğit
- B) Yiğit ve Bilal
- C) Selin ve Yiğit

3. SINIF KONU KAZANIM KAVRAMA TESTİ

MATEMATİK

1.

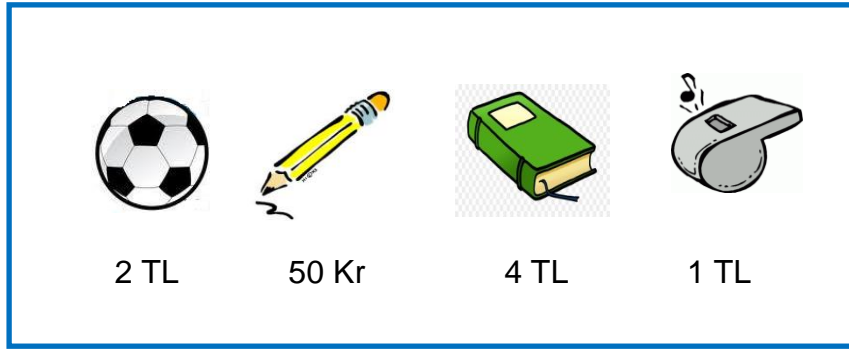


Talha Usta , yüksekliđi 20 cm olan tuğlalardan 10 tanesini üst üste koyarak bir duvar örmüştür. Buna göre, duvarın yüksekliđi kaç metre olur ?

A) 1 m

B) 2 m

C) 3 m



2. Yukarıdaki görsellerde, bir marketteki bazı ürünlerin fiyatları verilmiştir.

İrem, cebindeki 20 TL parasıyla 4 tane kalem , 2 tane kitap , 2 tane top alırsa geriye kaç TL parası kalır ?

A) 6 TL

B) 4 TL

C) 2 TL

3.



Serra'nın babası 73 kg ,annesi 62 kg ağırlığındadır. Serra ile birlikte hepsinin ağırlıkları toplamı 147 kg olduğuna göre, Serra kaç kg dır?

A) 12 kg

b) 15 kg

C) 17 kg

4. Ömer Amca' nın cebinde yalnızca üç adet kağıt para vardır. Bu kağıt paraların toplamı 75 TL olduğuna göre, Ömer Amca'nın cebinde aşağıdaki paralardan hangisi yoktur?



A)

B)

C)



5.

| | | | |
|--------------|---|---|---|
| |  |  |  |
| Kenar sayısı | 3 | 4 | 4 |
| Köşe sayısı | 3 | 4 | 4 |
| Açı sayısı | 3 | 3 | 4 |

Yan tarafta verilen tabloda ,
geometrik cisimlerin bazı özellikleri
verilmiş fakat bir geometrik cismin
özellikleri verilirken hata yapılmıştır.

Aşağıdaki geometrik cisimlerinden hangisinin özellikleri verilirken hata
yapılmıştır ?

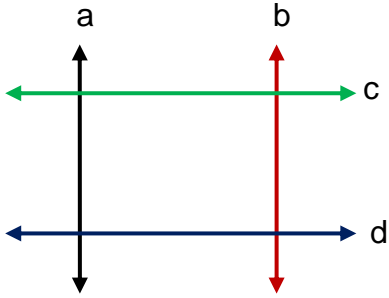
A)



B)



C)



Doğrular küçük temel harflerle adlandırılır.
Erva; a, b, c, d doğrularını kullanarak bir
dikdörtgen modeli oluşturmuştur .

6. Buna göre , Erva'nın yukarıda kullandığı doğrulardan hangileri yatay
doğrulardır ?

- A) d doğrusu ile c doğrusu
- B) a doğrusu ile b doğrusu
- C) b doğrusu ile c doğrusu



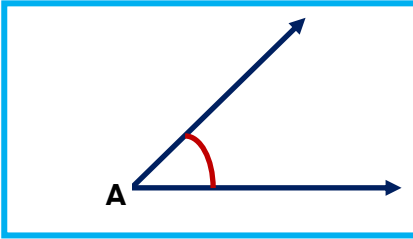
Geometrik şekillerin karşılıklı köşelerini birleştiren doğru parçalarına köşegen denilir.

7. Yukarıda verilen ABCD dikdörtgeninde kaç köşegen çizilebilir ?

A) 4

B) 2

C) 1



Başlangıç noktaları aynı olan iki ışının oluşturduğu açıklığa açı denilir. Yan tarafta iki ışının oluşturduğu A açısı çizilmiştir.

8. Buna göre aşağıda verilen harflerin hangisinde açı modeli daha fazladır ?

A)

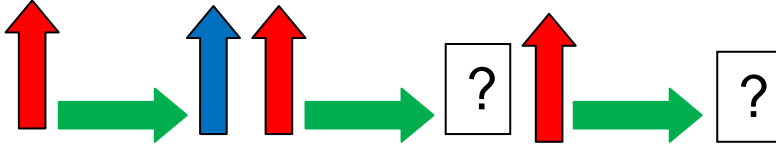
B)

C)

H

K

T



9. Yukarıdaki örüntüde soru işareti olan yerlere aşağıdaki şekillerden hangisi gelmelidir ?

A)



B)



C)



10. Yukarıda verilen şeklin d doğrusuna göre simetrisi , aşağıdakilerden hangisidir ?

A)

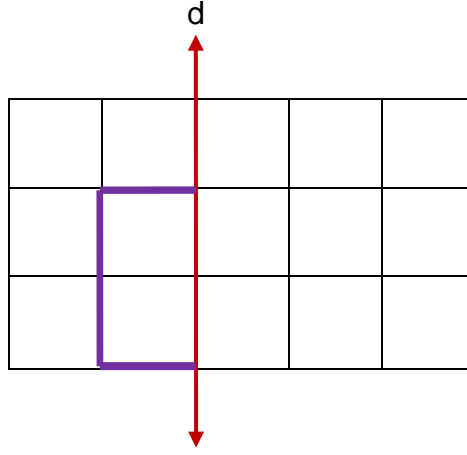


B)



C)





11. Yukarıdaki şeklin, d doğrusuna göre simetrisini alıp tamamlarsak, oluşacak şeklin tamamıyla hangi geometrik şekli elde ederiz?

A) kare

B) üçgen

C) daire

12.



Görseldeki ağaç 3m 12cm uzunluğundadır.

Ağaç her yıl 25 cm uzadığına göre , 3 yıl sonra

ağacın boyu kaç cm olur?

A) 362 cm

B) 387 cm

C) 375 cm


13. Aşağıda verilen geometrik cisimlerin hangisinde dikdörtgen yüzey bulunmaz ?

A) Kare prizma

B) Üçgen prizma

C) Küp

14.

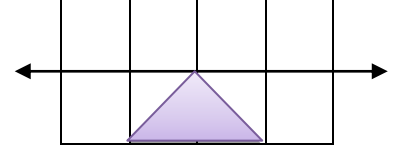
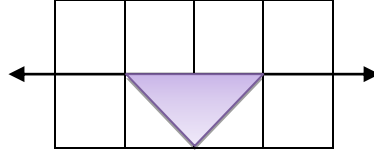
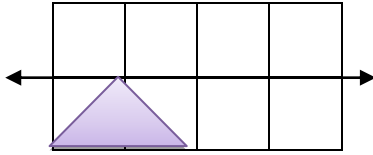


Yandaki şekilde verilen üçgenin , d doğrusuna göre simetriği aşağıdakilerden hangisidir ?

A)

B)

C)



15. Kalemin ucunu kağıda dokundurduğumuzda bıraktığı ize nokta denir.

Aşağıda nokta ile ilgili verilen bilgilerden hangisi yanlıştır ?

A) Noktalar büyük temel harflerle gösterilir.

B) Gökyüzündeki yıldızlar birer nokta modelidir.

C) Noktanın boyutları ölçülebilir.

3. SINIF KONU KAZANIM KAVRAMA TESTİ

HAYAT BİLGİSİ



1. Aşağıdakilerden hangisi seçimle iş başına gelen yöneticilerden biridir?

- A) Kaymakam
- B) Belediye Başkanı
- C) Vali

2. Cumhuriyet tarihinde ilan edildi?

Yukarıdaki noktalı yere gelmesi gereken tarihi,
aşağıdaki öğrencilerden hangisi bilmiştir?

- A) 19 Mayıs 1919
- B) 29 Ekim 1923
- C) 23 Nisan 1920



3. Utku, kaymakamlığa gidip işlerini halletmek istemektedir. Bu durumda

Utku, aşağıdaki yerleşim yerlerinden hangisinde yaşamaktadır?

- A) İl
- B) İlçe
- C) Mahalle

4. Aşağıdakilerden hangisi, ülkemizin tarihi güzellikler arasında gösterilir?



- A) Topkapı Sarayı
- B) Uzun Göl
- C) Peri Bacaları

- ★ Park ve bahçelerin açılması.
- ★ Su ve yol çalışmalarının yapılması.
- ★ Çöplerin toplatılması ve temizlik faaliyetlerinin gerçekleştirilmesi.

5. Yukarıdaki görevler, aşağıdaki yönetim birimlerinden hangisinin görevlerindendir?

- A) Muhtarlık
- B) Belediye
- C) Valilik

6. Aşağıdakilerden hangisi cumhuriyet yönetimi ile birlikte kazandığımız hak ve özgürlüklerden biri değildir?

- A) Beslenme ve barınma hakkı
- B) Özel yaşamın gizliliği hakkı
- C) Seçme seçilme hakkı

7.



Aşağıdakilerden hangisi doğal güzelliklerimizden biri değildir ?



A) Kapadokya



B) Ölü deniz



C) Balıklı Göl

8. Atatürk'ün "Vatanını en çok seven, görevini en iyi şekilde yapandır." sözünü dikkate alan bir öğrenci, aşağıdakilerden hangisini yapmaz ?

- A) Yaptığı her işi hatasız yapmak için elinden geleni yapar.
- B) Tüm işleri yapmış olmak için hızlıca yapar.
- C) Görev ve sorumluluklarını en iyi şekilde yapmak için çaba gösterir.

| | |
|---------------------------------|-------------------|
| | |
| 1-Eğitim Hakkı | 5-Vergi |
| 2-Mülk Edinme Hakkı | 6-Askerlik yapmak |
| 3-Seçme ve Seçilme Hakkı | 7-Kanunlara uymak |
| 4-Yerleşme ve Seyahat Hürriyeti | |

9. Beren, yukarıdaki tabloda 7 maddeden oluşan bir liste yapmış ve yapmış olduğu bu listeye bir başlık bulmak istemiştir. Beren'in listesine yazmak istediği bu başlık aşağıdakilerden hangisi olabilir?

- A) Vatandaşlık Haklarımız
- B) Kişisel Sorumluluklarımız
- C) Vatandaşlık Hak ve Sorumluluklarımız

Ona "Cephane yok" dediler, " Bulunur" dedi. "Ordu yok" dediler, "Kurulur" dedi, "Düşman çok" dediler, "Yenilir" dedi.

10. Yukarıdaki ifadeye göre Mustafa Kemal Atatürk'ün hangi kişisel özelliğinden söz edilmektedir?







- A) İleri görüşlü
- B) Aceleci
- C) Azimli ve kararlı

- ❖ Yeni harflerin kabul edilmesi
- ❖ Soyadı Kanunu'nun kabulü
- ❖ Medeni Kanunun kabulü

11. Yukarıda, Cumhuriyet yönetimiyle beraber yapılan bazı yenilikler verilmiştir.

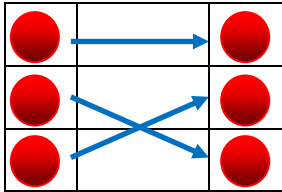
Bu yeniliklerle, aşağıda verilenlerden hangisi gerçekleşmiş olabilir?

- A) Kurtuluş Savaşı kazanılmıştır.
- B) Toplumsal yaşam değişmiştir.
- C) Yenilikler halkı etkilememiştir.

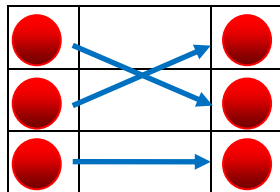
| | | | |
|--------------------------------------|---|---|--------------------|
| Türkiye'nin ilk uçak tasarımcısıdır. |  |  | Mehmet Ali KAGITCI |
| Türk kâğıt sanayinin kurucusudur. |  |  | Vecihi HÜRKUŞ |
| İlk kadın savaş pilotudur. |  |  | Sabiha GÖKÇEN |

12. Yukarıdaki tabloda, yaptığı çalışmalarla ülkesine hizmet etmiş kişiler ve hizmetleri eşleştirilirse, aşağıdakilerden hangisi elde edilir ?

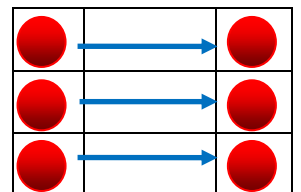
A)



B)



C)



13. Aşağıda verilen özelliklerden hangisi, insanlığa hizmet etmiş kişilerin özellikleri arasında yer almaz?

- A) Başarısızlıklar karşısında yılmayanlardır.
- B) Yaşamları boyunca az çalışıp çok uyuyanlardır.
- C) Bilgilerini başkalarıyla paylaşanlardır.



14. Yukarıdaki görsellerde görülen tarihi eserler, hangi illerimizdedir?

- A) Çanakkale – Balıkesir
- B) Manisa – İstanbul
- C) Çanakkale – İstanbul

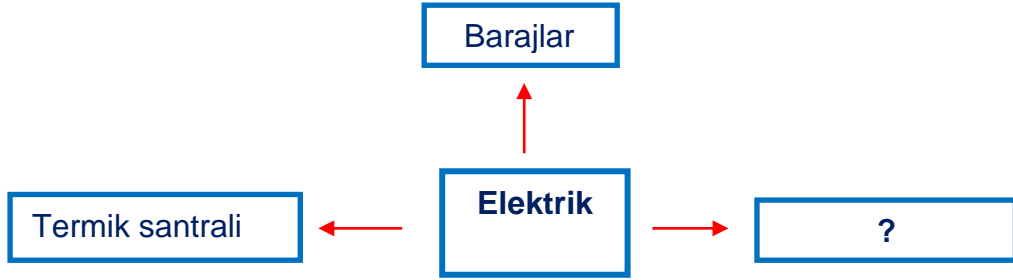


15. Ülkemizde yaşayan farklı kültürdeki insanları düşünerek ,aşağıdaki hangi duyguyu içimizde oluşturmak gereklidir ?

- A) Empati
- B) Öfke
- C) Önyargı

3. SINIF KONU KAZANIM KAVRAMA TESTİ

FEN BİLİMLERİ



1. Yukarıdaki şemada şehir elektriğinin üretim yerleri verilmiştir. Buna göre “?” ile belirtilen kutucuğa aşağıda verilenlerden hangisi gelmelidir?

- A) Rüzgar santrali
- B) Denizler
- C) Evler



2. Yukarıdaki görselde belirtilen ifadeye göre, aşağıdakilerden hangisi doğrudur ?

- A) Pilleri, istediğimiz gibi çevreye atabiliriz.
- B) Pilleri, pil atık kutusuna atmalıyız.
- C) Pilleri, toprağa gömebiliriz.

3. Aşağıda görselleri verilen araçlardan hangisi elektrik enerjisi ile çalışmaz ?



A)



B)



C)


4. Aşağıda verilen elektrikli araçlardan hangisinin kullanım alanı diğerlerinden farklıdır ?



A)



B)



C)

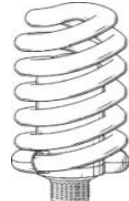
5. Aşağıdakilerden hangisi elektrik kaynağı değildir?



A)



B)



C)

6. Aşağıdakilerden hangisi “akü” ile çalışır?



A)



B)



C)

“Birden fazla pilin bir araya gelmesiyle oluşup, tekrar doldurulabilen bir elektrik kaynağıyım.”

7. Aşağıda verilen araçlardan hangisi, yukarıda tanımı verilmiş elektrik kaynağı ile çalışır ?

A) Klima

B) Buzdolabı

C) Cep telefonu



* Büyüme

* Çoğalma

* Hareket etme

* Beslenme

8. Resmi verilen varlıkta, yukarıda belirtilen özelliklerden kaç tanesi vardır?

A) 2

B) 3

C) 4



Bazı doğal çevreler taklit edilerek canlı yaşamı için yapay çevreler oluşturulur.

9. Aşağıdakilerden hangisi canlılar için oluşturulmuş yapay çevreye örnek gösterilemez?

A) Dolap

B) Akvaryum

C) Kafes

10.




Yan taraftaki resmi çizen Emir'in, resmi için hangi sloganı kullanması uygun olmaz?

A) Temiz bir dünyada yaşamak hepimizin hakkı.

B) Bolca sağlam ev yapıp, dünyamızı güzelleştirelim.

C) Güzel bir dünya için gelin el ele verelim.

11. Aşağıdakilerden hangisi canlı bir varlıktır?



Toprak



çiçek



yağmur

A)

B)

C)

12. Aşağıdaki ifadelerden doğru olanların başındaki kutuya “D”, yanlış olanların başındaki kutuya ise “Y” yazılacaktır.

☐

Çevrede atıklar tarafından sebep olunan istenmeyen değişikliklere kirlilik denir.

☐

Kimyasal maddelerin açığa bırakılması canlı neslini artırır.

☐

Erozyonla en iyi mücadele etme yöntemi ağaçlandırmadır.

Buna göre kutulara sırasıyla hangileri yazılmalıdır ?

A) D – D – Y

B) D – Y – D

C) Y – D – D



Yukarıdaki görselde akvaryum, balık, cam, su, yapay bitki, deniz kumu ve hava motoru vardır.

13. Bu bilgilere göre akvaryumda kaç tane canlı varlık vardır?

A) 3

B) 2

C) 1



14. Yukarıda resimleri verilen canlıların, aşağıda belirtilen özelliklerinden hangileri ortaktır ?

I. Solunum yapma

II. Hareket etme


III. Büyüme

A) I ve II

B) II ve III

C) I, II ve III

15. Aşağıdaki öğrencilerden hangisi “elektrik çarpması” ile ilgili doğru ifade kullanmıştır?



Aküye dokunmak, büyük elektrik çarpmalarına neden olur.



Şehir elektriğinin vücuda teması sonucu elektrik çarpması olur.



Elektrik çarpmasının insan vücuduna zararı yoktur.

3. SINIF KONU KAZANIM KAVRAMA TESTİ

İNGİLİZCE



1. How can I get to school?




- A) You can go by bike.
- B) You can go on foot.
- C) You can take a bus.



2. Verilen resme uygun düşen seçeneği işaretleyiniz.

‘ It is sunny and hot in the ’

- A) desert
- B) rainforest
- C) North Pole

| ANKARA | İZMİR | RİZE |
|---|---|---|
|  |  |  |

3. ve 4. Soruları yukarıdaki tabloya göre cevaplayınız.

3. How is the weather in İzmir?

- A) It is cold and snowy.
- B) It is cool and rainy.
- C) It is hot and sunny .

4. Tabloya göre yanlış olan seçeneği işaretleyiniz.

- A) İzmir is hot and sunny.
- B) Ankara is hot and sunny.
- C) Rize is cool and rainy.

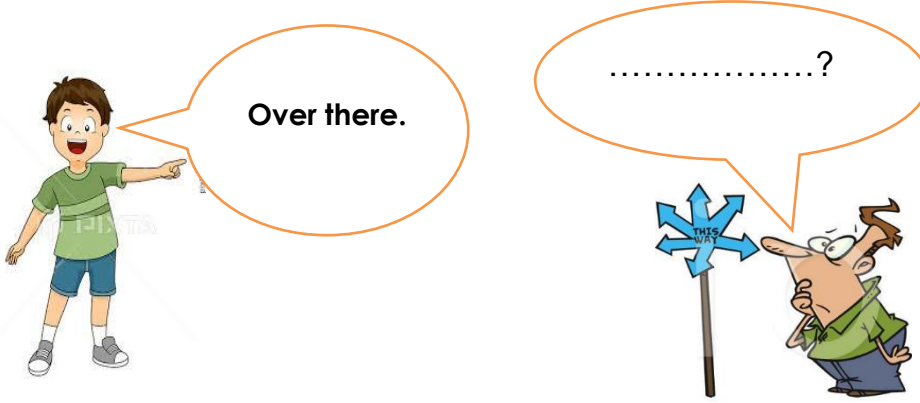
5. Verilen resme göre, konuşma balonunda boş bırakılan yere uygun düşen seçeneği işaretleyiniz.

I'm at the.....

- A) zoo
- B) museum
- C) school



6. Konuşma balonuna uygun düşen seçeneği işaretleyiniz.



- A) How are you?
- B) Where is the museum?
- C) How is the weather?

7.



A:Where is Defne now?

B.She is in the

- A) bedroom
- B) living room
- C) kitchen

8.



Can you sing?

- A) Yes, I can.
- B) No, I can't.
- C) No, I don't

9.



I can

- A) ride a bike
- B) cook
- C) read a book



10. How can I to Istanbul?

- A) get
- B) like
- C) play