


# ERKEN ÖĞRENME

48+

5. hafta 1. gün




- ▶ Görsel Algı ve Dikkat
- ▶ Çizgi Çalışmaları
- ▶ Matematik

Ücretsizdir.

- Ahşap mankeni dikkatle incele. 🔍



- Yukarıdaki ahşap mankenin aynılarını tabloda bul. 🧭
- Daire (O) içine al. ✎



- Lamba ve ışık çizgilerini tamamla. 





## "3" Rakamı

Kaç tane oyuncak tahta at var? Say. 



3



Üç (3)

- 3 rakamlarını bul.  Daire (O) içine al. 

2	3	4
2	1	3

- Resimleri incele.  Nesneleri say. 
- 3 tane olanların yanındaki daireyi (O) **sarı** renge boya. 