

SEVİMLİ FARE

Sevimli farenin adı Fanfa'ydı. Fanfa, kaldırım kenarında yürüyordu. Karşısında büyük bir parça peynir duruyordu. Çok mutlu olmuştu. Peyniri eline aldı ve eve doğru şarkılar söyleyerek yürümeye devam etti.



1. ve 2. soruları metne göre cevaplayalım.

1. Fanfa nerede yürüyordu?

- A. Kaldırım kenarında
- B. Yolun ortasında
- C. Evde

2. Fanfa şarkılar söyleyerek nereye doğru yürüdü?

- A. Okula
- B. Eve
- C. Sokağa

3. Merhaba benim adım
Korku, heyecan ve sevinç bildiren cümlelerin sonunda bulunurum.
Yukarıdaki noktalı yere aşağıdaki noktalama işaretlerinden hangisi gelmelidir?


- A. Nokta
- B. Soru İşareti
- C. Ünlem İşareti

4. Aşağıdaki cümlelerden hangisinin sonuna farklı bir noktalama işareti gelmelidir?

- A. Nerede kaldın
- B. Kaç yaşında olduğunu biliyorum
- C. Nasılsın

5. Aşağıdaki kelime gruplarından hangisi anlam ilişkisi bakımından diğerlerinden farklıdır?

- A. uzun - kısa
- B. kırmızı - al
- C. siyah - beyaz

6.  Aaa! Arkadaşım dışarı çıkmış.


Sinem'in cümlesine aşağıdaki duygulardan hangisi hakimdir?

- A. Mutluluk
- B. Şaşırma
- C. Kızgınlık

7. Aşağıdaki kesme işaretlerinden (') hangisi yanlış kullanılmıştır?

- A. Ali'ler evde kaldı.
- B. Umut'un kalemi kırıldı.
- C. Ankara'dan misafirlerimiz geldi.

8.



Özel adlardan ve rakamlardan sonra gelen ekleri ayırmak için kullanılırım.

Yukarıda hangi noktalama işareti kendini tanıtmıştır?

- A. kısa çizgi (-)
- B. ünlem işareti (!)
- C. kesme işareti (')

9.

Havanın sıcak olması, terlemesine neden oldu.

Yukarıdaki altı çizili sözcüğün zıt anlamlısı hangisidir?

- A. ateş
- B. ılık
- C. soğuk

10. "şişman-zayıf" arasındaki anlam ilişkisi aşağıdaki sözcük çiftlerinden hangisinde yoktur?

- A. uzun - kısa
- B. çok - fazla
- C. ince - kalın

11.



göre



ayağını



uzat



yorganına

Yukarıdaki sözcüklerle anlamlı ve kurallı bir cümle oluşturulursa sıralama nasıl olur?


- A.
- B.
- C.


12. Hangi seçenekte verilen adlar yanlış gruplanmıştır?

Tekil Adlar

Çoğul Adlar

- A. kil kiler
- B. kapı kapılar
- C. tavuk tavuklar

13.  Islak zemin, güvenliğimizi tehlikeye sokar.

 Köpeğimle yürüyüş yapmayı seviyorum.

 Babam bana mor balon aldı.

Yukarıda söylenen cümlelerden hangisinde varlığın bir özelliği belirtilmemiştir?

A. 

B. 

C. 

14. Sarı elbisesini giydikten sonra kahverengi saçlarına renkli toka taktı.

Yukarıdaki cümlede varlıkların özelliklerini belirten sözcüklerin tümü aşağıdakilerden hangisinde verilmiştir?

- A. elbise – saç – toka
- B. giydikten – renkli – taktı
- C. sarı – kahverengi – renkli

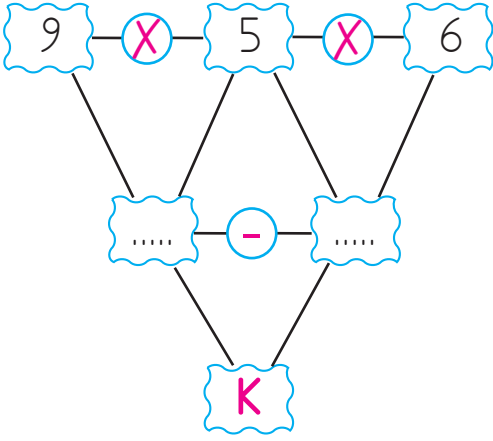
15.

	Seda
	bahçeye
	koştı

Yukarıdaki verilen kelimelerden hangisini kullanmadan cümle oluşturamayız?

- A. 
- B. 
- C. 

1.



Yukarıdaki şemada işlemler sırasıyla yapılırsa "K" yerine hangi sayı yazılır?

- A. 10 B. 15 C. 20

2. Eda elinde bulunan bardakları 4 arkadaşına üçer üçer dağıttı. Dağıttığı bardakların toplamını bulmak için şu işlemi yaptı.

$$3 + 3 + 3 + 3 = 12$$

Bu işlemin sonucunu kısa yoldan bulmak için aşağıdaki işlemlerden hangisini yapabiliriz?

- A. $4 + 8 = 12$
B. $16 - 4 = 12$
C. $4 \times 3 = 12$

3. Aşağıdaki çarpma işlemlerinin hangisinde verilmeyen çarpan diğerlerinden daha küçüktür?

- A. $5 \times \bigcirc = 20$
B. $4 \times \bigcirc = 28$
C. $8 \times \bigcirc = 16$

4. Gamze tanesi 5 lira olan cetvel-lerden 7 tane alıyor. Gamze kaç lira ödemiştir?

- A. 12
B. 35
C. 30

5.



Kalem kutusundaki kalemlerin sayısını hangi işlemle bulabiliriz?

- A. 3×4
B. $3 + 4$
C. $4 + 4 + 4 + 4$

Çikolata 4 ₺	Un 7 ₺
Kek 3 ₺	Pirinç 5 ₺
Su 2 ₺	Bulgur 6 ₺

Yukarıda bir marketin fiyat listesi verilmiştir.

6. ve 7. soruyu yukarıda verilenlere göre çözelim.

6. Hakan 4 tane kek, 3 tane çikolata almıştır. Hakan kaç lira ödemıştır?

A. 7 B. 24 C. 30

7. Lale'nin 32 lirası var. Aşağıdakilerden hangisini alırsa parasının tamamını harcamış olur?

A. 2 paket un, 3 paket bulgur
B. 3 paket pirinç, 4 tane su
C. 4 tane çikolata, 8 tane kek

8. Bir sitede 4 apartman, her apartmanda 8 daire vardır. Site-de toplam kaç daire vardır?

A. 32
B. 20
C. 12

9. ☐ $\times 4 = 24$

☐ $\times 2 = 12$

☐ ile gösterilen sayı kaçtır?

A. 3
B. 6
C. 9

10. bölünen \leftarrow ① $\begin{array}{r} 12 \overline{) 26} \\ \underline{-12} \\ 14 \\ \underline{-12} \\ 20 \\ \underline{-18} \\ 20 \\ \underline{-18} \\ 20 \\ \underline{-18} \\ 20 \end{array}$ \rightarrow ② bölen
③ çıkan
kalan \leftarrow ④ 00

Yukarıdaki işlemde kaç numaralı terim bölme işlemine ait değildir?

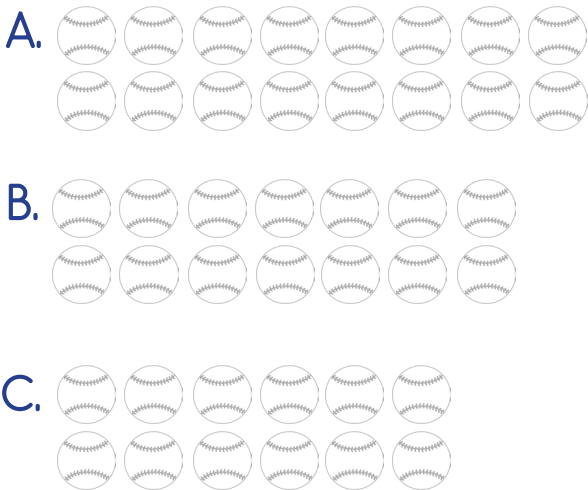
A. ②
B. ③
C. ④



Yukarıdaki balonlar 4 arkadaşla eşit olarak paylaşılacaktır. Her birine kaç balon düşer?

- A. 4 B. 8 C. 12

12. Hangi gruptaki bilyeler üçerli gruplanırsa 4 eşit grup oluşur?



13. 61 metre kumaşın 40 metresini kullandık. Geriye kalan kumaşı 3 eş parçaya ayırdık. Her bir eş parçanın uzunluğu kaç metre olur?

- A. 8
B. 7
C. 9


14. Bir çiftlikteki koyunların ayak sayıları toplamı 28'dir. Çiftlikte kaç koyun vardır?

- A. 7
B. 6
C. 5

15. Bir bölme işleminde bölünen 35, bölen 5 ise bölüm kaçtır?

- A. 30
B. 40
C. 7

1. Aşağıdaki taşıtlardan hangisi farklı yerde hareket eder?



2. Okula gelirken uymamız gereken trafik kuralları aşağıdakilerden hangisidir?

A. Karşıdan karşıya geçerken koşmalıyız.

B. Trafik ışıklarının olduğu yerden karşıya geçmeliyiz.

C. Karşıdan karşıya geçerken araçların arasından geçmeliyiz.

3. Aşağıdakilerden hangisi güvenli oyun alanlarından değildir?

A. Kaldırımlar

B. Okul bahçeleri

C. Parklar

4. Ahmet yolda yürürken bir evin yandığını gördü.

Ahmet hangi numarayı aramalıdır?

A. 112

B. 155

C. 110

5. Dayım dün gece sokakta fenalaşan yaşlı bir amca görmüş. Yardım etmeleri için numaralı telefonu aradığını söyledi.

Dayım hangi numarayı aramıştır?

A. 112

B. 155

C. 110

6. Ulaşım araçlarında yolculuk yaparken emniyet kemeri takmak;

1. Araçtan fırlamamızı önler.
2. Ani frenlerde alınabilecek darbeleri önler.
3. Güvenli yolculuk yapmamızı sağlar.

Bu bilgilerden hangileri doğrudur?

- A. 1 - 2
- B. 1 - 3
- C. 1 - 2 - 3

7.



Yukarıdaki taşıtlardan kaç tanesi karada hareket eder?

- A. 2
- B. 3
- C. 4

8. Aşağıdakilerden hangisi ulaşım araçlarında uyulması gereken kuralardan biridir?




- A. Yüksek sesle konuşmak
- B. Emniyet kemeri takmak
- C. Araç hareket halindeyken ayağa kalkmak

9. Yolculuk sırasında aşağıdakilerden hangisi yapılmamalıdır?

- A. Taşıtları temiz tutmak
- B. Taşıt hareket halindeyken ayağa kalkmamak
- C. Kabuklu yiyecek yemek

10.  İtfaiye  110
 AFAD  120
 Ambulans  112

Yukarıda hangi sembolle gösterilen eşleştirme yanlıştır?

- A. 
- B. 
- C. 

TÜRKÇE

- | | |
|-------|-------|
| 1) A | 11) C |
| 2) B | 12) A |
| 3) C | 13) A |
| 4) B | 14) C |
| 5) B | 15) B |
| 6) B | |
| 7) A | |
| 8) C | |
| 9) C | |
| 10) B | |

MATEMATİK

- | | |
|-------|-------|
| 1) B | 11) A |
| 2) C | 12) C |
| 3) C | 13) B |
| 4) B | 14) A |
| 5) A | 15) C |
| 6) B | |
| 7) A | |
| 8) A | |
| 9) B | |
| 10) B | |

HAYAT BİLGİSİ

- 1) A
- 2) B
- 3) A
- 4) C
- 5) A
- 6) C
- 7) A
- 8) B
- 9) C
- 10) A