

## KIRMIZI ELMALAR

Artık koparılma zamanları gelmişti. Her olgunlaşan kırmızı elma, ağaçtan ayrılmak zorunda kalıyordu. Arkadaşlarından ayrıldıkları için üzgünlerdi. İnsanların yararına koparıldıkları için mutlulardı.



1. ve 2. soruları metne göre cevaplayalım.

1. Kırmızı elmalar ne zaman ağaçtan ayrılmak zorunda kalıyordu?

- A. Olgunlaştıkları zaman
- B. Ağladıkları zaman
- C. Mutlu oldukları zaman

2. Kırmızı elmaların üzgün olmasının nedeni nedir?

- A. Koparılmaları
- B. İnsanlara gitmeleri
- C. Arkadaşlarından ayrılmaları

3. Aşağıdaki kelime gruplarından hangisi anlam ilişkisi bakımından diğerlerinden farklıdır?

- A. kara - siyah
- B. çok - az
- C. yanıt - cevap

4. Annem abimin elindeki poşetleri alıp mutfağa koydu.

Yukarıdaki cümlede aşağıdaki sorulardan hangisinin cevabı yoktur?

- A. Kim
- B. Nereye
- C. Neden

5.

Atatürk'ün doğum yeri ve tarihini söyler misin?

1881 yılında Selanikte doğdu.



Anıl'ın sorusuna Filiz'in verdiği cevaptaki yazım yanlışı hangisidir?

- A. 1881
- B. Selanikte
- C. doğdu



## KİTABIM

Kitap en iyi arkadaş.  
Bana neyi sorsam söyler.  
Ne anlatsam en sonunda,  
Çalış, iyi, doğru ol der.  
Geceleri uyumaz o.  
Beni kaldırır erkenden.  
Okulum kadar güzeldir.  
Kitabı çok severim ben.

Fazıl Hüsnü DAĞLARCA

6, 7 ve 8. soruları şiire göre cevaplayalım.

6. Yukarıdaki şiir kaç dizeden oluşmuştur?

- A. 2
- B. 4
- C. 8

7. Şiirin konusu aşağıdakilerden hangisidir?

- A. Kitapların sıkıcı olması
- B. Kitapların yararı
- C. Kitapların huysuz olması

8. Şiirin yazarı kimdir?

- A. Kitabım
- B. Fazıl Hüsnü DAĞLARCA
- C. Öğretmen

9. Aşağıdaki kelimelerden hangisi satır sonuna yanlış yazılmıştır?

A.



B.



C.



10.

1

Babamla eve döndük.

2

Ormanların çok faydası vardır.

3

Sınıf kurallarına uymalıyız.

Yukarıdaki cümlelerden hangisi, bir metnin ana düşüncesi olamaz?

A. 1

B. 2

C. 3

11. At, aslan ve ayı yarışma yapmaya karar vermişler. Yarışma sonunda adlarının sözlükteki sırasına göre birinci, ikinci ve üçüncü olmuşlar.

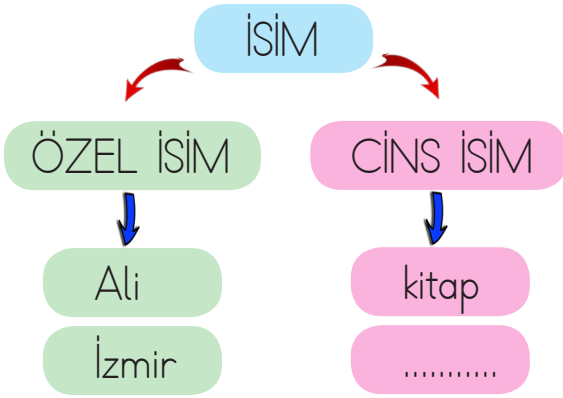
Buna göre hangisi yarışmada ikinci olmuştur?

A. Aslan 

B. Ayı 

C. At 

12.



Yukarıdaki tabloda boş bırakılan yere aşağıdakilerden hangisi yazılamaz?

- A. Baran  
B. Bilgisayar  
C. Sınıf


13. Perşembe günü için bir pılanım var. Cümledeki kelimelerden kaç tanesi yanlış yazılmıştır?

- A. 1  
B. 2  
C. 3

14. Aşağıdakilerden hangisinin zıt anlamlısı yoktur?

- A. kalem  
B. uzun  
C. itmek

15.



Yukarıdaki bulmacada kelimelerin zıt anlamlısı yazılmıştır.

Boş bırakılan yere aşağıdakilerden hangisi yazılabilir?

- A. AYNİ  
B. BOŞ  
C. AĞIR


1.



Yukarıdaki armutları 2 arkadaş eşit olarak paylaşacaktır.  
Her birine kaç armut düşer?

A. 2      B. 4      C. 6

2.



Yukarıdaki balıklar akvaryumlara eşit olarak koyulacaktır.  
Her akvaryuma kaç balık düşer?

A. 2      B. 3      C. 4

3. 35 eriğin 7 tanesini yedim. Kalan erikleri 4 arkadaşına eşit olarak paylaştırdım.  
Her bir arkadaşına kaç erik düşer?

A. 7      B. 6      C. 5

4.

$$20 \div 4$$

$$12 \div 3$$

$$35 \div 5$$


$$20 \div 5$$

$$21 \div 3$$


$$25 \div 5$$

Yukarıdaki bölme işlemlerinden sonuçları aynı olanlar eşleştirilecektir.  
Buna göre doğru eşleştirme nasıl olmalıdır?

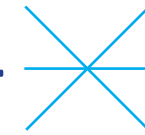
A.



B.



C.



5.



Tahtada verilenlerin bölme işlemi olarak gösterilişi hangisidir?

A.

$$\begin{array}{r} 40 \overline{) 5} \\ -40 \overline{) 8} \\ \hline 00 \end{array}$$

B.

$$\begin{array}{r} 40 \overline{) 8} \\ -40 \overline{) 5} \\ \hline 00 \end{array}$$

C.

$$\begin{array}{r} 30 \overline{) 5} \\ -30 \overline{) 6} \\ \hline 00 \end{array}$$

6. 20'den art arda 4 çıkarılınca "0" kalıyor.

Yukarıda verilen bilgiye göre kaç kere çıkarma işlemi yapılmıştır?

- A. 3      B. 4      C. 5



Yukarıdaki öğrencilerin yaptıkları işlemde sembollerle gösterilen sayıların farkı kaçtır?

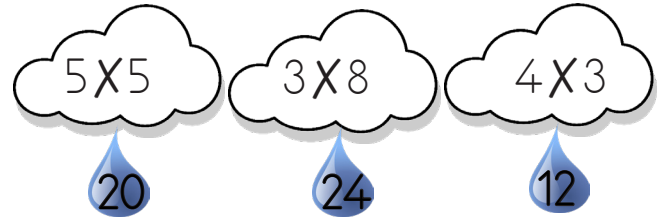
- A. 5      B. 10      C. 15

8. Ayhan her gün marketten 4 yumurta alıyor.

Ayhan kaç gün sonra marketten 24 yumurta almış olur?

- A. 6      B. 4      C. 5

9.



Bulutlardaki işlemlerin sonuçları yağmur damlalarının içinde verilmiştir.

Hangi damlanın içindeki sonuç yanlıştır?

- A. 20      B. 24      C. 12



10.



Barış günde 3 yumurta yemektedir. 1 haftada kaç yumurta yemiştir?

- A. 21      B. 18      C. 12

11. Hangi gruptaki nesneler ikiye bölünebilir?  
gruplanırsa 8 grup oluşur?



12. Aşağıdaki sayılardan hangisi, rakamları toplamına bölünürse bölüm 4 olur?

A. 12      B. 15      C. 20

13. 4 birlik ve 2 onluktan oluşan ceviz 4 kişiye paylaştırılırsa, her birine kaç ceviz düşer?

A. 10      B. 8      C. 6

14.

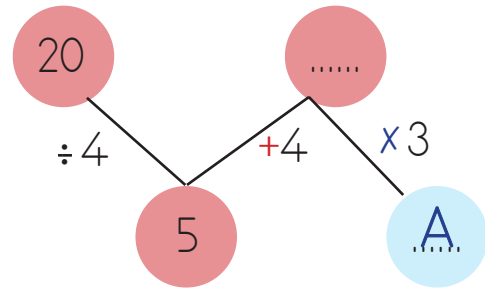


Canan yukarıdaki paraları kumbarasına her gün eşit miktarda para atarak 4 günde biriktirdi.

Canan her gün kumbarasına kaç lira atmıştır?

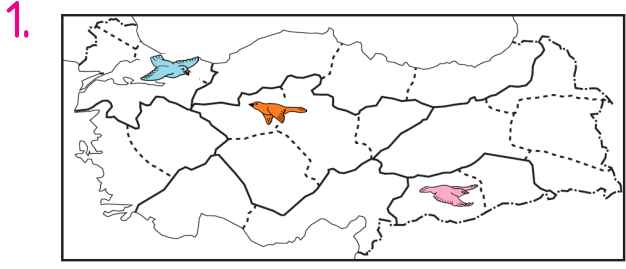
A. 6      B. 7      C. 8

15.



Yukarıdaki işlem sırasına göre "A" yerine aşağıdakilerden hangisi gelir?


A. 20      B. 27      C. 15



Hangi kuş ülkemizin başkenti üzerindedir?

- A. B. C.

2. Aşağıdaki görsellerden hangisinde İstiklal Marşı'mızın yazarı verilmiştir?



3. Aşağıdakilerden hangisi ülkemizin etrafında olan bir deniz değildir?

- A. Karadeniz  
B. Akdeniz  
C. Hazar Denizi

4. Asya ve Avrupa kıtalarını birleştirir.

İtalya, ülkemizin komşusudur.

Karadeniz ülkemizin kuzeyindedir.

Yukarıdakilerden hangileri ülkemizle ilgili doğru bilgidir?

- A.   
B.   
C.

5.



? yerine ne gelmelidir?

- A. Bayrak  
B. İstiklal Marşı  
C. Millet

6. Annesinin adı Zübeyde Hanım'dır.  
Babasının adı Ali Rıza Efendi'dir.  
Dolmabahçe'de doğmuştur.

Yukarıda Atatürk ile ilgili verilen bilgilerden kaç tanesi doğrudur?

- A. 1 B. 2 C. 3

7. Bayrağımıza ve İstiklal Marşı'mıza saygımızı, törenlerde aşağıdakilerden hangisini yaparak gösteririz?

- A. "Hazır ol" duruşunda bekleyerek  
B. Yanımızdakini rahatsız ederek  
C. Konuşarak

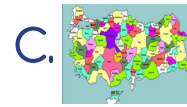
8. Atatürk ne zaman, nerede doğmuştur?

- A. 1938, İstanbul'da  
B. 1881, Dolmabahçe'de  
C. 1881, Selanik'te

9.



Yukarıdakilerden hangisi şeref köşesinde bulunmaz?



10. Aşağıdakilerden hangisi Atatürk'ün okuduğu okullar arasında değildir?

- A. Cumhuriyet İlkokulu  
B. Şemsi Efendi İlkokulu  
C. Mahalle mektebi



## TÜRKÇE

- |       |       |
|-------|-------|
| 1) A  | 11) C |
| 2) C  | 12) A |
| 3) B  | 13) B |
| 4) C  | 14) A |
| 5) B  | 15) C |
| 6) C  |       |
| 7) B  |       |
| 8) B  |       |
| 9) C  |       |
| 10) A |       |

## MATEMATİK

- |       |       |
|-------|-------|
| 1) B  | 11) B |
| 2) B  | 12) A |
| 3) A  | 13) C |
| 4) A  | 14) A |
| 5) A  | 15) B |
| 6) C  |       |
| 7) C  |       |
| 8) A  |       |
| 9) A  |       |
| 10) A |       |

## HAYAT BİLGİSİ

- 1) B
- 2) B
- 3) C
- 4) B
- 5) A
- 6) B
- 7) A
- 8) C
- 9) C
- 10) A