

SİNEK KUŞU

Sinek kuşları dünyanın en küçük kuşlarıdır. Ayrıca en hızlı kanat çırpma kuşlarıdır. Hızlı kanat çırpışları için kanatlarını göremeyiz. Uzun, iğne gibi gagaları vardır. Çiçeklerin içindeki sıvıyı gagaları sayesinde alabilirler.



1. ve 2. soruları metne göre cevaplayalım.

1. Aşağıdakilerden hangisi sinek kuşları ile ilgili değildir?

- A. Hızlı kanat çırpmaları
- B. Çok küçük olmaları
- C. Kalın gagalarının olması

2. Çiçeklerin içindeki sıvıyı nasıl alırlar?

- A. Gagaları sayesinde
- B. Kanatları ile
- C. Boyları küçük olduğu için

3. "L" harfinden önce ve sonra gelen harfler hangi seçenekte verilmiştir?

- A. K - M
- B. M - N
- C. J - K

4.



Kızım ile birlikte
Gaziantep'e gittik.

Berna'nın söylediği cümlede hangi kelime iki kelimenin birleşmesiyle oluşmuştur?

- A. Gaziantep
- B. birlikte
- C. gittik

5. Aşağıdaki cümlelerden hangisinin sonunda nokta kullanılmalıdır?

- A. Yarın parka gidecek misin
- B. Kitap okumayı seviyorum
- C. Hey, canım acıdı

6. İstanbul'da dün akşam çok şiddetli bir yağmur yağdı. Yukarıdaki cümlede aşağıdakilerden hangisinin cevabı yoktur?

A. Nerede
B. Ne zaman
C. Kim

7.

İhtiyar adam parkta gazete okuyordu.

Yukarıdaki cümlede altı çizili kelimenin eş anlamlısı aşağıdaki cümlelerin hangisinde kullanılmıştır?

A. Genç çocuk hızlı yürüyordu.
B. Yaşlı kadın eve geçti.
C. Yavaş yavaş ilerledi.

8. Aşağıdakilerden hangisinde kesme işareti yanlış kullanılmıştır?

A. Ali'ler
B. Sinan'ın
C. İstanbul'a

9. Aşağıdaki öğrencilerden hangisi "yüz" kelimesini "surat, çehre" anlamında kullanmıştır?

A.  Sınavdan yüz aldım.

B.  Havuzda yüzdüm.

C.  Yüzümde sivilce var.

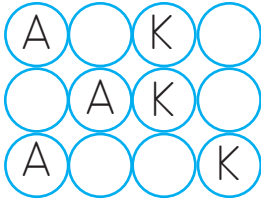
10.

Özlem kuşlarına kitap okudu.

Yukarıda altı çizili kelimelerle ilgili verilen eşleştirmelerden hangisinde hata yapılmıştır?

A. Özlem → Cins ad
B. kuşlarına → Çoğul ad
C. kitap → Tekil adı

11.



Yukarıdaki bulmacada her sırada kelimeler verilmiştir. Kelimelerin eksik harflerini tamamladığınızda hangi kelime bulmacada yer almaz?

- A. ATKI
- B. AYAK
- C. AKAR

12.

1. Annem, babam, ben ve kardeşim sinemaya gideceğiz.

2. Kitap okumak kelime hazinemizi güçlendirir.

3. Çevremizdeki insanlara saygılı davranmalıyız.

Yukarıdaki cümlelerden hangisi bir metnin ana düşüncesi olmaz?

- A. 1
- B. 2
- C. 3

13. Aşağıdaki özel isimlerden hangisine gelen noktalama işaretinde yanlışlık yapılmıştır?

- A. Ankara'lı arkadaşım bize geldi.
- B. Sabri'nin köpeği var.
- C. Adana'ya gidelim mi?

14. Aşağıdaki cümlelerin hangisinde özel ad kullanılmıştır?

- A. Sokaktaki kediye yemek verdim.
- B. Filler zıplayamaz.
- C. Arda kaplumbağa besliyor.

15.

Eş anlamlı → Al - kırmızı

Zıt anlamlı → bin

Eş sesli → İyi - kötü

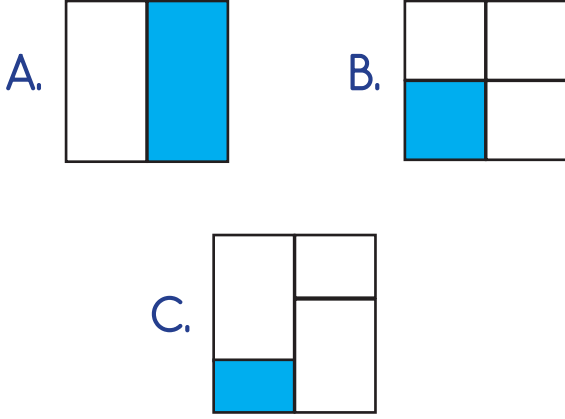
Hangi renklerde yazılı kelimelerin yeri değişirse tablo doğru olur?

A. Al bin

B. Al bin

C. Al bin

1. Aşağıdaki şekillerin boyalı kısımlarından hangisi çeyreği göstermektedir?



3. Kerem 20 lirasının çeyreği ile çikolata aldı. Geriye kaç lirası kaldı?

A. 5 lira B. 10 lira
C. 15 lira

4.

3 tam 6 çeyrek eder.

2 tam 4 yarım eder.

8 yarım 4 tam eder.

Tabloda hangi renkle gösterilen ifade yanlıştır?

A.  B.  C. 

2.




Yukarıdaki meyve tabağında 12 çeyrek elma vardır.

Meyve tabağında kaç bütün elma vardır?

A. 6 B. 4
C. 3

5.




Yukarıdaki çeyrek karpuzlar kaç bütün karpuz eder?

A. 6 B. 4
C. 3


6. Kitaplığımdaki kitapların yarısını okudum. Okumadığım 6 kitabım kaldı. Kitaplığımda kaç kitap vardır?

A. 6 B. 12 C. 18

7. Yanda verilen şekil için hangisi söylene-
mez?



- A. Şeklin yarısı boyanmıştır.
B. Şekil 4 eş parçaya ayrılmış.
C. Şeklin bir eş parçası daha boyanırsa yarısı boyanmış olacak.



Yukarıdaki yarım kiviler kaç bütün kivi eder?

A. 3 B. 6
C. 9

9.




Bir deste elmanın 2 tanesini yedim. Geri kalan elmaların çeyreğini arkadaşıma verdim.



Emre'nin kaç elması kalmıştır?

A. 6 B. 4 C. 2




10.






Yukarıdaki bütün limonlar aşağıdakilerden hangisine eşit değildir?



11.

÷	4	3	2
21			
16			
4			

Yukarıdaki tabloda verilen işle-
me göre  +  +  İşleminin
sonucu kaçtır?

- A. 18 B. 14
C. 16

12.



Ağaçtaki elmaların 3 tanesi De-
niz'in önüne düşmüştür.
Ağaçta kalan elmalar kaç yarım
elma eder?

- A. 8 B. 4 C. 16

13.



Yukarıdaki çeyrek pastalar eşleri ile
birleştirilerek yarım pastalar oluştu-
ruluyor.

Kaç yarım pasta oluşur?

- A. 9 B. 15 C. 18

14. Bir bölme işleminde bölen 6, bö-
lüm 3 ise bölünen kaçtır?

- A. 2 B. 18
C. 10

15. Asel elindeki 24 cevizi 4 arka-
daşına eşit olarak paylaşacaktır.
Her arkadaşına kaç ceviz düşer?

- A. 6 B. 20
C. 28

1. Aşağıdakilerden hangisi ülkemize ait bir yemek türüdür?



2. ● Halk oyunları
● Yemek
● Giyim


Yukarıdakilerden kaç tanesi kültürel miras öğelerindendir?

- A. 1 B. 2 C. 3

3. Hangisi, geleneklerimiz arasında değildir?

- A. Düğün törenleri
B. Yağlı güreş
C. Hentbol

4. Aşağıdakilerden hangisi kültürel miras öğelerinden değildir?



5. Bir şeyi atalarımızdan gördüğümüz gibi yapmaya devam etmek

Eskiden beri sürekli yapılan alışkanlıklardır.

Atalarımızın söylediği sözlerdir.

Hangisinin tanımı yukarıda verilmemiştir?

- A. Gelenek
B. Görenek
C. Kültür

6.



Yaşadığım yer Türkiye'nin en güneyindedir. Künefesi meşhurdur.

Emre'nin anlattığı yer neresidir?

- A. Hatay
- B. Adana
- C. İstanbul

7.



Yukarıda yöresel çalgılarımızın altındaki kutucuğa "+" yöresel olmayanların altındaki kutucuğa "-" konulursa nasıl bir tablo oluşur?


- A. + + +
- B. - - +
- C. - + +

8.




Yukarıdaki il ve yemek eşleştirmesi nasıl olmalıdır?


A.



B.



C.



9. Aşağıdakilerden hangisi yöresel oyunlarımızdan değildir?

- A. Dans
- B. Zeybek
- C. Halay

10. Arzun'un yaşadığı yerde Dolmabahçe Sarayı ve Galata Kulesi vardır. Arzu hangi şehirde yaşamaktadır?

- A. Konya
- B. Mardin
- C. İstanbul

TÜRKÇE

- | | |
|-------|-------|
| 1) C | 11) C |
| 2) A | 12) A |
| 3) A | 13) A |
| 4) A | 14) C |
| 5) B | 15) A |
| 6) C | |
| 7) B | |
| 8) A | |
| 9) C | |
| 10) A | |

MATEMATİK

- | | |
|-------|-------|
| 1) B | 11) C |
| 2) C | 12) A |
| 3) C | 13) A |
| 4) A | 14) B |
| 5) C | 15) A |
| 6) B | |
| 7) A | |
| 8) C | |
| 9) A | |
| 10) C | |

HAYAT BİLGİSİ

- 1) C
- 2) C
- 3) C
- 4) C
- 5) C
- 6) A
- 7) C
- 8) B
- 9) A
- 10) C