

TEST

1 - Aşağıdakilerden hangisiyle sıvıları ölçemeyiz ?

A)



B)



C)



2 -



~



Zeynep , yukarıdaki görselde verilen sürahi ve borcam tepsisine beşer bardak su koyuyor .


Kaplardaki su seviyeleri ile ilgili verilen bilgilerden hangisi doğrudur ?

A) Sürahideki su seviyesi borcam tepsisinden daha yüksektir .

B) Borcam tepsisindeki su seviyesi sürahidan daha yüksektir .

C) Sürahi ve borcam tepsisindeki su seviyesi eşittir.

3 - Yandaki akvaryumu aşağıdaki kaplardan



hangisiyle daha kısa sürede doldurabiliriz ?

A)



B)



C)



4 - Yandaki su kovası 10 tane maşrapa ile dolmaktadır.



Kovanın yarısını doldurmak için kaç maşrapa su koymamız gerekir ?

A)



B)



C)



TEST

5 -



Yukarıdaki sürahi 8 bardak meyve suyu almaktadır.

Annem misafirlere 5 bardak ve 1 sürahi meyve suyu ikram ettiğine göre toplam kaç bardak meyve suyu ikram etmiştir ?

- A) 6 B) 13 C) 16

6 -



Yukarıdaki görselde , yarım su bardağındaki limonata miktarı bir çay bardağındaki su miktarına eşittir.

Buna göre , 7 su bardağı limonata tüketen bir aile , kaç çay bardağı limonata tüketmiş olur ?

- A) 8 B) 12 C) 14

7 -



Bir kutu süttten 5 bardak süt çıkmaktadır . 3 kutu süttten kaç bardak süt çıkar ?

- A) 8 B) 15 C) 18

8 -



Yukarıdaki çocuk havuzunu ; Nehir 20 defada , Sinem 13 defada , Serra 17 defada dolduruyor .

Buna göre , hangi çocuğun kabı en küçüktür ?

- A) Nehir B) Sinem
C) Serra

9 -



Bir çaydanlıktan 10 bardak çay çıkmaktadır . 3 çaydanlıktan kaç bardak çay çıkar ?

- A) 30 B) 13 C) 7

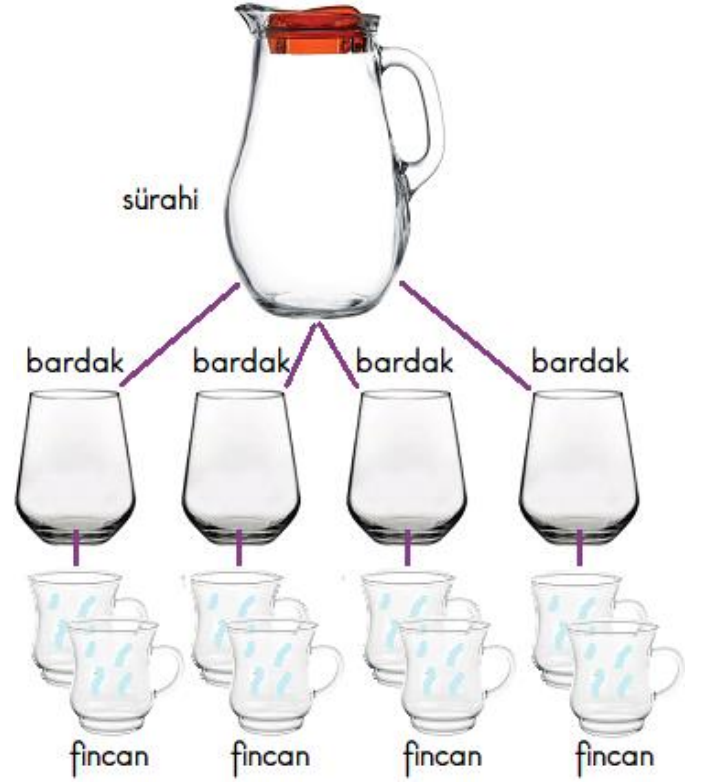
10 -



Yukarıdaki kaplarla ilgili verilen ifadelerden hangisi doğrudur ?

- A) 1. şişedeki sıvı miktarı , 3. şişedeki sıvıdan daha fazladır.
B) 3. şişedeki sıvı miktarı , 2. şişedeki sıvıdan daha çoktur.
C) 2. şişedeki sıvı miktarı , 4. şişedeki sıvıdan azdır.


11 -



Yukarıdaki görseldeki ; sürahi bardak ve fincan için aşağıdaki ifadelerden hangisi yanlıştır ?

- A) 1 sürahi 4 bardak su alır.
B) 2 fincan su 4 bardağı doldurur.
C) 1 sürahi 8 fincan su ile dolar.

12 -



Yukarıdaki görsele göre 3 bardak meyve suyu kaç portakal sıkılarak elde edilir ?

- A) 6 B) 9 C) 12