

TEST

1 - Aşağıdakilerden hangisi diğerlerinden daha hafiftir ?

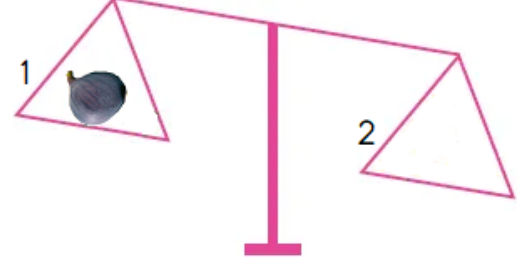
A)

B)

C)



3 - Aşağıdaki terazinin 2 numaralı kefesinde aşağıdakilerden hangisi olabilir ?



A)

B)

C)



2 - Aşağıdaki hayvanlardan en ağır olanı hangi seçenekte verilmiştir ?

A)

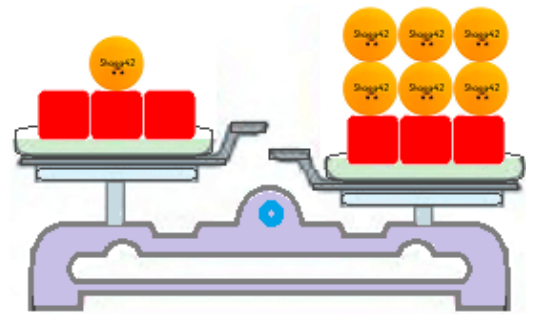
B)



C)



4 -



Yukarıdaki terazinin dengede olması için sol kefeye kaç tane daha pinpon topu konması gerekir ?

A) 7

B) 6

C) 5

TEST

5 - Aşağıdaki tabakları en ağırdan başlayarak sıralarsak ikinci sırada hangisi olur ?

A)



B)



C)



6 - Aşağıdaki nesnelerden hangisi yandaki abaküsten daha ağırdır ?



A)



B)



C)




7 - Aşağıdaki görsellerden hangisinde tahterevalli yanlış yöne eğilmiştir ?


A)



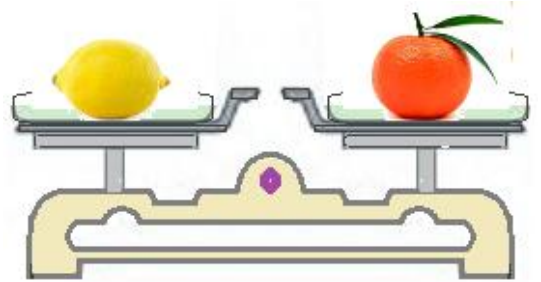
B)



C)



8 -



Yukarıdaki terazinin dengede durmasının nedeni nedir ?

A) Limonun , mandalınadan daha ağır olması .

B) Mandalinanın , limondan daha hafif olması .

C) Limon ile mandalınanın aynı ağırlıkta olması .

TEST

9 - Aşağıdakilerden hangisi hafiften ağıra doğru bir şekilde sıralanmıştır ?

A)



B)



C)



10 - “ İnci , Sudenaz ‘dan hafiftir. Azra , Sudenaz ‘dan ağırdır. “

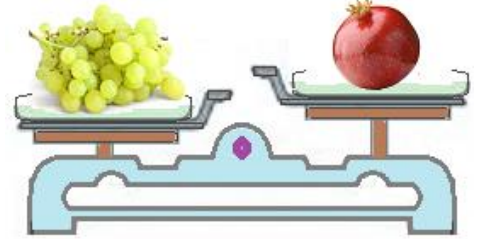

Buna göre en ağır olan hangisidir ?

A) Sudenaz

B) Azra

C) İnci

11 -



Yukarıda verilen görsele göre en ağır meyve hangisidir ?

A) Elma

B) Nar

C) Üzüm

12 -



Yukarıda verilen limonata şişelerinin ağırdan hafife doğru sıralanışı hangi seçenekte verilmiştir ?

A) 4 - 3 - 1 - 2

B) 3 - 4 - 1 - 2

C) 2 - 1 - 3 - 4