

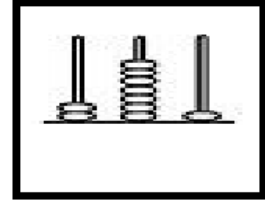
ADI SOYADI:

Şekillerle kesirleri eşleştirelim.

	$\frac{4}{7}$
	$\frac{3}{8}$
	$\frac{2}{8}$
	$\frac{4}{9}$
	$\frac{3}{9}$
	$\frac{2}{6}$

Şekillerde gösterilen kesirleri yazalım.

MINİ TEST



Gösterilen sayı hangisidir?

- A) 271 B) 281 C) 291

Hangi sayının okunuşu yanlış verilmiştir?

- A) Dokuz yüz doksan →999
B) Yüz on yedi →117
C) İki yüz elli iki →252

24	32	✿	48			☆			♡
----	----	---	----	--	--	---	--	--	---

Yukarıdaki ritmik sayma ileriye sayıldığında

✿ + ☆ + ♡ çarpımı kaç olur?

- A) 238 B) 208 C) 198



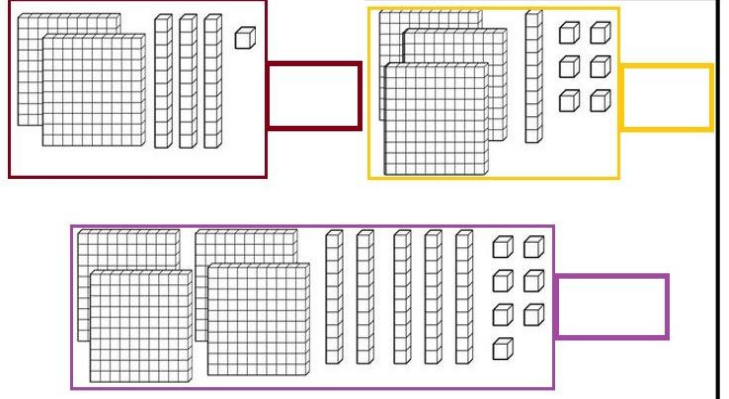
Yukarıdaki saat öğleden sonra kaç göstermektedir?

- A) 18.30 B) 17.30 C) 5.30

Ok yönlerine ve sayılara göre ritmik saymaları tamamlayalım.

7~	21						
↺5	95						
6~	12						
↺8	80						
9~	36						

Sayıları yazalım.



3. SINIF MATEMATİK TEKRAR 3

Altı çizili rakamların basamak değerlerini yazalım.

407 _____


407 _____

407 _____

Tek olan sayıları maviyle, çift olan sayıları yeşille boyayalım.

123	805	874	213	916	907	604
279	422	456	563	900	380	672
578	518	120	224	431	333	744
657	256	999	557	101	100	123
111	230	757	890	222	429	223

Verilen zamanın 2 saat 5 dakika sonrasını yazalım.



Problemleri gözelim sonuçlarını bulalım.

Üç basamaklı en büyük sayının 253 eksiğinin yüzler basamağı kaçtır?

125, 291 ve 317 sayılarının toplamı 600 sayısından kaç fazladır?

3, 7, 5

Yukarıdaki rakamları kullanarak yazılabilecek üç basamaklı en büyük ve en küçük sayının farkı kaçtır?

Yüzler basamağı 4, birler basamağı 7 olan üç basamaklı sayının; aynı rakamlarla yazılan üç basamaklı en küçük sayıyla toplamı kaçtır?

