

ADI SOYADI:

Sayıların tek veya çift olmasına göre uygun rakamı yazalım

2	7		ÇİFT
1	9		TEK
9	4		TEK
5	0		ÇİFT
8	3		ÇİFT
4	6		TEK
1	2		ÇİFT
9	9		TEK
8	2		TEK
3	1		ÇİFT
1	2		ÇİFT
4	0		ÇİFT
5	2		TEK
8	7		ÇİFT
7	8		TEK

Romen rakamlarına karşılık gelen sayıları aynı renge boyayalım

12	II	VI	7	5
XVI	XI	4	20	XIV
III	8	14	X	1
6	XVII	IX	V	XIII
17	XV	XIX	19	18
13	10	16	XII	3
11	VII	IV	XVIII	9
XX	I	2	15	VIII

MINİ TEST

13- ? - 27- 34- ? - 48- 55-62

? yerlerine gelecek sayıların çarpımı kaçtır?

A) 620 B) 820 C) 840

Hangi sayının Romen rakamıyla yazılışı yanlış verilmiştir?

A) XVI →16

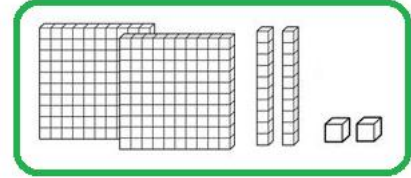
B) XIX →19

C) XI →9

234	403	589	931	873	136
-----	-----	-----	-----	-----	-----

Yukarıdaki sayılardan kaç tanesinin onlar basamağı 30 ' dur?

A) 5 B) 4 C) 3



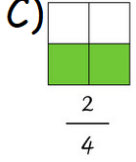
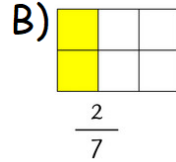
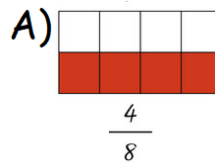
Yukarıdaki sayı hakkında hangi ifade doğrudur?

A) Basamak değerleri aynıdır.

B) Sayı değerleri aynıdır.

C) Birler ve yüzler basamağı farklı rakamlıdır.

Aşağıdaki kesirler ve şekillerden hangisinde yanlışlık yapılmıştır?



İşlem sonuçlarını bulalım, sonuçların en yakın yüzlüğüne yazalım.

65	684	456
+75	+254	+349
<div style="border: 1px solid black; width: 40px; height: 30px;"></div>	<div style="border: 1px solid black; width: 40px; height: 30px;"></div>	<div style="border: 1px solid black; width: 40px; height: 30px;"></div>
↓	↓	↓
<div style="border: 2px solid yellow; width: 40px; height: 30px;"></div>	<div style="border: 2px solid yellow; width: 40px; height: 30px;"></div>	<div style="border: 2px solid yellow; width: 40px; height: 30px;"></div>

Sayılardan tek olanlara T, çift olanlara Ç yazalım.

3. SINIF MATEMATİK TEKRARI 4

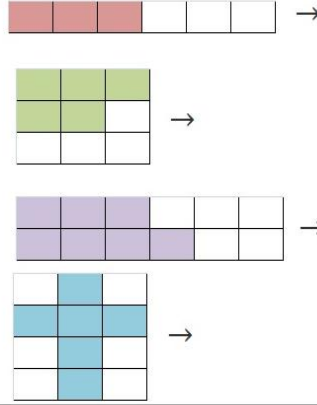
126	Ç
579	T
482	
117	
360	
892	
563	

674	
900	
535	
281	
672	
901	
573	

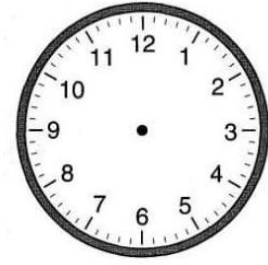
İşlemlerle sonuçları aynı renge boyayalım.

3 x 100	17 x 10	50
280	13 x 10	600
8 x 10	25 x 10	90 x 10
1 x 100	250	80
60 x 10	300	28 x 10
100	130	170
900	5 x 10	♥

Verilen şekilleri kesir şeklinde yazalım.



Verilen zamanın 55 dakika sonrasını çizerek gösterelim.



17 : 25

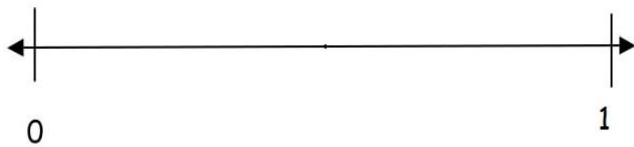
Romen rakamları ile sayıları eşleştirelim.

IV	7
XX	20
XIX	15
V	4
VII	19
XV	5

Verilen sayılardan başlayarak ileriye doğru sayılar kadar ilerleyelim.

8, _____
 9, _____
 4, _____
 5, _____
 6, _____
 7, _____

Okunuşu verilen kesri sayı doğrusunda gösterelim.



üç bölü sekiz

Örüntüye göre kutucuklara gelecek sayılar kadar * çizelim.

