



# 5.Sınıf

## Çalışma Fasikülü







# SÖZEL BÖLÜM

## 1. Aşağıda verilen kelimeleri eş anlamlılarıyla eşleştiriniz.

1. sözcük	a. tören
2. millet	b. sıra
3. karşıt	c. sıhhat
4. önder	d. eksik
5. noksan	e. gülünç
6. kanun	f. cevap
7. yanıt	g. doğa
8. sağlık	h. kelime
9. tabiat	ı. hız
10. vilayet	j. delil
11. sürat	k. lider
12. komik	l. ulus
13. merasim	m. il
14. kanıt	n. yasa
15. dizi	o. zıt

## 2. Aşağıdaki cümlelerde altı çizili olan sözcüklerin zıt anlamlılarını yazınız.

- a) Yoksul insanların hikâyesini anlatıyordu öykülerinde.
- b) Eski yazılarımı bir kitapta toplamayı düşünüyorum.
- c) Siyah bir kaleme ihtiyacım var resmimi bitirmek için.
- d) Aşağı katta tadilat varmış.
- e) Gülmek herkese çok yakışıyor.
- f) Bence iyi bir ödülü hak ettim bu başarıyla.
- g) Bu yokuşu çıkma öyle kolay değil.

# TÜRKÇE

3. Aşağıda kelimelerden eş sesli olanları işaretleyiniz.

Kır	Bak	Dal	Güz	Git
Yol	At	Aş	Yaz	Söyle

4. Aşağıdaki tabloda altı çizili sözcüklerin hangi anlamda kullanıldığını ilgili kutucukta işaretleyiniz.

	GERÇEK	MECAZ
1. Bana neden bu kadar <u>soğuk</u> davrandığını anlamadım.		
2. <u>Tatlı</u> sözleriyle yine gönlümü almayı bildi.		
3. Bu kadar <u>ağır</u> eşyayı ben tek başıma taşıyamam.		
4. Annemin yaptığı <u>tatlıyı</u> herkes pek beğendi.		
5. <u>Soğuk</u> havalarda kalın giysiler giymek gerekir.		
6. Nerelere <u>daldın</u> gittin yine, beni duymuyorsun bile.		
7. Söylediği <u>ağır</u> sözlerle kalbimi kırdı.		
8. Geçen yıla göre yaz mevsimi bu yıl daha <u>sıcak</u> geçti.		
9. Söylediği sözlerle çok <u>kırıldım</u> doğrusu.		
10. Baharla birlikte ağaçların <u>dalları</u> yemyeşil oldu.		

5. Ela bu haftaki derste EBA TV’den yazılışları farklı, anlamları aynı olan kelimelere eş anlamlı kelimeler dendiğini öğrenmişti. Bu durumda Ela, aşağıda verilen eş anlamlı kelimeleri eşleştirdiğinde hangisinin eş anlamlısını bulamaz?

1) şiir	a) ayçiçeği
2) tayyare	b) beygir
3) günebakan	c) tekdüze
4) at	ç) nazım
5) sürekli	d) uçak
6) sıradan	e) küs
7) dargın	f) yurt
8) millet	g) devamlı
9) vatan	ğ) halk

# TÜRKÇE

## 6 ve 7. soruları aşağıdaki metne göre cevaplayınız.

Tonyukuk Yazıtı tarihî bir belge olmanın yanı sıra Türkçe yazılmış ilk kaynaklardan biri olduğu için Türk dilinin özelliklerini yansıtmaları bakımından dilbilim ve edebiyat açısından da önemli bir kaynaktır. Yazıt ayrıca dil ve anlatım özellikleri bakımından birtakım folklorik unsurlar da içeriyor. Örneğin Tonyukuk Yazıtı'nın 13. ve 14. satırlarında bir şeyin ince olunca kolaylıkla büküleceği ve kırılacağı, kalın olursa parçalanmasının güçleşeceği yazılıdır. Yüzyıllar boyunca nesilden nesile aktarılan Tonyukuk'un sözleri bir halk hikâyesine de konu olmuştur.

Hikâyede ihtiyar bir köylü, birbiriyle iyi geçinemeyen oğullarını çağırıp onlara ince birer dal verir ve kırmalarını ister. Oğullar ince dalları kolaylıkla kırar. Köylü bu defa onlara demet hâline getirdiği ince dalları verir ve kırmalarını ister. Ne var ki bu defa oğulları ellerine tutuşturulan demetlerdeki ince dalları kıramaz. İhtiyar köylü oğullarına, Vezir Tonyukuk'un 1300 yıl önce yazıtında yer verdiği sözle açıklama yapar: "Tek başınıza birer ince dal gibisiniz, ayrı durursanız sizleri kırmak kolay olur. Bir arada bulunur, birlik olursanız güçlü olursunuz" der. Aynı durumu betimlemek için dilimizde "Birlikten kuvvet doğar" ve "Bir elin nesi var, iki elin sesi var" benzeri sözler de kullanılır.

Yaşadığı dönemin en tecrübeli devlet adamlarından biri olan Tonyukuk tarafından aktarılan, Türk dili, tarihi ve kültürü açısından büyük öneme sahip bu eserin dikilmesinin 1300. yıl dönümü kutlu olsun!


## 6. Anlamları verilen yukarıdaki metinde geçen sözcükleri bulmacadaki yerlerine yazınız.

### Soldan Sağa

1. Araştırma ve incelemede yararlanılan belge, referans.
2. Bağlanarak oluşturulmuş deste, bağlam.
4. Kendi cinsinden olanlara göre dar ve kalınlığı az olan, kalın karşıtı.
5. Bir topluma veya halk topluluğuna özgü düşünce ve sanat eserlerinin bütünü.
6. Kuşak sözcüğünün eş anlamı.
9. Görüş, bakım, yön, anlayış biçimi

### Yukarıdan Aşağıya

1. Fiziksel güç, takat.
3. Tecrübesi olan, görmüş geçirmiş.
7. Bir sayfa üzerinde yan yana gelen kelimelerden oluşan ve alt alta sıralanmış her bir dizi.
8. Ağacın gövdesinden ayrılan kollardan her biri.



7. Yukarıdaki öyküde geçen sözcüklerle ilgili aşağıda cümleler verilmiştir. Cümlelerin karşlarına Doğru(D) veya Yanlış (Y) olarak yazınız.

CÜMLELER	DOĞRU/YANLIŞ
1. “Örneğin Tonyukuk Yazıtı’nın 13. ve 14. satırlarında bir şeyin ince olunca kolaylıkla büküleceği ve kırılacağı, kalın olursa parçalanmasının güçleşeceği yazılıdır.” Cümlesinde karşıt anlamlı sözcükler vardır.	
2. “Yüzyıllar boyunca nesilden nesile aktarılan Tonyukuk’un sözleri bir halk hikâyesine de konu olmuştur.” cümlesinde “yüzyıl” yerine “asır”, “hikâye” yerine öykü sözcüklerini getirebiliriz.	
3. “Tek başınıza birer ince dal gibisiniz, ayrı durursanız sizleri kırmak kolay olur.” cümlesinde eş sesli sözcük yoktur.	
4. “Birlikten kuvvet doğar” cümlesindeki “kuvvet” sözcüğü fizik terimi olarak kullanılmıştır.	
5. “Tek başınıza birer ince dal gibisiniz, ayrı durursanız sizleri kırmak kolay olur.” cümlesinde geçen “kırmak” sözcüğü mecaz anlamıyla kullanılmıştır.	

- 1- Öğüt
- 2- Armağan
- 3- Sene
- 4- Yoksul
- 5- Öneri

- A- Yıl
- B- Hediye
- C- Fakir
- D- Nasihat
- E- Teklif

8. Mavi kutudaki kelimelerle sarı kutudaki kelimeler eş anlamlı olarak eşleştirildiğinde aşağıdaki sıralamalardan hangisi doğru olur?

- A) 1-A 2-C 3-E 4-D 5-B
- B) 1-B 2-C 3-D 4-E 5-A
- C) 1-C 2-B 3-A 4-E 5-D
- D) 1-D 2-B 3-A 4-C 5-E

# TÜRKÇE

9. Ara sıra beni arayıp hatırlamı sorardı.

**Altı çizili sözün yerine aşağıdakilerden hangisi getirilirse cümlemin anlamı değişir?**

- A) Kimi zaman
- B) Arada bir
- C) Daima
- D) Bazen

10. Y : “Fakir – Yoksul - Zengin”

Z : “ .....- ..... - ..... ”

**Y bölümündeki kelimeler belli bir kurala göre dizilmiştir. Aynı kurala göre Z bölümüne hangi kelimeler yazılmalıdır?**

- A) Ak- Beyaz- Al
- B) İhtiyar– Genç- Yaşlı
- C) Al- Alma- Ver
- D) Yaş– Islak- Kuru

11. Aşağıdaki cümlelerde altı çizili kelimelerden hangisinin eş seslisi yoktur?




- A) Elin lafına bakıp bana küstü.
- B) Durmadan bana öğüt veriyor.
- C) Yaşadıklarından ders çıkarmalısın.
- D) Kitaplarını arı bir Türkçe ile yazıyor.

12. “Sonbahar mevsiminde  
İncir, üzüm bol olur.  
Yağmur, çamur çoktur da,  
Yerler yaprak doludur.”

Aşağıdaki cümlelerin hangisinde verilen dördlükteki altı çizili kelimelerin zıt anlamlısı yoktur?

- A) Az zamanda çok iş yaptık.  
B) Boş kutuları az kişiyle taşıdık.  
C) Bu sıcakta dar pantolon giyme.  
D) Az su içerek zayıflayamazsın.

13.

SÖZCÜK	EŞ ANLAMLISI	ZIT ANLAMLISI
Yaşlı		Genç
	Süratli	Yavaş
Harp	Savaş	

Yukarıdaki tabloda sözcükler ve onların eş ve zıt anlamlıları yerleştirilmiştir. Ancak bazı bölümler boş bırakılarak bir simge ile gösterilmiştir.  ,  ,  simgelerinin yerine sırayla gelmesi gereken

sözcükler aşağıdaki seçeneklerin hangisinde doğru olarak verilmiştir?





- |   |   |   |
|---|---|---|
|  |  |  |
| A) İhtiyar  | Barış   | Hızlı   |
| B) İhtiyar  | Hızlı   | Barış   |
| C) Hızlı  | İhtiyar   | Barış   |
| D) Barış  | Hızlı   | İhtiyar   |

# TÜRKÇE









14. Yazılışları aynı anlamları farklı sözcüklere sesteş (eş sesli) sözcükler denir. Aşağıdaki seçeneklerin hangisinde sesteş bir sözcük kullanılmamıştır?

- A) Küçükken çay kenarında oynamayı severdim.
- B) Kapımızı çalan kır saçlı, şık giyimli bir adamdı.
- C) Notları bilgisayara aktarmak çok uzun sürecek.
- D) Yüzümdeki ben sayısı gittikçe artıyor.

15.

	Onun kalbini <u>kırdığım</u> için üzgünüm.
	Kitabı en kısa sürede <u>okuyup</u> teslim edeceğim.
	<u>Sıcak</u> bir karşılama töreninin ardından salona geçildi.
	Henüz yağmış bir <u>yağmurun</u> ardından yürüyüşe çıktık.

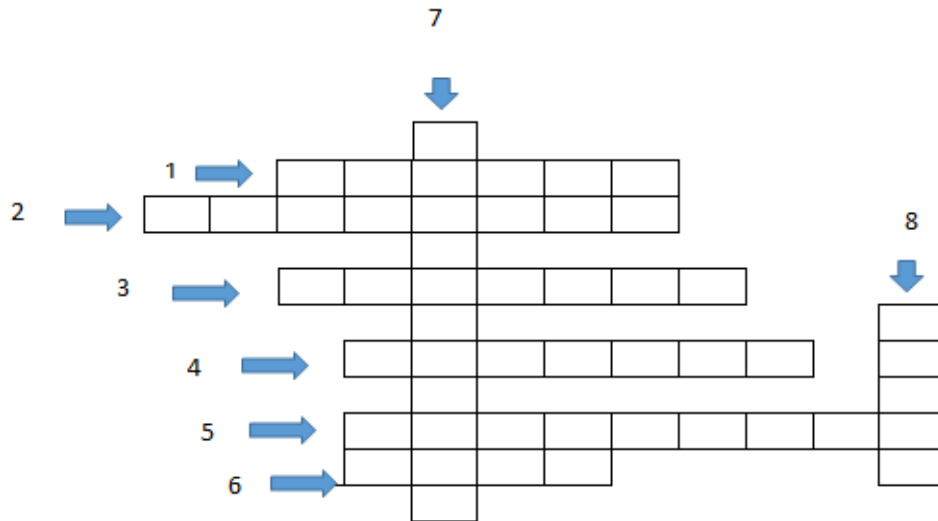
“Gerçek anlam; bir kelimenin akla gelen ilk anlamı, sözlükte karşımıza çıkan ilk tanımıdır.” Buna göre yukarıdaki cümlelerde altı çizili kelimelerin hangileri gerçek anlamının dışında kullanılmıştır?

- A)  
- B)  
- C)  
- D)  

16. Aşağıdaki altı çizili sözcüklerden hangisi gerçek anlamı dışında kullanılmıştır?

- A) Gözlerinin artık eskisi kadar iyi görmediğini söylüyor.
- B) Derin düşüncelere daldın yine.
- C) Kolumdaki ağrı artınca bir doktora gittim.
- D) Kanadı yaralanan kuşu veterinerine götürdük.

**1.**



- 1) Bir yerleşim yerinden başka bir yerleşim yerine göç geliş verilen ad.
- 2) Bakıma muhtaç yaşlı insanların barınma ihtiyacını karşılayan kurum.
- 3) Sigara, içki gibi bağımlılık yapan zararlı maddelerin etkilerine karşı mücadele eden sivil toplum kuruluşu
- 4) Adalet ihtiyacımızın karşılanması için hizmet veren kurum
- 5) Sağlık ihtiyacımızı karşılayan kurumlardan biri.
- 6) Eğitim hizmeti veren kurum
- 7) 1863 yılından beri annesi, babası hayatta olmayan maddi durumu yetersiz yetenekli öğrencilere eğitim hizmeti veren cemiyyet.
- 8) Lösemili çocuklar vakfının kısa adı.

# SOSYAL BİLGİLER

2. Aşağıda verilen kavramları uygun açıklamaları ile yanlarında bulunan rakamları kullanarak eşleştiriniz.

Kavramlar	Tanımlar
1) Belediye	a) Bakanlıklar arasında işbirliğinin sağlanmasında ve hükümetin genel siyasetinin belirlenmesinde birinci derece sorumludur.
2) Kaymakam	b) İlçe yönetiminden sorumlu kişidir.
3) Köy	c) İdari mahkemelerce verilen karar ve hükümlerin son inceleme kuruludur.
4) Vali	d) İl yönetiminin başıdır.
5) Belediye Başkanı	e) İl ve ilçelerde sokakların bakımı, temizliği, aydınlatılması gibi hizmetlerden sorumlu olan yerel yönetim birimidir.
6) Cumhurbaşkanı	f) Nüfusu 2000'den az olan yerleşim yerlerine denir.
7) Danıştay	g) Seçimle işbaşına gelen yerel yöneticidir.
8) Muhtar	h) Köy ve mahalle yönetiminden sorumlu olan kişilere denir.

3. Hepimiz temiz bir çevrede yaşamak, düzenli yollarda yürümek isteriz. Bizim bu isteklerimizi yerel yönetimler sağlar. Yerel yönetim, halkın ortak yerel ihtiyaçlarını karşılayan ve halk tarafından seçilen yönetim demektir.

Buna göre aşağıdakilerden hangisi yerel yönetim birimidir?

- A) Valilikler
- B) TBMM
- C) Belediyeler
- D) ÇEVKO

4. Aşağıdaki sorunlardan hangisiyle karşılaştığımızda çözüm için belediyeye başvurmamız?

- A) Mahallemizdeki çöpler düzenli şekilde temizlenmediğinde
- B) Evimizde sular kesildiğinde
- C) Toplu taşımada aksamalar olduğunda
- D) Evimizde elektrikler kesildiğinde

5. Ülkemizde devlet kurumları dışında toplumsal ihtiyaçların karşılanması için faaliyet gösteren çok sayıda sosyal örgüt vardır. Kendilerini topluma hizmet etmeye adanmış gönüllü kişilerin oluşturduğu bu kuruluşlar insanlara yardım eder ve bu sayede toplumsal yardımlaşma ile dayanışmayı artırır.

**Verilen açıklamada aşağıdakilerden hangisi anlatılmaktadır?**

- A) Belediyeler
- B) Resmi Kurumlar
- C) Sivil Toplum Kuruluşları
- D) Valilikler

**6. Aşağıdakilerden hangisi halk tarafından seçilmez?**

- A) Vali
- B) Milletvekili
- C) Cumhurbaşkanı
- D) Belediye Başkanı

# SOSYAL BİLGİLER

7.

	STK	Faaliyet Alanı
I	Tohum Otizm	Çevre
II	Darüşşafaka	Eğitim
III	TEMA	Çevre
IV	Lösev	Sağlık

Yukarıda isimleri verilen sivil toplum kuruluşlarından hangisinin faaliyet alanı yanlış açıklanmıştır?

- A) I
- B) II
- C) III
- D) IV

8. I. Alt yapı (yol, su, elektrik) hizmetleri sunmak  
II. Evsel atıkları toplamak, cadde ve sokakların temizliğini yapmak  
III. İtfaiye, zabıta ve şehir içi ulaşım hizmetlerini sunmak  
IV. Seçmen kâğıtlarının dağıtılmasını sağlamak

Yukarıda verilen öncüllerden kaç tanesi belediyenin görev alanına girer?

- A) 1
- B) 2
- C) 3
- D) 4

# DİN KÜLTÜRÜ VE AHLAK BİLGİSİ

1 . Salavat-ı Ümmiyye'nin bestekârı \_\_\_\_\_'dir.

2. Hz. Peygamber ilk ezanı sesi güzel olan sahabi \_\_\_\_\_'ye okutmuştur.

3. Kulağa hoş gelen sesler dizisi ve müzik anlamında kullanılan terim hangisidir?

- A) Musiki
- B) Nağme
- C) Mimari
- D) Ahenk

4. Hangisi dini musiki türlerinden biri değildir?

- A) Salavat-ı Ümmiyye
- B) İlâhi
- C) Resital
- D) Mevlit

5. Hangisi salânın okunduğu durumlardan biri değildir?

- A) Cuma namazını haber vermek
- B) Mukabeleye çağırma
- C) Cenazeyi haber vermek
- D) Olağanüstü olaylarda toplumsal dayanışmayı sağlamak

## A- Match and write.

- a) examine the dog    b) milk the cow    c) water the flowers    d) collect the eggs    e) feed the cat



- 1) \_\_\_\_\_ 2) \_\_\_\_\_ 3) \_\_\_\_\_ 4) \_\_\_\_\_ 5) \_\_\_\_\_

## B- Read the sentence and find the animal. One word is extra.

dog - cat - cow - lion - giraffe - bee - rabbit - bird

1. I am a small animal. I have wings and I can fly. \_\_\_\_\_.
2. I am a farm animal. The farmer gets milk from me. \_\_\_\_\_.
3. I am a small animal. I like eating carrots. \_\_\_\_\_.
4. I am a very strong animal. I have a long tail. \_\_\_\_\_.
5. I am a small animal. I can produce honey. \_\_\_\_\_.
6. I am a very tall animal. I eat plants. \_\_\_\_\_.
7. I am a small animal. I can climb trees. \_\_\_\_\_.

## C- Match the halves of the sentences.

Answer	A	B
1-	1- Mr Whales is cleaning .....	a. adopt a puppy.
2-	2- Sue is feeding .....	b. the ill stork to the vet.
3-	3- Macy is riding .....	c. the animal shelter.
4-	4- I am playing .....	d. some food for the street dogs.
5-	5- They are taking .....	e. the dog's broken leg.
6-	6- She wants to .....	f. with the dog
7-	7- We are buying .....	g. the rabbit
8-	8- The vet is examining .....	h. a horse

## D- Look at the pictures and write. What are the animals doing?

Ex: He is taking a picture.



1) The kitten \_\_\_\_\_.



2) The puppy \_\_\_\_\_.



3) The rabbits \_\_\_\_\_.



4) The birds \_\_\_\_\_.



5) The ducks \_\_\_\_\_.



## E- Choose the Correct Answer

1. "Sshh! Be quiet! \_\_\_\_\_!"

Which option is suitable for the blank?

- A) The children are laughing
- B) My mother is cooking
- C) My father is washing the car
- D) The baby is sleeping



Read the sentence below and answer the question.

2. "My grandfather is milking the cow now."

Which picture shows the activity above?



Look at the picture and answer the question.

3. **Fiona:** What is your brother doing now?

**Henry:** He is \_\_\_\_\_.

Which of the following completes the sentence?

- A) feeding the dog
- B) climbing the tree
- C) fishing
- D) milking the cow



Read the conversation below and answer the question.

4. **Edward:** Would you like to go cycling?

**Steven:** \_\_\_\_\_.

What can Steven say to accept the suggestion?

- A) That is a bad idea.
- B) It sounds great.
- C) Sorry, not now.
- D) I am busy.

Look at the picture and answer the question.

5. Anna is -----.

Which of the following completes the sentence?



- A) planting trees
- B) feeding the dogs
- C) watering the flowers
- D) cleaning the barn



Read the sentence below and answer the question.

6. I am a cat. I am climbing a tree.

Which picture is **CORRECT** according to the given sentence?



Read the conversation below and answer the question.

7. Kate: ..... today?

Mum: Oh, that's a great idea!

Kate: .....?

Mum: I'm afraid, we can't. Only animal keepers can feed the animals.

Kate: ....., mum?

Mum: Of course, you can. May be a kitten?

Kate: Really! I want a kitten.

Which question does NOT complete the conversation above?

- A) How about going to the animal shelter
- B) Can we feed the animals there?
- C) Can I adopt a pet
- D) Can I go to the zoo with my friends

Look at the pictures and answer the question.



8. Which sentence is NOT correct according to the picture?

- A) A man and a woman are playing with dogs.
- B) A woman is taking photos of animals.
- C) A man is feeding the dogs.
- D) A vet is examining a cat.

**Read the text below and answer the question.**

9. I'm Summer. I and my family love animals too much. We usually visit the animal shelter at the weekends. Today, we are at the shelter again. My sister Laura is playing with a little puppy. My brother is taking photos of the cats. My father is feeding the dogs. My mother is donating money to the shelter. I am helping for the cleaning of the cages. I love being at the shelter with my family.

**Which question does NOT have an answer in the text?**

- A) Where do they usually visit at the weekends?
- B) What is her sister doing now?
- C) Where is the vet examining the cat?
- D) What are her mother and father doing?

**Read the conversation below and answer the question.**

10. **Richard:** Mum! Can we buy a puppy?

**Mother:** It's not a good idea. Let's go to the animal shelter at the weekend. -----.

**Richard:** Really! Thanks, mum.

**Which of the following completes the sentence?**

- A) We can adopt a puppy there.
- B) We can ride a horse there.
- C) We can give seeds to the chickens.
- D) We can plant a tree.

The background features a series of overlapping circles in various shades of orange and peach, creating a modern, abstract design. The circles are of different sizes and are arranged in a way that they overlap each other, with some being more prominent than others. The text "SAYISAL BÖLÜM" is centered over these circles.

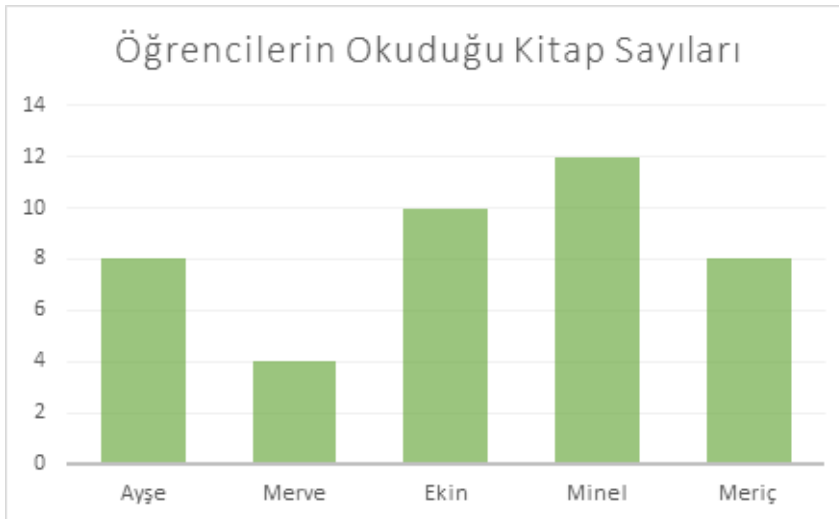
# **SAYISAL BÖLÜM**

1.



Yukarıda verilen sütun grafiğine ait sıklık tablosunu çiziniz.

2. Aşağıdaki grafik bazı öğrencilerin bir ayda okudukları kitap sayılarını göstermektedir.

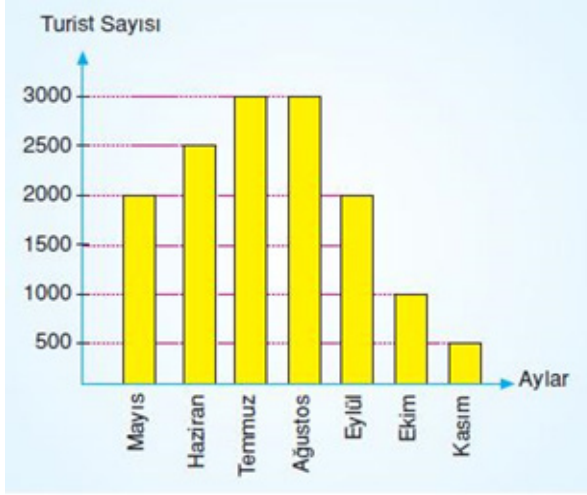


Yukarıda verilen grafiğe göre aşağıdaki boşlukları doldurunuz.

- A) Bir ayda en çok kitabı.....okumuştur.
- B) Bir ayda en az kitabı.....okumuştur.
- C) Meriç ve Minel'in okuduğu kitapların toplamı Ekin ve Ayşe'nin okuduğu kitapların toplamından.....dır.
- D) Ekin, Merve' den daha .....kitap okumuştur.
- E) Tüm çocuklar bir ayda toplam.....tane kitap okumuştur.

# MATEMATİK

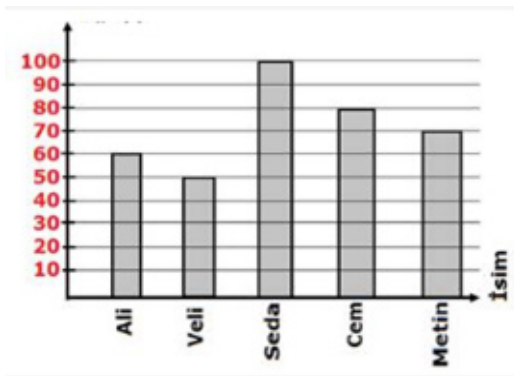
3. Aşağıdaki grafik aylara göre ülkemize gelen turist sayısını göstermektedir.



Verilen sütun grafiğini inceleyip aşağıdaki ifadelerin başına doğru ise (D) yanlış ise (Y) yazınız.

- ( ) Ülkemize en çok turist Kasım ayında gelmiştir.
- ( ) Temmuz ve Ağustos aylarında eşit sayıda turist gelmiştir.
- ( ) En az turist Kasım ayında gelmiştir.
- ( ) Yazın gelen turist sayısı diğer aylarda gelen toplam turist sayısından fazladır.
- ( ) İlkbahardan sonra gelen turist sayısında sürekli artış gözlenmiştir.

4.



Yukarıdaki grafikte beş arkadaşın bir günde çözdükleri soru sayısı gösterilmiştir. Buna göre aşağıdaki soruları cevaplayınız.

1. En çok soru çözen kişi kimdir?
2. En az soru çözen kişi kimdir?
3. En çok soru çözen kişi en az soru çözen kişiden kaç soru fazla çözmüştür?
4. En az soru çözendenden en çok soru çözene doğru sıralama yapıldığında üçüncü sırada kim yer alır?
5. Bir günde beş arkadaş toplam kaç soru çözmüştür?
6. Cem ve Metin'in çözmüş olduğu toplam soru sayısı Seda'nın soru sayısından kaç fazladır?

5. **Tablo:** Edirne ziyareti yapan bir tur otobüsündeki kişilerin Edirne’de en sevdikleri yerler

Yerler	Kişi Sayısı
Selimiye Camii	### ### ### //
Karaağaç Kent Ormanı	### //
Lozan Anıtı	### ///
Sultan II. Bayezid Külliyesi ve Sağlık Müzesi	###
Saraçlar Caddesi	//
Şükrüpaşa Anıtı ve Balkan Savaşları Müzesi	////
Sarayıcı Kırkpınar Er Meydanı	### //

Verilen çetele tablosuna göre aşağıdaki soruları yanıtlayınız. (Otobüsteki her kişi yalnızca bir oy kullanmıştır.)

a. Otobüsteki toplam kişi sayısı kaçtır?

b. Eşit sayıda oy alan iki yer neresidir?

c. En fazla oy alan yer ile en az oy alan yer arasındaki oy farkı kaçtır?

6. Aşağıdakilerden hangisi bir araştırma sorusudur?

- A) Kenarlarına göre üçgen çeşitleri nelerdir?
- B) Edirne ilinde Covid-19 salgınından etkilenen kişi sayısı kaçtır?
- C) Tuna’nın en sevdiği renk nedir?
- D) Havsa Atatürk Ortaokulu öğrencilerinin en sevdiği spor hangisidir?

# MATEMATİK

7. Aşağıdakilerden hangisi bir araştırma sorusu değildir?

- A) Okulumuzdaki öğrencilerin gezmek istediği ülkeler hangileridir?
- B) Sınıfımızdaki öğrencilerin en eğlenceli bulduğu ders hangisidir?
- C) Defne'nin en sevdiği kitap hangisidir?
- D) Okulumuzdaki öğrencilerin EBA'ya girme sıklığı nedir?

8.

**Tablo:** Katlara Göre Otoparktaki Araç Sayısı

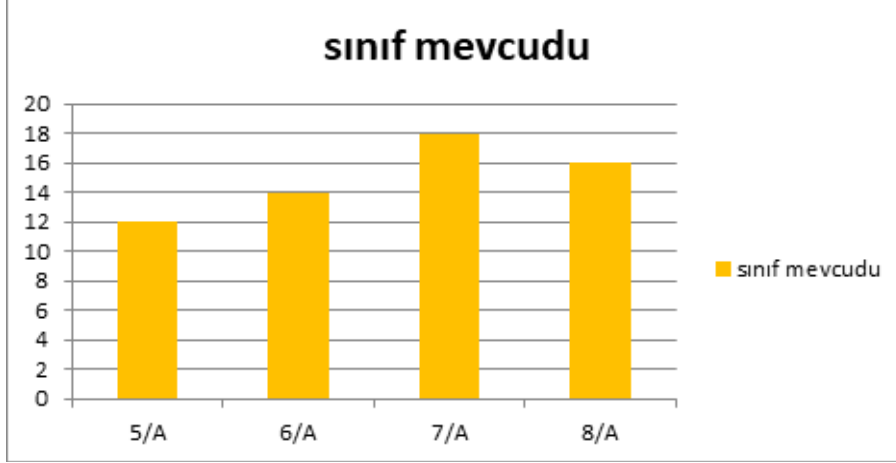
Katlar	Araç Sayısı
1. kat	250
2. kat	200
3. kat	300
4. kat	300
5. kat	150

Yukarıdaki tabloda bir otoparktaki araç sayılarının katlara göre dağılımı verilmiştir. Buna göre aşağıdakilerden hangisi yanlıştır?

- A) En az araç 5.kattaki otoparkta bulunmaktadır.
- B) En fazla araç 3 ve 4. katlardaki otoparklarda bulunmaktadır.
- C) Tüm katlarda bulunan otoparklarda toplam 1250 araç vardır.
- D) 2.kattaki otoparkta, 5.kattaki otoparktan daha fazla araç vardır.

9 ve 10. soruları aşağıdaki grafiğe göre cevaplayınız.

Aşağıda bir okula ait sınıf şubeleri ve bu şubelerde bulunan öğrenci sayıları sütun grafiği ile gösterilmiştir.



9. Buna göre aşağıdakilerden hangisi yanlıştır?

- A) 6/A sınıfında bulunan öğrenci sayısı 7/A sınıfında bulunan öğrenci sayısından azdır.
- B) 5/A sınıfında bulunan öğrenci sayısı 6/A sınıfında bulunan öğrenci sayısından azdır.
- C) 8/A sınıfı öğrencileri 7/A sınıfı öğrencilerinden fazladır.
- D) 8/A sınıfı öğrencileri 6/A sınıfı öğrencilerinden fazladır.

10. Bir önceki soruda yer alan grafiğe göre okuldaki toplam öğrenci sayısı 5/A sınıfındaki öğrenci sayısından ne kadar fazladır?

- A) 30
- B) 44
- C) 36
- D) 48

# FEN BİLİMLERİ

1. Aşağıda verilen cümlelerden doğru olanların başındaki kutuya “D”, yanlış olanların başındaki kutuya “Y” yazalım.

- ( ) Yerleşim yerlerini dere yataklarına kurmalıyız.
- ( ) Volkanik patlamalar, fırtınalardan dolayı oluşan yıkıcı doğa olaylarındandır.
- ( ) Rüzgârın hızı 90 ile 110 km arasında ise bu şiddetli rüzgârlara kasırga denir.
- ( ) Türkiye’de depremleri tespit edip konuyla ilgili bilgi vermekle yetkili kuruluş TEMA’dır.
- ( ) Volkanik patlama ile yeryüzüne çıkan magmaya lav denir.

2.



Atık maddelerin suya atılması ile suyun yaşanılmaz, içilmez hâle gelmesine su kirliliği denir.

Çevre kirliliğine yol açan bazı durumlar ise şöyledir:

- Atık yemek ve kızartma yağları
- Petrol çıkarılması ya da taşınması sırasında petrol sızıntıları
- Kanalizasyon suları ve evsel sıvı atıklar
- Fabrikaların katı ve sıvı atıkları
- Fabrika bacalarından çıkan zararlı gazlar
- Tarımda kullanılan gübre ve ilaçlar

**Bu durumlardan kaç tanesi su kirliliğine yol açar?**

- A) 3
- B) 4
- C) 5
- D) 6

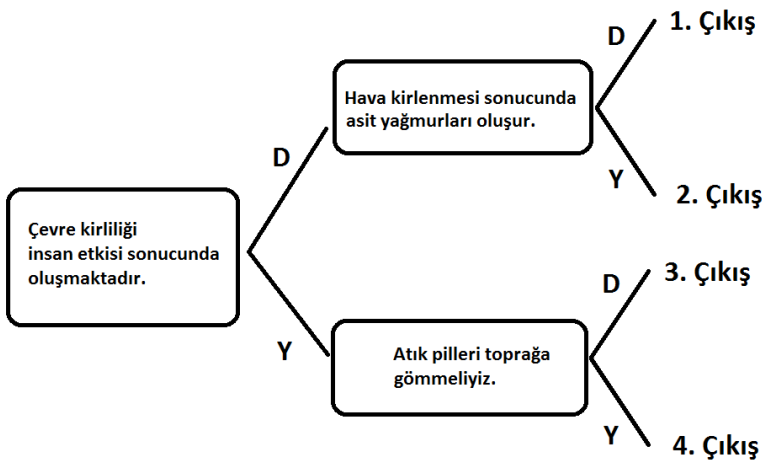
3.

Zehirli Gazlar 1	Deodorant ve parfümler 2	Suni gübre 3
Yemek atıkları (Eysel atıklar) 4	Fabrika sıvı atıkları 5	Rüzgarlar 6
Tarım ilaçları 7	Egzoz dumanları 8	Volkanik patlamalar 9

Yukarıda verilenlerden hangileri hava kirliliğine yol açar?

- A) 1 – 2 – 6 – 8
- B) 2 – 3 – 5 – 7
- C) 1 – 2 – 8 – 9
- D) 2 – 6 – 8 – 9

4.



Yukarıda verilen dallanmış ağaca göre doğru çıkış hangisidir?

- A) 1. Çıkış
- B) 2. Çıkış
- C) 3. Çıkış
- D) 4. Çıkış

# FEN BİLİMLERİ

5. “Yer kabuğunda meydana gelen ani kırılmalar nedeni ile oluşan titreşimlerin dalgalar hâlinde yeryüzüne ulaşmasıyla depremler meydana gelir. Kısacası yer kabuğunun yapısında oluşan sarsıntılara deprem denir.”



- I. Binalar sağlam yapılmalıdır. Eksik ve çürük malzeme kullanılmamalıdır.
- II. Çürük binalar tespit edilip yıkılarak yerine yenileri yapılmalıdır.
- III. Yumuşak zeminlere yerleşim yerleri kurulmalıdır.

**Depremlerden korunmak için yukarıdaki yöntemlerden hangisi veya hangileri uygulanmalıdır?**

- A) Yalnız I
- B) I ve II
- C) II ve III
- D) I, II ve III

6.



**Görselde verilen yıkıcı doğa olayı ile ilgili olarak;**

- I. Ne zaman olabileceği önceden tespit edilebilmektedir.
- II. Can ve mal kaybına yol açmaz.
- III. Ülkemizde sürekli görülen bir yıkıcı doğa olayıdır.

**Hangisi veya hangileri yanlıştır?**

- A) Yalnız I
- B) I ve II
- C) II ve III
- D) I, II ve III

7.



Çevre sorunlarına yönelik çözüm önerileri ile ilgili yukarıda verilen ifadeler doğru ise “D”, yanlış ise “Y” yönünde ilerlendiğinde hangi çıkışa ulaşılır?

- A ) 1.çıkış
- B ) 2.çıkış
- C ) 3.çıkış
- D ) 4.çıkış

8.Havadaki yabancı maddelerin canlıların sağlığını olumsuz yönde etkileyecek kadar artmasına hava kirliliği denir.

- I. Ormanlık ve yeşil alanlar artırılmalıdır.
- II. Her yıl soba boruları ve bacalar temizlenmelidir.
- III. Toplu taşıma araçları yerine bireysel araçlar kullanılmalıdır.
- IV. Enerji elde etmek için katı ve sıvı yakıtlar yerine güneş, rüzgâr gibi kaynaklar kullanılmalıdır.



Hava kirliliğini azaltmak için yukarıda verilen çözüm önerilerinden kaç tanesi doğru bir öneridir?

- A) 1
- B) 2
- C) 3
- D) 4

# FEN BİLİMLERİ

9. Bir araştırma sonucunda bir bölgedeki çevre sorunlarına karşılık aşağıdaki çözüm önerileri sunulmuştur.

- Sanayi kuruluşlarına ve kanalizasyon şebekelerine arıtma tesisi kurularak atık sular arıtılmalıdır.
- Petrol çıkaran tesisler ve petrol taşıyan tankerler sızıntılara karşı denetlenmelidir.
- Tarım ilaçlarının ve gübrelerin suya karışmamasına dikkat edilmelidir.

**Yukarıdaki verilen önerilerin uygulanması sonucu bu bölgedeki değişim aşağıdakilerden hangisi olabilir?**

- A) Solunumla bulaşan hastalıkların yayılması yavaşlar.
- B) Deniz ve okyanuslarda biyoçeşitlilik artar.
- C) Toplu balık ölümleri oluşur.
- D) Mide ve bağırsak rahatsızlıklarında artış oluşur.

10. Rachel Louise Carson (Reyçil Luiz Karsın) ABD’de 1940’lı yıllarda sıkça kullanılan ve bir mucize ilaç olarak görülen DDT adlı böcek ilacı üzerine yaptığı araştırmalarıyla tanınmıştır. Bu ilacın yalnızca tarım zararlılarını öldürmekle kalmadığını, bütün çevreye zarar verdiğini, bitkilerde depolanarak insanlarda zehirlenmelere, engelli doğumlara ve ölümlere neden olduğunu açıklayan bir kitap kaleme aldı. Bu kitap, sonraları insanların çevre sorunlarının üstüne düşünmesine ve insanlarda çevre bilinci oluşmasına büyük katkı sağladı.



*Rachel Louise Carson (Reyçil Luiz Karsın)*

**Yukarıda ki metne göre, Rachel Louise Carson (Reyçil Luiz Karsın)’ın yaptığı araştırmalar ve yazdığı kitap için aşağıdakilerden hangisi söylenemez?**

- A) Tarım zararlılarını öldürmek için kullanılan bazı ilaçlar insan sağlığına da zararlı etkiler oluşturur.
- B) Çevre sorunları görünenden çok daha büyük bir etki alanına sahip olabilir.
- C) Çevre bilinci oluşmasına büyük katkı sağlamıştır.
- D) Çevre gönüllüleri tarafından tarım ilaçlarına karşı büyük tepkiler oluşmuştur.

**11.** İlayda televizyon programında yıkıcı doğa olayları ile ilgili bir belgesel izliyor. Endonezya da 130 aktif yanardağın bulunduğunu ve 2010 yılında Cava adasında yanardağ patlaması sonucu 347 kişinin öldüğünü; 2018 yılında Anak Krakatau Yanardağının patlaması sonucu meydana gelen tsunamide de 437 kişinin öldüğünü öğreniyor.

**İlayda'nın doğal afetlerle ve nasıl engellenmesi gerektiği ile ilgili söylediği hangi ifade yanlıştır?**

- A)Doğal afetlerden dolayı ülkelerde ekonomik kayıp büyük olur
- B)Doğal afetlerde farkındalık oluşturmak amacıyla; okul müfredatında bu konuya değinilmelidir.
- C)Deprem, sel baskını, heyelan birer doğal afettir.
- D)İyi söndürülmemiş mangal kömürünü alevinin ağaçlara sıçramasıyla ormanın yanması da doğal afettir.

**12.** 17 Ağustos 1999

Merkez üssü Gölcük olan deprem, Marmara bölgesinin genelinde hissedildi. 45 saniye sürdü. Boğaziçi üniversitesi Kandilli Rasathanesi tarafından 7,8 olarak ölçüldü. Bu depremde 18.373 kişi hayatını kaybetti ve 5bin 840 kişi kayboldu.

(BBC NEWS,2019)

Öğretmen yukarıdaki parçayı okuyor. Öğrenciler konuyla ilgili aşağıdaki ifadeleri söylüyor.

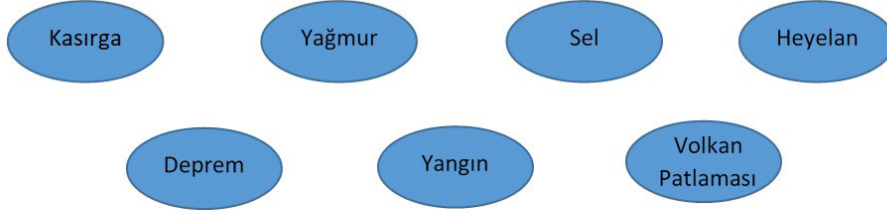
- 1-Doğal afetler sonucu birçok can kaybı olur.
- 2-Doğal afetler mal kayıplarına neden olur.
- 3-Heyelan ve yanardağ patlaması da bir doğal afettir.
- 4-Göletin suyu bitinceye kadar tarla sulamada kullanılması da doğal afettir.

**Yukarıdaki ifadelerden hangileri doğrudur?**

- A)1
- B)1, 2, 3 ve 4
- C)1, 2 ve 3
- D)1 ve 3

# FEN BİLİMLERİ

13.



Yukarıdakilerden kaç tanesi yıkıcı doğa olaylarındandır?

- A) 4
- B) 5
- C) 6
- D) 7

14. Elif hanımın bulunduğu ilçede, kış geldiğinde hava kirliliği daha da artmıştır. Elif hanım ve çevresindeki insanlarda çeşitli solunum sistemi hastalıkları görülmeye başlamıştır. Doktora giden Elif Hanım bunun sebebi sorar.

Aşağıdakilerden hangisi doktorun verdiği bir cevap olamaz?

- A) Kışın yakılan sobalar hava kirliliğini arttırmıştır.
- B) İlçede bulunan fabrika, hava kirliliğini olumsuz etkilemiştir.
- C) Hava kirliliği; astım, bronşit gibi solunum sistemi hastalıklarını arttırmıştır.
- D) İlçede, hayvanların sayısı fazla olduğu için hava kirliliği artmıştır.

15. Öğretmen: “İnsanların çeşitli faaliyetleri sonucu; hava kirliliği, su kirliliği, toprak kirliliği artmıştır. Bu çevre kirliliğini oluşturan sebepler aşağıdakilerden hangileri olabilir?” diye soru sorar.

Öğrenciler aşağıdaki cevapları verirler.

**Burçin:** “Yapay gübrelerin kullanılması toprak kirliliğini olumsuz etkiler.”

**Mert:** “Evlerin bacalarından ve fabrika bacalarından çıkan gazlar hava kirliliğini arttır.”

**Ozan:** “Evlerin kanalizasyon atıklarının arıtılmadan su kaynaklarına bırakılması, su kirliliğini arttırır.”

**Buse:** “Ormanlardaki ağaçların kesilmesinin hava kirliliğine etkisi yoktur.”

Buna göre hangi öğrencinin verdiği cevap yanlış olur?

- A) Ozan
- B) Burçin
- C) Mert
- D) Buse

## TÜRKÇE

1. 1.h

2.l

3.o

4.k

5.d

6.n

7.f

8.c

9. g

10.m

11.ı

12.e

13.a

14.j

15.b

2. a) zengin

b) yeni

c) beyaz

d) yukarı

e) ağlamak

f) kötü

g) inmek

3. kır, dal, yol, at, aş, yaz

4. 1. Mecaz

2. Mecaz

3. Gerçek

4. Gerçek

5. Gerçek

6. Mecaz

7. Mecaz

8. Gerçek

9. Mecaz

10. Gerçek

5. 8 numaralı sözcüğün eş anlamlısı yoktur.

6. Soldan sağa

1. KAYNAK

2. DEMET

4. İNCE

5. KÜLTÜR

6. NESİL

9. AÇI

Yukarıdan aşağı

1. KUVVET

3. TECRÜBELİ

7. SATIR

8. DAL

7. 1. DOĞRU

2. DOĞRU

3. YANLIŞ

4. YANLIŞ

5. YANLIŞ

# CEVAP ANAHTARI

## TÜRKÇE

8. D
9. C
10. D
11. C
12. C
13. B
14. C
15. A
16. B

## SOSYAL BİLGİLER

1. 1. ULAŞIM  
2. HUZUREVİ  
3. YEŞİLAY  
4. MAHKEME  
5. HASTAHANE  
6. OKUL  
7. DARÜŞŞAFAKA  
8. LÖSEV
2. 1. e  
2. b  
3. f  
4. d  
5. g  
6. a  
7. c  
8. h
3. C
4. D
5. C
6. A
7. A
8. C

## DİN KÜLTÜRÜ VE AHLAK BİLGİSİ

1. İtrî
2. Bilal-i Habeşî
3. A
4. C
5. B

## İNGİLİZCE

### PART A

- 1)d 2) b 3) e 4) a 5) c

### PART B

1. Bird
2. Cow
3. Rabbit
4. Lion
5. Bee
6. Giraffe
7. Cat
- Dog (Extra)

### PART C

1. C 2. G 3. H 4. F 5. B 6. A 7. D 8. E

### PART D

1. is sleeping
2. is playing with a ball
3. are running
4. are flying
5. are swimming

### PART E

1. D
2. C
3. A
4. B
5. C
6. B
7. D
8. B
9. C
10. A

# CEVAP ANAHTARI

## MATEMATİK

1.

Tatlı çeşitleri	Porsiyon miktarı
Baklava	30
Sütlü tatlı	50
Pasta	20
Dondurma	60

2. A) Minel  
B) Merve  
C) Fazla  
D) Fazla  
E) 42
3. Y-D-D-D-Y
4. 1. SEDA  
2. VELİ  
3. 50  
4. METİN  
5. 360  
6. 50
5. a. 50  
b. Karaağaç Kent Ormanı – Sarayıçi Kırkpınar Er Meydanı  
c. 15
6. D  
7. C  
8. C  
9. C  
10. D

## FEN BİLİMLERİ

1. Y - Y - Y - Y - D
2. C
3. C
4. A
5. B
6. D
7. A
8. C
9. B
10. D
11. D
12. C
13. B
14. D
15. D