

RAUF NAİL AKMAN İLKOKULU 2-A SINIFI  
HAZİRAN AYI KAZANIM DEĞERLENDİRME SINAVI

BU KİTAPÇIKTA  
TÜRKÇE 15 SORU  
MATEMATİK 15 SORU  
HAYAT BİLGİSİ 15 SORU  
TOPLAM 45 SORU  
YER ALMAKTADIR

SINAV TARİHİ: 14 HAZİRAN 2020 PAZAR GÜNÜ

HAZIRLAYAN: TUNCAY YILDIRICI

**RAUF NAIL AKMAN İLKOKULU 2-A SINIFI HAZİRAN AYI KAZANIM DEĞERLENDİRME  
SINAVI CEVAP FORMU**

MATEMATİK			
1	A	B	C
2	A	B	C
3	A	B	C
4	A	B	C
5	A	B	C
6	A	B	C
7	A	B	C
8	A	B	C
9	A	B	C
10	A	B	C
11	A	B	C
12	A	B	C
13	A	B	C
14	A	B	C
15	A	B	C

TÜRKÇE			
1	A	B	C
2	A	B	C
3	A	B	C
4	A	B	C
5	A	B	C
6	A	B	C
7	A	B	C
8	A	B	C
9	A	B	C
10	A	B	C
11	A	B	C
12	A	B	C
13	A	B	C
14	A	B	C
15	A	B	C

HAYAT BİLGİSİ			
1	A	B	C
2	A	B	C
3	A	B	C
4	A	B	C
5	A	B	C
6	A	B	C
7	A	B	C
8	A	B	C
9	A	B	C
10	A	B	C
11	A	B	C
12	A	B	C
13	A	B	C
14	A	B	C
15	A	B	C

# MATEMATİK

1) Ömerlere saat 08.30'da oturmaya gelen misafirler 2 saat 30 dakika oturmuşlardır. Buna göre misafirler saat kaçta evden ayrılmışlardır?

- A) 11.05 B) 11.00 C) 12.05



2) Yukarıdaki boyalı alanı gösteren kesir sayısı aşağıdakilerden hangisidir?

- A)  $\frac{6}{10}$  B)  $\frac{4}{10}$  C)  $\frac{7}{10}$

3) Bir günde 12 saat uyuyan Zeynep, 1 haftada kaç saat uyur?

- A) 74 B) 84 C) 94

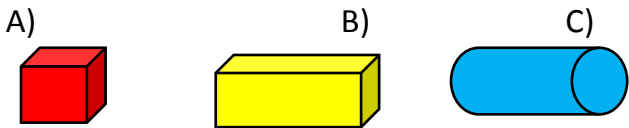
4) Bir kümeste 25 tavuk ve tavukların 3 katıda civciv vardır. *Bu kümeste kaç tane hayvan vardır?*

- A) 28 B) 75 C) 100

5) 'Oğlum 8 yaşında. Benim yaşımla oğlumun yaşının 5 katının 3 fazlası olduğuna göre, ikimizin yaşının toplamı kaçtır?

- A) 43 B) 11 C) 51

6) Bilin bakalım, ben hangi geometrik cisimim? *6 yüzüm, 12 ayrıtım (kenarım), 8 köşem vardır.*



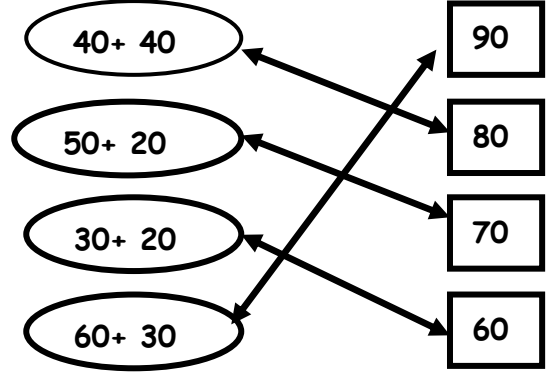
7) Bir deste kalemin, 34 fazlasının, yarısı kaç kalemdir?

- A) 22 B) 27 C) 38

$$8 \times 4 =$$

8) Yukarıdaki çarpma işleminin sonucu kaç onluk, kaç birlikten oluşmaktadır?

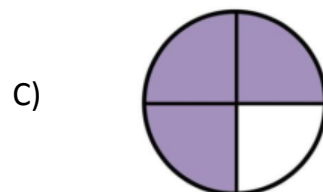
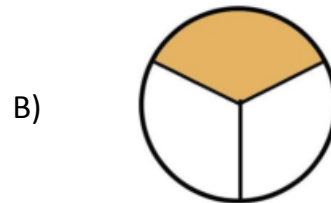
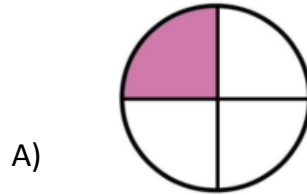
- A) 3 onluk + 6 birlik  
B) 2 onluk + 3 birlik  
C) 3 onluk + 2 birlik



9) Yukarıdaki eşleştirmelerden kaç tanesi yanlıştır?

- A) 1 B) 2 C) 3

10) Aşağıdaki şekillerden hangisinin çeyreği boyanmıştır?




11) Bir cüzdanda 2 tane 10 lira, 3 tane 5 lira ve 7 tane 1 lira vardır. Bu cüzdanda toplam kaç lira vardır?

- A) 52                      B) 37                      C) 42

12) Aşağıdaki rakamlardan hangisinin 2 tane simetri doğrusu vardır?

- A) 8                      B) 7                      C) 6

13) Aşağıdaki nesnelerin hangisinin kütlesi kilogramla ölçülür?



14) Sınıfta yapılan araştırmada 8 kişi çikolatanın, 6 kişi dondurmanın, 10 kişi şekerin ve 9 kişi pastanın en sevdikleri tatlı olduğunu söyledi. Bu verile göre oluşturulan çetele tablosu hangisidir?

Tablo: En Sevilen Tatlı

Çikolata	### III
Dondurma	###
Şeker	### ###
Pasta	### ###

A)

Tablo: En Sevilen Tatlı

Çikolata	### III
Dondurma	### I
Şeker	###
Pasta	### ###

B)

Tablo: En Sevilen Tatlı

Çikolata	### III
Dondurma	### I
Şeker	### ###
Pasta	### IIII

C)

15) Aşağıdaki varlıklardan hangisinin uzunluğunu santimetre ile ölçülmesi diğerlerine göre daha zordur?



A)



B)



C)

## HAYAT BİLGİSİ

1) Tatlılar ikram edilir. Büyükler ziyaret edilir. Yukarıda anlatılanlar, aşağıdaki bayramlardan hangisinde yapılır?

- A) Cumhuriyet Bayramı
- B) Zafer Bayramı
- C) Kurban Bayramı

2) Şeyma: “Akarsu kenarlarına evlerimizi yapmamalıyız.” Şeyma hangi doğal afete karşı alınan önlemi söylemiştir?

- A) Çığ
- B) Deprem
- C) Sel

3) Elif “Eyvah, karşı binanın çatısı yanıyor!” diye bağırdı. Sakinleşince annesinin telefonundan itfaiyeyi aradı. Elif aşağıdaki numaralardan hangisini aramıştır?


- A) 110
- B) 112
- C) 155

4) Hangi seçenekteki ifadede doğal çevreden söz edilmiştir?

- A) Sabah ormanda yürüyüşe çıktım.
- B) Kardeşimi oyun parkına götürdüm.
- C) Annemle birlikte bugün alışveriş merkezine gittim.

5) Hayvanların yaşamak için aşağıdakilerden hangisine ihtiyacı yoktur?

- A) Hava
- B) Besin
- C) Ateş



6) Işıklı trafik işaret cihazlarındaki sarı ışık ne anlama gelir?

- A) Dur
- B) Geç
- C) Hazır ol

7) Aşağıdakilerden hangisinin geri dönüşümü yoktur?

- A) pil
- B) Cam
- C) toprak

Sonbaharda ağaçların yaprakları dökülmeye başlar. Okullar açılır. Havalar soğumaya başlar.

8) Yukarıdaki açıklamaya göre Ahmet hangi mevsimden bahsetmektedir?

- A) İlkbahar
- B) Yaz
- C) Sonbahar

9) Aşağıdaki taşıtlardan hangisi hava kirliliğine neden olmaz?



10) Aşağıdakilerden hangisi depremde önce yapılması gerekenlerden birisidir?

Bina yapacağımız yere zemin etüdü yaptırmalıyız

Enkaz altında kalmışsak, yerimizi belli etmek için cisimlere vurarak ses çıkartabiliriz

Pencere, balkon, merdiven ve asansörden uzak durmalıyız

11) Bir bitkinin yetişmesi için su, toprak ve ..... gereklidir.’ Yukarıda yazılan cümlede noktalı yere hangi kelime yazılmalıdır?

- A) Taş
- B) Rüzgar
- C) Güneş ışığı

12) Aşağıdakilerden hangisi kaynaklarımızı israf etmeden kullanmaya örnek bir davranış değildir?

- A) Defterin sayfalarını atlayarak kullanmak
- B) Bayat ekmekleri ısıtıp yemek
- C) Ders araç-gereçlerimizi özenli kullanmak

( ) Kuşların ve karıncaların yuvalarını bozmamalıyız.

( ) Sadece sevdiğimiz hayvanlara su vermeliyiz.

( ) Bitkiler havayı temizler ve çevremizi güzelleştirir.

**13) Yukarıdaki ifadelerden doğru olanların başına “D”, yanlış olanların başına “Y” yazdığımızda doğru sıralama hangisi olur?**

A) D-D-Y      B ) D-Y-Y      C ) D-Y-D

**14) Nevşehir'den başkentimize otobüsle gitmek isteyen bir yolcu hangi şehre bilet almalıdır?**

A) Ankara      B) İzmir      C) İstanbul

**15) Aşağıdaki hayvanlardan hangisinin yaşam alanı yanlış verilmiştir?**

A) Aslan- Orman

B) Balık -Deniz

C) Kartal- Kafes

## TÜRKÇE

### SUDE"İN SÜRPRİZİ

Zilin çalmasına birkaç dakika kalmıştı. Sude anlatılanların birçoğunu dinlememişti. Çabucak eve gitmek, dedesinin armağanı olan sulu boyalarla resim yapmak istiyordu. Bu saatlerde annesi, mutfakta yoğun bir çalışma içinde olurdu. Sude'yi sevindiren de buydu. Kimsecikler görmeden en güzel resimleri yapıp dosyalayacak tı. Belki de bir gün, biriken resimleriyle, bir sürpriz yapıp herkesi şaşırtabilirdi. O zaman dedesi, annesi, babası, hele de mızıkçı kardeşi, nasıl da şaşkına döneceklerdi kim bilir.

#### 1. 2. 3. soruları yukarıdaki metne göre cevaplayınız.

##### 1. Sude neden dersi dinlemiyor?

- A) Karnı acıktığından.
- B) Hasta olduğundan.
- C) Kafası eve gidip resim yapmakta olduğundan.

##### 2. Okuduğunuz parçada sulu boyaları Sude'ye kim armağan etmiş?

- A) annesi
- B) babası
- C) dedesi

##### 3. Sude'nin bir gün yapmak istediği sürpriz nedir?

- A) Dedesine doğum gününde resim hediye etmek.
- B) En güzel resimleri dosyalayıp herkesi şaşırtmak.
- C) Kardeşinin resmini çizmek.

##### 4. Aşağıdaki cümlelerde altı çizili kelime kaç farklı anlamda kullanılmıştır?

- Hafta sonu yüzme kursuna gidiyorum.
- Yüz liraya eşya aldım.
- Ne kadar sıkıldığı yüzünden anlaşılıyor.

- A) 1
- B) 2
- C) 3

##### 5. Aşağıdaki cümlelerin hangisinde eş anlamlı kelimeler bir arada kullanılmıştır?

- A) Bu bozuk ve arızalı aracı nerden aldın?
- B) Senin için ödül ve ceza önemli mi?

- C) Bugün genç yaşlı herkes çok mutlu.

"Annem, soğan doğrarken elini kesti."

##### 6) Yukarıdaki Cümlede aşağıdaki sorulardan hangisinin cevabı yoktur?

- A) kim
- B) neyi
- C) nerede

##### 7. Aşağıdaki cümlelerden hangisinin sonuna ünlem işareti konmalıdır?

- A) Onunla sabah karşılaştık
- B) Babam bir kedi yavrusu bulmuş
- C) İmdat düşüyorum, yetişin

##### 8) Aşağıdaki hangi seçenekte büyük harfler doğru kullanılmıştır (yazım hatası yoktur) ?

- A) Yazın kara deniz'de balık tuttum.
- B) Tatilde kayseri'ye gideceğiz.
- C) Bugün Ali okula geç kaldı.

##### 9. Aşağıdaki cümlelerden hangisinde ayakkabının rengi belirtilmiştir?

- A) Üç **ayakkabı** aldım.
- B) Kırmızı **ayakkabımı** daha çok seviyorum.
- C) Küçük **ayakkabımı** kardeşime verdim.

##### 10. Hangi seçenekteki cümlede zıt anlamlı sözcükler bir arada kullanılmıştır?

- A) İşten yorgun argın dönüyoruz.
- B) Kara kuru bir şeydi.
- C) Üç aşağı beş yukarı böyle bir şeydi.

##### 11) Aşağıda verilen cümlelerdeki olayları oluş sırasına göre sıralarsak sıralama nasıl olur?

- 1-Kuşlar gelip dallarına konardı.
- 2-Bir gün gelip ağacı kestiler.
- 3-Evimizin karşısında bir ağaç vardı.
- 4-Artık ne ağaç var ne de kuşlar.

- A) 2-4-3-1
- B) 1-4-3-2
- C) 3-1-2-4

##### 12) Aşağıdaki cümlelerin hangisinde özel adların yazılmasıyla ilgili hata yapılmıştır?

- A) Ahmet, Emre'ye seslendi.
- B) Salı günü Ankara'ya gittim.
- C) ayşe bugün okula gelmedi?

**13) Aşağıdaki tümcelerin hangisinde anlatım bozukluğu vardır?**

- A) Amcamlar, yarın bize geldiler.
- B) Ali,bahçede top oynuyor.
- C) Babam,eve erken geldi

**14) Hangi seçenekteki olay henüz gerçekleşmemiştir?**

- A)Bayramda okullar tatil olacak.
- B)Tatilde teyzemlere gittik.
- C)Teyzem telefonla arayıp annemi sordu.

**15) Aşağıdaki kelimelerden hangisi sözlükte diğerlerinden önce gelir?**

- A) top
- B) tost
- C) toka