

RAUF NAİL AKMAN İLKOKULU 2-A SINIFI
TEMMUZ AYI KAZANIM DEĞERLENDİRME SINAVI

BU KİTAPÇIKTA
TÜRKÇE 15 SORU
MATEMATİK 15 SORU
HAYAT BİLGİSİ 15 SORU
TOPLAM 45 SORU
YER ALMAKTADIR

SINAV TARİHİ: 19 TEMMUZ 2020 PAZAR GÜNÜ

HAZIRLAYAN: TUNCAY YILDIRICI

**RAUF NAIL AKMAN İLKOKULU 2-A SINIFI TEMMUZ AYI KAZANIM DEĞERLENDİRME
SINAVI CEVAP FORMU**

MATEMATİK			
1	A	B	C
2	A	B	C
3	A	B	C
4	A	B	C
5	A	B	C
6	A	B	C
7	A	B	C
8	A	B	C
9	A	B	C
10	A	B	C
11	A	B	C
12	A	B	C
13	A	B	C
14	A	B	C
15	A	B	C

HAYAT BİLGİSİ			
1	A	B	C
2	A	B	C
3	A	B	C
4	A	B	C
5	A	B	C
6	A	B	C
7	A	B	C
8	A	B	C
9	A	B	C
10	A	B	C
11	A	B	C
12	A	B	C
13	A	B	C
14	A	B	C
15	A	B	C

TÜRKÇE			
1	A	B	C
2	A	B	C
3	A	B	C
4	A	B	C
5	A	B	C
6	A	B	C
7	A	B	C
8	A	B	C
9	A	B	C
10	A	B	C
11	A	B	C
12	A	B	C
13	A	B	C
14	A	B	C
15	A	B	C

MATEMATİK

MAĞAZAMIZDAKİ ÜRÜNLER:



Kazak 25 TL



Etek 26 TL



Gömlek 15 TL



Çorap 8 TL

1. ve 2. soruları yukarıdaki bilgilere göre cevaplayınız.

1) Kerem yukarıdaki mağazadan 2 kazak ve 2 çorap almıştır.

Kerem mağazaya kaç lira ödemelidir?

A) 68 TL B) 66 TL C) 56 TL

2) Tuna mağazadaki en pahalı ve en ucuz olan ürünlerden birer tane alıyor .Tuna mağazaya ne kadar para ödeyecektir?

A) 23 TL B) 34 TL C) 33 TL

3) Çarşıya ulaşmak için yarım saat yürüyen Ahmet, saat 10.30'da çarşıya varmıştır. Ahmet evden saat kaçta ayrılmıştır?

A) 10.00 B) 09.30 C) 10.10

4) Kardeşim dün teyzemlere gittiğinde günlerden Salıydı. Yarın ise eve dönecek. Buna göre kardeşim hangi gün eve dönecek?

A) Çarşamba B) Perşembe C) Cuma



5) Yukarıdaki çeyrek limonlardan kaç tane tam (bütün) limon elde ederiz?

- A) 5 bütün limon
B) 4 bütün limon
C) 3 bütün limon



6) Yukarıda Metehan , Gözde ve Hümeysra'nın duvar saatleri sırasıyla gösterilmiştir. Kimin duvar saati yanlış göstermektedir ?

A) Gözde B) Metehan C) Hümeysra

7) Babamın kütlesi 72 kilogramdır. Benim kütlem ise babamın kütlesinden 45 kilogram eksiktir. İkimizin toplam kütlesi kaç kilogramdır?

A) 95 kg B) 27 kg C) 99 kg

26, 98, 56, 11, 32

8) Doğal sayılarının büyükten küçüğe doğru sıralanışı aşağıdakilerden hangisidir?


- A) $98 > 56 > 32 > 26 > 11$
B) $11 < 26 < 32 < 56 < 98$
C) $32 > 11 > 26 > 56 > 98$

9) Aşağıdaki şekillerden hangisinin simetri doğrusu yanlış çizilmiştir?

A)



B)



C)

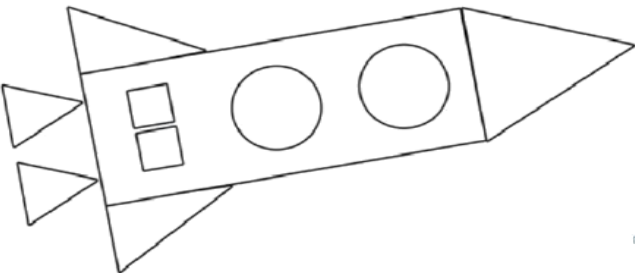


10) Yukarıda verilen şekillerle aşağıdaki geometrik şekillerden hangisi oluşturulur?

- A) Küp
B) Dikdörtgen prizma
C) Kare prizma

11) Çiftçi Ahmet, 96 kg soğanı 3'er kilogramlık çuvalara ayırmak istiyor. Acaba Ahmet'in kaç çuvala ihtiyacı vardır?

- A) 32 B) 30 C) 35



12) Yukarıdaki verilen uzay mekiğiyle ilgili aşağıdaki bilgilerden hangisi doğrudur?

- A) Uzay mekiğinde 3 tane dikdörtgen vardır.
B) Uzay mekiğinde 5 tane üçgen vardır.
C) Uzay mekiğinde 3 tane kare vardır.

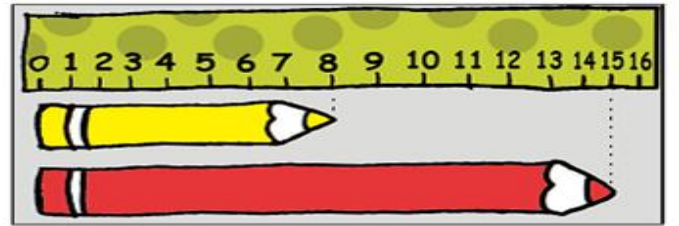
Çiçek Türleri	Çiçek Sayısı
Gül	III
Lale	
Karanfil	II
Sümbül	
Zambak	
Papatya	

Çetele tablosu bir çiçekçide bulunan çiçekleri ve sayılarını göstermektedir. 13. Soruyu tabloya göre cevaplayınız.

13) Çiçekçide en az hangi çiçek var?
A) Gül B) Karanfil C) Lale

14) Manavdan kilogramı 4TL olan muzdan 4kg, kilogramı 3 TL olan portakaldan 5 kg alan biri, kasaya 50 TL veriyor. Ne kadar para üstü almalıdır?

- A) 16 B) 31 C) 19



İki arkadaş kalemlerinin uzunluklarını ölçüyorlar. Kırmızı kalem sarı kalemten ne kadar uzundur?

- A) 7 B) 8 C) 9

HAYAT BİLGİSİ

1) Aşağıdakilerden hangisi Milli Bayramlarımızdan biri değildir?

- A) 23 Nisan Ulusal Egemenlik ve Çocuk Bayramı
- B) 29 Ekim Cumhuriyet Bayramı
- C) Ramazan Bayramı

2) Atatürk'ün çocuklara armağan ettiği Milli Bayram aşağıdakilerden hangisidir?

- A) Ulusal Egemenlik ve Çocuk Bayramı
- B) Cumhuriyet Bayramı
- C) Zafer Bayramı

• Misafirlere ikram etmek için çeşitli yiyecekler hazırlanır.

• Evler temizlenir.

• Yeni kıyafetler alınır.

3) Yukarıdakilerden kaç tanesi dini bayramlardan önce yapılan hazırlıklardandır?

- A) 1
- B) 2
- C) 3

1. Ramazan Bayramı

2. Cumhuriyet Bayramı

3. Zafer Bayramı

4. Kurban Bayramı

4) Yukarıda verilen bayramlardan hangileri dini bayramlardır?

- A) 2-3
- B) 3-4
- C) 1-4

5) Yurdumuz aşağıdaki kıtalardan hangisinin üzerinde yer alır?

- A) Avrupa ve Afrika kıtası
- B) Avrupa ve Asya kıtası
- C) Avrupa ve Afrika kıtası

Eyüp: Yatmadan önce lambayı kapatmam, açık bırakırım.

Özgür: Boşa akan musluk görürsem hemen kapatırım.

Derya: Diş fırçalarken suyu özenli kullanır, boşa akıtmam.

6) Yukarıdaki sözleri söyleyen çocuklardan hangilerinin tasarruflu olduğunu söyleyebiliriz?

- A) Eyüp ile Özgür
- B) Eyüp ile Derya
- C) Özgür ile Derya

7) Çeşitli sebeplerle ülkemize göç eden insanlar vardır. Buna göre aşağıdakilerden hangisi yanlıştır?

- A) Ülkemize göç etmiş olan arkadaşlarımız için bu durum oldukça kolaydır.
- B) Eksiklerini gidermeleri konusunda yardımcı olmalıyız
- C) Farklı ülkelerden geldiklerinden Türkçeyi öğrenmeleri için yardım etmeliyiz.

8) Aşağıdakilerden hangisi toplu taşıma araçlarında uymamız gereken davranışlardandır?

- A) Telefonda yüksek sesle konuşmak
- B) Emniyet kemerini takmamak.
- C) Boş bir koltuğa oturup ayakta yolculuk etmemek.

9) Deprem anında hangisini yaparsak doğru davranmış oluruz?

- A) Merdivenlere koşmak
- B) Asansöre binip binadan çıkmak.
- C) Sağlam bir eşyanın yanına çömelip, depremin bitmesini beklemek.

10) Aşağıdaki seçeneklerden hangisinde kara taşıtları bulunmaktadır?

- A) Gemi ,vapur, kamyonet
- B) Otobüs ,tramvay ,taksi
- C) Otobüs, uçak, helikopter

* Mustafa Kemal Atatürk'ün soyadını annesi vermiştir.

* Mustafa Kemal Atatürk 'ün anıt mezarı İstanbul' dadır.

* Mustafa Kemal Atatürk İstanbul' da

* Dolmabahçe Sarayı'nda vefat etmiştir.

11) Yukarıdaki ifadeler doğru-yanlış olarak eşleştirme yapılırsa nasıl bir sonuç çıkar?

- A) Y-Y-D
- B) D-D-Y
- C) D-Y-Y



12) Yukarıdaki haritada "B" ile gösterilen yerin adı nedir?

- A) Ege Denizi
- B) Karadeniz
- C) Marmara Denizi

13) Aşağıdaki seçeneklerin hangisinde doğal unsurlar bir arada verilmiştir?

- A) Köprü - Dağ - Yol
- B) Dağ - Ağaç - Göl
- C) Ağaç - Göl - Baraj

14) Aşağıdaki hayvanlardan hangisinin yaşam alanı yanlış verilmiştir?

- A) Aslan Orman
- B) Balık Deniz
- C) Kartal Kafes

15) Aşağıdakilerden hangisi tarım ile uğraşan bir kişinin elde ettiği ürünlerden değildir?

A)

Bal



B)

Mısır



C)

Buğday



TÜRKÇE

Ayla, perdenin kenarından sızan ışık yüzüne vurunca hemen uyandı. Yatağından sevinçle kalkarak pencerenin yanına koştu. Önce perdeyi sonra da pencereyi açtı. Yeni doğan Güneş, ısıltı ısıltı dünyaya gülümserken kuşlar da civıltılarıyla doğayı uyandırmaya çalışıyordu. Gözlerini kapatıp mis gibi havayı defalarca içine çekti. Bu güzel pazar gününü ailesiyle dolu dolu yaşamak için hemen bir plan yapması gerektiğini düşündü.

1.2. ve 3. soruları yukarıdaki paragrafa göre cevaplayınız.

1. Hangi durum Ayla'nın uyanmasına neden olmuştur?

- A) Ani bir tıkırtı duymuştur.
- B) Perde kenarından sızan ışık yüzüne vurmuştur.
- C) Kuşların civıltılarından uyanmıştır.

2. Ayla yatağından nasıl bir duyguyla kalkmıştır?

- A) Merakla
- B) Sevinçle
- C) Endişeyle

3. Doğayı uyandırmaya kimler çalışmaktadır?

- A) Güneş
- B) Kuşlar
- C) Ayla

4) " koyun " sözcüğü hangisinde diğerlerinden farklı anlamda kullanılmıştır?

- A) Şu kitapları dolaba koyun.
- B) Bu koyunlar pazarda satılacak.
- C) Şu börekleri koyun masaya.

5) Aşağıdaki cümlelerin hangisinde anlatım bozukluğu vardır?

- A) Bahçede bulunduğu anahtarı müdüre verdi.
- B) Bebeğin, kara siyah gözleri vardı.
- C) Küçük kız, yavaşça içeri girdi.

Keşke derslerime biraz daha çalışsaydım, şimdi takdir belgesi almış olacaktım."

6) Yukarıdaki cümlede aşağıdaki

duygulardan hangisi dile getirilmektedir?

- A) özlem
- B) öfke
- C) pişmanlık

Kumbara -sanayi- kiremit- sandalye

7) Kelimelerini alfabetik sıraya koyarsak, en sonda hangi sözcük bulunur?

- A) sanayi
- B) kumbara
- C) sandalye

Ali, sarı yapraklar arasında iki ayva gördü.

8) Cümlesinde geçen varlıkların özelliklerini belirten sözcük aşağıdaki seçeneklerden hangisinde doğru olarak verilmiştir?

- A) Ayva - sarı
- B) İki - yaprak
- C) sarı - iki

1- değildir

2- başarıya

3- çalışmıyorsanız

4- ulaşmanız

5- mümkün

9) Yukarıdaki kelimeler nasıl sıralanırsa anlamlı ve kurallı bir cümle olur?

- A) 3-2-4-5-1
- B) 3-2-5-4-1
- C) 5-3-2-4-1

10) "Anı" sözcüğünün eş anlamlısı aşağıdaki cümlelerin hangisinde vardır?

- A) Annem, bize çocukluk hatıralarını anlattı.
B) Kalemlerimi koyduğum yeri unuttum.
C) Anlamadığım konuları öğretmenime sordum.

11) Aşağıdaki cümlelerin hangisinde yazım yanlışı vardır?

- A) Mutfakta birimi var?
B) Aliler Ankara'ya gidiyormuş.
C) TBMM 23 Nisan 1920'de açıldı.

12) Cümlede parantezle belirtilen yerlere sırasıyla hangi noktalama işaretleri gelmelidir?

"Eyvah () Cüzdanım düşmüş ()
Gördünüz mü ()?"

- A) (!) (?) (.)
B) (!) (.) (?)
C) (!) (.) (,)

13) Aşağıdaki il adlarından hangisi birleşik ad değildir?

- A) Kırıkkale B) Rize C) Nevşehir

Pazardan patatez, sovan, patlıcan ve kabak aldı.

14) Yukarıdaki cümlede kaç tane sözcüğün yazımı yanlıştır?

- A) 1 B) 2 C) 3

15) Aşağıdaki cümlelerin hangisinde Niçin sorusunun cevabı yoktur?

- A) hasta olduğu için okula gelemedi.
B) çocuk bir köşede ağlıyordu.
C) sular akmadığı için banyo yapamadım.

Hazırlayan: Tuncay YILDIRICI