

RAUF NAİL AKMAN İLKOKULU 2-A SINIFI  
AĞUSTOS AYI KAZANIM DEĞERLENDİRME SINAVI

BU KİTAPÇIKTA  
TÜRKÇE 15 SORU  
MATEMATİK 15 SORU  
HAYAT BİLGİSİ 15 SORU  
TOPLAM 45 SORU  
YER ALMAKTADIR

SINAV TARİHİ: 16 AĞUSTOS 2020 PAZAR GÜNÜ

HAZIRLAYAN: TUNCAY YILDIRICI

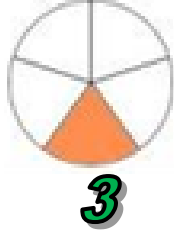
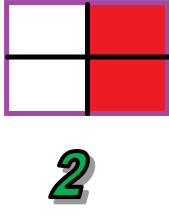
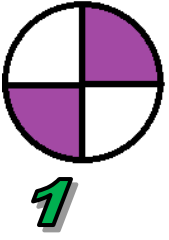
**RAUF NAIL AKMAN İLKOKULU 2-A SINIFI AĞUSTOS AYI KAZANIM DEĞERLENDİRME  
SINAVI CEVAP FORMU**

MATEMATİK			
1	A	B	C
2	A	B	C
3	A	B	C
4	A	B	C
5	A	B	C
6	A	B	C
7	A	B	C
8	A	B	C
9	A	B	C
10	A	B	C
11	A	B	C
12	A	B	C
13	A	B	C
14	A	B	C
15	A	B	C

HAYAT BİLGİSİ			
1	A	B	C
2	A	B	C
3	A	B	C
4	A	B	C
5	A	B	C
6	A	B	C
7	A	B	C
8	A	B	C
9	A	B	C
10	A	B	C
11	A	B	C
12	A	B	C
13	A	B	C
14	A	B	C
15	A	B	C

TÜRKÇE			
1	A	B	C
2	A	B	C
3	A	B	C
4	A	B	C
5	A	B	C
6	A	B	C
7	A	B	C
8	A	B	C
9	A	B	C
10	A	B	C
11	A	B	C
12	A	B	C
13	A	B	C
14	A	B	C
15	A	B	C

## MATEMATİK



Yukarıdaki şekillerin hangisi  $\frac{2}{4}$  kesrini ifade etmez?

- A) 1      B) 2      C) 3



2) Yukarıdaki geometrik cisimlerden köşe sayısı en az olan hangisidir?

- A) Küp  
B) Dikdörtgenler prizması  
C) Üçgen prizma

3) Ahmet ile Zeynep aynı yıl doğmuşlardır. Ahmet yılın ilk ayı, Zeynep ise yılın son ayı doğmuştur. Buna göre Ahmet ve Zeynep'in doğdukları aylar sırasıyla hangileridir?

- A) Şubat-Kasım  
B) Ocak-Aralık  
C) Temmuz-Aralık

4) Aşağıdakilerden hangisi küreye örnek olarak verilmez ?

A)



B)



C)



5) Aşağıdaki şekillerden hangisinin simetri doğrusu çizilemez?

A)



B)



C)



6) Aşağıdaki saate göre oyuna başlayan Ayşe iki saat oyun oynadıktan sonra saat kaç olmuştur?



- A) 5.00      B) 7.00      C) 9.00

7) 21 tane muz, 3 kişi her gün birer tane yiyoruz. Muzlar kaç haftada biter?

- A) 1      B) 7      C) 2

8) Bir terzi 15 metrelik kumaştan 3'er metrelik pantolonlar diyor. Pantolonların tanesini 12 TL'ye satıyor. Terzi tüm pantolonları sattığına göre bu iş sonunda kaç TL kazanır?

- A) 56      B) 70      C) 60

9) 4 kardeş 52 TL'yi eşit olarak paylaşacak. Her biri kaç TL alır?


- A) 10      B) 13      C) 18

10) Ben 13 yaşımdayım. Ablam benden 3 yaş büyük, kardeşim ise benden 2 yaş küçüktür. 2 yıl sonra yaşlarımız toplamı kaç olur?

- A)46 B)56 C)40

11) Aşağıdakilerden hangisini kilogram ile satın alamayız?

- A) B) C)



Abdullah ile Buğra, sınıf arkadaşlarına takımı tuttuklarını sorarak yandaki çetele tablosunu oluşturmuşlar.

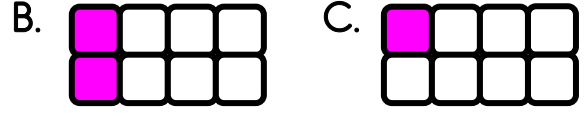
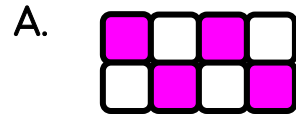
Galatasaray	
Fenerbahçe	
Beşiktaş	
Trabzonspor	
Bursaspor	

12) Bu çetele tablosuna göre sınıfta, en çok taraftarı olan takım hangisidir?

- A) Galatasaray  
B) Fenerbahçe  
C) Bursaspor



13) Aşağıdaki şekillerden hangisinde çeyrek kesir belirtilmiştir?



14) Yukarıdaki paralardan 10 TL çıkarılıp 15 TL eklersek kaç TL paramız olur?

- A) 50 B) 45 C) 40

15) Elif 3 Mayıs'ta İstanbul'a tatile gitmiştir. Elif, 9 gün tatil yapmıştır. Elif eve hangi tarihte dönmüştür?

- A) 12 Mayıs  
B) 9 Mayıs  
C) 10 Mayıs

## HAYAT BİLGİSİ

1) Dağlık olan ve otun çok olduğu yerde en çok hangi faaliyetin olması beklenir?

- A) Tarım B) Sanayi C) Hayvancılık

2) Aşağıdakilerden hangisi milli kültürümüze ait değildir?

- A) Nasrettin Hoca  
B) Noel Baba  
C) Hacivat Karagöz

3) Binalarımızı sağlam zeminlere yapmak Binalarımızı yaparken kaliteli malzeme kullanmak. Yukarıdaki önlemlere neye karşı alınan önlemlerdir?

- A) Heyelan B) Çığ C) Deprem

4) Güneşin doğuşunu ve batışını odamdan izleyemiyorum. Bu bilgiyi veren Ayşe'nin odası hangi yöne bakıyor olabilir?

- A) Doğu B) Kuzey C) Batı

5) Çığ en çok hangi koşullarda oluşur?

- A) Rüzgarın çok olması  
B) Karın çok yağması  
C) Yağmurun çok yağması

Eylül- Ekim - Kasım

6) Yukarıdaki aylar hangi mevsimin aylarıdır?

- A) Sonbahar B) Yaz C) Kış

7) Aşağıdakilerden hangisi çevre kirliliğine yol açar?

- A) Ağaç dikmek  
B) Atık pilleri toprağa atmak  
C) Yol yapmak



8) Türkiye'nin güneyinde yer alan denizin adı aşağıdakilerden hangisidir?

- A) Marmara Denizi  
B) Karadeniz  
C) Akdeniz

9) Aşağıdakilerden hangisi kâğıt geri dönüşüm kutusuna atılmalıdır?



10) Dünyamızın Güneşin etrafında dönmesi ile aşağıdakilerden hangisi oluşur?

- A) Mevsimler  
B) Gece ve gündüz  
C) Bir gün

11) Her yıl 23 Nisan günü bayram yapmamızın nedeni aşağıdakilerden hangisidir?

- A) Atatürk'ün Samsun'a çıkması.  
B) Türkiye Büyük Millet Meclisinin açılması.  
C) Kurtuluş Savaşı'nın sona ermesi.

12) Kişisel bakım yaparken tutumlu olmak için aşağıdakilerden hangisini yapmak uygun olmaz?

- A) Boş yere elektriği açık bırakmamalıyız.
- B) Kişisel bakımımızı daha az yapmalıyız.
- C) Gereksiz su kullanımından kaçınmalıyız.

13) Aşağıdakilerden hangisi tarımsal alanlarda yapılan üretim faaliyetlerinden değildir?

- A) Kuzuları otlatma
- B) Mısır ekilmesi
- C) Buğdayın ekilmesi

14) Aşağıdaki bayramlardan hangisinde koyun, keçi veya büyükbaş hayvanlar alınır?

- A) Zafer Bayramı
- B) Kurban Bayramı
- C) Ramazan Bayramı

15) Aşağıdakilerden hangisi evinizde kullandığınız teknolojik ürün ve aletlerin yararlarındandır?

- A) Az zamanda çok iş yapmamızı sağlar.
- B) Kullandığımız kaynakların tükenmesine neden olur.
- C) Aile bireyleri daha çok yorulur.

## TÜRKÇE

### Mustafa Kemal Atatürk

Bin dokuz yüz yirmi bir yılında düşman orduları Sakarya'ya doğru ilerliyordu. Mustafa Kemal Paşa, başkomutan olarak düşman ordusunun ilerleyişini durdurmak için ordunun yönetimini eline aldı. Cepheye gitti.

Bir gün Sakarya'da cepheye dolaşırken ayağı kayarak yere düştü. Kaburga kemikleri kırılan Mustafa Kemal, alçılar içinde yatağa girdi. Doktorlar kendisine uzun süre dinlenmesini, böyle yapmazsa hayatının tehlikeye gireceğini söyledikleri zaman Mustafa Kemal:

-Hayır, diye cevap verdi. Benim hayatım değil memleketin kurtulması önemlidir.

1) Mustafa Kemal nerede dolaşıyordu?

A) cepheye B) bahçede C) yolda

2) Mustafa Kemal, ordunun yönetimini niçin ele aldı?

A) Dinlenmek için  
B) Düşmanın ilerleyişini durdurmak için  
C) İlerlemek için

3) Düşman orduları, ne zaman Sakarya'ya doğru ilerliyordu?

A) Bin dokuz yüz yirmi bir yılında  
B) Savaş başlamadan önce  
C) Mustafa Kemal yaralanınca

4) Doktorlar, Mustafa Kemal'e ne söylediler

A) Uzun süre dinlenmesini  
B) Savaşa devam etmesini  
C) Evine dönmesini

5) Aşağıdaki cümlelerin hangisinde " Ne zaman " sorusunun cevabı vardır?

A) Yarın ailece sinemaya gideceğiz.  
B) Okulun bahçesinde top oynadık.  
C) Selim'in kardeşi anaokuluna gidiyor.

6) "masa, odun, bez, sıra, defter" sözcüklerini sözlük sırasına göre sıraladığımızda baştan üçüncü sözcük hangisi olur?

A) masa B) odun C) defter

7) "Kızılırmak, , onbaşı, karagöz, askılık" kelimelerinden kaç tanesi birleşik isimdir?

A ) 4 B ) 3 C ) 2

1. Sabah erkenden uyandı.

2. Çünkü sabah erken kalkıp yolculuğa çıkacaktı.

3. Akşam erkenden yatması gerekiyordu.

4. Kahvaltısını yapıp yola çıktı.

8) Yukarıdaki cümlelerin oluş sırasına göre sıralanışı aşağıdakilerden hangisidir?

A) 1-3-2-4

B) 2-4-3-1

C) 3-2-1-4

9)Aşağıdaki cümlelerin hangisinde özel isim kullanılmamıştır?

A) Nehirde balık tuttuk.

B) Irmak, bize şiir okudu.

C) Deniz, kitap okumayı çok sever.

10) Aşağıdaki tümcelerın hangisinde özel isimlere getirilen ekler doğru yazılmıştır?

A) Sinan'lar bize geldiler.

B) Türkiye'nin başkenti Ankara'dır.

C) Nevşehirli sporcular ülkemizi temsil ettiler.

11) Hangisinde yazım yanlışı yapılmamıştır?

A ) Aysunun kedisi kaçtı.

B ) Kedimiz pamuk elimi tırmaladı.

C ) Kuşum Boncuk konuşmaya başladı.

12) Aşağıdaki sözcüklerden hangisinde eş sesli bir sözcük yoktur?

A) Babamla çayda balık tuttuk.

B) Bu gün arkadaşlarımla yaş günümü kutladık.

C) Çarşıda çantamı kaybettim.

13) Ağır" sözcüğü aşağıdaki cümlelerin hangisinde farklı bir anlamda kullanılmıştır?

A)Çantam çok ağır taşımakta zorlanıyorum.

B) Bu yemek çok ağır kokuyor, yemem mümkün değil.

C) Utku'nun taşıdığı paketler çok ağırdı.

14) Aşağıdaki metinde hikaye unsurlarından yer ve zaman hangi seçenekte verilmiştir?

Bahar gelince her yanı çiçekler sarar.  
Bahçemizde açan güller, renk renk  
menekşeler mis gibi kokar.

	Yer	Zaman
A)	toprak	bahar
B)	bahçe	bahar
C)	orman	yaz

15) Hangi çocuğun yazdığı tümcede varlıkların özelliklerini bildiren sözcük yoktur?

A-Bahçeden topladığım sarı üzümler bal gibiydi.

B-Akvaryumdaki minik balıklara yem verdim.

C-Kelebekler çiçeklere konuyordu.