

RAUF NAİL AKMAN İLKOKULU 2-A SINIFI
EYLÜL AYI KAZANIM DEĞERLENDİRME SINAVI

BU KİTAPÇIKTA
TÜRKÇE 15 SORU
MATEMATİK 15 SORU
HAYAT BİLGİSİ 15 SORU
TOPLAM 45 SORU
YER ALMAKTADIR

SINAV TARİHİ: 6 EYLÜL 2020 PAZAR GÜNÜ

HAZIRLAYAN: TUNCAY YILDIRICI

**RAUF NAIL AKMAN İLKOKULU 2-A SINIFI EYLÜL AYI KAZANIM DEĞERLENDİRME
SINAVI CEVAP FORMU**

MATEMATİK			
1	A	B	C
2	A	B	C
3	A	B	C
4	A	B	C
5	A	B	C
6	A	B	C
7	A	B	C
8	A	B	C
9	A	B	C
10	A	B	C
11	A	B	C
12	A	B	C
13	A	B	C
14	A	B	C
15	A	B	C

HAYAT BİLGİSİ			
1	A	B	C
2	A	B	C
3	A	B	C
4	A	B	C
5	A	B	C
6	A	B	C
7	A	B	C
8	A	B	C
9	A	B	C
10	A	B	C
11	A	B	C
12	A	B	C
13	A	B	C
14	A	B	C
15	A	B	C


TÜRKÇE			
1	A	B	C
2	A	B	C
3	A	B	C
4	A	B	C
5	A	B	C
6	A	B	C
7	A	B	C
8	A	B	C
9	A	B	C
10	A	B	C
11	A	B	C
12	A	B	C
13	A	B	C
14	A	B	C
15	A	B	C

MATEMATİK

1) Aşağıdakilerden hangisi kütle ölçü birimi olan kilogramdır?



2) Aşağıdakilerden hangisi kilogram ile tartılmaz?



3) Günlük 2 litre süt tüketen bir aile, 2 haftada kaç litre süt tüketir?

- A) 4 Litre B) 14 Litre C) 28 Litre

4) Metin 35 metrelik demir bir çubuğu 7 eşit parçaya ayırmıştır. Buna göre her bir çubuğun uzunluğu kaç cm'dir?

- A) 45 cm B) 50 cm C) 5 cm

5) Aşağıda verilen şekilde bir ataşın boyu 4 cm olduğuna göre, kalemin boyu kaç santimetredir?

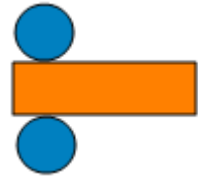


- A) 20 cm B) 25 cm C) 30 cm

6) Aşağıda verilen şekil grafiğine göre en az mevcudu olan sınıf 2-D sınıfı olup 20 kişidir. Buna göre bu grafikte her şekil kaç kişiyi göstermektedir?

2-A	2-B	2-C	2-D	2-E

- A) 4 B) 5 C) 6



7) Yukarıda açılımı verilen geometrik cisim aşağıdakilerden hangisidir?

- A) Koni B) Silindir C) Küre



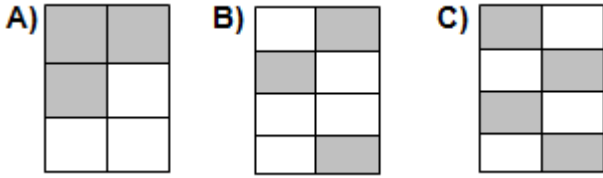
8) Odamızdaki halıyı yuvarlarsak hangi geometrik cisim oluşur?

- A) Koni B) Silindir C) Küre

9) 19.00 da başlayan haberler 20.00'ta bitiyor. Haberler kaç dakika sürmektedir?

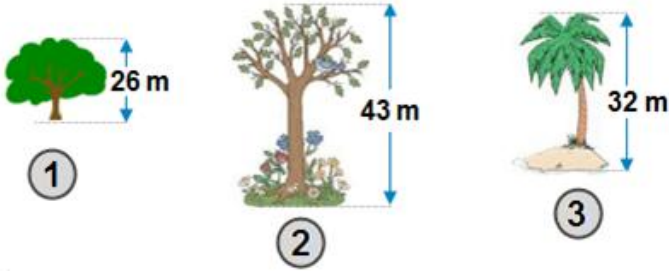
- A) 4 B) 5 C) 1

10) $\frac{3}{8}$ kesrini aşağıdaki şekillerden hangisi ifade eder?



11) 66 yaşındaki dedemin yaşını 6'ya bölüp 3 ile çarparsak annemin yaşını buluruz. Annem kaç yaşındadır?

- A) 21 B) 33 C) 38



12) Yukarıdaki ağaçlardan hangisinin boyu, 30 metreye daha yakındır?

- A) 1. ağaç B) 2. ağaç C) 3. ağaç

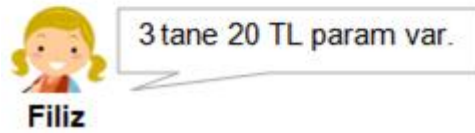
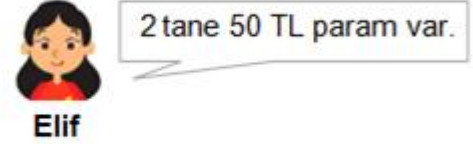
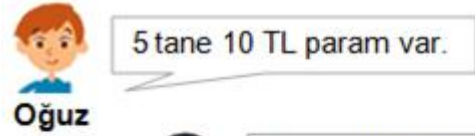
13) Aşağıdaki harflerden hangisine hem yatay, hem de dikey simetri doğrusu çizilebilir?

A) T B) U C) H

14 19 24 29 34 39

14) Yukarıda verilen sayı örüntüsünün kuralı aşağıdakilerden hangisidir?

- A) Üçerli artmak
B) Dörderli artmak
C) Beşerli artmak



15) Yukarıdaki çocuklardan hangisinin parası daha fazladır?




- A) Oğuz B) Elif C) Filiz

HAYAT BİLGİSİ

1) Aşağıdakilerden hangisi elektrik kullanımında güvenli bir davranıştır?

- A) Islak elle prize dokunmak.
- B) Elektrikli ev aletlerini kullandıktan sonra fişini prizden çekmek.
- C) Telde elektrik olup olmadığını elimizle kontrol etmek.

2) Aşağıdakilerden hangisi deniz ulaşım aracıdır?



3) Bitkilerin yaşaması için gerekli olan maddeler aşağıda verilenlerden hangisidir?

- A) Toprak — Taş — Tohum
- B) Hava — Tohum — Ekmek
- C) Hava — Su — Güneş Işığı

Emir'in babası çok güzel bir köpek almış. Emir köpeğe bakabilmek için;

- 1- Yaşayacağı yeri hazırlamak.
- 2- Sağlıklı beslemek.
- 3- Gerekli sağlık kontrollerini yaptırmak.

4) Emir, yukarıdakilerden hangilerini yapmalıdır?

- A) 1 ve 2
- B) 1, 2 ve 3
- C) 2 ve 3

5) Aşağıdakilerden hangisi evcil hayvan beslemenin faydalarındandır?

- A) Sadece hayvanımızla oynarız.
- B) Sorumluluk almayı öğreniriz.
- C) Arkadaşlarımızdan uzaklaşırız.

6) Aşağıdakilerden hangisi etle beslenen bir hayvan değildir?

- A) Aslan
- B) Kurt
- C) Eşek

7) Doğanın korunmasını sağlamak için aşağıdakilerden hangisini yapmamalıyız?

- A) Ağaç dikmeliyiz.
- B) Doğal hayatı korumalıyız.
- C) Ormanları yakmalıyız.

- 1- Etinden yararlanırız
- 2- Sütünden yararlanırız
- 3- Yününden yararlanırız
- 4- Gücünden yararlanırız

8) Yukarıda özellikleri verilen canlılar aşağıdakilerden hangisidir?

- A) Bitkiler
- B) Hayvanlar
- C) Ormanlar

9) Dünyamızın kendi etrafında dönmesi ile aşağıdakilerden hangisi oluşur?

- A) Mevsimler
- B) Gece ve gündüz
- C) Aylar

10) Aşağıdakilerden hangisi Yaz mevsiminin özelliğidir?

- A) Havanın çok sıcak olması
- B) Ağaçların yaprak açması
- C) Yaprakların dökülmesi

11) Aşağıdaki doğal afetlerden hangisinin sebebi diğerlerinden farklıdır?

- A) Heyelan
- B) Yangın
- C) Deprem

12) Aşağıda deprem ile ilgili verilen bilgilerden hangisi doğrudur?

- A) Depremi önlemek için ağaç dikmeliyiz.
- B) Depremden korunmak için depreme dayanıklı binalar yapmalıyız.
- C) Deprem sırasında asansörlere binmeliyiz.

Plastik

Cam

Kağıt

13) Yukarıda verilenlerden hangileri geri dönüştürülebilir malzemeler arasındadır?

A)

B)

C)



14) Yukarıdaki milli kültürümüzün adı nedir?

- A) Nasreddin Hoca
- B) Keloğlan
- C) Hacivat ile Karagöz

15) Her yıl 29 Ekim tarihinde coşkuyla kutladığımız bayram aşağıdakilerden hangisidir?

- A) Ulusal Egemenlik ve Çocuk Bayramı
- B) Zafer Bayramı
- C) Cumhuriyet Bayramı

TÜRKÇE

HATİCE’NİN SÜRPRİZİ

Çıkış zilinin çalmasına birkaç dakika kalmıştı. Hatice anlatılanların birçoğunu dinleyememişti. Çabucak eve gitmek, teyzesinin armağanı olan sulu boyalarla resim yapmak istiyordu. Bu saatlerde annesi, mutfakta yoğun bir çalışma içinde olurdu. Hatice’yi sevindiren de buydu. Kimsecikler görmeden en güzel resimleri yapıp dosyalayacaktı. Belki de bir gün, biriken resimleriyle, bir sürpriz yapıp herkesi şaşırtabilirdi. O zaman teyzesi, annesi, babası, hele de mızıkçı kardeşi, nasıl da şaşkına döneceklerdi kim bilir.

1, 2 ve 3. soruları yukarıdaki paragrafa göre cevaplayınız.

1. Hatice dersi niçin dinleyememişti?

- A) Karnı acıktığı için
- B) Hasta olduğu için
- C) Eve gidip resim yapmak istediği için

2. Hatice’nin yapmak istediği sürpriz nedir?

- A) En güzel resimleri dosyalayıp herkesi şaşırtmak
- B) Çizdiği resimlerle sergi açmak
- C) Kardeşinin resmini çizmek

3. Hatice kimleri şaşırtmak istiyor?

- A) Arkadaşlarını ve öğretmenlerini
- B) Büyük annesini, halasını, teyzesini
- C) Teyzesini, annesini, babasını

4. Aşağıdaki dizelerin hangisinde zıt anlamlı kelimeler birlikte kullanılmıştır?

- A) Uzun ince bir yoldayım.
- B) Gidiyorum gündüz gece.
- C) Bilmiyorum ne haldeyim.

5) “Yaş” kelimesi aşağıdaki cümlelerin hangisinde farklı anlamda kullanılmıştır ?

- A) Arabalar yaş zeminde kayar.
- B) Bu işlerin yaşı başı olmaz.
- C) Adam yaşamış, göreceğini görmüştü.

6) “Kuş” ile “yuva” kelimeleri arasında bir anlam ilişkisi vardır. “İnsan” ile aşağıdakilerden hangisi arasında buna benzer bir ilişki olabilir?

- A) Ev B) Okul C) Çeşme

7) Aşağıdaki cümlelerin hangisinde varlıkları niteleyen kelime yoktur?

- A) Yeşil biberlerin hepsi acı değil.
B) Şahin'in resmi çok güzeldi.
C) Böyle güzel okul sevilmez mi?

Cevap öğrenci hatıra

8) Yukarıdaki kelimelerin yanlarına sırasıyla getirilecek eş anlamlı kelimeler hangileridir?

- A) yanıt- talebe-anı
B) sual-öğretmen-armağan
C) yanıt-okul-hediye

elli okudum tatilde kitap

1 2 3 4

9) Yukarıdaki kelimelerle anlamlı ve kurallı bir cümle oluşturulduğunda sıralama nasıl olur?

- A) 2-3-1-4 B) 3-1-4-2 C) 1-2-3-4

10) Aşağıdakilerden hangisi sözlükte önce gelir?

- A)kalem B) portakal C)) ülke

11) Aşağıdakilerden hangisi çoğul eki almıştır?

- A) siler B) güler C) eller

12) Fındık aşağıdaki cümlelerin hangisinde özel isim olarak kullanılmıştır?

- A) Babam iki kilo fındık aldı.
B) Fındık'ı bugün veterinerine götürdük.
C) Fındık bu sene çok pahalıya satıldı.

13) Aşağıdakilerin hangisinde yazım yanlışı yapılmıştır?

- A) Nesrinin bisikleti var.
B) Zekiye kardeşine gitti.
C) Cevdet'i aradım.

1- Beril arkadaşından özür diledi.

2-Çarptığı kişi arkadaşı Ömer'di.

3-Teneffüs zili çalınca Beril koşarak sınıftan

çıktı.

4- Arkadaşı onu affetti.

5-Merdivenlerden inerken birine çarptı.

14. Yukarıdaki cümleleri oluş sırasına göre sıraladığımızda sıralama nasıl olur?

- A) 5-4-3-1-2 B) 3-5-2-1-4 C) 1-2-3-4-5

15) Cümlede parantezle belirtilen yerlere sırasıyla hangi noktalama işaretleri gelmelidir?
“Eyvah () Cüzdanım düşmüş() Gördünüz mü()

- A) (!) (?) (.) B) (!) (.) (?) C) (!) (.) (,)