

3.  
SINIF

# KAZANIM DEĞERLENDİRME SINAVI

Adı:.....  
Soyadı :.....  
Sınıfı :..... No :.....





Aşağıdaki cümlelerde altı çizili ifadeleri, uygun soru sözcükleriyle eşleştiriniz. Her numara için eşleştirdiğiniz sembolü optik formda işaretleyiniz.

Okul müdürümüz, bir uçurtma şenliğinin yapılacağını söyledi.

1



Nerede?

Şenlik, ilçe stadyumunda gerçekleşecekmiş.

2



Kim?

0 günün akşamında babamla birlikte renge-  
renk bir uçurtma yaptık.

3



Niçin?

Şenliğe katılacağımız için çok mutluydum.

4



Nasıl?

Aşağıdaki cümlelerden noktalama işaretleri doğru kullanılmış olanlar için "D" seçeneğini, yanlış kullanılmış olanlar için "Y" seçeneğini optik formda işaretleyiniz.



5

Babam işi gereği önce İstanbula, oradan İzmir'e gideceğini söyledi.



6

Futbol turnuvasını 1.inci sırada tamamladığımızda mutluluğumuz görülmeye değeri.



7

Bisikletimin lastiğinin nasıl patladığını anlayamadım.



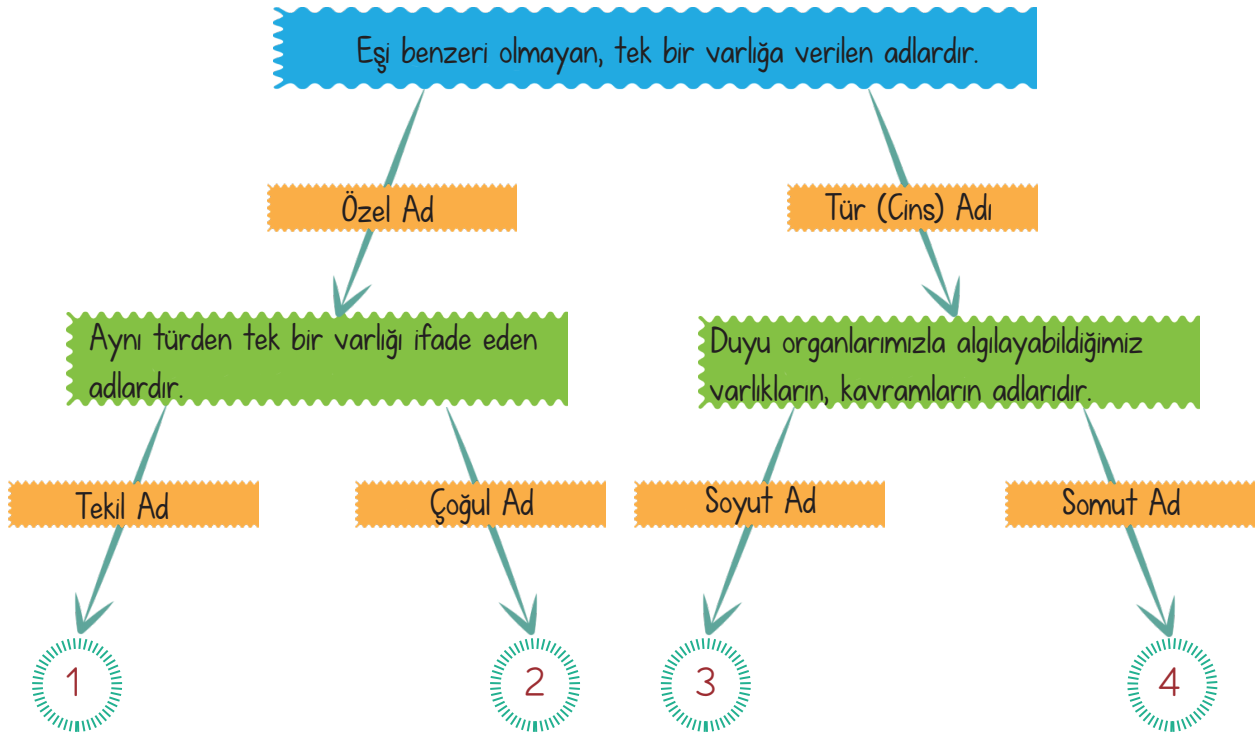
8

Öğretmenimiz, 15.05.2020 tarihinde veli toplantısı yapacağını söyledi.



9

Aşağıdaki kavram haritasında açıklamalardan yola çıkarak tanımları takip ederek çıkışı ulaşınız. Ulaştığınız çıkışın numarasını optik formdan işaretleyiniz.



10



Ben, Aysel ve Nursel okulda sek sek oynadık.


Yukarıdaki cümlede "Ben, Büşra ve Simge" yerine hangisi yazılabilir?

A) Siz

B) Biz

C) Onlar

11




Yukarıdaki sözcükler, zıt anlamlılık ilişkisine göre eşleştirilecektir. Buna göre eşleştirme gerçekleştiğinde nasıl bir şekil ortaya çıkar?

A)



B)



C)



12



Görseldeki çocuk ile ilgili aşağıdakilerden hangisi söylene-  
mez?

- A) Dayanışmaya önem verir.
- B) Görev ve sorumluluklarını bilir.
- C) Dağınıktır..

13

Babamla birlikte hafta sonu hayvanat bahçesine gitmiştik. Daha önceden televizyonlarda gördüğüm hayvanları canlı olarak görme fırsatı yakaladım. Aslanlar, kaplanlar, filler, zürafalar, maymunlar... Hepsi birbirinden güzeldi. Gezinti sırasında bir an kendimi onların yerine koydum. Her türlü ihtiyaçları karşılanıyor, bakımları yapılıyor ama tüm yaşamları kafeste geçiyor. Benim tüm yaşantımın evde geçmesi gibi bir şeydi bu. Oldukça sıkıcı. Bence her canlı ait olduğu yerde, hak ettiği gibi yaşamalı.

Bu metnin başlığı aşağıdakilerden hangisi olamaz?

- A) Maymunların Yaşantısı
- B) Hayvanat Bahçesi Gezisi
- C) Kafesten Doğaya

14



Tohumlar filizlenip büyümeye başladığında fidelerin bardağa sığmadığını farkettilim.



Durumu anneme anlattım ve annemle birlikte aldığımız saksıya domatesleri diktik.



Öğretmenim ve arkadaşarımla birlikte pet bardaklara domates tohumları ektik.

Yukarıda çiçeklerle belirtilen cümleler, oluş zamanlarına göre sıralanacaktır.

Buna göre sıralama aşağıdakilerden hangisi gibi olmalıdır?

A)



B)



C)



15

I) En çok kırmızı kazağımlı sevirorum.

II) Ailece yuvarlak masanın etrafında toplandık.

III) Yanlışlıkla kırık saldılyeye oturmuşum.

Yukarıda verilen cümlelerin hangilerinde varlığın biçimi belirtilmiştir?

A) I ve II

B) II ve III

C) I, II ve III



Günlerden bir gün, köylerden birinde bir çiftçinin eşiği kör kuyuya düşer. Eşek saatlerce acı içinde kıvrılır ve bağırır. Sesini duyan sahibi gelip baktığında zavallı eşiği kuyunun dibinde görür.

Çaresiz çiftçi köylüleri yardıma çağırır. Köylüler kör kuyudaki eşiği kurtarmak için ne yapacaklarını düşünürlər ama sonuçta onu kurtarmanın imkânsız olduğuna ve bunun için çalışmaya değmeyeceğine karar verirler.

Tek çare, kuyuyu toprakla örtmektir. Herkes ellerine aldığı küreklerle etraftan kuyunun içine toprak atar. Zavallı hayvan, üzerine gelen toprakları, her seferinde silkerek dibe döker. Bir süre sonra ise ayaklarının altına aldığı toprak sayesinde her an biraz daha yükselir ve sonunda yukarıya kadar çıkar. Köylüler kuyudan dışarı çıkan eşiğe çok şaşırır.

İşte hayat da bazen bizim üzerimize yüklenir ve üzerimiz toz toprakla örtülüyormuş gibi olur. Bunlarla baş etmenin tek yolu, yakınıp sızlanmak değil, düşünüp silkinmek ve kurtulmak, aydınlığa adım atmaktır. Kör kuyuda olsak bile...

16 ve 17. soruları yukarıdaki metne göre yanıtlayınız.

16

Metinde aşağıdakilerden hangisinin yanıtı yok-tur?

- A) Eşiğin sahibi kimden yardım ister?
- B) Eşek kuyudan nasıl çıkmış?
- C) Eşek kuyuya nasıl düşmüş?

17

Hikayenin ana düşüncesi nedir?

- A) Eşiğin değeri
- B) Olumsuzluklarla mücadelenin önemi
- C) Köylünün çabası

18

Bugünkü sınavımın çok iyi geçti ..... günlerdir bu sınava hazırlanıyorum.

Yukarıda cümlede verilen boşluğu, aşağıdakilerden hangisiyle tamamlamak uygun olur?

- A) çünkü
- B) buna rağmen
- C) oysa

19

Aşağıdakilerden hangisi hayal ürünü bir ifade içermektedir?

- A) Kardeşimle zaman geçirmeyi çok seviyorum.
- B) Büyüyünce itfaiyeci olmak istiyorum.
- C) Sabahın ilk ışıkları çiçeklerle dans ediyor.

20

☐ Pazardan aldıklarımızı taşımaktan kollarım koptu.

☐ Oyuncaklarını kaybettiği için çok üzgündü.

☐ Dünyaları yedim, yine de doymadım.

Verilen cümlelerde duygusal ifadelerin başına "D", abartılı ifadelerin başına ise "A" harfi konulacaktır.

Buna göre sıralama aşağıdakilerden hangisi gibi olmalıdır?

A)

A  
D  
A

B)

D  
A  
D

C)

A  
D  
D



Aşağıdaki geometrik şekillerle ilgili açıklamaları, uygun geometrik şekil ile eşleştiriniz. Her numara için eşleştirdiğiniz sembolü optik formda işaretleyiniz.

4 kenarı, 4 köşesi vardır ve tüm kenar uzunlukları birbirine eşittir.

1



5 kenarı, 5 köşesi vardır ve tüm kenar uzunlukları birbirine eşittir.

2



3 kenarı, 3 köşesi vardır ve kenar uzunlukları farklı uzunluklarda olabilir.

3



6 kenarı, 6 köşesi vardır ve tüm kenar uzunlukları birbirine eşittir.

4



Aşağıdaki ifadelerden doğru olanlar için "D", yanlış olanlar için "Y" seçeneğini optik formda işaretleyiniz.

5

8 tane 25 kr., 2 TL yapar.



6

6 TL'nin içinde 4 tane 1 TL, 4 tane 50 kr. vardır.



7

En büyük kağıt paramız 100 TL'dir.



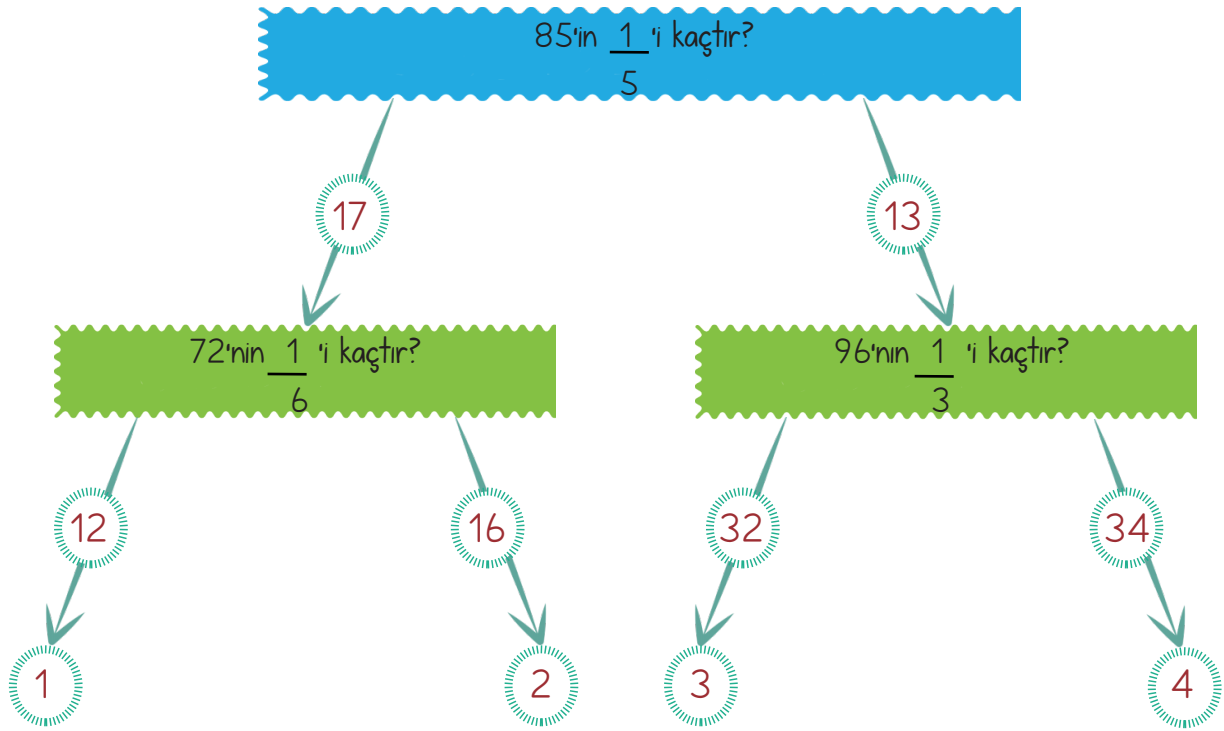
8

625 kr., 6 TL 250 kr. yapar.

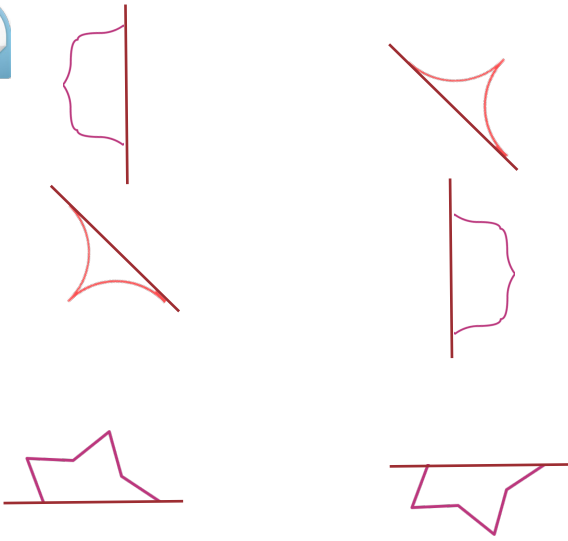


9

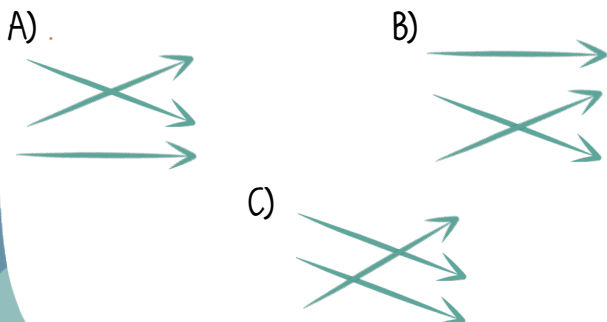
Aşağıdaki kavram haritasında soruların yanıtlarını takip ederek çıkışa ulaşınız. Ulaştığınız çıkışın numarasını optik formdan işaretleyiniz.



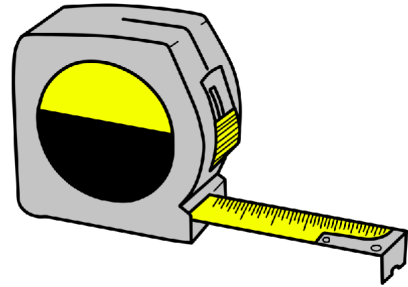
10



Yukarıda simetrik olarak ayrılan şekillerin eşleri hangi seçenekte doğru olarak verilmiştir?



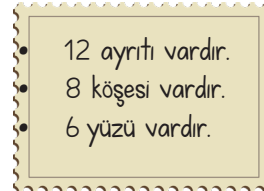
11



Yukarıda görsel hangi çizgi modeline örnektir?

A) Doğru B) Doğru Parçası C) Işın

12



- 12 ayrıtı vardır.
- 8 köşesi vardır.
- 6 yüzü vardır.

Yukarıdaki özellikler, hangi geometrik cisimlerin ortak özellikleridir?

A) Silindir, koni, küre  
B) Üçgen prizma, kare prizma, küp  
C) Küp, kare prizma, dikdörtgen prizma

13

Aşağıdaki eşitliklerden hangisi yanlıştır?

A)

3 kg  
300 g

B)

200 g



C)

800 g



14

Nesneler	kg	g
Küpe		
Koltuk		
Bisiklet		

Nesnelerin kütle ölçümü kg veya g olmasına göre "X" işareti ile gösterildiğinde tablo nasıl olur?

A)

kg	g
X	
	X
X	

B)

kg	g
	X
X	
X	

C)

kg	g
X	
	X
	X

15

Kilosu 8 TL olan karpuzdan 11 kg alan Gökçe, manava 100 TL para vermiştir. Buna göre Gökçe, kaç TL para üstü alır?

A) 12

B) 20

C) 22

16



Yukarıda verilen paraların toplam miktarı aşağıdakilerden hangisidir?

A) 71 TL 50 kr.

B) 72 TL

C) 70 TL 75 kr.

17



Yukarıda gösterilen zamanın 2 saat 45 dakika sonrası öğleden sonra kaçtır?

A)



B)



C)





18



Ahmet, her gün 16.00 ile 16.45 saatleri arasında satranç kursuna katılmaktadır. Buna göre Ahmet'in, iki haftada sonunda kaç dakikası satranç kursunda geçmiştir?

- A) 45 dakika      B) 315 dakika      C) 630 dakika

19



Yukarıdaki şekilde boyalı olarak gösterilen kesrin, kesir olarak ifade edilişi aşağıdakilerden hangisidir?

- A)  $\frac{2}{8}$       B)  $\frac{8}{2}$       C)  $\frac{6}{8}$

20

İşlemler	Sonuç		
	48	32	42
$96 \div 3$			
$12 \times 4$			
$68 - 26$			

Yukarıdaki tablo, işlem sonuçlarına "X" atarak doldurulduğunda hangi seçenek doğru olur?

A)

48	32	42
	X	
X		
		X

B)


48	32	42
X		
	X	
		X

C)

48	32	42
		X
	X	
X		



Aşağıdaki araç - gereçler ile kullandığı enerji kaynaklarını eşleştiriniz. Optik formda her numara için eşleştirdiğiniz sembolü işaretleyiniz.



Aşağıdaki ifadelerden doğru olanlar için "D" seçeneğini, yanlış olanlar için "Y" seçeneğini optik formda işaretleyiniz.

5

Ormanlar, yapay çevreye örnektir.

D

Y



6

Ses kaynağına yaklaştıkça sesin şiddeti artar.



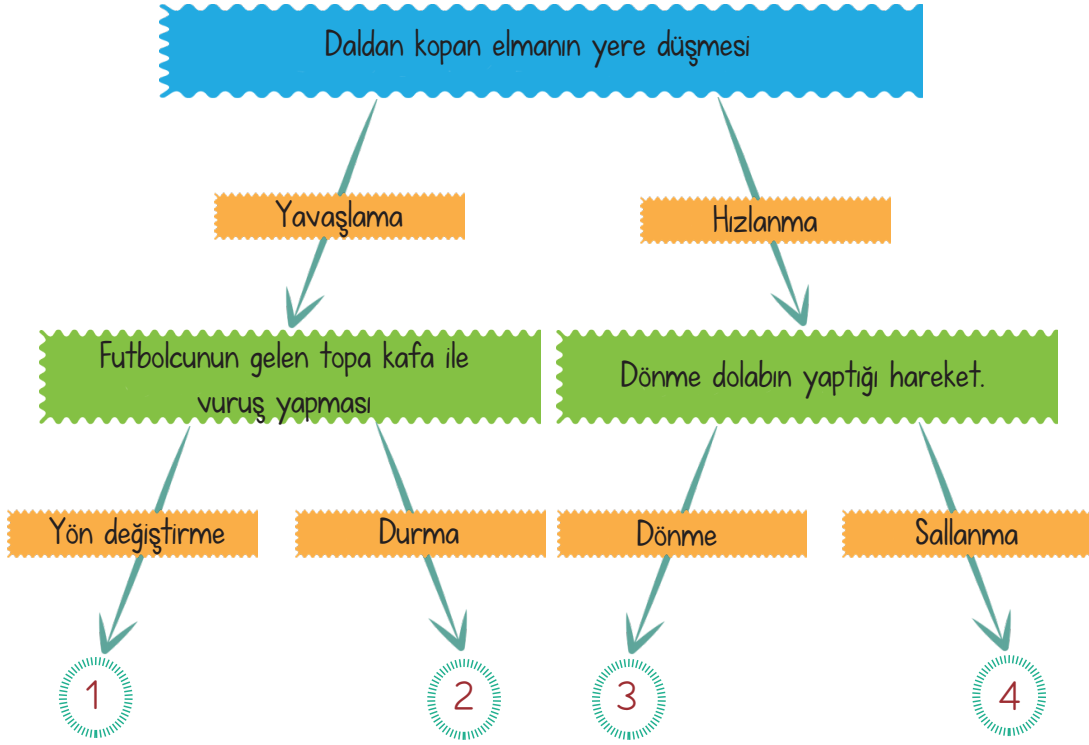
7

Cam, kırılkan ve pürüzsüz bir yapıya sahiptir.



8

Aşağıdaki kavram haritasında verilen bilgilerden yola çıkarak ok yönünde ilerleyiniz. Ulaştığınız çıkışın numarasını optik formdan işaretleyiniz.



9

Aşağıdaki elektrikli araçlardan hangisinin kullanım amacı diğerlerinden farklıdır?

A)




B)



C)



11



Yukarıdaki görselle ilgili aşağıdakilerden hangisi söylenemez?

- A) Kendi besinlerini, kendileri üretirler.
- B) Yer değiştirebilirler.
- C) Kökleri, su kaynağına doğru ilerler.

10

Pil atıkları için aşağıdakilerden hangisinin yapılması uygundur?

- A) Uygun atık kutusuna atmak
- B) Çöp kutusuna atmak
- C) Boş arazilere atmak

12

Aşağıdakilerden hangisi tükenebilir kaynaklardan birisi değildir?

A)



B)



C)



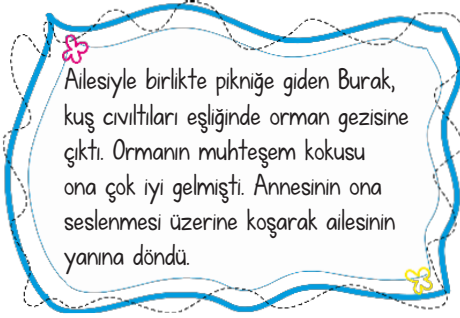
13



Elektiriğin yol açabileceği tehlikelerden korunmak için aşağıdakilerden hangisi yapılmamalıdır?

- A) Islak zeminde elektrikli araç gereçleri çalıştırmak
- B) Bozulan elektrikli araç gereçleri, alanında uzman kişilere tamir ettirmek
- C) Prizlere, iletken ve sivri cisimleri sokmamak

14



Yukarıda anlatılan olayda hangi duyuya yer verilmemiştir?

A)



B)



C)



15

Hava Kirliliği	Su Kirliliği	Toprak Kirliliği



Funda, çevre kirliliğine yol açan etmenleri sınıflandırmak istiyor. Buna göre aşağıdaki etmenlerden hangisi hava kirliliğine yol açan etmenlere yazılabilir?

- A) Pillerin çevreye atılması
- B) Yağların lavabolara dökülmesi
- C) Ağaçların kesilmesi





Yaptığı çalışmalarla ülkemize katkıda bulunan kişilerin hangi alanlarda çalıştığını eşleştiriniz. Optik formda her numara için eşleştirdiğiniz sembolü işaretleyiniz.

Naim Süleymanoğlu 1

Arkeolog

Jale İnan 2

Kağıt Mühendisi

Engin Arık 3

Halterci

Mehmet Ali Kağıtçı 4

Fizik Profesörü

Aşağıdaki ifadelerden doğru olanlar için "D" seçeneğini, yanlış olanlar için "Y" seçeneğini optik formda işaretleyiniz.

D

Y

5 Bitkiler havadaki zararlı gazları emer, havaya yararlı gazlar verir.



6 İlleri kaymakam, ilçeleri ise vali yönetir.

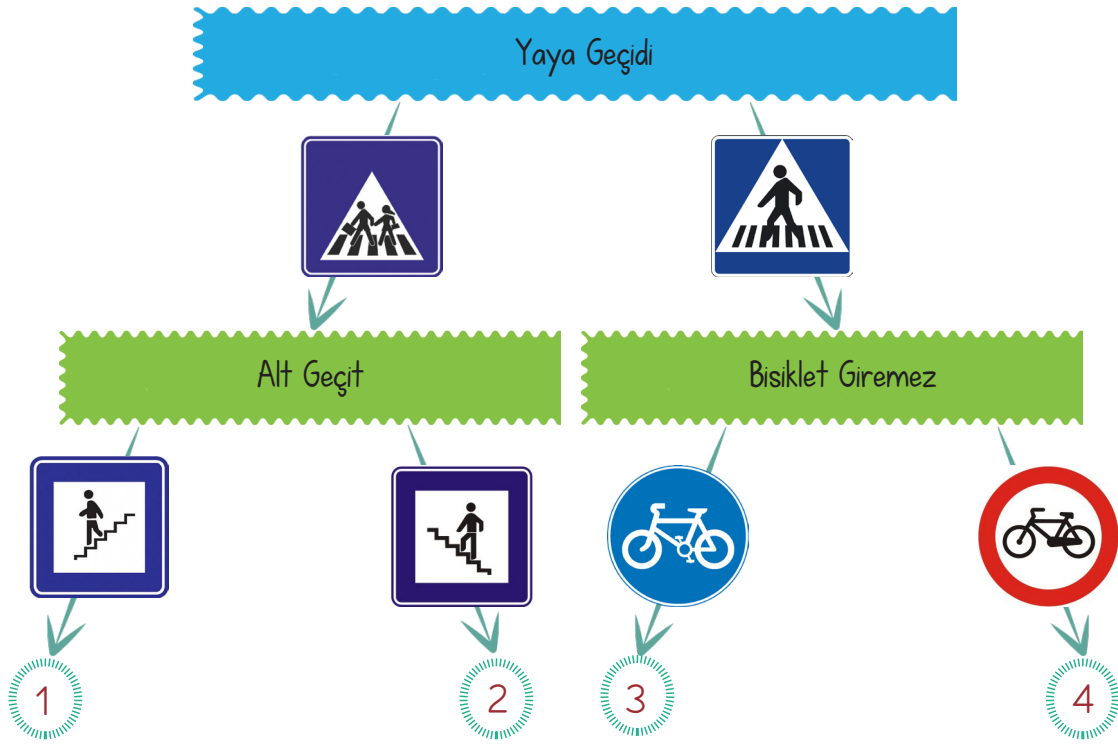


7 Güvenliğimizi tehdit eden bir durumda bağırarak yardım istemeliyiz.



8

Aşağıdaki kavram haritasında verilen trafik levhalarından ve anlamlarından yola çıkarak ok yönünde ilerleyiniz. Ulaştığınız çıkışın numarasını optik formdan işaretleyiniz.



9

Aşağıdaki yön bulma yöntemleriyle ilgili verilen bilgilerden hangisi doğrudur?

A)



Pusulanın renkli ucu daima güneyi gösterir.

B)



Kutup Yıldız daima kuzeyi gösterir.

C)



Karınca yuvalarının girişi doğuyu gösterir.

10

Aşağıdakilerden hangisi ortak kullanım alanlarından değildir?

A)

Okul



B)

Cami



C)

Ev



11

Aşağıdaki hayvanlardan hangisinin nesli tükenme tehlikesiyle karşı karşıyadır?

A)



B)



C)



12

Aşağıdaki sahip olduğumuz hak ve hürriyetlerden hangisi diğerlerinden farklıdır?

A)

Gökhan'ın ailesiyle birlikte İstanbul'a gitmesi.

B)

Meltem'in hayalindeki üniversiteyi kazanması.

C)

Furkan'ın ilgedeki ana okuluna kaydolması.

13

Çanakkale Savaşı sırasında Atatürk, düşman donanmasının nereden çıkarma yapacağını sezerek gerekli tedbirleri almıştır.

Yukarıda belirtilen durum, Atatürk'ün hangi özelliği ile ilgilidir?

A) Vatanseverliği

B) Açıksözlülüğü

C) İleri görüşlülüğü

14




Ecem, annesi ve kardeşiyle birlikte babaannesi ve dedesini ziyarete gittiler. Sohbet esnasında konu, babaannesinin çocukluğunda oynadığı oyunlardan açıldı. Babaannesi bu sohbette hangi oyundan söz etmiş olamaz?

A)



B)



C)



15

Bilinçli bir tüketici aşağıdaki davranışlardan hangisini yapmaz?

A)

Pahalı ürünleri tercih eder.

B)


TSE damgasına bakar.

C)

Fiş ve fatura alır.



Aşağıdaki kelimeleri uygun görsellerle eşleştiriniz.



Görsellere göre verilen cümlelerden doğru olanlar için "D" seçeneğini, yanlış olanlar için "Y" seçeneğini optik formdan işaretleyiniz.



My ball is red and white..



My car is blue





7



Yukarıdaki görsel evin hangi bölümüne aittir?

A)

Kitchen

B)

Bathroom

C)

Bedroom

8

I feel .....



Yukarıdaki cümlede noktalı yere gelmesi gereken kelime, aşağıdakilerden hangisidir?

A)

Happy


B)

Angry

C)

Sad

9



How many bicycles are there?

A) There is one bicycles

B) There is seven bicycles.

C) There are seven bicycles.

10



What is he doing?

A) He is running.

B) He is sleeping.

C) He is swimming.