

.....

Hiç durmadan çalışır,  
Güçlüklerle uğraşır.  
Evine erzak taşır,  
Çalışkandır karınca.  
  
Evi yerin altında,  
Ambarı alt katında,  
Her iş onun sırtında,  
Ne aslandır karınca.

Hasan Ali YÜCEL

1 ve 2. soruyu yukarıdaki şiire göre cevaplayalım.

1) Şiirin başlığı nedir?

- A) Aslan
- B) Karınca
- C) Tilki

2) Karıncanın evi neredeymiş?

- A) Taşların altında
- B) Ağacın içinde
- C) Yerin altında

3) Hangi kelimenin hece sayısı diğerlerinden daha fazladır?

- A) domates
- B) salatalık
- C) meyveler

4) "Erken" kelimesinin zıt anlamlısı, aşağıdaki cümlelerin hangisinde kullanılmıştır?

- A) Erken yatmazsan elbet erken kalkamazsın.
- B) Her sabah Güneş doğmadan kalkarım.
- C) Maalesef okula yine geç kaldım.

5) "Tahtadaki ..... kim yazdı?"

Yukarıdaki cümleyi en doğru şekilde hangisiyle tamamlayabiliriz?

- A) yazıyı
- B) kalemi
- C) kitabı



6) Yukarıdaki görselin konusu ne olabilir?

- A) Çevre Temizliği
- B) Sağlıklı Beslenmek
- C) Sınıf Kuralları

7) Aşağıdaki cümlelerden hangisinin sonuna farklı bir noktalama işareti gelmelidir?

- A) Yaşasın, ablam gelmiş ( )
- B) Ne zaman geldiniz ( )
- C) Kaç ekmek aldın ( )

8) çek lek çi bi

Yukarıdaki hecelerle hangi kelimeyi yazamayız?

- A) bilek
- B) çiçek
- C) leylek

9) Aşağıdaki cümlelerin hangisinde özel isim sayısı daha fazladır?

- A) Beril yaz tatilinde Ankara'ya gidecekti.
- B) Esra ve Burak İzmir'e gitti.
- C) Hafta sonu Nil ve Yağmur ile kitap okuduk.

10) Aşağıdaki özel isimlerden hangisi kesme işareti ile yanlış ayrılmıştır?

- A) Esra'ya
- B) Gökhan'ın
- C) Burcu'ya

11)

1. çalışıyor 2. Eylül  
3. ders 4. odasında

Yukarıdaki kelimelerle anlamlı ve kurallı bir cümle oluşturduğumuzda sıralama nasıl olur?

- A) 2-4-1-3
- B) 2-4-3-1
- C) 4-2-3-1



1) Yukarıdaki hayvanlardan kaç tanesi **küme**te barınır?

- A) 3 B) 2 C) 1

2)






Yukarıda hangi **hayvan türüne** örnekler verilmiştir?

- A) sürüngenler B) böcekler  
C) kuşlar

3) Bitkilerle ilgili aşağıdaki bilgilerden hangisi **yanlıştır**?

- A) Bitkilerde doğanın bir parçasıdır.  
B) Canlılar için besin kaynağıdır.  
C) Çevreyi kirletirler.

4) Hangisi geri dönüşüm sembolüdür?





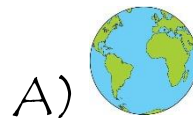
5)



Yukarıdaki atıklardan kaç tanesinin geri dönüşümü yapılabilir?

- A) 2 B) 3 C) 4

6) Gerçekliği düşünüldüğünde hangi gök cismi diğerlerinden daha **büyüktür**?





1 2 3 4

7) Verilen bitkinin tohumdan filize kadar büyüme sırası hangisidir?

- A) 2-4-3-1
- B) 1-4-3-2
- C) 1-3-4-2




8) Geceleri gökyüzünün bulutsuz olduğu bir zamanda gökyüzünde hangisini göremeyiz?

- A) Güneş
- B) Yıldızlar
- C) Ay

9) Aşağıdaki verilenlerden hangisi yanlıştır?

- A) Hayvanların barınaklarına zarar vermeliyiz.
- B) Yerlere çöp atmamalıyız.
- C) Bitkileri koparıp ezmemeliyiz.

10) Aşağıdaki hayvanların ne ile beslendiği verilmiştir. Hangisi yanlıştır?

- A)  inek - ot
- B)  köpek - ot
- C)  eşek - ot



Güneş, Ay'dan büyüktür.






Dünya, Güneş'ten küçüktür.

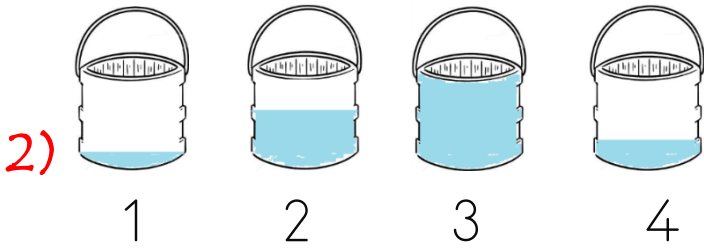
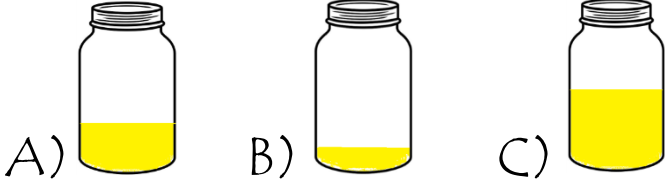


Ay, Dünya'dan büyüktür.

11) Yukarıdaki çocuklardan hangisi yanlış bilgi vermektedir?

- A) 
- B) 
- C) 

1) Yandaki kavanoza hangisini eklersek kavanozun **tamamı** dolar?



Kovaları sıvı miktarına göre **çoktan aza** doğru sıralarsak sıralama nasıl olur?


- A) 1-4-2-3  
B) 3-2-4-1  
C) 3-2-1-4



Yukarıdaki geometrik cisimlerin toplam köşe sayısı kaçtır?

- A) 0 B) 1 C) 2


4) Yandaki tencereyi hangisini kullanarak daha **çabuk** doldururuz.



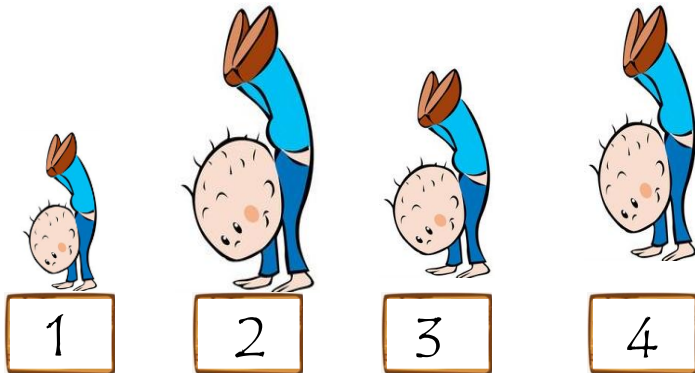
Bahçe çitimizin uzunluğunu aşağıdakilerden hangisiyle ölçmemiz daha doğru olur?

- A) kulaç B) karış C) parmak

6) Bir pazarcı tezgahındaki 18 kavunun 7 tanesini sabah , 6 tanesini de öğlen sattı. Pazarcının kaç kavunu kaldı?







7. Yukarıdaki çocukların boyları kısıdan uzuna doğru sıralandığında sıralama nasıl olur?

- A) 2-4-3-1 B) 1-4-3-2  
C) 1-3-4-2



Selin Göktürk Elif

8. Çocukların boy uzunluğuyla ilgili hangisi yanlıştır?

- A) Göktürk, Selin'den uzundur.  
B) Elif, Göktürk'ten kısadır.  
C) Selin ve Elif aynı boydadır.

9) Yukarıdaki örüntünün kuralı nedir?

- A) 1 top, 2 köpek, 1 çiçek  
B) 2 top, 1 köpek, 2 çiçek  
C) 1 top, 1 köpek, 1 çiçek



Yandaki saatten üç saat önce saat kaç gösterir?

- 10) A) saat dokuzu B) saat sekizi  
C) saat yediyi

Tablo: Kitap sayıları

Kitaplar	Sayıları
Zeynep	6
Gökhan	7
Ercan	4

11) Tabloya göre toplam kaç kitap vardır?

- A) 18 B) 17 C) 16

Cevaplarınızı kontrol ediniz...

# CEVAPLAR

TÜRKÇE	HAYAT BİL.	MATEMATİK
1.B	1.A	1.C
2.C	2.B	2.B
3.B	3.C	3.A
4.C	4.A	4.C
5.A	5.C	5.A
6.A	6.C	6.B
7.A	7.B	7.C
8.C	8.A	8.C
9.B	9.A	9.A
10.A	10.B	10.B
11.B	11.C	11.B