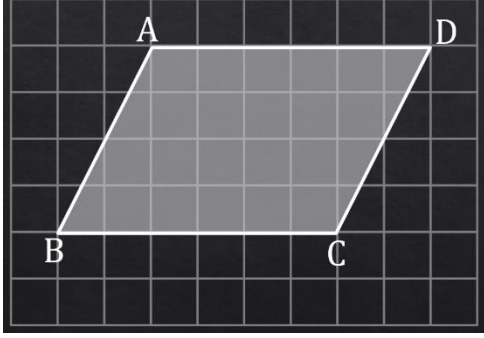
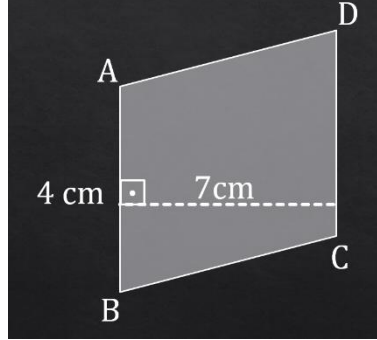


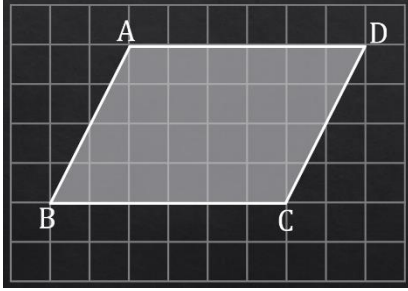
Ör: Şekilde verilen paralelkenarda CD kenarına yükseklikler çizelim.



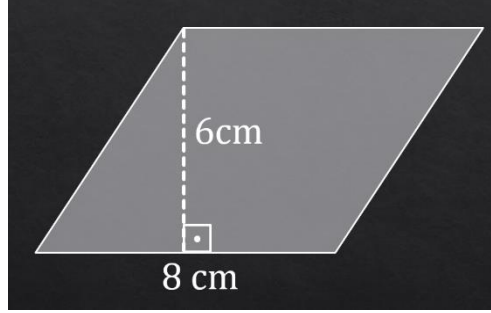
ör: Şekilde verilen paralelkenarın alanı kaç cm^2 'dir?



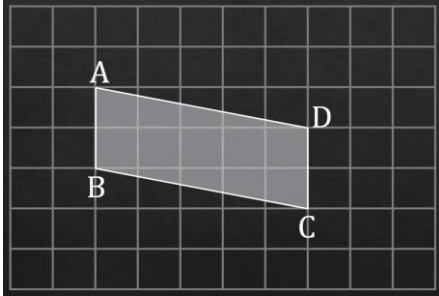
ör: Şekilde verilen paralelkenarın alanı kaç cm^2 'dir?



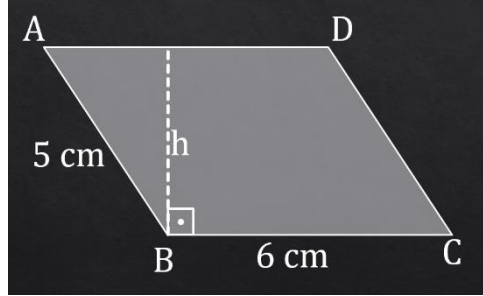
ör: Şekilde verilen paralelkenarın alanı kaç cm^2 'dir?



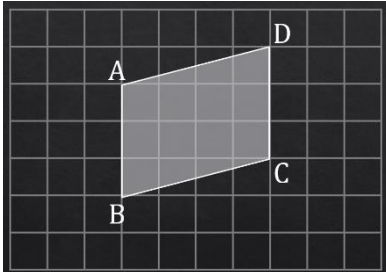
ör: Şekilde verilen paralelkenarın alanı kaç cm^2 'dir?



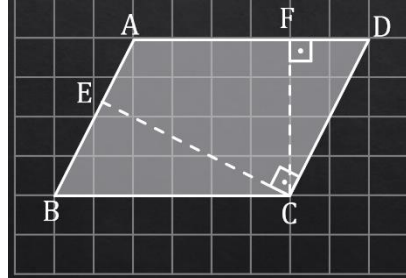
ör: Şekilde verilen paralelkenarın alanı kaç cm^2 'dir?



ör: Şekilde verilen paralelkenarın alanı kaç cm^2 'dir?



ör: Şekilde verilen ABCD paralelkenarında [EC] ve [FC] yükseklik olmak üzere



$$| FC | = 4 \text{ cm}$$

$$| EC | = 8 \text{ cm}$$

$$| CD | = 6 \text{ cm old. göre}$$

$$| AD | \text{ kaç cm'dir?}$$