

2. Sınıf Deneme Sınavı

1.Dönem
1. Deneme Sınavı



Adı:.....

Soyadı:.....

Sınıfı:.....

2. sınıf TÜRKÇE

Aşağıdaki şiiri okuyunuz. 1. 2. 3. ve 4. soruları metne göre cevaplayınız.

Her sabah kahvaltıyı,
Çıkmamalı yapmadan.
Kaynamış yumurtayı,
Yemeliyiz rafadan.

Sütü, beyaz peyniri,
Hiç ihmal etmemeli.
Gıdalı ürünleri,
Yemeden gitmemeli.

Doymak beslenmek olmaz.
Beslenmeyi bilmeli.
Her şey karın doyurmaz,
Çok dikkat edilmeli.

Gıda temiz olmalı,
Temiz gıdalar besler.
Bol suyla yıkanmalı,
Meyveler ve sebzeler.

1) Şiire göre yumurta nasıl yenmelidir?

- ☐ A Yağda kızartılarak
- ☐ B Suda kaynatılarak
- ☐ C Bol bol yıkayarak

2) Aşağıdaki besinlerden hangisi şiirde bahsedilmemiştir?

- ☐ A Beyaz peynir
- ☐ B Süt
- ☐ C Zeytin

3) Şiire göre bol suyla yıkanması gereken gıdalar hangileridir?

- ☐ A Yumurta
- ☐ B Meyveler ve sebzeler
- ☐ C Beyaz peynir


4) Yukarıdaki şiirin konusu aşağıdakilerden hangisidir?

- ☐ A Sağlıklı beslenmek
- ☐ B Sabah kahvaltı yapmak
- ☐ C Bol bol meyve yemek



5) Yukarıdaki görsellerinin isimlerinin alfabetik sıralaması (sözlük sırası) hangisinde doğru verilmiştir?

- (A) 3 - 2 - 1
- (B) 2 - 1 - 3
- (C) 3 - 1 - 2



6) Yukarıdaki çiçeğin yapraklarındaki sayılar alfabemizdeki harflerin sıra numarasını göstermektedir. Harfleri birleştirerek hangi kelime yazılabilir?

- (A) Kitap
- (B) Kalem
- (C) Melek



7) Yukarıdaki görselin ismi ile ilgili hangi bilgi yanlıştır?

- (A) 7 harfli ve 3 hecelidir.
- (B) 3 tane sesli (ünlü) harf vardır.
- (C) 5 tane sessiz (ünsüz) harf

babam yarın ankaraya gidecek?

8) Yukarıdaki cümlede kaç tane yazım yanlışı yapılmıştır?

- (A) 3
- (B) 4
- (C) 5

9) Aşağıdaki kelimelerden hangisi hecelerine doğru ayrılmıştır?

- (A) Ok - u - yo - rum
- (B) At - a - türk
- (C) Tel - e - viz - yon

plaj

çarpi

park

kent

spor

cirit

10) Yukarıdaki kelimelerden kaç tanesi tek heceli kelimedir?

A 3

B 4

C 5

sıcak

uzun

yağmur

gece

rüzgar

soğuk

gündüz

kisa

11) Yukarıdaki zıt anlamlı kelimeleri eşleştiriniz. Eşleşmeyen kelimeler hangileridir?

A yağmur - rüzgâr

B uzun - gündüz

C yağmur - soğuk

12) Aşağıdaki cümlelerin hangisinde yazım yanlışı yapılmıştır?

- A Bu yaz tatil için İzmir'e gideceğiz.
 B Sabah kahvaltıda yumurta peynir ve zeytin yedim.
 C Acemi şoför Atatürk Caddesinde kaza yaptı.

Oyun oynamak her çocuğun hakkıdır. Oyun oynamak eğlencelidir. Ancak oyun oynarken sadece eğlenmeyiz. Oyun oynarken aynı zamanda spor yapmış oluruz. Yardımlaşırız. Hayal gücümüz gelişir. Kurallara uyma alışkanlığımız gelişir.

13) Yukarıdaki metnin konusu aşağıdakilerden hangisidir?

- A Çocukların mutlu olması
 B Sağlıklı yaşamak
 C Oyun oynamanın faydaları

14) Yukarıdaki metin için hangi başlık uygun olur?

- A Oyunun Önemi
 B Yardımlaşma
 C Birlikte Eğlenelim.

TÜRKÇE

- 1) kaynaklar
- 2) öderiz
- 3) evimizde
- 4) için
- 5) kullandığımız
- 6) para

15) Kelimelerin tamamını kullanarak kurallı ve anlamlı bir cümle oluşturunca sıralama nasıl olur?

- (A) 3 – 6 – 4 – 1 – 5 – 2
(B) 6 – 2 – 3 – 1 – 5 – 4
(C) 3 – 5 – 1 – 4 – 6 – 2

MATEMATİK

Beş onluk sekiz birlik

48

43

59

1) Yukarıda onluk ve birlik sayısı verilen sayının okunuşu hangisidir?

- (A) Elli sekiz
(B) Seksen beş
(C) On sekiz

2) Yukarıda verilen sayılardan hangisi 50 sayısına daha yakındır?

(A) 48

(B) 43

(C) 59

3 birlik 5 onluk

8 birlik 3 onluk

4 onluk 9 birlik

1 onluk 7 birlik

3) Yukarıda verilen sayılardan hangisi en büyüktür?

A 83

B 49

C 94



4) Yukarıda ritmik saymada A ve B yerine sırası ile hangi sayılar yazılmalıdır?

A 43-51

B 44-52

C 45-53

$$5 + 7 + 4 = ?$$

5) Yukarıda toplama işleminin sonucunun birler basamağında hangisi bulunur?

A 5

B 6

C 4



6) Yukarıdaki yeşil ve kırmızı elmaların sayısına göre aşağıdaki bilgilerden hangisi yanlıştır?

A Yeşil elmaların sayısı bir desteden 6 tane fazladır.


B Kırmızı elmaların sayısı bir düzineden 8 tane fazladır.

C Kırmızı elmaların sayısı iki desteden 2 tane eksiktir.

18 - 22 - 26 - 30 - **AB** - 38

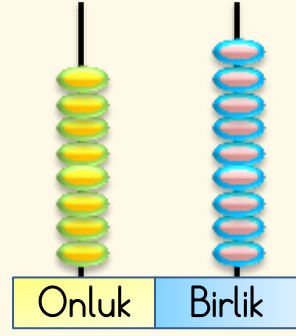
7) Yukarıda örüntüye göre **B+A** işleminin sonucu kaçtır?

- (A) 12 (B) 15 (C) 32



8) Yukarıda verilen görsellerin sayısı için hangi bilgi doğrudur?

- (A) Kirazların sayısı domateslerin sayısından azdır.
 (B) Muzların sayısı domateslerin sayısından azdır.
 (C) Kirazların sayısı muzların sayısına eşittir.



9) Yukarıda verilen abaküste ki sayı hangi sayıların arasında yer almaktadır?

- (A) Seksen sekiz - Doksan
 (B) Yetmiş sekiz - Seksen
 (C) Doksan sekiz - Yüz



10) Yukarıda verilen sayıları büyükten küçüğe doğru sıraladığımız zaman 4. sayı hangisidir?

- (A) 43 (B) 40 (C) 51

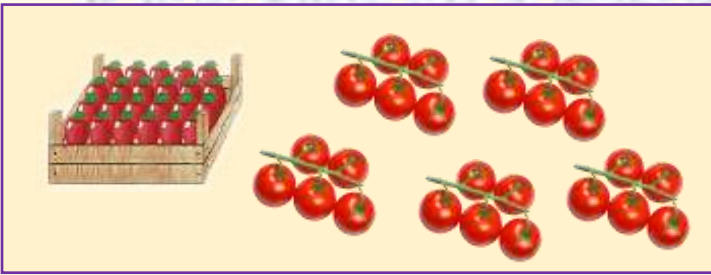
11) Aşağıda onlukları ve birlikleri verilen sayılardan hangisi diğerlerinden daha büyüktür?

- (A) $10+10+10+10+10+1+1+1+1+1+1+1+1$
 (B) $10+10+10+10+10+10+1+1+1+1$
 (C) $10+10+10+10+1+1+1+1+1+1+1+1+1+1$

5 - 0 - 8 - 1

12) Yukarıda verilen rakamları kullanarak yazabileceğimiz en büyük iki basamaklı sayı hangisidir?

- (A) 58 (B) 85 (C) 98



13) Yukarıdaki kasada 47 tane domates bulunmaktadır. Yukarıdaki tüm domateslerin sayısı kaçtır?

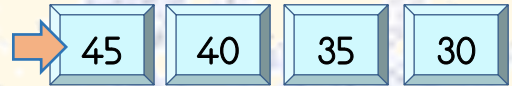
- (A) 72 (B) 77 (C) 73



14) Yukarıda verilen örüntü +4 kuralına göre yazılmıştır.

Bu durumda A yerine yazılması gereken sayının birler basamağında hangi sayı bulunur?

- (A) 9 (B) 8 (C) 7






15) Aşağıdaki örüntülerden hangisi yukarıdaki örüntünün kuralı ile aynıdır?

- (A) $25 - 30 - 35 - 40 - 45 - 50$
 (B) $70 - 66 - 62 - 58 - 54 - 50$
 (C) $83 - 78 - 73 - 78 - 68 - 63$

HAYAT BİLGİSİ

1) Aşağıdaki çocuklardan hangisi okul kaynaklarını özenli kullanıyor?

- A  Sıranın üzerine çok güzel resim çizerim.
- B  Defterimi yırtık kâğıttan uçak yaparım.
- C  Gereksiz yanan ışıkları kapatırım.



2) Yukarıdaki çocuklar için hangisi söyleyebiliriz?

- A Cinsiyetleri farklı olduğu için iyi anlaşamazlar.
- B Yetenekleri farklı olduğu için yeni bir şeyler öğrenebilirler.
- C Farklı okullara gitmektedirler.



3) Yukarıdaki kroki için hangi bilgi doğrudur?

- A Okulun sağ tarafında hastane vardır.
- B Okulun önünden Atatürk Caddesi geçmektedir.
- C Okul, çocuk parkı ile hastane arasındadır.

4) Aşağıdakilerden hangisi oyun oynamanın faydalarından biri değildir?

- A Spor yapmış oluruz.
- B Para kazanabiliriz.
- C Hayal gücümün gelişir.

HAYAT BİLGİSİ

5) Aşağıdaki çocuklardan hangisi fiziksel özelliklerinden bahsetmektedir?

A



En iyi arkadaşım Betül'dür.

B



Boş vakitlerimde spor yaparım.

C



Uzun saçlarımı her gün tararım.



Çetin

Çabuk kalemimi bana ver!



Metin

Sana yardım edebilir miyim?



Nazan

Önüne baksana, aptal çocuk!



Canan

Bana yardım eder misiniz?

7) Yukarıdaki çocuklardan hangileri nezaket kurallarına uygun konuşmaktadır?

A

Çetin-Canan

B

Nazan-Metin

C

Canan-Metin

Ali! Okula geç kalacaksın!



Eyvah! Daha çantamı hazırlamadım. Ödevimi de yapmadım.

8) Yukarıdaki çocuk için hangisini söylemek doğrudur?

A

Plansız bir öğrenci

B

Çok çalışkan ve başarılı

C

Sürekli ders çalışan bir öğrenci

6) Yukarıdaki ders programına göre hangisini çantamıza koyarsak gereksiz ağırlık yapmış oluruz?

A

Sözlük

B

Top

C

Resim Defteri

Pazartesi

<i>Türkçe</i>	<i>Hayat Bilgisi</i>
<i>Türkçe</i>	<i>Beden Eğitimi</i>
<i>Matematik</i>	<i>Müzik</i>

- 1-Kişiliğimizi olumlu etkiler.
- 2-Kendimize güvenimizi geliştirir.
- 3-Para kazanma yollarını öğreniriz.
- 4-Aramızdaki sevgi ve saygı artar.

9) Yukarıdakilerden hangileri sınıfta birlikte grup çalışması yapmanın faydalarıdır?

- (A) 1 -3-4
- (B) 1 -2-4
- (C) 2-3-4



10) Yukarıdaki çocuğun sorusuna nasıl cevap vermeliyiz?

- (A) Oynayamazsın, çünkü biz yakalamaca oynuyoruz.
- (B) Sen engellisin, bizimle oynayamazsın.
- (C) Tabiki! Sen de ipi tutabilirsin.

11) Evimizde ve okulumuzda kullandığımız kaynaklar için hangi bilgi doğrudur?

- (A) Kaynaklarımız asla bitmez, O yüzden istediğimiz kadar kullanabiliriz.
- (B) Kaynaklar ücretlidir. Ne kadar kullanırsak o kadar para öderiz.
- (C) Kaynaklarımızı çok kullanmanın ülkemiz için zararı yoktur.



12) Yukarıdaki nesneleri ihtiyacımıza göre öncelik sırasına göre sıraladığımızda hangisi doğru olur?

- (A) 4 – 3 – 1 – 2
- (B) 3 – 4 – 2 – 1
- (C) 4 – 1 – 3 – 2



13) Yukarıdaki çocuk iyi duymadığı için işitme cihazı kullanıyor. Bu çocuğa karşı nasıl davranmak uygun olur?

- ☐ A Bağırarak konuşmalıyız.
- ☐ B Onunla oyun oynamamalıyız.
- ☐ C Oyun oynarken ona karşı dikkatli davranmalıyız.



14) Ayaz, Poyraz'a bir şeyler anlatıyor. Poyraz ise kitap okuyor. Bu durumda Poyraz'ın ne yapması gerekir?

- ☐ A Kitap okumaya devam etmelidir.
- ☐ B Arkadaşının yüzüne bakıp onu dinlemelidir.
- ☐ C Onu duymazlıktan gelmelidir.

15) Öğretmen sınıfın süslenmesi için Emre'ye görev verdi. Emre de kendisine yardım etmesi için sadece erkek arkadaşlarını seçti. Hiç kızlara görev vermedi. Kızlar buna çok üzüldüler.

Emre'nin yaptığı bu davranış aşağıdakilerden hangisidir?

- ☐ A Adalet
- ☐ B İş bölümü
- ☐ C Ayrımcılık

Sınav bitmiştir.
Cevaplarınızı kontrol ediniz.
Kodlama yapmayı unutmayınız.

Adı:

Soyadı:

Sınıf: No:

Türkçe

- 1 ☐ A ☐ B ☐ C
- 2 ☐ A ☐ B ☐ C
- 3 ☐ A ☐ B ☐ C
- 4 ☐ A ☐ B ☐ C
- 5 ☐ A ☐ B ☐ C
- 6 ☐ A ☐ B ☐ C
- 7 ☐ A ☐ B ☐ C
- 8 ☐ A ☐ B ☐ C
- 9 ☐ A ☐ B ☐ C
- 10 ☐ A ☐ B ☐ C
- 11 ☐ A ☐ B ☐ C
- 12 ☐ A ☐ B ☐ C
- 13 ☐ A ☐ B ☐ C
- 14 ☐ A ☐ B ☐ C
- 15 ☐ A ☐ B ☐ C

Matematik

- 1 ☐ A ☐ B ☐ C
- 2 ☐ A ☐ B ☐ C
- 3 ☐ A ☐ B ☐ C
- 4 ☐ A ☐ B ☐ C
- 5 ☐ A ☐ B ☐ C
- 6 ☐ A ☐ B ☐ C
- 7 ☐ A ☐ B ☐ C
- 8 ☐ A ☐ B ☐ C
- 9 ☐ A ☐ B ☐ C
- 10 ☐ A ☐ B ☐ C
- 11 ☐ A ☐ B ☐ C
- 12 ☐ A ☐ B ☐ C
- 13 ☐ A ☐ B ☐ C
- 14 ☐ A ☐ B ☐ C
- 15 ☐ A ☐ B ☐ C

Hayat Bilgisi

- 1 ☐ A ☐ B ☐ C
- 2 ☐ A ☐ B ☐ C
- 3 ☐ A ☐ B ☐ C
- 4 ☐ A ☐ B ☐ C
- 5 ☐ A ☐ B ☐ C
- 6 ☐ A ☐ B ☐ C
- 7 ☐ A ☐ B ☐ C
- 8 ☐ A ☐ B ☐ C
- 9 ☐ A ☐ B ☐ C
- 10 ☐ A ☐ B ☐ C
- 11 ☐ A ☐ B ☐ C
- 12 ☐ A ☐ B ☐ C
- 13 ☐ A ☐ B ☐ C
- 14 ☐ A ☐ B ☐ C
- 15 ☐ A ☐ B ☐ C