



SIİRT İL MİLLİ EĞİTİM MÜDÜRLÜĞÜ

2020

ORTAOKUL

19 - 23 EKİM

6

ÖDEU TAKİP SİSTEMİ

1) “Çözmek” kelimesi aşağıdaki cümlelerin hangisinde **“bağlamak” kelimesinin zıt anlamlısı** olarak kullanılmıştır?

- A) Uğraşa uğraşa bulmacayı çözdü.
- B) Atın ayağındaki ipleri çözdü.
- C) Açan güneş buzları çözdü.
- D) Üst geçitler trafik sorununu çözdü.

2) Aşağıdaki metinlerin hangisinde altı çizili **deyimin kullanımı yanlıştır?**

- A) Bursluluk sınavım iyi geçmişti. Başaracağımı biliyordu babam, sonunda yüzünü kızartabilmişim. Öyle bir sevinmişti ki sözcükler mutluluğunu anlatmada yetersiz kalır.
- B) Bu seneki bereket, ürüne de yansımıştı. Aile bireyleri harman yerinde toplandı. Hepsinin yüzünde tatlı bir gülümseme vardı. Göz kararı ile ürünleri paylaştılar.
- C) Korkunç bir kaza geçirdi. Şükür ki burnu bile kanamadan kurtuldu. Öldürmeyen Allah öldürmüyor; arabayı görerseniz, hurdaya dönmüş resmen.
- D) Yükte hafif, pahada ağır ne varsa yanımıza alıp yola koyulduk bir gece yarısı. Kaçıyorduk, kaçmak zorundaydık. Düşman tankları kasabaya kadar ulaşmıştı.

3) I. Küçük serçenin kanadı kırılmış.

II. Kaç senedir çırak olarak çalışıyor, bu işte iyice pişti.

III. Keskin bir bıçak almamız gerekiyor.

IV. Onun tek hayali işinde yükselmekti.

Altı çizili sözcüklerden hangileri mecaz anlamda kullanılmıştır?

- A) I ve II
- B) II ve III
- C) I ve IV
- D) II ve IV

4) (...) diyen atamız, iyi komşunun önemini bir cümlede ne güzel özetlemiş! Güzel komşu, sırtını dayadığın duvar olur, rahat uyumanı sağlayan güvenliğin olur. Eskisi gibi mükemmel komşuluk ilişkileri sağlanamasa da pek gidip gelinme de güvenilir bir komşunun varlığı yüreği ferahlatmaya yeter. “Ev alsak da almasak da iyi komşu bulamıyoruz.” dediğinizi duyar gibiyim. Sayıları azalmış olsa da mutlaka vardır; siz iyi olun, o gelir sizi bulur.

Metnin anlam bütünlüğünün sağlanması için üç nokta (...) ile belirtilen yere aşağıdaki atasözlerinden hangisi getirilmelidir?

- A) “Ev alma, komşu al.”
- B) “Komşuda pişer, bize de düşer.”
- C) “Gülme komşuna, gelir başına.”
- D) “Komşunun tavuğu komşuya kaz görünür.”

5) Edebî metinlerde olaylar belli bir plana göre sıralanır. Olaya bağlı metinler; kişiler, mekân, zaman ve olay örgüsünün belli bir düzen içinde bir araya gelmesiyle oluşur. Olaya bağlı metinlerde olayı yaşayan onun içinde olan kişi veya kişiler, olayın geçtiği mekân ve olayın gerçekleşme zamanı vardır.

Buna göre, “İkinci vakti olduğunda köyün neredeyse yarısı ağacın altında toplanmıştı.” cümlesinde altı çizili bölüm olay örgüsünün hangi ögesiyle alakalıdır?

- A) Kişiler
- B) Yer
- C) Zaman
- D) Olay

6) (I) Günümüzde tekne gövdelerinin yapımında ahşaba göre daha sağlam malzemeler kullanılıyor. (II) Direklerin yapımıdaysa hafif ve deniz suyunun etkilerine dayanıklı metaller tercih ediliyor. (III) Bugün tüm dünyada çok farklı amaçlara göre tasarlanmış birbirinden sevimli tekneler bulunuyor. (IV) Bunlardan biri de “tek tip tasarım” olarak adlandırılan küçük yelkenli teknelerdir.

Bu parçada numaralanmış cümlelerden hangisi kanıtlanabilirlik açısından diğerlerinden farklıdır?

- A) I
- B) II
- C) III
- D) IV

7) I. Soru sorduktan sonra bir yumruğunu diğerinin üstüne koyar.

II. Yumruklarını aşağı yukarı hareket ettirip “Ayakkabıcı nerede yaşıyor; yukarıda mı, aşağıda mı?” diye sorar.

III. Taşı saklayan oyuncu, söylenen elini açtığında taş o eldeyse tahmini yapan oyuncu, taş çıkmazsa taşı saklayan oyuncu kazanır.

IV. Oyunculardan biri, bir taşı avucuna saklar ve iki elini de yumruk yapar.

V. İkinci oyuncu taşın hangi elde olduğunu tahmin etmeye çalışarak “Aşağıda!” veya “Yukarıda!” der.

Aşağıdakilerin hangisinde ayakkabıcı oyununun aşamaları sırasıyla verilmiştir?

- A) II - I - V - IV - III
- B) II - III - V - IV - I
- C) IV - II - I - V - III
- D) IV - V - I - III - II

8) Kalp, her dilde sevgi ve cesaret manasına gelir.

Bu cümledeki altı çizili sözcüğün eş anlamlısı aşağıdakilerin hangisinde vardır?

- A) Anlamını bilmediğiniz kelimeleri sözlükten bulabilirsiniz.
- B) Toplantılarda gereksiz yere lafı uzatmasının nedenini anlayamadım.
- C) Okulun kapanmasına birkaç ay kala her anı bizim için daha değerli olmaya başladı.
- D) Mahallenin ileri gelenlerinden Ahmet Bey de güzel bir konuşma yaptı.

9) • Fatih, ordusuyla İstanbul'a girince herkesin mal ve can güvenliği için garanti verdi.

- Kitapçıya girince hemen tarih kitaplarının olduğu raflara yanaşım.
- Mahallenin orta yerinde birbirine giren iki kardeşi ayırmak için çok uğraştık.
- Ortaokulu bitirince polislik sınavlarına girmiş.

"Girmek" sözcüğü yukarıdaki cümlelerde aşağıdaki anlamlardan hangisiyle kullanılmamıştır?

- A) Girişmek, başlamak
- B) Kavgaya tutuşmak
- C) Dışarıdan içeriye geçmek
- D) Almak, fethetmek

10) Türkçe benim biricik vatanım, memleketim, evim. Nereye gitsem, onu da beraberimde götürürüm. Ben Türkçeye tutkunum. Uzun yıllar Fransızca öğretmenliği yaptım. Fransızca'yı da çok rahat konuşurum. Biraz İngilizce okudum, derken dört yıl İtalyanca kurslarına gittim, İtalyanca öğrendim ama benim için Türkçenin yeri başka.

Bu parçanın konusu aşağıdakilerden hangisidir?

- A) Ana dile duyulan sevgi
- B) Yabancı dilin önemi
- C) Dili güzel kullanmanın gerekliliği
- D) Türkçenin diğer dillerden üstün yanları

11) Aşağıdaki cümlelerden hangisinde şart anlamı vardır?

- A) Alın teri ile kazanılan paradan daha değerli ne olabilir?
- B) Cevabımdan emin olsaydım yarışmaya devam edecektim.
- C) Kendimize büyük hedefler belirlemeliyiz.
- D) Dün bu mağazaya en az beş kez geldim.

12) Edebî metinler, dil aracılığı ile okura aktarılan ürünlerdir. Dilin en başarılı kullanımlarıyla çocuk okura aktarılan çocuk kitapları, çocukların dil bilinci ve duyarlılığını geliştirmesinde en önemli araçlardır. Bu metinler, dili kullanırken dil ile ilgili bilgi öğretme amacı gütmeyen, bu bilgiyi çeşitli yollarla okura hissettirir.

Yazar, yaşam gerçekliklerini olduğu gibi anlatmaz. Bunları kendi düşün ve düşünce gücüyle yeni bir bileşim oluşturarak yeni ve kendine özgü bir gerçeklik üretir.

Bu parçada aşağıdakilerden hangisine değinilmemiştir?

- A) Çocukların dil gelişiminde çocuk kitaplarının önemli bir yer tuttuğuna
- B) Çocuk kitaplarında bilginin doğrudan verilmediğine
- C) Çocuk kitabı yazarlarının eserlerinde gerçekleri kendi yorumunu katarak verdiklerine
- D) Çocuk eserlerinde ağırlıklı olarak hayalî olayları anlattığına

13) (I) ABD, Ay'a insan göndermek için Apollo adı verilen uçuş programını 1961'de başlattı. (II) Bu uçuşları yapacak olan astronotlar uzun eğitimlerden geçti. (III) Uzayda karşılaşacakları zorluklarla başa çıkmak için bedenlerini hazırlıyorlardı. (IV) Geri planda çalışan ekipse uzay aracının tasarımından, kullanılacak kameralara; astronotların giysilerinden, uzaya götürülecek yiyeceklere kadar her ayrıntıyı düşünüyordu.

Bu parçada numaralanmış cümlelerin hangilerinde amaç-sonuç ilişkisi yoktur?

- A) I ve II
- B) I ve III
- C) II ve IV
- D) III ve IV

14) I. Ablam yaptığı her işe özen gösterirdi.

II. Bavulunu günler öncesinden hazırlamıştı.

III. Desenleri çizirken biraz daha itina edin.

IV. Polis suçluların kaçmaması için önlem almış.

Numaralandırılmış sözcüklerin hangilerinde altı çizili sözcükler anlamca birbirine en yakındır?

- A) I ve II
- B) I ve III
- C) II ve IV
- D) III ve IV

15) Senin sürekli tabletle oynamandan ...

Bu cümlelerin sonuna anlam akışına göre aşağıdakilerden hangisi getirilemez?

- A) inan ben de rahatsız oluyorum.
- B) çok eğlenceli vakit geçirdik.
- C) oturup iki laf edemedik.
- D) oluyor bütün bunlar.

16) Aşağıdaki cümlelerden hangisinin sonuna diğerlerinden farklı bir noktalama işareti getirilmelidir?

- A) Bugün işleri benim için takip edebilir misin
- B) Onun bakışları seni de rahatsız etmedi mi
- C) O da benim gibi mi düşünüyor acaba
- D) Sınavı kazandı mı kazanmadı mı beni ilgilendirmez

17) Aşağıdaki cümlelerin hangisinde altı çizili sözcüğün yazımı yanlıştır?

- A) Birkaç saat sonra hep birlikte hazırlanıp çıktılar.
- B) Bu küçük dükkânda aklından geçen herşey vardı.
- C) Düşüncelerinizde herhangi bir yanlışlık görmüyorum.
- D) İşlerimizi tamamlamak için biraz daha zamanımız var.

18) (I) Deniz kabukları her dönemde insanların ilgisini çekmiştir. (II) İnsanlar bu kabukları farklı şekilde değerlendirmişlerdir. (III) Bugün koleksiyonculuğu yapılan ya da çeşitli takılarda kullanılan küçük deniz kabukları eski zamanlarda Büyük Okyanus'taki ve Hint Okyanusu'ndaki adalarda para birimi olarak kullanılmıştır. (IV) Temel olarak kalsiyumdan oluşan kabuklar hem içinde yaşayan yumuşakçaların iskeleti hem de onları dış dünyanın tehlikelerinden koruyan evidir. (V) Büyük ve sağlam kabuklar ise yiyecek ve su saklamak için değerlendirilmiştir.

Bu parçada numaralanmış cümlelerden hangisi parçanın anlam bütünlüğünü bozmaktadır?

- A) II. B) III. C) IV. D) V.

19) (I) Bazı kuşlar hayal edebileceğimizden daha fazla uçuyor. (II) 10 bin kilometreden fazla yani gezegenimizin çevresinin dörtte biri kadar uçanlar var. (III) Çoğu göçmen kuş için göç etmek demek, bir ülkeden başka bir ülkeye değil, bir kıtadan başka bir kıtaya gitmek demek. (IV) Ne yazık ki bu uzun ve zorlu yolculuk sırasında göçmen kuşların bir bölümü de ölmektedir.

Bu parçada numaralanmış cümlelerle ilgili aşağıdakilerden hangisi söylenemez?

- A) I. cümlede karşılaştırma yapılmıştır.
- B) II. cümlede sayısal verilere yer verilmiştir.
- C) III. cümlede amaç-sonuç ilişkisi söz konusudur.
- D) IV. cümlede üzülmeye anlamı vardır.

20)• Çarşıdaki mağazaya koyduğumuz adam işi bırakmış.

- Dizinın üstüne koyduğu elinden kan damlıyordu.
- Öğretmenimin savaşıla ilgili anlattıkları bana çok koydu.
- Ne kadar dil döktüysem de beni hastanın odasına koymadılar.

Yukarıdaki cümlelerde “koymak” sözcüğü kaç farklı anlamda kullanılmıştır?

- A) 1
- B) 2
- C) 3
- D) 4

**KAZANIM 1:ASAL SAYILARI
ÖZELLİKLERİ İLE BELİRLER.**

**KAZANIM 2:DOĞAL SAYILARIN
ASAL ÇARPANLARINI BELİRLER.**

1)Aşağıdakilerden hangisi doğrudur?

- A) En küçük asal sayı 1 dir.
- B) Asal sayıların hepsi tektir.
- C) 2 den başka çift asal sayı yoktur.
- D) Tüm asal sayılar çifttir.

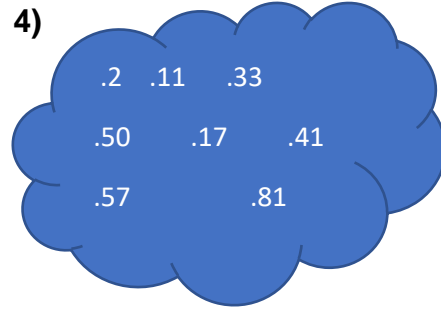
2) Aşağıda verilen sayılardan hangisi asal sayı değildir?

- A)7 B) 11 C) 13 D) 15

3) 120 sayısının asal çarpanlarına ayrılmış hali aşağıdakilerden hangisidir?

- A) 2.3.5 B) $2^3 \cdot 3 \cdot 5$
- C) $2^2 \cdot 3^2 \cdot 5$ D) $2^4 \cdot 3 \cdot 5$

4)



Yukarıdaki sayıların kaç tanesi asal sayıdır?

- A)3 B) 4 C) 5 D) 6

5) 360 sayısının kaç tane asal böleni vardır?

- A)3 B) 4 C) 5 D) 6

6)

A	2	Yanda verilenlere göre A sayısı kaçtır?
B	2	
C	2	
D	3	
E	5	
1		

- A) 30 B) 60 C) 120 D)240

7) Aşağıdakilerden hangisi 60 sayısının asal çarpanlarından **biri değildir?**

- A) 2 B) 3 C) 4 D) 5

8) $180 = 2^a \cdot 3^b \cdot 5^c$

Yukarıda asal çarpanlarına ayrılmış hali verilmiştir.

Buna göre $a + b + c$ işleminin sonucu kaçtır?

- A) 2 B) 3 C) 4 D) 5

9) Aşağıdakilerden hangisi 255 sayısının asal çarpanlarından **biri değildir?**

- A) 3 B) 5 C) 13 D) 17

10) Samet, okulun merdivenlerini ikişer ikişer ve üçer üçer çıktığında her seferinde 1 basamak artmaktadır.

Buna göre okulun merdivenlerindeki basamak sayısı aşağıdakilerden hangisi **olamaz?**

- A) 13 B) 25 C) 37 D) 48

11) Asal sayılar konusunu işleyen Ahmet Öğretmen aklında bir sayı tuttuğunu söylemiş ve aklında tuttuğu sayı ile ilgili şu bilgiyi vermiş, sadece 2,3 ve 7 asal sayılarını içerdiğini söylemiştir.

Buna göre Ahmet Öğretmenin aklında tuttuğu sayı aşağıdakilerden hangisi **olamaz?**

- A) 42 B) 84 C) 78 D) 126

12) Aşağıdaki sayılardan hangisinin asal çarpanları sadece rakam asal sayılardan bir veya birkaç tanesini içerir?

- A) 102 B) 117
C) 153 D) 343

13) Bilgi : Eski

Yunan'da Eratosten tarafından geliştirilen, matematikte, Eratosthenes (Eratostenes) Kalburu belirli bir tamsayıya kadar yer alan asal sayıların bulunması için kullanılan bir yöntemdir.

İki sayı arasındaki asal sayıları bulmak için bu yöntem kullanılabilir.

1'e asal sayı olmadığı için çarpı işareti koyun.

2'yi bir asal sayı olduğu için daire içine alın, daha sonra 2'nin tüm katlarına çarpı işareti koyun.

3'ü de daire içine alın ve katlarına da çarpı işareti koyun.

Buna göre 20 ve 60 arasında kaç tane **asal sayı** vardır?

- A) 6 B) 7 C) 8 D) 9

14)

D	C	
210	C	Yanda verilenlere göre
105	B	$\frac{D - (B + C)}{A}$ işleminin sonucu
35	7	kaçtır?
5	A	
1		

- A) 82 B) 83 C) 84 D) 85

15) Aşağıdakilerden hangisi 273 ün asal çarpanlarından biri değildir?

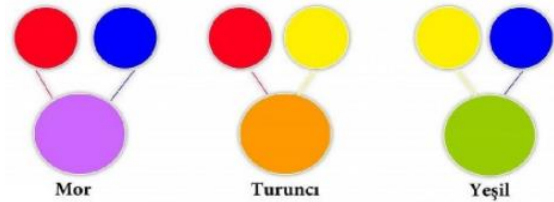
- A) 3 B) 7 C) 13 D) 17

16) Aşağıdakilerden hangisi rakam olan asal sayılardan biri **değildir**?

- A) 3 B) 5 C) 7 D) 9

17)

Ana Renklerin Karışımı ile Ara Renklerin Oluşturulması



Matematik Öğretmeni Yusuf renklerle ilgili yukardaki bilgileri vermiş ve öğrencilerden 1 den 50 ye kadar olan sayılardan ;

2 ve 2 nin katı olanları sarıya ,

3 ve 3 ün katı olanları kırmızıya ,

5 ve 5 in katı olanları maviye ,

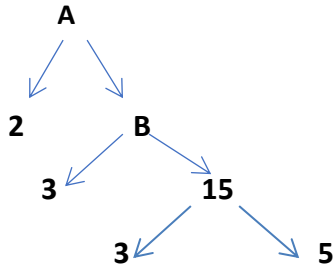
boyamalarını istemiştir. Bu boyama ve verilen bilgiye göre 1 den 50 ye (1 ve 50 dahil) kadar mor, turuncu ve yeşile boyanmış toplam kaç sayı vardır?

- A) 14 B) 15 C) 16 D) 17

18) İki basamaklı $2A$ asal sayı olduğuna göre A yerine yazılabilecek sayıların toplamı kaçtır?

- A) 10 B) 12 C) 13 D) 19

19)



Yukarıdaki çarpan ağacına göre $A + B$ nin toplamı kaçtır?

- A) 30 B) 45 C) 90 D) 135

20) 225 sayısının kaç tane asal çarpanı vardır?

- A) 2 B) 3 C) 4 D) 5

ÜNİTE:2

Kazanım:F.6.2.1.1. Destek ve hareket sistemine ait yapıları örneklerle açıklar.

3. KASLAR

Kemikleri sararak iskeletimizin hareket etmesini sağlarlar. Kaslar üç grupta incelenir.

a. Çizgili Kas

İskeletimize bağlı olarak çalışan ve hareketimizi sağlayan kaslardır.

- Kırmızı renklidir, isteğimizle çalışırlar.
- Çok enerji harcarlar.
- Hızlı çalışır ve çabuk yorulurlar.
- Çizgili kaslara iskelet kası da denir.
- Kol, bacak, dil, yüz ve parmak çizgili kaslara örnek olarak verilebilir.

b. Düz Kas

İç organlarımızın yapısında bulunan kaslardır.

- İsteğimiz dışında çalışırlar.
- Yavaş çalışırlar ve yorulmazlar.
- Beyaz renkli kaslardır.
- Mide, bağırsak, kan damarları ve yemek borusunda bulunan kaslar düz kaslara örnek olarak verilebilir.

c. Kalp Kası

Sadece kalbin yapısında bulunan kaslardır.

- İsteğimiz dışında çalışır.
- Düzenli çalışır ve yorulmaz.
- Yapısı çizgili kasa, çalışması düz kasa benzer.
- Kırmızı renkli kaslardır.

- Kasılıp gevşemesiyle kan dolaşımını sağlar.

İskelet Kas İlişkisi

Kol ve bacaklardaki kemiklerin ön ve arka kısmında toplam iki tane kas bulunur. Bu kaslar birbirine göre zıt hareket eder. Kaslardan biri kasılırken diğeri gevşer.

ÜNİTE:2

Kazanım:F.6.2.2.1. Sindirim sistemini oluşturan yapı ve organların görevlerini modeller kullanarak açıklar.

B. SİNDİRİM SİSTEMİ

Canlılar yaşamlarını sürdürebilmek için enerjiye ihtiyaç duyarlar. Canlıların ihtiyacı olan enerji besinlerden elde edilir. Bunun için besinlerin çok küçük parçalara ayrılması gerekir.

Vücudun kullanabilmesi için, yediğimiz besinlerin kana karışabilecek kadar küçük parçalara ayrılmasına **sindirim** denir. Sindirim fiziksel(mekanik) ve kimyasal sindirim olmak üzere ikiye ayrılır.

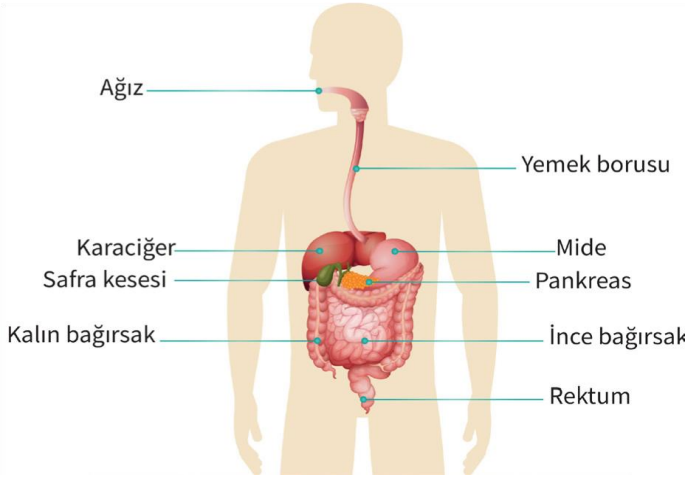
a. Fiziksel Sindirim

Besinlerin fiziksel olarak daha küçük parçalara ayrılmasıdır. Dişlerle parçalama, dille ezme, midenin çalkalama hareketi ve safra sıvısı ile parçalama örnek olarak verilebilir.

b. Kimyasal Sindirim

Besinlerin enzimlerle daha küçük parçalara ayrılmasıdır. Ağızda tükürük salgısıyla karbonhidratların parçalanması, midede mide öz suyu ile proteinlerin parçalanması ve ince bağırsakta pankreas öz suyu ile yağların parçalanması örnek olarak verilebilir.

1. SİNDİRİM SİSTEMİ VE ORGANLARI



a. Ağız

- Sindirim sisteminin ilk bölümüdür.
- Diş, dil ve tükürük yardımıyla besinler parçalanır.
- Besinlerin fiziksel(mekanik) sindirimi çiğneme ile gerçekleşir.
- Tükürük içindeki enzimler karbonhidratların kimyasal sindirimini başlatır.

b. Yutak

- Ağızdan aldığı besinleri yemek borusuna iletir.
- Yutakta sindirim gerçekleşmez.

c. Yemek Borusu

- Yapısındaki düz kaslar yardımıyla yutaktan aldığı besinleri mideye iletir.
- Yemek borusunda sindirim gerçekleşmez.

d. Mide

- Besinlerin fiziksel sindirimi midenin kasılıp gevşeme hareketi yapması ile gerçekleşir.
- Besinlerin kimyasal sindirimi mide öz suyu içinde bulunan enzimler yardımıyla gerçekleşir.
- Proteinlerin sindirimi midede başlar.

e. İnce Bağırsak

- Sindirim sisteminin en uzun bölümüdür.
- Sindirimin tamamlandığı organdır.
- Yağların sindirimi ince bağırsakta başlar.
- Hem fiziksel hem de kimyasal sindirim görülür.
- Pankreastan gelen pankreas öz suyu içindeki enzimler yardımıyla karbonhidrat, protein ve yağların sindirimi ince bağırsakta biter.
- Sindirilen besinler villus adı verilen yapılar yardımıyla kana geçer. (emilim)

f. Kalın Bağırsak

- Kalın bağırsakta sindirim gerçekleşmez.
- B ve K vitaminini üreten bakteriler bulunur.
- Su, vitamin ve minerallerin geri emilimi yapılır ve kana geçirilir.

g. Anüs

- Anüste sindirim gerçekleşmez.
- Anüs sindirim sonucu oluşan atık maddelerin vücut dışına atıldığı organdır.

	Fiziksel Sindirim	Kimyasal Sindirim	Sindirim Yoktur
Ağız	✓	✓	
Yutak			✓
Yemek Borusu			✓
Mide	✓	✓	
İnce Bağırsak	✓	✓	
Kalın Bağırsak			✓
Anüs			✓

Kimyasal Sindirimin Başladığı ve Bittiği Organlar

	Kimyasal sindirimin başladığı organ	Kimyasal sindirimin bittiği organ
Karbonhidrat	Ağız	İnce Bağırsak
Protein	Mide	İnce Bağırsak
Yağ	İnce Bağırsak	İnce Bağırsak

2. SİNDİRİME YARDIMCI ORGANLAR

Karaciğer ve pankreas sindirime yardımcı organlardır.

a. Karaciğer

- Safra salgısını üretir.
- Safra salgısını bir kanal yardımıyla ince bağırsağa göndererek, ince bağırsakta yağların fiziksel sindirimini sağlar.

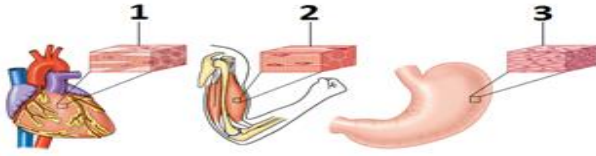


b. Pankreas

- Pankreas öz suyunu salgılar.
- Pankreas öz suyu ince bağırsağa gönderilir.
- Pankreas öz suyu içindeki enzimler karbonhidrat, protein ve yağların kimyasal sindirimini tamamlar



1) Aşağıdaki numaralandırılmış kas çeşitleri hangi şıkta doğru bir şekilde verilmiştir?



1 2 3

- A) Düz Kas Çizgili Kas Kalp Kası
 B) Kalp Kası Düz Kas Çizgili Kas
 C) Çizgili Kas Düz Kas Kalp Kası
 D) Kalp Kası Çizgili Kas Düz Kas

2) Salgıladıkları sıvılarla sindirim sistemine yardımcı yapı ve organlar aşağıdakilerden hangisidir?

- A) Akciğer- Pankreas
 B) Böbrek- Karaciğer
 C) Akciğer- Karaciğer
 D) Karaciğer- Pankreas

3) Besinlerin enzimler yardımıyla kendilerini oluşturan yapıtaşlarına ayrılması olayına kimyasal sindirim denir.

I. Ağız II. Yutak III. İnce Bağırsak
 IV. Kalın Bağırsak V. Mide

Verilen yapı ve organların hangisinde kimyasal sindirim gerçekleşir?

- A) I ve IV B) III ve V
 C) I, III ve V D) I, III, IV ve V

4)



Yukarıda yağların mekanik sindirimi modellenmiştir. **Bu olayın gerçekleşmesini sağlayan safra suyu aşağıdaki hangi organda üretilir?**

- A) Mide B) İnce bağırsak
 C) Karaciğer D) Pankreas

5) Yürümek, bizim kontrolümüzdedir ama kalbimiz isteğimiz dışında çalışır. Benzer şekilde mide, bağırsak, akciğer gibi organlarımızın çalışması da isteğimiz dışındadır.

Yukarıda verilen kas çeşidinin özelliği aşağıda verilenlerden hangisi olamaz?

- A) İskeletin hareketini kontrol ederler.
 B) Yorulmazlar ve devamlı çalışmaya uygundurlar.
 C) İç organların yapısında bulunurlar.
 D) Ritmik kasılırlar.

6) Sindirim sistemi organlarının sağlığı için aşağıdakilerden hangisi yapılmamalıdır?

- A) Gazlı içecekleri çok sık içmek
 B) Asitli yiyecek ve içeceklerden sonra ağız su ile çalkalamak
 C) Karbonhidratı çok olan besinlerle beslenmemek
 D) Yemek yedikten sonra su içmek

7) Karaciğer ve Safra kesesinde problemi olan bir kişi aşağıdaki besinlerden hangisini sindirmede zorlanır?

- A)Ekmek B)Makarna
C)Tereyağı D)Tavuk Eti

8) Aşağıdaki şekilde Dünya'nın ve Ay'ın konumları verilmiştir.



Ay kaç numaralı konumda olursa Ay tutulması gerçekleşir?

- A) 4 B) 3 C) 2 D) 1

9)

- I. Besinlerin midede kasılarak karıştırılması
- II. Tükürük ile karbonhidratların parçalanması
- III. Besinlerin çiğnenmesi
- IV. Safra sıvısının yağları küçük damlalara ayırması ,

Yukarıda hangileri fiziksel sindirime örnek olarak verilebilir?

- A) I ve III
B) I, III ve IV
C) I, II ve III
D) II ve IV

10)

- I. Sindirimin başladığı organdır.
- II. Sindirim sisteminin en uzun kısmıdır.
- III. Su, vitamin ve minerallerin emildiği yerdir.

Yukarıda özellikleri verilen yapı ve organlar aşağıdakilerin hangisinde doğru verilmiştir?

- A) Yutak -kalın bağırsak -anüs
B) Ağız ince -bağırsak -kalın bağırsak
C) Ağız -ince bağırsak -mide
D) Yutak -ince bağırsak -kalın bağırsak

11)

- I. Besinlerin ağızda uzun süre çiğnenmesi
- II. Kuru besinlerin ağızda tükürükle ıslatılması
- III. Besinlerin ağızda çiğnenmeden yutulması

Yukarıda verilen olayların hangileri kimyasal sindirimin hızlanmasını sağlar?

- A)Yalnız I B)Yalnız II
C) I ve II D) I,II ve III

12) Güneş sistemindeki en büyük uydu Jüpiter'in uydusu Ganimededir. Merkürden dahi büyük olan uydu neredeyse Mars kadardır.

Merkür ve Mars gezegen olarak sınıflandırılıyorken Ganimede'in gezegen olmamasının nedeni aşağıdakilerden hangisidir?

- A) Yeteri kadar hızlı dönmemesi
- B) Jüpiter'in yörüngesinde dolanması
- C) Kütlesinin yeterli olmaması
- D) Yüzey sıcaklığının çok düşük olması

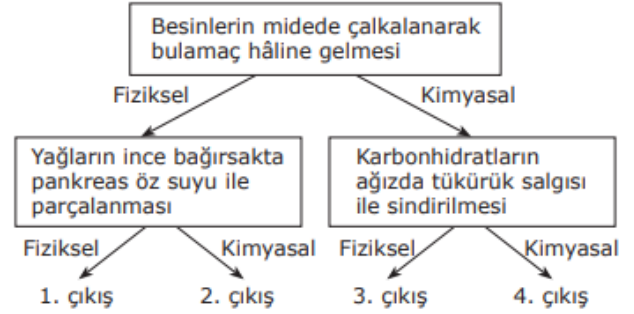
13)

- I. Kemiğin beslenmesini sağlama
- II. Kan hücreleri üretme
- III. Kemiğin kalınlaşmasını sağlama

Yukarıda numaralanmış özelliklerden hangileri kemik zarının görevlerindendir?

- A) Yalnız I
- B) I ve III
- C) II ve III
- D) I , II ve III

14)



Verilen ifadelere doğru cevaplar verildiğinde hangi çıkışa ulaşılır?

- A) 1. çıkış
- B) 2. çıkış
- C) 3. çıkış
- D) 4. çıkış

15) Sindirim sisteminin asıl amacı hangi seçenekte verilmiştir?

- A) Besinleri enerjiye dönüştürmek
- B) Besinleri kana geçebilecek kadar küçük birimlere ayırmak
- C) Besinlerin fiziksel sindirimini gerçekleştirmek
- D) Vücudun hareketini sağlamak

16) Salgıladığı sıvı ile yağların fiziksel sindirimine yardımcı olur. Belli oranda kendini yenileme yeteneğine sahiptir. Deriden sonra vücuttaki en büyük organdır. Bilgi kartında verilen organ ve salgıladığı sıvı aşağıdakilerin hangisinde doğru verilmiştir?

- A) Akciğer – Safra
- B) Mide - Mide Özsuğu
- C) Pankreas - Pankreas Özsuğu
- D) Karaciğer – Safra

17)Eklem sıvısı ile ilgili,

- I. Kemiklerin onarılmasını sağlar.
- II. Oynar eklemlerin yapısında bulunur
- III. Kemiklerin aşınmasını önler.

İfadelerinden hangileri doğrudur?

- A) Yalnız I
- B) I ve III
- C) II ve III
- D) I, II ve III

18) İskeletimizde bulunan eklemlerle ilgili verilen bilgilerden hangisi doğrudur?

- A) Kol ve bacak kemikleri arasındaki eklemler oynar eklemlerdir.
- B) Kafatasında bulunan eklemler yarı oynar eklemlerdir.
- C) Göğüs kafesinde bulunan eklemler oynamaz eklemlerdir.
- D) Omurlar, tam oynar eklemlerle birbirine bağlanmıştır.

19) Asteroit kuşağı olarak isimlendirilen bu bölge, ve gezegenleri arasında bulunur. Burada çapı 100km'den büyük 200 civarı asteroid vardır ayrıca çapı 1km'den büyük olanları sayısı ise 100.000'den fazladır.

Yukarıda asteroid kuşağı ile ilgili bir paragraf vardır. Bu paragraftaki boşluklara hangi gezegenler yazılmalıdır?

- A) Mars – Dünya
- B) Neptün-Uranüs
- C) Mars – Jüpiter
- D) Venüs – Merkür

20) Sindirim sistemine yardımcı organ olan pankreas için verilen bilgilerden hangisi yanlıştır?

- A) Midenin yanında bulunur.
- B) Kimyasal sindirim için enzim üretir.
- C) Enzimleri mideye boşaltır.
- D) Pankreas özsuğu denilen bir sıvı salgılar.

1) Merve sabah uyanır uyanmaz küçük olmasına rağmen odasını toparlar annesine "günaydın anneciğim" der. Kapının çaldığını duyan Merve kapıyı açınca karşısında çok sevdiği Büyükbabasını görünce çok sevinir, daha sonra kardeşiyle oyuncaklarla oynamaya başlar.

Buna göre Merve aşağıda verilen hangi rolde değildir?

- A) Çocuk
- B) Torun
- C) öğrenci
- D) Abla

2)

Grup veya Kurum	Rol
Aile	Çocuk
Okul	Öğrenci
Hastane	Hasta
Futbol Takımı	Solist

Yukarıdaki tabloda grup ve kurumlar ile roller eşleştirilmiştir.

Buna göre verilen eşleştirmelerden hangi rol yanlış verilmiştir?

- A) Çocuk
- B) Öğrenci
- C) Hasta
- D) Solist

3) Kişinin yaptığı işlerin sonucunu üstlenmesi Aşağıda verilen şıklardan hangisinde doğru verilmiştir?

- A) Rol
- B) Sorumluluk
- C) Hak
- D) Kültür

4) Aşağıdaki tabloda grup-kurum ve roller verilmiştir.

	Grup-Kurum	Rol
I	Okul	Öğrenci
II	Müzik kulübü	Abla
III	Aile	Solist
IV	Fenerbahçe	Taraftar
V	Market	Müşteri

Tablodaki grup-kurum dikkate alındığında doğru verilen roller aşağıdaki şıkların hangisinde birlikte verilmiştir?

- A) I ve II
- B) I, II ve III
- C) II, III ve IV
- D) I, IV ve V

5) Kültür; bir toplumun tarihsel süreç içinde üretip, kuşaktan kuşağa aktardığı maddi ve manevi özelliklere denir.

Aşağıdakilerden hangisi kültürü oluşturan unsurlardan biri değildir?

- A) Din
- B) Dil
- C) Hak
- D) Tarih

6) Bir kimse veya bir olayla ilgili yeterli bilgi edinmeden geliştirilen tutumlara ön yargı denir.

Yukarıda verilen bilgiye göre aşağıdakilerden hangisi bir ön yargı cümlesi değildir?

- A) Kübra'yı tanıdığım kadarıyla iyi bir arkadaş.
- B) Yarınki sınavdan bizim oğlumuz kesin iyi not alacak.
- C) Okulumuza bugün gelen Ahmet çok zeki.
- D) Bu sene kesin biz şampiyon olacağız.

7) Aşağıda verilenlerden hangisi sahip olduğumuz haklar arasında yer almaz?

- A) Eğitim almak.
- B) Hastalanınca hastaneye gitmek
- C) Özgür olduğumuz için istediğimiz her şeyi yapabiliriz.
- D) Bir çocuk olarak ben de temiz bir çevrede yaşayabilirim.

8)

	Durum	Hak	Görev
I	Okulda eğitim görmek		✓
II	Okul eşyalarını korumak ve onlara zarar vermemek	✓	
III	Arkadaşlarının haklarına saygı duymak		✓
IV	Düşüncelerini özgürce ifade etmek	✓	

Yukarıdaki tabloda hak ve sorumluluklarımız(görev) verilmiştir.

Verilen bilgilere göre aşağıdakilerden hangisi doğrudur?

- A) I ve II
- B) I ve III
- C) II ve IV
- D) III ve IV

9) Bireyler toplum içinde üstlendiği rollere göre yerine getirmesi gereken görev ve sorumluluklar üstlenirler.

Yukarıda verilen bilgiye göre aşağıdakilerden hangisi bireyin evdeki sorumlulukları arasında yer almaz?

- A) Odasını toparlamak.
- B) Okul eşyalarına sahip çıkmak.
- C) Kardeşinin ödevlerinde yardım etmek.
- D) Ev işlerinde annesine yardımcı olmak.

10) Ülkemiz sosyal bir devlet olduğu için hastalandığımız zaman dilediğimiz zaman randevu alıp hastaneye gidebilir ve tedavi olabiliriz.

Aşağıda verilen numaralardan hangisini ararsak hastaneye gitmek için randevu alabiliriz?

- A)182 B)174
C)175 D)110

11) Karşılaştığımız bir sorun karşısında aşağıda verilen kurumlardan hangisine başvurmamız yanlış olur?

- A)Tüketici Hakları Derneği
B)Avrupa İnsan Hakları Mahkemesi
C)Tüketici Hakları Mahkemesi
D)Valilik

12) Aşağıdakilerden hangisi kültürümüze ait öğelerden değildir?

- A)Pizza B)Baklava
C)Kına Gecesi D)Güreş

13)

- Başkalarına zarar vermeden dilediğini yapabilmektir.
- Toplumsal olarak tanınan kazançlardır.
- Kişinin davranışlarının sonuçlarını üstlenmesidir.

Yukarıdaki açıklamaların hangi kavramlara ait olduğu sırasıyla aşağıdaki şıklardan hangisinde doğru olarak verilmiştir?

	I	II	III
A)	Özgürlük	Hak	Sorumluluk
B)	Sorumluluk	Eşitlik	Özgürlük
C)	Hak	Sorumluluk	Sorumluluk
D)	Özgürlük	Ayrımcılık	Hak

14) Aşağıdakilerden hangisi evdeki sorumluluklarımızdan biridir?

- A) Evin geliri için bir işte çalışmak.
B) Camları silmek.
C) Dersleri dikkatli dinlemek.
D) Odamızı temiz tutmak.

15) Ben, Ufuk 5. sınıf öğrencisiyim. Annem, babam, dedem ve kardeşimle beraber yaşıyorum.”

Ufuk'un yukarıdaki bilgileri vermiştir.

Buna göre aşağıdakilerden hangisi Ufuk'un üstlendiği rollerden biri değildir?

- A) Çocuk
B) Öğrenci
C) Sınıf başkanlığı
D) Torun

16) Aşağıdakilerden hangisi okuldaki sorumluluklarımız arasında yer almaz?

- A)Okul kurallarına uymak.
- B)öğretmen ve arkadaşlarımıza saygılı olmalıyız.
- C)Sınıfımızı temiz tutmalıyız.
- D)Okul lavabolarını arkadaşlarımızla birlikte temizlemeliyiz.

17) Kültür toplumlara özgüdür, bu nedenle her toplumun kültürü bir diğerinden farklıdır. Kültür sürekli dir ancak zamanla değişikliklere uğrayabilir. Yaşadığımız yerdeki kültürel özellikler, ülkemizin bir başka yerindeki kültürel özelliklere benzeyebilir veya bu yerdeki kültürel özelliklerden farklı olabilir.

Paragrafta kültür ile ilgili verilen bilgilere göre aşağıdakilerden hangisi söylenemez?

- A)Kültürel özellikler aynı olabilir.
- B)Kültür, toplumdan topluma farklılık gösterebilir.
- C)Kültür değişikliklere uğrayabilir.
- D)Kültür, bütün dünyada aynıdır.

18) İnsan, doğası gereği toplumsal bir varlıktır. Yalnız yaşaması pek mümkün değildir. Birlikte yaşamının gereği olan dayanışma ile insanlar yardımlaşmayı, birlikte iş yapmayı öğrenir. "bir elin nesi var iki elin sesi var, birlikten kuvvet dağar." Atasözlerimizde birlikteliğin, yardımlaşmanın ve dayanışmanın ne kadar önemini belirtmektedir.

Buna göre aşağıdakilerden hangisi yardımlaşmanın faydaları arasında gösterilemez?

- A) Kardeşlik ve dostluk duyguları gelişir.
- B) Birlik ve beraberlik artar.
- C)Bütün problemlerimizi çözer.
- D)Toplumda yardımsever bireyler yetişir.

19) Kültürel unsurlarımız bizi bir arada tutan, bizi birbirimize bağlayan, kaynaştıran değerlerimizdir. Günlük yaşamımızda birçok kültürel unsurumuz ile karşılaşırız.

Aşağıdakilerden hangisi bu kültürel unsurlarımızdan biri olamaz?

- A) İklimimiz
- B) El Sanatlarımız
- C)Türkülerimiz
- D) Kıyafetlerimiz

20) Bir grubun bütün üyelerine yönelik abartılan, genelleştirilen olumlu veya olumsuz değerlendirmelere kalıp yargı denir.

Paragrafta verilen bilgiye göre aşağıdakilerden hangisi bir kalıp yargı cümlesi değildir?

- A) Kadınlar da hakem olabilirler.
- B) Erkekler ağlamaz.
- C)Kadınlar duygusaldır.
- D)Bir şey ucuzsa demek ki kalitesizdir.

ÜNİTE 1: PEYGAMBERLER VE İLAHİ KİTAP İNANCI

1. Allah(c.c) Elçileri: Peygamberler

Nübüvvet, kelime olarak haber verme anlamındadır. Terim olarak peygamberlik, nebilik, elçilik, risalet anlamlarına gelir. Allah'ın (c.c.) gönderdiği vahiyleri, emir ve yasakları alıp insanlara dinin gerçeklerini duyurma; söz, tutum ve davranışlarıyla açıklama makamı olan peygamberlik vazifesidir.

Risalet, kelime olarak gönderilen elçi demektir. Terim olarak peygamberlik, nebilik, elçilik anlamlarına gelir. Allah'ın (c.c.) emir ve yasaklarını insanlara bildirmekle görevli olan peygamberlerin Allah (c.c.) ile insanlar arasındaki elçilik vazifesidir.

Kur'an-ı Kerim'de "**peygamber**"'in karşılığı olarak "**nebi**" ve "**resul**" sözcükleri kullanılmıştır.

Peygamberlerin ilettiği mesajlar, Allah'ın emirleri, yasakları ve öğütlerinden oluşur. Bunlara ve bunların peygambere gönderilmesine vahiy denir.

Allah, insanları hiçbir zaman yalnız ve başıboş bırakmamış, tarih boyunca birçok peygamber göndererek onlara doğru yolu göstermiştir. Kur'an-ı Kerim'de tüm peygamberlerin sayısı ve adları belirtilmemiştir.

Peygamberlerden bazılarının isim ve kıssalarına Kur'an-ı Kerim'de yer vermiştir.

2. Peygamberlerin Özellikleri ve Görevleri

Yüce Allah'ın seçtiği elçiler; dürüst ve güvenilir kişilikleriyle, sorumlu ve adaletli tutumlarıyla örnek insanlardır. Peygamberlerin en önemli özelliklerinden biri doğru ve dürüst olmalarıdır. Bütün peygamberler güvenilir ve dürüst insanlardır. Onlar, sözleri ve davranışlarıyla bunu ortaya koymuşlardır. Peygamberler, her türlü kötü davranışlardan korunmuş ve kaçınmışlardır. Eğer böyle olmasalardı insanların onları dinlemesi, güvenilir bulması ve onlara inanması mümkün olmazdı. Peygamberler, Yüce Allah'tan aldıkları mesajları doğru anlamış ve insanlara olduğu gibi bildirmişlerdir.

Bütün peygamberlerde bulunan sıfatlar şunlardır:

- 1. Fetanet :** Akıllı ve zeki olmak
- 2. İsmet :** Günah işlemekten korunmuş olmak
- 3. Tebliğ :** Allah'tan aldığı mesajları olduğu gibi insanlara bildirmek.
- 4. Emanet :** Güvenilir olmak
- 5. Sıdk :** Doğru olmak

3. Vahiy ve Vahyin Gönderiliş Amacı

Vahiy sözlükte; gizli konuşma, gizli ve süratli olarak bildirme, gönderme, işaret gibi anlamlara gelir. Terim anlamı ise; Peygamberler aracılığıyla insanlara, hayatın hangi ilkelere göre yönlendirilmesi ve nelere uyup nelerden sakınılması gerektiğini bildiren ilahî bilgi ve bu bilginin gönderiliş tarzıdır.

Allah; insanların, dünyada ve ahirette huzurlu ve mutlu yaşamalarını sağlamak amacıyla peygamberler aracılığıyla vahiy göndermiştir. Yüce Allah, insanlar yanlış inançlara yönelmesinler diye vahiy göndermiştir. İlahî kitaplar, ahlaklı ve erdemli yaşamının ilkeleri üzerinde durur. İnsanlar arasında dinle ilgili görüş ayrılıkları, ilahî kitaplar sayesinde çözüme kavuşmuştur.

4. İlâhi Kitaplar

İlahî kitaplar, Allah'ın peygamberlere vahyettiği kitaplardır. İlahî kitaplarda; doğru, iyi, yararlı ve güzel davranışların neler olduğu yazılıdır. Onların içinde ilahî buyruklar, öğütler ve haramlar bildirilmiştir. Bu kitaplar kişinin kendisine, ailesine ve topluma karşı sorumluluklarını içermektedir.

Dört ilahî kitap vardır. Bunlardan

- Tevrat Hz. Musa 'ya,
- Zebur Hz. Davut'a,
- İncil Hz. İsa'ya,
- Kur'an-ı Kerim de Hz. Muhammed'e indirilmiştir.

1) Allah'tan aldığı mesajları insanlara iletmekle görevli olan ve onlar arasından seçilen elçiye ne denir?

- A) İlahi Kitap
- B) Peygamber
- C) Mucize
- D) Melek

2) Aşağıdakilerden hangisi peygamber kavramıyla ilgili yanlış bir bilgidir?

- A) Peygamberler, Allah tarafından insanlardan seçilen ve O'nun mesajlarını insanlara ileten elçidir.
- B) Kur'an'da "Peygamber" kavramının karşılığı olarak "nebi" ve "resul" sözcükleri kullanılır.
- C) Peygamberler kıyamete kadar gelmeye devam edecektir.
- D) Peygamberlerin ilettiği mesajlar Allah'ın emirleri, yasakları ve öğütlerinden oluşur.

3) Allah niçin vahiy göndermiştir?

- A) İnsanları doğru yola, Allah'a kulluğa ve güzel ahlaka yöneltmek için
- B) İnsanların kültürlerini geliştirmeleri ve medeniyetler kurmaları için
- C) İnsanların bilim ve teknolojide ilerlemeleri için
- D) İnsanların savaşlar kazanarak devletler kurmaları için

4) Peygamberimizin bizim gibi acıkması, hastalanması, üzülmesi, sevinmesi, alışveriş yapması, söylediği ibadetleri ilk önce kendisinin yapması daha sonra bizim yapmamızı istemesi neyi gösterir?

- A) Meleklerden üstün olduğunu
- B) İnsanlara ekonomik yardımda bulunduğunu
- C) Allah'ın en sevgili kulu olduğunu
- D) İnsanlara rehber ve örnek olduğunu

5) Aşağıdakilerden hangisi peygamberlerin örnek davranışlarından değildir?

- A) Öfkelenmek
- B) Cömert olmak
- C) Affedici olmak
- D) Yardımseverlik

6) Aşağıdakilerden hangisi vahyin gönderiliş amaçlarından biri değildir?

- A) Allah'ın insanlara kendini tanıtmak istemesi
- B) İnsanı ibadete, güzel davranışlara yöneltmek istemesi
- C) İnsana sorumluluklarını öğretmek istemesi
- D) İnsana sınırsız özgürlük sağlamak istemesi

7) "Peygamberlerin Allah tarafından aldığı emir ve yasakları, üzerinde değişiklik yapmadan insanlara ilemesine.....adı verilmektedir."

Yukarıda verilen metinde noktalı yere aşağıdaki seçeneklerden hangisi getirilmelidir?

- A) Nebi
- B) Tebliğ
- C) Sevap
- D) Sünnet

8) Allah'ın emir ve yasaklarını peygamberlerine bildirmesine ne denir?

- A) Mesaj
- B) İletişim
- C) Vahiy
- D) Haber

9) Aşağıdakilerden hangisi kutsal kitaplardan değildir?

- A) Zebur
- B) Risaleler
- C) İncil
- D) Kur'an-ı Kerim

10) Aşağıdakilerden hangisinde Peygamberlerin özellikleri bir arada verilmiştir?

- A) Mucize-Tebliğ-İsmet-Emanet-Fetanet
- B) Sıdk-Nebi-Fetanet-Vahiy-İsmet
- C) Sıdk-Emanet-Fetanet-Mucize-Tebliğ
- D) Fetanet-İsmet-Tebliğ-Emanet-Sıdk

11) Peygamberlerin güvenilir olmalarını ifade eden sözcük aşağıdakilerden hangisidir?

- A) Tebliğ
- B) Emanet
- C) Fetanet
- D) İsmet

12) Peygamberlerin günden güne kaçındıklarını ifade eden sözcük aşağıdakilerden hangisidir?

- A) Fetanet
- B) Emanet
- C) Sıdk
- D) İsmet

13)

1.İslam'da Peygamberlere inanmak İmanın şartları arasında yer almaktadır.

2.Gönderilen ilk Peygamber Hz.Adem(a.s), son Peygamber ise Hz.Muhammed (s.a.v)'dir.

3.Gönderilen her Peygamberin adlarını bilmek dini görevlerimiz arasında yer almaktadır.

Yukarıda verilen bilgilerden hangisi yanlıştır?

- A) Yalnız 3
- B) 1 ve 2
- C) 2 ve 3
- D) 1 ve 3

14) Aşağıdakilerden hangisi Peygamberlerin insanlar arasından seçilme nedenlerinden biri değildir?

- A) İnsanlara örnek olabilmeleri
- B) İnsanların ihtiyaçlarını bilmeleri
- C) İnsanlardan fiziki olarak daha üstün olmaları
- D) İnsanlarla iletişim kurabilmeleri

15) Peygamberlerin akıllı ve zeki olmalarını ifade eden sözcük aşağıdakilerden hangisidir?

- A) İsmet
- B) Emanet
- C) Fetanet
- D) Sıdk

16) Aşağıdaki Peygamberlerin hangisine ilahi kitap gönderilmemiştir?

- A) Hz. Adem
- B) Hz. Muhammed
- C) Hz. Davut
- D) Hz. Musa

17) Peygamberlerin akıllı ve zeki olma sıfatı.....dir.

Peygamberlerin günah işlememiş ve günah işlenen durumlardan uzak olma sıfatına.....denir.

Yukarıda verilen noktalı yerlere sırası ile aşağıdakilerden hangisi gelmelidir?

- A) Fetanet-Emanet
- B) Sıdk-Fetanet
- C) Tebliğ-İsmet
- D) Fetanet-İsmet

18) Peygamberler hakkında verilen aşağıdaki bilgilerden hangisi yanlıştır?

- A) Peygamberleri insanlardan ayıran önemli özelliklerden biri de vahiy almalarıdır.
- B) İnsanlar peygamberleri kura ile seçerler.
- C) Peygamberler kendilerine iletilenleri uygular ve insanlara örnek olurlar.
- D) Peygamberler kendi istekleri doğrultusunda hiçbir şekilde vahiyde değişiklik yapamazlar.

19) Peygamberlerle ilgili aşağıda verilen bilgilerden hangisi yanlıştır?

- A) İnsanları iyiliğe ve doğruluğa yönlendiren yol göstericilerdir.
- B) İnsanları yanlış ve kötü davranışlardan uzaklaştırmak için çalışmışlardır.
- C) Yaşadıkları toplumları iyiliğe ve güzelliğe çağırmışlardır.
- D) Sadece kendi dönemlerindeki insanlara örneklerdir.

20) Allah'ın Peygamberlere verdiği diğer özelliklerden birisi de.....dir. Bu olağanüstü durumlar yalnızca Allah'ın isteği doğrultusunda gerçekleşmektedir.

Yukarıdaki metinde verilen noktalı yere aşağıdakilerden hangisi getirildiğinde anlam bütünlüğü sağlanmış olur?

- A) Hicret
- B) Mucize
- C) Vahiy
- D) Sünnet

1) Choose the correct option.

Lale:What time is it?

Gamze:It's quarter to seven.

A)07.45

B)07.15

C)08.45

D)06.45

2)What's the second day of the week?

A)It's Wednesday

B)It's Friday

C)It's Tuesday

D)It's Saturday

3)Fill in the blanks with the correct words.

I go to school on.....but I don't go to school at.....

A)weekdays/ weekends

B)weekdays/weekdays

C)weekends/weekends

D)weekends/weekdays

4)Fill in the blanks with the appropriate word.

My school.....at half past eight.

A) starts

B) goes

C) comes

D) has

5)Choose the correct question words

Taner:.....does Semihto school?

Sema:He goes to school on weekdays.

A)Where/goes

B)How/go

C)Why/goes

D)When/go

Answer the questions according to the paragraph.

Hello I'm Megan.I am a teacher at a primary school.I live with my sister.I get up at seven o'clock on weekdays and I have breakfast at thirty five past seven.I go to school by my car.I have lunch at twelve o'clock.I get back home at three.I read my book for one hour then use computer.I listen to pop music.We watch TV for two hours.I go to bed at eleven o'clock.

6) Is Megan a student?

A)Yes,She is.

B)No,she is a teacher.

C)He is a teacher.

D)He isn't a student.

7) Does she live alone?

A)No,she doesn't live alone.She lives with her sister.

B)Yes,she lives alone.

C)she lives with her family.

D)She lives with her friends.

8)How does she go to school?

A)By train.

B)By car.

C)By school bus.

D)By bus.

9)What doesn't she do after school?

A)She uses computer.

B)She plays the piano.

C)She listens to music.

D)She reads a book.

10) What is the the last day of the school?

A) It's Friday.

B) It's Saturday.

C) It' Monday.

D) It's Tuesday.

11) What is the fifth month of the year?

A) It's February.

B) It's September.

C) It's May.

D)It's June.

12) We have lunch.....

A) in the evening.

B) at night.

C) at eight o'clock.

D) at noon.

13)Choose odd one out

A)January

B)May

C)Saturday

D)December

Answer the questions according to the text.

This Sam's lesson timetable.He has got four lessons today.They are History,French and Maths.Tommorrow,he has got two lessons,English and Geography.He hasn't got Maths tomorrow.He has got a lunch time after English.

14)When is his lunch time?

A)in the afternoon.

B)in the evening.

C)in English lesson.

D)after English lesson.

15)How many lessons has he got today?

- A)He has got four lessons.
- B)He has got only two lessons.
- C)He hasn't got any lessons.
- D)He has got three lessons.

16)Has he got history lessons today?

- A)No,he hasn't.
- B)Yes,he is.
- C)Yes,he has.
- D)Yes,he got

17)When is his Geography lesson?

- A)It is tomorrow.
- B)It was yesterday.
- C)It is today.
- D)It is on Monday.

18)Complete the sentence with the best option.

My grandparents visit us.....

- A)at the restaurant.
- B)on the table.
- C)at the weekends.
- D)after school.

19)Complete the dialogue with the best option.

Mustafa:Do you read newspaper in the morning?

Ayça:.....

- A)I have got an old newapaper.
- B)Let's g oto the cinema.
- C)What about evening?
- D)Yes,I like reading newspaper.

20)Which one is correct order?

a-have breakfast

b-get up

c-have diner

d-go to bed

A)b,a,c,d

B)a,c,d,b

C)c,d,a,b

D)b,c,a,d

CEVAP ANAHTARI

TÜRKÇE

- 1) B
- 2) A
- 3) D
- 4) A
- 5) B
- 6) C
- 7) C
- 8) A
- 9) A
- 10) A
- 11) B
- 12) D
- 13) C
- 14) B
- 15) B
- 16) D
- 17) B
- 18) C
- 19) C
- 20) D

MATEMATİK

- 1) C
- 2) D
- 3) B
- 4) B
- 5) A
- 6) C
- 7) A
- 8) D
- 9) C
- 10) D
- 11) C
- 12) D
- 13) D
- 14) B
- 15) D
- 16) D
- 17) C
- 18) B
- 19) D
- 20) A

FEN BİLİMLERİ

- 1) D
- 2) D
- 3) C
- 4) B
- 5) A
- 6) A
- 7) C
- 8) D
- 9) B
- 10) B
- 11) C
- 12) B
- 13) B
- 14) B
- 15) B
- 16) D
- 17) C
- 18) A
- 19) C
- 20) C

SOSYAL BİLGİLER

- 1) C
- 2) D
- 3) B
- 4) D
- 5) C
- 6) A
- 7) C
- 8) D
- 9) B
- 10) A
- 11) B
- 12) A
- 13) A
- 14) D
- 15) C
- 16) D
- 17) D
- 18) C
- 19) A
- 20) A

DİN KÜLTÜRÜ VE
AHLAK BİLGİSİ

- 1) B
- 2) C
- 3) A
- 4) D
- 5) A
- 6) D
- 7) B
- 8) C
- 9) B
- 10) D
- 11) B
- 12) D
- 13) A
- 14) C
- 15) C
- 16) A
- 17) D
- 18) B
- 19) D
- 20) B

İNGİLİZCE

- 1) D
- 2) C
- 3) A
- 4) A
- 5) D
- 6) B
- 7) A
- 8) B
- 9) B
- 10) A
- 11) C
- 12) A
- 13) C
- 14) D
- 15) A
- 16) C
- 17) A
- 18) C
- 19) D
- 20) A

EMEĞİ GEÇEN ÖĞRETMENLERİMİZ

SİİRT MİLLİ EĞİTİM AR-GE BİRİMİ

Murat EKİNCİ

Koordinatör Okul Müdürü

Kübra SARAN

Bilişim Teknolojileri Öğretmeni

Kübra AKMAN
Türkçe Öğretmeni

Erdal BAYKARA
Zeliha NAS
Matematik Öğretmenleri

Mehtap KAŞ
Fen Bilimleri Öğretmeni

Agit DÜNDAR
Sosyal Bilgiler Öğretmeni

Ferhat AĞRAK
**Din Kültürü ve Ahlak Bilgisi
Öğretmeni**

Tuba DELEK
İngilizce Öğretmeni