

2020-2021 EĞİTİM ÖĞRETİM YILI A.E.K İLKOKULU 4/B SINIFI
FEN BİLİMLERİ DERSİ 1. DÖNEM 1. SINAVI (BEPLİ ÖĞRENCİ İÇİN)


AD SOYAD:..... SINIF..... NO.....

1.Dünya' nın şekli hangisidir ?(10 puan)

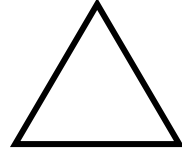
A.



B.



C.



2. Yer kabuğunun üzerinde hangisi yoktur?(10 puan)

A. Taş

B. Kum

C. Bulut


3. Aşağıdakilerden hangisi hayvansal besindir? (10 puan)

A. Et

B. Domates

C. Havuç

4 Aşağıdaki boşluklara uygun harfleri yazınız.



GECE (.....)

GÜNDÜZ(.....)

DÜNYA



5. Hangisi sađlıklı yiyecektir?(10 puan)

A.



Elma

B.



Hamburger

C.



Cips

7. Kuyumculuk, takı ve süslemede kullanılan maden hangisidir? (10 puan)

A.



Altın

B.



Kömür

C.



Bor

8. Dünya'nın Güneş etrafında yaptığı hareket hangisidir? (10 puan)

A. Dolanma hareketi

B. Dönme hareketi

C. Sallanma Hareketi

9. Hayvansal gıdalara 2 tane örnek yazınız.

.....

.....

10 Bitkisel gıdalara 2 örnek yazınız.

.....

.....

