



HAYAT BİLGİSİ

1

ÇALIŞMA KİTABI





MİLLÎ EĞİTİM BAKANLIĞI YAYINLARI • 7439
YARDIMCI KAYNAK EĞİTİM MATERYALİ • 1499

HAYAT BİLGİSİ

1. Sınıf

Çalışma Kitabı




Türkçe yayın hakları MEB, 2020

Tüm yayın hakları saklıdır. Tanıtım için yapılacak kısa alıntılar dışında,
yayıncının yazılı izni olmaksızın hiçbir yolla çoğaltılamaz ve kullanılamaz.

1. Baskı 2020

ISBN 978-975-11-5508-5





Mustafa Kemal ATATÜRK







İSTİKLÂL MARŞI

Korkma, sönmez bu şafaklarda yüzen al sancak;
Sönmeden yurdumun üstünde tüten en son ocak.
O benim milletimin yıldızıdır, parlayacak;
O benimdir, o benim milletimindir ancak.

Çatma, kurban olayım, çehreni ey nazlı hilâl!
Kahraman ırkıma bir gül! Ne bu şiddet, bu celâl?
Sana olmaz dökülen kanlarımız sonra helâl.
Hakkıdır Hakk'a tapan milletimin istiklâl.

Mehmet Âkif ERSOY

İÇİNDEKİLER

1. ÜNİTE

OKULUMUZDA HAYAT.....	10
TANIŞIYORUZ.....	11
BENZER VE FARKLI YÖNLERİMİZ.....	13
GÜVENLİK KURALLARINA UYUYORUZ.....	14
KONU TESTİ.....	15
SINIFIMIZIN YERİ.....	16
SINIFIMIZDAKİ EŞYALAR.....	17
BAYRAK TÖRENİ.....	18
OKULUMUZUN BÖLÜMLERİ.....	19
TUVALETİ TEMİZ KULLANIYORUZ.....	20
OKULUMUZUN ÇALIŞANLARI.....	21
YARDIM ALIYORUZ.....	22
SINIF KURALLARINI BELİRLİYORUZ.....	23
KONU TESTİ.....	24
OKUL KURALLARINA UYUYORUZ.....	25
NEZAKET İFADELERİ KULLANIYORUZ.....	26
ETKİNLİKLERE KATILIYORUZ.....	27
KONU TESTİ.....	28
OYUN OYNAMAYI SEVİYORUZ.....	29
OKULUMUZU SEVİYORUZ.....	30
DERS ARAÇ GEREÇLERİMİZ.....	31
1. ÜNİTE DEĞERLENDİRME SORULARI.....	33



2. ÜNİTE

EVİMİZDE HAYAT.....	35
AİLEMİZ.....	36
AİLE HAYATININ ÖNEMİ.....	37
EVİMİZİN YERİ.....	38
AİLE İÇİ NEZAKET.....	39
KAYNAKLARI DOĞRU KULLANIYORUZ.....	40
KONU TESTİ	41
PLANLI YAŞIYORUZ.....	43
KONU TESTİ	44
İSTEK VE İHTİYAÇLARIMIZ.....	45
2. ÜNİTE DEĞERLENDİRME SORULARI.....	46

3. ÜNİTE

SAĞLIKLI HAYAT.....	48
KİŞİSEL BAKIM.....	49
SAĞLIĞIMIZ İÇİN ALINMASI GEREKEN ÖNLEMLER.....	52
SAĞLIKLI BESLENİYORUZ.....	53
ÖĞÜNLERE UYGUN BESLENİYORUZ.....	55
YİYECEK HAZIRLIYORUZ.....	56
YEMEKTE GÖRGÜ KURALLARI.....	57
KONU TESTİ	59
KİTLE İLETİŞİM ARAÇLARINI DOĞRU KULLANIYORUZ.....	62
3. ÜNİTE DEĞERLENDİRME SORULARI.....	65



4. ÜNİTE

GÜVENLİ HAYAT.....	67
GÜVENLİK KURALLARI.....	68
TRAFİK KURALLARINA UYUYORUZ.....	71
GÜVENLİ İLETİŞİM KURUYORUZ.....	78
ACİL DURUM TELEFONLARI.....	80
KONU TESTİ	81
TEKNOLOJİK ARAÇLARIN KULLANIMI.....	84
KONU TESTİ	85
GÜVENLİ ALANLARDA OYNUYORUZ.....	86
4. ÜNİTE DEĞERLENDİRME SORULARI	87

5. ÜNİTE

ÜLKEMİZDE HAYAT.....	89
YAŞADIĞIMIZ YER.....	90
ÇEVREMİZDEKİ TARİHÎ VE TURİSTİK YERLER.....	91
ÜLKEMİZİN ÖZELLİKLERİ.....	92
ÜLKEMİZDEKİ FARKLI KÜLTÜRLER.....	93
KONU TESTİ.....	94
ATATÜRK'ÜN HAYATI.....	95
MİLLÎ GÜN VE BAYRAMLAR.....	96
KONU TESTİ	98
DİNÎ GÜN VE BAYRAMLAR.....	100
5. ÜNİTE DEĞERLENDİRME SORULARI.....	103



6. ÜNİTE

DOĞADA HAYAT.....	106
ÇEVREMİZDEKİ HAYVANLAR.....	107
ÇEVREMİZDEKİ BİTKİLER	110
DOĞA VE ÇEVRE TEMİZLİĞİ.....	113
GERİ DÖNÜŞÜM.....	115
GÖKYÜZÜNÜ GÖZLEMLİYORUZ.....	117
KONU TESTİ.....	118
MEVSİMLER.....	122
MEVSİMLERE GÖRE DEĞİŞİM.....	123
KONU TESTİ.....	124
6. ÜNİTE DEĞERLENDİRME SORULARI.....	125

CEVAP ANAHTARI	127
SÖZLÜK	130
KAYNAKÇA.....	133



HAYAT BİLGİSİ 1

1. ÜNİTE

OKULUMUZDA HAYAT



TANIŞIYORUZ

Okula başladık. Çok heyecanlıyız. Okulda öğretmenimizle ve arkadaşlarımızla tanışacağız. Bir oyun oynamaya ne dersiniz?



- Çember şeklinde sıralanalım. Sırayla ismimizi söylerken kendimize özgü bir hareket yapalım. İkinci turda, ilk olarak kendimizden bir önceki arkadaşımızın ismini söyleyip onun hareketini yapalım. El çırpma veya zıplama... Sonra kendi ismimizi söyleyip hareketimizi yapalım.

OYUN
OYNUYORUZ



- Bugün kimlerle tanıştınız? Söyleyiniz.
- Tanıştığınız kişiler hakkında neler öğrendiniz? Söyleyiniz.

ÜNİTE 1

Hayat Bilgisi OKULUMUZDA HAYAT




Okuldaki ilk gününüzü anlatan bir resim çizersiniz.

BENZER VE FARKLI YÖNLERİMİZ

Doğuştan gelen farklı özelliklerimiz vardır. Saç rengimiz, göz rengimiz, boyumuz, kilomuz birbirimizden farklı olabilir. Sınıfımızda çeşitli sağlık sorunları nedeni ile güçlükler yaşayan, özel gereksinimli bireyler de olabilir.



Aşağıdaki ifadelerden doğru olanın başındaki çiçeği maviye, yanlış olanın başındaki çiçeği kırmızıya boyayınız.



Birbirimizin farklı özelliklerine karşı saygılı olmalıyız.



Sadece bize benzeyen çocuklarla arkadaş olmalıyız.




İşitme cihazı, gözlük vb. kullanan arkadaşlarımızla oyun oynarken kullandıkları araç ve cihazlara dikkat etmeliyiz.

GÜVENLİK KURALLARINA UYUYORUZ

Okul servisine bindiğimizde koltuğa oturmalıyız. Emniyet kemerimizi takmalıyız. Tanımadığımız kişilerle konuşmamalıyız. Yolun karşısına geçerken yaya geçitlerini kullanmalıyız.



Aşağıdaki görseli inceleyiniz. Yayalar yolun karşısına nereden geçiyorlar? Başka nereleri kullanabilirler?



KONU TESTİ

Aşağıda verilen soruları okuyup doğru seçeneği işaretleyiniz.

1) Aşağıdakilerden hangisi tanışırken kullandığımız ifadelerden biri değildir?

- ☐ Merhaba, ben Zeynep.
- ☐ Hangi oyunları seversin?
- ☐ Yarın tiyatroya gideceğim.

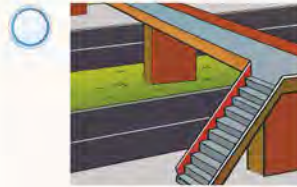
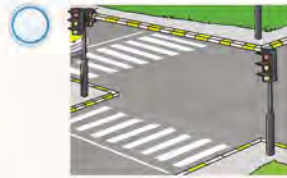
2) Hande hangi seçenekte fiziksel bir özelliğini söylemektedir?

- ☐ Adım Hande.
- ☐ Göz rengim kahverengi.
- ☐ İp atlamayı severim.

3) Aşağıdaki ifadelerden hangisi yanlıştır?

- ☐ Arkadaşlarımla benzer ve farklı yönlerim olabilir.
- ☐ Oyun oynarken gözlük kullanan arkadaşımın gözlüğüne dikkat etmeliyim.
- ☐ Arkadaşlarımla farklı özelliklerine saygı duymam.

4) Hangi görsel karşıdan karşıya güvenli geçiş yolunu göstermemektedir?



5) Aşağıdaki ifadelerden hangisi doğrudur?

- ☐ Okula gidip gelirken tanımadığım insanlarla konuşurum.
- ☐ Okul yolunda tanıdığım insanlara selam vermem.
- ☐ Tanımadığım insanlar bana bir şey vermek isterse almam.

ÜNİTE 1

Hayat Bilgisi OKULUMUZDA HAYAT

SINIFIMIZIN YERİ

Öğretmeniniz eşliğinde okulunuzu gezmişsinizdir. Buna göre sınıfınızın okul içindeki yerini söyleyiniz.



- Aşağıda boş bırakılan alana bir sıra, sıranın önüne de bir masa çiziniz.
- Sıranın sağına kendinizi, sıranın soluna bir arkadaşınızı çiziniz.
- Sıranın arkasındaki duvara bir saat, saatin altına bir tablo çiziniz.
- Sıranızın üstüne bir kitap çiziniz.
- Kitabın yanına bir kalem çiziniz.

SINIFIMIZDAKİ EŞYALAR


Sınıfımızda pano, yazı tahtası, kitaplık, öğretmen masası, öğrenci sırası, sınıf dolabı gibi ders araç gereçleri bulunmaktadır. Şeref köşesinde ise Türk bayrağı, Atatürk portresi, İstiklâl Marşı ve Gençliğe Hitabe yer alır.



ETKİNLİK



Aşağıdaki resmi inceleyiniz. Resimdeki eşyalardan sizin sınıfınızda olan veya olmayan eşyaları söyleyiniz. Resmi boyayınız.



BAYRAK TÖRENİ

Bağımsız bir devletin bayrağı ve ulusal marşı vardır. Türk bayrağı ve İstiklâl Marşı, ülkemizin bağımsızlığını temsil eder. Bayrak törenlerinde hazır olda bekleriz.



Aşağıdaki ifadelerden doğru olanların başındaki üçgeni maviye boyayınız.

- △ Bayrak törenlerinde İstiklâl Marşı'nı hareket ederek söyleriz.
- △ Türk bayrağı bağımsızlığımızı temsil eder.
- △ Şarkı ve türküler bağımsızlık sembolüdür.
- △ Millî marşımızın adı İstiklâl Marşı'dır.

OKULUMUZUN BÖLÜMLERİ

Okulumuzda müdür odası, müdür yardımcısı odası, öğretmenler odası, sınıflar, spor salonu, rehberlik servisi, kütüphane, kantin, tuvalet gibi bölümler vardır.











Okulunuzda bulunan bölümleri gösteren bir resim çiziniz ve resminizi boyayınız.

TUVALETİ TEMİZ KULLANIYORUZ

Okulumuzun bölümlerinden biri de tuvaletlerdir. Tuvaleti kullanma kurallarına dikkat etmeliyiz.



Aşağıdaki cümleleri okuyunuz. Doğru cümlelerin başındaki çiçeği maviye, yanlış cümlelerin başındaki çiçeği kırmızıya boyayınız.

-  Teneffüste tuvalete gitmem gerektiğinde öğretmenimden izin alırım.
-  Muslukları açık bırakmam.
-  Tuvaleti temiz bırakırım.
-  Tuvalete girmeden önce kapıyı çalarım.
-  Tuvaletten çıkarken ellerimi yıkamam.
-  Kullandığım tuvalet kâğıdını çöp kutusuna atarım.
-  Tuvaletlerdeki temizlik malzemelerini tasarruflu kullanırım.
-  Zemin ıslaksa dikkatli davranmam.

OKULUMUZUN ÇALIŞANLARI

Okulda daha iyi eğitim almamız için çalışanlar vardır. Bunlar;

- Müdür
- Müdür yardımcısı
- Öğretmenler
- Memurlar
- Hizmetliler
- Kantin görevlisidir.



ETKİNLİK



Okulunuzdaki çalışanların resimlerini aşağıdaki alana çiziniz.

YARDIM ALIYORUZ

Okulumuzda acil bir durum olduğunda veya bir sorun yaşadığımızda öğretmenimizden, nöbetçi öğretmenden, okul yöneticilerinden veya hizmetlilerden yardım isteyebiliriz.



Aşağıdaki durumlarda ne yapmamız gerektiğini söyleyiniz. Bu durumları drama yaparak canlandırınız.

- ➡ Sınıfta suyumuz yere döküldüğünde kimden yardım istemeliyiz?
- ➡ Okulda hastalandığımızda kimden izin almalıyız?
- ➡ Sınıfa tablo asmak için kimden yardım almalıyız?
- ➡ Teneffüste bir arkadaşımız düşüp yaralanırsa kimden yardım istemeliyiz?
- ➡ Nöbetçi öğretmenden hangi durumlarda yardım istemeliyiz?
- ➡ Sınıfımızın temizlenmediğini gördüğümüzde kimden yardım istemeliyiz?
- ➡ Sınıf arkadaşlarımızla sorun yaşadığımızda kimlerden yardım alabiliriz?

SINIF KURALLARINI BELİRLİYORUZ


Kuralların önceden belirlendiği bir sınıf ortamı düzenli ve temiz olur. Sizin sınıfınızda hangi kurallar var? Bu kuralları nasıl belirlediniz?



ETKİNLİK



Sınıfınızda kurallar olmasa ne olur? Söyleyiniz. Sınıf içi kurallara uyan resimleri "X" ile işaretleyiniz.



ETKİNLİK



Aşağıda verilen ifadelerden sınıf kurallarına uygun olanların başına ✓ işareti koyunuz.

- () Teneffüslerde sınıf içerisinde oyun oynamam.
- () Sınıf içinde koşarım.
- () Arkadaşıma eşyasını izinsiz kullanırım.
- () Çöplerimi çöp kovasının içine atarım.

KONU TESTİ

Aşağıda verilen soruları okuyup doğru seçeneği işaretleyiniz.

1) Aşağıdaki öğrencilerden hangisi sınıf kurallarına uymamaktadır?

- ☐ Ayşe derste söz alarak konuşuyor.
- ☐ Ali sınıf eşyalarını özenli kullanıyor.
- ☐ Ayça çöplerini sırasının altında bırakıyor.

2) "Sınıfımızın kurallarını belirleriz."

Yukarıdaki cümlede boş bırakılan yere ne yazılmalıdır?

- ☐ sınıfça
- ☐ hizmetliyle
- ☐ kendimiz

3) Aşağıdakilerden hangisi okulda çalışmaz?

- ☐ Öğretmen
- ☐ Hizmetli
- ☐ Berber

4) Hangi öğrencinin davranışı sınıf kurallarına uygundur?

- ☐ Ebru ders sırasında yerinde oturmuyor, sınıfta dolaşıyor.
- ☐ Özgür okul kıyafetlerine özen gösteriyor.
- ☐ Ayla öğretmenini dinlemiyor.

5) Ahmet sabah okula geç kaldı. Bu durumda Ahmet sınıfa girmeden önce ne yapmalıdır?

- ☐ Kantinde dersin bitmesini beklemelidir.
- ☐ Müdür yardımcısından izin kâğıdı almalıdır.
- ☐ Bahçede oyun oynamalıdır.

6) Aşağıdakilerden hangisi sınıfımızdaki şeref köşesinde bulunmaz?

- ☐ Mevsim şeridi
- ☐ Atatürk resmi
- ☐ İstiklâl Marşı

OKUL KURALLARINA UYUYORUZ



Sınıfımızda olduğu gibi okulumuzda da uyduğumuz kurallar vardır. Bu kurallar okulumuzda düzenin sağlanması ve güvende olmamız için koyulmuştur.



ETKİNLİK



Okul içerisindeki koridor ve merdivenlerde herkes koşarsa ne gibi durumlar yaşanabilir? Söyleyiniz. Aşağıdaki görselleri inceleyiniz. Okul kurallarına uygun davranışların yer aldığı görsellerin altındaki kutucuğu işaretleyiniz.



ÜNİTE 1

Hayat Bilgisi OKULUMUZDA HAYAT

NEZAKET İFADELERİ KULLANIYORUZ

Okulumuzda öğretmenimizle, arkadaşlarımızla veya diğer okul çalışanları ile ilişkilerimizde "teşekkür ederim, merhaba, günaydın, iyi günler, hoşça kal, lütfen, özür dilerim, rica ederim" gibi nezaket ifadelerini kullanmalıyız. Okulda çalışanlardan birinin odasına girerken kapısını çalmalı ve ondan izin istemeliyiz.



ETKİNLİK



Aşağıdaki nezaket ifadelerinin kullanıldığı durumlara ait resimler bularak resimleri ilgili alanlara yapıştırınız.

Lütfen

Tebrik ederim


Elinize sağlık

ETKİNLİKLERE KATILIYORUZ

Okulumuzda yapılan etkinliklerde görev almalıyız. Bu etkinlikler belirli gün ve haftalara katılma, kulüp, müzik ve spor faaliyetlerinde bulunma, okul meclisi çalışmalarına katılma olabilir.



Okulda yaptığınız etkinlikleri aşağıdaki alanların içine resimleyiniz. Boya kullanabilir ya da kalemle çizebilirsiniz.



KONU TESTİ

Aşağıda verilen soruları okuyup doğru seçeneği işaretleyiniz.

1) Sabah okulda öğretmeni ve arkadaşlarıyla karşılaşan bir öğrenci hangi nezaket ifadesini kullanmalıdır?

- ☐ Hoşça kal.
- ☐ Özür dilerim.
- ☐ Günaydın.

2) Arkadaşının eşyalarını yanlışlıkla yere düşüren bir öğrenci hangi nezaket ifadesini kullanmalıdır?

- ☐ Rica ederim.
- ☐ Özür dilerim.
- ☐ İyi günler.

3) Arda çok güzel resim yapıyordu. Arda bu yeteneğini geliştirmek için okulunda aşağıdaki kulüplerden hangisine katılmalıdır?

- ☐ Spor kulübü
- ☐ Resim kulübü
- ☐ Müzik kulübü

4) Öğretmenler odasına, müdür odasına veya diğer sınıflara gitmemiz gerekirse önce ne yapmalıyız?

- ☐ Kapıyı çalmalı ve içeri girmek için izin istemeliyiz.
- ☐ Hemen girip söylemek istediklerimizi söylemeliyiz.
- ☐ Kapı açılıncaya kadar beklemeliyiz.

5) Arkadaşının eşyasını kullanmak isteyen bir öğrenci hangi nezaket ifadesini kullanmalıdır?

- ☐ Lütfen.
- ☐ Özür dilerim.
- ☐ Günaydın.

6) Aşağıdakilerden hangisi nezaket ifadesi değildir?

- ☐ İyi akşamlar.
- ☐ Hoş geldin.
- ☐ Çantamı uzat.

OYUN OYNAMAYI SEVİYORUZ

Okulumuzda oyun oynarken çok eğleniriz. Oyun kurallarına uymalı ve arkadaşlarımızla iyi geçinmeliyiz.



ETKİNLİK



Aşağıdaki oyunu arkadaşlarınızla oynayınız. Oyuncular halka olur ve bir ebe seçerler. Ebe eline bir top alır, topu havaya atar. Top yere düşünceye kadar bütün çocuklar güler. Top yere düşünce bütün çocuklar susarlar. Top havadayken gülmeyen ya da top yere düşünce susmayan çocuk oyun dışı kalır. Bu oyunda topu yukarı atacak çocuk bulunamazsa ebenin görevini öğretmen üstlenir.



ÜNİTE 1

Hayat Bilgisi
OKULUMUZDA
HAYAT

OKULUMUZU SEVİYORUZ

Okula başlarken çok heyecanlıydık. Okulda yeni arkadaşlar edindik. Oyunlar oynadık. Yeni bilgiler öğrendik. Okulumuzu çok seviyoruz.



ETKİNLİK



Okulunuzun resmini çiziniz ve resmi boyayınız. Resminizde okulunuzun sizlere sağladığı katkılara da yer veriniz.

DERS ARAÇ GEREÇLERİMİZ

Derslerimizde pek çok araç ve gereç kullanırız. Kalemlerimizi kalem kutusunun içinde taşımamız. Kitap ve defterlerimizin sayfalarını koparmamamız. Bütün araç ve gereçlerimizi özenli kullanmamız.



Aşağıdaki çantanın etrafına okulda kullandığınız ders araç ve gereçlerinden bazılarının resimlerini çizerek boyayınız.



ÜNİTE 1

Hayat Bilgisi
OKULUMUZDA
HAYAT

→ Aşağıdaki görseli boyayınız.

EĞLENCE
VAKTI



1. ÜNİTE DEĞERLENDİRME SORULARI

Aşağıda verilen soruları okuyup doğru seçeneği işaretleyiniz.

1) Aşağıdaki ifadelerden hangisi nezaket ifadesi değildir?

- ☐ Sizi ilgilendirmez.
- ☐ Rica ederim.
- ☐ Nasılsın?

2) Çantasına resim defterini ve boya kalemlerini koyan bir öğrencinin bu malzemelere hangi derste ihtiyacı olabilir?

- ☐ Müzik
- ☐ Matematik
- ☐ Görsel sanatlar

3) Aşağıdakilerden hangisi okulun yaşamımıza sağlayacağı katkılardan değildir?

- ☐ Arkadaş edinme
- ☐ Bilgi edinme
- ☐ Tek başına oyun oynama

- 4) • Tanımadığımız kişilerle iletişim kurabiliriz.
• Tanımadığımız kişilerden hediye kabul etmemeliyiz.
• Tanımadığımız kişilerle oyun oynamalıyız.

Yukarıdaki ifadelerden kaç tanesi doğrudur?

- ☐ 3
- ☐ 1
- ☐ 2

5) Aşağıdaki ifadelerden hangisi doğrudur?

- ☐ Derste konuşmamalıyız.
- ☐ "Bayrak töreninde" hazır olda durmamalıyız.
- ☐ Koridorlarda koşabiliriz.

6) Beden sağlığına dikkat eden bir öğrenci çantasını nasıl kullanır?

- ☐ Okul çantasına gereksiz eşya koymaz.
- ☐ Okul çantasına tüm kitaplarını koyar.
- ☐ Kitaplarını elinde taşır.

- 7) 1. Türk bayrağı
2. Atatürk portresi
3. İstiklâl Marşı
4. Sınıf kuralları

Yukarıda verilenlerden hangileri şeref köşesinde bulunur?

- ☐ 1, 2, 3 ve 4
☐ 1, 2 ve 3
☐ 1 ve 2

8) Aşağıdakilerden hangisi bağımsızlık sembolü değildir?

- ☐ Türkiye haritası
☐ Türk bayrağı
☐ İstiklâl Marşı

9) Okuldaki yöneticidir.
Okulda en üst yetkilidir.

Yukarıdaki cümlelerde anlatılan hangi okul çalışanıdır?

- ☐ Müdür yardımcısı
☐ Öğretmen
☐ Okul müdürü

10) Aşağıdakilerden hangisi ders araç gereci değildir?



11) Oyun oynarken birbirimize karşı olmalı, haksızlık yapmamalıyız.

Yukarıdaki cümlede boş bırakılan yere aşağıdakilerden hangisi yazılmalıdır?

- ☐ nazik ☐ güçlü ☐ taraflı

12) Sude, teneffüste okul bahçesinde düştü ve dizi yaralandı. Bu durumda kimden yardım istemelidir?

- ☐ Bahçedeki nöbetçi öğretmenden
☐ Okul müdüründen
☐ Kantin görevlisinden



HAYAT BİLGİSİ 1

2. ÜNİTE

EVİMİZDE HAYAT



AİLEMİZ


Anne, baba ve çocuklardan oluşan toplumun en küçük parçasına **çekirdek aile** denir. Dede, nine gibi aile büyüklerimizin olduğu aileye **geniş aile** denir.



ETKİNLİK



Aile büyüklerinizden de yardım alarak aşağıda verilen aile ağacını kendinize göre doldurunuz.



AİLE HAYATININ ÖNEMİ

Aile bireylerini sevgi, saygı ve bağlılık bir arada tutar. Aile içinde iş birliği ve dayanışma çok önemlidir.



ETKİNLİK



Mutlu aile çorbası yapmak istiyorum. Bu çorba için gereken malzemeleri işaretleyiniz.



Sevgi



Dayanışma



Yardımlaşma



Şefkat



Saygı



EVİMİZİN YERİ

Evimizi tarif ederken karşısında, önünde arkasında, sağında, solunda neler olduğunu söyleyebiliriz. Adresimizi tam olarak öğrenmeliyiz. Aile bireylerinden en az birinin telefon numarasını ve adresimizi yanımızda bulundurmalıyız.



ETKİNLİK



Ailenizden yardım alarak aşağıdaki tanıtım kartını kendinize ait bilgilerle doldurunuz.

TANITIM KARTI

Adı - soyadı:.....

Adresi:

Anne telefon numarası:.....

Baba telefon numarası:.....

Acil durumlarda ulaşılacak kişi:.....

Telefon numarası:.....

AİLE İÇİ NEZAKET

Çevremizdekilerle ve aile bireylerimizle iletişim kurarken "rica ederim, lütfen, teşekkür ederim" gibi nezaket ifadelerini kullanmalıyız. Evdeki diğer aile bireylerinin odasına girerken veya özel eşyalarını kullanırken izin istemeliyiz.



Aşağıdaki nezaket ifadelerinin hangi durumlarda kullanıldığını gösteren resimler çiziniz ve resimleri boyayınız.

LÜTFEN

RICA EDERİM

TEŞEKKÜR EDERİM

SAKINCASI YOKSA

HOŞ GELDİNİZ


ÖZÜR DİLERİM

KAYNAKLARI DOĞRU KULLANIYORUZ

Evimizdeki kaynakları dikkatli kullanmalıyız. Kaynakları boşa tüketmemeliyiz. Evimizde bulunan kaynaklar "kömür, odun, elektrik, su, doğal gaz"dır.



Su, elektrik ve doğal gaz olmasaydı neler olurdu? Bu kaynakların hayatımızdaki önemini açıklayınız. Aşağıdaki kişilerden kaynakları dikkatsizce kullananların bulunduğu görsellerin kutucuğunu işaretleyiniz.



Aşağıda verilen kaynaklardan evinizde kullandıklarınızı işaretleyiniz.

Odun



Doğal gaz



Benzin



Elektrik



Su



KONU TESTİ

Aşağıda verilen soruları okuyup doğru seçeneği işaretleyiniz.

1) Anne, baba ve çocuklardan oluşan topluluğa denir.

Yukarıdaki cümlede boş bırakılan yere gelmesi gereken kelimeyi işaretleyiniz.

- ☐ Çekirdek
☐ Aile
☐ Ev

2)



Yukarıdaki görsel nasıl bir aileyi ifade eder?

- ☐ Çekirdek aile
☐ Geniş aile
☐ Küçük aile

3) *Aile üyeleri arasında küslük olmaz.

*Aile üyeleri birbiri ile yardımlaşır.

*Ailede görev paylaşımı olmaz.

Yukarıdaki cümlelerden kaç tanesi doğrudur?

- ☐ 3 ☐ 2 ☐ 1

4) *Ödev yapmak

*Kardeşi ile oynamak

*Yemek pişirmek

Yukarıdakilerden kaç tanesini tek başınıza yapabilirsiniz?

- ☐ 1 ☐ 2 ☐ 3

5) Kerim, ablasının odasına girerken nasıl davranmalıdır?

- ☐ Koşarak girmelidir.
☐ İzin istemelidir.
☐ Kapıyı çalmadan girmelidir.

- 6) *Mahalle adı
*Sokak adı
*Kapı numarası

Ev adresimizi söylemek için yukarıdaki ifadelerden kaç tanesini kullanırsınız?

☐ 3 ☐ 2 ☐ 1

7) Aşağıdakilerden hangisi ev adresimizde bulunur?

- ☐ Komşumuzun adı
☐ Mahallemizin adı
☐ Annemizin adı

8) Adres bilgilerimizi kimlerle paylaşabiliriz?

- ☐ Öğretmenimizle
☐ Tanımadığımız kişilerle
☐ Kantin çalışanıyla

9)



Annesine yardım eden Ömer'e, annesi ne söylemiş olabilir?

- ☐ Teşekkür ederim.
☐ Afiyet olsun.
☐ Geçmiş olsun.

10)



Ayşe bisiklet sürerken, yanlışlıkla komşusuna çamur sıçratmıştır. Ayşe komşusuna ne söylemiştir?

- ☐ Kolay gelsin.
☐ Özür dilerim.
☐ İyi akşamlar.

PLANLI YAŞIYORUZ

Bir günümüzü verimli geçirmek için plan yapmalıyız. Böylece ders çalışmaya, oyun oynamaya, dinlenmeye yeterince zaman ayırabiliriz.



Gün içinde neler yapıyorsunuz? Kısaca anlatınız. Resimlerde anlatılan etkinliklere gün içerisinde kaç saat zaman ayırıyorsunuz? Yıldızları boyayarak gösteriniz (Her yıldız 1 saati ifade etmektedir.).



KONU TESTİ

Aşağıda verilen soruları okuyup doğru seçeneği işaretleyiniz.

1)



Ümit ellerini yıkarken hangi kaynağı dikkatli kullanmıyor?

- ☐ Elektrik
- ☐ Su
- ☐ Doğal gaz

2) Plan yapan ve ona uyan bir öğrenci için aşağıdakilerden hangisi söylenemez?

- ☐ Uykuya yeterli zaman ayırır.
- ☐ Düzenli beslenir.
- ☐ Ailesi ile nitelikli zaman geçiremez.

3) Günlük planımızda aşağıdakilerden hangisine daha fazla zaman ayırırız?

- ☐ Kitap okumak
- ☐ Uyku
- ☐ Beslenme

4)



Ufuk bir gün içinde yapacaklarını planlamıştır. Günlük plan yapmanın faydası ne olabilir?

- ☐ Ödevlerini yapamaz.
- ☐ Gününü verimli geçirir.
- ☐ Oyuna zaman ayıramaz.

5) Günlük plan yaparken kimden yardım alabiliriz?

- ☐ Anne - baba
- ☐ Komşu
- ☐ Güvenlik görevlisi

İSTEK VE İHTİYAÇLARIMIZ

Beslenme, barınma ve giyinme, insanların temel ihtiyaçlarıdır. Alışverişte ihtiyaçlarımıza öncelik vermeliyiz.



Okul eşyaları için istek ve ihtiyaçlarınızı düşününüz. Aşağıdaki tabloya bunlardan bazılarının resmini çiziniz.

İHTİYAÇLAR	İSTEKLER

2. ÜNİTE DEĞERLENDİRME SORULARI

1) Aşağıda verilenlerden ihtiyacımız olanların başındaki kutucuğu boyayınız.

- ☐ Tablet
- ☐ Ekmek
- ☐ Yumurta
- ☐ Paten
- ☐ Ayakkabı

2) Fatma'nın evlerine gelen misafire söylemesi gereken cümlelerin başındaki çiçeği yeşil renge boyayınız.



- ❁ Güle güle.
- ❁ Hoş geldiniz.
- ❁ İyi akşamlar.

3) Görseldeki çocuğun isteği ne olabilir?



- ☐ Sulu boya
- ☐ Basketbol topu
- ☐ Yüzme gözlüğü

4) Aşağıdaki kelimelerden akrabalık ile ilgisi olanları boyayınız.

Anneanne

Dede

Arkadaş

Teyze

5) Çekirdek aile kimlerden oluşur? Doğru ifadenin başındaki kutucuğu kırmızı renge boyayınız.

- ☐ Anne, baba ve çocuklar
- ☐ Hala, amca ve dede
- ☐ Dayı, teyze ve anneanne

6) Aşağıda verilen kaynaklardan evimizde kullandıklarımızı kutucuklarını boyayarak gösteriniz.

- ☐ Ütü
- ☐ Elektrik
- ☐ Su

7) Okulumuzun bölümlerini ifade eden kelimelerin kutularını boyayınız.

Kantin

Rehberlik Odası

Pastane

8)



Merhaba, ben okulda temizlik işleri ile ilgili görevliyim.

Oğuz'un okuldaki görevini gösteren ifadenin önündeki kutucuğu boyayınız.

- ☐ Memur
- ☐ Hizmetli
- ☐ Kantin görevlisi

9) Kahvaltıda tost hazırlayan babamıza hangisini söylememiz doğru olur? İşaretleyiniz.

- ☐ Babacığım ellerine sağlık.
- ☐ Güzel olmamış.
- ☐ Tadını beğenmedim.

10)



Gündüz saatlerinde ödev yapan Gizem, hangi kaynağı tasarruflu kullanmamıştır?

- ☐ Su
- ☐ Elektrik
- ☐ Doğal gaz

HAYAT BİLGİSİ 1

3. ÜNİTE

SAĞLIKLI HAYAT



KİŞİSEL BAKIM


Kişisel bakımımızı düzenli olarak yapmalıyız. Kıyafetlerimizin temizliğine özen göstermeliyiz. Ellerimizi sık sık su ve sabunla yıkamalıyız. Yemeklerden sonra dişlerimizi fırçalamalıyız. Düzenli olarak banyo yapmalıyız. Her gün saçlarımızı taramalıyız. Tuvaleti kullandıktan sonra temiz bırakmalı ve ellerimizi yıkamalıyız.



ETKİNLİK



Kişisel bakımla ilgili olan nesnelerin altındaki kutucuğa ✓ işareti koyunuz.





Aşağıdaki ifadelerden doğru olanların başına ✓ işareti koyunuz.

- () Kişisel bakımımız sağlığımız için önemlidir.
- () Tırnaklarımızı düzenli olarak kesmeliyiz.
- () Haftada bir dişlerimizi fırçalarız.
- () Sabah uyanınca ilk iş olarak elimizi yüzümüzü yıkamalıyız.
- () Havlu kişisel bir eşyadır.
- () Kişisel bakımımızı düzenli olarak yaparız.
- () Dişlerimizi fırçalarken suyu boş yere akıtmayız. Musluğu ihtiyacımız olduğu kadar açarız.
- () Tuvaletten çıktıktan sonra sifonu çekmemize gerek yoktur.
- () Kişisel bakımımız için yapmamız gerekenlerden biri de saçımızı taramaktır.



Kişisel bakım ve temizlik açısından kendinizi değerlendiriniz. Kendinize uygun olan davranışları işaretleyiniz.

DAVRANIŞLAR

Dişlerimi nasıl fırçalamam gerektiğini biliyorum.	
Saçlarımı güzelce tararım.	
Elimi yıkarken sabun kullanırım.	
Sık sık banyo yaparım.	
Tırnaklarımı çok uzamadan keserim.	
Kıyafetlerimi temiz tutarım.	
Kirli yerlerde oyun oynamam.	
Yemeklerde peçete kullanırım.	
Tuvaletten çıktıktan sonra ellerimi sabunlarım.	
Havlunun kişisel bir eşya olduğunu bilirim.	
Kişisel temizlik yaparken kaynakları tasarruflu kullanırım.	

SAĞLIĞIMIZ İÇİN ALINMASI GEREKEN ÖNLEMLER

Hastalandığımızda doktora gitmeliyiz.
Doktorun verdiği ilaçları kullanmalıyız.
Aşılarımızı zamanında yaptırmalıyız.
Dişlerimizin sağlığı için belirli dönemlerde diş
hekimine gidip dişlerimizi kontrol ettirmeliyiz.
Mevsimine uygun giyinmeliyiz. Meyve ve sebzeleri
tüketmeden önce yıkamalıyız. Düzenli olarak spor
yapmalıyız.



ETKİNLİK



Aşağıda doğru bilgi veren çocuğun yanındaki
kutucuğu işaretleyiniz.



Sağlıklı olmak için düzenli beslenmek yeterlidir.



Ailemiz ile aynı diş fırçasını kullanabiliriz.



Kendimizde bir rahatsızlık hissettiğimizde bunu
ailemize söylemeliyiz.

SAĞLIKLI BESLENİYORUZ


İnsanların büyümesi ve gelişmesi için dengeli ve düzenli beslenmesi gerekir. Yediğimiz besinler sağlıklı, doğal ve taze olmalıdır. Nerede ve nasıl üretildiği belli olmayan gıdalar ile açıkta ve sokakta satılan gıdalar, gazlı içecekler sağlığımız için zararlıdır.



ETKİNLİK



Aşağıdaki çocuklardan hangisinin yedikleri ve içtikleri en sağlıklıdır? İşaretleyiniz.




ÜNİTE 3

Hayat Bilgisi SAĞLIKLI HAYAT



Aşağıdaki görselleri inceleyiniz. Sağlıklı olan besinlerin altındaki kutucuğu boyayınız.




ÖĞÜNLERE UYGUN BESLENİYORUZ

Günde mutlaka üç öğün beslenmeliyiz. Meyve ve sebzeleri mevsiminde tüketmeliyiz. Hayvansal ve bitkisel besinlerden öğünlerimizde yeterince tüketmeliyiz.



1. Sağlıklı olabilmek için nasıl beslenmeliyiz?
2. Beslenme saatleri neden önemlidir? Açıklayınız. Aşağıda verilen yiyeceklerden sağlığa uygun olanları mavi masaya, sağlığa uygun olmayanları kırmızı masaya ok çizerek taşıyınız.



YİYECEK HAZIRLIYORUZ

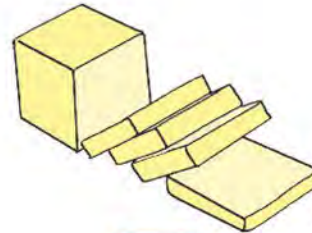



Kendimiz için yiyecek hazırlayabiliriz. Bunun için öncelikle ailemizden izin almalıyız. Bıçak gibi kendimize zarar verebileceğimiz aletler ile ocak ve fırını kullanmamalıyız. Yemek hazırlamaya başlamadan önce ellerimizi yıkamalıyız.



ETKİNLİK



Gizem kendisine sandviç hazırlamak istemektedir. Aşağıda görseli verilen ürünlerden hangilerini sandviç hazırlarken kullanması uygun olur? İşaretleyiniz.



YEMEKTE GÖRGÜ KURALLARI

Yemek yerken sofrada uymamız gereken görgü kuralları şunlardır:

- Yemeğe dua ile başlamalıyız.
- Yemeği üstümüze dökmeden, temiz bir şekilde yemeliyiz.
- Ayakta dolaşarak yemek yememeliyiz.
- Gerektiğinde peçete kullanmalıyız.
- Yiyecek ve ekmek israfından kaçınmalıyız.
- Tabağımıza yiyebileceğimiz kadar yemek almalıyız.
- Yemek yerken çatal, bıçak, kaşık kullanmalıyız.
- Ağızımızda yiyecek varken konuşmamalıyız.





Aşağıdaki ifadelerden doğru olanların başına ✓ işareti çizersiniz.

- () Yemeği oturarak yememeliyiz.
- () Yemeğe kimse gelmeden başlayabiliriz.
- () Yemek yerken ağızımızı açık tutabiliriz.
- () Tabağımıza yiyebileceğimiz kadar yemek koymalıyız.
- () Yeterince ekmek almalı, ekmeğimizi israf etmemeliyiz.
- () Yemek yerken masadakilerle sürekli konuşabiliriz.



Aşağıdaki görselleri inceleyiniz. Yemek yerken kullandığınız eşyaların altındaki kutucuğu boyayınız.



KONU TESTİ

Aşağıda verilen soruları okuyup doğru seçeneği işaretleyiniz.

1) Aşağıdakilerden hangisini kişisel bakımımız için kullanmayız?

- ☐ Su
- ☐ Sabun
- ☐ Silgi

2) Aşağıdakilerden hangisi kişisel bakımımız için yapmamız gereken bir davranıştır?

- ☐ Müzik dinlemek
- ☐ Dişlerimizi fırçalamak
- ☐ Resim yapmak

3) Aşağıdakilerden hangisi doğru bir davranış değildir?

- ☐ Elektrik, su ve sabun gibi kaynakları tutumlu kullanmak
- ☐ Kıyafetlerimizi temiz ve özenli kullanmak
- ☐ Fazlaca peçete kullanmak

4) Hangisi sağlığımızı korumak için yapmamız gerekenlerden biri değildir?

- ☐ Yazı yazmak
- ☐ Aşı olmak
- ☐ Mevsime uygun giyinmek

5) Hangisi diş sağlığımızı korumak için yapmamız gerekenlerden biri değildir?

- ☐ Dişlerimizi fırçalamak
- ☐ Şeker yemek
- ☐ Belirli aralıklarla diş doktoruna gitmek

6) Meyve ve sebzeleri tüketmeden önce ne yapmalıyız?

- ☐ Silmeliyiz.
- ☐ Yıkamalıyız.
- ☐ Sabunlamalıyız.

7) Sağlıklı beslenmek için aşağıdakilerden hangisini yapmamız doğru olur?

- ☐ Açıkta satılan gıdalar ile beslenmek
- ☐ Dengeli ve düzenli beslenmek
- ☐ Sadece bitkisel besinler ile beslenmek

8) Aşağıdakilerden hangisi bitkisel bir besin değildir?



9) Aşağıdakilerden hangisi sağlığımız için zararlıdır?

- ☐ Gazlı içecekler
- ☐ Su
- ☐ Süt

10) Hangisini kahvaltıda yememiz uygun olur?

- ☐ Çorba, pilav ve et
- ☐ Peynir, zeytin ve ekmek
- ☐ Sebze yemeği, salata ve makarna

11) Aşağıdaki yiyeceklerden hangisini tüketmek uygun olmaz?

- ☐ Bir paket cips
- ☐ Bir adet meyve
- ☐ Bir avuç kuru yemiş

12) Aşağıdakilerden hangisi doğrudur?

- ☐ Sadece bitkisel besinler tüketmek
- ☐ Sadece hayvansal besinler tüketmek
- ☐ Hem hayvansal hem bitkisel besinler tüketmek

13) Aşağıdakilerden hangisi yanlış bir davranıştır?

- ☐ Yemekten sonra dişleri fırçalamak
- ☐ Yemeği yapan kişiye teşekkür etmek
- ☐ Başkalarının tabağından yemek yemek

14) Aşağıdakilerden hangisi yemek hazırlamak için uygun bir ortam değildir?

- ☐ Dağınık bir ortam
- ☐ Temiz bir ortam
- ☐ Düzenli bir ortam

15) Aşağıdakilerden hangisi yanlış bir davranıştır?



- ☐ Oturarak yemek yemek
- ☐ Yemek yerken konuşmak
- ☐ Yemek yerken peçete kullanmak

16) İsrafı önlemek için aşağıdakilerden hangisini yapmamız doğru olur?

- ☐ Tabağıma yiyeceğimizden fazla yemek almak
- ☐ İhtiyacımızdan fazla ekmek almak
- ☐ Tabağıma yiyebileceğimiz kadar yemek almak

17) Hangisi yemek yerken uymamız gereken görgü kurallarındandır?

- ☐ Temiz bir şekilde dökmeden yemek
- ☐ Yemeğimizi çiğnerken ağzımızı açmak
- ☐ Yemeğimizi dolaşarak yemek

KİTLE İLETİŞİM ARAÇLARINI DOĞRU KULLANIYORUZ

Televizyon, telefon, internet, bilgisayar, radyo ve gazete gibi araçlar kitle iletişim araçlarıdır. Bu araçları büyüklerimizin gözetiminde kullanmalıyız.



Aşağıdaki ifadelerden doğru olanların başındaki kutucuğu boyayınız.



- ☐ Bilgisayar ekranına çok yakın oturmak zararlıdır.
- ☐ Uzun süre televizyon izlemek zararlı değildir.
- ☐ Gün içinde televizyona ayırdığımız zamanı planlamalıyız.
- ☐ Televizyon izlerken odamızdaki lambayı kapatmalıyız.
- ☐ Tablet ve dizüstü bilgisayarımızı yatarak kullanmamalıyız.
- ☐ Televizyon ve bilgisayar ekranı başında uzun zaman geçirmek göz sağlığımıza zarar verir.



Kitle iletişim araçlarının kullanımı hakkında doğru bilgilerin bulunduğu balonları boyayınız.

Televizyon
izlerken dik
oturmalıyız
ve televizyonu
çok yakın
mesafeden
izlememeliyiz.

Tatil
günlerinde
bütün gün
bilgisayarda
oyun
oynayabiliriz.

Kulaklıkla
müzik dinlerken
yüksek sesle
dinleyebiliriz.

Ailemizle
belirlediğimiz
süre kadar
bilgisayar
kullanmalıyız.


Uzun süre
bilgisayar ve
telefon kullanmak
göz sağlığımıza
zarar verebilir.

ÜNİTE 3

Hayat Bilgisi SAĞLIKLI HAYAT

→ Resmi boyayınız.

EĞLENCE
VAKTİ



3. ÜNİTE DEĞERLENDİRME SORULARI

Aşağıda verilen soruları okuyup doğru seçeneği işaretleyiniz.

1) Aşağıdakilerden hangisi kişisel bakımımızla ilgilidir?

- ☐ Tarak
- ☐ Kepçe
- ☐ Defter

2) Aşağıdaki davranışlardan hangisi yanlıştır?

- ☐ İnternette tanımadığımız kişilere cevap vermemeliyiz.
- ☐ Telefonla konuşmalarımızı uzun tutmamalıyız.
- ☐ Televizyonu yakından izlemeliyiz.

3) Aşağıdakilerden hangisi yanlıştır?

- ☐ Televizyon izlerken ailemin belirlediği süreyi aşmam.
- ☐ Televizyonda ailemin izin verdiği programları izlerim.
- ☐ Göz sağlığım için televizyonu yakından izlerim.

4) Yemek yerken görgü kurallarına dikkat etmeliyiz.

Buna göre aşağıdaki davranışlardan hangisi bu kurallara uygun değildir?

- ☐ Sofrada ağızımızda yemek varken konuşmak
- ☐ Gerektiğinde peçete kullanmak
- ☐ Yemek yerken çatal, bıçak ve kaşık kullanmak

5) Sağlığımızı korumak için aşağıdakilerden hangisini yapmalıyız?

- ☐ Haftada iki kere ellerimizi yıkamalıyız.
- ☐ Vaktinde aşılarımızı olmalıyız.
- ☐ İstedğimiz besinleri yemeliyiz.

6) Aşağıdakilerden hangisi kitle iletişim aracı değildir?

- ☐ Radyo
- ☐ Kalem
- ☐ Dergi

7) Aşağıdakilerden hangisi yanlıştır?

- ☐ Açıkta satılan yiyecekleri almam.
- ☐ Yiyeceklerimi ayırt etmem.
- ☐ Gazlı içecekler içerim.

8) 1. Kıyma
2. Yoğurt
3. Fasulye

Yukarıdaki besinlerden hangileri hayvansal besindir?

- ☐ 1 ve 2
- ☐ 2 ve 3
- ☐ 1 ve 3

9) Aşağıdakilerden hangisi yanlış bir davranıştır?

- ☐ Yemekten önce ellerimizi yıkamak
- ☐ Yemekten sonra ellerimizi yıkamak
- ☐ Meyveleri yıkamadan yemek

10)



Önder kendisine yiyecek bir şeyler hazırlayacaktır. Aşağıdaki davranışlardan hangisini öncelikli yapmalıdır?

- ☐ Ellerini yıkamalıdır.
- ☐ Yiyeceklerini yıkamalıdır.
- ☐ Dişlerini fırçalamalıdır.

11) Dengeli ve düzenli beslenen Ebru aşağıdaki besinlerden hangisini tüketmelidir?

- ☐ Sadece sevdiği yiyecekler
- ☐ Kola, cips ve kızartmalar
- ☐ Mevsimine uygun meyve ve sebzeler

HAYAT BİLGİSİ 1

4. ÜNİTE

GÜVENLİ HAYAT



GÜVENLİK KURALLARI

Kazalardan korunmak için uymamız gereken kurallara **güvenlik kuralları** diyoruz. Pencere ve balkonları kullanırken dikkatli olmalıyız. Aşağıya sarkmamalıyız. Islak zeminler kaygan olduğunda basmamalıyız. Asansöre yalnız binmemeliyiz. Merdivenlerden inerken ve çıkarken sağ tarafı kullanmalıyız. Çakmak, ocak ve prizleri bir büyüğümüz olmadan kullanmamalıyız. Cam eşyaları kullanırken dikkatli olmalıyız. Çünkü bu eşyalar kırılabilir ve zarar görebiliriz. Sınıfımızdaki dolapları dikkatli açıp kapatmalı, şeref köşesindeki çerçevelere özen göstermeliyiz.



Görseldeki çocukların başlarına gelebilecek kazaları ve kazaların sonuçlarını alttaki boşluklara yazınız.





Aşağıdaki ifadelerden doğru olanları işaretleyiniz.

- () Islak zeminde koşabiliriz.
- () Asansöre yalnız binmemeliyiz.
- () Merdivenlerden inerken sol tarafı kullanmalıyız.
- () Pencereleden sarkmamalıyız.
- () Temizlik maddelerinin farklı kullanım amaçları olabilir.
Bu yüzden temizlik maddelerine dokunmamalıyız.
- () Mutfakta ya da banyoda bir gaz kokusu duyduğumuzda
oradan hemen uzaklaşıp büyüklerimize haber vermeliyiz.
- () Okuldaki camlı bölmelere doğru koşup çarparsak bir sıkıntı
yaşamayız.
- () Elektrikli araçları dikkatli kullanmalı, kablo ve prizlerle
oynamamalıyız.
- () Mutfaktaki fırın, ocak vb. araçları kullanmamalıyız.
- () Merdivenlerden inerken koşmamız bir soruna yol açmaz.
- () İhtiyacımız olan suyu kullandıktan sonra musluğu açık
bırakmamalıyız.

ÜNİTE 4

Hayat Bilgisi GÜVENLİ HAYAT

→ Aşağıdaki alanlardan güvenli olanların altındaki yıldızları boyayınız.

Sıra
sizde



Asansör



Merdiven boşluğu



Süs havuzu



Çocuk parkı



Balkon



Trafiğe kapalı alan



Çukur



Su kanalı



Okul bahçesi



Yaya kaldırımı



Taşıt yolu



Oyun parkı



TRAFİK KURALLARINA UYUYORUZ


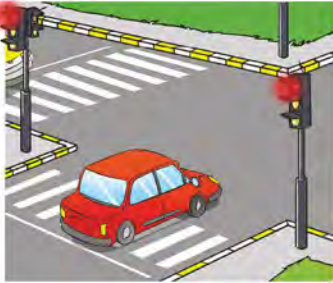
İnsan, hayvan ve araçların kara yolları üzerindeki hareketlerine **trafik** denir. Arabayla veya yaya olarak sokağa çıkınca trafiğin bir parçası oluruz. Trafikte kurallara uymalıyız. Yolun karşısına geçerken yaya geçidini kullanmalıyız. Araçlarda emniyet kemerini takmalıyız.



ETKİNLİK



Görselleri inceleyiniz. Doğru davranışların altına ✓ işareti koyunuz.



Yanlış davranışlarda bulunan kişilerin neler yapmaları gerektiğini yazınız.



Aşağıda verilen ifadelerdeki boşluklara uygun sözcükleri yazınız.

yeşil

trafik

kırmızı

kazalar

sarı

- ➡ Yayılar ılık yandıđında bekler.
- ➡ Trafik kurallarına uymazsak meydana gelir.
- ➡ Araçlar ılık yandıđında hareket ederler.
- ➡ Ulaşım yollarının yayalar ve her türlü taşıt tarafından kullanılmasına denir.



Aşağıdaki trafik levhalarının anlamlarını yazınız.





Aşağıdaki yerlerin hangilerinden güvenli bir şekilde yolun karşısına geçebiliriz? Bu yerlerin yazılı olduğu çiçekleri boyayınız.

Trafik
polisinin
bulunduğu
caddeler

Işıklı trafik
işaret
levhasının
bulunduğu
sokaklar

Alt
geçitler

Yaya
geçidi

Üst
geçitler

Duran bir
arabanın
önü veya
arkası



Aşağıdaki soruların cevaplarını altındaki noktalı yerlere yazınız.

1. Okula geliş ve okuldan gidiş yolunuzda neler görüyorsunuz?

.....

.....

2. Okul yolunda sorun yaşadığımızda kimlerden yardım isteriz?

.....

.....

3. Toplu taşıma araçları nelerdir?

.....

.....

4. Servis aracında nasıl davranmalıyız? Açıklayınız.


.....

.....

5. Işıklı trafik işaret cihazında hangi renk ışıklar vardır?
Işıklardaki renklerin anlamlarını açıklayınız.

.....

.....





Aşağıdaki levhaları gördüğünüzde neler yapmanız gerektiğini levhaların karşısına yazınız.



.....

.....

.....



.....

.....

.....



.....

.....

.....



.....

.....

.....



.....

.....

.....



geçmek

sarı

yaya geçidi

güvenle

yeşil

kazalardan

kurallarına

Sıra
sizde

Yukarıdaki sözcükleri aşağıdaki cümlelerde uygun yerlere yazınız.

- ➡ Duran araçların önünden veya arkasından tehlikelidir.
- ➡ Işıklı trafik işaret cihazında kırmızı, yeşil ve lamba vardır.
- ➡ Üst geçitlerden karşıya geçebiliriz.
- ➡ Trafik uymalıyız.
- ➡ Trafik ışığındaki renkli lamba "Geç" demektir.
- ➡ Trafik kurallarına uymak bizi korur.





Aşağıdaki kelimelerle bir hikâye yazınız.
“Trafik, yaya, kaldırım, yaya geçidi, trafik polisi,
üst geçit, emniyet kemeri”



.....

.....

.....

.....

.....

.....

.....

.....

.....

.....

GÜVENLİ İLETİŞİM KURUYORUZ

Günlük yaşantımızda çevremizde insanlarla karşılaşıyoruz. Bu insanlardan tanımadıklarımızla iletişim kurmamalıyız. Tanıdıklarımızla iletişim kurarken sabah "günaydın", bir iş yapıyorsa "kolay gelsin", akşam ise "iyi akşamlar" gibi ifadeleri kullanırız. Bir haksızlığa uğrarsak annemize, babamıza veya öğretmenimize söylemeliyiz. İstemediğimiz bir şeyi yapmamız konusunda zorlanırsak kesin bir şekilde "Hayır" demeliyiz. Büyüklerimize haber vermeliyiz.



Verilen sözcükleri cümlelerde boş bırakılan uygun yerlere yazınız.

hayır

evet

yabancılarla

adresimizi

dışarıya

➡ Yanımıza gelen konuşmayız.

➡ Tanımadığımız kişilerle paylaşmayız.

➡ Ders saatleri içerisinde okul bahçesinden çıkmayız.

➡ Okuldan eve dönerken tanımadığımız biri eve bırakmayı teklif ederse deriz.

ETKİNLİK



Aşağıdaki ifadeleri okuyunuz. Doğru ifadelerin yazılı olduğu balonları istediğiniz renge boyayınız.

Akşam
asansörde
karşılaştığımız
komşumuza
"iyi akşamlar"
dileriz.

Parka
yalnız
gidebiliriz.

Tanımadığımız
kişilerin verdiği
hediyeleri kabul
ederiz.

Ailemizden
izin
almadan
dışarı
çıkamamalıyız.

İnternette
kişisel
bilgilerimizi
ve adresimizi
paylaşmayız.

Yabancılarla
adresimizi
vermeyiz.

ACİL DURUM TELEFONLARI

Yangın durumunda itfaiyeyi 1 - 1 - 0 numarasından ararız.

Orman yangınlarında 1 - 7 - 7 numarasını ararız.

Yaralanmalarda veya acil durumlarda 1 - 1 - 2 numarasını ararız.

Trafik kazası, hırsızlık gibi durumlarda polisi 1 - 5 - 5 numarasından ararız.

Köy ve kasaba yerleşimlerinde hırsızlık, kavga gibi olaylarda jandarmanın 1 - 5 - 6 numarasını ararız.



ETKİNLİK



Görselleri inceleyiniz. Acil durum için aranacak numaraları görsellerin altlarına yazınız.



KONU TESTİ

Aşağıda verilen soruları okuyup doğru seçeneği işaretleyiniz.

1) Aşağıda verilen davranışlardan hangisi yanlıştır?

- ☐ Ateşten ve çakmaktan uzak durmak
- ☐ Asansöre tek başına binmemek
- ☐ Merdivenlerden dikkatli çıkmamak

2) Aşağıdakilerden hangisi elektrik çarpmasına neden olabilir?

- ☐ Yıpranmış kablolar
- ☐ Televizyon kumandasını kullanmak
- ☐ Boş yere yanan lambaları kapatmak

3) Aşağıdaki çocuklardan hangisi güvenlik kurallarına uygun davranmaktadır?

- ☐  Cadde ve sokakta top oynarım.
- ☐  Okulda zil çalınca merdivenlerden koşarak inerim.
- ☐  Kesici ve delici aletlerden uzak dururum.

4) Aşağıdakilerden hangisi güvenliğimiz açısından doğru bir davranış değildir?

- ☐ Kaygan zeminde koşmamak
- ☐ Pencere ve balkondan aşağı sarkmak
- ☐ Çakmak ve kibrit gibi yanıcı aletlerden uzak durmak

5) Aşağıdakilerden hangisini çocukların kullanması tehlikeli olabilir?

- ☐ Su
- ☐ Sabun
- ☐ Çamaşır suyu

6) Gaz kaçağı olduğu durumlarda aşağıdakilerden hangisi yapılmaz?

- ☐ Hemen büyüklerimize haber vermek
- ☐ Yemek yapmak için ocağı kullanmak
- ☐ Kapı ve pencereleri açarak evi havalandırmak

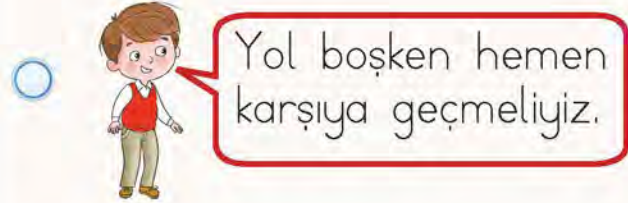
7) Polisin görev almadığı köy, kasaba gibi yerlerdeki olayları hangi numaraya bildiririz?

- ☐ 1 - 1 - 0
- ☐ 1 - 8 - 7
- ☐ 1 - 5 - 6

8) Aşağıdakilerden hangisi yolun karşısına geçişlerde güvenli yerlerden değildir?

- ☐ Duran aracın arkası
- ☐ Yaya geçidi
- ☐ Alt ve üst geçit

9) Yolun karşısına geçmek ile ilgili aşağıdaki öğrencilerden hangisinin söylediği ifade yanlıştır?



10) Trafikte araç içinde aşağıdaki davranışlardan hangisi tehlikelidir?

- ☐ Araçlara bindiğimizde emniyet kemeri takmak
- ☐ Araç hareket hâlindeyken yerimizden kalkmamak
- ☐ Hareket eden araçtan elimizi dışarı çıkarmak

11) Aşağıdaki trafik işaretleri ve anlamlarından hangisi yanlıştır?

- ☐  Yaya Geçidi
- ☐  Okul Geçidi
- ☐  Bisiklet Giremez

12) Aşağıdakilerden hangisi yolun karşısına geçerken yapılmaması gereken bir davranıştır?

- ☐ 
- ☐ 
- ☐ 

13) Aşağıdaki davranışlardan hangisi doğrudur?

- ☐ Yabancı kişilere ev adresimi söylerim.
- ☐ Tanımadığım kişiler yiyecek ve içecek verirse kabul ederim.
- ☐ İnternette tanımadığım insanlarla konuşmam.

TEKNOLOJİK ARAÇLARIN KULLANIMI

Güvenliğimiz için evimizdeki elektrikli aletleri kullanırken dikkatli olmalıyız. Ütü, fırın gibi tehlikeli aletleri tek başımıza kullanmamalıyız. Çalışır durumdaki elektronik aletleri hareket ettirmemeliyiz. İnternette geçirdiğimiz zamana dikkat etmeliyiz. Bilgisayar oyunlarını ailemizin koyacağı kuralları dikkate alarak oynamalıyız.



Görsellerdeki teknolojik aletlerin adını karşılarına yazınız.



→



→



→



→



→

KONU TESTİ

Aşağıda verilen soruları okuyup doğru seçeneği işaretleyiniz.

1) Aşağıdaki teknolojik aletlerden hangisini tek başımıza kullanmamız doğru değildir?

- ☐ Bilgisayar
- ☐ Telefon
- ☐ Ütü

2) Aşağıda verilen bilgilerden hangisi doğrudur?

- ☐ Daha iyi görmek için televizyonu yakından izlemeliyiz.
- ☐ Elektrikle çalışan aletlere, priz veya fişe ıslak elle dokunmamalıyız.
- ☐ Televizyonun sesini istediğimiz kadar açabiliriz.

- 3) 1. Bilgisayar kullanırken dik oturmazsak bel ve boyun ağrılarımız oluşabilir.
2. Cep telefonu ile her zaman uzun süreli konuşmalar yapmalıyız.
3. Saç kurutma makinesi, fırın, ocak gibi araçları büyüklerin kontrolünde kullanmalıyız.

Yukarıda verilen bilgilerden hangileri doğrudur?

- ☐ 1 ve 3
- ☐ 2 ve 3
- ☐ 1 ve 2

4) 1. sınıfa giden bir öğrencinin hangi işaretin yer aldığı televizyon programını izlemesi uygundur?

- ☐ 
- ☐ 
- ☐ 

GÜVENLİ ALANLARDA OYNUYORUZ

Günlük hayatta oyun oynarken güvenli alanları seçmeliyiz. Çocuk parkları, evimizin ve okulumuzun bahçesi güvenli alanlardır.



Aşağıdaki görselleri inceleyiniz. Güvenli oyun alanlarında oyun oynayan çocukların yer aldığı görsellerin altındaki kutuya ✓ işareti yapınız.



4. ÜNİTE DEĞERLENDİRME SORULARI

Aşağıda verilen soruları okuyup doğru seçeneği işaretleyiniz.

1) Aşağıdaki öğrencilerin hangisi güvenlik kurallarına uyuyor?

☐ Merdivenlerden çıkarken sağ tarafı kullanırım.



☐ Merdivenlerden çıkarken sol tarafı kullanırım.



☐ Kaygan zeminlerde koşarım.



2) Aşağıdaki trafik levhalarından hangisi yaya geçidini gösterir?



3) Işıklı trafik işaret cihazındaki yeşil ışığın yayalar için anlamı nedir?

☐ Dur ☐ Hazırlan ☐ Geç

4) Orman yangınları için hangi numarayı aramalıyız?

☐ 1 - 5 - 5

☐ 1 - 7 - 7

☐ 1 - 1 - 2

5) Güvenliğiniz için aşağıdakilerden hangisini yapmamalısınız?

☐ Evimizin bahçesinde oyun oynayabiliriz.

☐ Kaldırımında oyun oynayabiliriz.

☐ Oyun parkında oynayabiliriz.

- 6) 1. Radyo
2. Televizyon
3. Fırın

Yukarıdakilerden hangisi
tek başımıza kullanacağımız
teknolojik aletlerden biri
değildir?

- ☐ 1 ☐ 2 ☐ 3

7) Aşağıda verilen temizlik
malzemelerinden hangisi
çocuklar tarafından
kullanılmamalıdır?

- ☐ Çamaşır suyu
☐ Sabun
☐ Diş macunu

8) Aşağıdakilerden
hangisi itfaiyenin telefon
numarasıdır?

- ☐ 1 - 1 - 0
☐ 1 - 7 - 7
☐ 1 - 5 - 5

9) Kimlerle iletişim kurmak
güvenlidir?

- ☐ Yabancı kişilerle
☐ Tanıdıklarımızla
☐ Yoldan geçen insanlarla

10) İletişim kurarken nasıl
davranmalıyız?

- ☐ Nazik ve güler yüzlü
olmalıyız.
☐ Kaba davranmalıyız.
☐ Bağırarak konuşmalıyız.

11) Tanımadığımız kişilere
karşı nasıl davranmalıyız?

- ☐ Özel bilgilerimizi
paylaşabiliriz.
☐ Çağırdıkları zaman
yanlarına gidebiliriz.
☐ Verdikleri hiçbir şeyi kabul
etmemeliyiz.



HAYAT BİLGİSİ 1

5. ÜNİTE

ÜLKEMİZDE HAYAT



YAŞADIĞIMIZ YER

Yaşadığımız yerler il, ilçe, köy şeklinde yönetim birimlerine ayrılır. İl, en büyük yerleşim yeridir. Köy ise en küçük yerleşim yeridir. Yaşadığımız yerlerin büyüklüğü ve bu yerlerde yetiştirilen ürünler birbirinden farklı olabilir.



ETKİNLİK



Aile büyüklerinizden yardım alarak yaşadığınız yer ile ilgili aşağıdaki formu doldurunuz.

Yaşadığım Yerin Adı	
Mahalle / Köy / İlçe / İl Adı	
Yaşadığım Yerde Yetiştirilen Hayvanlar	
Yaşadığım Yerde Yetiştirilen Ürünler	
Yaşadığım Yerde Bulunan Önemli Yerler	
Yaşadığım Yerdeki Dağlar, Ovalar, Irmaklar	

ÇEVREMİZDEKİ TARİHÎ VE TURİSTİK YERLER

Yaşadığımız yerdeki tarihî ve turistik yerleri
gezip görmeliyiz. Tarihî ve turistik alanlarımızı
korumalıyız.



Aşağıdaki noktalı yerlere çevrenizdeki tarihî ve
turistik yerlerin adını yazınız.

1.
2.
3.
4.
5.

ÜLKEMİZİN ÖZELLİKLERİ

Ülkemizin adı Türkiye Cumhuriyeti devletidir. Bayrağımız ve İstiklâl Marşı'mız bağımsızlık sembolümüzdür. Ülkemizin başkenti Ankara'dır. Ülkemiz başkentimizden yönetilmektedir.



ETKİNLİK



Aşağıdaki ifadelerden doğru olanların başındaki elmaları kırmızıya boyayınız.



Ülkemiz İstanbul'dan yönetilir.



İstiklâl Marşı'mızın şairi Mehmet Âkif Ersoy'dur.



İstiklâl Marşı'mız bağımsızlık sembollerimizdendir.



Kırmızı bayrağımızın üzerinde beyaz renkte ay ve yıldız bulunmaktadır.



Başkentimiz Ankara'dır.

ÜLKEMİZDEKİ FARKLI KÜLTÜRLER

Ülkemizde diğer ülkelerden zorunlu veya isteğe bağlı göç etmiş insanlar olabilir. Bu insanların yiyecekleri, kıyafetleri bizimkilerden farklı olabilir. Bu farklılıklara saygı göstermeliyiz.



Sınıfınızda başka bir ülkeden babasının işi dolayısıyla göç eden bir arkadaşınız olduğunu düşününüz. Dilimizi bilmiyor. Aşağıdaki soruları bu duruma göre cevaplandırınız.

1. Arkadaşınız hangi konularda sıkıntı yaşayabilir?

.....

.....

.....

2. Siz bu arkadaşınızla iletişim kurabilmek için neler yaparsınız?

.....

.....

.....

3. Hangi konularda ona yardımcı olabilirsiniz?

.....

.....

.....



KONU TESTİ

Aşağıda verilen soruları okuyup doğru seçeneği işaretleyiniz.

1) Okulumuza farklı ülkelerden gelmiş olan arkadaşlarımıza nasıl davranmalıyız?

- ☐ Oyunlara almamalıyız.
- ☐ Onlarla konuşmamalıyız.
- ☐ Oyunlar oynayıp, arkadaşlık yapmalıyız.

2) Farklı kültürlerdeki insanlar ile ilgili aşağıdaki ifadelerden hangisi yanlıştır?

- ☐ Farklı kültürlerdeki insanların giyimleri farklı olabilir.
- ☐ Farklı kültürlerdeki insanların konuştukları diller farklı olabilir.
- ☐ Farklı kültürlerdeki insanlar kültürel zenginlik oluşturmaz.

3) Farklı kültürden insanların gelenek ve göreneklerine karşı nasıl davranmalıyız?

- ☐ Umursamamalıyız.
- ☐ Anlayışlı ve saygılı olmalıyız.
- ☐ Kötü davranmalıyız.

4) Farklı ülkeden göç eden arkadaşın var mı? Onun sana öğrettiği bir oyun, şarkı vb. var mı? Varsa aşağıya yazınız. Yoksa böyle bir arkadaşınız olduğunu hayal ediniz. Ona öğretmek isteyeceğiniz şeyleri aşağıya yazınız.

.....

.....

.....

.....

.....

.....

.....

.....

ATATÜRK'ÜN HAYATI

Mustafa Kemal Atatürk, Selânik'te doğmuştur. Annesi Zübeyde Hanım, babası Ali Rıza Bey'dir. Kurtuluş Savaşı'nda Türk milletine liderlik yapmıştır. İstanbul'da Dolmabahçe Sarayı'nda hayata gözlerini yummuştur. Mezarı, Ankara'da bulunan Anıtkabir'dedir.



ETKİNLİK



Aşağıda verilen boşlukları uygun kelimeler ile doldurunuz.

Ankara

Mahalle

Makbule

Zübeyde

Ali Rıza

Dolmabahçe

Selânik

İstanbul

➡ Atatürk şehrinde doğmuştur.

➡ Atatürk'ün annesinin adı Hanım'dır.

➡ Atatürk'ün babasının adı Bey'dir.

➡ Atatürk'ün kız kardeşinin adı Hanım'dır.

➡ Atatürk ilk olarak Mektebi'ne gitmiştir.

➡ Atatürk İstanbul'da Sarayı'nda vefat etmiştir.

➡ Anıtkabir şehrinde bulunmaktadır.

MİLLÎ GÜN VE BAYRAMLAR

Milletimizin birlik ve beraberliğini sağlayan millî gün ve bayramlarımız özel günlerdir.

Bu özel günleri coşkuyla kutlarız.

Millî gün ve bayramlarımız;

1. Cumhuriyet Bayramı
2. Ulusal Egemenlik ve Çocuk Bayramı
3. Atatürk'ü Anma ve Gençlik ve Spor Bayramı
4. Demokrasi ve Millî Birlik Günü
5. Zafer Bayramı'dır.



ETKİNLİK



Millî gün ve bayramlar öncesi yapılan kutlama hazırlıklarını aşağıya yazınız.

1.
2.
3.
4.



Aşağıdaki soruları cevaplayınız.

1) Millî bayram kutlamalarında ne gibi etkinlikler yapılmaktadır?

.....

.....

.....

2) Verilen tarihlerde hangi millî bayramı veya günü kutladığınızı yazınız.

23 Nisan

19 Mayıs

15 Temmuz

30 Ağustos

29 Ekim

3) Millî gün ve bayram kutlamalarımızda hangi duyguları hissedersiniz?

.....

.....

.....

KONU TESTİ

Aşağıda verilen soruları okuyup doğru seçeneği işaretleyiniz.

1) Aşağıdaki renklerden hangisi bayrağımızda bulunmaz?

- ☐ Kırmızı
- ☐ Beyaz
- ☐ Mavi

2) Bayrağımızda bulunmayan sembol hangisidir?

- ☐ Yıldız
- ☐ Ay
- ☐ Güneş

3) İstiklâl Marşı'mız hangi kelime ile başlamaktadır?

- ☐ Korkma
- ☐ Kahraman
- ☐ Yıldız

4) Atatürk ile ilgili aşağıdaki ifadelerden hangisi doğrudur?

- ☐ Üsküp'te doğdu.
- ☐ Ankara'da öldü.
- ☐ Kurtuluş Savaşı'na liderlik etti.

5)



Atatürk'ün kabrinin bulunduğu Anıtkabir hangi şehrimizdedir?

- ☐ Ankara
- ☐ Selânik
- ☐ İstanbul

6) Atatürk'ün çocuklara armağan ettiği bayram hangisidir?

- ☐ 29 Ekim Cumhuriyet Bayramı
- ☐ 30 Ağustos Zafer Bayramı
- ☐ 23 Nisan Ulusal Egemenlik ve Çocuk Bayramı

7) Aşağıdaki ifadelerden hangisi yanlıştır?

- ☐ Millî gün ve bayramlar, her yıl coşkuyla kutlanır.
- ☐ Millî gün ve bayramlar, millî birlik ve beraberliğimizi güçlendirir.
- ☐ Millî gün ve bayramları sadece çocuklar kutlar.

8) Aşağıdaki yerleşim yerlerinden hangisi daha büyüktür?

- ☐ Köy
- ☐ İlçe
- ☐ Kasaba

9) 19 Mayıs

Boş bırakılan yere hangi ifade gelmelidir?

- ☐ Cumhuriyet Bayramı
- ☐ Atatürk'ü Anma ve Gençlik ve Spor Bayramı
- ☐ Demokrasi ve Millî Birlik Günü

10) Aşağıdakilerden hangisi millî gün ve bayramlarımızdan değildir?

- ☐ 29 Ekim Cumhuriyet Bayramı
- ☐ 30 Ağustos Zafer Bayramı
- ☐ Aşure Günü

11) Aşağıdakilerden hangisi tarihî, doğal veya turistik bir yer değildir?

- ☐ Müze
- ☐ Fabrika
- ☐ Vadi

DİNÎ GÜN VE BAYRAMLAR

Dinî bayramlarımız saygı, sevgi, birlik duygularımızın gelişmesi için çok önemlidir. Dinî bayramlar;

1. Ramazan Bayramı
2. Kurban Bayramıdır.

Bunların dışında kandiller ve aşure günü gibi dinî günlerimiz de vardır.



Aşağıdaki ifadelerden doğru olanların başına "D", yanlış olanların başına "Y" yazınız.

- () Ramazan Bayramı, millî bayramdır.
- () Kurban Bayramı, dinî bayramdır.
- () Dinî gün ve bayramlar toplumdaki birlik duygusunu geliştirir.
- () Dinî gün ve bayramlarda misafirlerimize ikramlar hazırlarız.
- () Dinî gün ve bayramlarda evimizin pencerelerini bayraklarla süsleriz.
- () Kadir Gecesi, dîni günlerimizdendir.
- () Berat Kandili, dîni bayramdır.



Aşağıdaki cümleleri verilen kelimelerden uygun olanlarla tamamlayınız.

şeker

yardımlaşma

ev ziyaretleri

ikram

dualar

harçlık

özenli

büyüklerimizin

dört

➡ Dinî bayramlarda erkenden kalkar, elini öperiz.

➡ Dinî bayramlarda bayramlaşmak için yapılır.

➡ Bayramlarda herkes giyinir.

➡ Ramazan Bayramı'nda ikram etmek gelenektir.

➡ Dinî bayramlarımızdan olan Kurban Bayramı ve paylaşmaya güzel bir örnektir.

➡ Kurban Bayramı gün sürer.

➡ Aşure gününde aşure yapar ve komşularımıza ederiz.

➡ Kandil günlerinde büyüklerimizin ellerinden öper, okuruz.



Aşağıdaki çocuğun balonlarında yer alan ifadelerden dinî gün ve bayramlar ile ilgili olanların bulunduğu balonları boyayınız.



5. ÜNİTE DEĞERLENDİRME SORULARI

Aşağıda verilen soruları okuyup doğru seçeneği işaretleyiniz.


1) Aşağıdakilerden hangisi bir milletin bağımsızlığının göstergesi değildir?

- ☐ Konuştuğu dil
- ☐ Millî marşı
- ☐ Bayrağı

2) Ülkemizin başkenti neresidir?

- ☐ Ankara
- ☐ İstanbul
- ☐ Çanakkale

3) Aşağıdakilerden hangisi Türk bayrağıdır?

- ☐ 
- ☐ 
- ☐ 

4) Aşağıdaki yerlerden hangisi doğal güzellikler arasında yer almaz?

- ☐ Akarsular
- ☐ Göller
- ☐ Oyun parkları

5) Atatürk'ün mezarının bulunduğu Anıtkabir hangi şehrimizdedir?

- ☐ İzmir
- ☐ Çanakkale
- ☐ Ankara

6) Aşağıdakilerden hangisi dinî bayramlardan değildir?

- ☐ Ramazan Bayramı
- ☐ Cumhuriyet Bayramı
- ☐ Kurban Bayramı

7) "İstiklâl Marşı'mız ve bağımsızlığımızı ifade eder."

Yukarıdaki cümlede boş bırakılan yere aşağıdakilerden hangisi yazılmalıdır?

- ☐ Vatanımız
- ☐ Bayrağımız
- ☐ Dilimiz

8)



Hilal yaşadığı yerde hayvanlarıyla ilgileniyor, kırlarda ve ovalarda geziyor.

Hilal'in yaşadığı yer aşağıdakilerden hangisidir?

- ☐ İl
- ☐ İlçe
- ☐ Köy

9) Ülkemizin adı hangi seçenekte doğru verilmiştir?

- ☐ Türk Devleti
- ☐ Türkiye Cumhuriyeti Devleti
- ☐ Türk Devletleri

10) Aşağıdaki bayramların hangisinde ev ziyareti yaparız?

- ☐ Ramazan Bayramı
- ☐ Cumhuriyet Bayramı
- ☐ Ulusal Egemenlik ve Çocuk Bayramı

11) 23 Nisan'da kutladığımız millî bayramımız kimlere armağan edilmiştir?

- ☐ Gençlere
- ☐ Askerlere
- ☐ Çocuklara

12) Aşağıdakilerden hangisi millî bayramlardan değildir?

- ☐ Zafer Bayramı
- ☐ Cumhuriyet Bayramı
- ☐ Ramazan Bayramı

13) Aşağıdakilerden hangisi dinî bayramlarda uyduğumuz bir gelenektir?



14) Aşağıdaki bilgilerden hangisi yanlıştır?

- ☐ Bayramlarda misafirlerimize ikramlarda bulunuruz.
- ☐ Bayramlarda özenli giyiniriz.
- ☐ Kurban Bayramı iki gündür.

15) Cem'in sıra arkadaşı Ahmed, sınıfa ilk geldiği zamanlarda Türkçe bilmediği için çok zorlandı. Ama zamanla oyun ve yemekler gibi pek çok ortak özelliklere sahip olduklarını keşfettiler. Sizce Cem, Ahmed'e nasıl davranmıştır?


- ☐ Umursamaz
- ☐ Dostça
- ☐ Üzgün



HAYAT BİLGİSİ 1

6. ÜNİTE

DOĞADA HAYAT



ÇEVREMİZDEKİ HAYVANLAR

Çevremizde kuşlar, böcekler, balıklar gibi birçok evcil ve yabani hayvan yaşar. Her hayvanın yaşam alanı farklıdır. Örneğin, balıkların yaşam alanı su iken kedinin yaşam alanı karadır. Kurbağalar gibi bazı hayvanlar ise hem karada hem suda yaşayabilirler.



ETKİNLİK



Aşağıdaki hayvanları barınakları ile eşleştiriniz.





Hayat Bilgisi DOĞADA HAYAT



Yakın çevrenizde bulunan hayvanları gözlemleyiniz. Yaşadığımız yere göre çevremizde balıklar, böcekler, kuşlar, sürüngenler veya evcil hayvanlar olabilir. Gördüklerinizin resmini çiziniz veya görselini aşağıya yapıştırınız.

ETKİNLİK



Aşağıda verilen hayvanların özelliklerini, kutucuklara numaralarını yazarak eşleştiriniz.

1. Muz yemeyi çok severim.
2. Bal yaparım.
3. Çiçek nektarları ile beslenirim.
4. Ağaç yapraklarını yemeyi çok severim.
5. Hep yavaş yavaş ilerlerim.
6. Ağaçların yüksek tepelerindeki yaprakları yerim.

7. Havuca bayılırım.
8. Bir çok kolum var benim, denizlerde yaşarım.
9. Sürünerek ilerlerim.
10. Uçmayı severim. Tahılla ve tohumlarla beslenirim.
11. Sevimli bir böceğim. Noktalarımдан tanırsın beni.
12. Kümeste yaşarım. Sana yumurta veririm.



ÇEVREMİZDEKİ BİTKİLER

Çevremizdeki çiçekler, otlar ve ağaçlar bitkidir.

BAHÇE BİTKİLERİ

- Lale
- Karanfil
- Menekşe
- Domates
- Nane
- Biber

YABANI BİTKİLER

- Madımak
- Hardal
- Gelincik
- Papatya
- Isırgan



ETKİNLİK



Aşağıdaki bitkileri çeşitleriyle eşleştiriniz.

BAHÇE
BİTKİLERİYABANI
BİTKİLER



Aşağıdaki cümleleri okuyunuz. Doğru olanları "X" ile işaretleyiniz.

<input type="checkbox"/>	Evlerimizde veya bahçelerimizde çeşitli bitkiler yetiştiririz.
<input type="checkbox"/>	Bütün bitkilerin yaprakları kışın dökülür.
<input type="checkbox"/>	Yaprağı dökülen bitki bir daha yaprak açmaz.
<input type="checkbox"/>	Ağaçlar sadece ormanlarda yetişir.
<input type="checkbox"/>	Bahçe bitkileri bahçemizi güzelleştirir.
<input type="checkbox"/>	Yabani bitkiler insanlar tarafından dikilir.
<input type="checkbox"/>	Bitkileri korumalı ve onlara zarar vermemeliyiz.



Aşağıdaki soruların cevaplarını altta verilen boşluklara yazınız.

1. Kendi yetiştirdiğiniz bir bitkiniz var mı? Eğer yoksa hangi bitkiyi yetiştirmek isterdiniz?

.....

2. Meyve veren ağaçlarda, meyve vermeden önce hangi değişimler gözlenir?

.....

ÜNİTE 6

Hayat Bilgisi DOĞADA HAYAT



İstediğiniz bir bitki hakkında araştırma yapınız. Bitkinin büyüme aşamalarını aşağıdaki tabloya yazınız. Tabloda gösterilen bölüme bitkinizi çizip boyayınız.

BİTKİNİN ADI

BİTKİNİN BÜYÜME AŞAMALARI

BİTKİNİN GÖRSELİ

10/2/20 4:00 PM

ETKİNLİK



Aşağıdaki cümleleri okuyunuz. Cümleler doğru ise başına "D", yanlış ise "Y" harfini yazınız.

	Bitkiler cansızdır.
	Zor durumdaki hayvanlara yardım etmeliyiz.
	Bitki ve hayvanların da çevreden yararlanma hakları vardır.
	Bitki ve hayvanlar yaşamları için insanlara muhtaçtır.
	Bitki ve hayvanların yaşam alanlarını korumalıyız.

ETKİNLİK



Aşağıdaki soruların cevaplarını yazınız.

1. Çevremizde insanlardan başka hangi canlılar vardır?

.....

.....

2. Doğaya gerekli özeni göstermeyenleri nasıl bilinçlendirebiliriz? Açıklayınız.

.....

.....

3. Doğayı nasıl koruyabiliriz? Açıklayınız.

.....

.....

GERİ DÖNÜŞÜM

Aldığımız ürünlerin geri dönüşümünün yapılabilmesi için atıkları geri dönüşüm kutularına atmalıyız.

Geri dönüşümü olan atıklar şunlardır:
Bitkisel yağ, pil, kâğıt, cam, metal, elektronik atıklar ve plastik.



ETKİNLİK



Aşağıdaki görselleri uygun geri dönüşüm kutusuyla eşleştiriniz.





Aşağıdaki cümlelerin başlarına doğru ise "D", yanlış ise "Y" yazınız.

	Doğanın korunması ve temiz bir çevre için duyarlı olmalıyız.
	Çöplerimizi çöp kutusuna atmamalıyız.
	Yerlere çöp atanları uyarmalıyız.
	Elektriği ve suyu tasarruflu kullanmamalıyız.
	Pilleri evimizdeki çöp kutusuna atmalıyız.
	Alışverişlerimizde geri dönüşüme uygun ürünler satın almalıyız.
	Bitkisel yağları kullandıktan sonra lavaboya dökmeliyiz.
	Plastik maddelerin geri dönüşümü yapılabilir.
	Atık kâğıtların geri dönüşümü olmadığından bunları çöp kutularına atabiliriz.
	Pil, geri dönüşümü yapılabilen bir maddedir.
	Maddelerin geri dönüşümü, doğanın korunmasına katkı sağlar.

GÖKYÜZÜNÜ GÖZLEMLİYORUZ

Gündüz, bulut olmayan bir günde gökyüzüne baktığımızda Güneş'i görürüz. Bazı gecelerde Ay ve yıldızları görebiliriz. Bunlar bizden çok uzaktadır. Güneş, Dünya ve Ay'ın şekli bir topa benzer.



Yarım bırakılmış ifadeleri uygun seçenekler ile eşleştiriniz.

- Güneş'e gözlüksüz bakmak...
- Dünya...
- Geceleri gökyüzünün bulutsuz olduğu zamanlarda...
- Güneş, Dünya' dan...
- Ay ve yıldızları, teleskop adı verilen araçla inceleyip...

- ... büyüktür,
- ... ay ve yıldızlar gözlemlenebilir,
- ... gözlerimize zarar verebilir,
- ... büyüklüklerini karşılaştırabiliriz,
- ... şekil olarak bir topa benzer,
- ... tabak şeklindedir,

KONU TESTİ

Aşağıda verilen soruları okuyup doğru seçeneği işaretleyiniz.


1) Aşağıdakilerden hangisi evcil hayvanlardandır?



2) Aşağıdakilerden hangisi arının yaşam alanıdır?



3) Hangisi zürafanın besini olabilir?



4) Hangisi yabancı bitkilerdendir?

- ☐ Orkide
- ☐ Gül
- ☐ Isırgan otu

5) Sonbaharda ağaçlarda nasıl bir değişim görülür?

- ☐ Çiçek açarlar.
- ☐ Yaprakları dökülür.
- ☐ Yaprakları yeşerir.

6) Aşağıdakilerden hangisi ağaç türlerinden değildir?

- ☐ Çınar
- ☐ Kavak
- ☐ Papatya

7) Aşağıdakilerden hangisi çevremizdeki hayvanları korumak için yaptıklarımızdan değildir?

- ☐ Onları görmezden gelmek
- ☐ Kapımızın önüne mama ve su bırakmak
- ☐ Hayvanlara zarar verenleri uyarmak

8) Can: Parktaki çiçekleri koparıp anneme götürdüm.
Neşe: Her sabah balkonumuzdaki çiçekleri sularım.
Mert: Ağaç dallarını koparıp oyun oynadık.

Yukarıdaki çocuklardan hangisinin davranışı doğrudur?

- ☐ Can
- ☐ Neşe
- ☐ Mert

9) Zeynep ve annesi hayvanları çok seviyorlar. Sokak hayvanları için de çok üzülüyorlar.

Zeynep ve annesi aşağıdakilerden hangisini yapmış olamaz?

- ☐ Sokak hayvanları için hayvanların barınacakları kulübeler yapmışlardır.
- ☐ Kuş yemlikleri yapıp ağaçlara asmışlardır.
- ☐ Su kaplarını boş bırakmışlardır.

10) Doğanın ve çevrenin korunması için aşağıdakilerden hangisini yapmalıyız?

- ☐ Plastik kaplar kullanmalıyız.
- ☐ Elektrik ve suyu tasarruflu kullanmalıyız.
- ☐ Çöplerimizi ortalığa atmalıyız.

11) Çınar, çevreye önem veren, doğayı koruyan bir çocuktur.

Buna göre Çınar'ın hangi davranışı yapması beklenmez?

- ☐ Ellerin yıkarırken, dişlerini fırçalarken suyu gerektiği kadar kullanır.
- ☐ Cam ürünler almayı tercih eder.
- ☐ Yerlere çöp atanları uyarmaz.

12) Efe, arkadaşının yerlere çekirdek kabukları attığını görmüştür.

Efe'nin arkadaşını hangi şekilde uyarması doğru olur?

- ☐ Çok pis birisin sen.
- ☐ Yerlere çöp atarsak çevremiz kirlenir. Doğayı temiz tutmalıyız.
- ☐ Ne yaptığını zannediyorsun sen?

13) Aşağıdakilerden hangisi cam geri dönüşüm kutusuna atmamız gereken bir maddedir?

- ☐ Kullanılıp bitmiş defter
- ☐ Kırık kavanoz
- ☐ Plastik şişe

14) 1/A sınıfı öğretmeni Burak Bey, sınıfta geri dönüşümü anlatmaktadır.

Aşağıdakilerden hangisinden bahsetmiş olamaz?

- ☐ Kullanılmış bitkisel yağları belediyelerin yağ toplama ünitelerine teslim etmemiz gerektiğinden
- ☐ Kullanılmış pilleri, pil toplama kutularına atmamız gerektiğinden
- ☐ İlkbaharda ağaçların çiçek açtığından



Dünya, Güneş ve Ay'ı, büyüklüklerini dikkate alarak aşağıya çiziniz ve boyayınız. Dilerseniz görsellerini de yapıştırabilirsiniz.

MEVSİMLER

Sonbahar: Bu mevsimde havalar soğumaya başlar. Ağaçlar yapraklarını döker.

Kış: Hava çok soğur. Sular buz tutar ve kar yağar.

İlkbahar: Havalar ısınmaya başlar. Yağan yağmurla doğa şekillenir. Günler uzamaya başlar.

Yaz: Havalar iyice ısınır. İlkbaharda çiçek açan ağaçlar meyve verir.



ETKİNLİK



Aşağıdaki şemaya mevsimlerin yaşandığı ayları yazınız.

MEVSİMLER

SONBAHAR

KİŞ

İLKBAHAR

YAZ



.....



.....



.....



.....



.....



.....



.....



.....



.....



.....



.....



.....

MEVSİMLERE GÖRE DEĞİŞİM

Mevsimlerdeki hava değişimiyle doğada ve çevremizde de değişimler olur.

İlkbahar: Fidanlar dikilir, sebze fideleri yetiştirilir, çiçekler açar. Evlerde bahar temizliği yapılır. Göçmen kuşlar geri dönerler.

Yaz: Meyve ve sebzeler toplanır. Ekinler biçilir. Yazlık kıyafetler giyilir.

Sonbahar: Kış için hazırlıklar yapılır. Turşu, salça, tarhana, reçel, pekmez yapılır. Okullar açılır. Göçmen kuşlar sıcak yerlere göç ederler.

Kış: Kışlık kıyafetler giyilir. Gündüzler gecelerden kısa olur.



ETKİNLİK



İlkbaharda bitkiler ve hayvanlar hangi değişimleri yaşarlar?

.....

.....

.....

.....

.....

KONU TESTİ

Aşağıda verilen soruları okuyup doğru seçeneği işaretleyiniz.

1) Aşağıda verilen bilgilerden hangisi yanlıştır?

- ☐ Canlıların yaşaması için Güneş'e ihtiyaçları vardır.
- ☐ Ay'ın şekli yuvarlaktır.
- ☐ Güneş'e gözlüksüz bakmak gözlerimize zarar vermez.

2) Dünyamızın şekli ile ilgili verilen bilgilerden hangisi doğrudur?

- ☐ Topun şekline benzer.
- ☐ Küp şekere benzer.
- ☐ Konserve kutusu şeklindedir.

3) Bulutsuz gecelerde gökyüzüne baktığımızda hangisini göremeyiz?

- ☐ Güneş
- ☐ Yıldızlar
- ☐ Ay

4) * Dünya'ya en yakın gök cismiyim.

- * Dünya'dan ve Güneş'ten küçüğüm.
- * Şeklim portakala benzer.
- * Geceleri görünürüm.

Yukarıda verilen bilgiler hangi gök cismine aittir?

- ☐ Yıldız
- ☐ Ay
- ☐ Güneş

5) Aşağıdaki bilgilerden hangisi ilkbahar mevsimine uygundur?

- ☐ Ağaçlar çiçek açar.
- ☐ Yapraklar sararır.
- ☐ Bir çok yere kar yağar.

6) "Bahçemizdeki ağaçlar tamamen yapraklarını döktü. Yem bulamayan kuşlara yem veriyorum. Bazı günler arkadaşlarımla kar topu oynuyorum." **diyen Ecrin hangi mevsimden söz etmektedir?**

- ☐ İlkbahar
- ☐ Yaz
- ☐ Kış

6. ÜNİTE DEĞERLENDİRME SORULARI

Aşağıda verilen soruları okuyup doğru seçeneği işaretleyiniz.

- 1) • Ayı
• Tavuk
• Koyun

Yukarıdaki hayvanlardan kaç tanesi yabani hayvandır?

☐ 1 ☐ 2 ☐ 3

- 2) 1. Gül
2. Lale
3. Papatya

Yukarıdaki bitkilerden hangileri bahçe bitkisidir?

- ☐ 1 ve 3
☐ 1 ve 2
☐ 1, 2 ve 3

3) Aşağıdakilerden hangisi diğerlerinden daha büyüktür?

- ☐ Ay
☐ Güneş
☐ Dünya

4) Aşağıdakilerden hangisi kış mevsimi için yapılan hazırlıklardan değildir?

- ☐ Tarhana yapmak
☐ Konserve yapmak
☐ Ev temizliği yapmak

5) Aşağıdaki nesnelerden hangisinin geri dönüşümü olmaz?



- 6) 1. Ay, Dünya'ya en yakın gök cismidir,
2. Güneş bir yıldızdır,
3. Güneş'e çıplak gözle bakmamalıyız.

Yukarıdaki bilgilerden hangileri doğrudur?

- ☐ 1 ve 2
☐ 1 ve 3
☐ 1, 2 ve 3

7) Aşağıdaki ifadelerden hangisi yanlıştır?

- ☐ Çevremizi temiz tutmalıyız.
☐ Doğaya çöp atmamalıyız.
☐ Ormandaki ağaçları kesebiliriz.

8) Sonbahar mevsiminde ağaçlarda nasıl bir değişim görülür?

- ☐ Çiçekler açar.
☐ Yapraklar dökülür.
☐ Yaprakları yeşerir.

9) Aşağıdaki hayvanların hangisinin yaşam alanı diğerlerinden farklıdır?



10) Hayvanlar beslenme şekilleri ile eşleştirilmiştir. Hangi eşleştirme yanlıştır?


- ☐ Kaplan → Etle beslenir.
☐ Fil → Ota beslenir.
☐ Zürafa → Etle beslenir.

11) Merve, bitirdiği çalışma kitaplarını geri dönüşüm kutusuna atmak istiyor. Merve, kitabı hangi geri dönüşüm kutusuna atmalıdır?

- ☐ Cam geri dönüşüm kutusuna
☐ Plastik geri dönüşüm kutusuna
☐ Kâğıt geri dönüşüm kutusuna

CEVAP ANAHTARI

Ünite Değerlendirme - 1

- ☐ Sizi ilgilendirmez.
- ☐ Görsel sanatlar
- ☐ Tek başına oyun oynama
- ☐ 1
- ☐ Derste konuşmamalıyız.
- ☐ Okul çantasına gereksiz eşya koymaz.
- ☐ 1, 2 ve 3
- ☐ Türkiye haritası
- ☐ Okul müdürü
- ☐ 
- ☐ nazik
- ☐ Bahçedeki nöbetçi öğretmenden

Ünite Değerlendirme - 2

- ☐ Ekmek
☐ Yumurta
☐ Ayakkabı
- ☒ Hoş geldiniz.
- ☐ Sulu boya
- ☐ Anneanne
Dede
Teyze

- ☐ Anne, baba ve çocuklar
- ☐ Elektrik
☐ Su
- ☐ Kantin
Rehberlik Odası
- ☐ Hizmetli
- ☐ Babacığım ellerine sağlık
- ☐ Elektrik

Ünite Değerlendirme - 3

- ☐ Tarak
- ☐ Televizyonu yakından izlemeliyiz.
- ☐ Göz sağlığım için televizyonu yakından izlerim.
- ☐ Sofrada ağızımızda yemek varken konuşmak
- ☐ Vaktinde aşılarımızı olmalıyız.
- ☐ Kalem
- ☐ Gazlı içecekler içerim.
- ☐ 1 ve 2
- ☐ Meyveleri yıkamadan yemek
- ☐ Ellerini yıkamalıdır.
- ☐ Mevsimine uygun meyve ve sebzeler

Ünite Değerlendirme - 4

1. ☐ Merdivenlerden çıkarken sağ tarafı kullanırım.



2. ☐



3. ☐ Geç

4. ☐ 1 - 7 - 7

5. ☐ Kaldırımda oyun oynayabiliriz.

6. ☐ 3

7. ☐ Çamaşır suyu

8. ☐ 1 - 1 - 0

9. ☐ Tanıdıklarımızla

10. ☐ Nazik ve güler yüzlü olmalıyız.

11. ☐ Verdikleri hiçbir şeyi kabul etmemeliyiz.

Ünite Değerlendirme - 5

1. ☐ Konuştuğu dil

2. ☐ Ankara

3. ☐



4. ☐ Oyun parkları

5. ☐ Ankara

6. ☐ Cumhuriyet Bayramı

7. ☐ Bayrağımız

8. ☐ Köy

9. ☐ Türkiye Cumhuriyeti Devleti

10. ☐ Ramazan Bayramı

11. ☐ Çocuklara

12. ☐ Ramazan Bayramı

13. ☐



14. ☐ Kurban Bayramı iki gündür.

15. ☐ Dostça

Ünite Değerlendirme - 6

1. ☐ 1

2. ☐ 1, 2 ve 3

3. ☐ Güneş

4. ☐ Ev temizliği yapmak

5. ☐



6. ☐ 1, 2 ve 3

7. ☐ Ormandaki ağaçları kesebiliriz.

8. ☐ Yapraklar dökülür.

9. ☐



10. ☐ Zürafa → Etle beslenir.

11. ☐ Kâğıt geri dönüşüm kutusuna

SÖZLÜK

A

adres: Bir kimsenin oturduğu yer, bulunak.

aile: Evlilik ve kan bağına dayanan, karı, koca, çocuklar, kardeşler arasındaki ilişkilerin oluşturduğu toplum içindeki en küçük birlik.

akraba: Kan bağıyla birbirine bağlı olan kimseler.

araç gereç: Bir işin yapılmasında kullanılan her türlü şey.

atık: Kullanım dışı kalmış ve atılmış olan her türlü madde.

B

bağımsızlık: Bağımsız olma durumu, özgürlük.

barınak: Canlıları çeşitli tehlikelerden koruyan yapı ya da korunaklı yer.

barınma: Barınmak işi.

başkent: Bir devletin yönetim merkezi olan şehir.

bayram: Millî veya dinî bakımdan önemi olan ve kutlanan gün veya günler.

besin: Yenilebilir, beslenmeye elverişli her tür madde, azık, gıda.

beslenme: Vücut için gerekli besin maddelerini vücuda alma.

bilgi: Öğrenme, araştırma veya gözlem yolu ile elde edilen gerçek.

birey: Toplumu oluşturan kişilerin her biri, fert.

bütçe: Bir kuruluşun, bir aile veya bir kimsenin gelecekteki belirli bir süre için tasarladığı gelir ve giderlerini tür ve ayrıntılarıyla gösteren çizelge.

C - Ç

cadde: Ana yol.

cihaz: Aygıt, alet, birçok parçadan oluşmuş ve bir iş görmeye yarayan araç.

çiftlik: Tarım yapılan, hayvan yetiştirilen geniş toprak parçası.

D

dayanışma: Bir topluluğu oluşturanların duygu, düşünce ve ortak çıkarlarda birbirlerine karşılıklı bağlanması.

dede: Babanın ya da annenin babası, büyükbaba.

dengeli beslenme: Sağlık için gerekli olan besinleri belirli ölçülerde ve düzenli olarak alma.

dinî: Din ile ilgili olan.

E

empati: Kişinin kendisini başka birinin yerine koyarak söz konusu kişinin duygularını ve düşüncelerini anlayabilmesi.

F

farklılık: Farklı olma durumu, farklılık.

G

gelenek: Bir toplumda eskiden kalmış olduğu için saygı duyulan, kuşaktan kuşağa iletilen alışkanlıklar, bilgi ve davranışlar.

geri dönüşüm: Atıkların yeniden değerlendirilmesi durumu.

görgü kuralları: Bir toplumda veya toplulukta, davranışların dış biçimlerini denetlemeye yönelik olan kuralların bütünü.

gözlem: İnceleme sonucu elde edilen değer.

güvenlik: Kişilerin korkusuzca yaşayabilmesi durumu, emniyet.

H

haberleşme: Telefon, televizyon, radyo, internet vb. araçlardan yararlanarak yürütülen bilgi alışverişi.

I - I

ihtiyaç: Gereksinim, gerekli olma.

ikram: Misafirlere sunulan yiyecek, içecek gibi şeylerin bütünü.

iletişim: Duygu, düşünce veya bilgilerin akla gelebilecek her türlü yolla başkalarına aktarılması, bildirisi, haberleşme.

israf: Gereksiz yere para, zaman, emek vb.ni harcama, savurganlık, tutumsuzluk.

istek: Bir şeye duyulan eğilim, arzu, şevk.

istiklâl: Bağımsızlık.

J - K

kural: Davranışlarımıza yön veren, uyulması gereken ilke.

M

millî: Milletle ilgili, ulusal.

Ö

öğün: Yemek vakti, bir vakitte yenilen yemek.

S

saygı: Değeri, üstünlüğü, yaşlılığı, yararlılığı, kutsallığı dolaylı bir kimseye, bir şeye karşı dikkatli, özenli, ölçülü davranmaya sebep olan sevgi duygusu.

sevgi: İnsanı bir şeye veya bir kimseye karşı yakın ilgi ve bağlılık göstermeye yönelten duygu.

T

tarihî: Tarihle ilgili, tarihsel.

tasarruf: Biriktirme, artırım, tutum.

tedavi: Hastalığı iyileştirmek.

turistik: Turizm ile ilgili olan.

Ü

ürün: Doğadan elde edilen, üretilen yararlı şey.

Y

yönetim: Yönetme işi.

Z

ziyaret: Birini görmeye, biriyle görüşmeye gitme, görüşme.

KAYNAKÇA

MEB. (2018). *İlkokul Hayat Bilgisi Dersi Öğretim Programı (İlkokul 1, 2 ve 3. Sınıflar)*. Ankara: MEB.

Türk Dil Kurumu Yayınları. (2011). *TDK Türkçe Sözlük*. Ankara: TDK.

Türk Dil Kurumu Yayınları. (2012). *TDK Yazım Kılavuzu*. Ankara: TDK.

GÖRSEL KAYNAKÇA

Nüsha genelinde kullanılan resimler yayınevinin anlaşmalı ressamı tarafından çizilmiştir. Resim dışındaki görseller www.shutterstock.com ve www.freepik.com adlı internet sitelerinden ücret karşılığında satın alınmıştır.