



SIIRT İL MİLLİ EĞİTİM MÜDÜRLÜĞÜ

2020

# ORTAOKUL

7 - 11 ARALIK

# 5

ÖDEU TAKİP SİSTEMİ

## TÜRKÇE

## ÜNİTE 2: MİLLİ MÜCADELE VE ATATÜRK

## 1.BÖLÜM: BİR TEMMUZ GECESİ(DİNLEME-İZLEME METNİ)

## KAZANIM 1: DEYİM VE ATASÖZLERİNİN METNE KATKISINI BELİRLER.

## DEYİMLER

- Bir olayı, bir durumu, bir kavramı daha etkileyici anlatmak için en az iki sözcüğün bir araya gelmesiyle oluşan ve çoğu zaman gerçek anlamdan uzaklaşıp kendine özgü anlam kazanan kelime gruplarına deyim denir.
- Deyimler, hem yazılarımıza hem de konuşmalarımıza derinlik katar. Anlattıklarımızı ilgi çekici hâle getirir. Birkaç cümleyle anlatabileceğimiz bir durumu iki üç sözcükten oluşan bir deyimle anlatabiliriz. Böylece kısa ve özlü anlatım sağlamış oluruz.
- Deyimler kalıplaşmış sözcüklerdir. Deyimlerde bulunan sözcüklerin yerine eş anlamlıları bile getirilemez. Sözcüklerin yerleri değiştirilemez. Bu şekilde bir kullanım anlatım bozukluğuna yol açar.

ayaklarına kara sular inmek ✓

ayaklarına siyah sular inmek X

- Deyimler şahsa ve zamana göre çekimlenebilir.

‘etekleri zil çalmak’

eteklerim zil çalıyordu

eteklerimiz zil çaldı

- Deyimler genellikle mecaz anlamlıdır.

Ağızdan bal damlamak deyiminde kişinin tatlı ve duyulmak istenen sözler söylemesi vurgulanır. Kişinin gerçekten ağızından yiyecek olan bal damlamaz.

- Bazı deyimlerin gerçek anlamları da vardır.

sır saklamak

el sürmemek

- Deyimler bir kavramı ya da bir durumu anlatmak için kullanılır. Ders verme amacı taşımaz.
- Deyimler sözcük grubu ya da cümle şeklinde olabilir.

## ÖRNEKLER:

göze girmek

dil dökmek

soğuk kanlı

dikiş tutturamamak

gözü yollarda kalmak

ağzı kulaklarına varmak

etekleri zil çalmak

dilini yutmak

dilinde tüy bitmek

içi yanmak

kafa tutmak

hevesi kırılmak

kara çalmak

kol kanat germek

gözden düşmek

ağzından bal damlamak

rüzgâr ekip fırtına biçmek

taş kesilmek

temize çıkmak

göğsü kabarmak

ne şiş yansın ne kebab

yağcılık etmek

zaman öldürmek

canı sıkılmak

## Atasözleri

- Atasözlerinin söyleyeni belli değildir, atasözleri halkın ortak malıdır.
- Atasözleri kalıplaşmış sözlerdir. Bu yüzden atasözünü oluşturan sözcükler yerine başka sözcükler getirilemez, sözcüklerin sıralanışında da değişiklik yapılamaz.
- Atasözlerinin birçoğunda mecazlı bir söyleyiş vardır.
- Bazı atasözleri yakın anlamlı, bazıları ise tamamen birbirine zıt anlamlıdır.

## ÖRNEKLER:

- ❖ Aslan yattığı yerden belli olur.
- ❖ Hamama giren terler.
- ❖ Öfkeyle kalkan, zararlı oturur.
- ❖ Misafir; umduğunu değil, bulduğunu yer.
- ❖ Her koyun kendi bacağından asılır.
- ❖ Ağaç yaşken eğilir.
- ❖ Taş yerinde ağırdır.
- ❖ İşleyen demir ışıldar.

- ❖ Sakınan göze çöp batar.
- ❖ El elin nesine, gülerek gider yasına.
- ❖ Damlaya damlaya göl olur.
- ❖ Acele işe şeytan karışır.
- ❖ Acı patlıcanı kırağı çalmaz.
- ❖ Balık baştan kokar.
- ❖ Bedava sirke baldan tatlıdır.
- ❖ Besle kargayı oysun gözünü.
- ❖ Bilmemek ayıp değil, öğrenmemek ayıp.
- ❖ Son gülen iyi güler.
- ❖ Söz uçar, yazı kalır.
- ❖ Ava giden avlanır.

1)İki ya da daha fazla sözcüğün kendi anlamlarının dışında bir anlamı ifade etmek amacıyla oluşturdukları kalıplaşmış sözcüklere ..... denir?

- A)Deyim
- B)Atasözleri
- C)Zıt Anlam
- D)Benzetme

2)"Bakmak" sözcüğü aşağıdaki cümlelerin hangisinde "Bir şeyin yüzü bir yöne doğru olmak" anlamında kullanılmıştır?

- A) Limana bakan pencereden deniz görünüyor.
- B) Yıllardır, beş çocuklu bir aileye bakıyor.
- C) Saatini bulamayınca üzgün gözlerle etrafa baktı.
- D) Dilekçelere, karşı masadaki bayan bakıyor.

3)Alın teri dökmek" deyiminin anlamı aşağıdakilerden hangisidir?

- A)Sıcakta çok terlemek.
- B)Bir işle çok uğraşmak.
- C)Birine laf anlatmak.
- D)Sıcaktan bunalmak.

4)"Önemsiz gördüğümüz şeyleri bir kenara atıp elden çıkarmamalı, onları saklamalıyız." bu cümlede açıklaması verilen atasözü hangisidir?

- A)Damlaya damlaya göl olur
- B)Sakla samanı, gelir zamanı
- C)Ne verirsən elinle o gelir seninle.
- D)Bir elin nesi var, iki elin sesi var.

5)Akıl ..... değil, baştır." atasözünü tamamlayan kelime aşağıdakilerden hangisidir.

- |          |         |
|----------|---------|
| A)saçta  | B)gözde |
| C)okulda | D)yaşta |

6)Aşağıdakilerden hangisi atasözü değildir?

- A)İpin ucunu kaçırmak.
- B)Acele işe şeytan karışır.
- C)El elden üstündür.
- D)Yalnız duvar taş olmaz

7) Aşağıdaki cümlelerin hangisinde “açılmak” sözcüğü «kendine gelmek, ferahlamak» anlamında kullanılmıştır?

- A) Geçen ay çok açılmıştık, bu ay biraz rahatladık.
- B) Yüzüne kolonya sürünce biraz açıldı.
- C) Ayakkabısı giydikçe açıldı.
- D) Bugün hava biraz açıldı.

- 1.gelmeyen
- 2.akla
- 3.başa
- 4.gelir

8)Yukarıdaki sözcüklerde anlamlı ve kurallı bir cümle oluşturulursa sıralama nasıl olur?

- A) 4-3-2-1      B) 2-1-3-4
- C) 2-4-3-1      D) 1-4-3-2

9) Aşağıdaki cümlelerin hangisinde karşılaştırma anlamı vardır?

- A) Peyami Safa, İstanbul’da 1899 yılında doğmuştur.
- B) Kitabınızın konusu hakkında bilgi verebilir misiniz?
- C) Takdir etmekle övmek arasında uçurum vardır. D) Güz gelince yapraklar yeşilden sarıya döner.

**Mahallemizde**

**Senden başka ağaç olsaydı**

**Seni bu kadar sevmezdim.**

**Fakat eğer sen**

**Bizimle beraber**

**Kaydırak oynamasını bilseydin**

**Seni daha çok severdim.**

**Orhan Veli Kanık**

10)Bu şiire hâkim olan duygu aşağıdakilerden hangisidir?

- A) Bahar özlemi      B) Ağaç sevgisi
- C) Çocukluk hasreti      D) Yaşama sevinci

11)Aşağıdaki cümlelerde geçen deyimlerden hangisi " Kalabalıktan, gürültüden uzaklaşıp dinlenmek" **anlamına gelmektedir?**

- A)Başını dinlemek için tatile çıktı.
- B)Çocuklar başı boş kaldılar.
- C)Ana kız baş başa verip konuştular.
- D)Resmini baştan savma yapmış.

"Güçlü bir ateş,küçük bir kıvılcımdan sonra çıkar.'

12)Aşağıdakilerden hangisi anlamca bu cümleye en yakındır?

- A) Her zaman her şey istediğimiz gibi gitmez.
- B) Her şeyin en önemli aşaması başlangıcıdır.
- C) İşin zorluğu o işi yapana göre değişir.
- D) Her insan aynı azimle çalışmaz

13)Aşağıdaki atasözlerin hangisi tutumlulukla ilgili değildir?

- A) Damlaya damlaya göl olur.
- B) Ayağını yorganına göre uzat.
- C) Aza kanaat etmeyen çoğu bulamaz.
- D) Yalancının mumu yatsıya kadar yanar.

14)Aşağıdaki cümlelerin hangisinde "dökülmek" sözcüğünün kullanımı ile anlamı birbirine uymamaktadır?

- A) Bu ev artık dökülüyordu. (Çok eskimiş olmak)
- B) Üç gündür vücudum dökülüyor. (Çok yorgun, hasta olmak)
- C) Onu görmek için insanlar yollara döküldü. (Salınmak, serbest bırakılmak)
- D) Sakarya, Karadeniz'e dökülüyor. (Akarsular denize akmak)

15)"Ateşle oynamak" deyiminin anlamı hangi seçenekte verilmiştir?

- A)Ateşi sağa sola dağıtmak.
- B)Ateşin üzerinden atlamak.
- C)Tehlikeli bir işe girişmek.
- D)Birisıyla alay etmek.

- 1) sebep
- 2) kitap
- 3) aramamalıyız
- 4) için
- 5) okumak

**16) Numaralanmış sözcüklerle anlamlı ve kurallı bir cümle oluşturulduğunda sıralama aşağıdakilerden hangisi olur?**

- |              |              |
|--------------|--------------|
| A) 2-1-4-3-5 | B) 2-5-4-1-3 |
| C) 5-4-1-2-3 | D) 5-1-3-2-4 |

**17) Aşağıdakilerin hangisinde “göz” kelimesi deyim içinde kullanılmamıştır?**

- A) Elindeki gazeteye göz attı.
- B) Evden çıkmadan evrakları son bir kez gözden geçirdi.
- C) Dumandan gözlerim acıdı.
- D) O soruyu gözden kaçırmışım.

**18) Aşağıdaki cümlelerin hangisinde öznel bir yargı vardır?**

- A) Benimle birlikte iki kişi daha bekliyordu.
- B) Bence bu satırlar ünlü bir yazarın kalemin-den çıkmış.
- C) Bana okumam için üç kitap tavsiye etti.
- D) Beni görünce koşarak geldi ve boynuma sarıldı.

**19) Aşağıdaki cümlelerin hangisinde uyarı anlamı vardır?**

- A) Bu arabalarda galiba elektrikli motor var.
- B) Ankara, İzmir’den daha kalabalık bir şehir.
- C) Kendime yeni bir spor ayakkabı almayı düşünüyorum.
- D) Bu mevsimde dağ yolundan gitmeyin, tehlikelidir.

**20) Aşağıdaki cümlelerin hangisinde amaç-sonuç ilişkisi vardır?**

- A) Bindığımız otobüsün içi gerçekten hamam gibiydi.
- B) Heyecanla maçta golü nasıl attığını anlattı.
- C) Çimenlerin üstünde koşup oynamak için parka gittik.
- D) Mağazaya yeni sezon ürünü çantalar gelmişti.



## MATEMATİK

ÜNİTE 2 : SAYILAR VE İŞLENMLER

1.BÖLÜM : KESİRLER

KAZANIM : BİR DOĞAL SAYI İLE BİLEŞİK KESRİ KARŞILAŞTIRIR

## KONU ÖZETİ

**Basit Kesir :**

Payı paydasından küçük olan kesre basit kesir denir.

**Örnek 4 :**  $3/8$ ,  $4/7$ ,  $9/16$  .... gibi.

**Bileşik Kesir :**

Payı paydasına eşit veya payı paydasından büyük olan kesre bileşik kesir denir.

**Örnek 5 :**  $8/3$ ,  $7/4$ ,  $16/9$ , ... gibi.

**Tamsayılı Kesir :**

Bir sayma sayısı ile basit kesirden oluşan kesre tamsayılı kesir denir.

**Örnek 6 :**  $1 \frac{1}{2}$ ,  $2 \frac{3}{4}$ ,  $5 \frac{6}{7}$  .... Gibi

**Not :**

1. Her doğal sayı paydası 1 olan bir kesirdir.
2. Her tamsayılı kesir, bir bileşik kesirdir.

**Örnek 7 :**  $2 \frac{1}{2}$  tam sayılı kesrini bileşik kesre çevirelim.

$$2\frac{1}{2} = 2 + \frac{1}{2} = \frac{2 \cdot 2 + 1}{2} = \frac{5}{2} \text{ olur.}$$

**Örnek 8 :** 16/3 bileşik kesrini tam sayılı kesre çevirelim.

$$\begin{array}{r|l} 16 & 3 \rightarrow \text{Payda} \\ -15 & 5 \rightarrow \text{Tam kısım} \\ \hline 01 & \rightarrow \text{Pay} \end{array} \quad \frac{16}{3} = 5 \frac{1}{3}$$

1)

Aşağıdakilerden hangisi basit kesir-  
dir?

A.  $\frac{2}{2}$

B.  $1\frac{1}{5}$

C.  $\frac{3}{7}$

D.  $\frac{10}{9}$

$\frac{16}{3}$  kesri aşağıdakilerden hangisine  
eşittir?

A.  $5\frac{1}{3}$

B.  $3\frac{1}{5}$

C.  $5\frac{1}{5}$

D.  $1\frac{3}{5}$

3)

2)

Aşağıdaki kesirlerden hangisi  $\frac{3}{4}$   
kesrine denk değildir?

A.  $\frac{6}{8}$

B.  $\frac{9}{12}$

C.  $\frac{4}{9}$

D.  $\frac{18}{24}$

4)

Aşağıdakilerden hangisi  $2\frac{2}{5}$  kesrinin  
bileşik kesirle yazılmış şeklidir?

A.  $\frac{10}{5}$

B.  $\frac{12}{5}$

C.  $\frac{12}{10}$

D.  $\frac{10}{2}$

5)



Yukarıda verilen eş şekiller birbirine eşit dokuzar parçaya bölünmüştür.

**Buna göre, taralı bölgeleri ifade eden kesir sayısı aşağıdakilerden hangisidir?**

- A.  $2\frac{1}{3}$                       B.  $2\frac{4}{9}$   
C.  $2\frac{2}{3}$                       D.  $2\frac{7}{9}$

7)

$$\frac{33}{10} = a\frac{b}{c} \text{ ise, } a + b + c \text{ toplamı aşağıdakilerden hangisi olabilir?}$$

- A. 10                      B. 12  
C. 13                      D. 16

6)

$\frac{15}{a+4}$  kesri bütüne eşit bir kesir ve

$\frac{b-2}{12}$  kesri yarıma eşit bir kesirdir.

**Buna göre,  $a + b$  toplamı aşağıdakilerden hangisidir?**

- A. 18                      B. 19  
C. 20                      D. 22

8)

$$\frac{3}{5} \equiv \frac{21}{A} \text{ ve } \frac{1}{3} \equiv \frac{6}{B} \text{ dir.}$$

**Buna göre,  $A + B$  toplamı kaçtır?**

- A. 40                      B. 43  
C. 53                      D. 57

9)

$$\frac{5}{25} = \frac{A}{5} \text{ ve } \frac{24}{B} = \frac{4}{5} \text{ olduğuna göre,}$$

A + B toplamı kaçtır?

- A. 31                      B. 30  
C. 22                      D. 10

11)

Aşağıdaki kesirlerden hangisi  $\frac{12}{18}$  kesrine denk değildir?

- A.  $\frac{24}{36}$                       B.  $\frac{6}{9}$   
C.  $\frac{2}{3}$                       D.  $\frac{1}{2}$

10)

**Kural:** Bir kesrin pay ve paydasını aynı sayıya (sıfırdan farklı) bölmeye kesri sadeleştirme denir.

$$\frac{12}{15} \text{ kesrinin en sade şekli } \frac{a}{b} \text{ ve } \frac{8}{24}$$

kesrinin en sade şekli  $\frac{c}{d}$  olduğuna göre, **a + b + c + d toplamı kaçtır?**

- A. 10                      B. 13  
C. 15                      D. 22

12)

a, b ve c birer doğal sayı olmak üzere,  $\frac{44}{6} = a\frac{b}{c}$  dir.

**Buna göre, a + b + c toplamı en az kaç olabilir?**

- A. 10                      B. 11  
C. 13                      D. 15

13)

I.  $\frac{3}{3}$ , II.  $\frac{4}{3}$ , III.  $\frac{1}{3}$ , IV.  $2\frac{2}{3}$

Yukarıda verilen kesirlerin hangileri bileşik kesirdir?

- A. I ve III                      B. III ve IV  
C. II ve III                      D. I ve II

15) Aşağıdaki kesirlerden hangisi 1'e eşittir?

- A)  $\frac{18}{9}$     B)  $\frac{45}{45}$     C)  $\frac{3}{5}$     D)  $\frac{1}{12}$

14) Aşağıdakilerden hangisi bileşik kesirdir?

- A)  $\frac{5}{7}$     B)  $\frac{18}{19}$     C)  $\frac{21}{23}$     D)  $\frac{17}{16}$

16) Aşağıdaki kesir çiftlerinden hangisi tam sayılı kesirdir?

- A)  $2\frac{8}{9}$  ile  $\frac{8}{9}$                       B)  $1\frac{2}{3}$  ile  $3\frac{1}{2}$   
C)  $\frac{5}{25}$  ile  $\frac{12}{12}$                       D)  $\frac{3}{7}$  ile  $5\frac{2}{5}$

Aşağıdakilerden hangisi  $3\frac{1}{4}$  kesrinin bileşik kesir şeklinde yazılışıdır?

- 17) A)  $\frac{3}{4}$  B)  $\frac{7}{4}$  C)  $\frac{11}{4}$  D)  $\frac{13}{4}$

Aşağıdakilerden hangisi  $\frac{3}{4}$  kesrine denk olamaz?

- 19) A)  $\frac{12}{24}$  B)  $\frac{6}{8}$  C)  $\frac{9}{12}$  D)  $\frac{15}{20}$

18)

1.  $\frac{5}{7}$  2.  $\frac{9}{9}$  3.  $2\frac{1}{2}$   
4.  $\frac{5}{8}$  5.  $\frac{1}{12}$  6.  $\frac{7}{13}$

Yukarıdakilerden hangileri basit kesirdir?

- A) 1, 4, 5, 6  
B) 1, 4, 6  
C) 2, 3, 4, 5  
D) 2, 4, 5

20)

$4\frac{3}{5} = \frac{a}{b}$  ise  $a + b$ 'nin toplamı kaçtır?

- A) 28 B) 29 C) 30 D) 31

## FEN BİLGİSİ

## ÜNİTE 3: KUVVETİN ÖLÇÜLMESİ VE SÜRTÜNME

## 1. BÖLÜM: KUVVETİN ÖLÇÜLMESİ

- **KAZANIM : F.5.3.1.1.** Kuvvetin büyüklüğünü dinamometre ile ölçer.
- **F.5.3.1.2.** Basit araç gereçler kullanarak bir dinamometre modeli tasarlar.

## KONU ÖZETİ

Günlük hayatımızda birçok yerde kullandığımız, üzerine **kuvvet uygulandığında şekli değişen, kuvvet kaldırıldığında tekrar eski haline dönebilen maddelere esnek madde ya da esnek cisim adı verilir.** Lastik, yay ve sünger gibi maddeler esnek cisimlere örnek olarak verilebilir.

Yayların esneklik özelliğinden faydalanılarak yapılmış, kuvvetin büyüklüğünü ölçmek için kullanılan alete **dinamometre** adı verilir.

**Çalışma Prensibi:** Dinamometre içerisinde yer alan esnek yay, kuvvetin büyüklüğüne bağlı olarak uzar. Yaya bağlı olan gösterge, uygulanan kuvvetin büyüklüğünü gösterir.

Dinamometre ile ölçülen **kuvvetin birimi Newton olarak ifade edilir ve kısaca “N” harfi ile gösterilir.**

Dinamometre içerisinde yer alan ve kuvvetin büyüklüğünü ölçmeye yarayan yayların belirli bir esneme sınırı vardır. Bu yüzden **her dinamometre farklı büyüklükteki kuvvetleri ölçer.**

Dinamometrelerin üzerine **ölçebilecekleri en büyük kuvvet değeri** yazılır.



1) Aşağıdakilerden hangisi esnek cisimler değildir?

- A) Sakız
- B) Paket lastiği
- C) Yay
- D) Balon

2) Aşağıdakilerden hangisi kuvvetin birimidir?

- A) Gram
- B) Kilogram
- C) Newton
- D) Ton

3) Kuvvet ölçen aracın ismi nedir?

- A) Dinamometre
- B) Terazî
- C) Baskül
- D) Kantar

4) Dinamometre hakkında aşağıdaki bilgilerden hangisi yanlıştır?

- A) Dinamometre yayların esneklik özelliğinden yararlanılarak yapılmıştır.
- B) Dinamometre belirli değerler arasında ölçüm yapar.
- C) Dinamometre ağırlık ölçer.
- D) Dinamometre ile ölçülen kuvvetin birimi gramdır.

5) Aşağıdakilerden hangisi kuvvetin etkisi yoktur?

- A) Arabanın fren yapması
- B) Kağıda yazı yazmamız.
- C) Kapının açılması
- D) Suyun kaynaması

6) En fazla 10 N ölçebilen bir dinamometre ile aşağıdaki cisimlerin ağırlıklarından hangisi ölçülemez?

- A) 8 N 'lik kitap
- B) 7 N 'lik kalemlik
- C) 11 N'lik çanta
- D) 9 N'lik top

7) Kuvvetle ilgili aşağıdaki bilgilerden hangisi yanlıştır?

- A) Kuvvet cismin şeklini değiştirmez.
- B) Kuvvet birimi Newton'dur.
- C) Kuvvet cisimleri hareket ettirebilir.
- D) Kuvvet hareket eden cismi durdurabilir.

8) 50 N ölçebilen bir dinamometre 10 bölmeli yapılmıştır. Dinamometreye kuvvet uygulandığında 4 bölme uzadığına göre, uygulanan kuvvet kaç Newton'dur.

- A) 10 N
- B) 15 N
- C) 20 N
- D) 25 N

9) Aşağıdaki kuvvetlerden hangisi temas gerektirmeyen bir kuvvettir?

- A) Dalda duran elmanın yere düşmesi
- B) Futbol oynayan kişinin topa vurması
- C) Masanın çekilerek yerinin değiştirilmesi
- D) Paket lastiğinin çekilmesi

10) Aşağıdaki çelik yaylardan yapılan dinamometrelerden hangisi daha fazla kuvvet ölçer?

- A) İnce ve uzun yay
- B) Kalın ve kısa yay
- C) Kalın ve uzun yay
- D) İnce ve kısa yay

11) Kuvvet ile ilgili olarak aşağıdaki bilgilerden hangisi yanlıştır?

- A) Kuvvet bütün cisimleri hareket ettirir.
- B) Doğa olaylarının çoğu kuvvetle meydana gelir.
- C) Kuvvet itme ve çekme şeklinde uygulanır.
- D) Kuvvet cisimleri döndürebilir.

12) Aşağıdakilerden hangisinde kuvvetin şekil değiştirme etkisi vardır?

- A) Bisikletin hareket etmesi
- B) Kağıdın yırtılması
- C) Uçağın havalanması
- D) Çocuğun koşması

13) Bir cisme kuvvet uygulandığında şekil değiştirmekte, kuvvet ortadan kalktığında tekrar eski haline geri dönmektedir. Bu cisim hakkında aşağıdakilerden hangisi söylenir?

- A) Cisim taş gibi serttir
- B) Cisim sakız gibi yumuşaktır
- C) Cisim lastik gibi esnektir.
- D) Cisim cam gibi kırılıgandır

14) Aşağıdakilerden hangisinde temas gerektiren bir kuvvet vardır?

- A) Yağmur damlasının yere düşmesi
- B) Mıknatısın demir iğneleri çekmesi
- C) Arabanın itilmesi
- D) Kalemin yere düşmesi

15) Furkan, bir cismi sıkarak kuvvet uyguluyor. Cisim önce şekil değiştirip, sonra tekrar eski haline dönüyor. Furkan'ın kuvvet uyguladığı cisim için aşağıdakilerden hangisi söylenebilir?

- A) Çok serttir
- B) Sağlamdır
- C) Esnektir
- D) Dayanıksızdır

16) Aşağıda verilenlerden hangisi kuvvet etkisi ile gerçekleşmez?

- A) Yavaşlatma
- B) İtme
- C) Çekme
- D) Düşünme

17) I. Yayın rengine

II. Yayın cinsine (türüne)

III. Yayın kesitine (inceliği/kalınlığı)

IV. Yaya uygulanan kuvvetin büyüklüğüne

Bir dinamometreyi oluşturan yayın uzama miktarı yukarıdakilerden hangisi ya da hangilerine bağlıdır?

- A) Yalnız II B) I ve II
- C) I, III ve IV D) II, III ve IV

18)

- I. Kuvvetin birimi Newton'dur.
- II. Kuvvet termometre ile ölçülür.
- III. Hareket eden bir cismi durdurabilir.
- IV. Hareket eden cismin hızını azaltabilir.

**Kuvvet ile ilgili verilen bilgilerden hangisi ya da hangileri doğrudur?**

- A) Yalnız I B) I ve III
- C) II ve IV D) I, III ve IV

20)

Aslı: Kuvvet dinamometre ile ölçülür.

Beliz: Kuvvetin birimi newtondur.

**Aslı ve Beliz'in verdiği bilgiler için aşağıdakilerden hangisi doğrudur?**

- A) Yalnız Aslı doğru bilgi vermiştir.
- B) İkisi de yanlış bilgi vermiştir.
- C) Yalnız Beliz doğru bilgi vermiştir.
- D) İkisi de doğru bilgi vermiştir.

**19)** Duran bir cismi hareket ettiren, hareket halindeki bir cismin süratini arttırabilen, yavaşlatabilen ya da durdurabilen, cismin şeklini ve hareket yönünü değiştirebilen etkiye ..... denir.

**Yukarıda verilen boşluğa aşağıdaki kelimelerden hangisi gelmelidir?**

- A) Ağırlık B) Kütle
- C) Kuvvet D) Dinamometre

## SOSYAL BİLGİLER

### ÜNİTE 2: KÜLTÜR VE MİRAS

#### 2.BÖLÜM: KÜLTÜREL ZENGİNLİĞİMİZ

**KAZANIM : 5.2.3 Ülkemizin çeşitli yerlerinin kültürel özellikleri ile yaşadığı çevrenin kültürel özelliklerini karşılaştırarak bunlar arasındaki benzer ve farklı unsurları belirler**

**5.2.4 Kültürel öğelerin insanların bir arada yaşamasındaki rolünü analiz eder.**

### KONU ÖZETİ

#### **KÜLTÜREL ZENGİNLİĞİMİZ Kültürel Özelliklerimiz ile İlgili Kavramlar:**

**Gelenek:** Bir toplumda eskiden kalmış, kuşaktan kuşağa aktarılan, yaptırım gücü olan kültürel alışkanlık ve değerlere gelenek denir. Örnek: Kız isteme, düğün ve nişan törenleri, kına gecesi, asker eğlencesi gibi.

**Kültür:** Bir toplumun meydana getirdiği maddi ve manevi değerler bütününe kültür denir.

**Kültürel Öğeler:** Din, dil, örf, adet, gelenek, görenek, giyim-kuşam şekli, yemek çeşitleri, halk oyunları, düğün ve nişan törenleri, dini ve milli bayramlar.

**1) Aşağıdakilerden hangisi kültürümüzün bir parçası değildir?**

- A) Gidilen yere lokum götürmek
- B) Bayramlarda eve gelenlere kolonya sunmak
- C) Misafirlere çay ikram etmek
- D) Cadılar Bayramını kutlamak

**2)**

- Karadeniz yöresinin en ünlü oyunudur
- Eller yukarıda birleştirilerek hareketli bir şekilde oynanır.

**Yukarıda hangi oyundan bahsedilmektedir?**

- A) Horon
- B) Kaşık
- C) Halay
- D) Zeybek

**3)**

- I. Sultan Ahmet Çeşmesi
- II. İznik çinisi
- III. Kayseri mantısı

**Yukarıdaki kültürel öğeler sırasıyla aşağıdakilerden hangilerine örnektir?**

- A) El sanatı, Giyim, Festival,
- B) Mimari, El sanatı, Yemek
- C) Mimari, Türkü, Halk oyunu
- D) Halk oyunu, El sanatı, Yemek

**4)**

- I. El sanatlarımız
- II. Tarihî evlerimiz
- III. Yönetim şeklimiz

**Yukarıdakilerden hangisi ya da hangileri kültürümüzün öğelerinden değildir?**

- A) Yalnız I
- B) I ve II
- C) Yalnız III
- D) II ve III

5) Ergenekon Destanı'na göre; Türkler zamanla demirden olan Ergenekon Dağı'na sığmaz olurlar, atalarının eski yurtlarını geri almak için çeşitli yollar aramaya başlarlar. Nihayet dağda zayıf bir nokta tespit ederler, o noktayı eriterek çıkış yolu bulurlar. Yeni bir hayat, yeni bir başlangıç demek olan bu tarihî gün 21 Mart gününe rastlar. İşte bugün Türk topluluklarında bayram olarak kutlanır ve baharın başlangıcı olarak adlandırılır.

**Buna göre yukarıda verilen parçada anlatılan bayram aşağıdakilerden hangisidir?**

- A) Ramazan Bayramı
- B) Hıdrellez Bayramı
- C) Nevruz Bayramı
- D) Zafer Bayramı

6) Bir toplumda nesilden nesile aktarılan gelenek, görenek, inanış, düşünce ve sanat varlıklarının tümüne .....?..... denir.

**Soru işareti ile boş bırakılan yere hangisi getirilmelidir?**

- A) Kültür
- B) Tören
- C) Giyim
- D) Türkü

7) Eskiden düğünlerde gelinler at üstünde damat evine giderken günümüzde ise arabalarla gitmektedir.

**Bu durum en iyi aşağıdakilerden hangisi ile açıklanabilir?**

- A) Kültürel değişim
- B) Kültürel çatışma
- C) Kültürel etkileşim
- D) Kültürel süreklilik

8) Uzun yıllar aynı geçmişi paylaşan Türk milletinin ortaya koyduğu her şey, Türk kültürünü oluşturmuştur. Bu Türk milletinin milli kültürüdür. Yemeklerimizde kültürün öğeleri arasında yer alır.

Buna göre aşağıdaki yemeklerimizden hangisi bizim kültürümüze ait bir yemek değildir?

- A) Kebap
- B) Lahmacun
- C) Manti
- D) Hamburger

9) Kültür; ülkeden ülkeye, bölgeden bölgeye farklılık gösterebilir. Bu farklılık doğaldır ve bunu zenginlik olarak görmek gerekir. Halk oyunları, yemekler, kıyafetler, yaşam tarzları bölgeye göre değiştiği için kültürel çeşitlilik de artmıştır. Bu çeşitliliğin sürdürülmesi gerekir.

**Paragrafa göre aşağıdakilerden hangisi söylenemez?**

- A) Kültürel çeşitlilik korunmalıdır.
- B) Kültürel farklılıklar zenginliktir.
- C) Ülkelerin kültürü tamamen aynıdır.
- D) Kültür; bölgeden bölgeye farklılık gösterebilir

**10) Aşağıdakilerden hangisi milli bayramlara örnek gösterilemez?**

- A) Ulusal Egemenlik ve Çocuk Bayramı
- B) Kurban Bayramı
- C) Cumhuriyet Bayramı
- D) Zafer Bayramı

11) Ülkemizin hemen hemen her yöresinde farklı halk oyunları oynanmaktadır.

**Aşağıdakilerden hangisi Ege Bölgesi'nde oynanan halk oyunudur?**

- A) Hora
- B) Teke
- C) Horon
- D) Zeybek

12) El sanatlarımız asırlardır süren bir birikimin toplamı ve günümüze uzanan milli kültürümüzdür. Onda kendimizi, emekçinin göz nurunu buluruz.

Buna göre

- I. İğne oyası
- II. dokumacılık
- III. çinicilik

**faaliyetlerinden hangileri el sanatlarımız arasında gösterilebilir?**

- A) I ve II
- B) I ve III
- C) II ve III
- D) I, II ve III



**13)** Arkadaşlar ben Kemal. Yaz tatilinde önce annemin sonrada babamın memleketine gittik. Babamın memleketinde etli ve acılı yemekler, annemin memleketinde ise zeytin yağı sebze yemekleri yedim.

Ayrıca babamın memleketinde halay çekmeyi, annemin memleketinde ise zeybek oynamayı öğrendim.

**Kemal'in anlattıklarından yola çıkarak yaz tatilinde sırasıyla hangi bölgelerimize gittiğini söyleyebiliriz?**

- A) Marmara Bölgesi – Ege Bölgesi
- B) Güneydoğu Anadolu Bölgesi – İç Anadolu Bölgesi
- C) Karadeniz Bölgesi – Doğu Anadolu Bölgesi
- D) Güneydoğu Anadolu Bölgesi – Ege Bölgesi

**14)** Ülkemizin her yöresinin kendine özgü kültürel özellikleri vardır. Bu farklılıklar kültürümüzü zenginleştirir. Bu kültürlere sahip çıkmak ve gelecek nesillere aktarmak hepimizin görevidir.

**Aşağıdakilerden hangisi, yörelere göre farklılık gösteren kültürel öğelerimizden biri değildir?**

- A) Türkülerimiz
- B) Millî bayramlarımız
- C) Yemeklerimiz
- D) Halk oyunları

**15)**

- Aydın – Enginar Dolması
- Kayseri - Manti
- Şanlıurfa – Çiğ Köfte
- Mersin – Tantuni

Yukarıda, farklı illere özgü yemekler verilmiştir.

**Verilen bilgi doğrultusunda hangisi söylenebilir?**

- A) Ülkemizde yemek kültürü çeşitlilik gösterir.
- B) Yemek kültürümüz gelişmemiştir.
- C) Her bölgede çeşitli doğal varlıklar vardır.
- D) Kültürel öğeler iletişimi güçlendirir.

**16)** Geçmişte olduğu gibi günümüzde de Türk kültüründe, misafirlere kahve ikram edilir.

**Bu durum kültürün hangi özelliğine örnek olarak verilebilir?**

- A) Değişebilirliği
- B) Sistemli oluşu
- C) Sürekliliği
- D) Bütünleştiriciliği

**17)** Zamanın değıştirdiđi her řey gibi düđün törenlerinde de değışiklikler olmuřtur. Eskiden uzun süren ve köy meydanlarında yapılan düđünler, günümüzde 3 ya da

4 saat süreli olarak düđün salonlarında yapılmaktadır.

**Yukarıdaki parçaya göre, aşağıdaki yargılardan hangisine ulaşılır?**

- A) Düđünlerde çikolata getirmenin zorunlu olduđuna
- B) Düđünlerdeki âdetlerimizin zamanla değıştiđine
- C) Erkek tarafının gümüş tepsi ile kız istemesi gerektiđine
- D) Güllü, fıstıklı ve bademli lokumların çikolatanın yerini aldıđına

**18)** Sosyal bilgiler öğretmeni' Manisa řehrini Tanıyorum'adlı proje ödevini öğrencilerine vermiřtir. 5.sınıf öğrencisi Ela ise ödevinde řu konulara yer vermiřtir.

- 18.yüzyıl Osmanlı kültürünü yansıtan iki katlı ahřap Kula Evleri.
- Keçecilik,halıcılık ve çömlekçilik faaliyetleri.
- Manisa kebabı,yaprak sarma,kapama,odun köfte gibi eřsiz lezzetler.

**Buna göre Ela'nın ödevinde aşağıdakilerden hangisine yer vermemiřtir?**

- A) Yöresel kıyafetler
- B) El sanatları
- C) Mimari
- D) Yöresel yemekler

**19)** Misafirperverlik misafire değer vermek,onu iyi ağırlamak demektir. Bizim toplumumuzda misafir çok kıymetlidir. Misafirin ağırlanması için elde avuçta olmasa da mutlaka bir řeyler yapılır ve misafirin gönlü hoş tutulur.

Buna göre

- I. Misafire ikramda bulunmak
- II. Misafiri evin en güzel odasında ağırlamak
- III. Misafirin yatacađı yerin temiz olmasını sağlamak

**davranışlarından hangisi va da hangileri misafirperverlik ögemize uygundur?**

- A) Yalnız I.
- B) I ve II.
- C) II ve III.
- D) I,II ve III.

**20)** řehrimize yeni taşınan komřumuzun daveti üzerine ailecek misafirliđe gittik. Yemek hazırlanıp sofraya oturduğumuzda yemekler alıştığımız tatlardan farklı olduđunu gördüm.

**Anlatılana göre aşağıdakilerden hangisi söylenebilir?**

- A) Evde yaptıkları yemekleri daha güzeldir.
- B) Komřularının yemeklerini beğenmemiřtir.
- C) Yöreler arasında kültürel farklılıklar vardır.
- D) Bütün yörelerin yemek kültürü aynıdır.

## DİN KÜLTÜRÜ VE AHLAK BİLGİSİ

ÜNİTE: RAMAZAN VE ORUÇ

1.BÖLÜM:RAMAZAN ORUCU VE ÖNEMİ

KAZANIM 1: RAMAZAN AYI VE ORUCUN ÖNEMİNİ FARK EDER

### KONU ÖZETİ

Oruç, Allah'ın rızasını kazanmak için tan yerinin ağarmasından başlayarak güneş batıncaya kadar gün boyu yemek yemekten ve içmekten uzak durarak yapılan bir ibadettir.

Akıllı,sağlıklı ve ergenlik çağına gelmiş her Müslümanın yapması farz bir ibadettir.

Rabbimiz buyuruyor ki: "Ey iman edenler! Allah'a karşı gelmekten sakınmanız için oruç, sizden öncekilere farz kılındığı gibi size de farz kılındı"

Yüce Allah'ın kelamı olan Kuran-ı Kerim,610 yılının Ramazan ayının Kadir gecesinde Mekke'de Peygamberimize vahyedilmeye başlamıştır. Bu yüzden Ramazan ayına "Kur'an ayı" denir.

Oruç tutarak Rabbimize karşı kulluk görevimizi yerine getirmenin huzurunu yaşarız.Sabretmeyi öğrenir, irademizi güçlendiririz.

Ramazan orucu dışında başka oruçlar da vardır.

Kaza orucu: Ramazanda geçici bir hastalığı bulunan veya yolculuk edenler oruçlarını tutmayabilirler. Ancak bu kişiler ilk fırsatta tutamadıkları gün sayısı kadar oruç tutmalıdırlar. Bu oruca kaza orucu denir.

Kefaret orucu: Ramazan ayında, geçerli bir mazereti olmadan başlamış olduğu orucu sebepsiz yere bozan bir kimse, iki ay bir gün ara vermeden oruç tutmalıdır. Bu oruca kefarete orucu denir.

**Nafile oruç:** Ramazan ayı dışında herhangi bir zamanda Allah'ın(cc) rızasını kazanmak amacıyla tutulan oruçtur.

**Adak orucu:** Bir işimizin olması veya bir dileğimizin yerine gelmesi durumunda, Allah(cc) rızası için tutmaya söz verdiğimiz oruçtur.

## BAZI KAVRAMLAR

**Farz:** Yapılması Allah(cc) tarafından kesin olarak emredilen fiil ve davranışlara denir.

**Vacip:** Yapılması Allah(cc) tarafından emredilen ancak farz kadar kesin olmayan fiil ve davranışlardır.

**Sünnet:** Peygamberimiz tarafından yapılan ve yapılması tavsiye edilen söz, fiil ve davranışlara denir.

**Müstehap:** Peygamberimiz'in bazen yaptığı bazen terk ettiği fiil ve davranışlara denir.

1-)

I-)Ramazan ayında tutulur

II-)Yeme-içme davranışlarından uzak durmaktır

III-)Bedenle yapılan bir ibadettir

**Yukarıda anlatılan ibadet hangisidir?**

A-)Namaz B-)Hac

C-)Oruç D-)Zekat

**2-)Razaman orucu kimlere farz değildir?**

A-)Ergenlik çağına girmemiş Müslümanlara

B-)Akıllı olan Müslümanlara

C-)Oruç tutmasına engel bir durumu olmayan Müslümanlara

D-)Sağlıklı olan Müslümanlara

**3-)Bir işimizin olması veya bir dileğimizin yerine gelmesi durumunda, Allah rızası için tutmaya söz verdiğimiz oruca ne denir?**

A-)Kaza orucu

B-)Nafile orucu

C-)Adak orucu

D-)Ramazan orucu

**4-)Aşağıdakilerden hangisi orucun insana kazandırdığı davranışlardan biri değildir?**

A-)İnsana verilen nimetlerin değerini anlamayı sağlar

B-)İnsanı kötülüklerden sakındırır

C-)Müslümanların birlik ve dayanışma içinde olmalarını sağlar

D-)İnsanların yeni yerler görüp kültürlerini geliştirmelerini sağlar

**5-)"Oruç sabrın yarısıdır." Verilen Hadis-i şerifte orucun neye katkı sağladığı vurgulanmıştır?**

A-)Güler yüzlü olmaya

B-)Sabırlı olmaya

C-)Sağlıklı olmaya

D-)Merhametli olmaya

**6-)Ramazan ayı dışında sevap kazanmak amacıyla tutulan oruçlara ne ad verilir?**

A-)Nafile orucu

B-)Adak orucu

C-)Ramazan orucu

D-)Kaza orucu

**7-)**”Ey iman edenler!Allah’a karşı gelmekten sakınmanız için oruç, sizden öncekilere farz kılındığı gibi size de farz kılındı.”

Bu ayette de görüldüğü gibi oruç, farz bir ibadettir.

**“Farz” kavramının anlamı için aşağıdakilerden hangisi söylenebilir?**

A-)Allah’ın kesin olarak yapmamızı istediği davranışlardır

B-)Peygamberimiz’in yapmamızı istediği davranışlardır

C-)Allah’ın yapmamamızı istediği davranışlardır

D-)İnsanların bizden yapmamızı istediği davranışlardır

**8-)Bazı davranışlarımız orucu bozmasa da değerini düşürür.Aşağıda verilenlerden hangisi oruçluya yakışmayan davranışlardan biridir?**

A-)Selam vermek

B-)Doğru sözlü olmak

C-)Güzel ahlak sahibi olmak

D-)Anne sözü dinlememek

**9-)Oruç tutarken sadece yemekten ve içmekten uzak durmayız.Aynı zamanda kötü davranışlardan da uzak dururuz.Böylece tuttuğumuz oruç ahlakımızın güzelleşmesine vesile olur.**

**Aşağıdakilerden hangisi oruç tutan bir kişiden beklenmeyecek bir davranıştır?**

A-)Cömert olmak

B-)Yalan söylememek

C-)Dedikodu yapmak

D-)Sabırlı olmak

**10-)Sürekli hastalık gibi,oruç tutmalarına engel olacak bir mazereti bulunanlar tutamadıkları her oruç için bir fakiri doyurmalı veya buna karşılacak kadar para vermelidir.**

**Yukarıda tanımı verilen kavram aşağıdakilerden hangisidir?**

A-)Zekat

B-)Sahur

C-)Fidye

D-)İmsak

**11-)İnsan acıktığı halde yememeyi, susadığı halde su içmemeyi öğrenir. Konuşmalarında dikkatli olmayı, insanları incitmemeyi bu ayda öğrenir.Dolayısıyla oruç insana birçok konuda dirençli olmayı öğretir.**

**Yukarıda verilen metinde hangi kavramlarından ilişkisinden bahsedilmiştir?**

- A-)Oruç-sabır ilişkisi
- B-)Oruç-açlık ilişkisi
- C-)Oruç-nezaket ilişkisi
- D-)Oruç-susuzluk ilişkisi

**12-)Ramazan ayı ile ilgili,**

- I-)Ramazan oruç ayıdır
- II-)Ramazan Kuran-ı Kerim ayıdır
- III-)Ramazan yardımlaşma ayıdır

**Verilenlerden hangisi doğrudur?**

- A-)I ve II
- B-)II ve III
- C-)I ve III
- D-)I-II ve III

**13-)Ramazan ayında tutulamayan oruçlar daha sonra ..... edilir.**

**Cümledeki boşluğa hangi kavram yazılırsa doğru olur?**

- A-)Kefaret
- B-)Ceza
- C-)Kaza
- D-)Fitre

**14-)Ramazan orucuyla ilgili aşağıdakilerden hangisi doğrudur?**

- A-)Ramazanda oruç tutmak farz kılınmıştır
- B-)Sadece Ramazan ayında oruç tutulabilir
- C-)Ramazan orucu sadece erkeklere farz kılınmıştır
- D-)Oruç Kuran-ı Kerim’de yer almaz

**15-)Aşağıdakilerden hangisi oruca başlama zamanına verilen addır?**

- A-)İmsak
- B-)Teravih
- C-)Yatsı
- D-)İftar

**16-)**Her yıl Ramazan ayı geldiğinde ülkemizde işlenen suç oranlarında azalma gözlenmektedir.Bu durum Peygamberimiz'in "Oruç,kötülüklerden koruyan bir kalkandır."hadis-i şerifini doğrulamaktadır.

**Bu metinde orucun hangi yönüne vurgu yapılmıştır?**

A-)İnsanları kötülüklerden uzaklaştırdığına

B-)Farz bir ibadet olduğuna

C-)Belirli bir zaman diliminde yapıldığına

D-)Cömert olmamız gerektiğine

**18-)**Kişinin Ramazan ayında,geçerli bir mazereti olmadan başlamış olduğu orucun sebepsiz yere bozan bir kimse,iki ay bir gün ara vermeden tuttuğu oruca ne denir?

A-)Nafile orucu

B-)Adak orucu

C-)Kaza orucu

D-)Kefaret orucu

**19-)Yapılması Allah(cc) tarafından kesin olarak emredilen fiil ve davranışlara ne ad verilir?**

A-)Vacip

B-)Farz

C-)Müstehap

D-)Sünnet

**17-)Ramazan ayı ile ilgili aşağıdakilerden hangisi söylenemez?**

A-)İnsanların manevi duygularını yoğun olarak yaşadığı aydır

B-)Birlik ve beraberliğin arttığı bir aydır

C-)İnsanların çalışmayı bırakıp dinlendiği bir aydır

D-)Açlığın ne demek olduğunu yaşayarak anladığımız bir aydır

**20-)Peygamberimiz'in bazen yaptığı bazen terk ettiği fiil ve davranışlara Müstehap denir.Aşağıdakilerden hangisi müstehap bir davranıştır?**

A-)Zekat vermek

B-)Adak orucu tutmak

C-)Sıcak mevsimlerde öğle namazını biraz geciktirmek

D-)Ramazan orucu tutmak



## İNGİLİZCE

## UNIT 4 : MY DAILY ROUTINE

**FUNCTIONS AND USEFUL LANGUAGE:**

- 1- NAMING NUMBERS
- 2-TELLING THE TIME
- 3-DESIBING WHAT PEOPLE DO REGULARLY

## ENGLISH NUMBERS

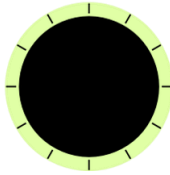
0 zero	10 ten	20 twenty	30 thirty
1 one	11 eleven	21 twenty-one	31 thirty-one
2 two	12 twelve	22 twenty-two	32 thirty-two
3 three	13 thirteen	23 twenty-three	33 thirty-three
4 four	14 fourteen	24 twenty-four	34 thirty-four
5 five	15 fifteen	25 twenty-five	35 thirty-five
6 six	16 sixteen	26 twenty-six	36 thirty-six
7 seven	17 seventeen	27 twenty-seven	37 thirty-seven
8 eight	18 eighteen	28 twenty-eight	38 thirty-eight
9 nine	19 nineteen	29 twenty-nine	39 thirty-nine
40 forty	50 fifty	60 sixty	70 seventy
41 forty-one	51 fifty-one	61 sixty-one	71 seventy-one
42 forty-two	52 fifty-two	62 sixty-two	72 seventy-two
43 forty-three	53 fifty-three	63 sixty-three	73 seventy-three
44 forty-four	54 fifty-four	64 sixty-four	74 seventy-four
45 forty-five	55 fifty-five	65 sixty-five	75 seventy-five
46 forty-six	56 fifty-six	66 sixty-six	76 seventy-six
47 forty-seven	57 fifty-seven	67 sixty-seven	77 seventy-seven
48 forty-eight	58 fifty-eight	68 sixty-eight	78 seventy-eight
49 forty-nine	59 fifty-nine	69 sixty-nine	79 seventy-nine
80 eighty	90 ninety	<b>LARGE NUMBERS</b> 100 one hundred      1,000 one thousand 101 one hundred and one      2,000 two thousand 200 two hundred      10,000 ten thousand 300 three hundred      100,000 one hundred thousand 400 four hundred      1,000,000 one million 500 five hundred      10,000,000 ten million 600 six hundred      123,456,789 700 seven hundred      one hundred and twenty-three million, 800 eight hundred      four hundred and fifty-six thousand, 900 nine hundred      seven hundred and eight-nine.	
81 eighty-one	91 ninety-one		
82 eighty-two	92 ninety-two		
83 eighty-three	93 ninety-three		
84 eighty-four	94 ninety-four		
85 eighty-five	95 ninety-five		
86 eighty-six	96 ninety-six		
87 eighty-seven	97 ninety-seven		
88 eighty-eight	98 ninety-eight		
89 eighty-nine	99 ninety-nine		

## TELLING THE TIME

İngilizce'de saat sorulurken;

"What time is it?"

"What is the time?" ile sorulur.



o'clock

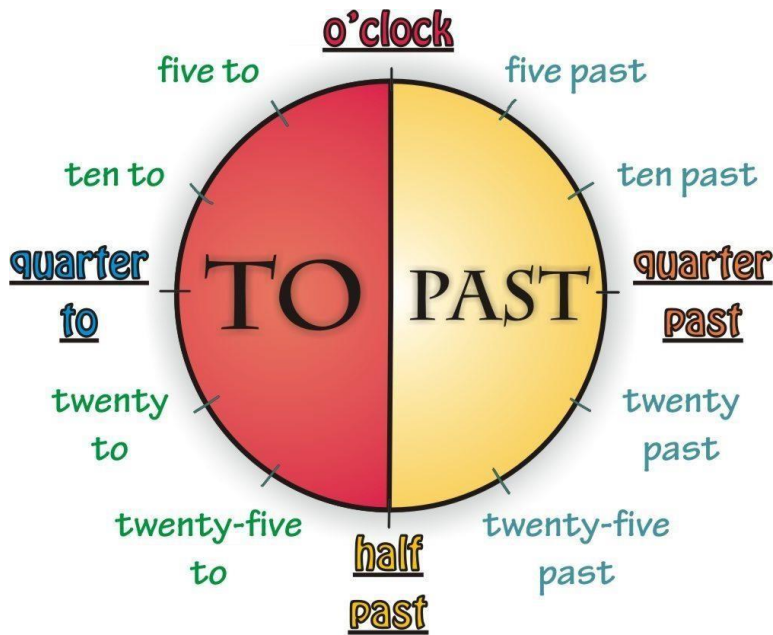


quarter

half



to: kala



past: geçe


Examples:

❖ **What time is it? – What is the time? (Saat kaç?)**

- It is one **o'clock**. (saat 1.)
- It is **five past** one. (saat 1'i 5 geçiyor.)
- It is **quarter past** one. (saat 1'i çeyrek geçiyor.)
- It is **twenty-five past** one. (saat 1'i 25 geçiyor.)



- It is **half past** one. (saat 1 buçuk.)
- It is **twenty to** two. (saat 2'ye 20 var.)
- It is **quarter to** two. (saat 2'ye çeyrek var.)
- It is **ten to** two. (saat 2'ye 10 var.)
- It is two **o'clock**. (saat 2.)



1) It's .....

- A) It is a quarter to eight
- B) It is a quarter past nine
- C) It is a quarter to nine
- D) It is a quarter past eight

2) What time is it?

- A) It's quarter to eight.
- B) It's four o'clock.
- C) It's forty-five past eight.
- D) It's quarter to seven



3) Which one is true?

- A) thirteen
- B) forty- six
- C) twenty
- D) thirty



4) I.....

- A) wash my face at half past six.
- B) get up at a quarter past six in the morning.
- C) have lunch at school at twelve o'clock.
- D) drink milk everyday.



5) Eren : ..... ?

Esin : It is quarter past eight

- A) What time do you get up ?
- B) What time is it ?
- C) What do you job start?
- D) What is your job?



6) Which one is true?

- A) thirty one
- B) forty-eight
- C) a hundred
- D) one thousand



7) Ahmet..... after breakfast every day.

- A) goes to school
- B) watches TV
- C) gets on the bus
- D) brushes teeth



8) Hakan : What do you do at the weekend?

Halit : I usually - - - .

- A) play board games
- B) listen to music
- C) go on the net
- D) visit my grandparents





9) What is the time?

- A) It's quarter to seven
- B) It's quarter past six.
- C) It's half past seven.
- D) It's quarter to nine



10)  $24+36=?$

- A) fifty- eight
- B) sixty
- C) seventy
- D) sixty-two

11)  $3 \times 18 = ?$

- A) eighty- three
- B) thirty-eight
- C) twenty-one
- D) fifty-four

12) I - - - - at eleven p.m.

- A) get up
- B) wake up
- C) go to bed
- D) leave home



13) We have - - - - at half past eight every morning.

- A) lunch
- B) dinner
- C) a shower
- D) breakfast



14) **George** : Do you like music?

**Edward** : Of course. I - - - - after school.

- A) write a diary
- B) do my homework
- C) attend a piano course
- D) go to bed early

15) I - - - - after breakfast.

- A) get ready for school
- B) visit my grandparents
- C) take care of the plants
- D) play with my friends



16) **Clara** : What time do you - - - - back home?

**Mary** : At half past four.

- A) play
- B) come
- C) spend
- D) tell

17) **Diana** : What does Sarah do after school?

**Betty** : She - - - . She wants to learn “Horon”.

- A) meets with friends
- B) rests for a while
- C) gets on the school bus
- D) goes to dance course



Hi! I'm William. I get up early in the morning. I have breakfast with my parents at ten to eight. Then, I go to school by school bus at a quarter to nine. My school starts at a quarter past nine. I have lunch at half past twelve in the school canteen. My classes finish at a quarter past three. I arrive at my home at a quarter to four. I do my homework until five. I have dinner at six o'clock. After dinner, I read a book and write my diary. I go to bed at half past nine.

18)

- .....
- |                  |                |
|------------------|----------------|
| • Have breakfast | • Get up       |
| • Brush teeth    | • Go to school |
| • Come home      | • Do homework  |
| • Go to bed      |                |

**What is the best title for the list?**

- A) Days Of The Week
- B) Daily Routines
- C) Traditional Dances
- D) Family Members

19) **My brother** - - - - before he goes to bed.

- A) does his homework
- B) spends a week
- C) plays board games
- D) meets her friends



20) Which of the following **DOES NOT** take place in the text?

A)



B)



C)



D)



## 5. SINIF CEVAP ANAHTARI

## TÜRKÇE

1. A
2. A
3. B
4. B
5. D
6. A
7. B
8. B
9. C
10. B
11. A
12. B
13. D
14. C
15. C
16. B
17. C
18. B
19. D
20. C

## MATEMATİK

1. C
2. C
3. A
4. B
5. D
6. B
7. D
8. C
9. A
10. B
11. D
12. D
13. D
14. D
15. B
16. B
17. A
18. D
19. C
20. B

## FEN BİLİMLERİ

1. A
2. C
3. A
4. D
5. D
6. C
7. A
8. C
9. A
10. B
11. A
12. B
13. C
14. C
15. C
16. D
17. D
18. D
19. C
20. D

## SOSYAL BİLGİLER

1. D
2. A
3. B
4. C
5. C
6. A
7. A
8. D
9. C
10. B
11. D
12. D
13. D
14. B
15. A
16. C
17. B
18. A
19. D
20. C

## İNGİLİZCE

1. C
2. B
3. D
4. A
5. B
6. C
7. D
8. C
9. A
10. B
11. D
12. C
13. D
14. C
15. A
16. B
17. D
18. B
19. A
20. D

## DİN KÜLTÜRÜ

1. C
2. A
3. C
4. D
5. B
6. A
7. A
8. D
9. C
10. C
11. A
12. D
13. C
14. A
15. A
16. A
17. C
18. D
19. B
20. C

## EMEĞİ GEÇEN ÖĞRETMENLERİMİZ

**AR-GE EKİBİ**

**MEHMET SALİH YILMAZ**  
**MÜDÜR YARDIMCISI**

**HACER ARMAĞAN**  
**BİLİŞİM TEKNOLOJİLERİ ÖĞRETMENİ**

**YUNUS İLHAN**  
**TÜRKÇE ÖĞRETMENİ**

**RECEP GÜZEL**  
**MATAMATİK ÖĞRETMENİ**

**KADİR YEŞİLBAŞ**  
**FEN BİLİMLERİ ÖĞRETMENİ**

**HAKAN ERDOĞAN**  
**SOSYAL BİLGİLER ÖĞRETMENİ**

**M SEMİH AKBAY**  
**İNGİLİZCE ÖĞRETMENİ**

**MERYEM SEVİN**  
**DİN KÜLT. VE AHLAK BİLGİSİ ÖĞRETMENİ**