

5.SINIF 5. ÜNİTE ÇALIŞMA FASİKÜLÜ

SOSYAL BİLGİLER

Bu kitapçık GÜMÜŞHANE Ölçme Değerlendirme Merkezi
tarafından hazırlanmıştır.



1.



Gümüşhane Doğu Anadolu ve Karadeniz bölgeleri arasında geçiş noktası olan şirin bir ilimizdir. İl, ismini zengin gümüş madeni yataklarından almıştır. Gümüşhane'de yaygın olarak büyük ve küçükbaş hayvancılık ile arıcılık faaliyeti yapılmaktadır. İl, tarihi ipek yolu üzerinde yer almasından dolayı tarihsel süreçte önemli bir yerleşim alanı olmuştur. Bu yüzden tarihi ve doğal güzelliklerin yaygın olduğu bir ilimizdir. Karaca Mağarası, Gümüşhane Evleri, Tomara Şelalesi, Satala Antik Kenti, Torul Kalesi gibi daha birçok tarihi ve doğal güzellik Gümüşhane'yi turizm açısından da önemli bir yer haline getirmektedir.

Verilen paragraftan hareketle aşağıda verilen bilgilerden doğru olanların başına “D”, yanlış olanların başına “Y” yazınız.

()	Gümüşhane bulunduğu konum itibariyle iki bölgeyi birbirine bağlamaktadır.
()	Gümüşhane'de en önemli ekonomik faaliyet balıkçılıktır.
()	Gümüşhane tarihi ticaret yolları üzerinde yer almaktadır.
()	Gümüşhane'de yalnızca turizm faaliyeti yapılmaktadır.
()	Maden kaynağı bakımından Gümüşhane önemli bir yere sahiptir.

2. Çevremizde meydana gelen ekonomik faaliyetler sosyal hayatımıza, nüfusa, yerleşmeye, eğitime ve kültüre etki etmektedir. Ahmet'in bulunduğu bölgede de her geçen gün büyük fabrikalar açılmaktadır. Böylece sanayinin gelişmesi ile bir takım değişiklikler yaşadığı gözlemlenmektedir.

Buna göre sanayinin bölgede meydana getirdiği gelişmelerle ilgili verilen cümlelerde “artış/azalış” sözcüklerinden uygun olanları yuvarlak içine alarak cümleleri tamamlayınız.

İş imkanlarında **artış/azalış** yaşanırken işsizlik oranı azalır.

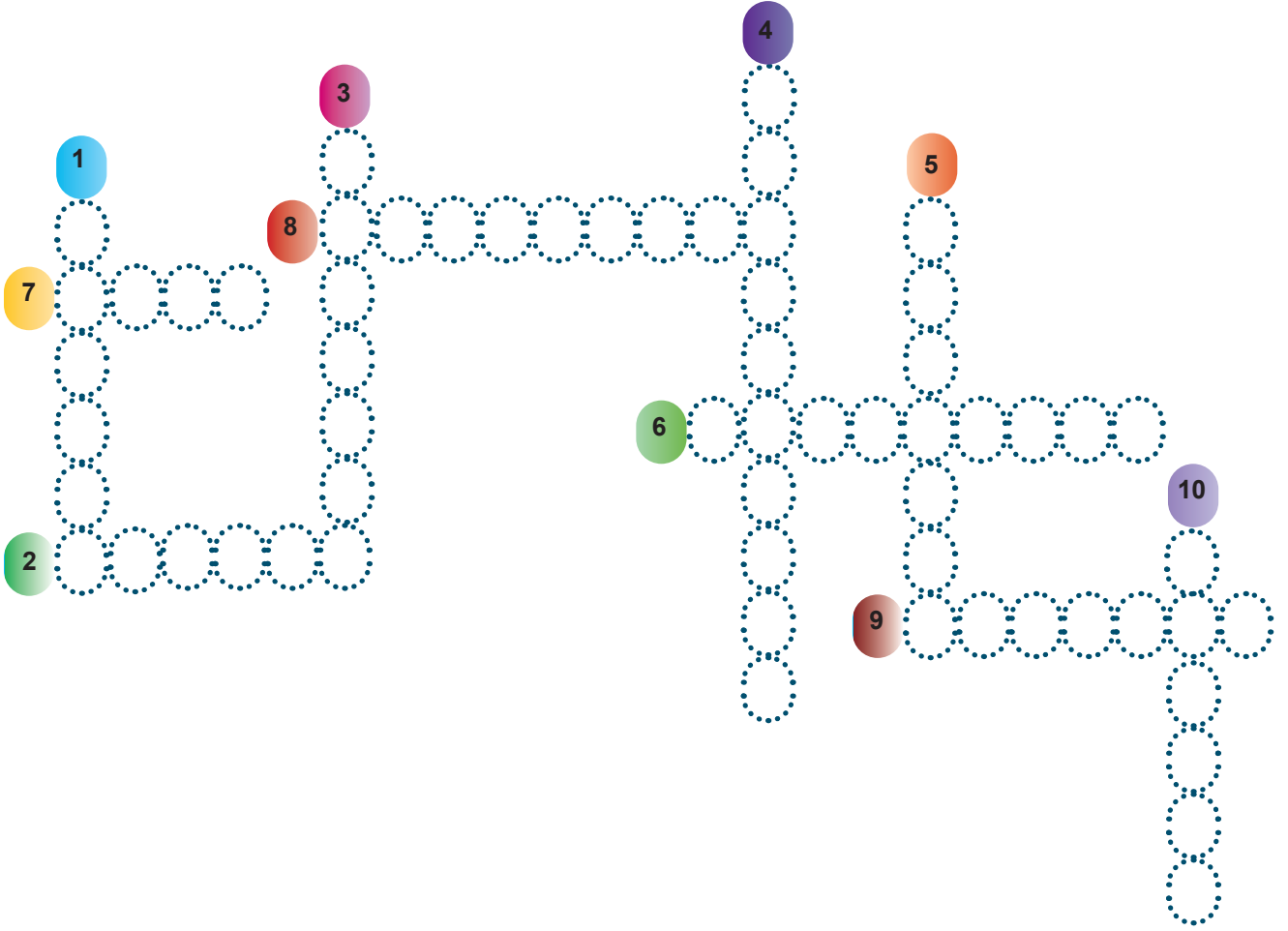
Bölge nüfusunun artması ile çok katlı binaların sayısında **artış/azalış** yaşanır.

Araçların sayısında yaşanacak olan **artış/azalış** ulaşımı olumsuz etkiler.

Fabrikalarda filtre kullanılmaması çevre kirliliğinde **artış/azalış** sebep olur.

Dışarıya verilen göç miktarında **artış/azalış** görülür.

3. Aşağıda verilen bulmacayı çözünüz.



- 1- Eğitim, sağlık, ulaşım ve bankacılık gibi faaliyet alanlarını kapsayan sektördür.
- 2- Bacasız sanayi olarak da bilinen sektördür.
- 3- Üretilen malların tüketicilere ulaştırılma aşamasıdır.
- 4- Ülkemizin denizlerinde, tatlı su göllerinde ve akarsularında yapılan hayvancılık türüdür.
- 5- Bir ülkenin başka bir ülkeye mal satmasına denir (Dış Satım).
- 6- Ülkemizin tahıl ambarı olarak da bilinen bölgesidir.
- 7- Dut yapraklarını yiyerek beslenen ve ipeği koza haline getirip daha sonra kozaların yünlü dokuma sanayisinde kullanıldığı hayvancılık sektörüdür. (..... BÖCEKCİLİĞİ)
- 8- Ambalajında, etiketinde veya kullanma kılavuzunda yer alan veya satıcı tarafından vaat edilen özelliklere aykırı olan, eksiklik içeren mal ve hizmetlere denir.
- 9- Üretilen malın kullanılması veya hizmetten yararlanılmasına denir.
- 10- Tarımsal üretim yapan ve geçimini tarımla sağlayan kişilere denir.

4.

TÜKETİM

Üretilen ürünlerin ihtiyacı olanlar tarafından satın alınıp kullanılmasıdır.

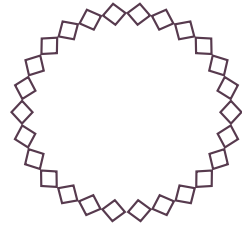
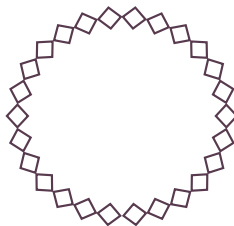


DAĞITIM

Üretilen ürünlerin çeşitli yollarla ihtiyacı olanlara ulaştırılmasıdır.

ÜRETİM

Ekonomik faaliyetler sonucu yeni bir ürün elde etmedir.

Buna göre aşağıdaki görselin altındaki yerlere ürünün hangi aşaması olduğunu yazınız.



5. Giriřimci insana ait özelliklerin numaralarını kutucuklara yazınız.



1. Sabit fikirlidir.

2. Meraklıdır.

3. İyi bir gözlemcidir.

4. Hayal gücü gelişmiştir.

5. Özgüvene sahiptir.

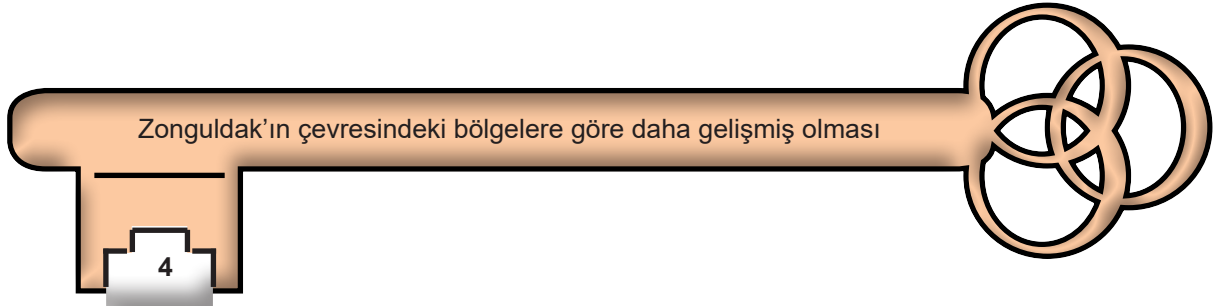
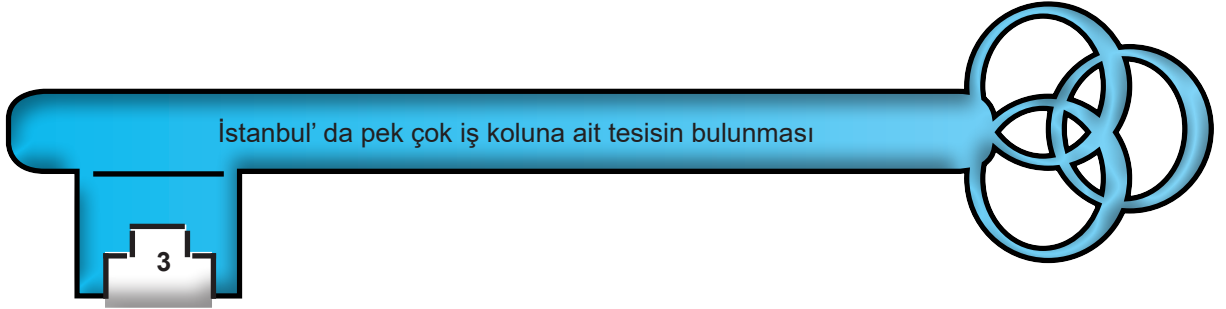
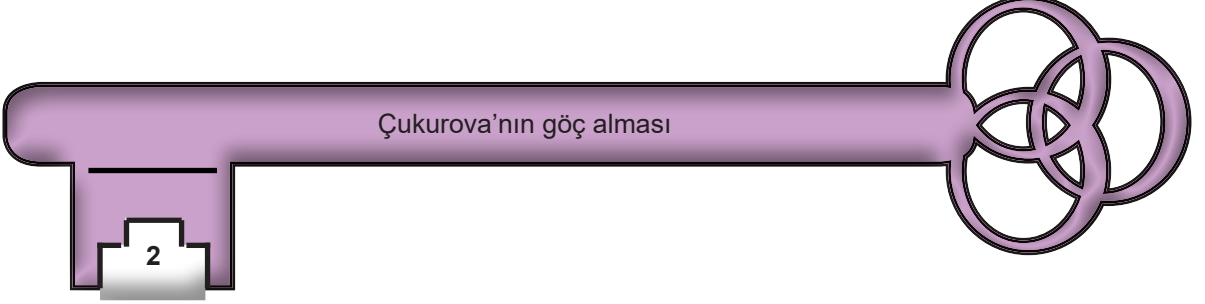
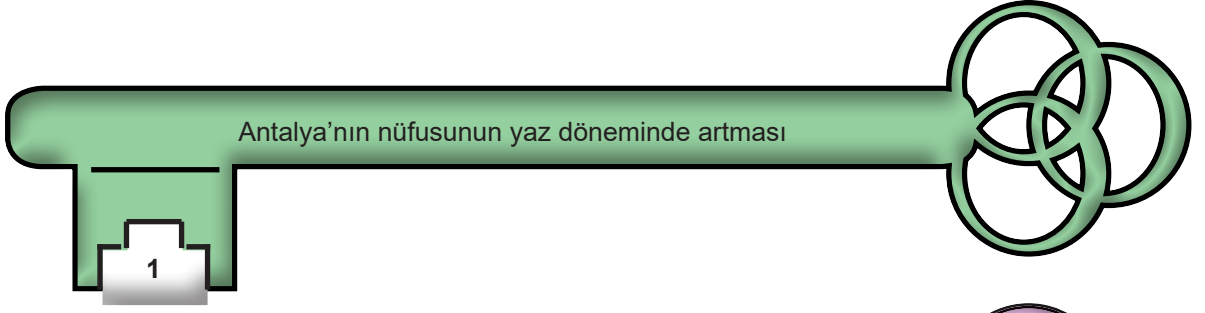
6. Planlı olmaktan sakınır.

7. Yeniliklere açıktır.

8. Kararlı ve azimlidir.

9. Çalışkandır.

6. Anahtarlarda yer alan ifadelerin numaralarını, kilitlerde yer alan etki alanlarından ilgili olanı ile eşleştiriniz.



7. Aşağıda verilen görselleri ilgili ekonomik alanlarla eşleştiriniz.



TARIM (1)



HAYVANCILIK (2)



MADENCİLİK (3)



SANAYİ (4)

TURİZM (5)

8.

uzun yol
şoförlüğü

avukatlık

emlakçılık

otel işletmeciliği

maden mühendisliği

Yukarıda verilen meslekleri verilen ifadelere uygun olacak şekilde boşluklara yazınız.

- ◆ Turizm faaliyetlerinin çeşitlilik ve yoğunluk gösterdiği yerlerde en fazla ihtiyaç duyulan mesleklerdendir.
- ◆ Yeraltı kaynaklarının bol olduğu yerlerde yapılabilecek uygun mesleklerden biridir.
- ◆ Sanayi ve ticaretin geliştiği yerlerde bulunan tesislerde üretilen ürünleri ihtiyacı olanlara ulaştıran meslek dır.
- ◆ İnsanların temel ihtiyaçlarından biri olan barınma alanında hizmet veren meslektır.

9. Sanayi tesislerinde işleme uğrayarak günlük hayatımızda tükettiğimiz birçok ürün bulunmaktadır. **İşleme uğrayan ürünlerden birine örnek vererek, geçtiği işlemlerin aşamalarını anlatınız.**



10. Bir girişimci aşağıda verilen ekonomik faaliyetlere yatırım yapmak istiyor.
Hangi bölgede hangi ekonomik faaliyeti yaparsa doğru bir yatırım yapmış olur?
İlgili kutucuklara “✓” işareti koyunuz.

	Karadeniz	İç Anadolu	Doğu Anadolu	Akdeniz
Deniz Turizmi				
Kerestecilik				
Büyükbaş Hayvancılık				
Buğday Tarımına Dayalı Sanayii				

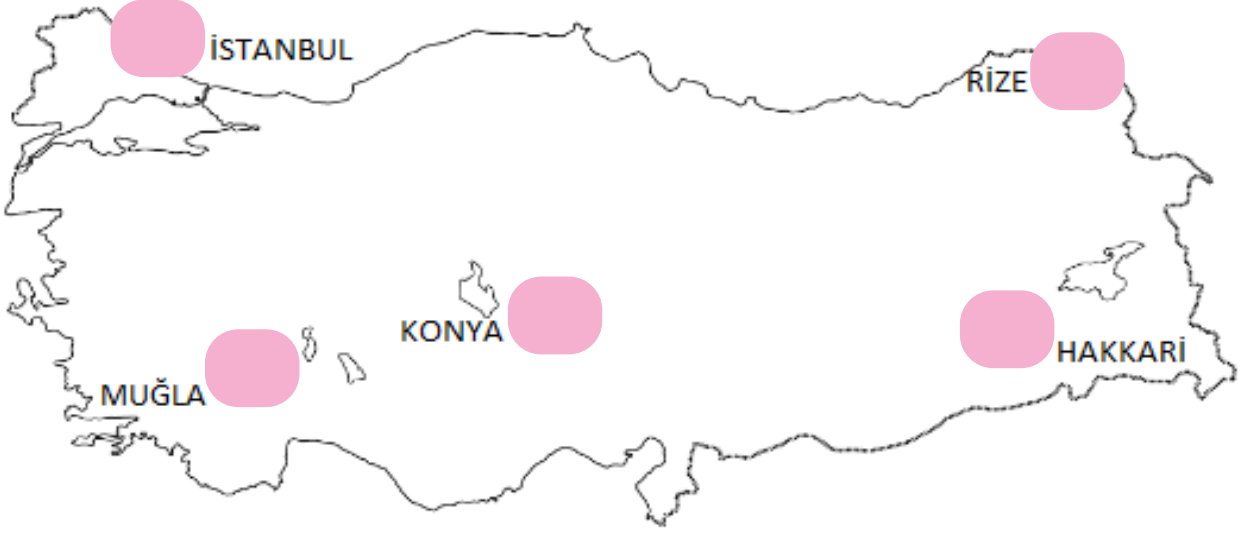
11. Kutucukların yanında harfleri karışık olarak verilen kavramları, düzelterek kutucuklara yerleştiriniz. Numaralanmış kutucuklardaki harfleri kullanarak şifreyi çözünüz.

<div>1</div>	<div>MRETİÜ</div>
<div>3</div>	<div>NASAYİ</div>
<div>2</div>	<div>KETİTÜCİ</div>
<div>6</div>	<div>NOMİEKO</div>
<div>5</div>	<div>METZHİ</div>
<div>4</div>	<div>SYAOSL</div>

ŞİFRE KUTUSU:

1	2	3	4	5	6

12.



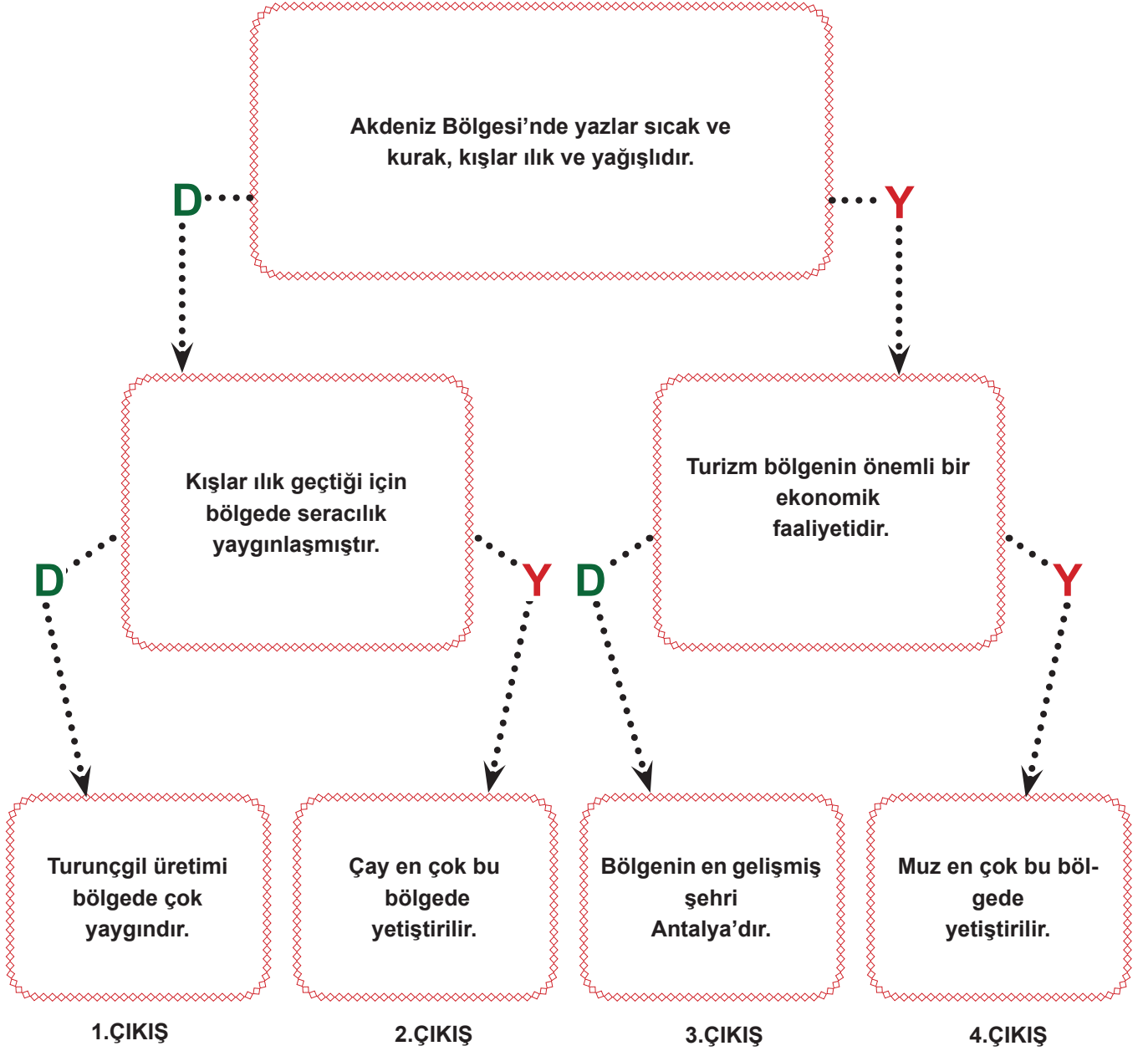
Yukarıdaki Türkiye haritasında belirtilen illerde yapılabilecek ekonomik faaliyetlerin numaralarını boş olan kutucuklara yazınız.

1. YAZ TURİZMİ	2. SANAYİ	3. ÇAY TARIMI
4. ARICILIK	5. KÜÇÜKBAŞ HAYVANCILIK	

13. Aşağıdaki tabloda verilen ürünlerin ilgili olduğu kutucuğa "X" işareti koyunuz.

Ürünler	Hammadde	İşlenmiş Madde
Şeker		
Bardak		
Patates		
Reçel		
Koltuk		
Ayçiçek yağı		
Peynir		
Elma		
Salça		

14. Aşağıda verilen birbiriyle bağlantılı cümleler arasındaki D “Doğru”, Y “Yanlış” ifadelerden yola çıkarak, ekonomik faaliyetler hakkında yeterli bilgiye sahip olan bir öğrenci kaçınıcı çıkışa ulaşır ?



15. Selma Öğretmen öğrencilerine meslekleri tanıtmak için çeşitli meslek üyelerinden seçtiği kişileri sınıfa davet etmiştir. Her davetli mesleğinin adını vermeden, mesleğinin özelliklerini sınıfta anlatarak öğrencilerden bilgi verdikleri ve üyesi oldukları meslekleri bulmalarını istemiştir.

Davetlilerin bilgi verdikleri mesleklerin adlarını kutucukların altına yazınız.

Yaşadığımız çevreyi daha güzel hale getirmek için projeler hazırlarım. Evler, binalar, okullar gibi pek çok yaşam alanının çizimini yaparım.

İnsanlar birbiriyle ve devletle olan ilişkilerinde ortaya çıkan sorunlarda benim yardımına ihtiyaç duyarlar. Ben bir nevi hukuki konularda insanların temsilcisiyim.

Çevremizdeki tüm hayvanların doğumu, gelişimi, sağlığı ile ilgilenen uzmanım. Bana halk arasında "Baytar"adı da verilir.

Dünyada, ülkemizde ve çevremizde yaşanan gelişmelerden insanların haberdar olmasını sağlarım. Bu işi yaparken tarafsız olmaya özen gösteririm.

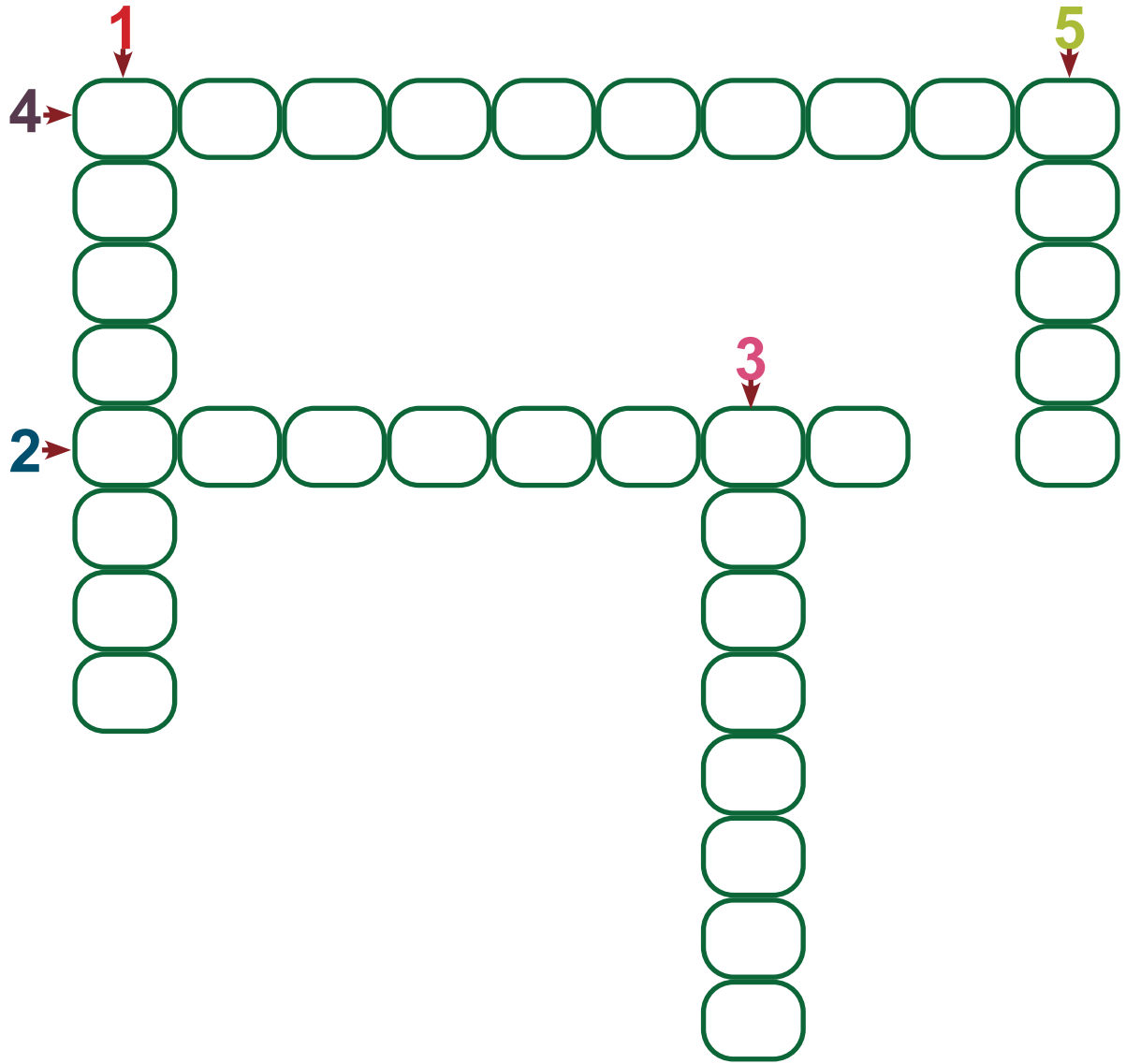
16.

HAMMADDE	FATURA	GİRİŞİMCİ
GARANTİ	ALO 175	HAYVANCILIK
KONSERVE	İŞLENMİŞ MADDE	ALO 155

Yukarıdaki kutucuklarda bulunan ifadeleri, cümlelerde verilen uygun boşluklara yerleştiriniz.

- ◆ Aldığımız bir ürün ya da hizmetle ilgili sorun yaşadığımızda hakkımızı aramamız içinalmamız gerekir.
- ◆ Bir ürün veya mal oluşturmak için gerekli maddelerin işlenmeden önceki doğal durumuna.....denir.
- ◆ Yeni iş alanları kurarak veya mevcut işleri geliştirerek mal veya hizmet üreten kişileredenir.
- ◆ Doğal maddelerin kesme, eritme gibi işlemlerden geçirilmesiyle elde edilen ürüne.....denir.
- ◆ Tüketiciler karşılaştıkları sorunlarla ilgili çözüm yollarını öğrenmek için.....hattını arayabilirler.

17. Aşağıdaki bulmacayı çözünüz.



1.Erzurum-Kars yöresinde yaz yağışlarından dolayı oluşan gür otlaklarda yapılan hayvancılık türüdür.

2.Karasal iklimin etkisiyle oluşan bozkırların hakim olduğu yerlerde yapılan hayvancılık türüdür.

3.Yeryüzü şekillerinin dağlık, engebeli ancak bitki çeşitliliğinin fazla olduğu yerlerde yapılan hayvancılık türüdür.

4.Ülkemizin denizlerinde, göllerinde ve akarsularında yapılan hayvancılık türüdür.

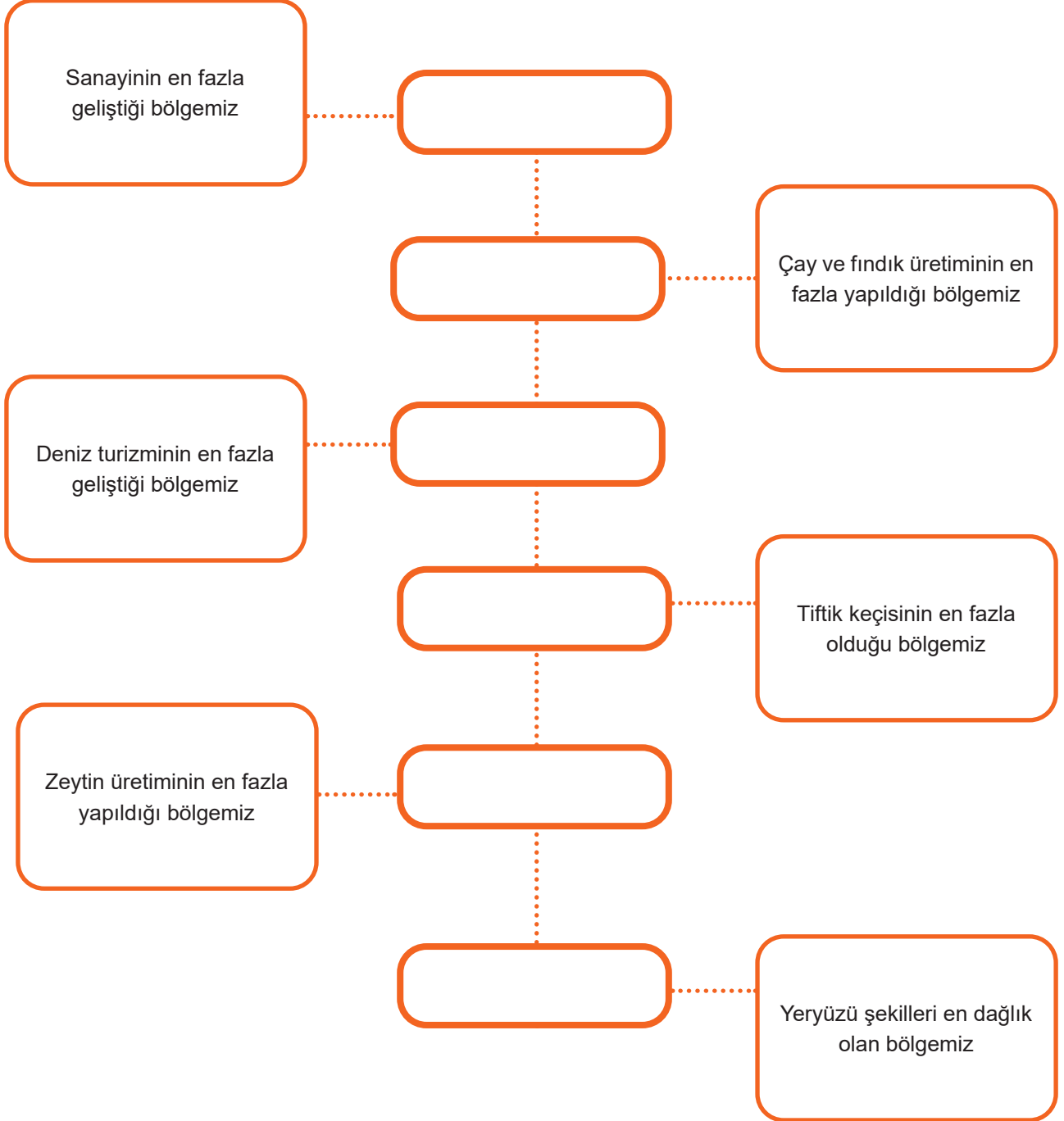
5.Nüfusun yoğun olduğu İstanbul, İzmir, Ankara, Bursa gibi şehirlerin çevresinde yapılan hayvancılık türüdür.

18. Aşağıdaki tabloda ekonomik sektörlere göre gelişen meslekler sıralanmıştır. Meslekleri ilgili olduğu sektörün karşısına gelecek şekilde tabloya işaretleyiniz.

	Ormancılık	Sanayi ve Ticaret	Turizm	Madencilik	Hizmet	Tarım ve Hayvancılık
Emlakçılık						
Turist Rehberliği						
Maden Mühendisliği						
Mobilyacılık						
Çobanlık						
Öğretmenlik						
Arıcılık						
Bankacılık						
Tüccarlık						

19. Özellikleri verilen bölgelerin adlarını ilgili kutucuklara yazınız.

Akdeniz	Karadeniz	Marmara	Ege	İç Anadolu	Doğu Anadolu	Güneydoğu Anadolu
---------	-----------	---------	-----	------------	--------------	-------------------



20. Aşağıda verilen görsellerin hangi ekonomik faaliyete ait olduğunu karşılarındaki kutucuklara yazınız.



Empty yellow rectangular box for writing the economic activity.

Empty light blue rectangular box for writing the economic activity.



Empty orange rectangular box for writing the economic activity.

Empty pink rectangular box for writing the economic activity.



Empty green rectangular box for writing the economic activity.


21. Aşağıda verilen bilgilerden doğru olanların başına “D”,yanlış olanların başına “Y” yazınız.




Karadeniz Bölgesi çay tarımının en çok yapıldığı bölgemizdir.



Her türlü ürün alım satım işine üretim denir.



Girişimci insanlar yeniliklere açıktır.



Bilinçli bir tüketici haklarını aramasını bilir.



Doğu Anadolu bölgesi yükseltisi fazla olduğu için yeraltı kaynakları bakımından zengindir.



Alışveriş öncesinde bütçe kontrol edilmelidir.




Alışveriş sırasında ürünün etiket fiyatı ile kasada ki fiyatı karşılaştırılmalıdır.



Alınan ürün ayıplı mal ise değişim veya iade yapılamaz.






Satın alınan bir ürün bozulduğunda garanti belgesi gösterilerek servisten ücretsiz tamir hakkı istenebilir.



Herhangi bir ürün satın alınırken ambalajının açılmamış veya yıpranmamış olmasına dikkat edilmelidir..

22. Aşağıdaki ürün-ham madde eşleştirmelerini yapınız.



23.

ZİRAAT
MÜHENDİSİ

POLİS

İŞÇİ

MAKİNE
MÜHENDİSİ

KİMYAGER

SERACILIK

BALIKÇI

DOKTOR

ÇİFTÇİ

AVUKAT

ÇOBAN

VETERİNER

Verilen sektörler ile alakalı meslekleri ilgili yerlere yazınız.

TARIM

SANAYİ

HİZMET

HAYVANCILIK

24. Bilinçli bir tüketici, satın aldığı bir ürünün ayıplı çıkması durumunda hakkını aramak için aşağıdaki kurumlardan hangilerine başvurabilir? Doğru olan kutucuklara “X “ işareti koyunuz.

 Tüketici Hakem Heyeti	 Gümrük ve Ticaret Bakanlığı	 Milli Eğitim Bakanlığı	 Tüketici Mahkemeleri
			

25. Aydınli bir iş adamı olan Zekai Bey, Aydın ve çevresinde yetiştirilen zeytini işleyebilmek için fabrika kurmuştur. İşlenen zeytinden elde edilen zeytinyağını İzmir limanına taşıyıp oradan da yurt dışına satmıştır. Verilen paragrafta ki cümleleri ilgili oldukları faaliyet alanlarının karşısına yazınız.

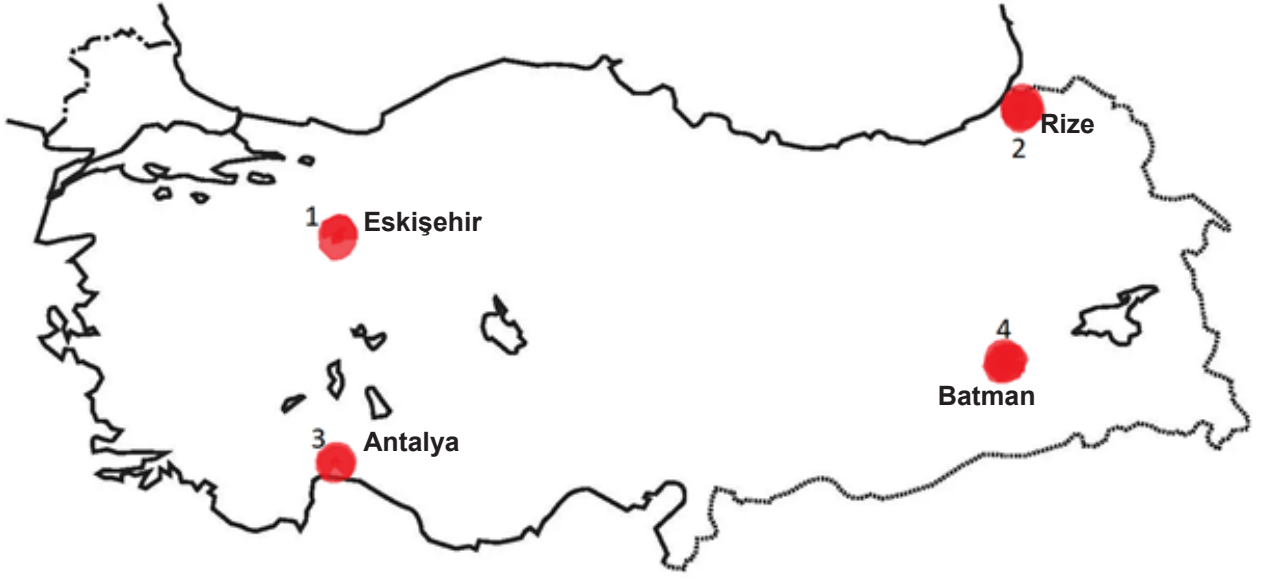
Dağıtım:

Üretim:

Yatırım:



26.



Haritada işaretlenen yerlerden hangisinde petrol çıkarılmaktadır?

- A) 1 B) 2 C) 3 D) 4

27. Turistik faaliyetlerin yoğun olduğu bölgelerde insanların yaşantıları turizme göre şekillenmiştir. Nüfus; bölgede yapılan turistik faaliyete göre artış ve azalış göstermiştir. İnsanların yaşayış şekilleri de turizme göre şekillenmiştir. Örneğin; bu bölgelerde yaşayan insanlarda yabancı dil öğrenme oranı diğer bölgelerden çok daha yüksektir.

Bu bilgiye göre aşağıdaki şehirlerden hangisinde turizm sayesinde yabancı dil öğrenim oranının daha az olduğu söylenebilir?

- A) Muğla B) Konya C) Antalya D) İzmir

28.

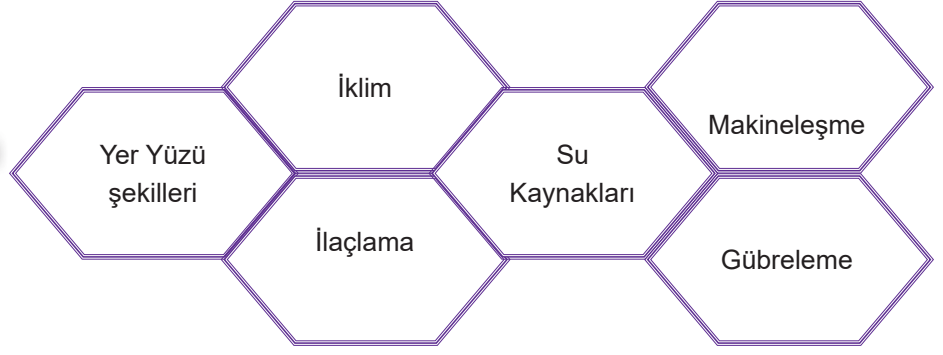


Yukarıda verilen görseller sırasıyla ekonomik faaliyetlerin hangi aşamalarına ait olabilir?

- A) Dağıtım - Üretim B) Üretim - Tüketim
C) Dağıtım - Tüketim D) Tüketim - Dağıtım

29.

**TARIMSAL ÜRETİMİ
ETKİLEYEN
FAKTÖRLER**



Aşağıdakilerin hangisinde tarımsal üretimi etkileyen faktörlerden insan etkisinin olmadığı etkenler bir arada verilmiştir?

- A) Gübreleme - İklim - Makineleşme
- B) Su Kaynakları - Gübreleme- İlaçlama
- C) İlaçlama - Gübreleme - Makineleşme
- D) Yeryüzü Şekilleri - İklim - Su Kaynakları

30. Ayıplı mal; etiketinde, ambalajında, reklamında bildirilenlere uyulmayan, standardında veya teknik düzenlemesinde hata ve eksik olan; tüketicinin beklediği faydaları azaltan veya ortadan kaldıran mal ve ürünlere denir.

Satın alınan bir malın ayıplı olması durumunda,

- I. Ürün tamir ettirilebilir.
- II. Ürünün yenisiyle değiştirilmesi istenebilir.
- III. Ürünün ücreti geri talep edilebilir.

işlemlerinden hangilerinin yapılması gerekir?

- A) Yalnız I
- B) I ve II
- C) I ve III
- D) II ve III

31. ve 32.Soruları ařağıdaki bilgiden yola çıkarak cevaplayınız.

- 31.** Yeni okuluna başlayan Selim,öğretmenine daha önce okuduğı okuldan ayrılma sebebini řu şekilde anlatmıřtır:
- “ Babam daha önce yařadığımız yerde bir fabrika kurdu. Bu fabrikada unlu mamuller üretip satacaktı. Fakat durum beklediğimiz gibi olmadı. Tarım alanları engebeli ve parçalıydı. Her mevsim yağış alıyordu. Bu yüzden yeterli hammaddeyi yakın çevremizden sağlayamıyordu. Hammaddeyi diğerk bölgelerden sağlamakta maliyeti arttırdı. Bizde oradaki fabrikamızı kapatıp buraya taşındık.”

Buna göre Selim’in babasının fabrikayı ařağıda yer alan bölgelerden hangisine kurması daha doğru olurdu?

- A) Ege
- B) Akdeniz
- C) Güneydoğı Anadolu
- D) İç Anadolu

- 32.** Öğretmen, Selim’i dinledikten sonra öğrencilerine Selim’in ailesinin Karadeniz Bölgesinde hangi ekonomik faaliyetleri yapabileceğı sorusuna öğrenciler ařağıdaki yanıtları vermiştir.

Buna göre verilen cevaplardan hangisi yanlıřtır?

- A) Fındığı ve çayı hammadde olarak kullanabilir.
- B) Tütün ve mısır tarımı yapabilir.
- C) Kıl keçisi yetiřtirebilir.
- D) Balıkçılık yapabilir.

33.



Gümüşhane'nin Kürtün ilçesine bağlı Özkürtün Barajı sayesinde:

- Barajda üretilen balıklar Japonya Çin gibi ülkelere ihraç edilmektedir.
- Baraj gölü sayesinde turistik tesis ve konaklama imkanları gelişmiştir.
- Bölge halkı yeni geçim yolları bulmuştur.
- Barajın ılıman etkisi ile birlikte nem oranı artmış ve tarımda sulama ihtiyacı azalmıştır.

Verilen bilgilere göre hangisi yanlıştır?

- A) Baraj ekonomik getiriler sağlamıştır.
- B) Bölge halkı baraj yapımına tepki göstermiştir.
- C) Turizm faaliyetleri artış göstermiştir.
- D) İklimsel olarak olumlu etki oluşturmuştur.

34.

DURUM 1	DURUM 2
Gaziantep, Şanlıurfa ve çevresi yaz aylarında az yağış aldığı için kuraktır.Bu nedenle kuraklığa dayanıklı kırmızı mercimek ve antep fıstığı üretimi burada yaygındır.	Karadeniz kıyıları her mevsim yağış alan bir iklim özelliğine sahiptir.Bu nedenle Giresun,Ordu, Trabzon, Rize ve çevresinde yağış ve neme ihtiyaç duyan çay, fındık, mısır üretimi yaygındır.

Verilen durumlar göz önüne alındığında ulaşılabilecek en genel yargı aşağıdakilerden hangisidir?

- A) Giresun Şanlıurfa'dan daha gelişmiştir.
- B) İklim ekonomik faaliyetleri etkiler.
- C) Üretilen ürünlerde yer şekillerinin rolü büyüktür.
- D) Karadeniz Bölgesi en gelişmiş bölgedir.

35.

MADEN	ÇIKARILDIĞI YER	İŞLENDİĞİ YER	KULLANIM ALANI
Taş kömürü	Zonguldak	Karabük	Enerji kaynağı olarak
Bakır	Artvin	Samsun	Elektrik elektronik sanayiinde

Tablo üretim-dağıtım-tüketim ağına göre doğru analiz edilirse hangi seçeneğe ulaşılır?

ÜRETİM

DAĞITIM

TÜKETİM

- | | | |
|--|-----------------------------|------------------------------------|
| A) Taş kömürünün çıkarılması | Madenin Karabük'e taşınması | Demirin eritilmesinde kullanılması |
| B) Bakır madeninin çıkarılması | Madenin Samsun'a taşınması | İlaç yapımında kullanılması |
| C) Enerji kaynağı olarak kullanılması | Bakır madeninin çıkarılması | Madenin Samsun'a taşınması |
| D) Elektrik-elektronik sektöründe kullanılması | Taş kömürünün çıkarılması | Madenin Karabük'e taşınması |

36. Aşağıdakilerden hangisi girişimcilikle ilgili bir proje örneği değildir?

- A) *Denizli Hükümet Konağı* : Kendi enerjisini çatısındaki güneş panelleriyle kendini üreten bir özelliğe sahiptir. Ekolojik bir bina olarak tasarlanmıştır.
- B) *Bitki örtüsünün suyun temizliğine etkisi*: Sosyal Bilgiler dersinde bitki örtüsünün gür olduğu yerlerde suyun daha temiz olduğu anlatılmıştır.
- C) *Akıllı Saat*: Tüm mobil cihazlarını işini gördüğü iddia edilen akıllı saat aracılığıyla sesli görüşmeler yapabilir ve tam klavyesiyle metin yazabilir bir saat dizayn edilmiştir.
- D) *Uzun Ömürlü Yumurta Projesi*: Aydın'da 10.sınıf fen lisesi öğrencileri yumurtanın raf ömrünün 2,5 aya kadar çıkartabilecek bir proje tasarladılar.

37. Hüseyin kırtasiyeye giderek bir hikaye kitabı almıştır. Eve geldiğinde kitabın sayfalarında eksiklik olduğunu fark etmiş, ancak bu durum karşısında hiçbir şey yapmamıştır.

Hüseyin'in bu davranışıyla ilgili aşağıdakilerden hangisi söylenebilir?

- A) Sağduyulu bir bireydir.
- B) Özgüven eksikliği vardır.
- C) Bilinçli bir tüketici değildir.
- D) Girişken davranmamıştır.

38. Sevgi öğretmen girişimci bir bireyde olması gereken özellikleri anlattıktan sonra öğrencilerinden kendilerini girişimci olarak hayal etmelerini ve Karadeniz Bölgesinin özelliklerini dikkate alarak bir fikir geliştirmelerini ister. Öğrenciler bir hafta boyunca araştırdıktan sonra şu cevapları verirler.

Verilen cevaplardan hangisi bu bölge için uygun değildir?

- A) Ali : Bitki çeşidi fazla olduğu için bunları araştırıp ilaç ve kozmetik sanayinde kullanmasını sağlayabilirim.
- B) Neşe: Bu bölge hayvancılığa uygun olduğundan hayvan ırklarını iyileştirip örnek bir çiftlik kurabilirim.
- C) Pelin: Farklı pamuklu giysiler ve pek çok alanda kullanılacak tekstil materyalleri tasarlayıp üretimini sağlayabilirim.
- D) Mert: Çok amaçlı pratik kullanımlı mobilyalar tasarlayıp bu bölge halkı ile üretimini sağlayabilirim.

39. Ülkemizde coğrafi ve beşeri faktörlerin etkisiyle farklı ekonomik faaliyetler yapılmaktadır. Bu faaliyetlere bağlı olarak da birçok meslek türü ortaya çıkmıştır.

Tablo incelendiğinde hangi seçenekte ekonomik faaliyet ve meslek türü eşleştirilmesinde yanlışlık yapılmıştır?

	TARIM	SANAYİ	HAYVANCILIK	TURİZM
A)	Çiftçi	Fabrika İşçisi	Veteriner	Aşçılık
B)	Ziraat Mühendisi	Otomobil Tamircisi	Çoban	Turist Rehberi
C)	Tarım Teknisyeni	Gıda Mühendisliği	Kasaplık	Resepsiyonist
D)	Tarım İşletmecisi	Tüccar	Dericilik	Kuyumculuk

40.

Ahmet, Sosyal Bilgiler dersinde üretim, dağıtım ve tüketim serüvenini incelerken bir ürünün elimize ulaşmasına kadar geçen sürede o ürünün birçok aşamadan geçtiğini fark etmiştir. Ahmet ders tekrarı yaparken üretim, dağıtım ve tüketim konusunu anlatan bir tablo ile karşılaşılıyor. Ahmet, verilen tabloyu incelediğinde üretim, dağıtım ve tüketim alanlarında bir hata olduğunu fark etmiştir.

Buna göre hangi seçenekte hata yapılmıştır?

	Temel Tüketim Ürünleri	Tüketim	Dağıtım	Üretim
A)	Peynir	Sütün belli işlemde geçirilerek elde edilmesi.	Mandıradan marketlere taşınması.	Kahvaltıda çok fazla tercih edilmesi.
B)	Battaniye	Mert' in yeni evi için battaniye satın alması.	Fabrikalardan mağazalara gönderilmesi.	Pamuktan battaniye elde edilmesi.
C)	Şeker	Çay içerken kullanılması.	Fabrikadan markete araçlarla bırakılması.	Şeker pancarının belli işlemde geçirilerek elde edilmesi.
D)	Mobilya	Babamın yeni bir çalışma masası alması.	Fabrikadan mağazaya ulaştırılması.	Kerestenin işlemde geçirilmesiyle elde edilmesi.

41.



I



II



III

Verilen görseller dikkate alınğında sırasıyla hangi ekonomik faaliyetle ilgili oldukları söylenebilir?

I	II	III
A) Tarım	Sanayi	Balıkçılık
B) Hayvancılık	Tarım	Sanayi
C) Tarım	Ormancılık	Hayvancılık
D) Ormancılık	Sanayi	Balıkçılık

42. Aşağıda verilen hammadde - ürün eşleşmelerinden hangisinde yanlışlık yapılmıştır?

HAMMADDE	ÜRÜN
A) Domates	Salça
B) Pamuk	Havlu
C) Şeker Pancarı	Şeker
D) Mısır	Makarna

43. Aşağıda verilenlerden hangisini bilinçli bir tüketicinin yapması beklenmez?

- A) Alacağı ürünler üzerinde TSE damgasının olmasına özen gösterir.
- B) Dayanıklı tüketim mallarını satın aldıktan sonra garanti belgesini satıcıya onaylatır.
- C) Alacağı ürünün ihtiyaç mı yoksa istek mi olduğuna karar verir.
- D) Satın alacağı ürünün fiyatının bütçesine uygun olup olmadığına dikkat etmeden alır.

44. Yeni projeler hayata geçirmek için iş birliği yapmak önemlidir. Ortak amaç doğrultusunda insanların güçlerini birleştirerek birlikte hareket etmelerine iş birliği denir. Zeynep yeni işi için kendisine ortak aramaktadır. Zeynep ile ortak olmak isteyen Katre, Yaren, Elif ve Nisa'nın kişisel özellikleri birbirinden farklıdır.

Çalışkandır.



Katre

Sosyal medyada çok zaman geçirir.



Elif

Yeniliklere açıktır.



Yaren

Geç kalkmayı ve gezmeyi çok sever.



Nisa

Verilen kişisel özellikleri değerlendirdiğimizde Zeynep, hangileri ile yeni bir iş kurmak isteyecektir?

- A) Katre
- B) Katre ve Elif
- C) Elif, Nisa ve Yaren
- D) Katre ve Yaren

45.



Herhangi bir malı satın alarak kullanan mal ve hizmetlerden yararlanan kişilere tüketici denir. Bizler birer tüketici olarak aldığımız mallarda ve hizmette problem yaşamak istemiyorsak, alışveriş öncesinde, alışveriş sırasında ve alışveriş sonrasında birçok şeye dikkat etmeliyiz. Ahmet bilgisayar almak istemektedir ve önünde birçok yol vardır.

Ahmet hangi yolu takip ederse güvenli ve mutlu bir şekilde bilgisayarına ulaşır?

- | | | |
|---|---|--|
| A) Alışveriş yapılacak yeri belirlemek | Ürünün ambalajını bozmadan almak | Ürün kirlenmesin diye saklamak |
| B) Alışveriş için bütçe belirlemek | Ürünün sağlam olup olmadığını kontrol etmek | Kusurlu bir ürün ise değiştirmek |
| C) Gördüğümüz ilk alışveriş yerine gitmek | Karşımıza çıkan ilk bilgisayarı almak | Fatura almadan alışverişi bitirmek |
| D) Bilgisayarı internetten daha ucuza almak | Geri iadesiz ucuza ürün satın almak | Ürünü kullanım kılavuzuna göre kullanmak |

46. Ahmet Bey ve ailesi Elazığ'da yaşamaktadır. Yaşadıkları deprem felaketinden sonra ailesinin isteğiyle akrabalarının yaşadığı Antalya'ya göç etmiştir.

Ahmet Bey geçimini sağlamak ve ihtiyaçlarını karşılayabilmek için hangi alanda iş bulması daha kolay olur?

- | | |
|-----------|----------------|
| A) Sanayi | B) Hayvancılık |
| C) Turizm | D) Madencilik |

47.

- Ben sofraların vazgeçilmez ürününün ham maddesiyim.
 -İç Anadolu bölgesinin temel ürünüyüm.
 -Kışları soğuğu yazları sıcaklığı severim.
 -İnsanoğlunun temel besin maddesiyim.

Bilgisi verilen tarım ürünü aşağıdakilerden hangisidir?

- | | | | |
|-----------|-----------|--------|-----------|
| A) Pirinç | B) Buğday | C) Çay | D) Zeytin |
|-----------|-----------|--------|-----------|

48.

.....I.....

İklimin ılıman, yeryüzü şekillerinin sade ve su kaynaklarının fazla olduğu yerlerde yaygın olarak yapılır.

.....II.....

Yaz mevsiminin sıcak olduğu ve uzun sürdüğü, denize kıyısı olan yerlerde yaygın olarak yapılır.

Kutucuklarda noktalı yerlere, sırasıyla aşağıdakilerden hangisi getirilebilir?

I.

II.

- | | |
|---------------|------------|
| A) Madencilik | Balıkçılık |
| B) Ormancılık | Sanayi |
| C) Tarım | Turizm |
| D) Ticaret | Sanayi |

49.



Türkiye haritasında numaralandırılmış olarak verilen yerlerin hangisinde ürünlerin dağıtımında yeryüzü şekillerinin ve olumsuz kış şartlarının etkisinden dolayı aksamalar yaşanabilmektedir?

- A) 1 B) 2 C) 3 D) 4

50. Üretim faaliyetlerinde hammaddeye yakınlık dikkate alındığında aşağıda verilen bölgelerde hangi ürünlerle ilgili fabrikaların kurulması daha uygun olur?

Karadeniz Bölgesi

Ege Bölgesi

Doğu Anadolu Bölgesi

- | | | |
|-----------|--------|--------------|
| A) Fındık | Buğday | Pamuk |
| B) Çay | Zeytin | Et kombinası |
| C) Mısır | İncir | Pamuk |
| D) Pamuk | Zeytin | Et kombinası |

51.

Mert bulundukları bölgenin geçmiş zamanlarda turizm potansiyelinin düşük olduğunu, son yıllarda ise insanların turizm anlayışının değişmesiyle bölgelerindeki turist sayısının arttığını belirtmiştir. Bölgeleri özellikle, Arap turistler için cazibe merkezi haline gelmiştir. Yaylaların serin havası, doğanın yeşilliği, tarihi ve doğal güzellikleri turistleri kendine çekmektedir. Yaylalarda yöresel lezzetleri, özellikle kuymağı, balı tadabilmeleri amacıyla doğa ile bütünleşmiş büyük küçük birçok tesis hizmete açılmıştır.

Verilen bilgilere göre bu bölgede;

- I. aşçılık,
- II. turist rehberliği,
- III. ahşap oymacılığı

mesleklerinden hangilerinin gelişmesi beklenir?

- | | |
|-------------|-----------------|
| A) Yalnız I | B) Yalnız II |
| C) I ve II | D) I, II ve III |

52. Aşağıdakilerden hangisi bilinçli bir tüketiciye uygun davranışlardan **değildir**?

- A) Alacağı üründe TSE damgası olup olmadığını kontrol eder.

- B) Satın alınan malın garanti belgelerini satıcıya onaylatılır.

- C) Satın alınacak ürünün en iyisi ve en pahalısı alınır.

- D) İhtiyaca ve bütçeye uygun ürünler satın alınır.

53. Ali Bey, Erzurum'da yaşamaktadır. Geçimini sağlamak için aşağıdaki faaliyetleri yapmaktadır.

- Tarlasında şeker pancarı yetiştirmektedir.
- Şeker pancarlarını fabrikaya vererek şeker ve hayvan yemi almaktadır.
- Fabrikadan aldığı yem ile ineklerini beslemektedir.
- Beslediği ineklerin sütünü satmaktadır.

Buna göre Ali Bey, aşağıdaki ekonomik faaliyetlerden hangisini yapmamıştır?

- | | |
|----------------|------------|
| A) Tarım | B) Ticaret |
| C) Hayvancılık | D) Sanayi |

54. 5.Sınıfta okuyan öğrencilerin meslek puanlarını belirlemek için Rehber Öğretmeni tarafından bir anket uygulandı. Uygulanan ankete göre;

- Tuana'nın turizme bağlı mesleklere
- Hülya'nın, hizmet sektörüne bağlı mesleklere
- Bilal'in, tarım ve hayvancılığa bağlı mesleklere ilgi puanı yüksek çıkmıştır.

Verilen bilgilere göre Tuana, Hülya ve Bilal sırasıyla hangi meslekleri seçerse anket puanına uygun olur?

<u>Tuana</u>	<u>Hülya</u>	<u>Bilal</u>
A) Aşçılık	Bankacılık	Balıkçılık
B) Gıda Mühendisliği	Tornacılık	Uzun Yol Şoförlüğü
C) Maden işçiliği	Kuyumculuk	Otel İşletmeciliği
D) Mobilyacılık	Kerestecilik	Odunculuk

55.

5.Sınıf öğrencisi Burak her gün ekmek aldığı fırına giderek ekmeğin sofrasına gelene kadar hangi aşamalardan geçtiğini öğrenmek istemiştir. Fırıncı Hasan Amca, Burak'a önce tarlaya buğday ekmek gerektiğini, ardından büyüyen buğdayın biçilerek fabrika ya da değirmende öğütülerek un haline getirildiğini, elde edilen unun; maya ve su ile karıştırılarak hamur haline getirildiğini, en son hamurun fırına atılarak pişirildiğini ve ekmeğin bu şekilde ortaya çıktığını söylemiştir.

Fırıncı Hasan Amca, Burak'a, aşağıdakilerden hangisiyle ilgili bilgi vermiştir?

- A) Üretim B) Dağıtım C) Tüketim D) Pazarlama

56.

Girişimciler,yeni bir iş fikrini uygularken bazı aşamaları takip ederler.

- 1) Üretilen ürünün dağıtımını yapar.
- 2) Üretim yapar.
- 3) Üretim yapacağı yere karar verir.
- 4) Ön hazırlıklar yapar.
- 5) Ne üreteceğine karar verir.

Yukarıda karışık halde verilen bu aşamaların doğru sıralanışı hangi seçenekte yer almaktadır?

- A) 2,3,1,4,5 B) 3,4,5,1,2
C) 5,3,4,2,1 D) 5,1,3,2,4

57. Gümüşhane iline bağlı 13 500 nüfuslu Torul ilçesinde elektrik üretmek amacıyla yapılan Torul Barajı'ndan ABD, Japonya, Vietnam gibi birçok ülkeye yılda 1500 ton somon balığı ihraç ediliyor. Bir sonraki yıl ihracatın 2500 tona çıkarılması hedefleniyor.

Buna göre, üretimi artırmak isteyen girişimci "Üretim" aşamasında aşağıdakilerden hangisini yapmamalıdır?

- A) Barajın balık yetiştirme kapasitesi hesaplanabilir.
B) Dağıtım süresi kısaltılabilir.
C) Balık çiftliklerinin sayısı artırılabilir.
D) Çevre barajlardan faydalanılabilir.

58.

(I)Yoğurt elde edebilmek için önce inek,koyun,keçi yada mandanın sağılması ve bu hayvanlardan süt elde edilmesi gerekir. (II)Elde edilen süt sterilizasyon işlemlerinden sonra bir miktar kaynatılır, ardından mayalanır. (III)Belli steril kalıplar içinde mayalama işleminden sonra süt yoğurta dönüşür. (IV)Fabrikada gerçekleşen bu işlemlerden sonra yoğurtlar nakliye araçları ile fabrikadan yüklenir ve tüketicinin satın alacağı alışveriş noktalarına nakledilir. (V)Alışveriş yapılan dükkan, şarküteri veya alışveriş merkezlerinden ücreti ödenerek alınan ürün tüketiciler tarafından afiyetle tüketilir.

Temel tüketim ürünlerimizden olan yoğurdun üretim, dağıtım, tüketim aşamaları yukarıda verilmiştir.

Buna göre kaç numaralı cümleden itibaren “Dağıtım” aşamasından bahsedilmektedir?

A) II

B) III

C) IV

D) V

59. Bir yatırımcı tarım alanında yatırım yapmayı düşünüyor. Kuru fasulyenin ekim sahasını genişleterek ham madde olarak kullanmak istiyor. Buna bağlı olarak bir meslek okulu kurmaya karar veriyor.Meslek okulunda ise bu ürünün yetişmesinden işlenmesine kadar tüm alanlarda çalışacak personeli yetiştirmek istiyor.

Meslek Okulunda:

- ✓ Fasulyeyi yetiştirmek için ...I..... eğitimi ,
- ✓ Satışını sağlamak için ...II..... eğitimi ,
- ✓ Tanıtımını yapmak içinIII..... eğitimi
- ✓ Yemeğini yapmak için ...IV.... eğitimi verilecektir.

Numaralandırılmış yerlere hangi meslek grupları yazılmalıdır?

	I	II	III	IV
A)	Çiftçi	Öğretmen	Reklamcı	Pazarlamacı
B)	Çiftçi	Pazarlamacı	Reklamcı	Aşçı
C)	Reklamcı	Aşçı	Çiftçi	Pazarlamacı
D)	Dokuma	Aşçı	Pazarlamacı	Çiftçi

60. K mes hayvancılığı genellikle n fusun fazla olduėu yerlerde yoėun olarak yapılmaktadır. Marmara B lgesi k mes hayvancılıėında ilk sırada yer almaktadır.

Bu durumun nedeni aŗaėıdakilerden hangisidir?

- A) T keticisi sayısının fazla olması
- B) Besiciliėin yapılamaması
- C)  r n fiyatlarının ucuzluėu
- D) Sanayi tesislerinin yoėunluėu

61. Erzurum-Kars platosunda yaz yaėıŗları ile yeŗeren g r otlaklar mevcuttur. Bu nedenle Erzurum-Kars platosunda en fazla b y kbaŗ hayvancılık faaliyeti yapılmaktadır.

Buna g re Erzurum-Kars platosunda;

- I. mera hayvancılığı,
- II. k mes hayvancılığı,
- III. et ve s t  retim tesisleri

hangileri yaygın olarak g r l r?

- A) Yalnız II
- B) I ve II
- C) I ve III
- D) II ve III

62. Karadeniz kıyıları her mevsim yaėıŗ alan bir iklim  zelliėine sahiptir. Bu nedenle Giresun, Ordu, Trabzon, Rize ve  evresinde  lkemiz ekonomisi aėısından  nemli tarım  r nlerinin  retimi ger ekleŗir.

Buna g re aŗaėıdaki se eneklerden hangisinde bu tarım  r nleri birlikte verilmiŗtir?

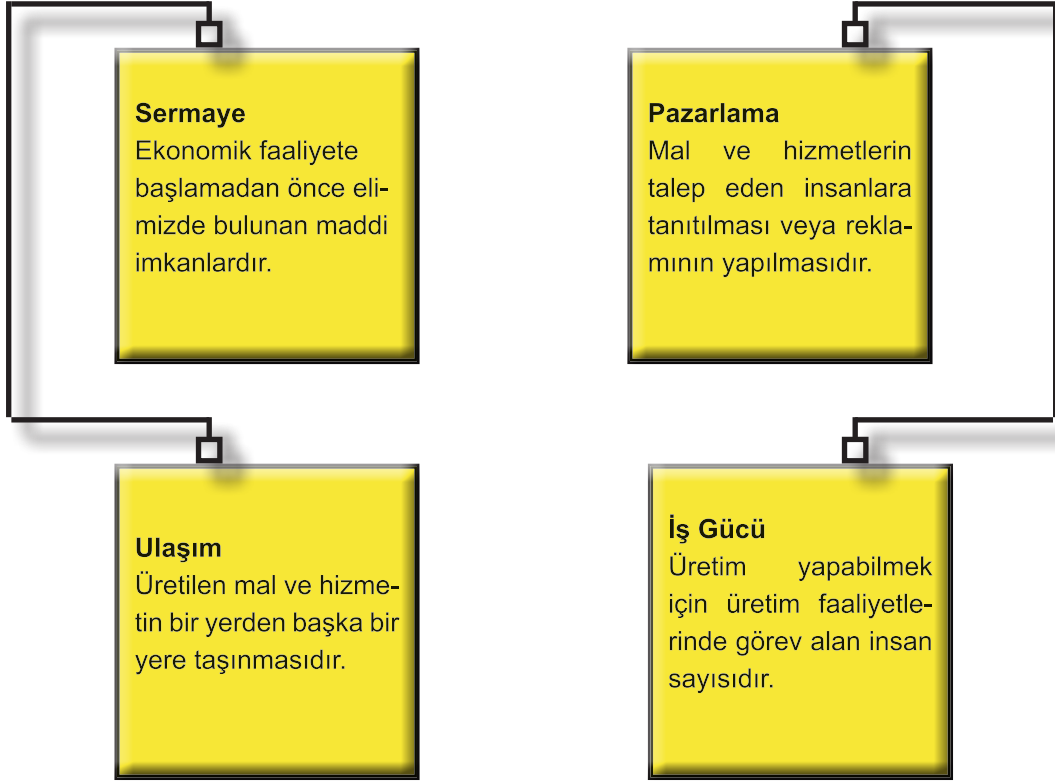
- A)  ay-Fındık- Mısır
- B) Arpa-Buėday-Yulaf
- C) Portakal-Mandalina-Limon
- D)  z m- ncir-Haŗhaŗ

63. Doğada kendiliğinden oluşan yer altı kaynaklarına maden adı verilmektedir. Madenler günümüzde pek çok ürünün hammaddesini teşkil etmektedir. Örneğin petrol ulaşım araçlarında yakıt, yine ulaşım araçlarında lastik, karayollarında asfalt gibi insan hayatını kolaylaştıran birçok alanda kullanılmaktadır. Petrol yenilenemez ve fosil enerji kaynakları içinde yer almaktadır. İnsan hayatını birçok alanda kolaylaştıran petrol aynı zamanda doğaya en çok zarar veren madenlerden biri olarak canlı yaşamını tehdit etmektedir.



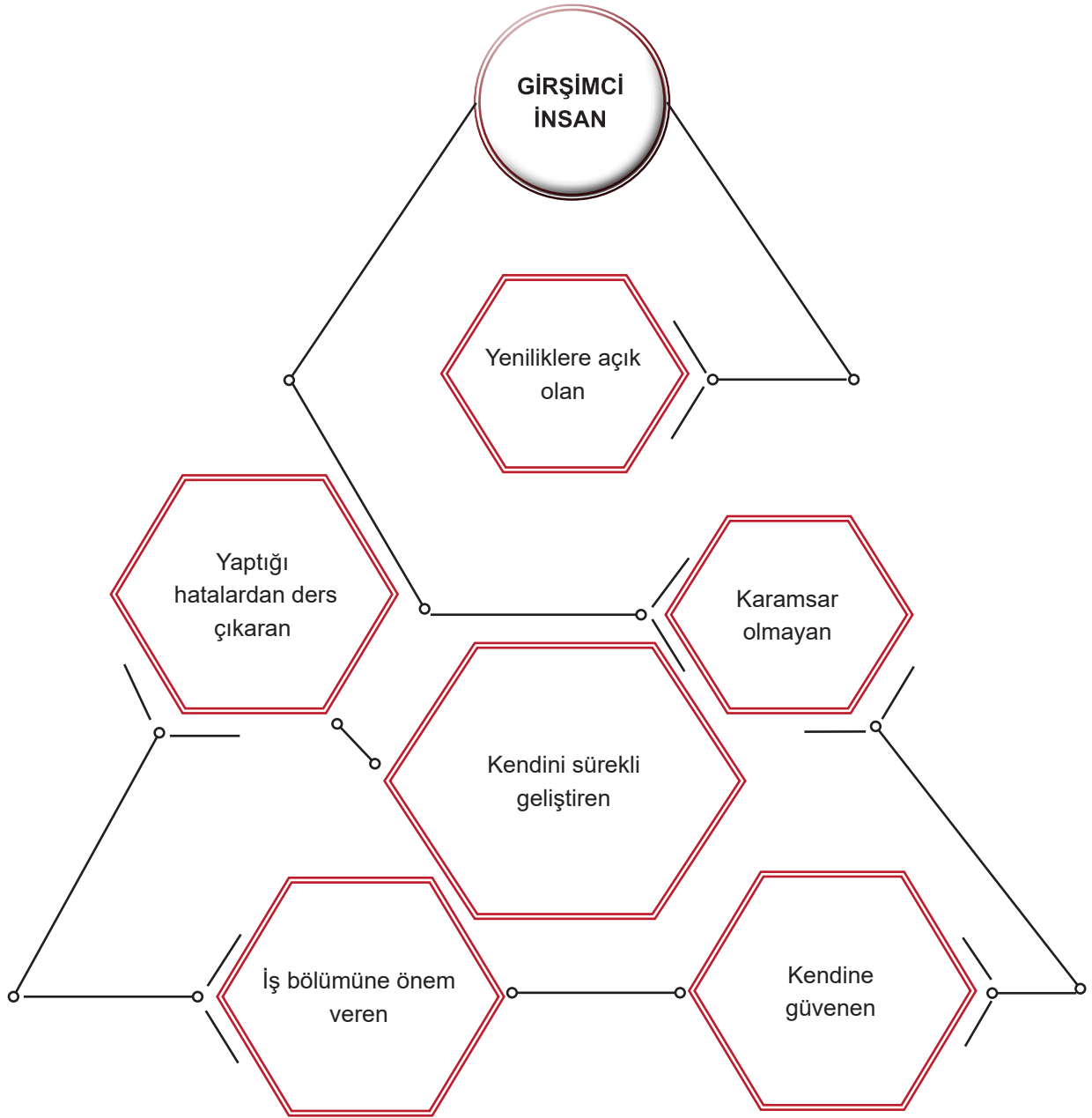
Verilen bilgilere göre petrolün insan yaşamına etkisi düşünüldüğünde aşağıdakilerden hangisine ulaşamaz?

- A) Kullanım alanı olarak insan yaşamını kolaylaştıran ürünlerin hammaddesidir.
- B) Petrol ve petrol ürünlerinin kullanımı doğaya ve insan yaşamına zarar vermektedir.
- C) Petrolden elde edilen ürünlerden daha çok ulaşım alanında yararlanılmaktadır.
- D) Petrol kullanımının fazla olduğu toplumlar ekonomik olarak zengindirler.

Ekonomik Faaliyetleri Etkileyen Faktörler

Günümüzde teknolojik imkânların gelişmesi ile hangisine duyulan ihtiyaç her geçen gün azalmaktadır?

- A) Pazarlama
- B) Sermaye
- C) İş Gücü
- D) Ulaşım



Aşağıda verilen tutumlarından hangisi girişimci insanın verilen özelliklerine aykırıdır?

- A) Nerde hata yaptığımı bulup düzeltmeliyim.
- B) Grup çalışmasıyla işi daha kısa sürede bitiririm.
- C) Bunun daha iyisini yapabilirim.
- D) Bu iş buraya kadar her şey bitti.

66. Yiğit Alp'ten annesi markete gitmesini ve bir kilogram yoğurt almasını istemiştir. Yiğit Alp hızlıca markete giderek annesinin istediği yoğurdu alıp eve dönmüştür. Paranın üstünü kumbarasına atarak yoğurdu annesine veren Yiğit Alp 'i annesi bir süre sonra tekrar yanına çağırarak yoğurdu markete geri götürüp iade etmesini çünkü yoğurdun son kullanma tarihinin geçtiğini söylemiştir. Yiğit Alp markete geri döndüğünde market görevlisi Yiğit Alp'ten aldığı yoğurdun fişini kendisine vermesini istemiştir. Yiğit Alp alış veriş fişini yolda buruşturup attığını ve fişin olmadığını market sahibine söyleyince market sahibi fiş olmadan yoğurdu geri alamayacağını söyleyerek yoğurdun iadesini kabul etmemiştir.

Yiğit Alp'in bilinçli bir tüketici olarak yaptığı ilk hata aşağıdakilerden hangisidir?

- A) Alışveriş yaptıktan sonra verilen fişini atması
- B) Ürünün son kullanma tarihini kontrol etmemesi
- C) Evden hızlı bir şekilde dikkatsizce çıkması
- D) Paranın üstünü kumbarasına atması

67. İstanbul, İzmir, Bursa gibi şehirlerde sanayi sektörünün oldukça geliştiği, buna bağlı olarak bu şehirlerin nüfus yoğunluğunun giderek arttığı görülmektedir.

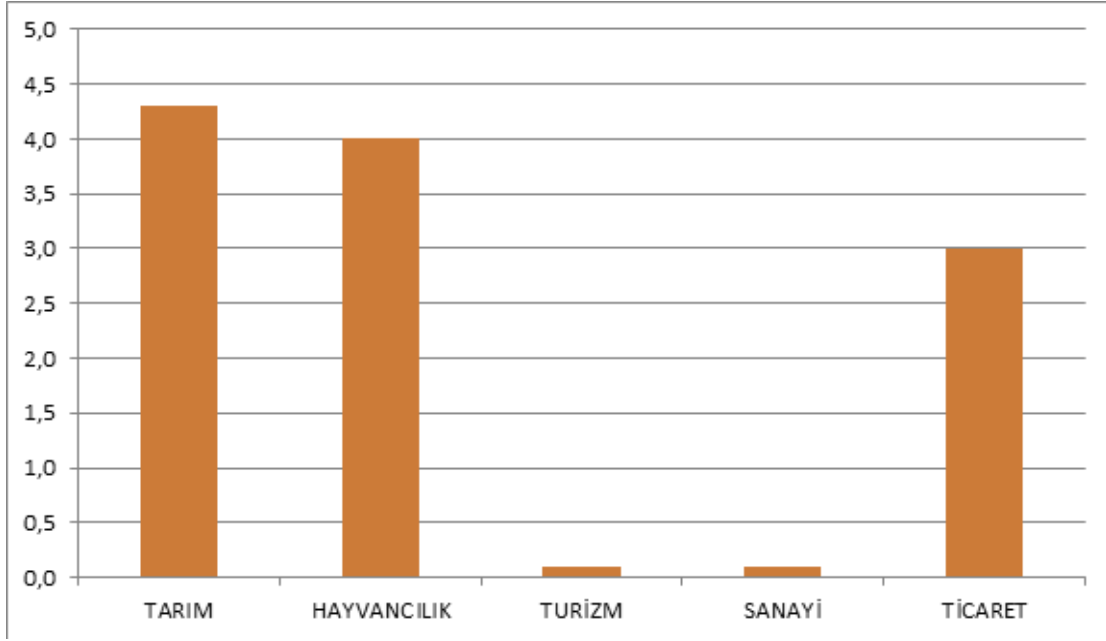
Buna göre Türkiye' de sanayi sektörünün geliştiği yerlerin ortak özellikleri ile ilgili verilen bilgilerden hangisi yanlıştır?

- A) Marmara Bölgesinde yer alırlar.
- B) Şehirleşme oranı yüksektir.
- C) Ulaşım ağı oldukça gelişmiştir.
- D) İklim koşulları elverişlidir.

68. Ekmeğin üretim aşamaları ile ilgili verilenlerden hangisi yanlıştır?

- A) Ekmeğin hammaddesi buğdaydır.
- B) Buğday fabrikada una dönüştürülür.
- C) En fazla tüketilen gıda maddesidir.
- D) Fırınlarda dağıtımına hazır hale gelir.

69.



Ali'nin yaşadığı yerde çalışan nüfusun ,ekonomik faaliyetlere dağılımı grafik şeklinde gösterilmiştir.

Bu grafiğe göre Ali'nin yaşadığı yer ile ilgili,

- I. Turizm ve Sanayi faaliyetiyle uğraşanların oranı çok azdır.
- II. Ticareti faaliyetle uğraşanların oranı tarım ile uğraşanlardan fazladır.
- III. Bu yerleşim yerinde yaşayanların büyük çoğunluğu tarım ve hayvancılık faaliyetiyle ilgilenmektedir.

verilenlerden hangisine ulaşılabilir?

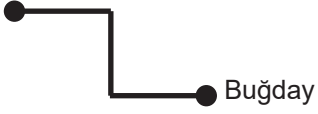
- A) Yalnız I
- B) I ve II
- C) I ve III
- D) I, II ve III



İnsan sosyal bir varlık olduğu için bir arada yaşamaya ihtiyaç duyar. İnsanların bir arada yaşamasının en doğal sonuçlarından biri ortak ekonomik faaliyette bulunmalarıdır. Bu ekonomik faaliyetlerin düzenli yapılabilmesi için insanlar arasında iş bölümü yapılması gerekir.

Aşağıdaki verilen ekonomik faaliyetlerden hangisi ürün veya hizmet ortaya koyarken iş bölümü yapıldığına kanıt olarak gösterilemez?

A) Çiftçi



Fabrika



Fırın



B) Doktor



Öğretmen



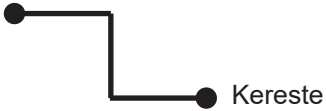
Kuyumcu



C) Ormancı



Marangoz



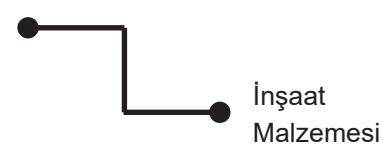
Mobilya Ustası



D) Mimar



Müteahhit



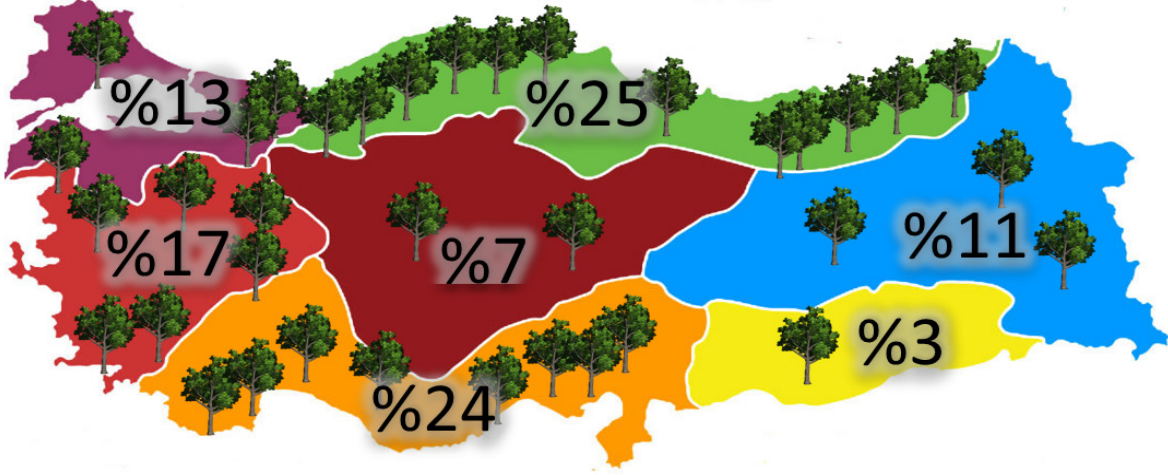
İnşaat Ustası



71. Alışveriş yaparken TSE damgalı ürünleri tercih etmemizin nedeni aşağıdakilerden hangisidir?

- A) Ürünü daha sonra değiştirmek.
- B) Ürünü daha düşük fiyata almak.
- C) Ürünün hatasını şikayet etmek.
- D) Ürünün kontrol edildiğini anlamak.

72.



Türkiye Orman Varlığı Haritası

Haritaya göre hangi bölgede orman ve orman ürünlerine bağlı sanayi tesislerinin daha fazla olması beklenir?

- A) Güneydoğu Anadolu
- B) Marmara
- C) Karadeniz
- D) Ege

73.



Ülkemizde turizm sektörü oldukça gelişmiştir ve birçok alanda turizm faaliyeti yapılmaktadır.

Görsellere bakıldığında aşağıdaki turizm faaliyetlerinden hangisine yer verilmediği söylenebilir?

- A) Yaz-Deniz
- B) İnanç-İbadet
- C) Kış-Kayak
- D) Tarih -Kültür

74. ve 75. Soruları ařağıdaki řiirden yola ıkararak cevaplayınız.

74.

Bir lokma ekmek,
Hazır tük etmek ne kolay,
Bir düşün,
Nasıl gelir sofrana o ekmek aşın?

Milletin efendisi atmıştır tohumu
Buğday olup öğütölüp,
Fırıncıya gelmiştir unu,
Her ekmek bir emek,
Atılır mı çöpe hiç ekmek,
Yiyeceğın kadar tüket,
İsraf olmasın emek.

Yandaki řiiri sınıfta sesli bir řekilde okuyan Uğur Öğretmen daha sonra sınıfa ;

"Sizce bu řiir, sosyal bilgiler dersindeki hangi öğrenme alanları ile alakalıdır?" diye sorar ve öğrencilerden bazı cevaplar alır.

Hangi öğrenci Uğur öğretmenin sorusuna doğru cevap vermiştir ?

- A) Aslıhan: 'Kültür ve Miras'
- B) Hakan: 'Üretim Dağıtım ve Tüketim'
- C) Emir: 'Bilim Teknoloji ve Toplum'
- D) Aybüke: 'Etkin Vatandaşlık'

75. Şiirde bilinçli tüketicinin sahip olması gereken hangi özellik vurgulanmaktadır?

- A) Kaynakları kullanırken israftan kaçınır.
- B) Aldığı ürünün faturasını talep eder.
- C) Çevreyi kirletmemeye özen gösterir.
- D) Sadece yerli ürünleri tercih eder.

76. Kındıra Köyü, Bolu'nun Merkez ilçesine bağlı bir köydür. Bolu Kartalkaya kayak merkezi yolu üzerinde yer almaktadır. Kışın yoğun kar yağışı sebebiyle kayak merkezine giden araçların uğrak noktası konumundadır. Aynı zamanda yolda kalan araçları kurtarmak köylülere iş imkânı yaratmaktadır. Kayak merkezi aynı zamanda Kındıra Köyü'ne birçok alanda yeniliği de getirmiştir. Kayak merkezine giden turistlerin yeme içme ve konaklama hizmetleri sunmak için birçok pansiyon ve alışveriş yerleri açılmıştır. Ayrıca kayak malzemeleri satılmaya ve kiralanmaya başlanmıştır. Halk için önemli bir geçim kaynağı oluşmuştur. Bununla da kalmamış yazın serin bir iklime sahip olan Kındıra'da yayla turizmi de gelişmiştir. İş imkânlarının artması ile daha önceden göç eden kişilerde tekrar Kındıra Köyü'ne dönmüş ve nüfus artmaya başlamıştır. Köyde nüfusun artması yeni konut ihtiyacını ortaya çıkarmış ve birçok yeni konut yapılmıştır.

Metinden hareketle aşağıdakilerden hangisi söylenebilir?

- A) Sosyal hayat, ekonomik faaliyetlerin çeşitliliğini etkilemiştir.
- B) Kındıra Köyünün gelişimi Kartalkaya Kayak merkezini oluşturmuştur.
- C) Ekonomik faaliyetler bölgenin gelişmesinde önemli bir etkiye sahiptir.
- D) Kındıra Köyünde oluşan değişiklik sadece bitki örtüsünün sonucudur.

77.

Merhaba adım Ali. Benim yaşadığım yerde insanlar sürekli koşuşturma halindedir. Herkes zamanla yarışır sabahın ilk ışıkları ile trafik çilesi başlar. Kimi okuluna kimi işine yetişmek için çabalar. Araba egzozlarının ve fabrika bacalarının dumanından bazen nefes alamayacak duruma geliriz. Yaşadığım yerde insanların birbiriyle pek sıcak ilişkileri yok. Mesela aynı apartmanda ikamet etmemize rağmen birçok kişi beni tanımaz, ben de birçok kişiyi tanımam.

Verilen bilgiler dikkate alındığında Ali'nin yaşadığı yer ile ilgili aşağıdakilerden hangisine ulaşamaz?

- A) Sanayi faaliyetleri gelişmiştir.
- B) Ekonomik faaliyetler sosyal ilişkileri etkilemektedir.
- C) İnsan sağlığı için olumsuz koşullara sahiptir.
- D) Hiç kimse birbirini tanımamaktadır.

78. Bayburt'ta tesadüfen keşfedilen 'kehribar' için birçok ülke sıraya girdi.



“Bayburt'un Aydıncık köyünde vatandaşların yıllardır kömür diye toplayarak yaktığı taşın kehribar taşı olduğu anlaşıldı. Köyde yapılan incelemede yaklaşık 200 milyon metreküp doğal taş tespit edildi. Değerli bir taş olan kehribar taşının çıkarılması için maden ocağı açılması çalışması yürütülürken, Çin başta olmak üzere birçok ülke taş rezervi için sıraya girdi.”

Verilen bilgidен hareketle Bayburt'ta aşağıdaki değişimlerden hangisinin yaşanması beklenir?

- A) Hammadde ithalatının artması
- B) Turizmin hızla gelişmesi
- C) Şehir dışına göç vermesi
- D) Sanayi tesislerinin açılması



Balıkesir'in Manyas ilçesinde yaşayan F.A, makarnayı çok seven çocuklarına sebze de yedirebilmek için yapmaya başladığı sebzeli makarnanın ilgi görmesi üzerine girişimci oldu. Üç yıl önce çocuklarının sağlığı için sebze tüketimini artırmak amacıyla onların makarnaya olan düşkünlüğünden yola çıkarak evde sebzeli pürel makarna yapmaya başladı. Çocuklarının ve komşularının lezzetini beğenmesi üzerine makarnayı daha fazla kişiye ulaştırmaya karar verdi. KOSGEB kursuna giderek girişimcilik belgesi alan F.A. , KOSGEB'den aldığı kredi ile imalathane kurup üretime başladı. Makarnanın yanı sıra sebzeli tarhana ve erişte de yaparak satışa çıkaran, İstanbul, İzmir, Bursa gibi farklı illerden de talep alan F.A , ayda yaklaşık 4 ton un kullanarak üretim yapıyor.

ANADOLU AJANSI-18.02.2020

Verilen gazete haberinden yola çıkarak girişimci bir insan ile ilgili aşağıdakilerden hangisi söylenemez?

- A) Risk almaktan hoşlanır.
- B) Sadece tarıma yatırım yapar.
- C) Kararlıdır ve kendine güvenir.
- D) İletişim yeteneği gelişmiştir.

CEVAP ANAHTARI

1. D - Y - D - Y - D

2. Artış-artış-artış-artış-azalış

3. Cevaplar

- 1-Hizmet
- 2-Turizm
- 3-Dağıtım
- 4-Balıkçılık
- 5-İhracat
- 6-İç Anadolu
- 7-İpek
- 8-Ayıplı Mal
- 9-Tüketim
- 10-Çiftçi

4. DAĞITIM-TÜKETİM-ÜRETİM

5. Kutucuklara yazılacak numaralar:
2-3-4-5-7-8-9

6. 1-TURİZM 2- TARIM 3-SANAYİ 4-MADENCİLİK

7. 5-3-2-1

8. 1.Otel işletmeciliği 2. Maden Mühendisliği 3.Uzun yol şoförlüğü 4. Emlakçılık

9. Öğrencinin cevaplarında Üretim-Dağıtım ve Tüketim aşamaları gözetilir.

10.

	Karadeniz	İç Anadolu	Doğu Anadolu	Akdeniz
Deniz Turizmi				✓
Kerestecilik	✓			
Büyükbaş Hayvancılık			✓	
Buğday Tarımına Dayalı Sanayii		✓		

11. ŞİFRE:MESLEK

12. İSTANBUL(2), MUĞLA(1), KONYA (5), HAKKARİ(4), RİZE(3)

13.	Ürünler	Hammadde	İşlenmiş Madde
	Şeker		x
	Bardak		x
	Patates	x	
	Reçel		x
	Koltuk		x
	Ayçiçek yağı		x
	Peynir		x
	Elma	x	
	Salça		x

14. 1.ÇIKIŞ

15. Mimar(inşaat Mühendisi)-Avukat-Veteriner-Gazeteci

16. FATURA -HAMMADDE-GİRİŞİMCİ-İŞLENMİŞ MADDE-ALO 175

17. 1. BÜYÜKBAŞ 2. KÜÇÜKBAŞ 3. ARICILIK 4. BALIKÇILIK 5. KÜMES

18.		Ormancılık	Sanayi ve Ticaret	Turizm	Madencilik	Hizmet	Tarım ve Hayvancılık
	Emlakçılık					x	
	Turist Rehberliği			x			
	Maden Mühendisliği				x		
	Mobilyacılık	x					
	Çobanlık						x
	Öğretmenlik					x	
	Arıcılık						x
	Bankacılık					x	
	Tüccarlık		x				

19. MARMARA-KARADENİZ -AKDENİZ-İÇ ANADOLU-EGE-DOĞU ANADOLU

20. TARIM, HİZMET,ORMANCILIK,TURİZM,SANAYİ

21. D-Y-D-D-Y-D-D-Y-D-D

22. AĞAÇ-KAĞIT TOPRAK-CAM FASÜLYE-TURŞU PAMUK-GÖMLEK ÇELİK-TENCERE

23. TARIM: SERACILIK-ÇİFTÇİ-ZİRAAT MÜHENDİSİ
HAYVANCILIK: VETERİNER-ÇOBAN-BALIKÇI
HİZMET: DOKTOR-POLİS-AVUKAT
SANAYİ: İŞÇİ-KİMYAGER-MAKİNE MÜHENDİSİ

24. Tüketici Hakem Heyeti-Gümrük ve Ticaret Bakanlığı-Tüketici Mahkemeleri

25. YATIRIM: Zekai Bey Aydın ve çevresinde yetiştirilen zeytini işleyebilmek için fabrika kurmuştur.
ÜRETİM: İşlenen zeytinden zeytinyağı elde etmiştir.
DAĞITIM: Zeytinyağını İzmir limanına taşıyıp oradan da yurt dışına satmıştır.

- | | | | | |
|-------|-------|-------|-------|-------|
| 26. D | 39. D | 52. C | 65. D | 78. D |
| 27. B | 40. A | 53. D | 66. B | 79. B |
| 28. C | 41. C | 54. A | 67. A | |
| 29. D | 42. D | 55. A | 68. C | |
| 30. D | 43. D | 56. C | 69. C | |
| 31. D | 44. D | 57. B | 70. B | |
| 32. C | 45. B | 58. C | 71. D | |
| 33. B | 46. C | 59. B | 72. C | |
| 34. B | 47. B | 60. A | 73. B | |
| 35. A | 48. C | 61. C | 74. B | |
| 36. B | 49. D | 62. A | 75. A | |
| 37. C | 50. B | 63. D | 76. C | |
| 38. C | 51. C | 64. C | 77. D | |



meb.gov.tr