

6.SINIF 5. ÜNİTE ÇALIŞMA FASİKÜLÜ

SOSYAL BİLGİLER

Bu kitapçık AFYONKARAHİSAR Ölçme Değerlendirme
Merkezi tarafından hazırlanmıştır.



1.

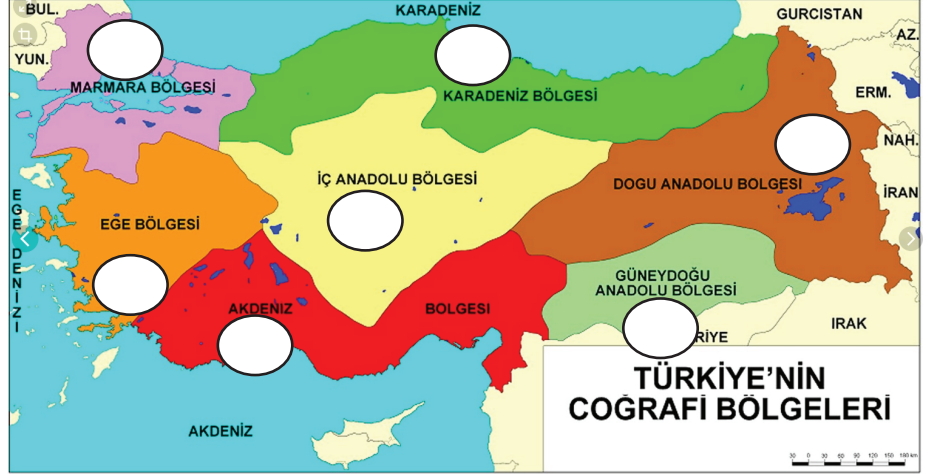
NEREDE KURARSINIZ?

Ülkemizde farklı alanlarda üretim yapan büyük bir işletmenin bütçe-satış ve pazarlama müdürü olduğunuzu düşünün. 2021 yılında yurdumuzun değişik bölgelerinde yatırımlarda bulunacaksınız.

En az maliyetle en fazla gelir elde etmek şartıyla hangi yatırımı hangi coğrafi bölgemizde gerçekleştirdiniz. Numaralarını haritadaki bölümlere yazınız.



- 1- Ayçiçek yağı fabrikası.
- 2- Çay fabrikası.
- 3- Beş yıldızlı bir otel.
- 4- Un ve makarna fabrikası.
- 5- Petrol rafinerisi.
- 6- Büyükbaş et kesim kombinası.
- 7- İncir reçeli ve zeytinyağı fabrikası.



2.



Aşağıdaki tabloda meslek seçimi ile ilgili verilen bilgilerin doğru ya da yanlış olduklarını ✓ işareti koyarak belirtir misin?

	Doğru	Yanlış
1. Bireyin meslek seçiminde anne-baba ve yakın çevresi belirleyici olmalıdır.		
2. Mesleğimizin ne olduğu çok önemli değildir. Önemli olan çok para getirmesidir.		
3. İlgi ve yeteneklerimize uygun meslek seçmeliyiz.		
4. Üniversiteyi bitirene kadar meslek seçmeye gerek yoktur.		
5. Meslek seçiminde kişinin ilgi, yetenek ve kişilik özellikleri dikkate alınmalıdır.		

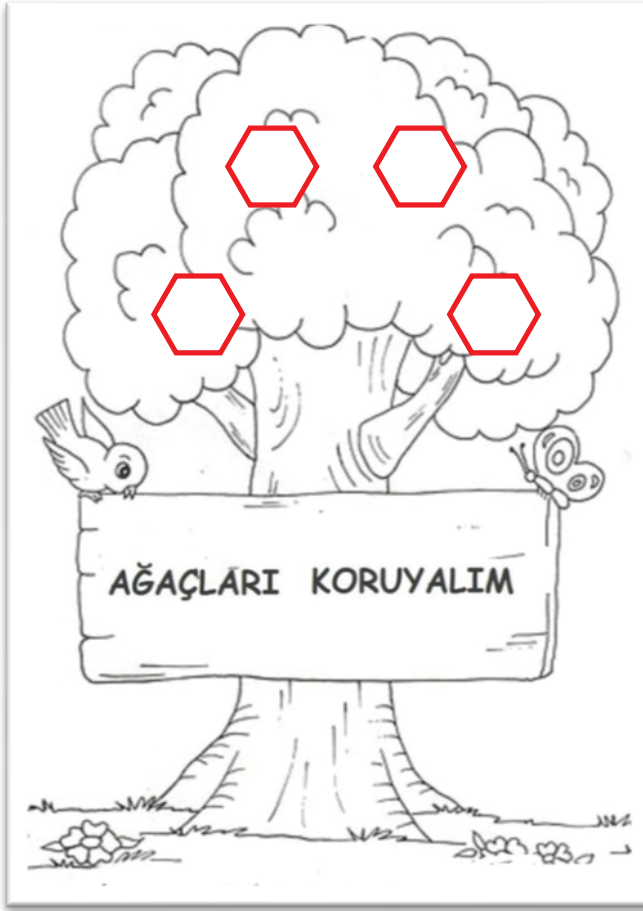
3. Verilen enerji kaynaklarının numaralarını ilgili oldukları ağaca yazınız.

- 1) taş kömürü
- 2) güneş enerjisi
- 3) rüzgâr enerjisi
- 4) linyit

- 5) petrol
- 6) hidroelektrik enerjisi
- 7) jeotermal enerji
- 8) doğal gaz

YENİLENEBİLİR
ENERJİ KAYNAKLARI

TÜKENEBİLİR
(YENİLENEMEYEN)
ENERJİ KAYNAKLARI



4. Aşağıda verilen ekonomik faaliyetler ile görselleri örnekteki gibi eşleştiriniz.

a) tekstil

b) enerji üretimi

c) hizmet

d) otomotiv

e) ticaret

f) madencilik

g) tarım

h) turizm

i) kerestecilik



1- a



2-



3-



4-



4-



6-



7-




8-



9-

5. Aşağıda verilen cümlelerden yararlanarak bulmacayı çözünüz.



Soldan Sağa

1. Ticaretle dış alım.
7. Kıt kaynaklarla sınırsız ihtiyaçların sağlanabilmesi amacıyla yapılan üretim, dağıtım ve tüketim faaliyetlerine ve bununla ilgili bilim dalına verilen isim, iktisat.
9. Portakal, limon, greyfurt, mandalina, bergamot ve turunç gibi meyve ağacı türlerini kapsayan bitki topluluğu.
10. Hammaddenin işlenerek mamul madde haline getirildiği faaliyet, sanayi.

Yukarıdan Aşağıya

2. Zonguldak ilimizde çıkarılan ısı, ışık ve güç kaynağı olarak kullanılan maden çeşidi.
3. Yüksek oranlarda karbon içeren kömür, petrol ve doğal gaz gibi tükenebilir doğal enerji kaynaklarıdır.
4. Ülkemizde en çok Ege ve Marmara'da yetiştirilen, maki topluluğunun karakteristik ağacı olan ve yağı da çıkarılan sanayi bitkisi.
5. Ülkemizin dünya rezervi bakımından birinci sırada bulunduğu, jet ve roket yakıtı olarak kullanılan değerli maden.
6. Bol yağışlı iklimlerin bitki örtüsüdür.
8. Kamu hizmetlerinde harcanmak üzere devletin, yerel yönetimlerin yasalara göre doğrudan doğruya ya da kimi maddelerin, hizmetlerin fiyatları üstüne ekleyerek dolaylı yoldan yurttaşlardan topladığı para.

6.



Enerji kaynakları ile ilgili olarak aşağıda verilen cümlelerin doğru ya da yanlış olduklarını
✓ işareti koyarak belirtir misin?

	Doğru	Yanlış
1. Rüzgâr enerjisi akarsular üzerinde kurulan barajlar yoluyla üretilen elektrik enerjisidir.		
2. Jeotermal enerji, fay hatlarının bulunduğu yerlerden çıkan su buharı ile üretilen enerjidir.		
3. Güneş, rüzgâr ve hidroelektrik enerji kaynakları fosil yakıt olarak da bilinir.		
4. Fosil yakıtlar yandıklarında karbondioksit açığa çıkarır ve hava kirliliğine neden olur.		
5. Ülkemizde petrol ve doğal gaz satışından elde edilen ihracat gelirleri fazladır.		
6. Jeotermal enerji, yenilenemeyen enerji kaynağıdır.		

7. HAYDİ, BOŞLUKLARI DOLDURALIM...

Dış ticaret	İç ticaret	İhracat	İthalat	İktisat	Seracılık	
Pamuk	Mısır	Turunçgiller	Girişimcilik	Krom	Çay	Bakır

- 1) Bir ülkenin başka bir ülkeyle gerçekleştirdiği ticaret türüne denir.
- 2) dış ticarete başka bir ülkeye mal satılması faaliyetidir.
- 3) Bitkilerin yaşayabileceği uygun hava ve çevre şartlarının oluşturulmasıyla mevsimi dışında da meyve sebze yetiştirilmesi işlemine denir.
- 4) en fazla Karadeniz ve Akdeniz Bölgelerimizde yetiştirilen, suyu seven; un, yağ ve hayvan yemi olarak da kullanılan bitkidir.
- 5) yaz sıcaklığını sever ve en çok Şanlıurfa, Çukurova gibi verimli ovalarda yetiştirilerek özellikle dokumacılıkta kullanılır.
- 6) Demirin sertleştirilmesinde ve çelik üretiminde madeni kullanılır.
- 7) mal veya hizmet üretimi için üretim faktörlerinin bir araya getirilerek, yeni yatırımlarla ekonomik fırsatların yeni değerlere dönüştürüldüğü organizasyonun oluşturulmasıdır.

8. Aşağıda verilen hayvancılık faaliyetlerini uygun açıklamalarla eşleştiriniz.

Hayvancılık Faaliyetleri

1 Büyükbaş Hayvancılık

3 Balıkçılık

5 Kümes Hayvancılığı

2 Küçükbaş Hayvancılık

4 Arıcılık

6 İpek Böcekçiliği



a)

Bozkır bitki örtüsünün yaygın olduğu yerlerde yapılmaktadır. Türkiye’de bu hayvancılık türü en fazla İç Anadolu’da yapılmaktadır.



b)

Özellikle yaz yağışlarının etkisiyle otlakların ve çayırların geniş yer kapladığı Karadeniz’in doğu kıyısı ve Doğu Anadolu’da bu hayvancılık türü gelişmiştir.



c)

Bal üretimi için bitki çeşitliliği çok olan dağlık yerlerde yapılır. Bu hayvancılık türü ülkemizde en fazla Ege kıyı kesiminde yapılmaktadır.



d)

Ülkemizin üç tarafının denizlerle çevrili olmasından dolayı önemli bir ekonomik faaliyettir. Ülkemizde bu hayvancılık türü en fazla Karadeniz’de yapılmaktadır.



e)

Et ve yumurta ihtiyacını karşılamak amacıyla nüfusu fazla olan yerlerde yapılan hayvancılık türüdür. İklim seçiciliği olmadığından ülkemizin her yerinde yapılabilir.



f)

Ülkemizde en fazla Bursa, Balıkesir, Bilecik çevresinde gelişmiştir. Ayrıca bu hayvancılık türünden elde edilen koza ile kumaş elde edilmektedir.

9. Aşağıda verilen ifadelerden doğru olanı “✓”, yanlış olanı “X” sütununu işaretleyerek belirtiniz.



1)

Akarsuların üzerinde kurulan barajlar yoluyla üretilen elektrik enerjisine termik enerji denir.



2)

Enerji kaynakları arasında yer alan; kömür, petrol ve doğal gaz yenilenemeyen enerji kaynakları sınıfında yer alır.



3)

Büyükbaş hayvancılığın yapıldığı yerlerde süt işletme ve et entegre tesislerine sıkça rastlanır.



4)

Ulaşım, ham madde ve pazar imkânlarının gelişmiş olması; bir yere yatırım yapmak için gerekli unsurlar arasındadır.

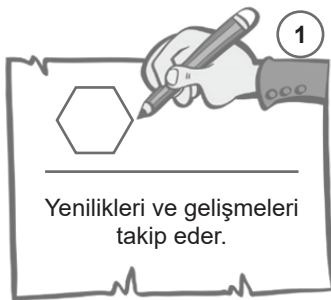


5)

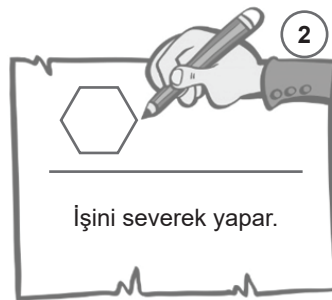
Çalışan ve maddi geliri olan vatandaşların gelirlerinin bir kısmını devlete vermelerine vergi denir.



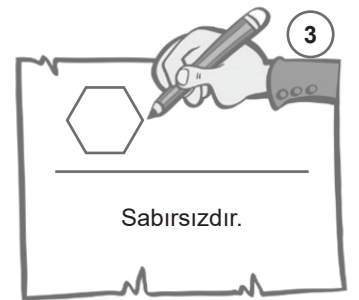
10. Aşağıda nitelikli insan gücünün özellikleri arasında yer alan ifadeleri “✓” sembolü ile işaretleyiniz.



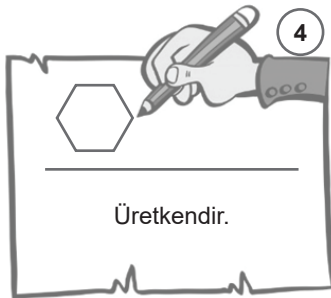
1



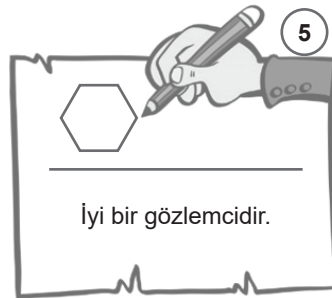
2



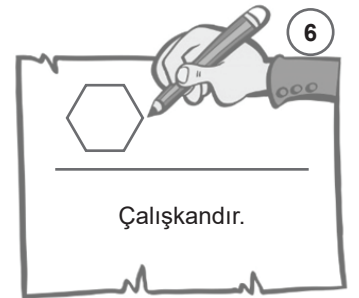
3



4



5



6

11. Aşağıdaki cümlelerin başındaki paranteze cümleler doğru ise D, yanlış ise Y yazınız.

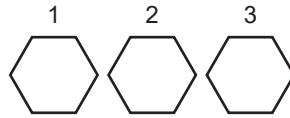
()	1- Ülkemizde; Akdeniz, Karadeniz ve Karasal olmak üzere üç tip iklim görülmektedir.
()	2- Marmara Bölgesi'nde geçiş iklimi özelliği görülmektedir.
()	3- İç Anadolu Bölgesi'nde daha çok tahıl tarımı yapılmaktadır.
()	4- Doğu Anadolu Bölgesinin Erzurum Kars Bölümü'nde sanayi oldukça gelişmiştir.
()	5- Marmara Bölgesi'ndeki İstanbul, Kocaeli, Bursa illerinde en çok gelişen ekonomik faaliyetin tarım olduğu söylenebilir.

12. Aşağıdaki haritadan yararlanarak demir, bor, bakır, krom, taş kömürü, petrol ve doğal gazın hangi illerden çıkarıldığını tablodaki boşluklara uygun şekilde yazınız.



DEMİR	BOR	BAKIR	KROM	TAŞ KÖMÜRÜ	PETROL	DOĞAL GAZ


13. Bir ürünün üretim aşamalarına göre, verilen görselleri uygun şekilde sıralayınız.



14. Aşağıda verilen doğal kaynaklar ile ilgili oldukları ekonomik faaliyetleri eşleştiriniz.

A-	TOPRAK (.)	1-	Tarım
		2-	Kağıt Sanayisi
B-	SU (.)	3-	Mobilyacılık
		4-	Hayvancılık
C-	MADENLER (.)	5-	Mermercilik
		6-	Ulaşım
D-	ORMANLAR (.)	7-	Demir-Çelik Sanayisi
		8-	Balıkçılık

15. Aşağıda verilen cümlelerden yararlanarak bulmacayı çözünüz.



SORULAR

1. Nitelikli insanların ülkelerinde uygun imkânları bulamayınca birikim ve yeteneklerini başka ülkelerde kullanmak amacıyla yaptıkları eyleme denir.
2. Meslek seçerken dikkat etmemiz gereken özelliklerden birisidir.
3. Deniz ve okyanuslardan elde edebileceğimiz yenilenebilir enerji kaynağıdır.
4. Marmara Bölgesinde Karasal iklimin hâkim olduğu, bu nedenle de ayçiçeğinin yoğun olarak yetiştirildiği bölümün adıdır.
5. Sivas'ta çıkarılıp Zonguldak'ta işlenen (kullanılan) madendir.
6. Yatırım için gerekli olan anaparadır.
7. Kalabalık şehirlerde nüfusun et ihtiyacını karşılamak amacıyla yapılan hayvancılık faaliyetidir.
8. İç Anadolu Bölgesi'nin sulama ihtiyacını karşılamaya yönelik yapılan ikinci büyük projedir.
9. Çukurova Bölümünde tarıma bağlı gelişen sanayi dalıdır.

16. Devletin yol, su, elektrik, sağlık ve eğitim gibi hizmetleri halka sunabilmesi için bütün vatandaşlar vergi vermek zorundadır.

Buna göre, vergi ile ilgili aşağıdaki verilen bilgilerden hangisi yanlıştır?

- A) Devlet, hizmet sunabilmek için vergi almak zorundadır.
B) Herkesten eşit miktarda vergi alınmalıdır.
C) Vergi vermek vatandaşlık görevlerinden birisidir.
D) Herkesten gelirine göre vergi alınmalıdır.

17. Deniz Bey, bankadan büyük miktarda kredi alarak köyüne meyve suyu fabrikası açar. Fakat işler umduğu gibi gitmez. Üretilen mallar, köyünün yol koşullarının olumsuzluğu nedeniyle tüketiciye zamanında ulaşamamakta ve fazla maliyet getirmektedir. Bu da işleri çok kötü etkilemektedir.

Yukarıdaki paragrafta yatırım yapmadan önce dikkat edilmesi gereken unsurlardan hangisi vurgulanmaktadır?

- A) Kredi imkânı
B) İklim
C) Sermaye
D) Ulaşım

18. Sanayi tesislerinin kurulduğu yerin hammaddeye uzaklığı, üretim maliyetini (harcamalarını) artırır.

Buna göre, Karadeniz Bölgesi'nde kurulacak olan aşağıdaki fabrikaların hangisinde maliyet daha fazla olur?

- A) Fındık yağı
B) Mısır unu
C) Pamuklu dokuma
D) Çay

19.



Aydın'da çay fabrikası,
Rize'de incir fabrikası
kurmalısınız.

Sosyal bilgiler öğretmeni, bu görüşüyle neyi vurgulamak istemiştir?

- A) Yatırım yaparken, ham maddeye yakınlık dikkate alınmalıdır.
B) Fabrika kurarken yeterli sermayeye ihtiyaç duyulmaktadır.
C) İncir sadece Aydın'da yetiştirilmektedir.
D) Ülkemizde her türlü tarım ürünü yetiştirilmektedir.

20. Bir yatırımcı Ege Bölgesi'nde fabrika kurmak istemektedir. Yatırımcının kar elde edebilmek için ham madde ihtiyacını çevreden karşılaması gerekmektedir.

Buna göre yatırımcının Ege Bölgesi'nde hangi ürün ile ilgili fabrika kurması beklenemez?



Çay



Üzüm



İncir



Zeytin

21.

Dünya rezervinin yarısından çoğu Türkiye’de bulunur.



Rüzgâr

Kütahya, Balıkesir ve Eskişehir’de çıkarılır.



Nisan

Geleceğin petrolü olarak bilinir.



Erdem

Jet ve roket yakıtı, sabun ve fotoğrafçılıkta kullanılır.



Duygu

Öğrencilerin hakkında bilgi verdiği maden aşağıdakilerden hangisidir?

A) Bakır

B) Linyit

C) Bor

D) Demir

22. Dünyanın değişik bölgelerinde doğal ve beşeri faktörlerin de etkisiyle farklı ekonomik faaliyetler yapılmaktadır. Hindistan’da tarım, Avrupa’da sanayi, Asya’nın iç kesimlerinde hayvancılık, Japonya’da balıkçılık gibi...

Bu bilgilere göre aşağıdaki yorumlardan hangisi yapılamaz?

A) İklim farklılıkları ekonomik faaliyetleri etkilemiştir.

B) Coğrafi konum ekonomik faaliyetlerde etkilidir.

C) Dünyanın her yerinde aynı ekonomik faaliyetler yürütülmektedir.

D) Ulaşım faktörü ekonomik faaliyet türünü etkiler.

23.



Bugün babam adına çok sevinçliyim çünkü babam İzmir’in bu yılki vergi rekortmeni ödülünü aldı. Peki, baba neden vergi veriyoruz diye sorduğumda babam, “**Bu bizim vatandaşlık görevimiz. Vergimizi ödemezsek devlet bize hizmet veremez. Bu vergiler bize yol, su, elektrik ve birçok hizmet olarak geri döner. Her Türk vatandaşı vergisini vermelidir.**” dedi.

Sude’nin verdiği bilgiye göre, vergi ile ilgili olarak aşağıdakilerden hangisi söylenemez?

A) Vergi, bir vatandaşlık görevidir.

B) Devletin gelişmesi yalnızca vergi vermeye bağlıdır.

C) Herkesin geliri oranında vergi verme sorumluluğu vardır.

D) Ödediğimiz vergiler bizlere hizmet olarak geri döner.

24.

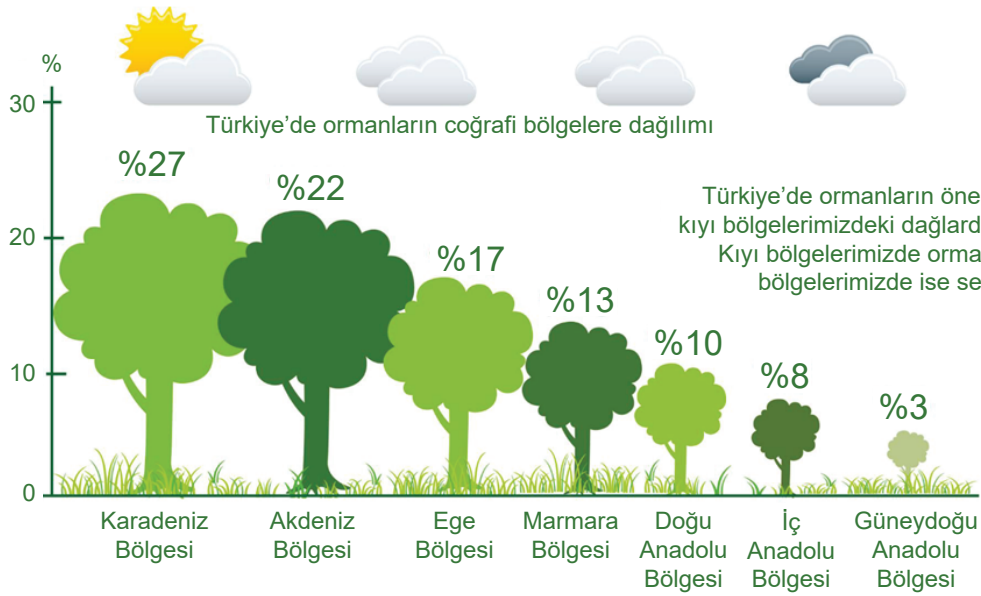


Ülkemizde bitkisel yağ fabrikası kurmak isteyen bir yatırımcı zeytinin bol olduğu Ege kıyılarında ya da ayçiçeğinin bol olduğu Trakya'da yatırım yapabilir. Kâğıt ve mobilya ile ilgili yatırım yapmak için ormanların çok olduğu Karadeniz kıyıları, et ve süt ile ilgili yatırım yapmak için ise hayvancılığın geliştiği Doğu Anadolu tercih edilebilir. Tahılların yetiştirildiği yerlerde un, makarna ve yem fabrikaları; şeker pancarının yetiştirildiği yerlerde şeker fabrikası kurulması uygundur.

Yukarıdaki paragrafta yatırım yapmak için gerekli unsurlardan hangisi üzerinde durulmuştur?

- A) Sermaye B) Enerji C) İş gücü D) Ham madde

25.



Grafikte ülkemizdeki ormanların bölgelere göre dağılımı yüzde olarak verilmiştir.

Grafikte verilen bilgilere göre,

- I. Ormanlarımızın yüzde 21'lik kısmı denizden uzak iç ve doğu bölgelerimizdedir.
- II. Ege ve Marmara Bölgeleri'nin toplam orman arazisi Karadeniz Bölgesi'nden azdır.
- III. Orman yangınları nedeniyle Marmara Bölgesi dördüncü sıraya gerilemiştir.

yorumlarından hangileri yapılabilir?

- A) Yalnız I B) I ve II C) II ve III D) I, II ve III

26.



Orman, bir ülkenin en önemli doğal kaynaklarından biridir. Ülkemizin %28.6'sı ormanlarla kaplıdır. Ormanlarımızın büyük bölümü yağışın bol olduğu kıyı kesimlerimizde toplanmıştır. Ormanların birçok faydası vardır. Örnek olarak kâğıt, kereste ve mobilya sanayisinde ve inşaat alanında yararlanılan ormanlar; erozyonu azaltır, atmosfere oksijen kazandırır, dinlenme alanı oluşturur. Ayrıca çam ağaçlarından elde edilen çam fıstığı ve reçinesi, sığla ağaçlarının yağı kozmetik alanında kullanılmakta, böylece ülke ekonomisine katkı sağlanmaktadır.

Yukarıda verilen bilgilere göre,

- I. Ülkemizin yarısından çoğu ormanlarla kaplıdır.
- II. Ormanlar geniş bir üretim ve kullanım alanına sahiptir.
- III. Ormancılık ülke ekonomisine en fazla katkı sağlayan faaliyetlerdir.

yargılarından hangilerine ulaşamaz?

- A) Yalnız II B) I ve III C) II ve III D) I, II ve III

27.

Dünya Bor Rezervlerinin Dağılımı (2017)

ÜLKE	TOPLAM REZERV (Bin ton B_2O_3)	TOPLAM REZERV (% B_2O_3)
Türkiye	948.712	73,4
Rusya	100.000	7,7
A.B.D.	80.000	6,2
Şili	41.000	3,2
Çin	36.000	2,8
Peru	22.000	1,7

Verilen bilgiler doğrultusunda,

- I. Ülkemiz bor satışından elde edilen gelir bakımından birinci sıradadır.
- II. Türkiye, dünya bor rezervinin dörtte üçüne yakın bir paya sahiptir.
- III. Rusya'nın rezerv oranı Şili, Çin ve Peru'nun toplam rezerv oranına eşittir.

yorumlarından hangileri yapılabilir?

- A) Yalnız I B) I ve II C) II ve III D) I, II ve III

28.




Merhaba benim adım Doruk. Sosyal bilgiler öğretmenimiz bu haftaki araştırma ödevimizde bizlerden; ilimiz için yatırım ve kalkınma projesi örnekleri yapmamızı istedi. Ben de ödevim için hazırlık yaptım. Doğduğum köyün yakınlarında bulunan Taşyaran Vadisi doğal güzellikleriyle göze çarpmaktadır. Bu doğal güzelliğin herkes tarafından bilinmesini ve görülmesini istedim. Taşyaran Vadisi'ni aktif kullanılır hâle getirerek Uşak'ın ve Türkiye'nin ekonomisine katkı sağlamayı hedefledim.

Buna göre Doruk'un yatırım ve kalkınma projesi özellikle hangi ekonomik faaliyetle yakından ilgilidir?

- A) Sanayi B) Tarım C) Hayvancılık D) Turizm

29.



Yukarıda numaralarla gösterilen enerji kaynakları hakkında verilen yargılardan hangisi yanlıştır?

- A) Yenilenebilir enerji kaynakları arasında yer alırlar.
B) Doğada varlıkları asla sona ermez.
C) Alternatif enerji kaynakları olarak nitelendirilirler.
D) Kullanımları hava, su ve toprak kirliliğine sebep olmaktadır.

30.

**Türkiye Cumhuriyeti
Anayasası (1982)**

Madde 73 - Herkes,
kamu giderlerini
karşılama üzere, mali
gücüne göre, vergi
ödemekle
yükümlüdür.

Verilenlerden hareketle vergi ile ilgili olarak;

- I. Yazılı kurallar kapsamında yer alır.
- II. Ödenmesi bir vatandaşlık görevidir.
- III. Herkes eşit miktarda ödemekle yükümlüdür.

yargılarından hangilerine ulaşılabilir?

- A) Yalnız III B) I ve II C) II ve III D) I, II ve III

31. Üretim, dağıtım, tüketim aşamaları düşünüldüğünde aşağıdakilerden hangisi yanlıştır?

- A) İç Anadolu Bölgesi'nde tahıl tarımının yapılması üretimdir.
B) Söke un fabrikasında üretilen unun marketlere gönderilmesi üretimdir.
C) Emel öğretmenin marketten aldığı makarnayı akşam yemeği için hazırlaması tüketimdir.
D) Akdeniz Bölgesi'nde seracılığın yapılması üretimdir.

32. Ülkemizde hayvancılık oldukça gelişmiştir. Büyükbaş, küçükbaş, ipek böcekçiliği, balıkçılık, kümes hayvancılığı, arıcılık gibi türleri yapılmaktadır. Büyükbaş hayvancılık Doğu Anadolu Bölgesi'nde, küçükbaş hayvancılık İç Anadolu, Akdeniz ve Karadeniz Bölgesi'nde yaygındır. Arıcılık ise ülkemizde bitki türü çeşitliliğinin fazla olmasından dolayı birçok yerde görülür. Dut ağacının yaygın duğu Marmara Bölgesi'nde ipek böcekçiliği yapılır. Nüfusun fazla kalabalık olduğu Marmara Bölgesi'nde ise kümes hayvancılığı yapılmaktadır.

Yukarıdaki paragrafa göre aşağıdakilerden hangisine ulaşamaz?

- A) Doğu Anadolu Bölgesi'nde büyükbaş hayvancılık yapılır.
B) Bursa ve civarında ipek böcekçiliği yapılır.
C) Akdeniz'in Toroslarında kıl keçisi yetiştirilir.
D) Nüfusun seyrek oluşu yetiştirilen hayvan türünü etkilemiştir.

33. Karadeniz Bölgesi'nin iklimi düşünüldüğünde aşağıdakilerden hangisinin tarımı yapılamaz?

- A) Pamuk B) Mısır
C) Çay D) Fındık

34. Ülkemizde turizm faaliyetleri ile ilgili aşağıdakilerden hangisi yanlıştır?

- A) Yaz turizminin en çok geliştiği bölge Akdeniz Bölgesidir.
B) Son yıllarda Karadeniz Bölgesinde yayla turizmi gelişmiştir.
C) Ülkemizde Güney Doğu Anadolu Bölgesi'nde turizm hiç gelişmemiştir.
D) Yıl boyunca en çok turist gelen ilimiz İstanbul'dur.

35. Aşağıdakilerden hangisi ormanların faydaları arasında gösterilemez?

- A) Sel, taşkın erozyon gibi doğal afetleri önler.
B) Hayvanlar için yaşam alanı oluşturur.
C) Eğlenme ve dinlenme imkânı sağlar.
D) Havaya karbondioksit salar.

36. I. Güneş
II. Kömür
III. Petrol
IV. Biyoenerji

Yukarıda verilen enerji kaynaklarından hangilerinin çevre kirliliğine neden olduğu söylenemez?

- A) I ve II B) I ve III
C) I ve IV D) II ve IV

37. Yaşadığı yerin coğrafi özelliklerini dikkate alarak yatırım yapmayı planlayan Ahsen Hanım Afyonludur.

Ahsen Hanım yatırım yapacağı projede ham maddeye yakınlığı göz önüne aldığına göre aşağıdaki sektörlerden hangisini seçmiştir?

- A) Tekstil B) Mermercilik
C) Seracılık D) Kerestecilik

38. Meslek: Bireyin ihtiyaçlarını karşılayıp geçimini sağlamak için belirli bir ücret karşılığında yaptığı iştir.
“Meslek seçimi yaparken dikkat etmemiz gereken bir takım faktörler vardır.”

Buna göre aşağıdakilerden hangisi meslek tercihinde dikkat edilmesi gereken faktörler arasında yer almaz?

- A) Kişisel özelliklerimiz
B) Yetenek ve becerilerimiz
C) Mesleğin bizde bırakacağı memnuniyet
D) Toplumun bizim hakkımızdaki yargıları

39. Mehmet Bey, tahıl bakımından zengin bir ilimiz olan Konya'da ürettiği bisküvileri Almanya'ya satmakta ve iyi gelir elde etmektedir..

Buna göre, Mehmet Bey'in yaptığı iş aşağıdakilerden hangisine girer?

- A) İthalat B) Sermaye
C) Tüketim D) İhracat

CEVAP ANAHTARI



2. 1- Y ; 2- Y ; 3- D ; 4- Y ; 5- D

3. Yenilenebilir Enerji Kaynakları
2, 3, 6, 7

Tükenebilir (Yenilenemeyen) Enerji Kaynakları
1, 4, 5, 8

4. 1- a ; 2- i ; 3- c ; 4- b ; 5- g ; 6- f ; 7- h ; 8- d ; 9- e

5. 1- ithalat ; 2- taş kömürü ; 3- fosil yakıt ; 4- zeytin ; 5- bor ; 6- orman ; 7- ekonomi ;
8- vergi ; 9- narenciye ; 10- endüstri

6. 1- Y ; 2- D ; 3- Y ; 4- D ; 5- Y ; 6- Y

7. 1- Dış Ticaret ; 2- İhracat ; 3- Seracılık ; 4- Mısır ; 5- Pamuk ; 6- Krom ; 7- Girişimcilik

8. a) 2 ; b) 1 ; c) 4 ; d) 3 ; e) 5 ; f) 6

9. 1- Y ; 2- D ; 3- D ; 4- D ; 5- D

10. 1, 2, 4, 5, 6

11. 1- D ; 2- D ; 3- D ; 4- Y ; 5- Y

12.

Demir	Bor	Bakır	Krom	Taşkömürü	Petrol	Doğalgaz
Balıkesir	Balıkesir	Ordu	Bursa	Bartın	Diyarbakır	Mardin
Bolu	Kütahya	Rize	Denizli	Zonguldak	Batman	Kırklareli
Çankırı	Eskişehir	Trabzon	Muğla		Siirt	
Niğde	Bursa	Artvin	Burdur			
Çorum		Elazığ	Eskişehir			
Kırıkkale		Kastamonu	Mersin			
Kırşehir			K.Maraş			
Yozgat			Kayseri			
Kayseri			Elazığ			
Adana			Tunceli			

13. 1-B ; 2-C ; 3-A

14. TOPRAK (1- Hayvancılık ; 4- Tarım)

SU (8- Balıkçılık ; 6- Ulaşım)

ORMAN (2- Kağıt Sanayisi ; 3- Mobilyacılık)

MADEN (7- Demir-Çelik Sanayisi ; 5- Mermercilik)

15. 1- BEYİN GÖÇÜ ; 2- BECERİ ; 3- DALGA ; 4- ERGENE ; 5- DEMİR ; 6- SERMAYE ;
7- KÜMES ; 8- KOP ; 9- DOKUMA

16. B 24. D 32. D

17. D 25. A 33. A

18. A 26. B 34. C

19. C 27. C 35. D

20. A 28. D 36. C

21. C 29. D 37. B

22. C 30. B 38. D

23. B 31. B 39. D



meb.gov.tr