

2. SINIF



21. Hafta 8-12 Mart

- | | | |
|-------------------------|-----------------|-----------------------|
| ✓ Şiir | ✓ Çarpma İşlemi | ✓ Kodlama Çalışmaları |
| ✓ Okuma anlama | ✓ Problemler | ✓ Boyama sayfası |
| ✓ Eş anlamlı kelimeler | ✓ Alıştırmalar | |
| ✓ Zıt Anlamlı Kelimeler | ✓ Hikaye yazma | |
| ✓ 5N 1K | | |

Sağlığımız bizim
En kıymetli hazinemiz
Korumak için biz
Çok dikkat etmeliyiz.



1-7 MART
YEŞİLAY
HAFTASI

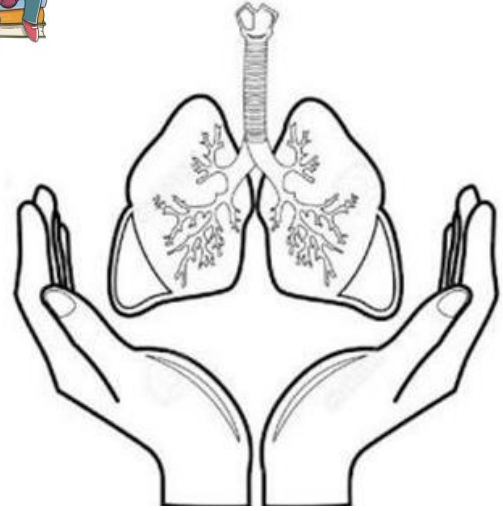
Uzak durmalıyız hepimiz
Bağımlılık yapan şeylerden
Sağlığımıza zarara gelir
Tütünden ve alkolden.



Yeşilay mücadele eder
Her türlü bağımlılıkla
Biz de gönüllü olalım
Duralım Yeşilay'ın yanında.



Funda Menekşe



1. Şiirin başlığını sen yazar mısın?

2. İkinci dördlükte kaç hece vardır?

3. Yeşilay Haftası ne zamanmış?

4. En kıymetli hazinemiz neymiş?

- A. paramız
- B. oyuncaklarımız
- C. sağlığımız

5. Yeşilay ne ile mücadele edermiş?

- A. Her türlü bağımlılıkla
- B. Yangınla
- C. Hırsızlıkla

Aşağıdaki verilen cümlelerle ilgili soruları yanıtlayalım.



Göktürk, pazartesi günü okulda düştü.

Kim?

Ne zaman?

Nerede?



Elif, dün denizde balık tuttu.

Kim?

Ne?

Ne zaman?



Dedem, yarın otobüsle Ankara'ya gidecek.

Kim?

Nasıl?

Ne zaman?



Ömer bahçede elma, erik topladı.

Kim?

Ne?

Nerede?



Selin, bu sabah ağlayarak yemek yedi.

Kim?

Nasıl?

Ne?



Çocuklar, dişlerini her gün dikkatle fırçalamalıdır.

Kim?

Nasıl?

Ne zaman?

Tekerleme

Zaman zaman içinde, kalbur saman içinde; ben cirit oynarken eski hamam içinde..

Enteşeden menteşeden derken bir karpuzcu çıktı şu köşeden! Ay efendim, vay efendim; karpuzlar da karpuz mu ya, ne tartıya gelir ne teraziye; ne arşına gelir ne endazeye; doğrusu görülmüş gibi görülecek gibi değil; üstü nakış nakış örülmüş ama örülecek gibi değil!



Baktım, bakakaldım; on para verdim, on tane aldım. Hani karpuz kesme ile yürek ferahlamaz derler; derler ama bakalım, adı mı güzel, tadı mı güzel, şu karpuzun deyip çıkardım bıçağımı, baltamı, nacağımı; ha kestim ha kesiyorum; ha eştim ha eşiyorum derken bıçaktır, bir kapak açmasın mı? Kapağı açarken elim de içine kaçmasın mı?

Bak hele bir, elimi çıkarayım derken kendim de varıp içine düşüvermedim mi? Bir de gördüm ki ne göreyim; bir yanı sazlık, samanlık, bir yanı tozluk, dumanlık. Bir yanında demirciler demir döver denginen; bir yanında boyacılar boya boyar renginen; erenleri, derenleri! Gördün mü bir başıma gelenleri; ne duvarı var yıkılır ne kapısı var çıkılır!

Boşa koydum dolmadı, doluya koydum almadı; derken bir çoban ilişti gözüme ve lakin ne dönüp baktı yüzüme ne kulak verdi sözüme! Sürüsünü kaybetmiş boru mu bu! On yıldır arıyormuş koru mu bu! Bu karpuzun içinde, iki dertli bir araya gelende; o başladı kavala, ben başladım mavala; inanmayın bu masala!

➡ Bu tekerlemede gerçek olmayan olaylardan üç tanesine örnek verirmisin?

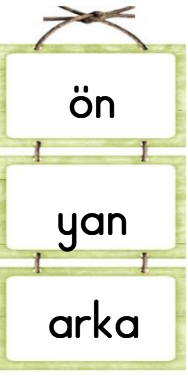
1.

2.

3.

ZIT ANLAMLI KELİMELELER


➡ Aşağıdaki verilen kelimelerden zıt anlamlı olanları aynı renge boyayınız.


a. 

b. 


ğ. 


h. 

c. 

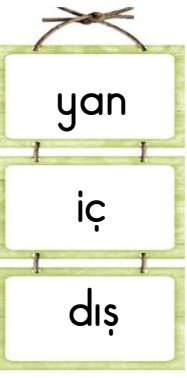
ç. 


ı. 


i. 


d. 

e. 

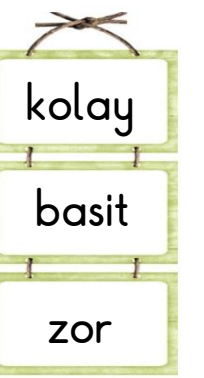
j. 

k. 

f. 

g. 

l. 

m. 

“Hikaye Yazıyorum”

→ Noktalama işaretlerine , sayfa düzenine dikkat ederek aşağıdaki verilen görselleri kullanarak bir hikaye yazalım.



.....





Handwriting practice lines for the story.

ES ANLAMLI KELIMELER

Yazılışları ve okunuşları farklı, anlamları aynı olan sözcüklere eş anlamlı (anlamdaş) sözcükler denir.

Aşağıdaki eş anlamlı kelimeleri aynı renge boyayalım.

yanıt	hediye	talebe	lider	sebep
istek	yaşlı	yetenek	hatıra	merasim
beyaz	elbise	düşman	tutsak	
basit	kanun	örnek		
hikaye	kalp			
cümle	deprem		görev	
esir	okul		olanak	
neden			tümce	
önder				
ihtiyar				
yasa	cevap			
vazife	öğrenci	hasım		
mektep	giysi	misal	armağan	
beceri	arzu	kolay	ak	öykü
tören	anı	zelzele	yürek	imkan



ÇARPMA İŞLEMİ

➡ Toplananları aynı olan toplama işleminin kısa yoldan yapılmasına çarpma işlemi denir. Çarpma işlemi toplama işleminin kısa yoldan yapılmasıdır.

➡ Aşağıdaki işlemleri örnekteki gibi yapalım.



$$2 + 2 + 2 + 2 = 8$$

$$4 \times 2 = 8$$



.....

.....



.....

.....



.....

.....



.....

.....



.....

.....

ÇARPMA İŞLEMİ



Verilen örneğe bakarak boşlukları yazalım.

$$\begin{array}{lcl} \rightarrow 2 + 2 + 2 & = & 6 \\ 3 \text{ tane } 2 & = & 6 \\ 3 \times 2 & = & 6 \end{array}$$

$$\begin{array}{lcl} \rightarrow 3 + 3 + 3 + 3 & = & \dots\dots \\ \dots\dots \text{ kere } \dots\dots & = & \dots\dots \\ \dots\dots \times \dots\dots & = & \dots\dots \end{array}$$

$$\begin{array}{lcl} 4 + 4 + 4 + 4 & = & \dots\dots \\ \dots\dots \text{ tane } \dots\dots & = & \dots\dots \\ \dots\dots \times \dots\dots & = & \dots\dots \end{array}$$

$$\begin{array}{lcl} 5 + 5 + 5 + 5 + 5 & = & \dots\dots \\ \dots\dots \text{ kere } \dots\dots & = & \dots\dots \\ \dots\dots \times \dots\dots & = & \dots\dots \end{array}$$

$$\begin{array}{lcl} 3 + 3 + 3 + 3 + 3 + 3 & = & \dots\dots \\ \dots\dots \text{ tane } \dots\dots & = & \dots\dots \\ \dots\dots \times \dots\dots & = & \dots\dots \end{array}$$

$$\begin{array}{lcl} 2 + 2 + 2 + 2 + 2 & = & \dots\dots \\ \dots\dots \text{ kere } \dots\dots & = & \dots\dots \\ \dots\dots \times \dots\dots & = & \dots\dots \end{array}$$

$$\begin{array}{lcl} 1 + 1 + 1 + 1 + 1 & = & \dots\dots \\ \dots\dots \text{ çarpı } \dots\dots & = & \dots\dots \\ \dots\dots \times \dots\dots & = & \dots\dots \end{array}$$

$$\begin{array}{lcl} 4 + 4 + 4 + 4 + 4 + 4 & = & \dots\dots \\ \dots\dots \text{ çarpı } \dots\dots & = & \dots\dots \\ \dots\dots \times \dots\dots & = & \dots\dots \end{array}$$

$$\begin{array}{lcl} 3 + 3 & = & \dots\dots \\ \dots\dots \text{ çarpı } \dots\dots & = & \dots\dots \\ \dots\dots \times \dots\dots & = & \dots\dots \end{array}$$

$$\begin{array}{lcl} 5 + 5 + 5 & = & \dots\dots \\ \dots\dots \text{ çarpı } \dots\dots & = & \dots\dots \\ \dots\dots \times \dots\dots & = & \dots\dots \end{array}$$

$$\begin{array}{lcl} 4 + 4 + 4 + 4 + 4 + 4 + 4 & = & \dots\dots \\ \dots\dots \text{ çarpı } \dots\dots & = & \dots\dots \\ \dots\dots \times \dots\dots & = & \dots\dots \end{array}$$

$$\begin{array}{lcl} 2 + 2 + 2 + 2 + 2 + 2 + 2 & = & \dots\dots \\ \dots\dots \text{ çarpı } \dots\dots & = & \dots\dots \\ \dots\dots \times \dots\dots & = & \dots\dots \end{array}$$

ÇARPMA İŞLEMİ

▶ Toplama işlemlerini örnekteki gibi **çarpma işlemi** olarak ifade edelim.

a. $2 + 2 + 2 + 2 = 8$
 $4 \times 2 = 8$

$3 + 3 + 3 + 3 + 3 = \dots$
 $\dots \times \dots = \dots$

b. $2 + 2 + 2 + 2 + 2 + 2 + 2 = \dots$
 $\dots \times \dots = \dots$

$3 + 3 + 3 + 3 = \dots$
 $\dots \times \dots = \dots$

c. $5 + 5 + 5 + 5 + 5 = \dots$
 $\dots \times \dots = \dots$

$2 + 2 + 2 + 2 + 2 = \dots$
 $\dots \times \dots = \dots$

ç. $1 + 1 + 1 + 1 = \dots$
 $\dots \times \dots = \dots$

$4 + 4 + 4 + 4 + 4 = \dots$
 $\dots \times \dots = \dots$

d. $4 + 4 + 4 + 4 = \dots$
 $\dots \times \dots = \dots$

$5 + 5 + 5 + 5 = \dots$
 $\dots \times \dots = \dots$

▶ Çarpma işlemlerini örnekteki gibi **toplama işlemi** olarak ifade edelim.

a. $4 \times 3 = 12$
 $3 + 3 + 3 + 3 = 12$

$2 \times 4 = \dots$
 $\dots = \dots$

b. $5 \times 2 = \dots$
 $\dots = \dots$

$7 \times 1 = \dots$
 $\dots = \dots$

c. $3 \times 3 = \dots$
 $\dots = \dots$

$6 \times 2 = \dots$
 $\dots = \dots$

ç. $6 \times 5 = \dots$
 $\dots = \dots$

$3 \times 4 = \dots$
 $\dots = \dots$

d. $3 \times 6 = \dots$
 $\dots = \dots$

$2 \times 2 = \dots$
 $\dots = \dots$

ÇARPMA İŞLEMİ



Aşağıdaki çarpma işlemlerini örnekteki gibi yazalım.

6×3	$3 + 3 + 3 + 3 + 3 + 3$
5×4	
7×2	
6×5	
8×4	
9×2	
7×3	
6×4	
8×3	
9×5	
8×2	
6×5	
8×4	
9×2	
7×4	

ÇARPMA İŞLEMİ

Aşağıdaki çarpma işlemlerini yapınız.

a. $3 \times 4 = \dots$

b. $5 \times 2 = \dots$

c. $4 \times 5 = \dots$

ç. $6 \times 2 = \dots$

d. $3 \times 2 = \dots$

e. $9 \times 3 = \dots$

f. $8 \times 3 = \dots$

ğ. $6 \times 4 = \dots$

h. $9 \times 2 = \dots$

ı. $7 \times 3 = \dots$

i. $6 \times 4 = \dots$

j. $6 \times 5 = \dots$

k. $7 \times 5 = \dots$

l. $9 \times 4 = \dots$

m. $6 \times 5 = \dots$

n. $8 \times 3 = \dots$

o. $6 \times 3 = \dots$

ö. $8 \times 4 = \dots$

p. $4 \times 1 = \dots$

r. $9 \times 1 = \dots$

s. $9 \times 3 = \dots$

ş. $9 \times 5 = \dots$

ÇARPMA İŞLEMİ



Aşağıdaki çarpma işlemlerini yapınız.

	7				8				6				5				6
x	2			x	3			x	4			x	1			x	2

	4				9				7				7				6
x	3			x	3			x	5			x	3			x	3

	5				8				4				7				9
x	5			x	4			x	2			x	1			x	4

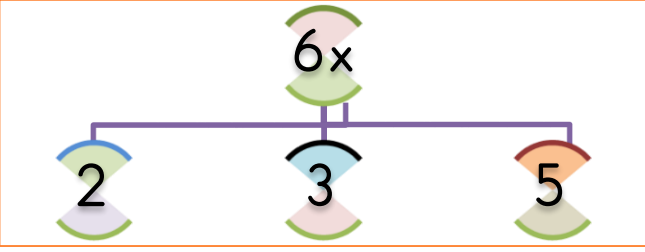
	4				4				8				9				5
x	1			x	4			x	3			x	1			x	4

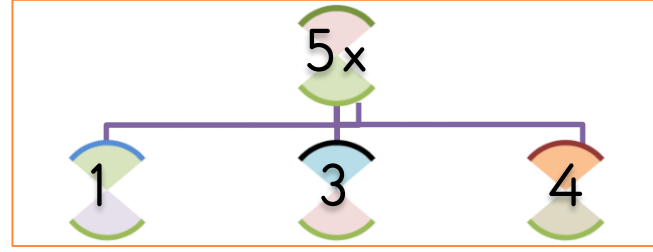
	6				8				9				8				9
x	5			x	4			x	5			x	2			x	3

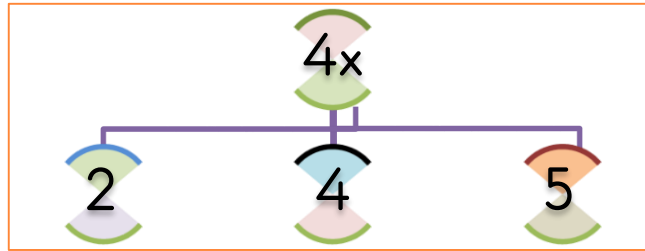
	7				6				6				8				9
x	1			x	1			x	3			x	3			x	2

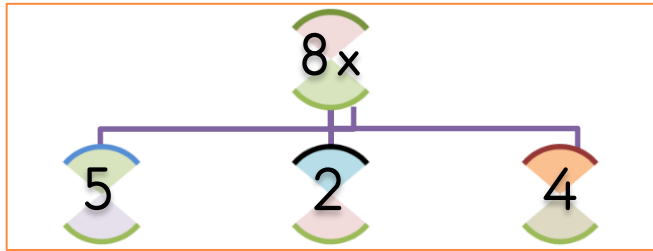
ÇARPMA İŞLEMİ

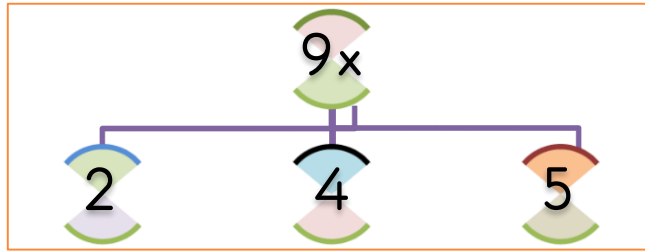
➔ Aşağıdaki çarpma işlemlerini örnekteki gibi yapınız.

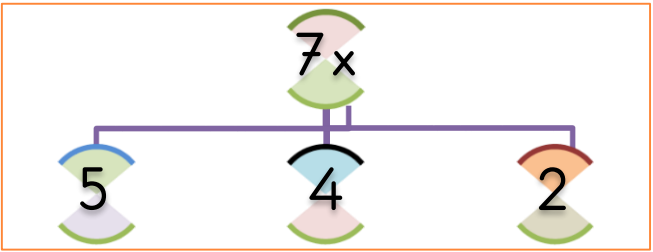
1. 

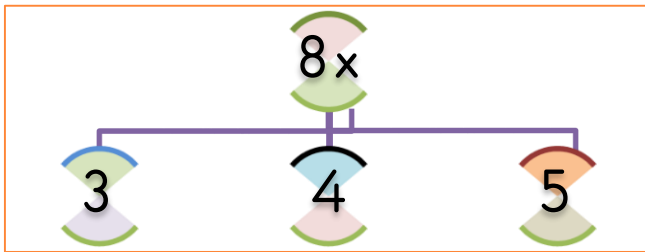
2. 

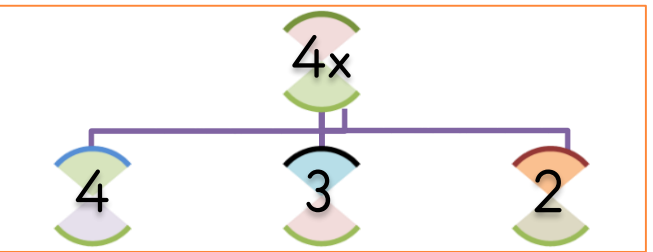
3. 

4. 

5. 


6. 

7. 

8. 

ÇARPMA İŞLEMİ

➡ Aşağıdaki kirazları sayıp çarpma işlemini yapalım.



$$1 \times 2 = 2$$

$$\dots \times \dots = \dots$$

$$\dots \times \dots = \dots$$

$$\dots \times \dots = \dots$$

$$\dots \times \dots = \dots$$

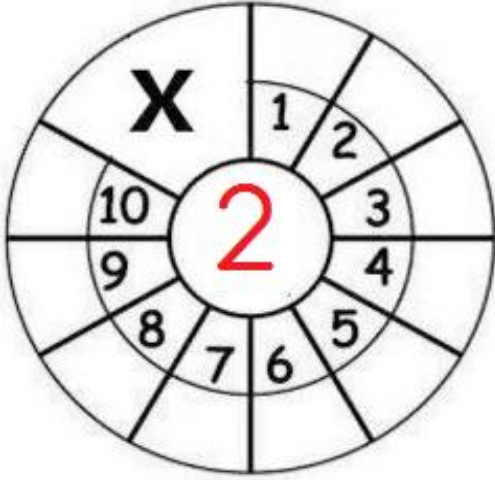
$$\dots \times \dots = \dots$$

$$\dots \times \dots = \dots$$

$$\dots \times \dots = \dots$$

$$\dots \times \dots = \dots$$

$$\dots \times \dots = \dots$$



	3				5				4
x	2			x	2			x	2

	6				7				2				9				1
x	2			x	2			x	2			x	2			x	2

	8				6				5				4				3
x	2			x	2			x	2			x	2			x	2

ÇARPMA İŞLEMİ

➡ Aşağıdaki yonca yapraklarını sayıp çarpma işlemini yapalım.



$$1 \times 3 = 3$$

$$\dots \times \dots = \dots$$

$$\dots \times \dots = \dots$$

$$\dots \times \dots = \dots$$

$$\dots \times \dots = \dots$$

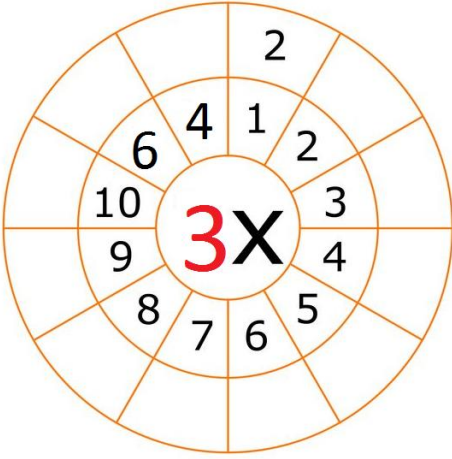
$$\dots \times \dots = \dots$$

$$\dots \times \dots = \dots$$

$$\dots \times \dots = \dots$$

$$\dots \times \dots = \dots$$

$$\dots \times \dots = \dots$$




	3				5				4
x	3			x	3			x	3

	6				3				8				7				9
x	3			x	3			x	3			x	3			x	3

	1				4				2				6				5
x	3			x	3			x	3			x	3			x	3

ÇARPMA İŞLEMİ

➡ Aşağıdaki kalemleri sayıp çarpma işlemini yapalım.



$$1 \times 4 = 4$$

$$\dots \times \dots = \dots$$

$$\dots \times \dots = \dots$$

$$\dots \times \dots = \dots$$

$$\dots \times \dots = \dots$$

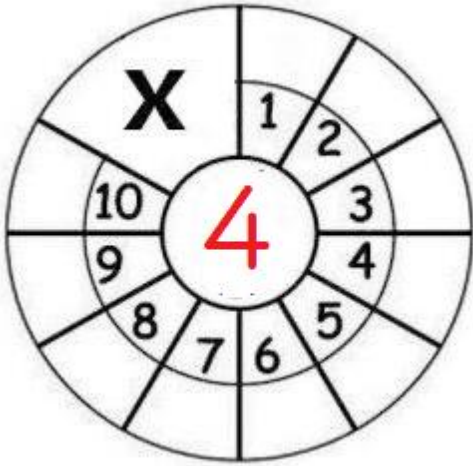
$$\dots \times \dots = \dots$$

$$\dots \times \dots = \dots$$

$$\dots \times \dots = \dots$$

$$\dots \times \dots = \dots$$

$$\dots \times \dots = \dots$$



	5				4				6
x	4			x	4			x	4

	4				7				8				2				5
x	4			x	4			x	4			x	4			x	4
	6				2				3				7				1
x	4			x	4			x	4			x	4			x	4

ÇARPMA İŞLEMİ



Aşağıdaki balonları sayıp çarpma işlemini yapalım.



1 x 5 = 5

..... x =

..... x =

..... x =

..... x =

..... x =

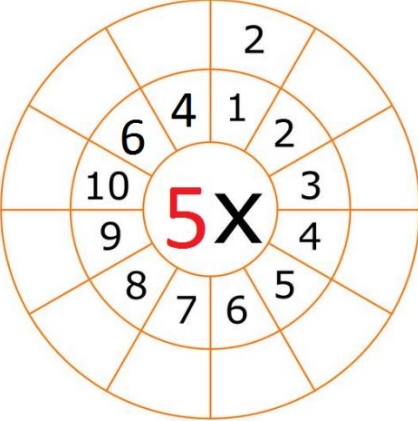
..... x =

..... x =

..... x =

..... x =

..... x =



	3				4				7
x	5			x	5			x	5

x	8			x	6			x	5			x	2			x	9
	5				5				5				5				5
x	1			x	6			x	4			x	3			x	7
	4				5				5				5				2

ÇARPMA İŞLEMİ

➡ Aşağıdaki çarpma işlemlerini yapalım.

×	1	3	5	7	9	2	4	6	8	10
2										

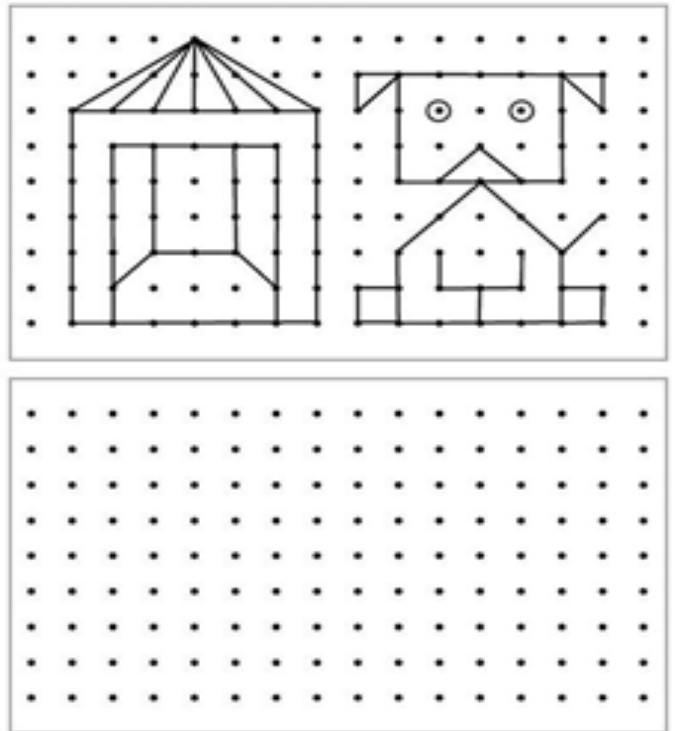

×	1	3	5	7	9	2	4	6	8	10
3										

×	1	3	5	7	9	2	4	6	8	10
4										

×	1	3	5	7	9	2	4	6	8	10
5										

×	1	3	5	7	9	2	4	6	8	10
0										

×	1	3	5	7	9	2	4	6	8	10
1										



ÇARPMA İŞLEMİ

Çarpma işlemlerine ait terimleri örnekteki gibi yazalım.

	7	→	çarpan				8	→				6	→
x	2	→	çarpan			x	3	→			x	5	→
1	4	→	çarpım			→	→

	6	→				5	→				6	→
x	3	→			x	4	→			x	2	→
....	→	→	→

	8	→				7	→				8	→
x	5	→			x	5	→			x	4	→
....	→	→	→

a. 5 × 4 = 20
çarpan çarpan çarpım

b. 9 × 3 =
.....

c. 5 × 4 =
.....

ç. 6 × 5 =
.....

ÇARPMA İŞLEMİ


➡ Aşağıdaki çarpma işlemlerini yapalım.

	1	1			2	3			4	3			2	2	
x		5			x		2		x		2		x		3
<hr/>					<hr/>					<hr/>					
	4	4				1	4			1	2			2	4
x		1			x		2		x		4		x		2
<hr/>					<hr/>					<hr/>					
	5	2				4	2			3	3			4	1
x		1			x		2		x		2		x		2
<hr/>					<hr/>					<hr/>					
	1	2				9	6			4	7			1	1
x		3			x		1		x		1		x		4
<hr/>					<hr/>					<hr/>					
	4	8				5	3			1	0			4	1
x		0			x		0		x		5		x		0
<hr/>					<hr/>					<hr/>					
	1	2				9	6			4	7			1	1
x		3			x		1		x		1		x		4
<hr/>					<hr/>					<hr/>					
	8	0				6	6			1	4			3	2
x		0			x		1		x		2		x		2
<hr/>					<hr/>					<hr/>					

PROBLEMLER


1. Kümesteki 8 tavuğun toplam ayak sayısı kaçtır?

Çözüm:





2. Ayşe'nin 9 kitabı var. Her kitabından 5 sayfa okuduğuna göre Ayşe, kitaplarından toplam kaç sayfa okumuş oldu?

Çözüm:




3. Bir kolide 6 yumurta vardır. Bir bakkal 4 koli yumurta satarsa toplam kaç yumurta satmış olur ?

Çözüm:



4. Bir günde 5 adet ekmek tüketen bir aile 1 haftada kaç ekmek tüketir ?

Çözüm:



PROBLEMLER

1. Bir kümeste 8 tavuk var. Bu kümesteki tavukların toplam ayak sayısı kaçtır?

[illegible]

2. Ayşe 3 arkadaşına kek ikram ediyor. Tabaklarda 4'er tane kek olduğuna göre toplam kek sayısı kaçtır?

[illegible]

3. Bir akvaryumcunun 9 akvaryumu vardır. Her akvaryumda 5'er tane balık olduğuna göre toplam balık sayısı kaçtır?

[illegible]

4. Gökçe, her birinde 4 adet çikolata olan 8 paket çikolata aldı. Gökçe toplam kaç adet çikolata almıştır?

[illegible]

5. Günde 8 saat uyuyan Aygöl, 5 günde toplam kaç saat uyumuş olur?

[illegible]

6. Kutay 7 yaşındadır. Ablasının yaşı Kutay'ın yaşının 3 katı olduğuna göre ablası kaç yaşındadır.

[illegible]

7. 9 raflı bir kitaplığın her rafında 4 kitap vardır. Kitaplıkta toplam kaç kitap vardır?

[illegible]

8. Mert'in kumbarasından 5 tane 10 TL çıkmıştır. Mert'in kumbarasından çıkan paranın tamamı kaç TL'dir.


[illegible]

PROBLEMLER

[illegible][illegible][illegible][illegible][illegible][illegible][illegible][illegible]

➡ Aşağıda bazı ürünler ve fiyatları verilmiştir. İstenilenleri cevaplayınız.

2 TL



3 TL



6 TL




5 TL



9 TL



4 TL



1. 3 tane kalem alan, 15 lira veren bir öğrenci kaç lira para üstü alır?

2. 5 tane silgi, 2 tane cetvel alırsam kaç lira ederim?

3. 4 tane boya kalemi, 1 sulu boya alan Ayça toplam kaç lira ödeyecektir?

4. Serkan 6 tane makas, bir tane cetvel aldı. Toplam kaç lira ödeyecektir?

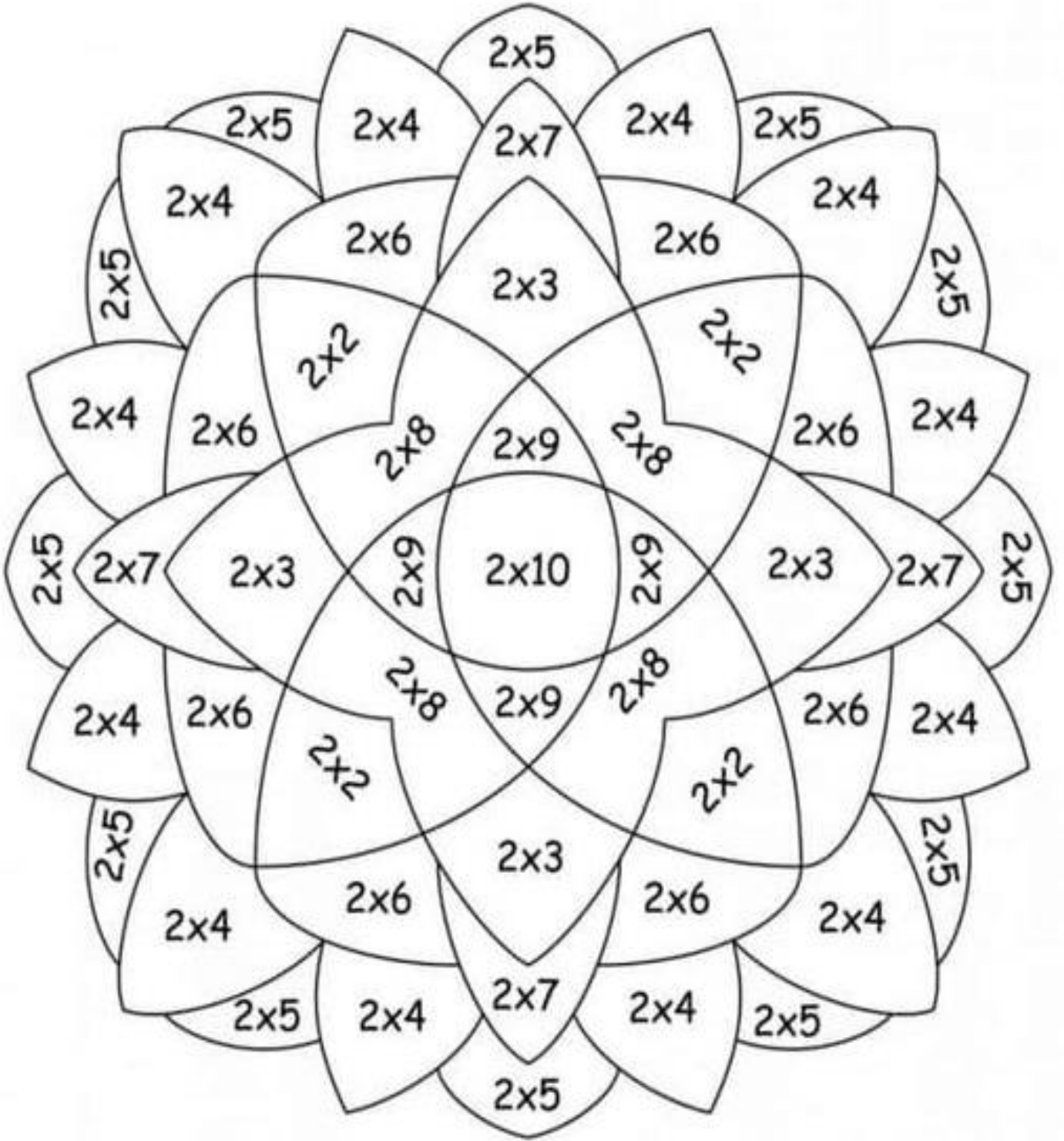
5. 4 tane sulu boya alıp satıcıya 50 lira veren Ayşe kaç lira para üstü alacaktır ?

6. 8 makasın fiyatı , 5 silginin fiyatından kaç lira fazladır?

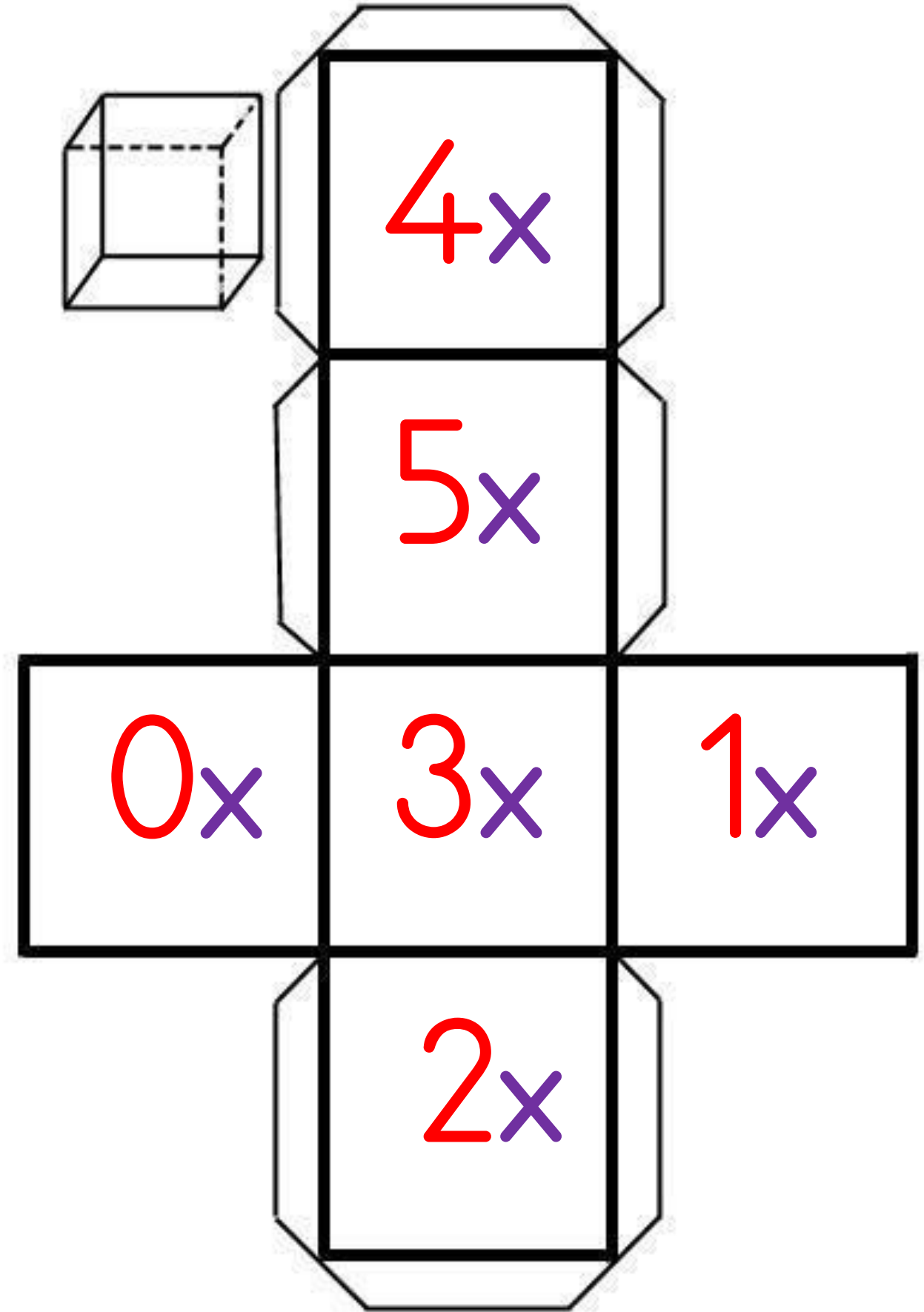
7. 10 tane kalem, 12 tane silgi alan Hasan toplam kaç lira ödeyecektir?

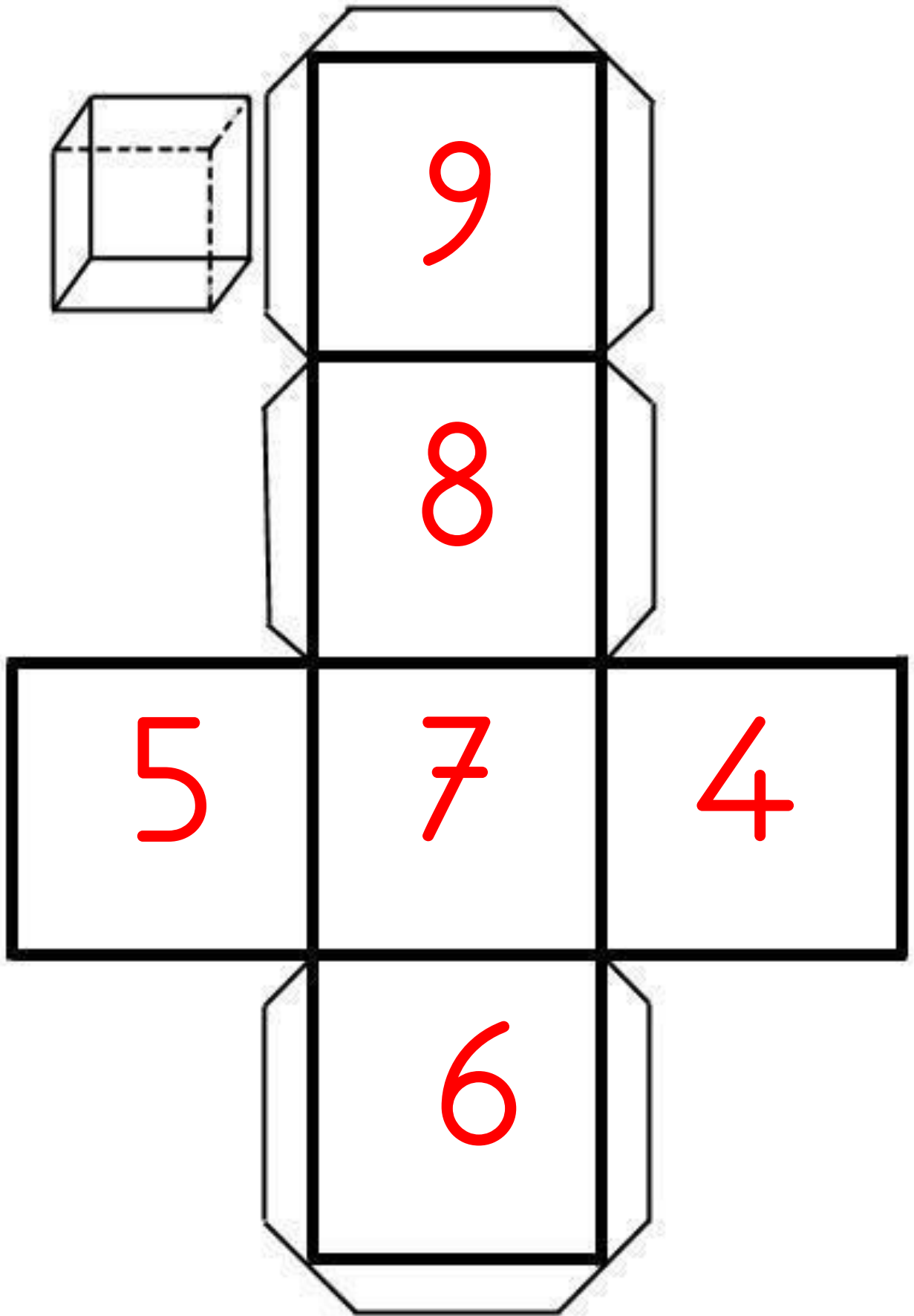
8. Doğa 4 tane sulu boya almak istiyor. Cebinde 8 lirası olduğuna göre kaç liraya daha ihtiyacı vardır?

ÇARP BOYA




ÇARPMA KÜPÜ







KODLAYALIM



1-K.RENGİ

2-KIRMIZI

3-YEŞİL

4-SİYAH

5-SARI

6-TEN RENGİ

HAZIRLAYAN

MUAMMER AKKUŞ




KODLAYALIM

M
E
H
M
E
T

A
K
İ
F

E
R
S
O
Y



Beyaz



Siyah

[illegible]