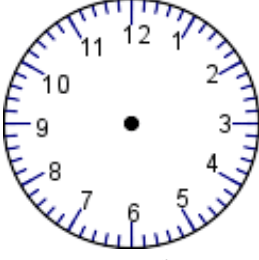


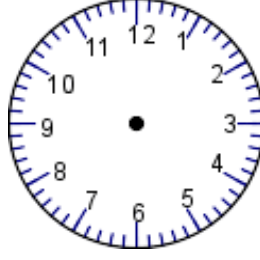


Aşağıdaki saatlerin üzerine akrep ve yelkovan çizerek verilen Saatleri ayarlayınız. Altlarına okunuşlarını yazınız.



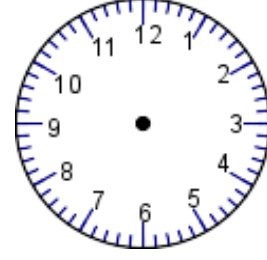
Saat : 05.00

.....



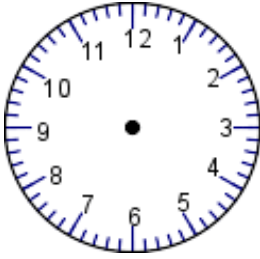
Saat : 13.00

.....



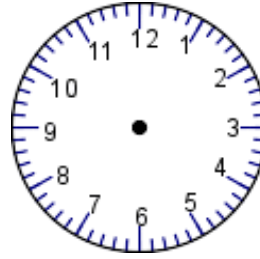
Saat : 22.00

.....



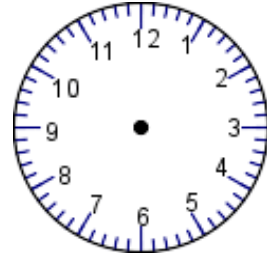
Saat : 14.45

.....



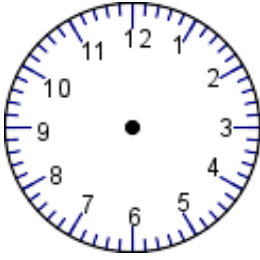
Saat : 07.55

.....



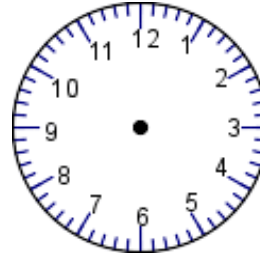
Saat : 09.50

.....



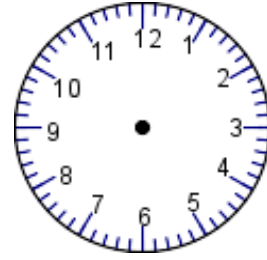
Saat : 15.15

.....



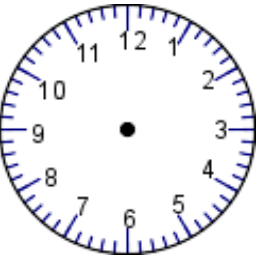
Saat 21.25

.....



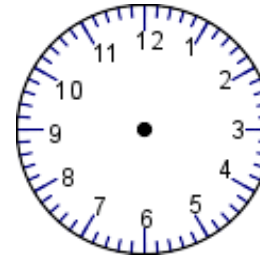
Saat 08.10

.....



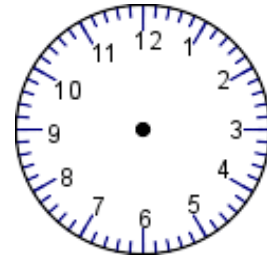
Saat: 17.30

.....



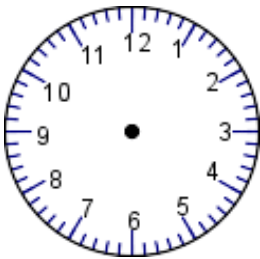
Saat: 10.05

.....



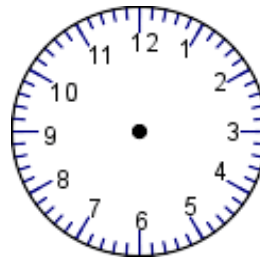
Saat: 19.20

.....



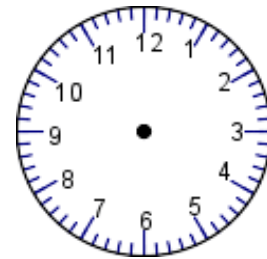
Saat : 13.40

.....



Saat : 22.35

.....



Saat : 11.50

.....



Verilen bilgilerden yararlanarak aşağıdaki soruları yanıtlayınız.

1 saat = 60 dakikadır.

60 dakika=1 saattir.

2 saat =dakika

120 dakika = saattir.

5 saat=.....dakika

240 dakika = Saattir.

9 saat=.....dakika

180 dakika =saattir.

1 saat 15 dakika =dakika

3 saat 30 dakika =.....dakika

6 saat 27 dakika =.....dakika

75 dakika = saatdakikadır.

100 dakika =saatdakikadır.

129 dakika =saat.....dakikadır.

157 dakika =saat.....dakikadır.



Biraz da problem çözelim

1) Sümeyra günde 2 saat 45 dakika ,Kevser Sümeyra'dan 2 saat 35 dakika fazla ders çalışıyor.Kevser kaç saat ,kaç dakika ders çalışmaktadır?

Çözüm:

2) Eren, 3 dakikada bir sayfa kitap okuyor.Eren 45 sayfalık bir kitabı kaç dakikada okur?

Çözüm:

3) Poyraz , cumartesi 2 saat 50 dakika ,Pazar günü ise cumartesi yüzdüğünden 1 saat 20 dakika daha fazla yüzdü.Poyraz'ın iki günde yüzdüğü süre kaç saat ,kaç dakikadır?

Çözüm:



Aşağıdaki işlemleri yapınız.

9 saat 85 dakika

6 saat 23 dakika

- 8 saat 40 dakika

+ 3 saat 47 dakika